



CONCURSO PÚBLICO

## **001. PROVA PREAMBULAR**

### **PAPILOSCOPISTA POLICIAL**

- ◆ Você recebeu sua folha de respostas e este caderno contendo 80 questões objetivas.
- ◆ Confira seus dados impressos na capa deste caderno e na folha de respostas.
- ◆ Quando for permitido abrir o caderno, verifique se está completo ou se apresenta imperfeições. Caso haja algum problema, informe ao fiscal da sala.
- ◆ Leia cuidadosamente todas as questões e escolha a resposta que você considera correta.
- ◆ Marque, na folha de respostas, com caneta de tinta azul ou preta, a letra correspondente à alternativa que você escolheu.
- ◆ A duração da prova é de 4 horas, já incluído o tempo para o preenchimento da folha de respostas.
- ◆ Só será permitida a saída definitiva da sala e do prédio após transcorridas 2 horas do início da prova.
- ◆ Deverão permanecer em cada uma das salas de prova os 3 últimos candidatos, até que o último deles entregue sua prova, assinando termo respectivo.
- ◆ Ao sair, você entregará ao fiscal a folha de respostas e este caderno, podendo levar apenas o rascunho de gabarito, localizado em sua carteira, para futura conferência.
- ◆ Até que você saia do prédio, todas as proibições e orientações continuam válidas.

**AGUARDE A ORDEM DO FISCAL PARA ABRIR ESTE CADERNO DE QUESTÕES.**

Nome do candidato \_\_\_\_\_

RG \_\_\_\_\_ Inscrição \_\_\_\_\_ Prédio \_\_\_\_\_ Sala \_\_\_\_\_ Carteira \_\_\_\_\_



Leia a tira para responder às questões de números 01 a 03.



(Caco Galhardo, Daiquiri. Em: *Folha de S.Paulo*, 11.05.2018)

01. Na história, a referência do personagem à “calça rancheira” funciona como
- (A) um indicativo de que ele seja ainda muito mais moderno do que disse.
  - (B) um flagrante de que ele atribui a si mesmo uma qualidade que não tem.
  - (C) uma alusão ao seu caráter de modéstia quando afirma que é moderno.
  - (D) uma crítica que ele faz à sua interlocutora, que vê como retrógrada.
  - (E) uma sugestão de que ele e sua interlocutora não entendem a modernidade.
02. No primeiro quadrinho, a expressão “estou super antenada” reporta ao sentido de
- (A) usar informações sigilosas.
  - (B) usar equipamentos eletrônicos.
  - (C) informar-se acriticamente.
  - (D) estar bem informada.
  - (E) abolir a tecnologia.
03. Na fala do personagem no segundo quadrinho “Apesar da aparência, sou um homem ultramoderno!”, a expressão destacada estabelece entre as informações relação de sentido de
- (A) comparação.
  - (B) finalidade.
  - (C) consequência.
  - (D) conclusão.
  - (E) concessão.

Leia o texto para responder às questões de números 04 a 11.

*Mal-estar*

Causa inquietude a situação do mercado de trabalho desde o final do ano passado, conforme observada nas pesquisas mais recentes do IBGE. Os números decepcionantes acentuam as dúvidas em torno da força e da persistência da retomada do crescimento econômico.

A atividade no início deste ano se mostra, em geral, fraca. Em abril, os índices de confiança de consumidores e empresas ou ficaram estagnados ou regrediram. Compreende-se a reticência, dados os indicadores do mundo do emprego.

O poder de compra dos salários começou a se recuperar no ano passado, mas a melhora perde ritmo. No primeiro trimestre, o rendimento médio do país não passou de R\$ 2.169 mensais – o mesmo valor do mesmo período de 2017, considerada a inflação.

Descontados efeitos sazonais, a taxa de desocupação não cai desde setembro do ano passado.

A oferta de empregos permanece precária, baseada em vagas sem carteira assinada e trabalho por conta própria, na maior parte dos casos, informal e mal remunerado.

As taxas de juros bancárias estão em níveis semelhantes ou superiores aos verificados no final de 2017. A tímida evolução dos rendimentos pode ter influência da estagnação do salário-mínimo. O desempenho da agricultura, ainda bom, não iguala os resultados extraordinários do início do ano passado.

A construção civil não conseguiu se recuperar e ainda desemprega. Os investimentos no setor deixaram de cair apenas no final do ano passado. Não há dados mais recentes, mas sabe-se que faltam novos canteiros de obras devido, em grande parte, à penúria orçamentária em todos os níveis de governo.

Os indicadores de confiança econômica detectaram ligeiro aumento do pessimismo em relação aos próximos meses.

Ressalte-se que ainda existe crescimento, com taxa esperada entre 2,5% e 3% neste ano. De todo modo, neste momento é inegável o mal-estar na recuperação econômica.

(*Folha de S.Paulo*, 30.04.2018. Adaptado)

04. Ao discutir as condições do trabalho atual, o texto deixa evidente que
- (A) houve aumento expressivo no rendimento médio do país, o que deveria impulsionar a retomada do crescimento.
  - (B) existe um cenário de desconfiança generalizado no país devido à débil recuperação da economia.
  - (C) ocorre uma mudança lenta na recuperação da economia, o que tem aumentado o ritmo de contratações.
  - (D) falta ousadia para a construção civil empregar mais, ainda que haja muito investimento no setor.
  - (E) há resultados extraordinários na agricultura, o que não justifica as taxas de juros bancárias.

05. Nos trechos “Os números **decepcionantes** acentuam as dúvidas...” (1º parágrafo) e “A **tímida** evolução dos rendimentos...” (6º parágrafo), os adjetivos destacados reportam à ideia de

- (A) retomada econômica vivida pelo país, a qual é repetida e contestada com a frase do 7º parágrafo: “A construção civil não conseguiu se recuperar e ainda desemprega.”
- (B) esperança para a economia do país, a qual é resumida e confirmada com a frase que inicia o último parágrafo: “Ressalte-se que ainda existe crescimento...”
- (C) viabilidade econômica do país, a qual é reiterada e explicada com a frase do 7º parágrafo: “...devido [...] à penúria orçamentária em todos os níveis de governo...”
- (D) dificuldades econômicas vividas pelo país, a qual é reiterada e ratificada no final do texto com a frase “... é inegável o mal-estar na recuperação econômica”.
- (E) estagnação econômica do país, a qual é retomada e contradita com a frase do 8º parágrafo: “Os indicadores de confiança econômica detectaram ligeiro aumento do pessimismo...”

06. O parágrafo final do texto permite concluir corretamente que

- (A) a taxa de crescimento entre 2,5% e 3% para o ano de 2018 é indicativo de que as previsões pessimistas para a economia em breve mudarão.
- (B) a recuperação econômica do país passa por um momento paradoxal, pois existe crescimento auspicioso e, nem assim, desaparece o desalento.
- (C) o pessimismo na economia brasileira é um mal passageiro, considerando-se que a previsão de crescimento é a maior da história recente do país.
- (D) o mal-estar na recuperação econômica do país tende a dissipar-se rapidamente, considerando-se a previsão de um crescimento significativo.
- (E) a recuperação econômica do país vive um momento embaraçoso, para o qual o crescimento previsto para 2018 não tem funcionado como um alento.

07. Considere as passagens:

- “Compreende-se a **reticência**, dados os indicadores do mundo do emprego.” (2º parágrafo);
- “Descontados efeitos **sazonais**, a taxa de desocupação não cai desde setembro do ano passado.” (4º parágrafo);
- “... faltam novos canteiros de obras devido [...] à **penúria** orçamentária em todos os níveis de governo.” (7º parágrafo).

Os termos em destaque significam, correta e respectivamente:

- (A) hesitação; relativos a uma época do ano; miséria.
- (B) incredulidade; relativos a um tempo incerto; limitação.
- (C) desarmonia; relativos a uma estação do ano; pobreza.
- (D) inobservância; relativos a um mês do ano; escassez.
- (E) incerteza; relativos a um tempo passado; controle.

08. Assinale a alternativa que atende à norma-padrão de concordância verbal.

- (A) Os indicadores do mundo do emprego permite compreender os índices de confiança de consumidores e empresas.
- (B) Na atual conjuntura, aumenta as vagas sem carteira assinada e também o trabalho por conta própria.
- (C) A falta de investimentos na construção civil e de criação de novos canteiros de obras reforça a inquietude econômica.
- (D) As dúvidas em torno da força e da persistência da retomada do crescimento causa inquietude no país.
- (E) Quando se desconta os efeitos sazonais, vê-se que a taxa de desocupação não cai desde setembro do ano passado.

09. Assinale a alternativa correta quanto ao emprego do acento indicativo da crase, de acordo com a norma-padrão.

- (A) No que tange à pesquisas do IBGE, vê-se que a situação econômica tem gerado certa inquietude.
- (B) Considerada a inflação, o rendimento médio do país não chegou à superar o valor de 2017.
- (C) A construção civil não propõe à criação de novos postos de trabalho, por causa da crise.
- (D) Segundo as previsões, o crescimento da economia brasileira em 2018 irá à 3%, no máximo.
- (E) A oferta de empregos com carteira assinada à população trabalhadora ainda é baixa.

10. Assinale a alternativa que atende à norma-padrão de concordância nominal.

- (A) Considerado o índice de inflação, o rendimento médio do país não passou de R\$ 2.169 mensais – equivalente ao do mesmo período de 2017.
- (B) As atividades econômicas no início deste ano têm se mostrado, em geral, fraca, dados os indicadores do mundo do emprego.
- (C) Os indicadores de confiança econômica utilizado na pesquisa detectaram ligeiro aumento do pessimismo em relação aos próximos meses.
- (D) Bastante dúvidas em torno da força e da persistência da retomada do crescimento econômico se acentuaram com dados do IBGE.
- (E) Permanece precária a oferta de empregos, os quais, em muitos casos, caracterizam-se por serem informal e mal remunerado.

11. Na frase que inicia o 7º parágrafo – A construção civil não conseguiu se recuperar e ainda desemprega. –, além do sentido de adição, a conjunção “e” expressa também sentido de

- (A) condição.
- (B) consequência.
- (C) alternância.
- (D) causa.
- (E) explicação.

Leia a tira para responder às questões de números 12 a 14.



(Bill Watterson, Calvin e Haroldo. <http://cultura.estadao.com.br/galerias>)

12. A leitura do último quadrinho permite concluir que Calvin e Haroldo

- (A) têm opiniões divergentes em relação às facilidades proporcionadas pela tecnologia, engrandecidas pelo garoto.
- (B) reconhecem que a vida será mais fácil no futuro, já que as pessoas não precisarão sair do conforto de suas casas.
- (C) concordam quanto às facilidades da vida no futuro, mas discordam quanto à necessidade de interação humana.
- (D) têm ideias pouco precisas em relação ao tempo futuro, a ponto de o tigre dizer que as pessoas não viverão mais.
- (E) acreditam que as facilidades do futuro, apesar de esperadas, serão, ao final de contas, irrelevantes para as pessoas.

13. No 3º quadrinho, nas três ocorrências, o sentido da preposição “sem” e o das expressões que ela forma são, respectivamente, de

- (A) negação e causa.
- (B) adição e condição.
- (C) ausência e modo.
- (D) falta e consequência.
- (E) exceção e intensidade.

14. A fala de Calvin no último quadrinho – A vida é muito inconveniente. – significa que o menino a considera

- (A) bastante adequada.
- (B) eventualmente inoportuna.
- (C) muito vantajosa.
- (D) demasiadamente incômoda.
- (E) provavelmente descomplicada.

Leia o texto para responder às questões de números 15 a 20.

### O Clube dos Suicidas

A senhora – o que foi que tomou mesmo? Comprimidos. Não sabe que comprimidos? Gardenal. Tomou Gardenal. Muitos? Cuidado, não pise no fio do microfone. Dez comprimidos. E o que foi que sentiu? Uma tontura gostosa! Vejam só, uma tontura gostosa! Não é notável? Uma tontura gostosa. E foi por causa de quem? Olha o fio. Do marido. O marido bebia. Batia também? Batia. Voltava bêbado e batia. Quebrava toda a louça. Agora prometeu se regenerar. E ela não vai mais tomar Gardenal. Palmas. Olha o fio. Fica ali, à esquerda. Ali, junto com as outras. Depois recebe o brinde. Aproveito este breve intervalo para anunciar que a moça loira da semana passada – lembram, aquela que tomou ri-do-rato? Morreu. Morreu ontem. A família veio aqui me avisar. Foi uma dura lição, infelizmente ela não poderá aproveitar. Outros o farão. E a senhora? Ah, não foi a senhora, foi a menina. Que idade tem ela? Dez. Tomou querosene? Por que a senhora bateu nela? A senhora não bate mais, ouviu? E tu não toma mais querosene, menina. A propósito, que tal o gosto? Ruim. Não tomou com guaraná? Ontem esteve aqui uma que tomou com guaraná. Diz que melhorou o gosto. Não sei, nunca provei. De qualquer modo, bem-vinda ao nosso Clube. Fica ali, junto com as outras. Cuidado com o fio. Olha um homem! Homem é raro aqui. O que foi que houve? A mulher lhe deixou? Miserável. Ah, não foi a mulher. Perdeu o emprego. Também não é isto. Fala mais alto! Está desenganado. É câncer? Não sabe o que é. Quem foi que desenganou? Os doutores às vezes se enganam. Fica ali à esquerda e aguarde o brinde. E esta moça? Foi Flit? Tu pensas que é barata, minha filha? Vai ali para a esquerda. Olha o fio, olha o fio. E esta senhora, tão velhinha – já me disseram que a senhora quis se enforcar. É verdade? Com o fio do ferro elétrico, quem diria! E dá? Mostra para nós como é que foi. Pode usar o fio do microfone.

(Moacyr Scliar, *Os melhores contos*, 1996)

15. Considerando o sentido global do texto, o ápice do efeito de humor na história decorre da situação

- (A) da mulher, que tomou Gardenal porque vivia sob ameaça do marido.
- (B) da menina, que tomou querosene e que passou a entrevistar o apresentador.
- (C) da mãe da menina, que pôs guaraná no querosene que a filha ingeriu.
- (D) do homem, a quem o apresentador sugere que desconfie dos médicos.
- (E) da senhora, a quem o apresentador libera o uso do fio do microfone.

16. Há palavra ou expressão empregada em sentido figurado na passagem:

- (A) Foi uma dura lição, infelizmente ela não poderá aproveitar. Outros o farão.
- (B) E esta senhora, tão velhinha – já me disseram que a senhora quis se enforcar.
- (C) E tu não toma mais querosene, menina. A propósito, que tal o gosto?
- (D) Do marido. O marido bebia. Batia também? Batia. Voltava bêbado e batia.
- (E) Os doutores às vezes se enganam. Fica ali à esquerda e aguarde o brinde.

17. Observe as passagens:

- Tomou querosene? [...] Ontem esteve aqui uma que tomou com guaraná. Diz que melhorou o gosto. **Não sei, nunca provei.**
- Olha um homem! Homem é raro aqui. [...] Está desenganado. É câncer? Não sabe o que é. **Quem foi que desenganou?**

Considerando o emprego e a colocação de pronomes, em conformidade com a norma-padrão, as frases em destaque podem ser assim reescritas, respectivamente:

- (A) Não sei, nunca lhe provei. / Quem foi que desenganou você?
- (B) Não sei, nunca o provei. / Quem foi que o desenganou?
- (C) Não sei, nunca provei-o. / Quem foi que desenganou-lhe?
- (D) Não sei, nunca provei ele. / Quem foi que desenganou ele?
- (E) Não sei, nunca provei-lhe. / Quem foi que desenganou-lhe?

18. Nos trechos “Cuidado, não pise no fio do microfone.”, “Fica ali, à esquerda.” e “Mostra para nós como é que foi.”, o apresentador emprega o verbo no imperativo, respectivamente, com as seguintes finalidades:

- (A) advertência, solicitação e ordem.
- (B) solicitação, pedido e pedido.
- (C) pedido, orientação e ordem.
- (D) advertência, orientação e pedido.
- (E) ordem, solicitação e orientação.

19. Assinale a alternativa que atende à norma-padrão de regência.

- (A) A família da moça que tomou ri-do-rato avisou o apresentador que ela morreu.
- (B) A mulher discordava com a atitude do marido, que a agredia quando bebia.
- (C) O homem confiou do diagnóstico dos médicos e, assim, nem anseia mais de se curar.
- (D) As pessoas que vão ao Clube dão seu depoimento e estão aptas a ganhar um brinde.
- (E) O apresentador está convicto que a menina tomou querosene porque apanhou sem razão.

20. Observe as frases:

- Dez comprimidos. E o que foi que sentiu? Uma tontura gostosa! Vejam só, uma tontura gostosa! **Não é notável?**
- Que idade tem ela? Dez. **Tomou querosene?**
- **Por que a senhora bateu nela?** A senhora não bate mais, ouviu?

No contexto em que estão empregadas, as orações interrogativas revelam as seguintes intenções comunicativas ou reações do entrevistador, respectivamente:

- (A) busca de uma informação; espanto; advertência.
- (B) crítica; bom humor; confirmação de uma informação.
- (C) humor; indignação; confirmação de uma informação.
- (D) advertência; busca de uma informação; busca de uma informação.
- (E) ironia; confirmação de uma informação; busca de uma informação.

## NOÇÕES DE DIREITO

21. Nos termos da Constituição Federal de 1988, é correto afirmar que

- (A) o cargo de oficial de Polícia Militar ou de Bombeiro Militar é privativo de brasileiro nato.
- (B) o prazo de validade do concurso público será de até três anos, prorrogável uma vez, por igual período.
- (C) são símbolos da República Federativa do Brasil a bandeira, o hino, as armas e o selo nacionais.
- (D) às polícias civis incumbem, ressalvada a competência da União, as funções de polícia judiciária e a apuração de infrações penais, inclusive as militares.
- (E) são estáveis, após dois anos de efetivo exercício, os servidores nomeados para cargo de provimento efetivo, em virtude de concurso público.

22. É correto afirmar que os direitos humanos fundamentais

- (A) visam estabelecer condições mínimas de vida e desenvolvimento da pessoa humana.
- (B) são aplicáveis tanto a pessoas naturais quanto a pessoas jurídicas.
- (C) têm por finalidade a proteção contra o arbítrio das empresas multinacionais.
- (D) surgiram após o nascimento da ideia do constitucionalismo.
- (E) consistem em instrumentos de legitimação do poder punitivo do próprio Estado e de suas autoridades constituídas.

23. Dispõe a Declaração Universal dos Direitos Humanos que

- (A) o trabalhador deve filiar-se à associação representativa de sua categoria profissional.
- (B) a vontade do povo será expressa em eleições periódicas e legítimas, por voto censitário, secreto ou aberto, ou processo equivalente que assegure a liberdade de voto.
- (C) todo ser humano tem direito à instrução, mas o acesso à instrução superior terá por critério o mérito.
- (D) qualquer ser humano tem o direito de deixar seu país, desde que quite com suas obrigações legais e políticas perante o Estado.
- (E) o livre e pleno consentimento dos nubentes menores de 18 (dezoito) anos para o casamento pode ser substituído pela autorização de seus pais.

24. Sobre o crime de Moeda Falsa, previsto no Código Penal, é correto afirmar que

- (A) a lei não admite a punição da conduta praticada por funcionário público.
- (B) o tipo comporta a conduta de fabricar ou alterar, mediante falsificação, a moeda metálica ou papel-moeda, de curso legal no país ou no estrangeiro.
- (C) a lei admite a punição da conduta, na forma culposa.
- (D) a conduta típica consiste em reconhecer, como verdadeira, no exercício de função pública, moeda metálica ou papel-moeda de curso legal no estrangeiro.
- (E) consiste fato atípico a conduta de quem desvia e faz circular moeda cuja circulação não estava ainda autorizada.

25. A respeito do inquérito policial, procedimento disciplinado pelo Código de Processo Penal, é correto afirmar que

- (A) os instrumentos do crime, bem como os objetos que interessarem à prova, acompanharão os autos do inquérito.
- (B) ao término do inquérito, a autoridade policial fará minucioso relatório do que tiver sido apurado e enviará os autos ao membro do ministério público, não podendo o juiz competente tomar conhecimento dos fatos apurados antes, sob pena de nulidade.
- (C) nos crimes de ação privada, a autoridade policial poderá determinar a instauração de inquérito, ainda que não haja requerimento de quem tenha qualidade para intentá-la.
- (D) o inquérito, nos crimes em que a ação pública é condicionada, poderá ser iniciado sem representação, desde que mediante despacho fundamentado da autoridade policial competente.
- (E) o inquérito não acompanhará a denúncia ou queixa, ainda que sirva de base a uma ou outra.

## NOÇÕES DE CRIMINOLOGIA

26. Segundo a doutrina dominante, Criminologia é uma ciência que se serve do método

- (A) lógico abstrato.
- (B) dogmático.
- (C) normativo.
- (D) empírico.
- (E) dedutivo.

27. A polícia, o ministério público, o poder judiciário e o sistema penitenciário são instituições encarregadas de exercer o controle social

- (A) primário.
- (B) formal.
- (C) informal.
- (D) terciário.
- (E) secundário.

Nas questões de números 28 e 29, assinale a alternativa contendo a informação que preenche corretamente a lacuna.

28. A teoria \_\_\_\_\_ considera que o crime é um fenômeno natural da vida em sociedade; todavia, sua ocorrência deve ser tolerada, mediante estabelecimento de limites razoáveis, sob pena de subverter a ordem pública, os valores cultuados pela sociedade e o sistema normativo vigente.

- (A) da associação diferencial
- (B) do etiquetamento ou *labelling approach*
- (C) behaviorista
- (D) da anomia
- (E) da subcultura delincente



29. A \_\_\_\_\_ é a autorrecriinação da vítima pela ocorrência do crime contra si, buscando razões que, possivelmente, tornaram-na responsável pelo delito.
- (A) sobrevivitização
  - (B) vitimização primária
  - (C) vitimização secundária
  - (D) vitimização terciária
  - (E) heterovitimização
30. O saber criminológico, no Estado Democrático de Direito, tem por objetivo evitar a ocorrência do delito; portanto, são aspectos importantes de prevenção terciária
- (A) o policiamento, a assistência social e o conselho tutelar.
  - (B) a educação, a religião e o lazer.
  - (C) a laborterapia, a liberdade assistida e a prestação de serviços comunitários.
  - (D) as posturas municipais, a classificação etária dos programas televisivos e o civismo.
  - (E) a cultura, a qualidade de vida e o trabalho.
31. Um eminente médico e professor de medicina legal de renomada universidade recebeu uma consulta sobre determinado assunto de sua especialidade. Portanto, ao responder por escrito, objetivando esclarecer dúvidas existentes em um relatório médico legal, ele emitirá um documento denominado:
- (A) Parecer.
  - (B) Declaração.
  - (C) Atestado.
  - (D) Comunicação.
  - (E) Auto.
32. Em um exame necroscópico, o médico legista observou na região posterior da perna direita uma lesão arroxeada, com presença de infiltração hemática nas malhas do tecido decorrente de ruptura de vaso sanguíneo. Dessa análise, é correto afirmar que se trata de
- (A) equimose e a lesão é pós-mortal.
  - (B) equimose e a lesão é vital.
  - (C) livor (ou hipóstase) cadavérico móvel.
  - (D) hematoma e a lesão é vital.
  - (E) livor (ou hipóstase) cadavérico fixo.
33. Como resultado do processo natural da putrefação do corpo após a morte, em determinada fase, ocorre uma dissolução dos tecidos, por ação conjunta de microrganismos e fauna cadavérica, a qual é composta de larvas e insetos. Esse fenômeno ocorre na fase:
- (A) esqueletização.
  - (B) cromática.
  - (C) mumificação.
  - (D) coliquativa.
  - (E) enfisematosa.
34. No exame antropológico forense de uma ossada humana completa, correspondente a um indivíduo adulto, com finalidade de definir altura e sexo, os ossos mais indicados para essa análise são, respectivamente:
- (A) crânio e úmero.
  - (B) fêmur e clavícula.
  - (C) fêmur e pelve.
  - (D) clavícula e rádio.
  - (E) crânio e fíbula.

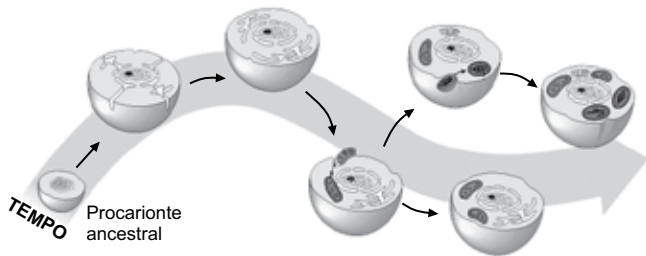
## NOÇÕES DE MEDICINA E ODONTOLOGIA LEGAL

31. Um eminente médico e professor de medicina legal de renomada universidade recebeu uma consulta sobre determinado assunto de sua especialidade. Portanto, ao responder por escrito, objetivando esclarecer dúvidas existentes em um relatório médico legal, ele emitirá um documento denominado:
- (A) Parecer.
  - (B) Declaração.
  - (C) Atestado.
  - (D) Comunicação.
  - (E) Auto.
34. No exame antropológico forense de uma ossada humana completa, correspondente a um indivíduo adulto, com finalidade de definir altura e sexo, os ossos mais indicados para essa análise são, respectivamente:
- (A) crânio e úmero.
  - (B) fêmur e clavícula.
  - (C) fêmur e pelve.
  - (D) clavícula e rádio.
  - (E) crânio e fíbula.

35. No incêndio e desabamento de um prédio, algumas vítimas tiveram seus corpos fragmentados e carbonizados. Considerando-se os recursos utilizados pela odontologia legal para a identificação de indivíduos, é correto afirmar:
- (A) os exames imaginológicos dentais geralmente não auxiliam na identificação.
  - (B) são necessários pelo menos 12 pontos dentais de coincidência para a identificação.
  - (C) a identificação pela análise da arcada dental tem pouca contribuição diagnóstica.
  - (D) se a vítima for criança, a análise dentária para estimativa da faixa etária tem pouco valor.
  - (E) componentes dentais como esmalte, dentina e cimento podem resistir a altas temperaturas.

### NOÇÕES DE BIOLOGIA

36. A figura ilustra uma possível sequência no processo evolutivo celular, a partir de um procarionte ancestral.



(www.cientific.com. Adaptado)

Tendo em vista o processo ilustrado e as características das células mais evoluídas atuais, é correto afirmar que, ao longo do tempo, houve

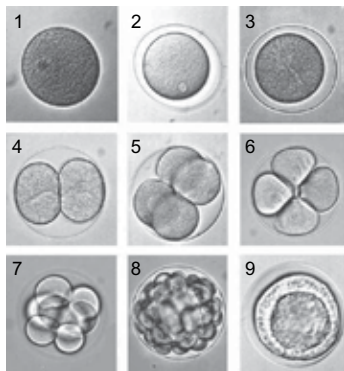
- (A) desenvolvimento de membranas internas, assim como a internalização de estruturas energéticas.
- (B) surgimento espontâneo e abrupto de estruturas internas mais complexas, tais como o núcleo e as organelas.
- (C) modificações de estruturas já existentes, relacionadas à captação de luz, tais como as mitocôndrias.
- (D) a fagocitose e a pinocitose de organelas relacionadas à respiração, tais como os cloroplastos.
- (E) mutações genéticas responsáveis pela formação imediata dos cloroplastos e mitocôndrias.

37. Uma das semelhanças entre os processos de divisão celular mitótico e meiótico corresponde à existência da etapa anáfase em ambos. Porém, na meiose, ocorrem duas etapas anáfases, enquanto na mitose ocorre apenas uma etapa anáfase. Tal diferença é decorrente da
- (A) condensação cromossômica no início do processo que ocorre apenas na mitose.
  - (B) existência de duas divisões consecutivas na meiose e de apenas uma divisão na mitose.
  - (C) duplicação cromossômica no início do processo que ocorre apenas na meiose.
  - (D) duplicação da ploidia celular ao final do processo meiótico, enquanto na mitose tal ploidia se reduz.
  - (E) formação de duas células filhas diploides na meiose e de quatro células filhas haploides na mitose.

38. As leveduras *Saccharomyces cerevisiae* são amplamente utilizadas na fabricação de pães e de bebidas alcoólicas. Esses microrganismos promovem a fermentação, realizada por diversos tipos de fungos para obtenção de energia. No entanto, para que ocorra a via metabólica da fermentação, é necessário que a levedura

- (A) produza inicialmente o gás carbônico, molécula que será utilizada como reagente no processo fermentativo.
- (B) sintetize aminoácidos essenciais os quais serão polimerizados durante a síntese proteica da fermentação.
- (C) consuma no interior de suas mitocôndrias moléculas de glicose e de gás oxigênio para produção de ATP.
- (D) realize inicialmente a hidrólise das moléculas de açúcares por meio de enzimas específicas.
- (E) libere gás oxigênio, o qual é responsável pela oxidação das moléculas de açúcares que serão metabolizadas em álcool e gás carbônico.

39. As fotografias mostram nove etapas do desenvolvimento embrionário humano, desde o óvulo não fecundado (1) até o estágio (9) em que ocorre a nidação no útero materno.



(www.laifi.com)

Com relação ao desenvolvimento ilustrado, é correto afirmar que, na etapa

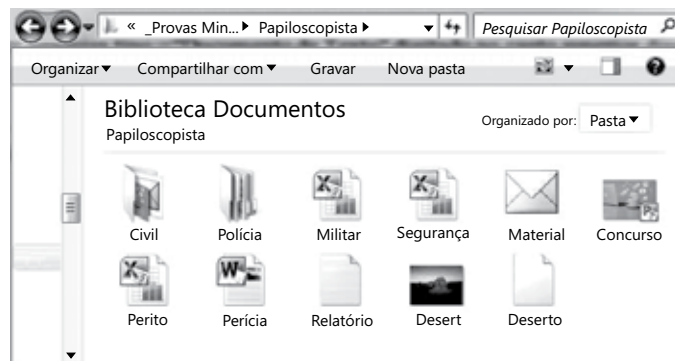
- (A) 8, ocorre a formação dos três tecidos embrionários: a endoderme, a mesoderme e a ectoderme.
- (B) 2, ocorre a fecundação com união dos 46 cromossomos maternos com os 46 cromossomos paternos.
- (C) 9, ocorre a formação do tubo neural e do sistema nervoso, sendo por isso classificada como etapa de nêurula.
- (D) 6, ocorre a formação do blastocisto, etapa caracterizada pela presença de uma cavidade embrionária.
- (E) 4, ocorre a formação de dois blastômeros, classificados como células-tronco totipotentes.

40. Nas cobaias, existem dois pares de alelos com segregação independente, que condicionam, respectivamente, o comprimento e a cor da pelagem. A pelagem longa e marrom é condicionada pelo genótipo duplo recessivo, enquanto as pelagens curta e preta são dominantes para esses fenótipos. O cruzamento entre um macho duplo heterozigoto e uma fêmea dupla recessiva, para esses alelos citados, deverá gerar

- (A) 1/2 de filhotes com pelagem curta e preta.
- (B) 1/3 de filhotes com pelagem curta e marrom.
- (C) 1/4 de filhotes com pelagem longa e preta.
- (D) 1/8 de filhotes com pelagem curta e marrom.
- (E) 1/16 de filhotes com pelagem longa e marrom.

## NOÇÕES DE INFORMÁTICA

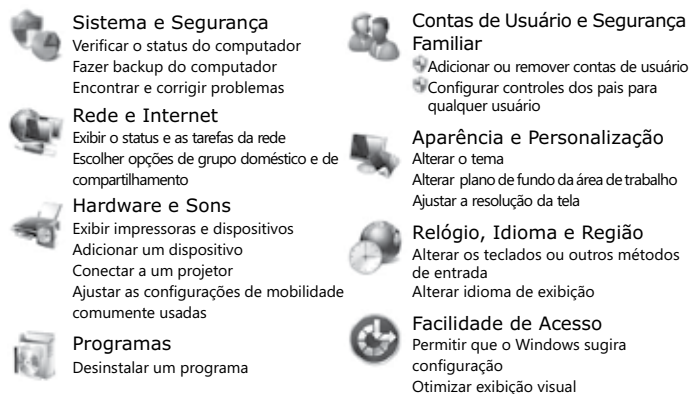
41. Observe os objetos da pasta Papioscopista na biblioteca Documentos de um computador instalado com MS-Windows 7, na sua configuração padrão.



O comando de pesquisa tipo: "Documento de Texto" digitado no canto superior direito, na barra de pesquisa, trará como resultado o(s) seguinte(s) objeto(s):

- (A) Relatório e Deserto.
- (B) Militar, Segurança e Perito.
- (C) Civil e Polícia.
- (D) Material.
- (E) Perícia e Relatório.

42. Observe a janela do MS-Windows 7, na sua instalação padrão, apresentada parcialmente na figura a seguir.

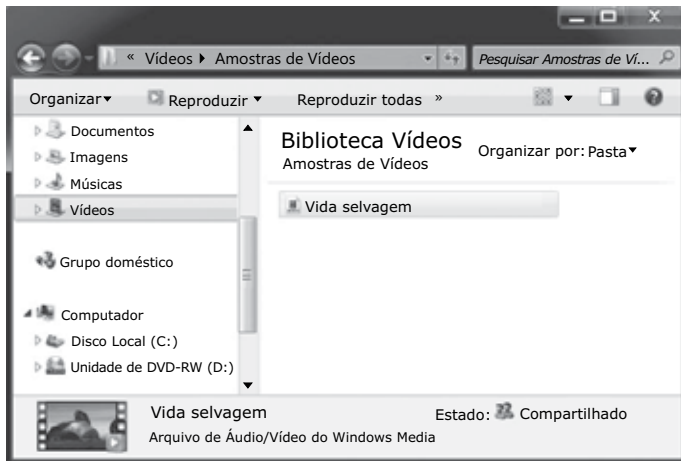


Assinale a alternativa que contém o link do menu Iniciar que exhibe essa janela. O menu Iniciar aparece ao clicar

no botão .

- (A) Bibliotecas.
- (B) Computador.
- (C) Documentos.
- (D) Painel de Controle.
- (E) Grupo Doméstico.

Considere a figura que apresenta a biblioteca Vídeos do MS-Windows 7, na sua configuração padrão, e que o usuário tem permissão de administrador. Responda às questões de números 43 e 44 que são independentes entre si.



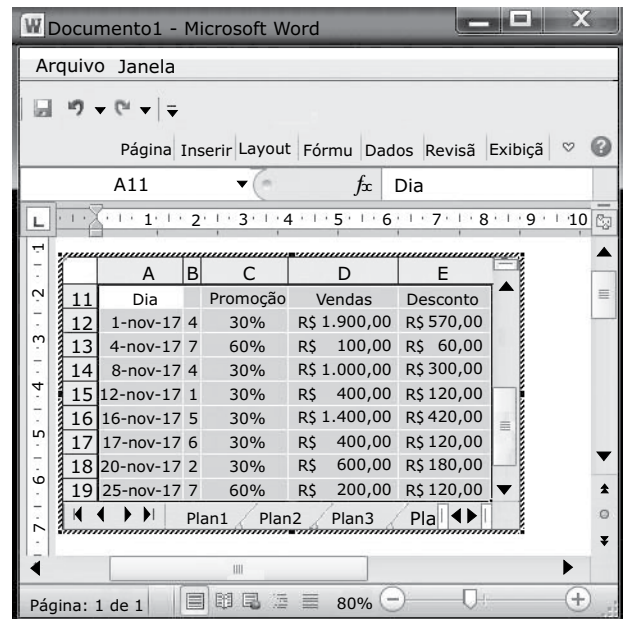
43. Assinale a alternativa com a ação que será executada quando o usuário arrastar o arquivo Vida selvagem, utilizando o botão principal do mouse, para o Disco Local (C:).

- (A) Colar.
- (B) Mover.
- (C) Recortar.
- (D) Gravar.
- (E) Copiar.

44. Após selecionar o arquivo Vida selvagem, o usuário pressiona simultaneamente Ctrl e X e, na sequência, Ctrl e V. Assinale a alternativa com o resultado das ações descritas.

- (A) O arquivo será apagado da biblioteca.
- (B) Será criado um atalho para o arquivo na mesma biblioteca.
- (C) Aparecerá uma mensagem de erro e nada será executado.
- (D) O arquivo será duplicado na mesma biblioteca.
- (E) Será gerada uma cópia do arquivo na mesma biblioteca.

45. Considere o documento do MS-Word 2010, na sua configuração padrão, conforme exibido na figura.




O usuário selecionou, copiou e colou uma planilha no documento Word com a intenção de editá-la, conforme se pode notar na figura. Para isso, ele utilizou a seguinte opção de colagem especial:

- (A) Imagem (Metarquivo Avançado): objeto
- (B) Texto formatado (RTF) do Microsoft Excel: objeto
- (C) Texto em unicode sem formatação: objeto
- (D) Texto não formatado do Microsoft Excel: objeto
- (E) Pasta de Trabalho do Microsoft Excel: objeto

46. Considere os termos digitados no MS-Word 2010, em sua configuração original, exibidos a seguir.

**Papilos** ➡ copista

Ao clicar duas vezes em , selecionar a palavra **Papilos** e selecionar a palavra copista, tem-se como resultado:

- (A) **Papilos** ➡ **copista**
- (B) **Papilos** ➡ copista
- (C) Papilos ➡ copista
- (D) **Papilos** ➡ **Papilos**
- (E) **Papilos** ➡ **Papiloscopista**

47. Considere a planilha do MS-Excel 2010, em sua configuração original, exibida na figura a seguir.

	A	B
1	<b>Veículo</b>	<b>Acessórios</b>
2	Armada	● R\$ 2.000
3	Equinox	○ R\$ 1.000
4	Infinity	○ R\$ 1.000
5	Lincoln	● R\$ 3.000
6	Suburban	● R\$ 3.000

Após selecionar todas a células foi aplicada a seguinte classificação na planilha:

Após a execução da classificação citada, o veículo Equinox passou da linha 3 para a linha

- (A) 5.
- (B) 4.
- (C) 6.
- (D) 2.
- (E) 3.

48. Assumindo que foi digitada a fórmula = $\$F2-G\$2$  na célula H2 e que essa fórmula foi copiada e colada nas células H3 até H9, assinale a alternativa com o valor que aparecerá na célula H6 da planilha do MS-Excel 2010, em sua configuração original, exibida na figura.

	F	G	H
1	Vendas	Desconto	Total
2	R\$ 1.000,00	R\$ 500,00	R\$ 500,00
3	R\$ 1.500,00	R\$ 750,00	
4	R\$ 500,00	R\$ 50,00	
5	R\$ 1.900,00	R\$ 950,00	
6	R\$ 400,00	R\$ 40,00	
7	R\$ 300,00	R\$ 30,00	
8	R\$ 600,00	R\$ 60,00	
9	R\$ 100,00	R\$ 10,00	

- (A) R\$ 360,00
- (B) R\$ 400,00
- (C) -R\$ 960,00
- (D) -R\$ 100,00
- (E) R\$ 500,00

49. Considere a planilha do MS-Excel 2010, na sua configuração padrão, exibida na figura I, e a visualização de impressão da mesma planilha, na figura II.

FIGURA I

	A	B	C	D	E	F
1	<b>Aluno</b>	<b>Idade</b>	<b>Nível de Escolaridade</b>	<b>Tabela de</b>	<b>Escolaridade</b>	
2	Pedro	10	Fundamental I	<b>Idade</b>	<b>Nível</b>	
3	Bruno	16	Médio	0	Infantil	
4	Maria	20	Superior	6	Fundamental I	
5	Eduarda	15	Médio	11	Fundamental II	
6	Felipe	4	Infantil	15	Médio	
7	Mariana	12	Fundamental II	18	Superior	
8	Raquel	2	Infantil			
9	Josefa	10	Fundamental I	<b>Idade</b>	<b>Nível</b>	
10	Poliana	16	Médio	0	Infantil	
11	Fernanda	20	Superior	6	Fundamental I	
12	Suzana	15	Médio	11	Fundamental II	
13	Juliana	4	Infantil	15	Médio	
14	Claudia	12	Fundamental II	18	Superior	
15	Mariana	2	Infantil			

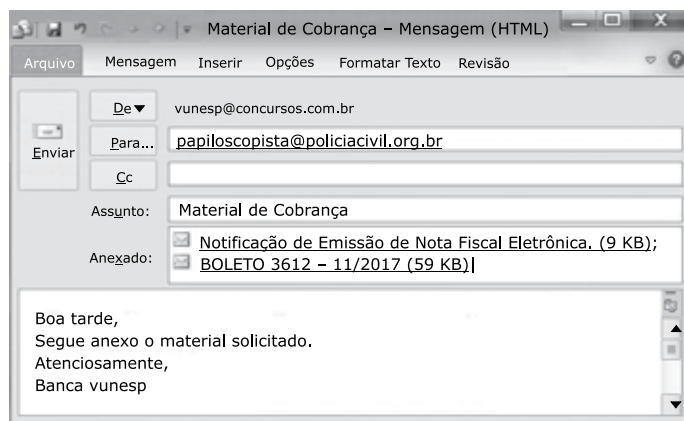
FIGURA II

Josefa	10	Fundamental I	0	Infantil
Poliana	16	Médio	6	Fundamental I
Fernanda	20	Superior	11	Fundamental II
Suzana	15	Médio	15	Médio
Juliana	4	Infantil	18	Superior
Claudia	12	Fundamental II		
Mariana	2	Infantil		

Para que o cabeçalho das colunas seja impresso na página 2, como visualizado na figura II, foi utilizada a opção

- (A) Layout da Página do grupo Modos de Exibição de Pasta de Trabalho, guia Arquivo.
- (B) Imprimir Títulos do grupo Configurar Página, guia Layout da Página.
- (C) Quebras do grupo Configurar Página, guia Layout da Página.
- (D) Margens do grupo Imprimir Página, guia Layout da Página.
- (E) Cabeçalho e Rodapé do grupo Texto, guia Inserir.

50. Considerando a mensagem de correio eletrônico do MS-Outlook 2010, em sua configuração original, apresentada a seguir, assinale a alternativa que contém a opção que permitiu incluir os anexos.

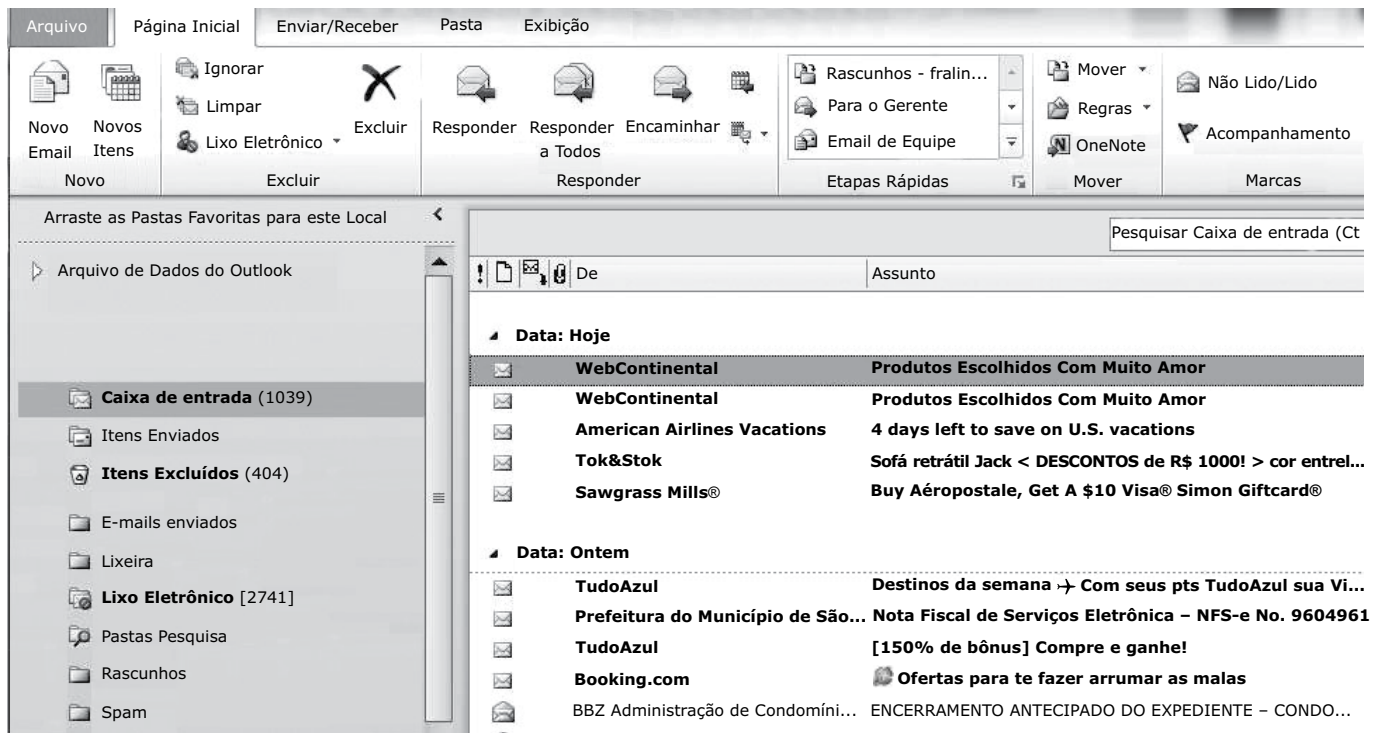



- (A) Item do Outlook.
- (B) Clip-Art.
- (C) Partes Rápidas.
- (D) SmartArt.
- (E) Anexar Arquivo.

51. Assinale a alternativa que contém um dos elementos que será impresso no rodapé de uma página acessada pelo Google Chrome, em sua configuração original.

- (A) hora
- (B) nome
- (C) título
- (D) data
- (E) url

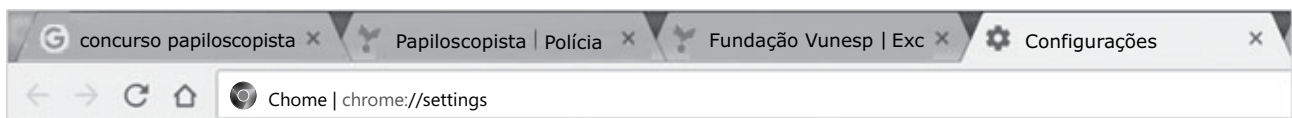
52. Na figura a seguir é apresentada a área de trabalho do MS-Outlook 2010, na sua configuração padrão, em que a primeira mensagem está selecionada na caixa de entrada.




Ao clicar no botão  e, na sequência, confirmar a ação, fará com que a mensagem selecionada seja

- (A) movida para Lixo Eletrônico.
- (B) transferida para Rascunhos.
- (C) movida para Itens Excluídos.
- (D) marcada como lida.
- (E) movida para Spam.


53. Observe a janela e guias do Google Chrome, em sua configuração padrão, apresentadas na figura a seguir.

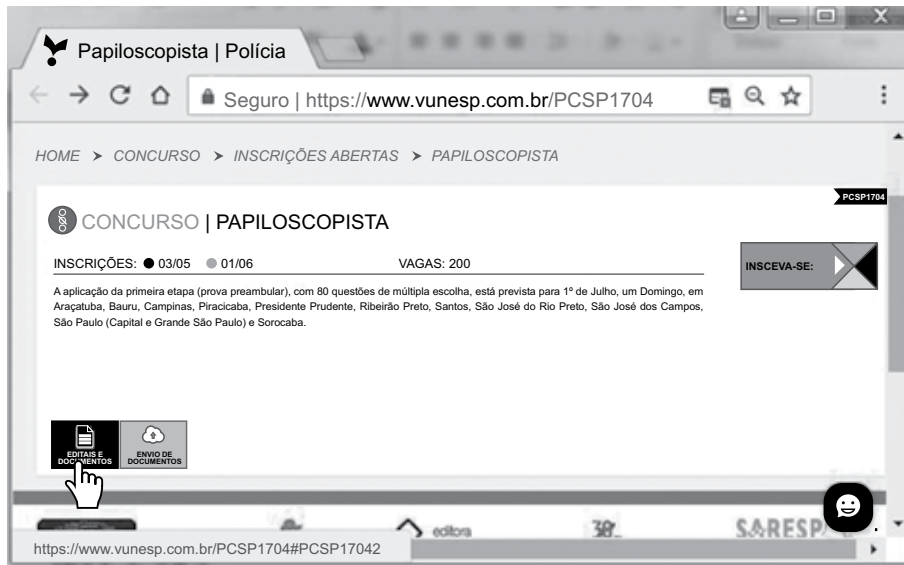




Para mostrar ou ocultar o botão Página Inicial  é necessário clicar na respectiva opção na seguinte seção da guia Configurações:

- (A) Privacidade e segurança.
- (B) Inicialização.
- (C) Navegador padrão.
- (D) Aparência.
- (E) Mecanismo de pesquisa.

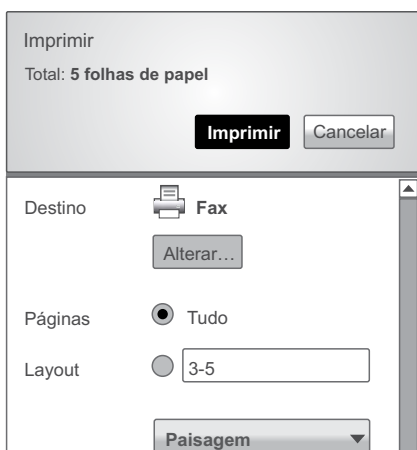


54. Observando a página do concurso de Papiloscopista visitada com Google Chrome, assinale a alternativa que contém o URL do link Editais e Documentos indicado com .



- (A) <https://www.vunesp.com.br/PCSP1704>
- (B) <https://www.vunesp.com.br/PCSP1704#PCSP17042>
- (C)  CONCURSO | PAPILOSCOPISTA
- (D)  Papiloscopista | Polícia
- (E) <https://www.vunesp.com.br>

55. Considere a janela de impressão do Google Chrome, em sua configuração original, apresentada parcialmente na figura.



Ao marcar a opção  3-5 serão impressas as seguintes páginas:

- (A) 3, 4 e 5
- (B) 1 a 5
- (C) 3 e 5
- (D) 1, 2, 3 e 4
- (E) 1, 2, 3 e 5

56. Os telefones IP são aparelhos que se conectam diretamente à Internet recebendo voz, dados e imagens, conforme apresentado na figura a seguir.



A diferença para os telefones comuns é que os telefones IP utilizam os seguintes conectores:

- (A) RJ-12
- (B) RJ-11
- (C) RJ-47
- (D) RJ-45
- (E) RJ-9



57. Dentre as tecnologias em uso de armazenamento externo de dados, assinale a mais recente.

- (A) BluRay.
- (B) Solid state drive.
- (C) Compact disk.
- (D) Secure digital.
- (E) Hard disk.

58. Assinale a alternativa que contém o cartão SD de maior capacidade de armazenamento atualmente.

- (A) SD UHS.
- (B) SD.
- (C) SDSC.
- (D) SDHC.
- (E) SDXC.

59. Considere o cartão de memória (classe UHS) apresentado na figura a seguir e assinale a alternativa com sua velocidade mínima de trabalho.



SD de 32 GB (Imagem por SanDisk)

- (A) 3 MB/s.
- (B) 95 MB/s.
- (C) 30 MB/s.
- (D) 10 MB/s.
- (E) 32 MB/s.

60. A impressora presente em vários POS e ATMs para emissão de cupons fiscais e extratos bancários é do tipo

- (A) Jato de tinta.
- (B) Plotter.
- (C) Impacto.
- (D) Laser.
- (E) Térmica.

## NOÇÕES DE LÓGICA

61. Pertencer ao conjunto A, pode ser apenas A ou pode ser apenas A e B ou pode ser A e B e C, mas não pode ser apenas A e C. Pertencer ao conjunto B, pode ser apenas B ou pode ser B e A ou pode ser B e C ou pode ser B e A e C. Pertencer ao conjunto C, pode ser C e B ou pode ser C e B e A, mas não pode ser C e A e não pode ser apenas C. Quanto às quantidades, e obedecendo às condições apresentadas, pertencer a apenas um conjunto, 5 elementos em cada caso; pertencer a apenas dois conjuntos, 10 elementos em cada caso; pertencer aos três conjuntos, 15 elementos. O número de elementos que pertencem aos conjuntos B ou C supera o número de elementos que pertencem ao conjunto A em um número igual a

- (A) 10.
- (B) 5.
- (C) 20.
- (D) 15.
- (E) 25.

62. Uma afirmação que corresponde à negação lógica da afirmação – *Leonardo é dentista ou Marcelo não é médico* – é

- (A) Leonardo é dentista e Marcelo é médico.
- (B) Leonardo não é dentista ou Marcelo não é médico.
- (C) Ou Leonardo não é dentista ou Marcelo é médico.
- (D) Leonardo não é dentista e Marcelo é médico.
- (E) Se Leonardo é dentista, então Marcelo não é médico.

63. Considere as afirmações:

- Se Ana é costureira, então Bruno não é pedreiro.*
- Se Bruno não é pedreiro, então César é servente.*
- Se César é servente, então Débora não é faxineira.*
- Se Débora não é faxineira, então Eliana é cozinheira.*
- Se Eliana é cozinheira, então Francisco não é mecânico.*
- Francisco é mecânico.*

A partir dessas afirmações, é correto concluir que

- (A) Débora não é faxineira.
- (B) Ana é costureira.
- (C) César não é servente.
- (D) Eliana é cozinheira.
- (E) Bruno não é pedreiro.

64. Uma afirmação que seja equivalente à afirmação – *Se os conselhos foram ouvidos, então a decisão foi acertada* – é

- (A) Se a decisão foi acertada, então os conselhos foram ouvidos.
- (B) Os conselhos não foram ouvidos ou a decisão foi acertada.
- (C) Os conselhos foram ouvidos e a decisão foi acertada.
- (D) Os conselhos não foram ouvidos e a decisão não foi acertada.
- (E) Os conselhos não foram ouvidos ou a decisão não foi acertada.

65. Considere falsa a afirmação (I) e verdadeira a afirmação (II).

I. *Todos os alunos estudam.*

II. *Alguns professores estudam.*

Sendo assim, é correto concluir que

- (A) os alunos que estudam são professores.
- (B) qualquer professor que estuda é aluno.
- (C) existe aluno que não estuda.
- (D) todos os professores estudam.
- (E) qualquer aluno estuda.

66. Há um estudante, um estagiário e um engenheiro. Os nomes são Bruno, Carlos e Antônio. As idades deles são 18, 26 e 28 anos. A ordem em que essas informações foram listadas é uma ordem qualquer. Apenas o engenheiro tem curso superior e ele não é o mais novo. Para ser diretor de uma construtora, é necessário ter curso superior. Antônio não é o mais velho. O estagiário, primo de Carlos, é o mais velho. Antônio já visitou, com seus colegas de escola, a construtora que Carlos dirige.

Com essas informações, é correto concluir que

- (A) Carlos não é engenheiro ou Carlos tem 26 anos.
- (B) Bruno tem 18 anos, e é o estagiário.
- (C) Antônio não tem 18 anos.
- (D) Bruno é o engenheiro, primo de Carlos.
- (E) Se Bruno é o estagiário, então Antônio é o engenheiro.

67. Considere a afirmação:

*Ou Rodrigo é o diretor ou Paulo não é o tesoureiro.*

A alternativa que contém uma afirmação equivalente a essa é:

- (A) Paulo é o tesoureiro ou Rodrigo não é o diretor, e de modo algum Rodrigo não é o diretor e Paulo é o tesoureiro.
- (B) Paulo é o tesoureiro ou Rodrigo é o diretor, e de modo algum Rodrigo é o diretor e Paulo é o tesoureiro.
- (C) Paulo é o tesoureiro ou Rodrigo não é o diretor, ou de modo algum Rodrigo é o diretor ou Paulo não é o tesoureiro.
- (D) Paulo não é o tesoureiro ou Rodrigo é o diretor, e de modo algum Rodrigo é o diretor e Paulo não é o tesoureiro.
- (E) Paulo não é o tesoureiro ou Rodrigo não é o diretor, e de modo algum Rodrigo não é o diretor e Paulo não é o tesoureiro.

## NOÇÕES DE IDENTIFICAÇÃO

68. A Lei Federal nº 12.037/2009, que dispõe sobre a identificação criminal do civilmente identificado e regulamenta em seu art. 5º-A, par. 1º, a coleta do perfil genético e armazenamento em banco de dados, afirma que

- (A) as informações genéticas contidas nos bancos de dados de perfis genéticos devem incluir traços somáticos ou comportamentais das pessoas, principalmente a determinação genética de gênero.
- (B) as informações genéticas contidas nos bancos de dados de perfis genéticos devem incluir traços físicos ou comportamentais das pessoas, principalmente a determinação genética de hereditariedade.
- (C) as informações genéticas contidas nos bancos de dados de perfis genéticos não poderão revelar traços físicos ou comportamentais das pessoas, exceto determinação de doenças psicossomáticas.
- (D) os perfis genéticos devem ser disponibilizados para pesquisa civil e criminal.
- (E) as informações genéticas contidas nos bancos de dados de perfis genéticos não poderão revelar traços somáticos ou comportamentais das pessoas, exceto determinação genética de gênero.

69. A Lei Federal nº 9.454/1997, que institui o número único de Registro de Identidade Civil e dá outras providências, em seu art. 3º, par. 2º, define a responsabilidade dos Estados e do Distrito Federal

- (A) por reportar quaisquer problemas, técnicos ou administrativos, durante a operação do Sistema Nacional.
- (B) pela certificação da veracidade das informações prestadas pelo cidadão quando de sua identificação.
- (C) pela operacionalização e atualização, nos respectivos territórios, do Cadastro Nacional de Registro de Identificação Civil.
- (D) por coibir a falsificação de documentos públicos quando da emissão dos documentos de identidade.
- (E) pela verificação de que os registros inseridos no cadastro não estejam em duplicidade junto aos demais territórios.

70. As técnicas de identificação criminal usadas hoje pelas forças policiais americanas estão enraizadas na ciência da antropometria, que se concentra na medição e registro meticolosos de diferentes partes e componentes do corpo humano. Geralmente, a aplicação da lei no final do séc. XIX e início do séc. XX acreditava que cada indivíduo possuía uma combinação única de medidas de diferentes partes do corpo, e a comparação dessas medidas poderia ser usada para distinguir os indivíduos.

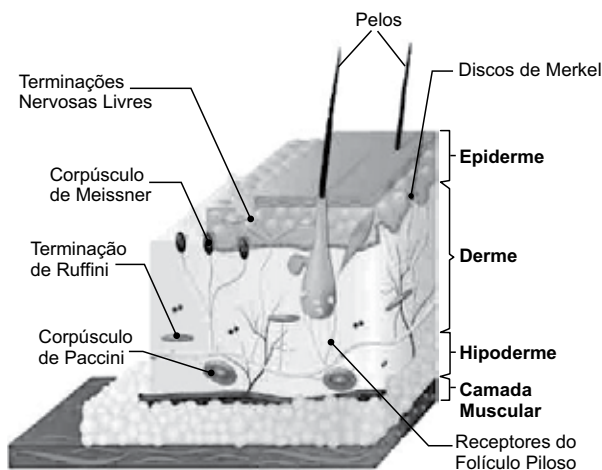
(nleomf.org/museum/News/november-2011.Adaptado)

O criminologista que primeiro desenvolveu esse sistema antropométrico foi

- (A) Cesare Lombroso.
- (B) Alphonse Bertillon.
- (C) Marcello Malpighi.
- (D) Juan Vucetich.
- (E) Enrico Ferri.

71. Observe a figura.

### Camada da Pele e Anexos



(<https://planetabiologia.com/sistema-tegumentar-a-pele-humana/>. Adaptado)

A disposição das cristas e sulcos papilares que compõem os desenhos papilares é formada em qual camada da pele?

- (A) Hipoderme.
- (B) Derme.
- (C) Corpúsculo de Meissner.
- (D) Camada Muscular.
- (E) Epiderme.

72. Impressões digitais (cristas epidérmicas) têm sido usadas como um meio de identificação há mais de 2000 anos. Elas também foram extensivamente estudadas cientificamente por antropólogos e biólogos. No entanto, apesar de todo o conhecimento empírico e experimental, nenhuma explicação amplamente aceita para o desenvolvimento das cristas epidérmicas nos dedos, palmas das mãos e plantas dos pés ainda emergiu. [...].

(Kücken M, Newell AC. J Theor Biol. *Fingerprintformation*. 2005)

O momento em que se dá a completa formação das impressões digitais é

- (A) em torno dos 6 meses de gestação.
- (B) nos 3 primeiros meses de vida após o nascimento.
- (C) por ocasião do trabalho de parto.
- (D) 3 semanas após o nascimento.
- (E) imediatamente após a fertilização.

73. As impressões digitais das mãos humanas têm sido usadas como meio confiável de identificação pessoal há mais de um século. Durante esse tempo, não foram encontrados dois padrões de impressão digital idênticos.

(Swofford, Henry J. - Article *The Ontogeny of the Friction Ridge*: Georgia State University, Department of Biology, Journal of Forensic Identification – 2008)

A afirmação refere-se a um dos postulados da papiloscopia. Trata-se de

- (A) visibilidade.
- (B) infalibilidade.
- (C) previsibilidade.
- (D) variabilidade.
- (E) perenidade.

74. O sistema datiloscópico [...] foi introduzido na medicina legal brasileira por volta de 1903, representando uma verdadeira mudança nos métodos de identificação, ante sua praticidade, simplicidade, eficiência e segurança nos resultados [...].

(<https://fezanella.jusbrasil.com.br/>. Adaptado)

O sistema mencionado no texto refere-se ao sistema criado por

- (A) Ricardo Gumbleton Daunt.
- (B) Rodrigues Alves.
- (C) Marcello Malpighi.
- (D) Eduardo Ramos.
- (E) Juan Vucetich.

75. Na fórmula E4343/I4242, o número 4 representa o tipo fundamental

- (A) presilha interna.
- (B) arco plano.
- (C) presilha externa.
- (D) arco ganchoso.
- (E) verticilo.

## ATUALIDADES

76. A Câmara dos Lordes do Reino Unido aprovou uma emenda que dá poderes ao Parlamento, derrotando o governo da Primeira-Ministra, Theresa May. Os lordes, que ocupam a câmara alta do Parlamento, aprovaram por 335 votos a 244 uma emenda que permitiria que o Parlamento mande o Reino Unido de volta à mesa de negociação em Bruxelas ou poderia até mesmo interromper um processo iniciado em 2016.

(<https://exame.abril.com.br/>. 30.04.2018. Adaptado)

A notícia refere-se aos debates políticos acerca

- (A) das regras para escolha do novo Primeiro-Ministro.
- (B) da saída do Reino Unido da União Europeia.
- (C) das leis de restrição imigratória à Grã-Bretanha.
- (D) do processo separatista da Irlanda do Norte.
- (E) da participação do Reino Unido no Conselho de Segurança da ONU.

77. Leia as notícias.

I. Na última sexta-feira, 18 de maio deste ano, o governo anunciou uma trégua de dois dias na repressão às manifestações, no marco de uma mesa de diálogo nacional. A medida ocorreu no dia seguinte ao início das inspeções da missão da Comissão Interamericana de Direitos Humanos.

As manifestações no país ocorrem desde 18 de abril. Os manifestantes queixam-se da violência do governo do presidente Daniel Ortega, e das mudanças que pretende impor na Previdência Social.

(<http://agenciabrasil.ebc.com.br/>. Adaptado)

II. A Coordenação Nacional para Redução de Desastres confirmou, no começo da tarde de hoje, 04 de junho deste ano, que o número de mortos em decorrência da erupção do Vulcão Fogo subiu de 25 para 56, em três departamentos do país que estão em estado de calamidade.

Pelo menos 1,7 milhão de pessoas foram atingidas, principalmente no departamento de Escuintla, uma das áreas mais afetadas pelas lavas e cinzas do vulcão.

(<http://agenciabrasil.ebc.com.br/>. Adaptado)

As notícias I e II tratam, respectivamente,

- (A) de El Salvador e do Chile.
- (B) de Honduras e do Panamá.
- (C) da Nicarágua e da Guatemala.
- (D) da República Dominicana e do Equador.
- (E) da Costa Rica e do México.

78. Pelo entendimento original da Constituição, o foro privilegiado garantido a autoridades como parlamentares fazia com que eles fossem processados por infrações penais comuns no Supremo. No caso de deputados federais e senadores, o Supremo Tribunal Federal (STF) restringiu o entendimento para os crimes cometidos no exercício do mandato e em função do cargo.

(<https://veja.abril.com.br/>. 10.05.2018. Adaptado)

A notícia é relativa à votação realizada pelo STF, cujo resultado, aprovado por nove votos a um, aponta que o foro privilegiado

- (A) não vale para os casos de improbidade administrativa, caso, por exemplo, da situação em que o agente público provoque perdas ao patrimônio público.
- (B) necessitará ser ampliado, em favor dos parlamentares federais, para abranger crimes de quaisquer naturezas, desde que ocorridos no exercício do mandato.
- (C) deverá ser mantido aos parlamentares eleitos pelo voto direto, bem como aos chefes do Poder Executivo e Judiciário, quando da esfera federal.
- (D) não prevalecerá para os suplentes de senadores e deputados federais, e para ministros de Estado com menos de um ano do cargo.
- (E) não terá validade para os casos de crimes que, na ocorrência de condenação, não prevejam a perda de mandato do parlamentar.

**79.** Publicado pela imprensa no início de junho deste ano, o *Atlas da Violência de 2018*, produzido pelo Instituto de Pesquisa Econômica Aplicada (Ipea) e o Fórum Brasileiro de Segurança Pública (FBSP), mostra que, no Brasil,

- (A) os homens brancos, na faixa etária entre 30 e 39 anos, em 2016, foi o grupo mais atingido pelos homicídios.
- (B) na década entre 2006 e 2016, na faixa etária entre 19 e 24 anos, ocorreu uma queda acentuada nos assassinatos.
- (C) a taxa de homicídios, entre 2014 e 2016, foi maior nos estados do Sudeste e do Sul do que nos estados do Nordeste.
- (D) em 2016 foram cometidos 62517 assassinatos, o que se traduz em uma taxa recorde de 30,3 mortos para cada 100 mil habitantes.
- (E) entre 2006 e 2016, o maior crescimento no número de homicídios ocorreu no estado do Mato Grosso do Sul.

**80.** Seis meses após sua criação, a reforma trabalhista saiu do papel e vem mudando aos poucos a dinâmica das relações entre patrão e empregado. Contudo, ela ainda esbarra em forte resistência por parte de sindicatos e insegurança jurídica nos tribunais. A nova lei trabalhista entrou em vigor em 11 de novembro de 2017.

(<https://g1.globo.com/>. 11.05.2018)

Uma das mudanças provocadas pela nova lei trabalhista, e que já puderam ser observadas na realidade brasileira, refere-se ao fato de que houve

- (A) uma queda acentuada da abertura de novas reclamações trabalhistas nos tribunais.
- (B) um crescimento das ações judiciais relativas a danos morais sofridas por trabalhadores.
- (C) uma ampliação de 80% na arrecadação financeira pelos sindicatos de trabalhadores.
- (D) um aumento considerável no número de convenções e acordos coletivos.
- (E) um decréscimo significativo das vagas de trabalho intermitente.





