

AUXILIAR ADMINISTRATIVO

Escreva seu nome e número de inscrição de forma legível nos locais indicados:

Nome do(a) Candidato(a)

Nº de inscrição

Este caderno de questões está assim constituído:

DISCIPLINAS	Nº QUESTÕES
Português	10
Matemática	10
Informática	05
Legislação, Conhecimentos Gerais e Específicos	15
Total de questões	40

INSTRUÇÕES:

- Confira devidamente o material (CARTÃO DE RESPOSTAS e CADERNO DE QUESTÕES); se houver falha, solicite a substituição ao fiscal.
- Após conferir seus dados no cartão de respostas (NOME, Nº da INSCRIÇÃO e EMPREGOS), assine no local indicado.
- O CARTÃO DE RESPOSTAS é o único documento de correção, devendo ser preenchido com bastante atenção, à caneta esferográfica, azul ou preta, ponta grossa, marcando uma única alternativa em cada questão.
- Verifique no cartão de respostas as instruções para preenchimento. Não rasure, não amasse nem dobre o CARTÃO DE RESPOSTAS; evite usar borracha. É vedada a substituição do CARTÃO DE RESPOSTAS decorrente de erro cometido por candidato.
- Se o CARTÃO DE RESPOSTAS contiver maior número de alternativas e/ou de questões, preencha apenas as correspondentes à sua prova; as demais ficam em branco.
- Durante a realização da prova, não é permitida a comunicação entre candidatos nem a utilização de máquina calculadora e/ou similares, livros, anotações, régua de cálculo, impressos ou qualquer outro material de consulta.
- O tempo de duração da prova objetiva será de **até 3 horas**.
- Ao final dos trabalhos, **DEVOLVA** ao Fiscal da sala, juntamente com o CARTÃO DE RESPOSTAS devidamente preenchido e assinado, o CADERNO DE QUESTÕES, tendo em vista a obrigatoriedade de arquivo no Consórcio.
- A parte destacável no final desta capa, que serve para copiar as suas respostas, somente poderá ser destacada no ato da entrega do material na mesa do fiscal.
- Os três últimos candidatos de cada sala de prova deverão permanecer no recinto, a fim de acompanhar os fiscais até a coordenação para o lacre dos envelopes, quando, então, poderão retirar-se do local, simultaneamente, após concluído.
- Direitos autorais reservados à Objetiva Concursos Ltda. Proibida a reprodução, ainda que parcial, sem autorização prévia.

✂.....(dobre e destaque esta parte para copiar suas respostas)

01	<input type="checkbox"/>	02	<input type="checkbox"/>	03	<input type="checkbox"/>	04	<input type="checkbox"/>	05	<input type="checkbox"/>	06	<input type="checkbox"/>	07	<input type="checkbox"/>	08	<input type="checkbox"/>	09	<input type="checkbox"/>	10	<input type="checkbox"/>
11	<input type="checkbox"/>	12	<input type="checkbox"/>	13	<input type="checkbox"/>	14	<input type="checkbox"/>	15	<input type="checkbox"/>	16	<input type="checkbox"/>	17	<input type="checkbox"/>	18	<input type="checkbox"/>	19	<input type="checkbox"/>	20	<input type="checkbox"/>
21	<input type="checkbox"/>	22	<input type="checkbox"/>	23	<input type="checkbox"/>	24	<input type="checkbox"/>	25	<input type="checkbox"/>	26	<input type="checkbox"/>	27	<input type="checkbox"/>	28	<input type="checkbox"/>	29	<input type="checkbox"/>	30	<input type="checkbox"/>
31	<input type="checkbox"/>	32	<input type="checkbox"/>	33	<input type="checkbox"/>	34	<input type="checkbox"/>	35	<input type="checkbox"/>	36	<input type="checkbox"/>	37	<input type="checkbox"/>	38	<input type="checkbox"/>	39	<input type="checkbox"/>	40	<input type="checkbox"/>

PORTUGUÊS

Depois de muito debate e manobras políticas, a Proposta da Emenda Constitucional (PEC) que reduz a maioria penal no Brasil passou em primeira votação na Câmara. O texto define que adolescentes de 16 e 17 anos poderão ser julgados como adultos em crimes graves. A PEC ainda precisa ser aprovada em mais uma votação na Câmara, duas votações no Senado, e corre o risco de ir parar no Supremo Tribunal Federal (STF).

No Brasil, a Constituição define que a maioria penal é aos 18 anos. Antes disso, a partir dos 12 anos, jovens em conflito com a lei podem ser punidos com penas socioeducativas ou reclusão. O Fundo das Nações Unidas para a Infância (Unicef), que é contra a redução da maioria, fez um estudo comparativo sobre como adolescentes infratores são punidos em mais de 50 países.

<http://epoca.globo.com/tempo/...> - adaptado.

1) Sobre o texto, analisar os itens abaixo:

I - Segundo a PEC que reduz a maioria penal no Brasil, adolescentes de 16 e 17 anos poderão ser julgados como adultos em alguns casos.

II - Atualmente, jovens de 12 a 18 anos completos em conflito com a lei, segundo a Constituição, podem ser punidos com penas socioeducativas ou reclusão.

- a) Somente o item I está correto.
- b) Somente o item II está correto.
- c) Os itens I e II estão corretos.
- d) Os itens I e II estão incorretos.

2) A palavra sublinhada no fragmento "Acredito que a Internet seja uma ferramenta bem importante nesse processo, mas a ressalva é de que, sozinha, não faz todo o trabalho." NÃO encontra seu sinônimo em:

- a) Restrição.
- b) Exceção.
- c) Reserva.
- d) Inserção.

3) Assinalar a alternativa em que ambas as palavras estão redigidas CORRETAMENTE:

- a) Acessor - espionagem.
- b) Ultrassecreto - extremo.
- c) Pronunsiamento - revelações.
- d) Análize - imprensa.

4) Sobre o sinônimo da palavra sublinhada em "Só confiarei em um presidente novamente se ele mudar o país de verdade.", assinalar a alternativa CORRETA:

- a) Sozinho.
- b) Isoladamente.
- c) Somente.
- d) Solitário.

5) Em relação à acentuação, analisar os itens abaixo:

- I - Humanísta.
- II - Velhúsco.

- a) Os itens I e II estão corretos.
- b) Os itens I e II estão incorretos.
- c) Somente o item I está correto.
- d) Somente o item II está correto.

6) Ao pluralizar a palavra sublinhada em "A maior universidade federal do país ameaça fechar em setembro.", quantas outras palavras obrigatoriamente devem ser pluralizadas para fins de concordância?

- a) Duas.
- b) Três.
- c) Quatro.
- d) Cinco.

7) Assinalar a alternativa em que o sublinhado corresponda a um objeto direto:

- a) Para recuperar, precisa pagar à polícia a taxa de resgate.
- b) Nossas corridas eram todas superfaturadas para o diretor que pegava o táxi.
- c) Os sanguessugas pagam fiança e respondem em liberdade.
- d) Entre 15 e 17 anos, 1,6 milhão de jovens abandonam os estudos.

8) Acerca da concordância verbal, analisar a sentença abaixo:

O relatório do Movimento Todos pela Educação é desolador (1ª parte). O que mais choca, no entanto, é a miséria de nossa educação (2ª parte).

A sentença está:

- a) Correta somente em sua 1ª parte.
- b) Correta somente em sua 2ª parte.
- c) Totalmente correta.
- d) Totalmente incorreta.

9) Assinalar a alternativa em que a regência do termo sublinhado está INCORRETA:

- a) Queria escrever a uma obra que podia desembocar em leituras políticas.
- b) Tudo isso se cristalizou em uma obra da qual estou muito orgulhoso.
- c) É tão forte que consegue escrever um romance histórico sobre os horrores stalinistas pós-revolução.
- d) O romancista diz que a publicação de seus livros, que denunciam o autoritarismo, é um sinal de que Cuba está mudando, mas não é possível prever aonde chegará.

10) O emprego do acento indicativo de crase está INCORRETO em:

- a) À medida que a China tornava mais radical seu capitalismo de Estado, abria seu mercado para indústrias.
- b) É na história de cada um deles que descobrimos e começamos à decifrar a nova China.
- c) Eu acabava chegando à conclusão de que se tratava de uma coisa só e de que o contraste era um instável estado natural.
- d) Seu livro traz à memória vários personagens que habitavam suas reportagens.

MATEMÁTICA

11) A disciplina de matemática de determinada prova objetiva de certo concurso público possuía ao todo 20 questões. Sabendo-se que a diferença entre o valor maior e o valor menor das raízes da equação $x^2 - 5x - 36 = 0$ representa a quantidade de questões de matemática que Fernanda acertou, é CORRETO afirmar que Fernanda acertou ao todo:

- a) 9 questões de matemática.
- b) 10 questões de matemática.
- c) 12 questões de matemática.
- d) 13 questões de matemática.

12) Em relação à quantidade de contadores, auxiliares administrativos e tesoureiros que realizarão determinado processo seletivo, sabe-se que: o triplo do número de contadores mais o número de auxiliares administrativos mais o dobro do número de tesoureiros é igual a 82; o número de contadores mais o triplo de auxiliares administrativos mais o número de tesoureiros é igual a 80; e o dobro do número de contadores mais o dobro de auxiliares administrativos mais o número de tesoureiros é igual a 74. Com base nessas informações, quantos candidatos realizarão esse processo seletivo ao todo?

- a) 42
- b) 44
- c) 46
- d) 48

13) Analisar os itens abaixo:

- I - Uma dívida de R\$ 43.900,00 foi paga 48 meses depois de contraída e o montante pago foi de R\$ 359.980,00. Sabendo-se que o cálculo foi feito usando-se juros simples, a taxa de juros utilizada foi de 0,5% ao dia.
- II - Uma pessoa que investir, a juros compostos, a quantia de R\$ 8.000,00, à taxa de 4% ao mês, obterá, ao fim de um bimestre, R\$ 652,80 de juros.
- III - A taxa de juros simples de 36% ao ano é proporcional a 9% ao trimestre.

Estão CORRETOS:

- a) Somente os itens I e II.
- b) Somente os itens I e III.
- c) Somente os itens II e III.
- d) Todos os itens.

RASCUNHO

14) Determinado concurso público será realizado para os cargos de contador e de auxiliar administrativo. Dos 200 candidatos inscritos ao todo, 105 inscreveram-se para o cargo de contador e 128 inscreveram-se para o cargo de auxiliar administrativo. Sabendo-se que todos os candidatos inscreveram-se em pelo menos um dos cargos, a probabilidade de se escolher um desses candidatos ao acaso e ele ter se inscrito:

- a) Somente para o cargo de contador é de 52,5%.
- b) Somente para o cargo de auxiliar administrativo é de 54,7%.
- c) Para ambos os cargos é de 61,5%.
- d) Somente para o cargo de contador ou somente para o cargo de auxiliar administrativo é de 83,5%.

15) Dadas as matrizes $A = \begin{bmatrix} 2 & 5 & 6 \\ 1 & 6 & 7 \\ -1 & 2 & 3 \end{bmatrix}$ e $B = \begin{bmatrix} 2 & 0 & 3 \\ 5 & 7 & 9 \\ 3 & 5 & 1 \end{bmatrix}$,

marcar C para as afirmativas Certas, E para as Erradas e, após, assinalar a alternativa que apresenta a sequência CORRETA:

() $A \cdot B = \begin{bmatrix} 47 & 65 & 57 \\ 53 & 77 & 64 \\ 17 & 29 & 18 \end{bmatrix}$

() $A^2 + B = \begin{bmatrix} 6 & 25 & 39 \\ 6 & 43 & 58 \\ 4 & 9 & 10 \end{bmatrix}$

() $\det A - \det B = 70$

- a) C - E - C.
- b) C - C - C.
- c) C - E - E.
- d) E - C - E.

16) A prova objetiva para o cargo de assistente administrativo do concurso público do banco x foi realizada em seis escolas. O quadro abaixo apresenta a quantidade de candidatos ausentes em cada escola:

ESCOLA	QUANTIDADE DE CANDIDATOS AUSENTES
A	12
B	15
C	21
D	20
E	12
F	10

Com base nesse quadro, assinalar a alternativa que apresenta a média de candidatos ausentes por escola, a moda e a mediana, respectivamente:

- a) 15, 12 e 14,5.
- b) 16, 21 e 14,5.
- c) 15, 12 e 13,5.
- d) 16, 21 e 13,5.

17) Lucas está estudando para a prova de matemática de determinado concurso público. Em relação à quantidade de exercícios que ele resolve por dia, sabe-se que: no primeiro dia, ele resolveu 10 exercícios, no segundo, 17, e assim por diante, formando uma progressão aritmética. Com base nisso, quantos exercícios Lucas resolverá, ao todo, em 30 dias?

- a) 3.345
- b) 1.121
- c) 539
- d) 213

18) A diferença entre a quantidade de anagramas que podem ser formados com as letras da palavra EXECUTIVO e a quantidade de anagramas que podem ser formados com as letras da palavra MEMORANDO é igual a:

- a) 0
- b) 45.360
- c) 90.720
- d) 18.540

19) Em determinado dia de trabalho, três Auxiliares Administrativos arquivaram 1.324 processos ao todo. Sabendo-se que a quantidade de processos que cada Auxiliar arquivou é inversamente proporcional às suas idades, que são 28, 30 e 54 anos, respectivamente, assinalar a alternativa CORRETA:

- a) O Auxiliar Administrativo com 28 anos arquivou 542 processos.
- b) O Auxiliar Administrativo com 30 anos arquivou 504 processos.
- c) O Auxiliar Administrativo com 54 anos arquivou 282 processos.
- d) O Auxiliar Administrativo com 28 anos arquivou 544 processos.

20) Três cientistas – Lauro, Ricardo e Sávio – são pesquisadores, cada um de uma área diferente: química, matemática e biologia, mas não necessariamente nessa ordem. Além disso, cada um coleciona miniaturas de veículos diferentes, ou seja, um coleciona miniaturas de motos, outro coleciona miniaturas de carros e o outro coleciona miniaturas de aviões, mas não se sabe quem coleciona o quê. Sabe-se que:

- Sávio é pesquisador da área de biologia.
- O rapaz que é pesquisador da área de química coleciona miniaturas de motos.
- Lauro coleciona miniaturas de carros.

Com base nessas informações, analisar os itens abaixo:

- I - Lauro é pesquisador da área de matemática.
- II - Sávio coleciona miniaturas de aviões.

- a) Os itens I e II estão corretos.
- b) Somente o item I está correto.
- c) Somente o item II está correto.
- d) Os itens I e II estão incorretos.

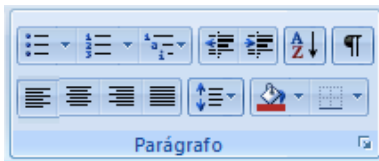
INFORMÁTICA





Atenção! Para responder às questões de Informática, a menos que seja explicitamente informado o contrário, considerar que os programas mencionados encontram-se na versão Português-BR e, em sua configuração padrão de instalação, possuem licença de uso, o mouse está configurado para destros, um clique ou duplo clique correspondem ao botão esquerdo do mouse e teclar corresponde à operação de pressionar uma tecla e, rapidamente, liberá-la, acionando-a apenas uma vez. Dessa forma, as teclas de atalho, os menus, os submenus, as barras, os ícones e os demais itens que compõem os programas abordados nesta prova encontram-se na configuração padrão, conforme exposto anteriormente.

21) Dentre os aplicativos e utilitários disponíveis no Windows 7 Professional, aquele que é utilizado para visualização de vídeos e player de músicas é o:

- a) Windows Paint.
- b) Windows Media Player.
- c) Bloco de notas.
- d) Desfragmentador de disco.

22) Considerando-se o Word 2013 e sua guia Página Inicial, a ferramenta, dentre as opções do Parágrafo, conforme imagem abaixo, que permite inserir borda superior ao texto selecionado é:



- a) 
- b) 
- c) 
- d) 

23) Em relação aos hardwares, analisar os itens abaixo:

- I - Placa de memória RAM, disco rígido, leitor de CD e DVD são exemplos de hardware.
- II - São a parte lógica do computador.

- a) Os itens I e II estão corretos.
- b) Somente o item II está correto.
- c) Somente o item I está correto.
- d) Os itens I e II estão incorretos.

24) Sobre segurança da informação, assinalar a alternativa que preenche as lacunas abaixo CORRETAMENTE:

A criptografia _____ é um método que utiliza um par de chaves: a chave _____, usada para cifrar mensagens, e a chave _____, usada para decifrar a mensagem.

- a) simétrica - privada - pública
- b) assimétrica - pública - privada
- c) simétrica - pública - privada
- d) assimétrica - privada - pública

25) Assinalar a alternativa que apresenta uma ferramenta em comum entre o Excel e o Word:

- a) Sublinhado.
- b) Conexões.
- c) Tabela dinâmica.
- d) Gerenciador de nomes.

LEGISLAÇÃO, CONHECIMENTOS GERAIS E ESPECÍFICOS

Atenção! Em todas as questões de legislação desta prova, serão consideradas as leis e suas alterações até a data do início das inscrições deste concurso.

Conhecimentos Gerais

26) Com base nos direitos humanos, assinalar a alternativa CORRETA:

- a) Toda pessoa tem direito de acesso, em condições de igualdade, às funções públicas do seu país.
- b) Todos os seres humanos nascem livres e iguais em dignidade e em direitos.
- c) Ninguém pode ser obrigado a fazer parte de uma associação.
- d) Todas as alternativas acima estão corretas.

Legislação e Conhecimentos Específicos

27) De acordo com a Constituição Federal, construir uma sociedade livre, justa e solidária constitui:

- a) Um dos objetivos fundamentais da República Federativa do Brasil.
- b) Um princípio internacional.
- c) Um dos poderes da União.
- d) Uma medida provisória.

28) Em conformidade com a Lei nº 8.429/92, trata-se de crimes contra os princípios da Administração Pública, EXCETO:

- a) Revelar fato ou circunstância de que tem ciência em razão das atribuições e que deva permanecer em segredo.
- b) Praticar ato visando a fim proibido em lei ou regulamento ou diverso daquele previsto, na regra de competência.
- c) Retardar ou deixar de praticar, indevidamente, ato de ofício.
- d) Liberar verba pública sem a estrita observância das normas pertinentes ou influir de qualquer forma para a sua aplicação irregular.

29) Conforme a Lei nº 12.527/11, a respeito das restrições do acesso à informação:

- I - Não poderá ser negado acesso à informação necessária à tutela judicial ou administrativa de direitos fundamentais.
- II - As informações ou documentos que versem sobre condutas que impliquem violação dos direitos humanos praticada por agentes públicos ou a mando de autoridades públicas serão objeto de restrição de acesso.
- III - O disposto nesta Lei não exclui as demais hipóteses legais de sigilo e de segredo de justiça nem as hipóteses de segredo industrial decorrentes da exploração direta de atividade econômica pelo Estado ou por pessoa física ou entidade privada que tenha qualquer vínculo com o Poder Público.

Estão CORRETOS:

- a) Somente os itens II e III.
- b) Somente os itens I e II.
- c) Somente os itens I e III.
- d) Todos os itens.

30) Segundo a Lei nº 11.107/05, o contrato de consórcio público:

- a) Será celebrado com a ratificação, mediante lei, do protocolo de intenções.
- b) Será obrigatoriamente celebrado por uma parcela dos entes do Município que não subscreveram o protocolo de intenções.
- c) A ratificação realizada após cinco anos da subscrição do protocolo de intenções dependerá de homologação da assembleia geral do consórcio privado.
- d) A ratificação obrigatoriamente será realizada sem reserva que, aceita pelos demais entes subscritores, implicará consorciamento total.

31) Segundo o Decreto nº 6.017/07, observados os limites constitucionais e legais, os objetivos dos consórcios públicos serão determinados pelos entes que se consorciarem, admitindo-se, entre outros, os seguintes:

- I - A gestão associada de serviços públicos.
- II - A prestação de serviços, inclusive de assistência técnica, a execução de obras e o fornecimento de bens à Administração Direta ou Indireta dos entes consorciados.
- III - O compartilhamento ou o uso em comum de instrumentos e equipamentos, inclusive de gestão, de manutenção, de informática, de pessoal técnico e de procedimentos de licitação e de admissão de pessoal.

Está(ão) CORRETO(S):

- a) Somente o item I.
- b) Somente o item II.
- c) Somente o item III.
- d) Todos os itens.

32) Segundo o Estatuto do Consórcio Intermunicipal de Serviços do Vale do Rio Pardo/Cisvale, compete ao Presidente do Conselho de Administração:

- a) Desenvolver ações de alfabetização de jovens e adultos.
- b) Elaborar e executar plano anual de *marketing* institucional.
- c) Assessorar o tesoureiro a exercer as funções que lhe forem delegadas.
- d) Convocar e presidir as reuniões de Assembleia Geral e do Conselho de Administração.

33) Assinalar a alternativa que preenche as lacunas abaixo CORRETAMENTE:

As contas _____ são as que representam os elementos componentes do patrimônio, e as contas _____ são as que representam as variações patrimoniais.

- a) ativas - mistas
- b) patrimoniais - de resultado
- c) ativas - passivas
- d) de resultado - patrimoniais

34) Segundo DI PIETRO, assinalar a alternativa que preenche a lacuna abaixo CORRETAMENTE:

_____ é toda a atividade que a Administração Pública executa, direta ou indiretamente, para satisfazer à necessidade coletiva, sob regime jurídico predominantemente público.

- a) Serviço público
- b) Intervenção
- c) Função política
- d) Poder de Polícia

35) Em conformidade com KASPARY, o vocábulo latino *Sic* quer dizer:

- a) Basta, é suficiente.
- b) Veja, vê.
- c) Assim, assim mesmo, exatamente.
- d) O bastante, quanto baste.

36) Segundo KASPARY, assinalar a alternativa que apresenta a forma de tratamento que deve ser utilizada para Prefeitos Municipais:

- a) Vossa Reverência.
- b) Vossa Excelência.
- c) Vossa Senhoria.
- d) Vossa Magnificência.

37) Segundo KASPARY, é o documento em que se registram, de forma exata e metódica, as ocorrências, resoluções e decisões de assembleias, reuniões ou sessões realizadas por comissões, conselhos, congregações, corporações ou outras entidades semelhantes:

- a) Atestado.
- b) Alvará.
- c) Apostila.
- d) Ata.

38) Em conformidade com MEDEIROS, marcar C para as afirmativas Certas, E para as Erradas e, após, assinalar a alternativa que apresenta a sequência CORRETA:

- () Arquivo inativo é aquele que armazena documentos de frequência de uso, consulta ou referência quase nulas.
- () Arquivo ativo é o que mantém arquivados os documentos e papéis de uso, consulta e referência constantes e atuais, ou que se encontram em fase de conclusão.

- a) C - C.
- b) E - E.
- c) E - C.
- d) C - E.

39) No que diz respeito ao atendimento ao público, marcar C para as afirmativas Certas, E para as Erradas e, após, assinalar a alternativa que apresenta a sequência CORRETA:

- () Deve-se pronunciar claramente as palavras, usando tons amistosos, sem denotar, porém, intimidade.
- () É recomendável ser discreto, simpático e calmo sempre.

- a) C - C.
- b) E - C.
- c) C - E.
- d) E - E.

40) Sobre o ambiente de trabalho, analisar os itens abaixo:

I - Cuidar do alinhamento dos móveis, da sua disposição, guardar papéis em caixas ou pacotes etc. não são cuidados essenciais.

II - É aconselhável manter uma agenda para anotar os compromissos.

- a) Somente o item I está correto.
- b) Somente o item II está correto.
- c) Os itens I e II estão corretos.
- d) Os itens I e II estão incorretos.