

AGENTE ADMINISTRATIVO AUXILIAR

Sequencial (número que
consta do cartão de respostas)

Este caderno de questões está assim constituído:

DISCIPLINAS	Nº QUESTÕES
Português	10
Matemática	10
Informática	05
Legislação, Conhecimentos Gerais e Específicos	15
Total de questões	40

INSTRUÇÕES:

- Confira devidamente o material (CARTÃO DE RESPOSTAS, CANHOTO DE IDENTIFICAÇÃO e CADERNO DE QUESTÕES); se houver falha, solicite a presença do fiscal.
- Durante a prova, não é permitida a comunicação entre candidatos nem a utilização de máquina calculadora e/ou similares, livros, anotações, réguas de cálculo, impressos ou qualquer outro material de consulta.
- O CARTÃO DE RESPOSTAS deverá ser preenchido a caneta esferográfica, azul ou preta, ponta grossa, sem rasuras e apenas uma **ÚNICA** opção poderá ser assinalada. Não amasse nem dobre o CARTÃO DE RESPOSTAS; evite usar borracha.
- Se o CARTÃO DE RESPOSTAS contiver maior número de alternativas e/ou de questões, preencha apenas as correspondentes à sua prova, as demais ficam em branco. É vedada a substituição do CARTÃO DE RESPOSTAS decorrente de erro cometido por candidato. **NÃO RASURE!**
- O CARTÃO DE RESPOSTAS deverá conter somente o número aleatório, não podendo ser identificado com o nome ou número de inscrição do candidato, cabendo ao mesmo rigoroso cuidado, sob pena de nulidade de sua prova. Preencha seus dados apenas nos locais indicados no CANHOTO DE IDENTIFICAÇÃO.
- **Neste momento, PREENCHA seus dados no canhoto de identificação constante do CARTÃO DE RESPOSTAS e PREENCHA no local indicado neste CADERNO DE QUESTÕES o número Sequencial da prova constante do cartão de respostas.**
- As provas que não estiverem identificadas corretamente no canhoto próprio serão consideradas NULAS.
- O tempo de duração da prova será de **até 3 horas**. O candidato somente poderá retirar-se definitivamente do recinto de realização da prova após uma hora contada do seu efetivo início, podendo levar consigo o caderno de provas.
- Ao final dos trabalhos, **DEVOLVA** ao Fiscal da sala o CARTÃO DE RESPOSTAS devidamente preenchido.
- Os três últimos candidatos de cada sala de prova deverão permanecer no recinto, a fim de acompanhar os fiscais até a coordenação para o lacre dos envelopes, quando, então, poderão retirar-se do local simultaneamente, após concluído.
- Direitos autorais reservados à Objetiva Concursos Ltda. Proibida a reprodução, ainda que parcial, sem autorização prévia.

PORTUGUÊS

Em um movimento de aproximar a produção agrícola das cidades, as hortas urbanas vêm ganhando espaço. São pequenos grupos de vizinhos que se reúnem e passam a plantar e administrar hortas comunitárias. Inspirado por essa tendência, o estudante de arquitetura e urbanismo Deloan Perini desenvolveu o projeto de um sistema de agricultura urbana totalmente autossustentável, a partir da realidade da cidade de Erechim, no interior do Rio Grande do Sul. Com o trabalho, o catarinense de 27 anos conquistou o 1º lugar da categoria Ensino Superior do Prêmio Jovem Cientista 2015.

“A ideia para o projeto de agricultura urbana surgiu no início de 2013, quando fiz um estudo de loteamento da cidade, em uma das disciplinas do curso de arquitetura. No segundo semestre do mesmo ano, o projeto de extensão ‘Erechim para quem quiser ver, discutir e intervir’, do qual fiz parte, realizou um levantamento dos vazios urbanos existentes na área central do Município. No ano seguinte, iniciei meu trabalho final de graduação e utilizei esse levantamento como base para a implantação da agricultura urbana”, diz Deloan. Foram mapeados 144 lotes com potencial de transformação em hortas urbanas. A partir desse diagnóstico, ele desenvolveu um modelo de agricultura de acordo com as necessidades do Município, onde cursa a graduação na Universidade Federal da Fronteira Sul (UFFS).

Para Deloan, o projeto enfoca dois problemas atuais: a segurança alimentar e a qualidade dos espaços urbanos. “As pessoas preocupam-se cada vez mais com a saúde, e a alimentação contribui diretamente para a qualidade de vida. Embora muita gente não se dê conta, o espaço em que vivemos e interagimos dentro da cidade interfere constantemente na formação de nossa rotina e hábitos: por exemplo, no fato de conhecermos ou não nossos vizinhos, praticarmos ou não atividades físicas ao ar livre e até mesmo na nossa alimentação”, diz. De acordo com o estudante, ao aproximar as áreas de produção de alimentos dos consumidores finais, os custos com transporte são reduzidos, qualidade e durabilidade dos produtos aumentam e a relação das pessoas com o alimento se transforma, pois moradores passam a ser também produtores.

<http://epoca.globo.com/vida/noticia/2015/08/agricultura...> - adaptado.

1) Quanto ao texto, analisar os itens abaixo:

- I - Hortas urbanas geralmente caracterizam-se como comunitárias, pois são grupos de vizinhos que se reúnem e passam a cultivar e administrá-las.
- II - A ideia do projeto de agricultura urbana de Perini surgiu a partir de um estudo de loteamento da cidade de Erechim, o qual ele mesmo fez.
- III - O projeto de Perini foi premiado em 1º lugar na categoria Ensino Superior do Prêmio Jovem Cientista.

Está(ão) CORRETO(S):

- a) Somente os itens I e II.
- b) Somente os itens II e III.
- c) Somente os itens I e III.
- d) Todos os itens.

2) Acerca do texto, marcar C para as afirmativas Certas, E para as Erradas e, após, assinalar a alternativa que apresenta a sequência CORRETA:

- () O Projeto, segundo Perini, centra-se em dois problemas atuais: a segurança alimentar e a qualidade dos espaços urbanos.
- () Segundo Perini, a partir do cultivo de uma horta comunitária, os custos com o transporte dos alimentos são reduzidos.

- a) C - C.
- b) C - E.
- c) E - C.
- d) E - E.

3) O sublinhado em “Eu me interesso pela enorme capacidade da história de explicar o presente.” classifica-se sintaticamente como:

- a) Objeto indireto.
- b) Objeto direto.
- c) Predicativo do sujeito.
- d) Predicativo do objeto.

4) Em “Segundo o jornal *The New York Times*, pelo menos uma dúzia de Estados deve entrar na Justiça contra as medidas.”, o termo sublinhado classifica-se morfológicamente como:

- a) Adjetivo.
- b) Conjunção.
- c) Numeral.
- d) Substantivo.

5) Sobre a concordância verbal, assinalar a alternativa INCORRETA:

- a) Em um discurso forte feito na Casa Branca, o presidente americano tentou contornar as críticas.
- b) Os anúncios de Obama colocam os Estados Unidos em uma posição de destaque para a Conferência do Clima, em Paris, no final de 2015.
- c) Os países negociarão um novo acordo contra as mudanças climáticas.
- d) O presidente americano citou presidentes Republicanos que aprovou leis contra a poluição.

6) A palavra “amigaço” está no:

- a) Plural.
- b) Radical.
- c) Aumentativo.
- d) Diminutivo.

7) Todos os termos estão INCORRETAMENTE acentuados em:

- a) Romãnce - episódios - histórico.
- b) Ensaísta - jornalista - romancísta.
- c) Contraditório - literário - libertino.
- d) Judáico - orgulhósons - prêmiações.

8) O sufixo sublinhado em “isoladamente” forma palavras de que classe gramatical?

- a) Adjetivos.
- b) Advérbios.
- c) Conjunções.
- d) Interjeições.

9) Quanto à ortografia, marcar C para as palavras Certas, E para as Erradas e, após, assinalar a alternativa que apresenta a sequência CORRETA:

- () Recessivo.
- () Recindir.
- () Rescisão.

- a) C - E - C.
- b) E - E - E.
- c) E - C - E.
- d) C - C - C.

10) Analisar os itens abaixo quanto à pontuação:

I - Até o momento, a média da temperatura já aumentou 0,8°C por conta do aquecimento global.

II - Ele disse que as críticas são apenas desculpas para não agir, que não fazem sentido sequer do ponto de vista econômico.

- a) Somente o item I está correto.
- b) Somente o item II está correto.
- c) Os itens I e II estão corretos.
- d) Os itens I e II estão incorretos.

MATEMÁTICA

11) Marcar C para as afirmativas Certas, E para as Erradas e, após, assinalar a alternativa que apresenta a sequência CORRETA:

- () A adição entre dois números reais quaisquer sempre resulta em um número real positivo.
- () O produto entre dois números reais negativos resulta em um número real negativo.
- () O quadrado de um número real negativo resulta em um número real positivo.

- a) E - E - E.
- b) C - E - C.
- c) E - E - C.
- d) C - C - E.

12) O número de alunos de determinada escola é obtido pelo resultado do produto das raízes da equação abaixo:

$$x^2 - 77x + 1393 = -47$$

Com base nisso, quantos alunos estudam nessa escola?

- a) 1.440
- b) 1.820
- c) 2.140
- d) 2.360

13) Em um hospital, a cada 5 minutos, chegam 4 pacientes e saem 2. Se um técnico em enfermagem precisasse fazer uma estimativa, em quanto tempo esse hospital atingiria a marca de 300 pacientes?

- a) 12 horas e 50 minutos.
- b) 12 horas e 30 minutos.
- c) 12 horas e 15 minutos.
- d) 12 horas e 5 minutos.

RASCUNHO

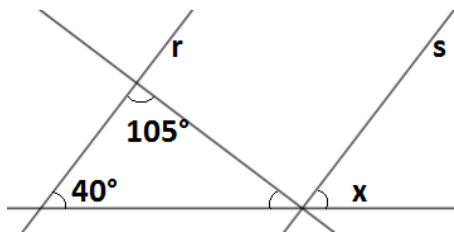
14) Vanessa precisa atingir 6 pontos de média em duas provas para passar de ano. Se Vanessa tirou 7,8 na primeira prova, é CORRETO afirmar que a nota mínima que ela precisa tirar na segunda prova para ser aprovada é:

- a) 5,8
- b) 5,2
- c) 4,8
- d) 4,2

15) Um acionista investe R\$ 8.000,00 em um título. Sabe-se que, em 10 meses, ele terá rendido R\$ 1.200,00 de juros sob regime de juros simples. Com base nessas informações, assinalar a alternativa que apresenta a taxa de juros correspondente a essa situação:

- a) 0,5%
- b) 1%
- c) 1,5%
- d) 2%

16) Sabendo-se que as retas r e s são paralelas, assinalar a alternativa que apresenta o valor de x :



- a) 40°
- b) 35°
- c) 30°
- d) 25°

17) Dado o sistema linear abaixo, assinalar a alternativa que apresenta o resultado da operação $x + y$:

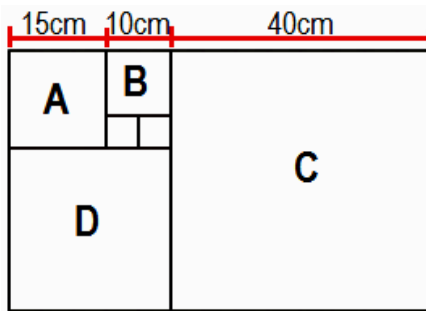
$$\begin{cases} x + 3y = -5 \\ 4x + 2y = 0 \end{cases}$$

- a) -2
- b) -1
- c) 1
- d) 2

18) Dada a inequação $12x - 7 > 5 + 11x$, é CORRETO afirmar que o conjunto solução é:

- a) $x > 12$
- b) $x \geq 12$
- c) $x \geq 11$
- d) $x < 11$

19) Sabendo-se que a imagem abaixo é formada por vários quadrados, analisar os itens que seguem:



- I - A soma das áreas das figuras A e C é igual a 1.825cm^2 .
 II - A área da figura D é igual a 625cm^2 .
 III - O perímetro total da imagem é igual a 210cm.

Está(ão) CORRETO(S):

- a) Somente o item III.
- b) Somente os itens I e II.
- c) Somente os itens I e III.
- d) Todos os itens.

20) Analisar a sequência lógica abaixo:

I N Z Q I R I N Z Q

Segundo-se o mesmo critério de formação, assinalar a alternativa que apresenta a 9ª figura dessa sequência:

- a) **I N**
- b) **Z Z**
- c) **Q**
- d) **I R**

INFORMÁTICA

Atenção! Para responder às questões de Informática, a menos que seja explicitamente informado o contrário, considerar que os programas mencionados encontram-se na versão Português-BR e, em sua configuração padrão de instalação, possuem licença de uso, o mouse está configurado para destros, um clique ou duplo clique correspondem ao botão esquerdo do mouse e teclar corresponde à operação de pressionar uma tecla e, rapidamente, liberá-la, acionando-a apenas uma vez. Dessa forma, as teclas de atalho, os menus, os submenus, as barras, os ícones e os demais itens que compõem os programas abordados nesta prova encontram-se na configuração padrão, conforme exposto anteriormente.

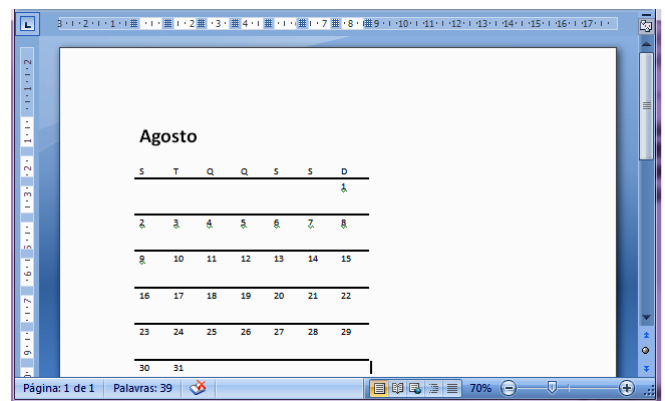
21) No PowerPoint 2007, é possível adicionar uma ação ao objeto selecionado para especificar o que deve acontecer quando o usuário clicar nele ou passar o mouse sobre ele. Esse recurso encontra-se na guia:

- a) Exibição.
- b) Inserir.
- c) Animações.
- d) Apresentação de Slides.

22) Segundo a Cartilha de Segurança para Internet, para saber se um certificado digital é confiável, é necessário observar alguns requisitos. Em relação a esses requisitos, assinalar a alternativa INCORRETA:

- a) Se o certificado foi emitido por uma Autoridade Certificadora confiável (pertence a uma cadeia de confiança reconhecida).
- b) Se o dono do certificado confere com a entidade com a qual está se comunicando (por exemplo: o nome do site).
- c) Se o certificado está fora do prazo de validade.
- d) Se o certificado não foi revogado pela Autoridade Certificadora emissora.

23) No mês de agosto, um usuário fez no Word 2007 um calendário com o nome do mês de forma grande e separadores de semana grossos, conforme a figura abaixo:



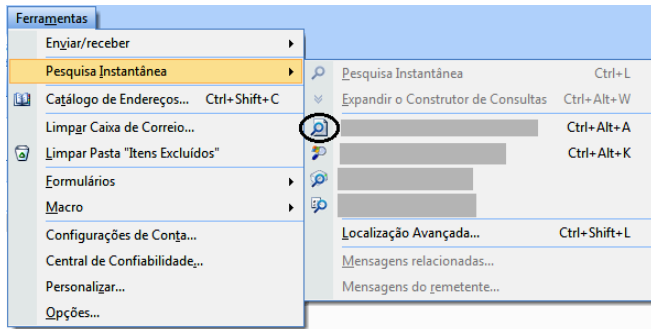
Sabendo-se que esse usuário conseguiu esse efeito rapidamente, assinalar a alternativa que apresenta o recurso utilizado por ele:

- a) Formas
- b) SmartArt
- c) Temas
- d) Tabelas Rápidas

24) No Excel 2007, para formatar rapidamente um intervalo de células e convertê-lo em tabela, escolhendo um estilo de tabela predefinido por meio da função Formatar como Tabela, o usuário precisa ir na guia:

- a) Exibição.
- b) Inserir.
- c) Início.
- d) Dados.

25) No Outlook 2007, o botão circulado na imagem abaixo é denominado:



- a) Status de Indexação.
- b) Opções de Pesquisa.
- c) Pesquisar Área de Trabalho.
- d) Pesquisar Todos os Itens de E-mail.

LEGISLAÇÃO, CONHECIMENTOS GERAIS E ESPECÍFICOS

Atenção! Em todas as questões de legislação desta prova, serão consideradas as leis e suas alterações até a data do início das inscrições deste concurso.

Conhecimentos Gerais

26) Impactos ambientais são as consequências negativas geradas ao meio ambiente, originárias de ações humanas. Essas ações podem provocar diversos tipos de degradação ambiental no solo, na água e na vegetação. São algumas atividades geradoras de impactos ambientais:

- I - Industrialização e urbanização.
- II - Agropecuária.
- III - Extração de petróleo.

Está(ão) CORRETO(S):

- a) Somente o item I.
- b) Somente os itens I e II.
- c) Somente os itens II e III.
- d) Todos os itens.

Legislação e Conhecimentos Específicos

27) Em conformidade com a Constituição Federal, sobre os direitos e garantias fundamentais, assinalar a alternativa CORRETA:

- a) Ninguém será submetido à tortura nem a tratamento desumano ou degradante, salvo em flagrante delito.
- b) São invioláveis a intimidade, a vida privada, a honra e a imagem das pessoas, assegurado o direito à indenização pelo dano material ou moral decorrente de sua violação.
- c) É proibida a prestação de assistência religiosa nas entidades civis e militares de internação coletiva.
- d) É livre a expressão da atividade intelectual, artística, científica e de comunicação, respeitando a censura.

28) Segundo a Lei Orgânica do Município, a Administração Pública do Município observará os princípios da:

- I - Legalidade, impessoalidade e moralidade.
- II - Publicidade, economicidade e razoabilidade.
- III - Eficiência, legitimidade e participação popular.

Está(ão) CORRETO(S):

- a) Somente o item III.
- b) Somente os itens I e II.
- c) Somente os itens II e III.
- d) Todos os itens.

29) Em conformidade com a Lei Municipal nº 928/91, assinalar a alternativa que apresenta uma informação INCORRETA sobre a remoção:

- a) A remoção somente poderá ocorrer a pedido, atendida a conveniência do serviço.
- b) É o deslocamento do servidor de uma para outra repartição.
- c) A remoção será feita por ato da autoridade competente.
- d) A remoção por permuta será precedida de requerimento firmado por ambos os interessados.

30) Em conformidade com a Lei nº 8.429/92, analisar os itens abaixo:

- I - As disposições desta Lei são aplicáveis, no que couber, àquele que, mesmo não sendo agente público, induza ou concorra para a prática do ato de improbidade ou dele se beneficie sob qualquer forma direta ou indireta.
II - Os agentes públicos de qualquer nível ou hierarquia não são obrigados a velar pela estrita observância dos princípios de legalidade, impessoalidade, moralidade e publicidade no trato dos assuntos que lhe são afetos.

- a) Somente o item I está correto.
b) Os itens I e II estão corretos.
c) Somente o item II está correto.
d) Os itens I e II estão incorretos.

31) De acordo com a Lei nº 8.666/93, são modalidades de licitação, EXCETO:

- a) Leilão.
b) Pregão eletrônico.
c) Convite.
d) Concurso.

32) Em conformidade com a Lei nº 12.527/11, os procedimentos previstos nesta Lei destinam-se a assegurar o direito fundamental de acesso à informação e devem ser executados em conformidade com os princípios básicos da administração pública e com as seguintes diretrizes:

- I - Divulgação de informações de interesse público, independentemente de solicitações.
II - Extinção do controle social da Administração Pública.
III - Utilização de meios de comunicação viabilizados pela tecnologia da informação.

Está(ão) CORRETO(S):

- a) Somente o item III.
b) Somente os itens I e II.
c) Somente os itens I e III.
d) Todos os itens.

33) De acordo com ALEXANDRINO e PAULO, assinalar a alternativa que preenche a lacuna abaixo CORRETAMENTE:

Administração Pública em sentido _____ abrange os órgãos de governo, que exercem função política, e também os órgãos e pessoas jurídicas que exercem função meramente administrativa.

- a) amplo
b) reduzido
c) estrito
d) rígido

34) Segundo DI PIETRO, analisar a sentença abaixo:

Pelo critério subjetivo, orgânico ou formal, ato administrativo é o que ditam os órgãos administrativos; ficam excluídos os atos provenientes dos órgãos legislativo e judicial, ainda que tenham a mesma natureza daqueles; e ficam incluídos todos os atos da Administração, pelo só fato de serem emanados de órgãos administrativos, como os atos normativos do Executivo, os atos materiais, os atos enunciativos, os contratos (1ª parte). Pelo critério objetivo, funcional ou material, ato administrativo é somente aquele praticado no exercício concreto da função administrativa, seja ele editado pelos órgãos administrativos ou pelos órgãos judiciais e legislativos (2ª parte).

A sentença está:

- a) Correta somente em sua 1ª parte.
b) Correta somente em sua 2ª parte.
c) Totalmente correta.
d) Totalmente incorreta.

35) De acordo com o Manual de Redação da Presidência da República, as vogais na Língua Portuguesa admitem certa variedade de pronúncia, dependendo de sua intensidade. Com essa variação na pronúncia, nem sempre a memória, baseada na audição, retém a forma correta da grafia. Com base nisso, assinalar a alternativa em que a palavra está escrita CORRETAMENTE:

- a) Cedilha.
b) Discrissão.
c) Imbutir.
d) Dispender.

36) Conforme o Manual de Redação da Presidência da República, há três tipos de expedientes que se diferenciam antes pela finalidade do que pela forma:

- a) Ofício, memorando e parecer.
b) Aviso, memorando e mensagem.
c) Parecer, ofício e mensagem.
d) Aviso, ofício e memorando.

37) Em relação à forma de diagramação recomendada pelo Manual de Redação da Presidência da República, marcar C para as afirmativas Certas, E para as Erradas e, após, assinalar a alternativa que apresenta a sequência CORRETA:

- () Deve ser utilizada a fonte do tipo Arial de corpo 12.
() É obrigatório constar a partir da segunda página o número da página.
() Deve ser utilizado, preferencialmente, o formato de arquivo Rich Text nos documentos de texto.

- a) E - C - C.
b) C - E - E.
c) E - C - E.
d) C - E - C.

38) Em relação às qualidades da redação oficial, segundo KASPARY, assinalar a alternativa que preenche a lacuna abaixo CORRETAMENTE:

A _____ consiste em apresentar exatamente as ideias que se pretende comunicar, com aquelas palavras e expressões necessárias ao seu perfeito entendimento.

- a) correção
- b) concisão
- c) polidez
- d) formalidade

39) Em relação aos riscos ambientais no trabalho, numerar a 2ª coluna de acordo com a 1ª e, após, assinalar a alternativa que apresenta a sequência CORRETA:

- (1) Riscos de acidentes.
- (2) Riscos físicos.
- (3) Riscos químicos.

- () São identificados pelo grande número de substâncias que podem contaminar o ambiente de trabalho e provocar danos à integridade física e mental dos trabalhadores, a exemplo de poeiras, fumos, névoas, neblinas, gases, vapores, substâncias, compostos ou outros produtos químicos.
- () Estão ligados à execução de tarefas, à organização e às relações de trabalho, ao esforço físico intenso, levantamento e transporte manual de peso, mobiliário inadequado, posturas incorretas, controle rígido de tempo para produtividade, imposição de ritmos excessivos, trabalho em turnos e noturno, jornadas de trabalho prolongadas, monotonia, repetitividade e situações causadoras de estresse.
- () São representados por fatores ou agentes existentes no ambiente de trabalho, que podem afetar a saúde dos trabalhadores, como: ruídos, vibrações, radiações, frio, calor, pressões anormais e umidade.

- a) 1 - 2 - 3.
- b) 3 - 2 - 1.
- c) 2 - 3 - 1.
- d) 3 - 1 - 2.

40) Em relação aos objetivos da higiene do trabalho, marcar C para as afirmativas Certas, E para as Erradas e, após, assinalar a alternativa que apresenta a sequência CORRETA:

- () Eliminação das causas das doenças profissionais.
- () Prevenção de agravamento de doenças e de lesões.
- () Mais segurança no ambiente profissional.

- a) E - C - E.
- b) C - E - E.
- c) C - C - C.
- d) E - E - C.