



OBJETIVA CONCURSOS LTDA.
Fone/Fax: (51) 3335.3370
Site: www.objetivas.com.br

Código: 379

AGENTE ADMINISTRATIVO

Escreva seu nome e número de inscrição de forma legível nos locais indicados:

Nome do(a) Candidato(a)

Nº de inscrição

Este caderno de questões está assim constituído:

DISCIPLINAS	Nº QUESTÕES
Português	10
Matemática	10
Informática	05
Legislação	05
Conhecimentos Específicos	10
Total de questões	40

INSTRUÇÕES:

- Confira devidamente o material (CARTÃO DE RESPOSTAS e CADERNO DE QUESTÕES); se houver falha, solicite a presença do fiscal.
- Confira seus dados no CARTÃO DE RESPOSTAS: NOME, Nº da INSCRIÇÃO e CARGO. ASSINE no espaço indicado na frente do cartão.
- O CARTÃO DE RESPOSTAS deverá ser preenchido a caneta esferográfica, azul ou preta, ponta grossa, sem rasuras e apenas uma **ÚNICA** alternativa poderá ser marcada em cada questão.
- Não amasse nem dobre o CARTÃO DE RESPOSTAS; evite usar borracha. É vedada a substituição do CARTÃO DE RESPOSTAS decorrente de erro cometido por candidato.
- Durante a prova, não é permitida a comunicação entre candidatos nem a utilização de máquina calculadora e/ou similares, livros, anotações, réguas de cálculo, impressos ou qualquer outro material de consulta.
- Se o CARTÃO DE RESPOSTAS contiver maior número de alternativas e de questões, preencha apenas as correspondentes à sua prova; as demais ficam em branco.
- O tempo de duração da prova será de **até 3 horas**. O candidato somente poderá retirar-se definitivamente do recinto de realização da prova após uma hora contada do seu efetivo início, podendo levar o seu caderno de provas.
- Ao final dos trabalhos, **DEVOLVA** ao Fiscal da sala o CARTÃO DE RESPOSTAS devidamente preenchido e assinado.
- Os três últimos candidatos de cada sala de prova deverão permanecer no recinto, a fim de acompanhar os fiscais até a coordenação para o lacre dos envelopes, quando, então, poderão retirar-se do local, simultaneamente, após concluído.
- Direitos autorais reservados à Objetiva Concursos Ltda. Proibida a reprodução, ainda que parcial, sem autorização prévia.

PORTUGUÊS

Como qualquer obra de ficção científica, o filme "Interestelar" pode despertar três tipos de sentimento, todos eles embalados pelos estonteantes efeitos visuais que lhe renderam o Oscar do ano nessa categoria. Os aficionados do gênero provavelmente ficarão encantados com as extrapolações de nossa realidade, representadas pela viagem intergaláctica, travessia de um buraco de minhoca para outra dimensão e navegação na borda de um buraco negro. Os não aficionados que desconhecem a ciência que está por trás do filme poderão considerá-lo um "filme muito mentiroso".

O terceiro sentimento, geralmente de quem conhece a ciência que motivou o filme, é o de tentar analisar a correspondência entre a ficção roteirizada no filme e os conceitos científicos que a norteiam. E, nesse sentido, "Interestelar" é um exemplo notável. Nem poderia ser diferente. O filme teve a consultoria científica do renomado físico-teórico Kip Thorne, o que faz da obra de Christopher Nolan uma bela oportunidade para discutir diversos aspectos das teorias da relatividade, restrita e geral. Existem exageros no roteiro que alguns poderão classificar como erros científicos, mas são necessários para dar ritmo e graça à narrativa.

É bom lembrar, por exemplo, que o efeito estilingue na ergosfera (região mais exterior) do buraco negro mostrado no filme, e que alguns podem considerar um exagero, foi sugerido por Roger Penrose, renomado físico-matemático britânico e colaborador do também físico britânico Stephen Hawking, um dos mais famosos cientistas da atualidade.

Se, ao entrar na ergosfera de um buraco negro em rotação (caso do Gargantua, de "Interestelar"), um objeto for dividido em dois, uma parte poderá ser sugada pelo buraco negro e a outra será ejetada para fora com energia maior do que a que entrou.

[http://cienciahoje.uol.com.br/colunas/...](http://cienciahoje.uol.com.br/colunas/) - adaptado.

1) Em relação ao texto, numerar a 2ª coluna de acordo com a 1ª e, após, assinalar a alternativa que apresenta a sequência CORRETA:

- (1) Aficionados do gênero.
- (2) Não aficionados do gênero que desconhecem a ciência por trás do filme.
- (3) Conhecedores da ciência que motivou o filme.

- () Podem tentar analisar a correspondência entre a ficção e os conceitos científicos.
() Poderão considerar o filme muito mentiroso.
() Ficarão encantados.

- a) 1 - 2 - 3.
- b) 3 - 1 - 2.
- c) 3 - 2 - 1.
- d) 2 - 3 - 1.

2) De acordo com o texto, marcar C para as afirmativas Certas, E para as Erradas e, após, assinalar a alternativa que apresenta a sequência CORRETA:

- () O físico e teórico Kip Thorne foi consultor científico do filme.
() Roger Penrose, físico-matemático, sugeriu o efeito estilingue na ergosfera.
() Stephen Hawking é um dos mais famosos cientistas da atualidade.

- a) C - C - C.
- b) E - E - E.
- c) C - E - C.
- d) E - C - E.

3) Quanto à charge abaixo, analisar os itens que seguem:



<https://www.google.com.br/search?q=charge+de+semantica>

- I - É uma referência ao casamento homoafetivo atual, embora ainda não aceito pela Igreja.
- II - É uma crítica ao uso intenso e até mesmo exagerado que se faz das redes sociais atualmente.

- a) Somente o item I está correto.
- b) Somente o item II está correto.
- c) Os itens I e II estão corretos.
- d) Os itens I e II estão incorretos.

4) Quanto ao emprego do acento indicativo de crase, analisar a sentença abaixo:

Talvez isso seja uma referência à improbabilidade mencionada (1ª parte). É a realidade e a ficção andando lado a lado (2ª parte).

A sentença está:

- a) Totalmente correta.
- b) Correta somente em sua 1ª parte.
- c) Correta somente em sua 2ª parte.
- d) Totalmente incorreta.

5) Em relação à pontuação, assinalar a alternativa INCORRETA:

- a) Ainda em fase de formação, a área de baixa pressão que pode se transformar no ciclone Cari tem causado chuvas fortes em alguns pontos das regiões Sul e Sudeste desde o fim de semana.
- b) Como está concentrado sobre o Atlântico, não deve chegar com intensidade ao continente, e a expectativa é que já tenha se afastado do Brasil na sexta-feira.
- c) Algumas cidades podem ter pontos de alagamento e registro de ventos intensos, além de mar agitado, principalmente, na quarta-feira.
- d) Até lá, porém, o instituto informa que há, previsão de pancadas de chuva acompanhadas de descargas elétricas e rajadas de vento, concentradas em parte do Centro-Oeste e Sudeste do país.

6) Sobre a colocação pronominal, analisar os itens abaixo:

- I - As prefeituras aprenderam que precisam se mobilizar e ficar alertas para minimizar os estragos que poderão ocorrer.
- II - Antes, porém, é possível que essa formação cresça para se transformar em um ciclone subtropical.
- III - Mas não deve ser algo muito intenso, e o ciclone logo afasta-se.

Está(ão) CORRETO(S):

- a) Somente o item II.
- b) Somente os itens I e II.
- c) Somente os itens I e III.
- d) Todos os itens.

7) Quanto à concordância, analisar a sentença abaixo:

Quase escondida entre os morros do Vale do Taquari, Poço das Antas, de 2 mil habitantes, tornou-se gigante ao conquistar neste ano o primeiro lugar no ranking das cidades gaúchas com menor déficit de vagas na Educação Infantil (1ª parte). Pelo levantamento anual do Tribunal de Contas do Estado, a cidade de Poço das Antas ultrapassou os 100% de atendimento de crianças com idades entre zero e cinco anos (2ª parte).

A sentença está:

- a) Totalmente correta.
- b) Totalmente incorreta.
- c) Correta somente em sua 1ª parte.
- d) Correta somente em sua 2ª parte.

8) Assinalar a alternativa em que a regência verbal está INCORRETA:

- a) A prefeitura ainda atendia naquele período outras 16 crianças de cidades da região.
- b) Eles contrataram moradores da região, e nós oferecemos a escola para os filhos destes funcionários.
- c) A prefeitura decidiu ampliar ainda mais a oferta de vagas comprando e restaurando o antigo prédio do hospital.
- d) A menina aprendeu à mexer no teclado brincando em casa e aperfeiçoou à técnica na escola.

9) Em relação aos vícios de linguagem e seus respectivos exemplos, numerar a 2ª coluna de acordo com a 1ª e, após, assinalar a alternativa que apresenta a sequência CORRETA:

- (1) Barbarismo.
 - (2) Solecismo.
 - (3) Cacofonia.
- () Eu assisti o filme em casa.
() Solicitei à cliente sua rúbrica.
() Uma mão lava a outra.

- a) 2 - 3 - 1.
- b) 3 - 2 - 1.
- c) 1 - 2 - 3.
- d) 2 - 1 - 3.

10) De acordo com as regras de acentuação, assinalar a alternativa em que ambas as palavras estão CORRETAS:

- a) Hábitos - multimídia.
- b) Perigósons - intenções.
- c) Infográfico - registro.
- d) Sistemático - perseverante.

MATEMÁTICA

11) Pedro quitou determinado boleto dois dias após o seu vencimento e pagou R\$ 5,74 de juros. Sabendo-se que lhe foram cobrados juros compostos de 5% ao dia, se Pedro tivesse pago o boleto antes do vencimento, teria pago o valor de:

- a) R\$ 18,00
- b) R\$ 25,00
- c) R\$ 56,00
- d) R\$ 84,00

12) Dado o sistema linear abaixo, em que x representa a quantidade de funcionários de uma empresa com curso superior em Administração e y representa a quantidade de funcionários com curso superior em Direito, para essa empresa dobrar a quantidade de funcionários com curso superior em Administração, deverá contratar mais quantos funcionários com esse curso superior?

$$\begin{cases} 5x + 3y = 62 \\ 4x - 2y = 10 \end{cases}$$

- a) 9
- b) 7
- c) 18
- d) 14

13) Assinalar a alternativa que apresenta o conjunto solução da equação exponencial abaixo:

$$2^{x^2 - 2x - 24} = 1$$

- a) $S = \{-4, 6\}$
- b) $S = \{1, 2\}$
- c) $S = \{4, 12\}$
- d) $S = \{-3, 5\}$

14) Guilherme receberá um salário de R\$ 925,00, em que, desse valor, serão descontados 6% referentes ao vale transporte. Quantos reais serão descontados de vale transporte?

- a) R\$ 46,25
- b) R\$ 55,50
- c) R\$ 83,25
- d) R\$ 120,25

15) Dadas as matrizes $A = \begin{bmatrix} 7 & 8 \\ 3 & x \end{bmatrix}$ e $B = \begin{bmatrix} x & 2 \\ 3 & 9 \end{bmatrix}$, qual deverá ser o valor de x para que se tenha $\det A = \det B$?

- a) -14
- b) 3
- c) -9
- d) 5

16) Sabendo-se que determinado supermercado atendeu 8 clientes no domingo, 23, na segunda-feira, e assim por diante, de modo que a cada novo dia a quantidade de clientes atendidos aumentava em forma de progressão aritmética, ao final do dia de sábado dessa mesma semana, quantos clientes esse supermercado terá atendido, ao todo, nesses dias?

- a) 98
- b) 190
- c) 273
- d) 371

17) Em determinado sorteio, restam 16 números a serem sorteados e, para Manoel, falta somente um para completar sua cartela. Qual a probabilidade de o próximo número sorteado ser o que falta para Manoel completar a cartela?

- a) 6,25%
- b) 5%
- c) 9,75%
- d) 14,5%

18) A soma de dois números é 524. Um é o triplo do outro. O menor desses números é:

- a) 131
- b) 112
- c) 118
- d) 89

19) O quadro abaixo apresenta as 20 melhores notas dos aprovados para o cargo de contador em determinado concurso público. Utilizando-se amplitude igual a 6, assinalar a alternativa que apresenta a tabela de distribuição de frequências CORRETA:

82	73	80	90
93	91	76	86
74	71	78	89
87	74	88	94
83	85	93	77

a)

Classe	fi
71 77	5
77 83	5
83 89	5
89 95	5

b)

Classe	fi
70 76	5
76 82	4
82 88	5
88 94	6

c)

Classe	fi
71 77	5
77 83	4
83 89	5
89 95	6

d)

Classe	fi
60 66	0
66 72	1
72 78	5
78 84	4
84 90	5
90 96	5

20) Assinalar a alternativa que apresenta as próximas 12 letras da sequência lógica abaixo:

SQXFSSQXXFFSSSQQXXXFFFSS...

- a) QQXXXFFFSS
- b) SSSSQQXX
- c) SSSQXX
- d) SSQXX

RASCUNHO

INFORMÁTICA

Atenção! Para responder às questões de Informática, a menos que seja explicitamente informado o contrário, considerar que os programas mencionados encontram-se na versão Português-BR e, em sua configuração padrão de instalação, possuem licença de uso, o mouse está configurado para destros, um clique ou duplo clique correspondem ao botão esquerdo do mouse e teclar corresponde à operação de pressionar uma tecla e, rapidamente, liberá-la, acionando-a apenas uma vez. Dessa forma, as teclas de atalho, os menus, os submenus, as barras, os ícones e os demais itens que compõem os programas abordados nesta prova encontram-se na configuração padrão, conforme exposto anteriormente.

21) Considerando-se o Windows 7 com suas atualizações instaladas, a opção que permite associar um tipo de arquivo ou protocolo a um programa específico, no Painel de Controle, é:

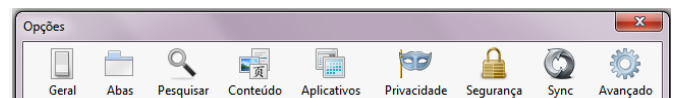
- a) Programas Padrão.
- b) Programas e Recursos.
- c) Firewall do Windows.
- d) Opções de Pasta.

22) Assinalar a alternativa que preenche a lacuna abaixo CORRETAMENTE, quanto aos componentes de hardware existentes em computador padrão:

O(A) _____ é a placa de circuito impresso onde reside toda a principal parte eletrônica do computador. Dentre os componentes elétricos ligados a essa placa, estão o processador, a memória RAM e outros circuitos.

- a) memória ROM
- b) BIOS
- c) memória externa
- d) placa-mãe

23) Destaca-se abaixo o menu de opções disponíveis no navegador Mozilla Firefox em sua última versão. O menu que permite bloquear janelas de pop-up está na opção:

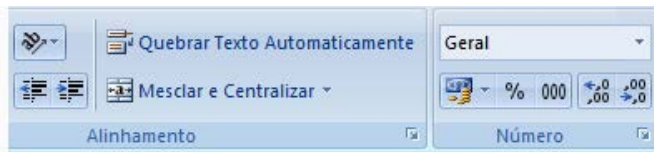






- a) Geral.
- b) Conteúdo.
- c) Privacidade.
- d) Segurança.

24) A opção do Word 2007 que permite personalizar as bordas do texto ou das células selecionadas está disponível na guia Início, em:

- a) Fonte.
- b) Área de Transferência.
- c) Parágrafo.
- d) Edição.

25) Dentre as opções na guia Início do Excel 2007, conforme a imagem abaixo, aquela que permite diminuir valores de casas decimais é:



- a) 
- b) 
- c) 
- d) 

LEGISLAÇÃO

Atenção! Em todas as questões de legislação desta prova, serão consideradas as leis e suas alterações até a data do início das inscrições deste certame.

26) Em conformidade com a Constituição Federal, é vedado à União, aos Estados, ao Distrito Federal e aos Municípios:

- a) Criar distinções entre brasileiros ou preferências entre si.
- b) Dar fé a documentos públicos.
- c) Beneficiar quem quer que seja criando reserva de vagas.
- d) Estabelecer cultos religiosos ou igrejas.

27) De acordo com a Lei Orgânica do Município, analisar os itens abaixo:

- I - São Poderes do Município, independentes e harmônicos entre si, o Legislativo, o Executivo e o Judiciário.
- II - A Administração Pública Municipal observará os princípios da legalidade, impessoalidade, moralidade, publicidade e eficiência.
- III - As funções de confiança serão exercidas exclusivamente por servidores ocupantes de cargos efetivos.
- IV - Os cargos em comissão destinam-se apenas às atribuições de direção, chefia e assessoramento.

Estão CORRETOS:

- a) Somente os itens I e IV.
- b) Somente os itens I, II e III.
- c) Somente os itens II, III e IV.
- d) Todos os itens.

28) De acordo com a Lei Orgânica do Município, assinalar a alternativa que preenche as lacunas abaixo CORRETAMENTE:

Compete, privativamente, ao _____ administrar os bens municipais e as _____ públicas, promovendo o lançamento, a _____ e a arrecadação dos tributos, bem como das tarifas ou preços públicos municipais.

- a) Presidente da Câmara de Vereadores - rendas - licitação
- b) Prefeito Municipal - propriedades - licitação
- c) Presidente da Câmara de Vereadores - propriedades - fiscalização
- d) Prefeito Municipal - rendas - fiscalização

29) Em conformidade com a Lei Municipal nº 682/90 - Regime Jurídico Único dos Servidores Municipais, marcar C para as afirmativas Certas, E para as Erradas e, após, assinalar a alternativa que apresenta a sequência CORRETA:

- () As sanções civis, penais e administrativas não poderão cumular-se, sendo independentes entre si.
 - () A responsabilidade civil ou administrativa do servidor será afastada no caso de absolvição criminal que negue a existência do fato ou a sua autoria.
 - () A obrigação de reparar o dano não se estende aos sucessores nem contra eles poderá ser executada, pois nenhuma pena passará da pessoa do condenado.
 - () Tratando-se de danos causados a terceiros, responderá o servidor perante a Fazenda Pública, em ação regressiva.
- a) C - C - E - E.
 - b) E - C - E - C.
 - c) C - E - E - C.
 - d) E - C - C - C.

30) Em conformidade com a Lei Municipal nº 682/90 - Regime Jurídico Único dos Servidores Municipais, assinalar a alternativa INCORRETA:

- a) O exercício deve ser dado pelo Prefeito, a quem cabe privativamente determinar o horário de expediente das repartições.
- b) A posse dar-se-á no prazo de até cinco dias úteis contados da data de publicação do ato de nomeação.
- c) É de cinco dias o prazo para o servidor entrar em exercício, contados da data da posse.
- d) A cassação de aposentadoria e a demissão são exemplos de penalidades disciplinares.

CONHECIMENTOS ESPECÍFICOS

31) De acordo com a Lei nº 8.429/92, numerar a 2ª coluna de acordo com a 1ª e, após, assinalar a alternativa que apresenta a sequência CORRETA:

- (1) Enriquecimento ilícito.
 - (2) Lesão ao erário.
 - (3) Contra os princípios da Administração Pública.
- () Qualquer ação ou omissão que enseje perda patrimonial, desvio, apropriação, malbaratamento ou dilapidação dos bens ou haveres das entidades.
- () Violar os deveres de honestidade, imparcialidade, legalidade e lealdade às instituições.
- () Auferir qualquer tipo de vantagem patrimonial indevida em razão do exercício de cargo, mandato, função, emprego ou atividade.
- a) 1 - 2 - 3.
b) 1 - 3 - 2.
c) 2 - 3 - 1.
d) 3 - 2 - 1.

32) Em conformidade com a Lei nº 8.666/93, assinalar a alternativa que preenche as lacunas abaixo CORRETAMENTE:

Subordinam-se ao regime desta Lei, além dos órgãos da Administração Direta, os fundos _____, as autarquias, as fundações públicas, empresas _____, as sociedades de economia _____ e demais entidades controladas direta ou indiretamente pela União, Estados, Distrito Federal e Municípios.

- a) de financiamento - privadas - mista
- b) especiais - públicas - mista
- c) de financiamento - públicas - estatal
- d) especiais - privadas - estatal

33) De acordo com a Lei nº 10.520/02, o pregão eletrônico poderá ser adotado para a aquisição de:

- I - Equipamento eletrônico.
- II - Bens e serviços comuns.
- III - Bens e serviços da Tecnologia da Informação.

Está(ão) CORRETO(S):

- a) Somente o item I.
- b) Somente o item II.
- c) Somente os itens I e III.
- d) Somente os itens II e III.

34) De acordo com a Lei nº 12.527/11, os órgãos e entidades públicas têm o dever de divulgar em local de fácil acesso as seguintes informações:

- I - Registros de quaisquer repasses ou transferências de recursos financeiros.
- II - Registro das competências e estrutura organizacional, endereços e telefones das respectivas unidades e horários de atendimento ao público.
- III - Informações concernentes a processos em tramitação na Comissão de Ética da Câmara de Vereadores, inclusive os relacionados ao foro íntimo dos parlamentares, se isso for de interesse público.

Estão CORRETOS:

- a) Todos os itens.
- b) Somente os itens II e III.
- c) Somente os itens I e III.
- d) Somente os itens I e II.

35) Segundo DI PIETRO, existem determinados princípios que são inerentes ao regime jurídico dos serviços públicos. Com base nisso, numerar a 2ª coluna de acordo com a 1ª e, após, assinalar a alternativa que apresenta a sequência CORRETA:

- (1) Princípio da continuidade do serviço público.
 - (2) Princípio da mutabilidade do regime jurídico ou da flexibilidade dos meios aos fins.
 - (3) Princípio da igualdade dos usuários.
- () Esse princípio tem aplicação especialmente com relação aos contratos administrativos e ao exercício da função pública.
- () Perante o serviço público, desde que a pessoa satisfaça às condições legais, ela faz jus à prestação do serviço, sem qualquer distinção de caráter pessoal.
- () Autoriza mudanças no regime de execução do serviço para adaptá-lo ao interesse público, que é sempre variável no tempo.

- a) 1 - 2 - 3.
- b) 1 - 3 - 2.
- c) 2 - 3 - 1.
- d) 2 - 1 - 3.

36) Com base em DI PIETRO, assinalar a alternativa que preenche as lacunas abaixo CORRETAMENTE:

O _____ é um conjunto de formalidades que devem ser observadas para a prática de certos atos administrativos; equivale a rito, à forma de proceder; o _____ se desenvolve dentro de um _____ administrativo.

- a) procedimento - procedimento - processo
- b) processo - processo - procedimento
- c) procedimento - processo - procedimento
- d) processo - procedimento - processo

37) Segundo KASPARY, por questão de respeito, não se deve abreviar a forma de tratamento em correspondência dirigida ao(a):

- a) Papa.
- b) Todos os cargos do Legislativo.
- c) Presidente da República.
- d) Todos os Ministros.

38) Segundo KASPARY, a expressão latina *Ad hoc* significa:

- a) Arbitrariamente.
- b) Posteriormente.
- c) Claramente.
- d) Eventualmente.

39) Em conformidade com KASPARY, quanto à concisão na redação oficial, analisar os itens abaixo:

- I - Significa que se deve ser lacônico.
- II - Devem-se destacar o essencial e o necessário.

- a) Somente o item I está correto.
- b) Somente o item II está correto.
- c) Os itens I e II estão corretos.
- d) Os itens I e II estão incorretos.

40) São atitudes que podem promover os acidentes de trabalho, EXCETO:

- a) Equipamentos sem proteção.
- b) Ventilação imprópria.
- c) Subir escadas ou degraus vagarosamente e de forma adequada.
- d) Utilizar esquemas de segurança que não funcionam.