

AGENTE ADMINISTRATIVO AUXILIAR

Escreva seu nome e número de inscrição de forma legível nos locais indicados:

Nome do(a) Candidato(a)

Nº de inscrição

--	--

Este caderno de questões está assim constituído:

DISCIPLINAS	Nº QUESTÕES
Português	10
Matemática	10
Informática	05
Legislação, Conhecimentos Gerais e Específicos	15
Total de questões	40

INSTRUÇÕES:

- Confira devidamente o material (CARTÃO DE RESPOSTAS e CADERNO DE QUESTÕES); se houver falha, solicite a substituição ao fiscal.
- Após conferir seus dados no cartão de respostas (NOME, Nº da INSCRIÇÃO e CARGO), assine no local indicado.
- O CARTÃO DE RESPOSTAS é o único documento de correção, devendo ser preenchido com bastante atenção, à caneta esferográfica, azul ou preta, ponta grossa, marcando uma única alternativa em cada questão.
- Verifique no cartão de respostas as instruções para preenchimento. Não rasure, não amasse nem dobre o CARTÃO DE RESPOSTAS; evite usar borracha. É vedada a substituição do CARTÃO DE RESPOSTAS decorrente de erro cometido por candidato.
- Se o CARTÃO DE RESPOSTAS contiver maior número de alternativas e/ou de questões, preencha apenas as correspondentes à sua prova; as demais ficam em branco.
- Durante a realização da prova, não é permitida a comunicação entre candidatos nem a utilização de máquina calculadora e/ou similares, livros, anotações, régua de cálculo, impressos ou qualquer outro material de consulta.
- O tempo de duração da prova objetiva será de **até 3 horas**, incluído o tempo para preenchimento do cartão de respostas. O candidato somente poderá levar consigo seu caderno de provas após uma hora contada do efetivo início das provas. Ao candidato que sair antes de uma hora contada do efetivo início das provas, será permitido copiar seu cartão de respostas, para conferência com o gabarito oficial.
- Ao final dos trabalhos, **DEVOLVA** ao Fiscal da sala, o CARTÃO DE RESPOSTAS devidamente preenchido e assinado.
- A parte destacável no final desta capa, que serve para copiar as suas respostas, somente poderá ser destacada no ato da entrega do material na mesa do fiscal.
- Os três últimos candidatos de cada sala de prova deverão permanecer no recinto, a fim de acompanhar os fiscais até a coordenação para o lacre dos envelopes, quando, então, poderão retirar-se do local, simultaneamente, após concluído.
- Direitos autorais reservados à Objetiva Concursos Ltda. Proibida a reprodução, ainda que parcial, sem autorização prévia.



(dobre e destaque esta parte para copiar suas respostas)

01	<input type="checkbox"/>	02	<input type="checkbox"/>	03	<input type="checkbox"/>	04	<input type="checkbox"/>	05	<input type="checkbox"/>	06	<input type="checkbox"/>	07	<input type="checkbox"/>	08	<input type="checkbox"/>	09	<input type="checkbox"/>	10	<input type="checkbox"/>
11	<input type="checkbox"/>	12	<input type="checkbox"/>	13	<input type="checkbox"/>	14	<input type="checkbox"/>	15	<input type="checkbox"/>	16	<input type="checkbox"/>	17	<input type="checkbox"/>	18	<input type="checkbox"/>	19	<input type="checkbox"/>	20	<input type="checkbox"/>
21	<input type="checkbox"/>	22	<input type="checkbox"/>	23	<input type="checkbox"/>	24	<input type="checkbox"/>	25	<input type="checkbox"/>	26	<input type="checkbox"/>	27	<input type="checkbox"/>	28	<input type="checkbox"/>	29	<input type="checkbox"/>	30	<input type="checkbox"/>
31	<input type="checkbox"/>	32	<input type="checkbox"/>	33	<input type="checkbox"/>	34	<input type="checkbox"/>	35	<input type="checkbox"/>	36	<input type="checkbox"/>	37	<input type="checkbox"/>	38	<input type="checkbox"/>	39	<input type="checkbox"/>	40	<input type="checkbox"/>

PORTUGUÊS

Está liberado usar o celular antes de dormir – se você tomar bastante sol durante o dia

Quem tem problemas de sono sabe muito bem que deve deixar *tablets* e *smartphones* longe da cama. Alguns estudos relacionam a exposição à luz azul das telas com dificuldades para dormir. Mas uma nova pesquisa, de uma universidade da Suécia, comprovou que essa verdade não é tão _____ assim – o malefício da luz azul para uma boa noite de sono depende da quantidade de luz solar a que você ficou exposto no dia.

Os cientistas suecos pediram para que 14 jovens, expostos a 6,5 horas de luz solar ou branca, lessem um romance em um *tablet* e depois em um livro físico durante duas horas (das 21 às 23 horas). Seus níveis de melatonina (hormônio produzido pelo corpo enquanto dormimos) foram medidos antes de dormir.

Para surpresa dos pesquisadores, a tela azul não afetou o sono dos voluntários. Os níveis de melatonina, a sonolência e a qualidade do sono se mantiveram iguais em ambas as experiências, com *tablet* e livro físico.

<http://super.abril.com.br/cotidiano/esta-liberado-usar-o-celular-...> - adaptado

1) Assinalar a alternativa que preenche a lacuna do texto CORRETAMENTE:

- a) absoluta
- b) absoluta
- c) abçoluta
- d) abissoluta
- e) abisoluta

2) De acordo com o texto, analisar os itens abaixo:

I - O uso de celular não compromete o nosso sono se tivermos uma pigmentação da pele mais escura, causada pela exposição ao sol constante.

II - A Suécia é um país com maior incidência de luz solar.

III - O sono dos voluntários da pesquisa não foi afetado por terem feito uso de *tablets* antes de dormir.

Está(ão) CORRETO(S):

- a) Somente os itens I e II.
- b) Somente o item I.
- c) Somente o item II.
- d) Somente o item III.
- e) Somente os itens II e III.

3) O termo “sonolência”, presente no texto, significa:

- a) Sono completo.
- b) Dormir profundamente.
- c) Estado de alerta.
- d) Grande vontade de dormir.
- e) Nenhuma das alternativas anteriores.

4) O sinal de pontuação empregado no título do texto é chamado de:

- a) Travessão.
- b) Parêntese.
- c) Aspas.
- d) Reticências.
- e) Ponto e vírgula.

5) O sujeito da oração “Seus níveis de melatonina (hormônio produzido pelo corpo enquanto dormimos) foram medidos antes de dormir.” é:

- a) “Melatonina”.
- b) “Hormônio produzido pelo corpo enquanto dormimos”.
- c) “Seus níveis de melatonina”.
- d) “Antes de dormir”.
- e) Não há sujeito na oração.

6) Assinalar a alternativa que apresenta a INCORRETA divisão silábica:

- a) Al-guns.
- b) Ro-man-ce.
- c) U-ni-ver-si-da-de.
- d) Quan-ti-da-de.
- e) Ex-pos-i-ção.

7) Em relação à sílaba tônica das palavras acentuadas abaixo, assinalar a alternativa que apresenta uma paroxítona:

- a) Físico.
- b) Malefício.
- c) Níveis.
- d) Você.
- e) Não.

8) O verbo “pedir” em “Os cientistas suecos pediram para que 14 jovens...” está conjugado em qual tempo e modo verbal?

- a) Pretérito imperfeito do indicativo.
- b) Pretérito perfeito do indicativo.
- c) Pretérito imperfeito do subjuntivo.
- d) Presente do indicativo.
- e) Presente do subjuntivo.

9) Considerando-se a norma ortográfica atualmente em vigor, qual das palavras abaixo está escrita INCORRETAMENTE?

- a) Paranoia.
- b) Autoajuda.
- c) Perdo.
- d) Coautor.
- e) Cinqüenta.

10) Assinalar a alternativa que apresenta uma palavra masculina singular:

- a) Livro.
- b) Tela.
- c) Cientistas.
- d) Estudos.
- e) Noite.

MATEMÁTICA

11) Quantos são os números primos compreendidos entre os números 10 e 40?

- a) 10
- b) 8
- c) 12
- d) 14
- e) 16

12) Três funcionários (Fernando, Gabriel e Henrique) de determinada empresa deverão dividir o valor de R\$ 950,00 entre eles, de forma diretamente proporcional aos dias trabalhos em certo mês. Sabendo-se que Fernando trabalhou 10 dias, Gabriel, 12, e Henrique, 16, analisar os itens abaixo:

- I - Fernando deverá receber R\$ 260,00.
- II - Gabriel deverá receber R\$ 300,00.
- III - Henrique deverá receber R\$ 410,00.

Está(ão) CORRETO(S):

- a) Somente o item II.
- b) Somente os itens I e II.
- c) Somente os itens I e III.
- d) Somente os itens II e III.
- e) Todos os itens.

13) Assinalar a alternativa que apresenta o resultado do polinômio abaixo:

$$2x(5x + 7y) + 9x(2y)$$

- a) $10x + 14xy + 18yx$
- b) $6x^2 + 21xy$
- c) $10x^2 + 32xy$
- d) $10x^2 + 9y$
- e) $22x + 9y$

RASCUNHO

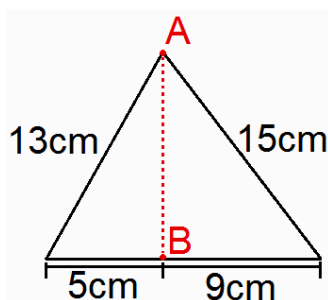
14) Determinado *site* de vendas de passagens aéreas realizou 80 vendas em três horas. Considerando-se a mesma proporção, 260 passagens aéreas deverão ser vendidas em:

- a) 9 horas e 5 minutos.
- b) 9 horas e 15 minutos.
- c) 9 horas e 25 minutos.
- d) 9 horas e 35 minutos.
- e) 9 horas e 45 minutos.

15) Certo levantamento de preços verificou o preço de determinado produto em três lojas diferentes e constatou que na loja A o produto estava sendo vendido por R\$ 124,00, na loja B esse produto estava sendo vendido 30% mais caro, quando comparado com a loja A, e na loja C esse produto estava sendo vendido 15% mais caro do que na loja B. Com base nessas informações, é CORRETO afirmar que a diferença de preços entre a loja C e a loja A é de:

- a) R\$ 61,38
- b) R\$ 64,25
- c) R\$ 68,10
- d) R\$ 70,94
- e) R\$ 74,37

16) Assinalar a alternativa que apresenta a distância entre os pontos A e B na figura abaixo:



- a) 9cm
- b) 10cm
- c) 11cm
- d) 12cm
- e) 14cm

17) Assinalar a alternativa que apresenta o valor de x no sistema linear abaixo:

$$\begin{cases} 5x - 30 = 150 \\ -8x + 138 = -150 \end{cases}$$

- a) 24
- b) 36
- c) 42
- d) 58
- e) 64

INFORMÁTICA

18) Considerando-se as raízes das equações do 2º grau, numerar a 2ª coluna de acordo com a 1ª e, após, assinalar a alternativa que apresenta a sequência CORRETA:

- (1) Ambas as raízes são positivas e possuem valores diferentes.
- (2) Ambas as raízes são negativas e possuem valores diferentes.
- (3) Ambas as raízes possuem o mesmo valor.
- (4) As raízes possuem valores diferentes e apenas uma delas é positiva.

- () $x^2 + 2x = 8$
() $x^2 + 3x + 2 = 0$
() $x^2 - 7x = -12$

- a) 1 - 2 - 3.
b) 3 - 4 - 1.
c) 4 - 3 - 2.
d) 4 - 2 - 1.
e) 3 - 1 - 4.




19) Assinalar a alternativa que preenche as lacunas abaixo CORRETAMENTE:

Certo tanque de 5m² de área possui capacidade de armazenamento de 3.000kg de arroz, sendo assim, pode-se afirmar que esse tanque possui _____ de área e capacidade de armazenamento de _____ de arroz.

- a) 50.000dm²; 3t
b) 50dm²; 300.000g
c) 500.000mm²; 300.000g
d) 50.000cm²; 0,3t
e) 50.000cm²; 3.000.000g

20) Seguindo-se o critério de formação, assinalar a alternativa que apresenta a 27ª imagem da sequência lógica abaixo:



- a) 
b) 
c) 
d) 
e) 

Atenção! Para responder às questões de Informática, a menos que seja explicitamente informado o contrário, considerar que os programas mencionados encontram-se na versão Português-BR e, em sua configuração padrão de instalação, possuem licença de uso, o mouse está configurado para destros, um clique ou duplo clique correspondem ao botão esquerdo do mouse e teclar corresponde à operação de pressionar uma tecla e, rapidamente, liberá-la, acionando-a apenas uma vez. Dessa forma, as teclas de atalho, os menus, os submenus, as barras, os ícones e os demais itens que compõem os programas abordados nesta prova encontram-se na configuração padrão, conforme exposto anteriormente.

21) Desligar o computador de forma abrupta pode corromper arquivos do sistema, impedindo o seu reinício. No Windows 7, pode-se desligar o computador através da opção:

- a) Desligar o computador, no Painel de Controle.
b) Desligar, na área de notificação.
c) Desligar, no menu Iniciar.
d) Desligamento, ao clicar com o botão direito do mouse na área de trabalho.
e) Pressionar a tecla Pause Break no teclado.

22) Considerando-se o efeito das fontes no Word 2007, numerar a 2ª coluna de acordo com a 1ª e, após, assinalar a alternativa que apresenta a sequência CORRETA:

- (1) Tachado.
(2) Versalete.
(3) Contorno.
(4) Subscrito.
(5) Sobrescrito.

- () Eleva o texto selecionado acima da linha de base.
() Desce o texto selecionado abaixo da linha de base.
() Exibe as bordas interna e externa de cada caractere.
() Desenha uma linha por todo o texto selecionado.
() Formata o texto de letra minúscula selecionado como letras maiúsculas e reduz seu tamanho.

- a) 5 - 4 - 3 - 1 - 2.
b) 4 - 5 - 2 - 1 - 3.
c) 5 - 4 - 2 - 1 - 3.
d) 1 - 4 - 3 - 5 - 2.
e) 5 - 1 - 3 - 4 - 2.

23) Periféricos de saída são aqueles que recebem informações do computador. Um exemplo de periférico de saída é:

- a) Teclado.
b) Caixa de som.
c) Mouse.
d) Microfone.
e) Digitalizador.

24) Em relação ao Filtro SmartScreen no Internet Explorer 11, analisar os itens abaixo:

- I - Ajuda a identificar sites de phishing e malware relatados e ajuda o usuário a tomar decisões bem fundamentadas sobre downloads.
- II - É possível ativar ou desativar o SmartScreen na maioria dos casos. Em alguns casos, como na rede de um local de trabalho, essa configuração é gerenciada por um administrador do sistema e não pode ser alterada.
- III - O SmartScreen é diferente do bloqueador de pop-ups. O SmartScreen verifica se há ameaças à segurança do usuário nos sites que ele visita e nos arquivos que baixa. O bloqueador de pop-ups limita a maioria dos pop-ups nos sites, os quais, geralmente, são anúncios e nem sempre são mal-intencionados.

Está(ão) CORRETO(S):

- a) Somente o item I.
- b) Somente os itens I e II.
- c) Somente os itens I e III.
- d) Somente os itens II e III.
- e) Todos os itens.

25) Segundo a Cartilha de Segurança para Internet, alguns sistemas operacionais permitem que o usuário compartilhe com outros usuários recursos do seu computador, como diretórios, discos e impressoras. Com base nisso, em relação às formas de prevenção, assinalar a alternativa INCORRETA:

- a) Estabelecer senhas para os compartilhamentos.
- b) Compartilhar os recursos pelo tempo mínimo necessário.
- c) Ter um antimalware instalado no computador, mantê-lo atualizado e utilizá-lo para verificar qualquer arquivo compartilhado.
- d) Estabelecer permissões de acesso inadequadas, permitindo que usuários do compartilhamento tenham mais acessos que o necessário.
- e) Manter o computador protegido, com as versões mais recentes e com todas as atualizações aplicadas.

LEGISLAÇÃO, CONHECIMENTOS GERAIS E ESPECÍFICOS

Atenção! Em todas as questões de legislação desta prova, serão consideradas as leis e suas alterações até a data do início das inscrições deste concurso.

Conhecimentos Gerais

26) O primeiro dever do cidadão responsável é colaborar financeiramente no custeio das despesas comuns, como por exemplo: pagar o Imposto Territorial Urbano, Seguridade Social e todos os tributos embutidos em serviços e alimentos. Pedir a nota fiscal ao efetuar qualquer compra. Infelizmente, nem sempre os governantes se comportam de modo isento na hora de estabelecer a carga tributária ou o emprego dos recursos arrecadados. Alguns tributos, criados com determinado fim, mudam de destinação ao longo dos anos; outros, temporários na sua implantação, eternizam-se inexplicavelmente; certos impostos incidem sobre outros, punindo desnecessariamente a população.

ROCHA, K. J. A Ética e Cidadania no Setor Público. Cuiabá: EdUFMT.

Considerando-se o trecho acima, um cidadão responsável:

- I - Fiscaliza o Poder Executivo diretamente ou por intermédio dos seus representantes na Câmara, Assembleia ou Congresso.
- II - Nega o voto aos políticos ineficientes ou corruptos, nas eleições.
- III - Mantém-se sempre vigilante.

Está(ão) CORRETO(S):

- a) Nenhum dos itens.
- b) Somente os itens I e II.
- c) Somente os itens I e III.
- d) Somente os itens II e III.
- e) Todos os itens.

Legislação e Conhecimentos Específicos

27) Em consonância com a Constituição Federal, assinalar a alternativa que preenche a lacuna abaixo CORRETAMENTE:

São estáveis após _____ ano(s) de efetivo exercício os servidores nomeados para cargo de provimento efetivo em virtude de concurso público; como condição para a aquisição da estabilidade, é obrigatória a avaliação especial de desempenho por comissão instituída para essa finalidade.

- a) um
- b) dois
- c) três
- d) quatro
- e) cinco

28) Nos termos da Lei nº 8.429/92 - Lei de Improbidade Administrativa, acerca dos atos de improbidade administrativa que importam enriquecimento ilícito, marcar C para as afirmativas Certas, E para as Erradas e, após, assinalar a alternativa que apresenta a sequência CORRETA:

- () Perceber vantagem econômica para intermediar a liberação ou aplicação de verba pública de qualquer natureza.
- () Receber vantagem econômica de qualquer natureza, direta ou indiretamente, para omitir ato de ofício, providência ou declaração a que esteja obrigado.
- () Perceber vantagem econômica, direta ou indireta, para facilitar a alienação, permuta ou locação de bem público ou o fornecimento de serviço por ente estatal por preço inferior ao valor de mercado.

- a) C - C - E.
- b) C - C - C.
- c) C - E - E.
- d) E - C - E.
- e) E - C - C.

29) Em conformidade com a Lei nº 12.527/11, que regula o acesso a informações, analisar a sentença abaixo:

A informação armazenada em formato digital será fornecida nesse formato, caso haja anuência do requerente (1ª parte). No caso de indeferimento de acesso a informações ou às razões da negativa do acesso, poderá o interessado interpor recurso contra a decisão no prazo de 10 dias a contar da sua ciência (2ª parte). É obrigatório exigir os motivos determinantes da solicitação de informações de interesse público (3ª parte).

A sentença está:

- a) Totalmente correta.
- b) Correta somente em suas 1ª e 2ª partes.
- c) Correta somente em suas 1ª e 3ª partes.
- d) Correta somente em suas 2ª e 3ª partes.
- e) Totalmente incorreta.

30) Segundo a Lei Orgânica do Município, são servidores públicos municipais:

- a) As pessoas legalmente investidas em cargos públicos, criados na forma da lei.
- b) As pessoas jurídicas de direito público.
- c) As pessoas jurídicas de direito privado.
- d) As empresas públicas.
- e) Os empregados de empresas privadas.

31) De acordo com a Lei Municipal nº 855/00 - Regime Jurídico dos Servidores Públicos do Município, a investidura do servidor estável no cargo anteriormente ocupado, quando invalidada a sua demissão por decisão judicial, chama-se:

- a) Readaptação.
- b) Reintegração.
- c) Aproveitamento.
- d) Promoção.
- e) Reversão.

32) Em conformidade com DI PIETRO, acerca das características dos contratos administrativos, assinalar a alternativa que preenche a lacuna abaixo CORRETAMENTE:

_____, que dá lugar à aplicação da teoria da imprevisão, é todo acontecimento externo ao contrato, estranho à vontade das partes, imprevisível e inevitável, que causa um desequilíbrio muito grande, tornando a execução do contrato excessivamente onerosa para o contratado.

- a) Álea econômica
- b) Fato do príncipe
- c) Fato da Administração
- d) Álea administrativa
- e) Força maior

33) De acordo com DI PIETRO, relativo aos efeitos dos atos administrativos, o ato pelo qual a Administração cria, modifica ou extingue um direito ou uma situação do administrado denomina-se ato:

- a) Enunciativo.
- b) Declaratório.
- c) Constitutivo.
- d) Proveito.
- e) Nulo.

34) Segundo ALEXANDRINO e PAULO, o Banco do Brasil S/A e a Petrobras S/A são exemplos notórios de:

- a) Agências reguladoras.
- b) Fundações públicas.
- c) Autarquias.
- d) Sociedades de economia mista.
- e) Empresas públicas.

35) De acordo com ALEXANDRINO e PAULO, a regra geral é que a contratação de serviços técnicos profissionais especializados seja precedida de licitação na modalidade concurso. Só quando for um serviço singular, prestado por profissional ou empresa de notória especialização, é que a licitação para contratação de serviços técnicos profissionais especializados será:

- a) Deserta.
- b) Dispensável.
- c) Indispensável.
- d) Exigível.
- e) Inexigível.

36) Com base no Manual de Redação da Presidência da República, marcar C para as afirmativas Certas, E para as Erradas e, após, assinalar a alternativa que apresenta a sequência CORRETA:

- () A complexidade deve ser a qualidade básica de todo texto oficial.
- () O pronome de tratamento utilizado no trato com Prefeito Municipal deve ser "Vossa Excelência".
- () O fecho das comunicações oficiais possui, além da finalidade óbvia de arrematar o texto, a de saudar o destinatário. Dessa forma, para autoridades de mesma hierarquia ou de hierarquia inferior, o fecho utilizado para a comunicação oficial deverá ser "Atenciosamente".

- a) C - C - E.
- b) E - C - C.
- c) C - E - E.
- d) E - C - E.
- e) C - C - C.

37) Considerando-se o que dispõe a obra de KASPARY sobre documentos, numerar a 2ª coluna de acordo com a 1ª e, após, assinalar a alternativa que apresenta a sequência CORRETA:

- (1) Informação.
- (2) Ofício.
- (3) Relatório.

- () É uma comunicação escrita que as autoridades fazem entre si, entre subalternos e superiores, e entre a Administração e particulares, em caráter oficial. É o tipo mais comum de correspondência oficial. Exatamente por ser documento de correspondência oficial, só pode ser expedido por órgão público, em objeto de serviço. Seu destinatário, no entanto, além de outro órgão público, pode ser também um particular.
- () É uma descrição de fatos passados, analisados com o objetivo de orientar o serviço interessado ou superior imediato, para determinada ação.
- () É o ato de servidor subalterno incumbido de estudo de processo, instrumento ou qualquer documento e consta do esclarecimento que se fizer necessário, a fim de que o chefe imediato possa formar juízo exato sobre o assunto e deliberar ou encaminhar o caso em tela à autoridade superior.

- a) 2 - 3 - 1.
- b) 3 - 2 - 1.
- c) 1 - 2 - 3.
- d) 2 - 1 - 3.
- e) 3 - 1 - 2.

38) Segundo MEDEIROS e HERNANDES, o arquivo precisa ser organizado de forma que proporcione condições de, EXCETO:

- a) Precisão.
- b) Simplicidade.
- c) Flexibilidade.
- d) Insegurança.
- e) Acesso.

39) No trato com o público, espera-se que o servidor seja:

- I - Atencioso.
- II - Arrogante.
- III - Simpático.

Está(ão) CORRETO(S):

- a) Somente o item III.
- b) Somente o item I.
- c) Somente os itens I e III.
- d) Somente os itens II e III.
- e) Todos os itens.

40) Com base em DUL e WEERDMEESTER e considerando-se os fatores ambientais que podem afetar positiva ou negativamente o ambiente de trabalho, analisar a sentença abaixo:

A intensidade da luz que incide sobre a superfície de trabalho não precisa ser suficiente para garantir uma boa visibilidade (1ª parte). A presença de ruídos elevados no ambiente de trabalho pode perturbar e, com o tempo, acaba provocando surdez (2ª parte). O frio e o calor intenso são desconfortáveis e provocam sobrecarga energética no corpo, principalmente no coração e pulmões. Além disso, partes do corpo podem sofrer danos como queimaduras ou congelamentos. Dessa forma, o clima de trabalho deve satisfazer as diversas condições, para ser considerado confortável (3ª parte).

A sentença está:

- a) Totalmente correta.
- b) Correta somente em sua 2ª parte.
- c) Correta somente em suas 1ª e 2ª partes.
- d) Correta somente em suas 1ª e 3ª partes.
- e) Correta somente em suas 2ª e 3ª partes.