

Agente Administrativo

- Confira devidamente o material (CARTÃO DE RESPOSTAS e CADERNO DE QUESTÕES); se houver falha, solicite a substituição ao fiscal.
- Este caderno de questões está assim constituído:

DISCIPLINAS	Nº QUESTÕES
Português	10
Matemática	10
Informática	05
Legislação, Conhecimentos Gerais e Específicos	15
Total de questões	40

Caderno de questões • Instruções Gerais

- Após conferir seus dados no cartão de respostas (NOME, Nº da INSCRIÇÃO e CARGO), assine no local indicado.
- O CARTÃO DE RESPOSTAS é o único documento de correção, devendo ser preenchido com bastante atenção, à caneta esferográfica, azul ou preta, ponta grossa, marcando uma única alternativa em cada questão. Verifique no cartão de respostas as instruções para preenchimento. Não rasure, não amasse nem dobre o CARTÃO DE RESPOSTAS; evite usar borracha. É vedada a substituição do CARTÃO DE RESPOSTAS decorrente de erro cometido por candidato.
- Se o CARTÃO DE RESPOSTAS contiver maior número de alternativas e/ou de questões, preencha apenas as correspondentes à sua prova; as demais ficam em branco.
- Durante a realização da prova, não é permitida a comunicação entre candidatos nem a utilização de máquina calculadora e/ou similares, livros, anotações, réguas de cálculo, impressos ou qualquer outro material de consulta.
- O tempo de duração da prova objetiva será de **até 03 (três) horas**, incluído o tempo para preenchimento do Cartão de Respostas.
- Em todas as questões de legislação desta prova (se houver), serão consideradas as emendas e/ou alterações da legislação com entrada em vigor até a data do início das inscrições.
- Na prova de Português será exigida a norma ortográfica atualmente em vigor.
- Ao final dos trabalhos, **DEVOLVA** ao Fiscal da sala, juntamente com o CARTÃO DE RESPOSTAS devidamente preenchido e assinado, o CADERNO DE QUESTÕES, tendo em vista a obrigatoriedade de arquivo no Município.
- A parte destacável no final desta capa, que serve para copiar as suas respostas, somente poderá ser destacada no ato da entrega do material na mesa do fiscal.
- Ao final da prova objetiva, os três últimos candidatos de cada sala de prova deverão permanecer no recinto, a fim de acompanhar os fiscais até a coordenação para o lacre dos envelopes, quando, então, poderão retirar-se do local, simultaneamente, após concluído.

Direitos autorais reservados à Objetiva Concursos Ltda. Proibida a reprodução, ainda que parcial, sem autorização prévia.

Boa Prova!

Seriedade e ética: nós acreditamos nesses valores.

Nome do(a) Candidato(a)

Nº de inscrição

✂ ----- Esta parte destacável serve para copiar as suas respostas, somente poderá ser destacada no ato da entrega do material na mesa do fiscal. -----

01	<input type="checkbox"/>	02	<input type="checkbox"/>	03	<input type="checkbox"/>	04	<input type="checkbox"/>	05	<input type="checkbox"/>	06	<input type="checkbox"/>	07	<input type="checkbox"/>	08	<input type="checkbox"/>	09	<input type="checkbox"/>	10	<input type="checkbox"/>
11	<input type="checkbox"/>	12	<input type="checkbox"/>	13	<input type="checkbox"/>	14	<input type="checkbox"/>	15	<input type="checkbox"/>	16	<input type="checkbox"/>	17	<input type="checkbox"/>	18	<input type="checkbox"/>	19	<input type="checkbox"/>	20	<input type="checkbox"/>
21	<input type="checkbox"/>	22	<input type="checkbox"/>	23	<input type="checkbox"/>	24	<input type="checkbox"/>	25	<input type="checkbox"/>	26	<input type="checkbox"/>	27	<input type="checkbox"/>	28	<input type="checkbox"/>	29	<input type="checkbox"/>	30	<input type="checkbox"/>
31	<input type="checkbox"/>	32	<input type="checkbox"/>	33	<input type="checkbox"/>	34	<input type="checkbox"/>	35	<input type="checkbox"/>	36	<input type="checkbox"/>	37	<input type="checkbox"/>	38	<input type="checkbox"/>	39	<input type="checkbox"/>	40	<input type="checkbox"/>

Seriedade e ética: nós acreditamos nesses valores.

PORTUGUÊS

Pesquisas fornecem novas evidências para o início da vida na Terra

A origem da vida é um tema que, evidentemente, desperta curiosidade _____ milênios. Os recursos usados para esclarecer o assunto, contudo, mudaram ao longo dos anos. Muitas civilizações passadas, a exemplo da egípcia, usavam ações divinas para explicar o surgimento dos seres vivos. Algo, claro, que permanece até hoje.

Alguns cidadãos da Grécia Antiga, por outro lado, começaram a optar por teorias mais científicas. Hipócrates, o pai da medicina, acreditava que os quatro elementos, reproduzidos no corpo humano, eram responsáveis pela faísca da vida. Já Demócrito, seu _____ filósofo, via na junção de átomos a explicação para o fenômeno.

Desde então, há séculos que a humanidade usa a ciência como ferramenta para tentar compreender suas origens. Dois estudos publicados recentemente forneceram novas evidências que podem nos ajudar nessa longa caminhada em direção à fórmula da vida na Terra.

A primeira pesquisa foi fruto do trabalho de biólogos japoneses de diversos institutos. Pela primeira vez, cientistas conseguiram capturar e desenvolver em laboratório um micróbio semelhante àquele que pode ter dado início à vida complexa na Terra.

Trata-se de uma espécie antiga de arqueas, micro-organismos unicelulares muito parecidos com as bactérias, com um tipo de célula mais simples do que a de animais e plantas. Habitantes do mar profundo, esses seres são difíceis de se manter em um ambiente controlado, o que exigiu dos pesquisadores doze anos de esforços para cultivá-los apropriadamente.

A importância dessas arqueas é gigantesca para entender a origem da vida. Em seu material genético, foram encontrados, além dos genes frequentemente presentes em micróbios, marcadores genéticos típicos de eucariontes (células como as nossas, que possuem núcleo e outras estruturas mais complexas). Essa mistura de informações levou os cientistas a acreditarem que estavam em frente a um ser que pode ter servido de ponte entre as células simples e as mais desenvolvidas.

<https://veja.abril.com.br...> - adaptado.

1) Assinalar a alternativa que preenche as lacunas do texto CORRETAMENTE:

- a) a - contemporâneo
- b) há - contemporâneo
- c) a - contemporâneo
- d) há - contemporâneo

2) Sobre o texto, analisar os itens abaixo:

- I. Várias civilizações muito antigas, como a egípcia, utilizam ações divinas para explicar a origem da vida.
- II. Muitos estudiosos da Grécia Antiga utilizaram teorias mais científicas para explicar a origem da vida.
- III. Os cientistas conseguiram capturar e desenvolver em laboratório um micróbio distinto daquele que deu início à vida complexa em nosso planeta.

Está(ão) CORRETO(S):

- a) Somente o item I.
- b) Somente o item II.
- c) Somente os itens I e III.
- d) Somente os itens II e III.

3) Assinalar a alternativa em que o termo sublinhado é sujeito da oração:

- a) Houve problemas na reunião.
- b) Precisa-se de mentes criativas.
- c) A existência é frágil.
- d) Caíram os preços.

4) Considerando-se a formação de palavras, marcar C para as afirmativas Certas, E para as Erradas e, após, assinalar a alternativa que apresenta a sequência CORRETA:

- () "Pré-adolescente" é uma palavra composta.
- () "Desamor" é uma palavra derivada.

- a) C - C.
- b) C - E.
- c) E - C.
- d) E - E.

5) Em relação às regras de concordância verbal, assinalar a alternativa INCORRETA:

- a) Alugam-se apartamentos na serra.
- b) Haviam dúvidas em relação ao conteúdo.
- c) Soaram doze badaladas no relógio da praça.
- d) Restaram sonhos.

MATEMÁTICA

6) Em se tratando das regras de acentuação das palavras, numerar a 2ª coluna de acordo com a 1ª e, após, assinalar a alternativa que apresenta a sequência CORRETA:

- (1) Difícil.
(2) Público.
(3) Raízes.
- () Proparoxítona.
() Paroxítona.
() Hiato.
- a) 2 - 3 - 1.
b) 2 - 1 - 3.
c) 3 - 2 - 1.
d) 1 - 2 - 3.
-

7) Em “A substância é tóxica, logo deve ser manuseada cuidadosamente”, a oração coordenada destacada apresenta a mesma classificação da oração destacada em:

- a) Vem aqui, pois preciso de uma explicação.
b) Dormi tarde, mas acordei cedo.
c) Estudamos e depois jogamos bola.
d) O meu time venceu, portanto está classificado para a segunda fase do campeonato.
-

8) Quanto ao uso ou não da crase, assinalar a alternativa que preenche as lacunas abaixo CORRETAMENTE:

*Saíram _____ escondidas da festa de casamento.
Assistíamos _____ paciente, grávida de oito meses.*

- a) as - a
b) as - à
c) às - à
d) às - a
-

9) Quanto à pontuação, assinalar a alternativa CORRETA:

- a) Cláudia, venha logo!
b) Depois da prova, eu tenho, um jantar.
c) Luiz meu vizinho, está morando, aqui há algumas semanas.
d) A turma, não terminou, de limpar as mesas.
-

10) Em relação ao uso dos porquês, marcar C para as sentenças Certas, E para as Erradas e, após, assinalar a alternativa que apresenta a sequência CORRETA:

- () A promoção por que espero está quase chegando.
() Ele não pagou por que não gostou.
- a) E - E.
b) C - C.
c) E - C.
d) C - E.
-

11) João tem que escolher três camisas e duas bermudas para levar em uma viagem. Considerando-se que ele separou cinco camisas e quatro bermudas para escolher, ao todo, de quantos modos distintos ele pode fazer essa escolha?

- a) 30
b) 40
c) 50
d) 60
-

12) Sabe-se que a sombra de um mastro vertical é projetada pelo sol em um chão plano mede 8m. Nesse mesmo instante, a sombra de um pedaço de madeira vertical de 1m de altura mede 0,4m. Sendo assim, qual a altura do mastro?

- a) 18m
b) 20m
c) 22m
d) 24m
-

13) Certo boleto foi pago com atraso de 4 meses e gerou juros no valor de R\$ 28,64. Sabendo-se que a taxa de juros simples mensal é de 2%, qual o valor nominal desse boleto?

- a) R\$ 358,00
b) R\$ 361,00
c) R\$ 364,00
d) R\$ 366,00
-

14) A distância entre a cidade A e a cidade B é igual a 650km. Sabendo-se que uma pessoa percorreu 34% dessa distância antes de fazer uma pausa, pode-se afirmar que a distância total percorrida por ela antes da pausa foi:

- a) 206km
- b) 211km
- c) 215km
- d) 221km

15) Ao arremessar duas vezes um dado cúbico numerado de 1 a 6, qual a probabilidade de a soma das faces voltadas para cima ser igual a 2?

- a) 1/6
- b) 1/12
- c) 1/18
- d) 1/36

16) Qual a medida da hipotenusa de um triângulo retângulo cujos catetos medem 6cm e 8cm?

- a) 12cm
- b) 11cm
- c) 10cm
- d) 9cm

17) Em certa confeitaria, dois confeitários fazem 12 bolos em quatro horas. Considerando-se a mesma proporção, ao todo, quantos bolos três confeitários fazem em duas horas?

- a) 7
- b) 8
- c) 10
- d) 9

18) A quantidade total de clientes atendidos em um dia por certo vendedor corresponde ao valor de x , que satisfaz a equação abaixo. Sendo assim, quantos clientes foram atendidos por esse vendedor nesse dia?

$$4x - 116 = 36$$

- a) 38
- b) 40
- c) 42
- d) 44

19) Sabendo-se que o primeiro termo de certa progressão aritmética é igual a 5 e que a sua razão é igual a 6, qual o valor da soma dos 8 primeiros termos dessa progressão?

- a) 154
- b) 208
- c) 320
- d) 416




20) André, Bruno e Carlos são amigos e vão viajar para destinos diferentes durante as férias: Paris, Roma e Madri. Cada um irá por uma companhia diferente, A, B e C, não necessariamente nessa ordem. Sabendo-se que André não vai para Madri e vai pela companhia A, que Bruno não vai para Roma e que quem vai para Roma vai pela companhia B, assinalar a alternativa CORRETA:

- a) André vai para Paris.
- b) Bruno vai pela companhia B.
- c) Carlos vai para Madri.
- d) Bruno vai para Paris.

INFORMÁTICA

Atenção! Para responder às questões de Informática, a menos que seja explicitamente informado o contrário, considerar que os programas mencionados encontram-se na versão Português-BR e em sua configuração padrão de instalação, possuem licença de uso, o mouse está configurado para destros, um clique ou duplo clique correspondem ao botão esquerdo do mouse, e teclar corresponde à operação de pressionar uma tecla e, rapidamente, liberá-la, acionando-a apenas uma vez. Dessa forma, as teclas de atalho, os menus, os submenus, as barras, os ícones e os demais itens que compõem os programas abordados nesta prova encontram-se na configuração padrão.

21) Sobre o Word 2010, considerando-se alguns botões e seus nomes, numerar a 2ª coluna de acordo com a 1ª e, após, assinalar a alternativa que apresenta a sequência CORRETA:

- (1) 
- (2) 
- (3) 

- () Número de página.
- () Quebra de página.
- () Cabeçalho.

- a) 1 - 3 - 2.
- b) 3 - 2 - 1.
- c) 1 - 2 - 3.
- d) 2 - 1 - 3.

22) Em relação ao procedimento para desinstalação de um programa ou aplicativo no Windows 10, assinalar a alternativa INCORRETA:

- a) Clicar em Iniciar, localizar o programa, clicar com o botão direito em cima do ícone e selecionar a opção Desinstalar.
- b) Acessar o Painel de Controle, ir em Programas > Programas e Recursos, selecionar o programa na lista e clicar em Desinstalar/Alterar.
- c) Abrir o Gerenciador de Tarefas, localizar o programa na lista e clicar em Finalizar.
- d) Clicar em Iniciar > Configurações > Aplicativos > Aplicativos e recursos, selecionar o programa na lista e clicar em Desinstalar.

23) Assinalar a alternativa que preenche a lacuna abaixo CORRETAMENTE:

Ao navegar na internet, o usuário deve ter atenção ao que acessa ou baixa, de modo a evitar malwares. _____ são aqueles que permitem que os usuários compartilhem arquivos entre si e devem ser utilizados com atenção, pois os arquivos compartilhados podem conter códigos maliciosos e, assim, infectar o computador ou permitir que ele seja invadido.

- a) Editores de textos
- b) Editores de planilhas
- c) Programas de distribuição de arquivos (P2P)
- d) Programas de compactação de arquivos

24) Sobre os descuidos que podem causar a invasão da máquina por um código malicioso ou o roubo de dados pessoais dos usuários, ao navegar na internet, assinalar a alternativa CORRETA:

- a) Digitar o endereço diretamente na barra de endereços do navegador, evitando acesso por *links* que chegam via *e-mail*.
- b) Clicar em *links* reduzidos sem antes expandi-los com um complemento confiável do navegador.
- c) Utilizar conexões do tipo *https* em vez de *http*.
- d) Adicionar extensões legítimas de segurança no navegador.

25) Sobre *hardware*, assinalar a alternativa que preenche a lacuna abaixo CORRETAMENTE:

Hardware é um termo utilizado na informática para definir _____ do computador.

- a) as peças
- b) os jogos
- c) o sistema operacional
- d) os programas

LEGISLAÇÃO, CONHECIMENTOS GERAIS E ESPECÍFICOS

Conhecimentos Gerais

26) “O *Aedes Aegypti*, causador da dengue, pode transmitir também zika, chikungunya e, potencialmente, febre amarela. Logo, o controle do vetor torna-se imprescindível”.

<https://jornal.usp.br/atal...> - adaptado.

Em relação ao disposto na notícia acima, sobre formas de prevenção da proliferação do mosquito, assinalar a alternativa INCORRETA:

- a) Catar sacos plásticos e lixo do quintal.
- b) Limpar sempre a bandeja do ar condicionado.
- c) Tampar ralos.
- d) Manter galhos e folhas na calha.

Legislação e Conhecimentos Específicos

27) De acordo com a Constituição Federal, são bens da União:

- I. Os potenciais de energia hidráulica.
- II. Os recursos minerais, exceto os do subsolo.
- III. As cavidades naturais subterrâneas e os sítios arqueológicos e pré-históricos.

Está(ão) CORRETO(S):

- a) Nenhum dos itens.
- b) Somente os itens I e II.
- c) Somente os itens I e III.
- d) Somente os itens II e III.

28) Considerando-se a Lei Orgânica do Município, assinalar a alternativa que preenche as lacunas abaixo CORRETAMENTE:

O Prefeito e o Vice-Prefeito não poderão, sem licença da Câmara de Vereadores, ausentar-se do Município por mais de _____ dias, do Estado por mais de _____ dias ou do País por qualquer tempo, sob pena de perda do cargo.

- a) nove - cinco
- b) cinco - nove
- c) nove - dois
- d) cinco - dois

29) Considerando-se a Lei Municipal nº 105/1990 - Regime Jurídico dos Servidores Públicos do Município, analisar os itens abaixo:

- I. O servidor terá direito, anualmente, ao gozo de um período de férias, sem prejuízo da remuneração.
- II. Após cada período de vigência da relação entre o Município e o servidor, terá este o direito a férias de doze dias corridos, quando tiver de quinze a vinte e três faltas.

- a) Os itens I e II estão incorretos.
- b) Somente o item I está correto.
- c) Somente o item II está correto.
- d) Os itens I e II estão corretos.

30) Em conformidade com a Lei nº 13.146/2015 - Estatuto da Pessoa com Deficiência, analisar a sentença abaixo:

Nem toda pessoa com deficiência tem direito à igualdade de oportunidades com as demais pessoas e sofrerá alguma espécie de discriminação (1ª parte). A pessoa com deficiência não poderá ser protegida de toda forma de negligência, discriminação, exploração, violência, tortura, crueldade, opressão e tratamento desumano ou degradante (2ª parte).

A sentença está:

- a) Totalmente correta.
- b) Correta somente em sua 1ª parte.
- c) Correta somente em sua 2ª parte.
- d) Totalmente incorreta.

31) Sobre o disposto na Lei Complementar nº 101/2000 - Lei de Responsabilidade Fiscal, marcar C para as afirmativas Certas, E para as Erradas e, após, assinalar a alternativa que apresenta a sequência CORRETA:

- () A empresa controlada pelo setor público que firmar contrato de gestão em que se estabeleçam objetivos e metas de desempenho, na forma da Lei, não disporá de autonomia gerencial, orçamentária e financeira.
- () A empresa controlada incluirá em seus balanços trimestrais nota explicativa em que informará, entre outros, o fornecimento de bens e serviços ao controlador, com respectivos preços e condições, comparando-os com os praticados no mercado.

- a) E - E.
- b) C - E.
- c) E - C.
- d) C - C.

32) Considerando-se a Lei nº 8.429/1992 - Lei de Improbidade Administrativa, com relação à declaração de bens, assinalar a alternativa que preenche as lacunas abaixo CORRETAMENTE:

A declaração compreenderá imóveis, móveis, semoventes, dinheiro, títulos, ações e qualquer outra espécie de bens e valores patrimoniais localizada _____, e _____ abrangerá os bens e valores patrimoniais do cônjuge ou companheiro, dos filhos e de outras pessoas que vivam sob a dependência econômica do declarante, excluídos apenas os objetos e utensílios _____.

- a) no Município ou no Estado - obrigatoriamente - de uso doméstico
- b) no Estado ou no País - por escolha do declarante - de até R\$ 5.000,000
- c) no País ou no exterior - quando for o caso - de uso doméstico
- d) no Município - obrigatoriamente - de valor irrisório

33) Em relação à Lei nº 8.666/1993, analisar a sentença abaixo:

As obras, serviços, inclusive de publicidade, compras, alienações, concessões, permissões e locações da Administração Pública, quando contratadas com terceiros, serão necessariamente precedidas de licitação, ressalvadas as hipóteses previstas nesta Lei (1ª parte). Para os fins desta Lei, considera-se contrato todo e qualquer ajuste entre órgãos ou entidades da Administração Pública e particulares em que haja um acordo de vontades para a formação de vínculo e a estipulação de obrigações recíprocas, seja qual for a denominação utilizada (2ª parte).

A sentença está:

- a) Totalmente correta.
- b) Correta somente em sua 1ª parte.
- c) Correta somente em sua 2ª parte.
- d) Totalmente incorreta.

34) De acordo com ALEXANDRINO e PAULO, a Administração Pública, em sentido formal, é:

- a) O conjunto de atividades que costumam ser consideradas próprias da função administrativa.
- b) A mesma definição de Administração Pública, em sentido objetivo ou funcional.
- c) A atividade e não obrigatoriamente quem a exerce, conforme o que o conceito adota como referência.
- d) O conjunto de órgãos, pessoas jurídicas e agentes que o ordenamento jurídico identifica como Administração Pública.

35) O princípio da supremacia do interesse público é:

- a) Integralmente sujeito ao ordenamento jurídico/lei.
- b) A exigência de atuação ética dos agentes da Administração Pública.
- c) Característico do regime de direito público.
- d) Praticado visando aos interesses de agentes ou de terceiros.

36) Segundo o Manual de Redação da Presidência da República, a finalidade básica da Redação Oficial é comunicar com:

- a) Subjetividade e máxima clareza.
- b) Subjetividade e máxima imprecisão.
- c) Objetividade e máxima clareza.
- d) Objetividade e máxima imprecisão.

37) Considerando-se o Manual de Redação da Presidência da República, com relação às partes do documento no padrão ofício, analisar os itens abaixo:

- I. Não deve ser utilizada numeração de páginas.
- II. Cabeçalho.
- III. Identificação do signatário.
- IV. Assunto.

Estão CORRETOS:

- a) Somente os itens I e II.
- b) Somente os itens I e III.
- c) Somente os itens II, III e IV.
- d) Todos os itens.

38) Em conformidade com KASPARY, no que se refere aos tipos de alvará, analisar a sentença abaixo:

O alvará de licença tem caráter definitivo e, por essa razão, só pode ser revogado por motivos de interesse público, mediante completa indenização (1ª parte). O alvará de autorização tem caráter precário, podendo ser cassado sumariamente e sem qualquer indenização (2ª parte).

A sentença está:

- a) Totalmente correta.
- b) Correta somente em sua 1ª parte.
- c) Correta somente em sua 2ª parte.
- d) Totalmente incorreta.

39) Assinalar a alternativa que preenche as lacunas abaixo CORRETAMENTE:

O balanço patrimonial é dividido em duas colunas: a do lado esquerdo é denominada _____, a do lado direito, _____, sendo essa uma nomenclatura _____.

- a) Passivo - Ativo apenas - necessária
- b) Ativo - Passivo e Patrimônio Líquido - meramente convencional
- c) Ativo - Passivo apenas - necessária
- d) Passivo - Ativo e Patrimônio Líquido - meramente convencional

40) Em conformidade com MEDEIROS e HERNANDES, considerando-se que a pesquisa bibliográfica apresenta algumas etapas, assinalar a alternativa que apresenta a etapa que consiste na obtenção e reunião do material desejado:

- a) Identificação.
- b) Localização.
- c) Compilação.
- d) Fichamento.