

Auxiliar Administrativo

- Confira devidamente o material (CARTÃO DE RESPOSTAS e CADERNO DE QUESTÕES); se houver falha, solicite a substituição ao fiscal.
- Este caderno de questões está assim constituído:

DISCIPLINAS	Nº QUESTÕES
Português	10
Matemática	10
Informática	05
Legislação, Conhecimentos Gerais e Específicos	15
Total de questões	40

- Após conferir seus dados no cartão de respostas (NOME, Nº da INSCRIÇÃO e CARGO), assine no local indicado.
- O CARTÃO DE RESPOSTAS é o único documento de correção, devendo ser preenchido com bastante atenção, à caneta esferográfica, azul ou preta, ponta grossa, marcando uma única alternativa em cada questão. Verifique no cartão de respostas as instruções para preenchimento. Não rasure, não amasse nem dobre o CARTÃO DE RESPOSTAS; evite usar borracha. É vedada a substituição do CARTÃO DE RESPOSTAS decorrente de erro cometido por candidato.
- Se o CARTÃO DE RESPOSTAS contiver maior número de alternativas e/ou de questões, preencha apenas as correspondentes à sua prova; as demais ficam em branco.
- Durante a realização da prova, não é permitida a comunicação entre candidatos nem a utilização de máquina calculadora e/ou similares, livros, anotações, réguas de cálculo, impressos ou qualquer outro material de consulta.
- O tempo de duração da prova objetiva será de **até três horas**, incluído o tempo para preenchimento do Cartão de Respostas. O candidato somente poderá levar consigo seu caderno de provas após uma hora contada do efetivo início das provas. Ao candidato que sair antes de uma hora contada do efetivo início das provas, será permitido copiar seu cartão de respostas, para conferência com o gabarito oficial.
- Em todas as questões de legislação desta prova (se houver), serão consideradas as emendas e/ou alterações da legislação com entrada em vigor até a data do início das inscrições.
- Na prova de Português será exigida a norma ortográfica atualmente em vigor.
- Ao final dos trabalhos, **DEVOLVA** ao Fiscal da sala o CARTÃO DE RESPOSTAS devidamente preenchido e assinado.
- Ao final da prova objetiva, os três últimos candidatos de cada sala de prova deverão permanecer no recinto, a fim de acompanhar os fiscais até a coordenação para o lacre dos envelopes, quando, então, poderão retirar-se do local, simultaneamente, após concluído.

Direitos autorais reservados à Objetiva Concursos Ltda. Proibida a reprodução, ainda que parcial, sem autorização prévia.

Boa Prova!

Seriedade e ética: nós acreditamos nesses valores.

Nome do(a) Candidato(a)

Nº de inscrição

✂ ----- Esta parte destacável serve para copiar as suas respostas, somente poderá ser destacada no ato da entrega do material na mesa do fiscal.

01	<input type="checkbox"/>	02	<input type="checkbox"/>	03	<input type="checkbox"/>	04	<input type="checkbox"/>	05	<input type="checkbox"/>	06	<input type="checkbox"/>	07	<input type="checkbox"/>	08	<input type="checkbox"/>	09	<input type="checkbox"/>	10	<input type="checkbox"/>
11	<input type="checkbox"/>	12	<input type="checkbox"/>	13	<input type="checkbox"/>	14	<input type="checkbox"/>	15	<input type="checkbox"/>	16	<input type="checkbox"/>	17	<input type="checkbox"/>	18	<input type="checkbox"/>	19	<input type="checkbox"/>	20	<input type="checkbox"/>
21	<input type="checkbox"/>	22	<input type="checkbox"/>	23	<input type="checkbox"/>	24	<input type="checkbox"/>	25	<input type="checkbox"/>	26	<input type="checkbox"/>	27	<input type="checkbox"/>	28	<input type="checkbox"/>	29	<input type="checkbox"/>	30	<input type="checkbox"/>
31	<input type="checkbox"/>	32	<input type="checkbox"/>	33	<input type="checkbox"/>	34	<input type="checkbox"/>	35	<input type="checkbox"/>	36	<input type="checkbox"/>	37	<input type="checkbox"/>	38	<input type="checkbox"/>	39	<input type="checkbox"/>	40	<input type="checkbox"/>

Seriedade e ética: nós acreditamos nesses valores.

PORTUGUÊS

_____ o Macchu Picchu está em um local tão acidentado?

No topo de uma montanha peruana de quase 2,5 quilômetros de altitude, está situado o santuário inca de Macchu Picchu. Símbolo de uma civilização antiga, o local desperta _____ décadas a curiosidade dos cientistas, intrigados com o fato de uma sociedade despossuída das tecnologias atuais ter construído a chamada “cidade perdida” em uma região tão acidentada e difícil de manejar.

Foi anunciado um estudo, liderado pelo geólogo brasileiro Rualdo Menegat (da Universidade Federal do Rio Grande do Sul), que busca elucidar o assunto. O cientista sugeriu que a construção do Macchu Picchu em um ponto de encontro entre placas tectônicas – o que culmina em um relevo desigual – se deu por causa, e não apesar, do tipo de terreno da região. De acordo com o pesquisador, teria sido impossível erguer a cidade em altas montanhas (como exigia a religião dos incas, que valorizava a altitude e a vista) se o solo não fosse acidentado.

O estudo foi baseado em imagens capturadas por satélites e medições feitas no próprio local. Ao mapear as fraturas geológicas presentes na América do Sul, Menegat descobriu que as falhas responsáveis pela elevação da porção central da Cordilheira dos Andes se cruzam e formam um “X” exatamente embaixo do Macchu Picchu. Outras cidades incas, como Cusco e Ollantaytambo, também estão localizadas no encontro de fraturas de relevo.

Os resultados da pesquisa apontam que a rede de falhas geológicas na região proporcionou diversas vantagens aos incas. Um bom exemplo é o fornecimento de água: os desníveis permitiam que a água de degelo, assim como a proveniente da chuva, escorresse diretamente para a cidade. Além disso, a altitude protege o santuário de avalanches e escorregamentos de terra, que são muito comuns na região.

O estudo reitera o fato de que civilizações antigas possuíam conhecimentos profundos sobre determinados assuntos, _____ exemplo da construção e do planejamento de edificações. Afinal, em um mundo de tecnologia escassa, o povo inca foi capaz de organizar a estrutura de uma cidade com surpreendente eficiência.

<https://veja.abril.com.br/ciencia...> - adaptado.

1) Assinalar a alternativa que preenche as lacunas do texto CORRETAMENTE:

- a) Porque - a - a
- b) Porque - há - à
- c) Por que - há - a
- d) Por que - a - à

2) De acordo com o texto, marcar C para as afirmativas Certas, E para as Erradas e, após, assinalar a alternativa que apresenta a sequência CORRETA:

- () Macchu Picchu estimula a curiosidade de cientistas, pois os incas não possuíam as atuais tecnologias de construção e o terreno em que está situado é de difícil manipulação.
- () Sendo o solo acidentado, foi possível construir a “cidade perdida” em altas montanhas.
- () O fato de o solo ser acidentado foi muito prejudicial para os incas. Por exemplo, a água escorria pela montanha e não chegava até o povo na cidade.

- a) E - E - E.
- b) C - C - E.
- c) C - E - C.
- d) E - C - C.

3) Segundo seu sentido no texto, a palavra “escassa” (último parágrafo) encontra um antônimo em:

- a) Parca.
- b) Minguada.
- c) Reduzida.
- d) Farta.

4) A palavra “civilização” forma o plural mudando a terminação -ão para -ões, formando “civilizações” (último parágrafo). Também forma o plural da mesma maneira a palavra:

- a) Nação.
- b) Escrivão.
- c) Pagão.
- d) Cidadão.

5) Assinalar a alternativa na qual a palavra sublinhada é um pronome relativo:

- a) O cientista sugeriu que a construção do Macchu Picchu em um ponto de encontro entre placas tectônicas – o que culmina em um relevo desigual – se deu por causa, e não apesar, do tipo de terreno da região.
- b) Menegat descobriu que as falhas responsáveis pela elevação da porção central da Cordilheira dos Andes se cruzam e formam um “X” exatamente embaixo do Macchu Picchu.
- c) Os resultados da pesquisa apontam que a rede de falhas geológicas na região proporcionou diversas vantagens aos incas.
- d) Além disso, a altitude protege o santuário de avalanches e escorregamentos de terra, que são muito comuns na região.

MATEMÁTICA

6) Assinalar a alternativa que apresenta uma palavra com grafia CORRETA:

- a) Degladiar.
- b) Meteorologia.
- c) Beneficiente.
- d) Supérfulo.

7) Considerando-se a classificação dos termos sublinhados das orações, numerar a 2ª coluna de acordo com a 1ª e, após, assinalar a alternativa que apresenta a sequência CORRETA:

- (1) Complemento nominal.
- (2) Agente da passiva.
- (3) Objeto indireto.

- () Depois de sair do cinema, ela foi vista por sua mãe.
- () Não precisa mais dar dinheiro a ela.
- () Ele é indiferente à opinião de todos.

- a) 1 - 2 - 3.
- b) 3 - 2 - 1.
- c) 2 - 3 - 1.
- d) 2 - 1 - 3.

8) Em “Faz dois anos que não a vejo, pois ela se mudou para outro país.”, a oração sublinhada expressa ideia de:

- a) Causa.
- b) Consequência.
- c) Condição.
- d) Finalidade.

9) Assinalar a alternativa que preenche a lacuna abaixo CORRETAMENTE:

Suponho que tu _____ chegar mais tarde que o combinado.

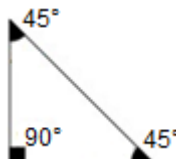
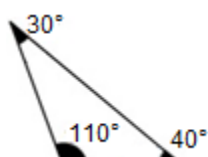
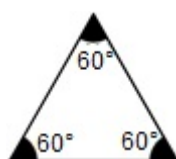
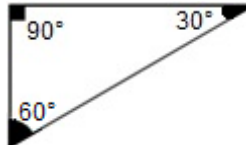
- a) vá
- b) vás
- c) vai
- d) for

10) De acordo com as regras de pontuação, analisar os itens abaixo:

- I. Se não houvesse essas campanhas a população, brasileira, estaria com uma educação pior ainda.
- II. Tenha quantos filhos quiser; saiba porém, que não será fácil.

- a) Os itens I e II estão corretos.
- b) Somente o item I está correto.
- c) Somente o item II está correto.
- d) Os itens I e II estão incorretos.

11) Considerando-se a classificação dos triângulos quanto à medida dos seus ângulos, assinalar a alternativa que apresenta um triângulo obtusângulo:

- a) 
- b) 
- c) 
- d) 

12) João gosta de se exercitar e como aquecimento ele dá duas voltas completas no quarteirão onde mora. Sabendo-se que o quarteirão onde João mora possui formato quadrado em que o lado possui 115m de comprimento, pode-se afirmar que a distância total percorrida por ele no aquecimento é igual a:

- a) 460m
- b) 680m
- c) 840m
- d) 920m

13) Sabendo-se que o lado de certo quadrado mede 3cm, quanto mede a diagonal desse quadrado?

- a) 3cm
- b) 4cm
- c) $3\sqrt{2}$ cm
- d) $4\sqrt{2}$ cm

14) Pedro fez um investimento com valor inicial de R\$ 1.000,00. Após 48 meses investido, ele resgata um valor total de R\$ 1.720,00. Sabendo-se que esse investimento gerava juros simples ao mês, qual a taxa de juros incidente sobre essa transação?

- a) 1%
- b) 1,5%
- c) 2%
- d) 2,5%

15) Ao arremessar uma moeda 3 vezes, qual a probabilidade de se obter três caras?

- a) 1/16
- b) 1/8
- c) 1/4
- d) 1/2

16) Analisando-se as matrizes abaixo, assinalar a alternativa que apresenta uma matriz simétrica:

a) $A = \begin{bmatrix} 1 & 2 & 3 \\ 2 & 1 & 4 \\ 3 & 4 & 1 \end{bmatrix}$

b) $A = \begin{bmatrix} 1 & 4 & 3 \\ 2 & 1 & 2 \\ 3 & 4 & 1 \end{bmatrix}$

c) $A = \begin{bmatrix} 1 & 2 & 3 \\ 0 & 1 & 4 \\ 0 & 0 & 1 \end{bmatrix}$

d) $A = \begin{bmatrix} 1 & 2 & 3 \\ 2 & 1 & 4 \\ 0 & 4 & 1 \end{bmatrix}$

17) Sabe-se que o quinto termo de certa progressão geométrica é igual a 243 e que a razão dessa progressão é igual a 3. Sendo assim, qual é o primeiro termo dessa progressão?

- a) 3
- b) 4
- c) 5
- d) 6

18) Um grupo de três operários consegue descarregar 66 caixas em um depósito em 2 horas de trabalho. Considerando-se o mesmo ritmo de trabalho por operário, ao todo, quantas caixas dois operários conseguem descarregar em 4 horas de trabalho?

- a) 80
- b) 84
- c) 86
- d) 88

19) João comprou quatro camisas e duas bermudas e pagou um total de R\$ 110,00. Pedro comprou duas camisas e cinco bermudas e pagou um total de R\$ 115,00. Sabendo-se que todas as camisas possuem o mesmo valor e que todas as bermudas também possuem o mesmo valor, qual o valor unitário da camisa e da bermuda, respectivamente?

- a) R\$ 15,00 e R\$ 20,00.
- b) R\$ 20,00 e R\$ 15,00.
- c) R\$ 10,00 e R\$ 30,00.
- d) R\$ 30,00 e R\$ 10,00.

20) Analisando-se a sequência lógica abaixo, assinalar a alternativa que apresenta o próximo termo da sequência, de modo que se mantenha o padrão:

3, 6, 8, 16, 18, 36, 38, ?

- a) 40
- b) 66
- c) 68
- d) 76

INFORMÁTICA

Atenção! Para responder às questões de Informática, a menos que seja explicitamente informado o contrário, considerar que os programas mencionados encontram-se na versão Português-BR e em sua configuração padrão de instalação, possuem licença de uso, o mouse está configurado para destros, um clique ou duplo clique correspondem ao botão esquerdo do mouse, e teclar corresponde à operação de pressionar uma tecla e, rapidamente, liberá-la, acionando-a apenas uma vez. Dessa forma, as teclas de atalho, os menus, os submenus, as barras, os ícones e os demais itens que compõem os programas abordados nesta prova encontram-se na configuração padrão.

21) Considerando-se que as relações entre as medidas abaixo seguem o prefixo binário, assinalar a alternativa CORRETA:

- a) 64 *Gigabytes* são maiores que 64 *Terabytes*.
- b) 32 *Bytes* equivalem a 256 *Bits*.
- c) 16 *Megabytes* são menores que 16 *Kilobytes*.
- d) 1 *Kilobyte* equivale a 1024 *Bits*.

22) Considerando-se uma planilha do Excel 2016, em que a coluna A contém endereços completos (tipo de logradouro, nome do logradouro e número), ao deixar selecionada a célula C1 e clicar na funcionalidade Preenchimento Relâmpago, o resultado será:

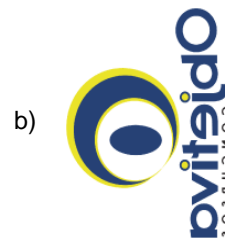

	A	B	C	D
1	Avenida Borges de Medeiros, 1565	Avenida	Borges de Medeiros	1565
2	Rua Padre Chagas, 185			
3	Avenida Manoel Elias, 74			
4	Rua Washington Luiz, 500			
5	Rua Siqueira Campos, 1171			
6	Avenida Alberto Bins, 850			
7	Avenida Praia de Belas, 604			
8	Travessa Francisco Leonardo, 49			
9	Alameda Três de Outubro, 55			
10	Avenida Protásio Alves, 592			

- a) Nenhuma ação será realizada.
- b) As células C2 até C10 ficarão idênticas à célula C1.
- c) Somente a coluna C ficará preenchida com o nome do logradouro da correspondente linha.
- d) As colunas B, C e D ficarão todas preenchidas conforme o padrão da linha 1.

23) Um usuário, ao utilizar o Word 2016, selecionou a figura inicial abaixo (nesta posição) e aplicou duas ações, na seguinte ordem: girar 90° para a direita e inverter horizontalmente:



Dessa forma, a posição da imagem resultante ficou com qual aparência?



24) Ao utilizar o Outlook 2016, a funcionalidade que permite, no agendamento de reuniões, verificar se salas e participantes estão disponíveis chama-se:

- a) Assistente de Agendamento.
- b) Encaminhar para Contato.
- c) Marcar com Estrela.
- d) Anotação de Reunião.

25) Segundo a Cartilha de Segurança para a Internet, *blacklist* é :

- I. Uma lista de *e-mails*, domínios ou endereços IP, reconhecidamente fontes de *spam*.
- II. Uma rede formada por centenas ou milhares de computadores infectados com *bots*.
- III. Um recurso utilizado, tanto em servidores como em programas leitores de *e-mails*, para bloquear as mensagens suspeitas de ser *spam*.

Está(ão) CORRETO(S):

- a) Somente o item I.
- b) Somente o item II.
- c) Somente os itens I e III.
- d) Somente os itens II e III.

LEGISLAÇÃO, CONHECIMENTOS GERAIS E ESPECÍFICOS

26) São brasileiros natos, EXCETO aqueles:

- a) Nascidos na República Federativa do Brasil, ainda que de pais estrangeiros, desde que estes não estejam a serviço de seu país.
- b) Nascidos no estrangeiro, de pai brasileiro ou mãe brasileira, desde que qualquer deles esteja a serviço da República Federativa do Brasil.
- c) Nascidos no estrangeiro de pai brasileiro ou de mãe brasileira, desde que sejam registrados em repartição brasileira competente ou venham a residir na República Federativa do Brasil e optem, em qualquer tempo, depois de atingida a maioridade, pela nacionalidade brasileira.
- d) Que, na forma da Lei, adquiram a nacionalidade brasileira, exigidas aos originários de países de língua portuguesa apenas residência por um ano ininterrupto e idoneidade moral.

27) Segundo a Lei Complementar nº 101/2000 - Lei de Responsabilidade Fiscal, no que se refere à Lei Orçamentária Anual, assinalar a alternativa INCORRETA:

- a) Todas as despesas relativas à dívida pública, mobiliária ou contratual, e as receitas que as atenderão, constarão da lei orçamentária anual.
- b) O refinanciamento da dívida pública constará separadamente na lei orçamentária e nas de crédito adicional.
- c) A atualização monetária do principal da dívida mobiliária refinanciada poderá superar a variação do índice de preços previsto na lei de diretrizes orçamentárias, ou em legislação específica.
- d) É vedado consignar na lei orçamentária crédito com finalidade imprecisa ou com dotação ilimitada.

28) Segundo a Lei nº 8.429/1992 - Lei de Improbidade Administrativa, marcar C para as afirmativas Certas, E para as Erradas e, após, assinalar a alternativa que apresenta a sequência CORRETA:

- () No caso de enriquecimento ilícito, o agente público ou terceiro beneficiário poderá manter para si os bens ou valores acrescidos ao seu patrimônio.
- () Quando o ato de improbidade ensejar enriquecimento ilícito, caberá à autoridade administrativa responsável pelo inquérito representar ao Ministério Público, para a indisponibilidade dos bens do indiciado.

- a) E - C.
- b) C - C.
- c) E - E.
- d) C - E.

29) Em relação à Lei nº 10.520/2002, analisar a sentença abaixo:

Os atos essenciais do pregão, inclusive os decorrentes de meios eletrônicos, serão documentados no processo respectivo, com vistas à aferição de sua regularidade pelos agentes de controle (1ª parte). No âmbito do Ministério da Defesa, as funções de pregoeiro e de membro da equipe de apoio não poderão ser desempenhadas por militares (2ª parte).

A sentença está:

- a) Totalmente correta.
- b) Correta somente em sua 1ª parte.
- c) Correta somente em sua 2ª parte.
- d) Totalmente incorreta.

30) De acordo com a Lei nº 12.527/2011 - Lei de Acesso a Informações, aos órgãos e entidades do poder público, observadas as normas e procedimentos específicos aplicáveis, cabe assegurar a:

- I. Proteção da informação pessoal, observada a sua disponibilidade, autenticidade, integridade e eventual restrição de acesso.
- II. Gestão transparente da informação, propiciando restrito acesso a ela e sua divulgação.
- III. Proteção da informação, garantindo-se sua disponibilidade, autenticidade e integridade.

Estão CORRETOS:

- a) Somente os itens I e II.
- b) Somente os itens I e III.
- c) Somente os itens II e III.
- d) Todos os itens.

31) Considerando-se a Lei nº 13.146/2015, assinalar a alternativa que preenche as lacunas abaixo CORRETAMENTE:

Em _____ áreas de estacionamento aberto ao público, de uso público ou privado de uso coletivo e em vias públicas, devem ser reservadas vagas próximas aos acessos de circulação de _____, devidamente sinalizadas, para veículos que transportem pessoa com deficiência com comprometimento de mobilidade, desde que devidamente identificados.

- a) todas as - automóveis
- b) algumas - automóveis
- c) todas as - pedestres
- d) algumas - pedestres

32) Segundo a Lei Orgânica do Município, assinalar a alternativa CORRETA:

- a) Contrair empréstimos externos sem prévia autorização do Senado Federal é competência do Município.
- b) O Município pode celebrar convênios com a União, o Estado e Municípios, devendo cientificar a Câmara da formalização deste para a execução de suas leis, serviços e decisões, bem como para executar encargos análogos dessas esferas.
- c) É permitido ao Município estabelecer cultos religiosos ou manter com eles ou seus representantes relações de dependência ou aliança.
- d) O Poder Legislativo do Município é exercido pelo Prefeito Municipal, nos termos desta Lei.

33) Segundo a Lei Municipal nº 836/2001 - Regime Jurídico dos Servidores Públicos do Município, no que se refere à posse, analisar os itens abaixo:

- I. É o desempenho das atribuições do cargo pelo servidor.
- II. Dar-se-á no prazo de até cinco dias contados da data de publicação do ato de nomeação, podendo, a pedido, ser prorrogado por igual período.
- III. No ato da posse, o nomeado apresentará, obrigatoriamente, declaração sobre o exercício de outro cargo, emprego ou função pública e, nos casos que a lei indicar, declaração de bens e valores que constituam seu patrimônio.

Está(ão) CORRETO(S):

- a) Somente o item III.
- b) Somente os itens I e II.
- c) Somente os itens I e III.
- d) Somente os itens II e III.

34) De acordo com DI PIETRO, a possibilidade de formularem propostas dentre as quais se selecionará a mais conveniente para a celebração do contrato refere-se ao conceito de:

- a) Serviço público.
- b) Licitações.
- c) Contratos administrativos.
- d) Atos administrativos.

35) Sobre os atos discricionários, assinalar a alternativa CORRETA:

- a) A lei determina quanto à escolha do objeto.
- b) Referem-se exclusivamente a fato da administração, pois não produzem efeitos jurídicos.
- c) A administração pode praticar com certa liberdade de escolha.
- d) O motivo é objetivamente determinado como uma única e obrigatória atuação administrativa.

36) Na redação oficial, podem ser identificados seis padrões básicos para as orações pessoais em Língua Portuguesa. Em relação a esses padrões, numerar a 2ª coluna de acordo com a 1ª e, após, assinalar a alternativa que apresenta a sequência CORRETA:

- (1) O Presidente regressou ontem.
- (2) O Chefe da Divisão assinou o termo de posse.
- (3) O Brasil precisa de gente honesta em todos os setores.
- (4) Os desempregados entregaram suas reivindicações ao Deputado no Congresso.
- (5) O Presidente voltou da Europa.
- (6) O problema será resolvido prontamente.

- () Sujeito - verbo transitivo indireto - objeto indireto - adjunto adverbial.
- () Sujeito - verbo transitivo indireto - complemento adverbial.
- () Sujeito - verbo intransitivo - adjunto adverbial.
- () Sujeito - verbo transitivo direto - objeto direto.
- () Sujeito - verbo de ligação - predicativo - adjunto adverbial.
- () Sujeito - verbo transitivo direto e indireto - objeto direto - objeto indireto - adjunto adverbial.

- a) 2 - 1 - 5 - 6 - 3 - 4.
- b) 4 - 2 - 1 - 5 - 6 - 3.
- c) 3 - 5 - 2 - 1 - 4 - 6.
- d) 3 - 5 - 1 - 2 - 6 - 4.

37) De acordo com KASPARY, sobre os tipos de alvará, marcar C para as afirmativas Certas, E para as Erradas e, após, assinalar a alternativa que apresenta a sequência CORRETA:

- () O alvará de licença tem caráter precário, podendo ser cassado sumariamente e sem qualquer indenização.
- () O alvará de autorização tem caráter definitivo e, por essa razão, só pode ser revogado por motivos de interesse público, mediante completa indenização.

- a) E - C.
- b) C - C.
- c) E - E.
- d) C - E.

38) Acerca dos documentos de arquivo, analisar a sentença abaixo:

Gestão de documentos é o conjunto de procedimentos e operações técnicas referentes à produção, tramitação, uso, avaliação e arquivamento de documentos em fase corrente e intermediária (1ª parte). Espécie documental é a configuração de um documento de acordo com a natureza das informações nele contidas somente (2ª parte). Documentação especial é a documentação composta por gêneros documentais textuais (3ª parte).

A sentença está:

- a) Totalmente correta.
- b) Correta somente em sua 1ª parte.
- c) Correta somente em sua 2ª parte.
- d) Correta somente em sua 3ª parte.

39) A escrituração é uma técnica contábil que consiste no registro de todos os fatos administrativos resultantes da gestão do patrimônio da entidade. Acerca do que compõe a escrituração, assinalar a alternativa CORRETA:

- a) As fianças a favor de terceiros devem ser contabilizadas através das contas de compensação.
- b) Atos administrativos são aqueles que ocorrem na empresa e que não provocam alterações no patrimônio, não precisando, em nenhuma hipótese, serem contabilizados.
- c) Embora não alterem, de forma alguma, o patrimônio líquido, os fatos administrativos provocam modificações no patrimônio, sendo objeto de contabilização através das contas patrimoniais ou das de resultado.
- d) Os fatos administrativos podem ser classificados somente em dois grupos: permutativos, qualitativos ou compensatórios e modificativos ou quantitativos.

40) Sobre as irregularidades patrimoniais, analisar os itens abaixo:

- I. As irregularidades podem acontecer, dentre outras situações, por avaria, que é o dano parcial ou total do bem ou de seus componentes, decorrente de uso indevido, desgaste natural ou sinistro.
- II. No caso de perda ou extravio sem o conhecimento da causa ou do responsável, será indicada a abertura de Sindicância para apuração de responsabilidades.

- a) Os itens I e II estão incorretos.
- b) Somente o item I está correto.
- c) Somente o item II está correto.
- d) Os itens I e II estão corretos.