

CADERNO DE PROVA

S02 | Arquiteto

Instruções



Confira o número que você obteve no ato da inscrição com o que está indicado no cartão-resposta.

* A duração da prova inclui o tempo para o preenchimento do cartão-resposta.

Para fazer a prova você usará:

- este **caderno de prova**.
- um **cartão-resposta** que contém o seu nome, número de inscrição e espaço para assinatura.

Verifique, no caderno de prova, se:

- faltam folhas e a sequência de questões está correta.
- há imperfeições gráficas que possam causar dúvidas.

Comunique imediatamente ao fiscal qualquer irregularidade!

Atenção!

- Não é permitido qualquer tipo de consulta durante a realização da prova.
- Para cada questão são apresentadas 5 alternativas diferentes de respostas (a, b, c, d, e). Apenas uma delas constitui a resposta correta em relação ao enunciado da questão.
- A interpretação das questões é parte integrante da prova, não sendo permitidas perguntas aos fiscais.
- Não destaque folhas da prova.

Ao terminar a prova, entregue ao fiscal o caderno de prova completo e o cartão-resposta devidamente preenchido e assinado.



19 de dezembro



35 questões



15h30 às 19h



3h30 de duração*

Prefeitura de
TIJUCAS



CONCURSO PÚBLICO

*destinado ao provimento de vagas no
quadro de Servidores do Município*



Tijucas
criando-se aqui!

Língua Portuguesa

10 questões

Texto 1**IDHM em Tijucas**

A escolaridade da população adulta é importante indicador de acesso a conhecimento e também compõe o IDHM Educação. Em 2010, 55,11% da população de 18 anos ou mais de idade tinha completado o ensino fundamental e 38,05% o ensino médio. Em Santa Catarina, 58,87% e 40,41%, respectivamente. Esse indicador carrega uma grande inércia, em função do peso das gerações mais antigas e de menos escolaridade. A taxa de analfabetismo da população de 18 anos ou mais diminuiu 8,95% nas últimas duas décadas.

Os anos esperados de estudo indicam o número de anos que a criança que inicia a vida escolar no ano de referência tende a completar. Em 2010, Tijucas tinha 9,73 anos esperados de estudo, em 2000 tinha 9,44 anos e em 1991 tinha 9,79 anos. Enquanto que Santa Catarina, tinha 10,24 anos esperados de estudo em 2010, 10,13 anos em 2000 e 9,93 anos em 1991.

Disponível em: <<https://professordegeografiaatual.blogspot.com/2013/08/atlas-do-desenvolvimento-humano.html>>
Acesso em: 21 nov. 2021. [Adaptado].

1. Sobre o texto 1, assinale a alternativa correta.

- a. Mais da metade da população adulta de Tijucas tinha completado o ensino médio em 2010.
- b. Em Tijucas, o ano de referência para as crianças completarem seus estudos aumentou no período de 2000 a 2010.
- c. Considerando o ano de 2010, o indicador de acesso da população adulta ao ensino fundamental em Santa Catarina era inferior ao indicador de Tijucas.
- d. A taxa de analfabetismo em Tijucas aumentou no período de 1991 a 2010 devido à falta de iniciativa da população adulta.
- e. Em relação à população com idade superior a 18 anos, o Índice de Desenvolvimento Humano Municipal em Educação de Tijucas em 2010 apresentou indicadores superiores à média do Estado de Santa Catarina.

Texto 2**Aumentar teto para pagar auxílio prejudicará os mais pobres, alertam economistas**

A alta do dólar e a pressão fiscal com o aumento das despesas do governo, devido à mudança no teto de gastos para pagar auxílio de R\$ 400 prometido pelo presidente, a pouco mais de um ano das eleições, levam bancos e consultorias a projetarem mais inflação e aumento acima do previsto nas taxas de juros.

Algumas casas projetam juros acima de 10% em 2022 e o estouro da meta de inflação, além deste ano, também em 2022. Resultado: os mais pobres, que deveriam ser os beneficiados pela medida do governo, poderão acabar sendo os mais prejudicados, pois a inflação corrói o valor do dinheiro, especialmente da população alvo do auxílio prometido. E toda a economia sofre com altas nas taxas de juros, a única alternativa do Banco Central para tentar conter os aumentos de preços, já elevados.

Veja a opinião de Marcelo Neri, ex-presidente do Ipea, sobre os efeitos das recentes medidas do governo:

–“Eu acho que a gente talvez não esteja fazendo nem uma coisa econômica nem social. A gente está criando uma grande incerteza, que é ruim para todo mundo. Perdem as finanças públicas, a economia, perdem as pessoas, em particular os mais pobres. Então, eu acho que a gente não está numa boa agenda nem econômica nem social. O risco é de um efeito bumerangue. O dinheiro, que deveria ajudar, acaba perdendo valor por causa da inflação”.

Disponível em: <https://economia.ig.com.br/2021-10-23/aumentar-teto-auxilio-pobres-economistas.html>. Acesso em: 24 nov. 2021. [Adaptado].

2. O aumento do teto para pagar auxílio aos mais pobres pode prejudicá-los porque:

- a. a medida gera inflação.
- b. provoca retração na economia.
- c. o governo terá que mudar a política econômica.
- d. os bancos projetam uma inflação acima de 10% em 2022.
- e. obriga o Banco Central a aumentar os juros para conter o consumo.

3. Assinale a pergunta que pode ser respondida com base no texto 2.

- a. Qual seria a melhor agenda econômica e social do governo para o próximo ano?
- b. Com a inflação elevada, quais são os setores da economia que mais lucram?
- c. Quais os critérios adotados pelo governo para assegurar um auxílio de R\$ 400?
- d. O que tem levado os bancos e consultorias a projetarem crescimento da inflação?
- e. De acordo com o ex-presidente do Ipea, quais as medidas que o governo deveria tomar para evitar a subida dos preços?

4. Assinale a alternativa **correta**.

- a. Em “O dinheiro, que deveria ajudar, acaba perdendo valor por causa da inflação”, ocorre uma oração subordinada adjetiva explicativa.
- b. Em “A alta do dólar e a pressão fiscal [...] levam bancos e consultorias a projetarem mais inflação e aumento acima do previsto nas taxas de juros”, os dois verbos concordam em pessoa e número com o mesmo sujeito.
- c. No período “E toda a economia sofre com altas nas taxas de juros, a única alternativa do Banco Central para tentar conter os aumentos de preços, já elevados”, o termo destacado deve ser empregado no feminino para concordar com o substantivo “taxas”.
- d. Na frase “Eu acho que a gente talvez não esteja fazendo nem uma coisa econômica nem social”, ocorre erro de pontuação, uma vez que a conjunção “nem” deve, obrigatoriamente, ser precedida de vírgula.
- e. Em “A gente está criando uma grande incerteza, que é ruim para todo mundo”, a oração iniciada pela conjunção “que” é subordinada adverbial consecutiva.

5. Assinale a alternativa em que **todas** as palavras estão corretamente acentuadas.

- a. concluíram • (tu) verás • (ele) sabia • tapióca • assembléia
- b. viúva • (ela) contém • chapéu • refém • gratuito
- c. rúbrica • distraídos • perdôo • sobrepôr • mártir
- d. equilátero • bem-te-vís • (eles) relêem • (os) pêlos • semáforo
- e. assépticas • intransponível • elétrons • bênção • atrás

6. Analise o texto abaixo:

Tenho a esperança de que informado de que não nada em acréscimo ao que já foi previsto em contrato, mas a

Assinale a alternativa que completa **corretamente** as lacunas do texto.

- a. lhes tenha • dar-lhes-ei • proponho • ouvi-los
- b. tenha-os • lhes darei • me proponho • os ouvir
- c. os tenha • lhes darei • proponho-me • ouvi-los
- d. os tenha • lhes darei • me proponho • os ouvir
- e. tenha-lhes • dar-lhes-ei • proponho-me • ouvir-lhes

7. Assinale a frase **correta** quanto à concordância verbal.

- a. Sonhos, ideais, aspirações, nada mais lhe restaram.
- b. Devido à pandemia, já não se faz mais reuniões presenciais.
- c. Para combater o mosquito *Aedes aegypti*, devem haver medidas mais incisivas e radicais.
- d. Fui informado de que ainda não se discutiram os percentuais de correção da folha de pagamento.
- e. As empresas tem passado dificuldades para cumprir os prazos de entrega, pois falta trabalhadores qualificados.

8. Assinale a frase na qual ocorre uma oração subordinada substantiva objetiva direta.

- a. Fios metálicos realizam o corte das peças em dimensões pré-estabelecidas, conforme determina a norma ABNT do setor.
- b. Com as previsões de chuvas regulares nos próximos meses, espero que a próxima safra seja melhor do que a anterior.
- c. O processo de secagem é muito importante e precisa ser atentamente observado para que se evitem defeitos nas peças cerâmicas.
- d. Nos misturadores a argila e a água são misturadas, formando assim o “traço” ideal para produzir tijolos cerâmicos.
- e. A argila é descarregada pelos caminhões e armazenada a céu aberto, em área que fica próxima ao local de produção.

9. Relacione as colunas abaixo quanto aos vícios de linguagem.

Coluna 1 Vícios de Linguagem

1. cacofonia
2. ambiguidade
3. barbarismo
4. solecismo de concordância
5. arcaísmo

Coluna 2 Frases

- () A sirigaita, que se dirigia ao toucador, sentou à beira da cômoda.
- () Assustado, o inimigo fidalgo gritou: – Esteje preso!
- () Na vez passada, ela tinha muitos dólares na bolsa.
- () Me faça o favor de descobrir onde haviam mais agentes penitenciários do que presos.
- () Prefeitura começa a pagar prejuízo de motoristas com buracos de rua.

Assinale a alternativa que indica a sequência **correta**, de cima para baixo.

- a. 1 • 2 • 3 • 4 • 5
- b. 3 • 5 • 4 • 2 • 1
- c. 5 • 3 • 1 • 4 • 2
- d. 5 • 4 • 1 • 3 • 2
- e. 5 • 4 • 3 • 2 • 1

10. Assinale a frase **correta** quanto ao uso da crase.

- a. Essa fruta não é igual à que eu colhi, as pressas, a beira da cerca.
- b. Há duas semanas, fui à Belém do Pará onde pude provar um prato de maniçoba a moda local.
- c. Devido à condições climáticas adversas, a máquina não foi entregue à secretária à tempo.
- d. Esta religião é semelhante a dos hindus, mas a que se pratica na Mongólia é à mesma que se pratica no Curdistão.
- e. Avisou a todos que a partida de futebol que deveria ter acontecido ontem à noite foi transferida para amanhã, às 15 horas.

Temas de Atualidade

5 questões

11. Assinale a alternativa **correta** sobre a economia catarinense em nossos dias.

- a. A atividade econômica no primeiro semestre de 2021 teve algum crescimento, mas muito inferior aos índices alcançados pelo país. Estados como o Rio Grande do Sul, Bahia, Ceará e Rondônia tiveram crescimentos mais significativos.
- b. Os efeitos da COVID-19 ainda não foram superados pela economia catarinense que viu, no primeiro semestre de 2021, os índices de atividade econômica despencarem, mesmo se comparados aos de 2020.
- c. A indústria catarinense vive, em 2021, uma profunda crise, que se traduz pela queda da produção industrial, baixas vendas do comércio e desemprego em larga escala no setor de serviços.
- d. O índice de atividade econômica (IBC) em Santa Catarina avançou, de janeiro a junho de 2021, em comparação com o do ano passado no mesmo período e em ritmo superior ao do Brasil.
- e. A recente (setembro de 2021) proibição de exportação da carne suína catarinense para a China, Chile, Filipinas e Japão abalou profundamente a agroindústria e teve como reflexo o declínio da atividade econômica catarinense.

12. Assinale a alternativa **correta** sobre o Município de Tijucas.

- a. O município de Tijucas está localizado na mesorregião da Grande Florianópolis e tem como base da sua economia o setor de serviços.
- b. O município de Tijucas está localizado na mesorregião da Foz do Itajaí e tem como base da sua economia o setor de serviços.
- c. O município de Tijucas está localizado na mesorregião da Foz do Rio Tijucas e tem uma extensão territorial superior a 370 km².
- d. A base da economia do Município de Tijucas, situado na Grande Florianópolis, é o turismo religioso. O santuário de Madre Paulina atrai, todos os anos, milhares de fiéis.
- e. Tijucas é um município da macrorregião da Grande Florianópolis, localizado na mesorregião da Foz do Itajaí. Sua economia tem como base o setor industrial.

13. O mais recente relatório do Painel Intergovernamental sobre Mudanças Climáticas (IPCC) alerta que as consequências do aquecimento global que hoje vivenciamos são uma pequena mostra do que está por vir.

Assinale a alternativa que indica uma solução para a diminuição do ritmo do aquecimento global, segundo o IPCC.

- a. Proibição dos chamados métodos alternativos de produção de energia que têm contribuído significativamente para o aumento das emissões de dióxido de carbono (CO₂).
- b. A utilização de termoelétricas para a produção de energia, substituindo as hidrelétricas que causam enormes danos ambientais.
- c. Reduções fortes e sustentadas na emissão de dióxido de carbono (CO₂) e outros gases de efeito estufa.
- d. O incentivo ao crescimento das cidades, uma vez que a dispersão da população em grandes territórios com baixa densidade populacional aumenta as emissões de gases que produzem o efeito estufa.
- e. A redistribuição da população global, possibilitando a migração em massa das áreas mais quentes do planeta para a mais fria, onde os gastos energéticos são menores.

14. O aumento significativo de casos de COVID-19 na Europa provocou uma nova onda de temor. Alguns países decretaram lockdown pessoal e medidas mais rígidas estão sendo estudadas.

Assinale a alternativa que indica **corretamente** uma das causas desta nova onda de infecções no continente europeu.

- a. O surgimento de novas variantes denominadas F1 e WS 2, com vírus resistentes às vacinas.
- b. O baixo índice de adesão, em alguns países, às campanhas de vacinação.
- c. A ineficácia comprovada de alguns dos imunizantes, como o Sputnik.
- d. A falta de vacinas, por imprudência dos governos de alguns países, entre eles o da Alemanha e da Áustria.
- e. A resistência de governos como o da Alemanha e da Áustria, após o fim da primeira onda da doença, de adquirir novas doses de vacina para distribuição entre a população.

15. Com o breve início de operação das redes de 5G, aumentam as expectativas para a chamada Internet das coisas (IoT).

Assinale a alternativa que explica **corretamente** do que se trata.

- a. Chamamos de Internet das coisas às conexões que hoje já utilizamos, mas que terão muito maior velocidade, entre computadores e impressoras ou outros equipamentos a eles conectados por cabo.
- b. A Internet das Coisas ainda não existe. Ela só será possível nos próximos anos com a chegada das redes de grande velocidade (5G) e o aprimoramento dos computadores (muitos dos quais, equipados com chips de 12ª geração, já estão sendo lançados).
- c. A Internet das Coisas é a conexão entre os equipamentos dotados do Windows 11 e redes de satélite estacionários em baixa altitude, que serão operados a partir de 2022.
- d. A Internet das Coisas, embora ainda seja apenas uma esperança para um futuro (próximos 5 anos), possibilitará a conexão em alta velocidade entre a rede mundial de computadores e equipamentos das fábricas (máquinas, robôs), meios de transporte (trens, aviões) e mesmo equipamentos domésticos, facilitando a logística e aumentando a velocidade de produção.
- e. A Internet das Coisas é um conceito que define a conexão entre objetos físicos (como refrigeradores, máquinas de lavar etc.) com o usuário e a internet.

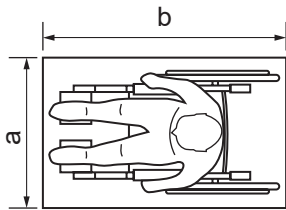
Conhecimentos Específicos

20 questões

16. Em instalações hidráulicas, o dispositivo utilizado para interromper todo fluxo da água quando é necessário realizar manutenção, e tem funcionamento adequado totalmente aberto ou totalmente fechado, é denominado:

- a. válvula de sucção.
- b. registro de pressão.
- c. válvula pé com crivo.
- d. válvula de retenção.
- e. registro de gaveta.

17. Com relação à NBR 9050, é considerado Módulo de Referência (M.R.) a projeção no piso, ocupada por uma pessoa utilizando cadeira de rodas, motorizadas ou não, conforme figura abaixo.



As dimensões "a" e "b" são, respectivamente:

- a. 0,80 m e 1,00 m.
 b. 0,80 m e 1,20 m.
 c. 0,90 m e 1,20 m.
 d. 1,00 m e 1,20 m.
 e. 1,20 m e 1,40 m.

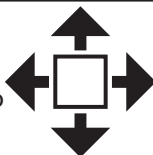
18. Segundo o Plano Diretor quanto às normas de uso e ocupação do solo urbano, os condomínios horizontais com unidades isoladas deverão:

1. ter no máximo 200 unidades.
2. possuir a unidade autônoma uma área privativa equivalente ao tamanho de 1 lote padrão do Município, que é de 360,00 m².
3. possuir uma área de convivência e lazer dos condôminos quando acima de 9 unidades, na proporção de 5% da área do lote.

Assinale a alternativa que indica todas as afirmativas corretas.

- a. É correta apenas a afirmativa 2.
 b. É correta apenas a afirmativa 3.
 c. São corretas apenas as afirmativas 1 e 2.
 d. São corretas apenas as afirmativas 1 e 3.
 e. São corretas apenas as afirmativas 2 e 3.

19. Ao utilizar o AutoCAD, é possível realizar alguns comandos selecionando ícones como, por exemplo, o ilustrado ao lado.



Esta representação está relacionada ao comando:

- a. mover.
 b. explodir.
 c. inserir bloco.
 d. aumentar.
 e. escala.

20. O planejamento realizado para a execução de pintura interna de uma escola está apresentado abaixo.

Atividade	Mês						Custos (R\$)
	1º	2º	3º	4º	5º	6º	
Lixar as superfícies	40%	40%	20%				24.000,00
Aplicação de selador	10%	40%	40%	10%			30.000,00
Aplicação de massa		10%	40%	40%	10%		45.000,00
Pintura			10%	30%	30%	30%	48.000,00
Limpeza do local			10%	10%	30%	50%	12.000,00
Total							159.000,00

Considerando o cronograma físico financeiro acima, ao final do quarto mês, o custo total acumulado atingirá percentualmente:

- a. 23%.
 b. 37%.
 c. 40%.
 d. 73%.
 e. 90%.

21. De acordo com o Código de Obras, poderá ser concedido o "habite-se" quando se tratar de prédio(s):

1. composto de parte comercial e parte residencial e houver utilização independente destas partes.
2. constituído de unidades autônomas, podendo o "habite-se" ser concedido por unidade.
3. construídos no interior de um mesmo lote.

Assinale a alternativa que indica todas as afirmativas corretas.

- a. É correta apenas a afirmativa 1.
 b. São corretas apenas as afirmativas 1 e 2.
 c. São corretas apenas as afirmativas 1 e 3.
 d. São corretas apenas as afirmativas 2 e 3.
 e. São corretas as afirmativas 1, 2 e 3.

22. Para execução de determinada obra será necessária a instalação de placa de sinalização visual, conforme a composição de custos abaixo apresentada:

Insumo	Unid.	Índice	Custo Unitário (R\$)	Custo Total (R\$)
Peça de madeira angelim serrada 1ª qualidade de 7,5×7,5 cm comprimento total 3,60 m	m³	0,003	920,00	2,76
Chapa compensada resinada estrutural e = 14 mm	m²	1,14	22,90	26,11
Carpinteiro	h	0,56	11,10	6,22
Servente	h	1,12	8,20	9,18
Total			44,27	

Analise as afirmativas abaixo:

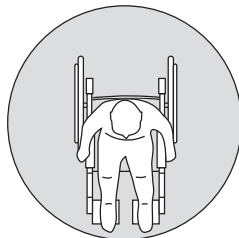
- O custo da mão de obra por instalação de placa é de R\$ 19,30.
- O material representa mais de 65% do total do custo da composição.
- O custo do carpinteiro nesta instalação representa aproximadamente 14%.

Assinale a alternativa que indica todas as afirmativas corretas.

- É correta apenas a afirmativa 1.
- São corretas apenas as afirmativas 1 e 2.
- São corretas apenas as afirmativas 1 e 3.
- São corretas apenas as afirmativas 2 e 3.
- São corretas as afirmativas 1, 2 e 3.

23. De acordo com a NBR 9050, é necessária uma área para manobra de cadeiras de rodas sem deslocamento, de acordo com a rotação da cadeira.

Considerando a representação esquemática ilustrada, para rotação de 360°, a medida necessária é de um círculo com diâmetro de:



- 0,90 m.
- 1,20 m.
- 1,30 m.
- 1,50 m.
- 1,80 m.

24. Entre os parâmetros urbanísticos reguladores da ocupação do solo constantes do Plano Diretor, tem-se a taxa de ocupação máxima. Respeitada a taxa de permeabilidade, na análise deste parâmetro não serão computadas as projeções de determinadas áreas e dependências, dentre elas:

- marquises.
- beirais com até 1,50 m.
- garagens e área comercial construídas até dois primeiros pavimentos.

Assinale a alternativa que indica todas as afirmativas corretas.

- É correta apenas a afirmativa 1.
- São corretas apenas as afirmativas 1 e 2.
- São corretas apenas as afirmativas 1 e 3.
- São corretas apenas as afirmativas 2 e 3.
- São corretas as afirmativas 1, 2 e 3.

25. Em projetos de instalações elétricas é utilizada simbologia específica para representação gráfica de elementos que os compõem.

Neste aspecto, considere os símbolos abaixo:



Os condutores representados são, respectivamente:

- fase, retorno, neutro.
- fase, neutro, retorno.
- retorno, neutro, fase.
- neutro, fase, retorno.
- retorno, fase, neutro.

26. Uma das etapas no processo de concretagem é o lançamento do concreto, que consiste na operação de colocação do concreto nas formas. Nessa atividade é importante tomar cuidado com a possível separação dos materiais componentes, para evitar o aparecimento de vazios conhecidos como "bicheiras ou ninhos", que podem diminuir o desempenho estrutural.

Esta separação dos materiais constituintes do concreto é denominada:

- lixiviação.
- exsudação.
- segregação.
- carbonatação.
- eflorescência.

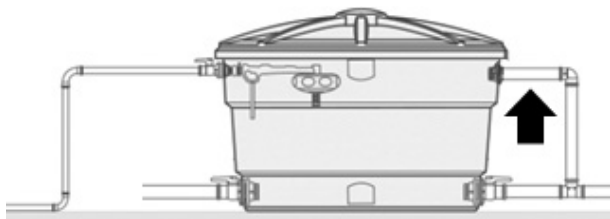
27. O Código de Obras define que as edificações não residenciais são aquelas destinadas a:

- uso industrial;
- locais de reunião; comércio, negócios e atividades profissionais;
- estabelecimentos hospitalares e laboratórios;
- estabelecimentos escolares;
- usos especiais diversos.

Neste contexto, assinale a alternativa que apresenta uma edificação de uso especial diverso.

- a. circos
- b. estádios
- c. cinemas
- d. hall de convenções e salões de exposições
- e. depósitos de armanagem

28. Quando da instalação de reservatórios elevados, faz-se necessária uma tubulação de saída que tem como função escoar o excesso de água quando o nível máximo for superado, conforme identificado na representação esquemática abaixo.



A seta indica o:

- a. sifão.
- b. barrilete.
- c. extravasor.
- d. fecho hídrico.
- e. buzinode.

29. Considerando os instrumentos jurídicos constantes do Estatuto da Cidade, assinale a alternativa que indica **corretamente** o instrumento jurídico que confere ao Poder Público municipal preferência para aquisição de imóvel urbano objeto de alienação onerosa entre particulares.

- a. direito de superfície
- b. direito de preempção
- c. usucapião especial de imóvel urbano
- d. concessão de uso especial para fins de moradia
- e. outorga onerosa do direito de construir e de alteração de uso

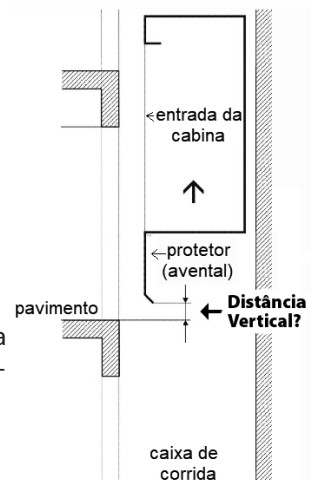
30. Analise o texto abaixo:

Quando da execução de projetos de prevenção contra incêndio, entre os possíveis dispositivos que podem ser utilizados os são considerados um dos mais eficientes sistemas de combate a incêndio em edificações. Sua importância se dá ao fato de ele agir imediatamente no combate primário do incêndio, evitando que a chama se espalhe no ambiente. Este equipamento também é conhecido como chuveiro automático contra incêndio. Desta forma é importante considerar sua utilização quando da execução de projetos de prevenção contra incêndio.

Assinale a alternativa que completa **corretamente** a lacuna do texto.

- a. sprinklers
- b. hidrantes
- c. extintores
- d. chuveirinhos
- e. mangotinhos

31. Na instalação de elevadores alguns requisitos de segurança são determinados por norma, dentre eles algumas distâncias quanto à posição de parada do carro em subida e em descida. Por exemplo, a distância vertical entre a soleira da porta do pavimento e a parte mais baixa do protetor da soleira da porta da cabina (avental), conforme representado ao lado.



A distância vertical (identificada em negrito) na figura não pode exceder:

- a. 10 mm.
- b. 20 mm.
- c. 100 mm.
- d. 200 mm.
- e. 1000 mm.

32. A licitação de obras públicas pode ser realizada por modalidades diferentes de acordo com o objeto.

A modalidade de licitação obrigatória para aquisição de bens e serviços comuns, cujo critério de julgamento poderá ser o de menor preço ou o de maior desconto, é denominada:

- a. pregão.
- b. concorrência.
- c. diálogo competitivo.
- d. pré-qualificação.
- e. leilão.

33. O ato administrativo realizado pelo poder público com o objetivo de preservar, através da aplicação da lei, bens de valor histórico, cultural, arquitetônico e ambiental para a população, impedindo que venham a ser destruídos ou descaracterizados, é denominado:

- a. registro.
- b. chancela.
- c. manifesto.
- d. tombamento.
- e. desapropriação.

34. Em relação aos aspectos legais do parcelamento do solo urbano, no que tange aos requisitos urbanísticos para desmembramento, as áreas destinadas à implantação de equipamentos urbano e comunitário, bem como os espaços livres de uso público, serão consideradas áreas públicas, e não poderão ser inferiores a:

- a. 5% da gleba desmembrada.
- b. 10% da gleba desmembrada.
- c. 20% da gleba desmembrada.
- d. 25% da gleba desmembrada.
- e. 35% da gleba desmembrada.

35. Consideram-se empreendimentos ou atividades de impacto aqueles usos ou atividades que podem causar impacto, alteração, ou ambos, no ambiente natural ou construído, bem como sobrecarga na capacidade de atendimento de infraestrutura, quer sejam construções públicas ou privadas, residenciais ou não residenciais.

De acordo com o Plano Diretor, entre os empreendimentos ou atividades considerados de impacto tem-se:

1. rodoviária, terminais de transportes, helipontos e congêneres.
2. equipamentos para coleta e tratamento de efluentes.
3. os empreendimentos não residenciais com área construída igual ou superior a 1.000 m².

Assinale a alternativa que indica todas as afirmativas **corretas**.

- a. É correta apenas a afirmativa 1.
- b. São corretas apenas as afirmativas 1 e 2.
- c. São corretas apenas as afirmativas 1 e 3.
- d. São corretas apenas as afirmativas 2 e 3.
- e. São corretas as afirmativas 1, 2 e 3.

Utilize a grade ao lado para anotar as suas respostas.

Não destaque esta folha. Ao entregar sua prova, o fiscal irá destacar e entregar esta grade de respostas que você poderá levar para posterior conferência.



GRADE DE RESPOSTAS

1		S02 Aquilieto	19	
2			20	
3			21	
4			22	
5			23	
6			24	
7			25	
8			26	
9			27	
10			28	
11			29	
12			30	
13			31	
14			32	
15			33	
16			34	
17			35	
18				

Prefeitura de
TIJUCAS



**CONCURSO
PÚBLICO**





FUNDAÇÃO DE ESTUDOS E PESQUISAS SOCIOECONÔMICOS

Campus Universitário • UFSC
88040-900 • Florianópolis • SC
Fone/Fax: (48) 3953-1000
<http://www.fepese.org.br>