



COORDENADORIA GERAL DE GESTÃO DE TALENTOS  
COORDENADORIA DE RECRUTAMENTO E SELEÇÃO

CONCURSO PÚBLICO  
MULTIRIO - EMPRESA MUNICIPAL DE MULTIMEIOS LTDA

ASSISTENTE TÉCNICO-  
ADMINISTRATIVO

CADERNO DE QUESTÕES

ATENÇÃO

1. A prova terá duração de 3 (três) horas e 30 (trinta) minutos, considerando, inclusive, a marcação do **CARTÃO-RESPOSTA**.
2. É de responsabilidade do candidato, a conferência deste caderno que contém **50 (cinquenta) questões de múltipla escolha**, cada uma com 4 (quatro) alternativas (A,B,C e D), distribuídas da seguinte forma:

CONTEÚDO	QUESTÕES
Língua Portuguesa	01 a 10
Conteúdo Específico	11 a 30
Matemática	31 a 40
Noções de Informática	41 a 50

3. Observe as seguintes recomendações relativas ao **CARTÃO-RESPOSTA**:
  - verifique, no seu **cartão**, o seu nome, o número de inscrição e o número de seu documento de identidade;
  - o **CARTÃO-RESPOSTA** será o **único documento válido** para correção eletrônica através de leitura óptica, e seu preenchimento e respectiva **assinatura** são de inteira responsabilidade do candidato;
  - a maneira correta de marcação das respostas é cobrir, **fortemente**, com caneta esferográfica de refil transparente, obrigatoriamente, de tinta azul ou preta, o espaço correspondente à letra a ser assinalada, para assegurar a perfeita leitura óptica.
4. Em hipótese alguma haverá substituição do **CARTÃO-RESPOSTA** por erro do candidato.
5. O candidato será automaticamente **excluído** do certame se for **surpreendido**:
  - consultando, no decorrer da prova, qualquer tipo de material impresso, anotações ou similares, ou em comunicação verbal, escrita, ou gestual, com outro candidato;
  - utilizando aparelhos eletrônicos, tais como: telefone celular, bip, *walkman*, rádio receptor/transmissor, gravador, agenda eletrônica, *notebook*, calculadora, *palmtop*, relógio digital com receptor ou qualquer outro meio de comunicação ativa ou passiva;
6. **O telefone celular** deverá permanecer desligado, desde o momento da entrada no local de prova **até a retirada do candidato do respectivo local**;
7. O candidato somente poderá se retirar definitivamente do recinto de realização da prova, entregando o **CARTÃO-RESPOSTA devidamente assinado**, após decorrida **1 (uma) hora do início da prova**. No entanto, **SÓ PODERÁ copiar seus assinalamentos feitos no CARTÃO-RESPOSTA** em formulário próprio entregue pela instituição organizadora do concurso, **DURANTE OS 30 MIN (TRINTA MINUTOS) QUE ANTECEDEREM O TÉRMINO DA PROVA**.
8. Ao terminar a prova o candidato entregará, obrigatoriamente, ao Fiscal de Sala, o seu **CARTÃO-RESPOSTA** e o seu **CADERNO DE QUESTÕES**, sob pena de exclusão do certame.
9. Os três últimos candidatos deverão permanecer em sala, sendo liberados **somente** quando **todos** tiverem concluído a prova ou o tempo tenha se esgotado e tenham sido entregues todos os **CARTÕES-RESPOSTA**, sendo obrigatório o registro dos seus nomes na ata de aplicação de prova.
10. **O fiscal não está autorizado a alterar quaisquer dessas instruções.**
11. O gabarito da prova será publicado no Diário Oficial do Município do Rio de Janeiro, no segundo dia útil seguinte ao de realização da prova, estando disponível também, no site <http://concursos.rio.rj.gov.br>.

## LÍNGUA PORTUGUESA

## Texto

**Por que a gente é assim?**

Quem nunca questionou por que algumas pessoas pensam e agem de certa forma, geralmente em momentos de total oposição aos nossos pensamentos e certezas? A questão é que essa pergunta é sempre feita em relação ao outro, àquele que não é igual a nós. Mas e quando a pergunta é direcionada para o próprio umbigo: por que a gente é assim?

Há dois anos, vivo a aventura de pensar e produzir o projeto transmídia “Por que a gente é assim?”, uma tentativa tão ousada quanto exaustiva de mapear os comportamentos e os valores dos brasileiros hoje.

Nossa proposta foi ter três frentes de comunicação: mídia digital, televisão e teatro de rua - todos desenvolvidos num processo de criação colaborativa. No *site* do projeto e no Facebook, reunimos artigos e imagens de blogueiros e fotógrafos convidados a refletir sobre os temas Sexo, Autoridade, Fé, Preconceito, Consumo e Educação. [...]

Mas afinal, por que a gente é assim? Para onde queremos ir com este Brasil? Quais legados queremos deixar como sociedade? Em alguns países, como os Estados Unidos, esta discussão está mais articulada. [...]

Por aqui, talvez o único valor cristalizado nos últimos 50 anos (com orgulho ou desprezo) seja o “jeitinho brasileiro”, a tal malandragem que resolve tudo - não sem consequências. No entanto, é evidente que este Brasil está mudando e, em alguns aspectos, vertiginosamente.

Nos últimos 18 anos, o Brasil se institucionalizou e mostrou que boa regulamentação é possível, além de absolutamente necessária. Hoje, a implantação das UPPs no Rio é uma parte evidente e concreta disso.

Muito se tem falado - e o assunto é de extremo interesse e relevância - sobre a mudança demográfica que vivemos hoje com um novo paradigma: nos tornamos um país majoritariamente de classe média. Mas o que quer e como se comporta esta classe média? Com mais gente e mais consumo, como vamos solucionar os desafios de vivermos juntos nas grandes cidades? Daremos, de fato, importância à inclusão via educação pública, ou manteremos um regime de “reserva de mercado” ao deixarmos grande parte da população alijada de educação de qualidade? Continuaremos fingindo que as pessoas não são discriminadas por conta da sua classe social, da sua origem geográfica e da cor de sua pele?

Enfim, algumas perguntas que devemos nos fazer ao tentarmos trazer para o presente o país do futuro que acreditamos merecer. O que queremos de nós?

Guilherme Coelho – O Globo – publicado em 21/07/2011  
[adaptado]

01. Após a leitura do texto, conclui-se que, sob o ponto de vista do autor:
  - (A) não há discriminação de espécie alguma entre os brasileiros
  - (B) a população não deve ser alijada de educação de qualidade
  - (C) a malandragem que resolve tudo é um valor inquestionavelmente positivo
  - (D) os brasileiros geralmente se autoavaliam quanto ao modo de pensar e agir
  
02. Diversas vezes no texto, quando o autor usa a primeira pessoa do plural, busca aproximar-se dos leitores brasileiros, ressaltando a coincidência de suas intenções. Porém, isto **NÃO** é o que ocorre em:
  - (A) “Continuaremos fingindo que as pessoas não são discriminadas...”
  - (B) “Daremos, de fato, importância à inclusão...”
  - (C) “... como vamos solucionar os desafios...”
  - (D) “... reunimos artigos e imagens de blogueiros e fotógrafos...”
  
03. “No entanto, é evidente que este Brasil está mudando...” Para indicar a mesma relação de sentido que o conectivo em destaque explicita, deve-se empregar a seguinte conjunção:
  - (A) porém
  - (B) porque
  - (C) portanto
  - (D) enquanto
  
04. No texto é mencionado o “jeitinho brasileiro”. A palavra em destaque é exemplo de uma variedade de uso da língua, caracterizada por:
  - (A) quantificação, pois o sufixo usado denota grupo de seres homogêneos
  - (B) gramaticalização, pois o sufixo provoca passagem de substantivo a adjetivo
  - (C) informalidade, e o sufixo usado confere tom carinhoso ou depreciativo
  - (D) formalidade, e o sufixo erudito indica discurso planejado pejorativo
  
05. Já \_\_\_ dois anos que o autor \_\_\_\_\_ comportamentos e valores que \_\_\_\_\_ entre os brasileiros. Os verbos estão flexionados corretamente, de modo a preencher as lacunas e completar a frase, em:
  - (A) faz; mapea; existe
  - (B) faz; mapeia; existem
  - (C) fazem; mapea; existem
  - (D) fazem; mapeia; existe

06. No uso do pronome relativo, é necessário observar se há ou não necessidade de colocar-se antes dele uma preposição. Sob esse aspecto, está **INCORRETA** a frase:
- (A) Foram apresentadas ideias com que simpatizamos.
- (B) Temos orgulho dos valores por que lutamos.
- (C) Nem todo brasileiro reage com a força que é capaz.
- (D) Trata-se de um projeto que não conhecemos.
07. As palavras relevância, fotógrafo e país obedecem às mesmas regras que exigem a acentuação gráfica, respectivamente, de:
- (A) trégua, límpido, saúde
- (B) ignorância, órgãos, bíceps
- (C) amável, tórax, Piauí
- (D) lâmpada, Colômbia, heróis
08. “A questão é que essa pergunta é sempre feita em relação ao outro, àquele que não é igual a nós.” No pronome em destaque o sinal grave indica o fenômeno da crase, que também deve ocorrer em:
- (A) Olhem aquele monte lá longe...
- (B) Tudo mudou quando assistimos aquele filme.
- (C) Lia coisas incríveis para aquele tempo!
- (D) Outro homem não podia existir com aquele calor no peito.
09. “Quem nunca questionou por que algumas pessoas pensam...” O termo destacado, apresentando grafia idêntica à dessa frase, preenche a lacuna em:
- (A) Cheguei um pouco tarde, \_\_\_\_\_ enfrentei problemas no trânsito.
- (B) Antes de iniciar, não me telefonaram, \_\_\_\_\_?
- (C) O \_\_\_\_\_ do atraso poderia explicar-lhes assim que chegasse.
- (D) Queria saber \_\_\_\_\_ não me esperaram, conforme o combinado.
10. A frase que apresenta a regência verbal **INCORRETA**, de acordo com a norma culta da língua, é:
- (A) Reuniram artigos de diversos autores e convidaram-nos a refletir.
- (B) O autor identifica desafios e questiona como iremos solucionar-lhes.
- (C) O autor e seus parceiros pensaram o projeto e produziram-no.
- (D) A experiência conseguiu mostrar-lhe que boa regulamentação é necessária.

### CONTEÚDO ESPECÍFICO

11. Os documentos de terceira idade ou históricos das organizações, guardados em caráter definitivo em função de seu valor, são custodiados no arquivo:
- (A) intermediário
- (B) permanente
- (C) corrente
- (D) ativo
12. Um documento, cuja origem seja a empresa “José Carlos Barbosa & Filhos Ltda”, deve, segundo as regras de alfabetação, ser arquivado como:
- (A) José Carlos Barbosa & Filhos Ltda
- (B) LTDA, José Carlos Barbosa & Filhos
- (C) FILHOS, José Carlos Barbosa & Ltda
- (D) BARBOSA & FILHOS LTDA, José Carlos
13. Em redação oficial, para atender ao princípio de economia linguística, em que se emprega o mínimo de palavras necessárias para transmitir um máximo de informação, faz-se uso da:
- (A) padronização
- (B) formalidade
- (C) concisão
- (D) clareza
14. O pronome de tratamento “Vossa Excelência” é utilizado consagradamente para as seguintes autoridades:
- (A) presidente da república, vereadores e oficiais superiores das forças armadas
- (B) prefeitos municipais, deputados federais e presidente das câmaras legislativas municipais
- (C) juízes, reitores e conselheiros dos tribunais de contas
- (D) oficiais gerais, cardeais e deputados estaduais
15. Considere que houve no Município fortes chuvas que provocaram a decretação do estado de calamidade pública e são necessárias ações urgentes do poder público com objetivo de combater as consequências. A licitação, neste caso é:
- (A) vedada
- (B) inexigível
- (C) obrigatória
- (D) dispensável

16. Para a aquisição de bens de consumo eventual, previsto para ocorrer uma única vez no ano, a Prefeitura chamará para participar interessados, cadastrados ou não, escolhidos e convidados em número mínimo de três. Para realizar esta compra, cujo valor total é de R\$ 7.500,00, deverá ser adotada a seguinte modalidade de licitação:
- (A) tomada de preço
  - (B) concorrência
  - (C) convite
  - (D) leilão
17. Com relação ao pregão eletrônico, avalie as seguintes sentenças:
- I – é permitido exigir garantia de proposta
  - II – a definição do objeto do pregão deverá ser precisa, porém, sendo vedadas especificações desnecessárias que limitem a competição
  - III – o prazo para apresentação das propostas, contado a partir da publicação do aviso, não será superior a 8 (oito) dias úteis
- (A) as sentenças I e II são verdadeiras e a III é falsa
  - (B) as sentenças II e III são falsas e a I é verdadeira
  - (C) a sentença I é falsa e a II e III são verdadeiras
  - (D) a sentença II é falsa e a I e III são verdadeiras
18. A República Federativa do Brasil tem como fundamentos a soberania, a cidadania, a dignidade da pessoa humana, os valores sociais, a livre iniciativa e o pluralismo político e é formada pela união indissolúvel:
- (A) dos poderes executivo, legislativo e judiciário
  - (B) dos Estados, Municípios e do Distrito Federal
  - (C) dos Estados, da Plataforma Marítima (200 milhas) e dos Territórios
  - (D) do Senado Federal, da Câmara dos Deputados e dos Tribunais Federais
19. Com relação aos Direitos e Garantias fundamentais, ambos previstos na Constituição Federal, avalie as seguintes sentenças:
- I – a todos é assegurada, independentemente de pagamento de taxas, a obtenção de certidões em repartições públicas, para defesa de direitos
  - II – é livre a manifestação de pensamento, admitindo-se o anonimato
  - III – é assegurado a todos o acesso à informação e resguardado o sigilo da fonte, quando necessário ao exercício profissional
- (A) as sentenças I e II são verdadeiras e a III é falsa
  - (B) as sentenças I e II são falsas e a III é verdadeira
  - (C) as sentenças I e III são falsas e a II é verdadeira
  - (D) as sentenças I e III são verdadeiras e a II é falsa
20. São direitos dos trabalhadores urbanos e rurais, **EXCETO**:
- (A) jornada de trabalho de seis horas para o trabalho realizado em turnos ininterruptos de revezamento, salvo negociação coletiva
  - (B) irredutibilidade do salário, salvo o disposto em convenção ou acordo coletivo
  - (C) gozo de férias anuais remuneradas com, pelo menos, um quarto a mais do que o salário normal
  - (D) adicional de remuneração para as atividades penosas, insalubres ou perigosas, na forma da lei
21. Segundo o artigo 30 da Constituição Federal, é uma atribuição que compete aos municípios:
- (A) navegação lacustre e marítima
  - (B) ocupação do solo urbano
  - (C) seguridade social
  - (D) serviço postal
22. Considerando-se o disposto no item IV do Art. 29 da Constituição Federal e como, nas últimas eleições para o Legislativo Municipal, a cidade do Rio de Janeiro contava com mais de 5.000.000 de habitantes, conclui-se que o número de vereadores deve ficar entre os limites mínimo e máximo, respectivamente, de:
- (A) 22 e 40
  - (B) 33 e 41
  - (C) 42 e 55
  - (D) 56 e 87

- 23.** Considere que um servidor da Prefeitura exerce um cargo técnico na Secretaria de Administração e, havendo compatibilidade de horário, é permitida a este servidor acumulação remunerada com outro cargo de:
- (A) professor
  - (B) científico
  - (C) médico
  - (D) técnico
- 24.** Considere que o encarregado de pessoal de um órgão público, usando de seu poder discricionário para selecionar um novo servidor, fez o edital exigindo a titulação do candidato de maneira que somente um conhecido seu poderia atender. Esta atitude afronta o seguinte princípio Constitucional de natureza ética:
- (A) legalidade
  - (B) publicidade
  - (C) economicidade
  - (D) impessoalidade
- 25.** O fato de um indivíduo solicitar ou receber para si ou para outrem, direta ou indiretamente, na função pública e em razão dela, um desconto maior, na aquisição de um carro novo, caracteriza o seguinte tipo de crime:
- (A) condescendência criminosa
  - (B) corrupção passiva
  - (C) excesso de exação
  - (D) peculato culposo
- 26.** Considere que um particular resolveu, por si mesmo, com os objetivos de se popularizar e de obter vantagens políticas, orientar diariamente o fluxo de pessoal para atendimento no posto de saúde da Prefeitura. Esta prática caracteriza o seguinte tipo de crime cometido contra a administração pública:
- (A) usurpação de função pública
  - (B) facilitação de descaminho
  - (C) tráfico de influência
  - (D) corrupção ativa
- 27.** O decreto municipal nº 13.319/94 institui o Código de Ética do Servidor Público Civil do Poder Executivo Municipal da Prefeitura da Cidade do Rio de Janeiro. Segundo este código, é vedado ao servidor:
- (A) zelar, quando lícito o exercício da greve, pela defesa da vida
  - (B) permitir que simpatias ou antipatias interfiram no trato com o público
  - (C) ser cortês, ter urbanidade, disponibilidade e atenção aos usuários do serviço público
  - (D) não ser temeroso em representar contra qualquer comprometimento indevido de seu órgão
- 28.** O servidor público que recebe vantagem econômica para liberar aplicação de verba pública comete ato de improbidade administrativa que:
- (A) atenta contra os princípios de administração pública
  - (B) causa prejuízos aos cofres públicos
  - (C) importa em enriquecimento ilícito
  - (D) dificulta o acesso às informações
- 29.** É ato de improbidade administrativa que se caracteriza por atentar contra os princípios da administração pública:
- (A) negar publicidade aos atos oficiais
  - (B) usar bens públicos em proveito próprio
  - (C) incorporar ao seu patrimônio bens públicos
  - (D) dispensar processo licitatório indevidamente
- 30.** De acordo com a nova redação dada à CLT pela Lei 11.644/2008, o empregador está impedido de exigir a comprovação de experiência profissional prévia num mesmo tipo de atividade por tempo superior a:
- (A) 3 meses
  - (B) 6 meses
  - (C) 12 meses
  - (D) 24 meses

## MATEMÁTICA

31. Dois funcionários da MULTIRIO devem elaborar vários relatórios. Se um deles elaborar  $\frac{3}{7}$  do total, e o outro elaborar os 16 relatórios restantes, a quantidade total de relatórios é igual a:

- (A) 24  
(B) 28  
(C) 32  
(D) 36

32. De um setor da MULTIRIO onde trabalham 3 editores, 6 redatores e 2 revisores, será formada uma equipe de trabalho com um editor, um redator e um revisor. O número máximo de equipes que podem ser formadas corresponde a:

- (A) 11  
(B) 15  
(C) 24  
(D) 36

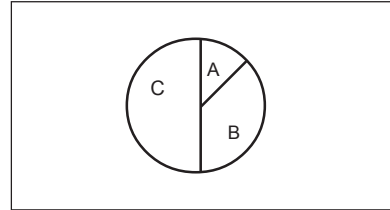
33. A tabela a seguir mostra o número de ofícios elaborados por um Assistente Técnico nos dois primeiros meses de 2011.

Janeiro	Fevereiro	Março
50	70	x

Sabendo que os números 50, 70 e x, formam, nessa ordem, uma progressão geométrica, o valor de x corresponde a:

- (A) 98  
(B) 96  
(C) 94  
(D) 92

34. Os dados de uma pesquisa de opinião foram divulgados em forma de um gráfico de setores, conforme mostra figura a seguir.



Aos setores A, B e C estão associados, respectivamente, 14%, x% e  $(x+10)\%$  da quantidade total de respostas. O valor de x é igual a:

- (A) 24  
(B) 28  
(C) 34  
(D) 38

35. Durante uma manhã, a temperatura de um bairro variou segundo a função  $T(x) = 0,8x + 20$ , T em graus centígrados e x em horas,  $5 < x < 12$ . Às 9 horas os termômetros desse bairro marcavam, em graus centígrados, a seguinte temperatura:

- (A) 26,8  
(B) 27,2  
(C) 28,2  
(D) 29,4

36. Consideradas duas séries televisivas produzidas pela MULTIRIO, verificou-se que, de N pessoas:

- 48 assistiram à série A;
- 29 assistiram à série B;
- 14 assistiram às duas séries;
- 8 não assistiram nem à série A nem à série B.

O valor de N é:

- (A) 99  
(B) 84  
(C) 71  
(D) 68

37. Ao elaborar um orçamento, João prevê um aumento de 5% no custo de um determinado produto. Se esse custo correspondia a C reais, após o aumento passará a ser igual a:

- (A)  $0,05.C$   
(B)  $0,5.C$   
(C)  $1,05.C$   
(D)  $1,5.C$

38. Um Assistente Técnico-Administrativo fez um levantamento do preço de quatro caixas para arquivamento de processos. As caixas, todas de mesma altura, têm o formato de um paralelepípedo reto-retângulo, e as medidas das arestas da base estão descritas na tabela a seguir.

	Arestas da base
Caixa I	10 cm x 15 cm
Caixa II	5 cm x 20 cm
Caixa III	10 cm x 10 cm
Caixa IV	13 cm x 13 cm

Considerando que quanto maior for o volume, maior será o custo da caixa, o preço mais alto refere-se ao da caixa:

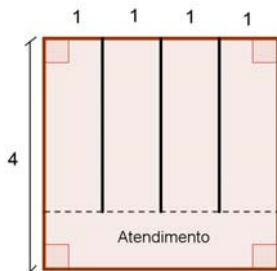
- (A) IV  
(B) III  
(C) II  
(D) I
39. A tabela abaixo mostra o número de funcionários que trabalham em 8 setores distintos da MULTIRIO.

Setor 1	Setor 2	Setor 3	Setor 4
12	17	8	15

Setor 5	Setor 6	Setor 7	Setor 8
32	20	18	10

A mediana do conjunto formado pelos 8 números que representam a quantidade de funcionários é igual a:

- (A) 15,25  
(B) 15,50  
(C) 16,25  
(D) 16,50
40. Um escritório da Multirio, em formato quadrangular, foi dividido por biombos paralelos a duas paredes opostas da sala, para que os 4 funcionários tivessem maior privacidade no trabalho. A vista de cima está representada na figura, e as medidas estão em metros.



Sabe-se que a região destinada ao atendimento ocupa  $\frac{1}{4}$  da área total do escritório. A área reservada para cada funcionário é, em metros quadrados, equivalente a:

- (A) 5  
(B) 4  
(C) 3  
(D) 2

## NOÇÕES DE INFORMÁTICA

41. Na placa-mãe de computadores, existem diversos conectores que são utilizados na integração de componentes de hardware à configuração de um microcomputador. Por exemplo, conectores



são conhecidos por uma sigla e servem à conexão de determinados dispositivos, que são:

- (A) PS/2, impressora e pendrive  
(B) PS/2, mouse e teclado  
(C) RCA, impressora e pendrive  
(D) RCA, mouse e teclado
42. Microcomputadores utilizam determinados programas que facilitam as tarefas desenvolvidas pelos usuários. Tecnicamente, processadores de textos e planilhas eletrônicas fazem parte da seguinte categoria de software:
- (A) básicos  
(B) utilitários  
(C) aplicativos  
(D) compiladores
43. Microcomputadores que “rodam” sistemas operacionais Windows XP, Vista e 7 exibem uma barra na tela do monitor de vídeo cujo principal componente é o botão Iniciar. Essa barra mostra os programas ativos, aqueles carregados na memória RAM, além de permitir acesso rápido e alternado entre aplicações, bastando um clique em seu ícone. Essa barra é denominada:
- (A) status  
(B) tarefas  
(C) notificações  
(D) ferramentas
44. A execução no **Word 2007 BR** do atalho de teclado Ctrl + F1 tem por significado minimizar ou restaurar o seguinte componente:
- (A) menu pop-up do WordArt  
(B) janela de ajuda do Word  
(C) barra de ferramentas  
(D) faixa de opções

45. No *Writer* do pacote *BrOffice.org 3.3.2*, clicar na tecla *Caps Lock* e executar o atalho de teclado *Ctrl + S* têm, respectivamente, os seguintes significados:
- (A) ativar ou desativar a digitação de letras maiúsculas e sublinhar um texto selecionado  
 (B) ativar ou desativar o teclado numérico e sublinhar um texto selecionado  
 (C) ativar ou desativar a digitação de letras maiúsculas e salvar arquivo  
 (D) ativar ou desativar o teclado numérico e salvar arquivo
46. O processador de texto *Word* do *MSOffice 2007 BR* possibilita o uso de documentos com diferentes tamanhos. Dessa forma, 21,59cm X 27,94cm e 21cm X 29,7cm são tamanhos que correspondem, respectivamente, aos seguintes tipos de papéis:
- (A) Carta e A3  
 (B) Carta e A4  
 (C) Ofício e A3  
 (D) Ofício e A4
47. Um arquivo denominado *ESTOQUE.XLS* foi criado no *Calc* do pacote *BrOffice.org 3.3.2* com as planilhas *MULTI1* e *MULTI2*, mostradas abaixo.

	A	B	C	D	E
1	<b>MULTI 1</b>				
2					
3	<b>17</b>	<b>30</b>	<b>26</b>	<b>19</b>	
4					
5	<b>VALOR A TRANSPORTAR =</b>				<b>18</b>

e

	A	B	C	D	E
1	<b>MULTI2</b>				
2	<b>VALOR TRANSPORTADO =</b>				<b>18</b>

Na planilha *MULTI1* foram inseridos os números indicados em A3, B3, C3 e D3 e uma fórmula que mostra a média aritmética entre os números contidos em A3 e D3. Na *MULTI2* foi inserida uma expressão em E2 que transporta o valor de E5 da planilha *MULTI1*. Nessas condições, as expressões inseridas nas células **E5** de *MULTI1* e **E2** de *MULTI2* são, respectivamente:

- (A) =MÉDIA(A3;D3) e =MULTI1.E5  
 (B) =MÉDIA(A3;D3) e =MULTI1.E5  
 (C) =MÉDIA(A3;D3) e =MULTI1!E5  
 (D) =MÉDIA(A3;D3) e =MULTI1!E5

48. A planilha abaixo, criada no *Excel 2007 BR*, possui as características listadas a seguir.
- I - Os dados das colunas A, B, C e D foram digitados.  
 II - O valor em E4 foi obtido como resultado da soma de todos os valores dentre B4 e D4. A partir de E4 e, mediante os comandos de copiar e colar, foram obtidos os valores em E5 e E6.  
 III - O valor em E7 representa a soma das células E4, E5 e E6.  
 IV - O valor em E8 foi obtido por uma expressão que representa 10% do valor de E7.  
 V - O valor de E9 representa a soma das células E7 e E8.

	A	B	C	D	E
1	<b>Empresa XYZ</b>				
2					
3		2009	2010	2011	Soma
4	Treinamento	1000	1200	1400	3600
5	Projeto	2500	2000	3000	7500
6	Salário	8000	8300	8800	25100
7				<b>SubTotal</b>	36200
8				<b>10%</b>	3620
9				<b>Total</b>	39820

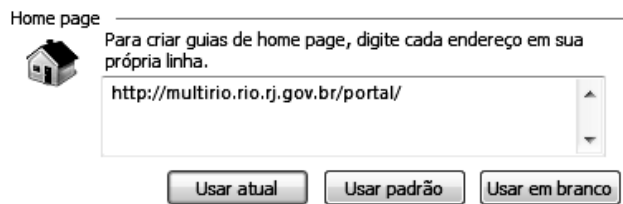
As expressões inseridas em E5 e E8 são, respectivamente:


- (A) =SOMA(B5:D5) e =PORCENTAGEM(10%;E7)  
 (B) =SOMA(B5;D5) e =PORCENTAGEM(10%;E7)  
 (C) =SOMA(B5:D5) e =10%\*E7  
 (D) =SOMA(B5;D5) e =10%\*E7

49. Uma das funcionalidades do software *Powerpoint* do pacote *MSOffice 2007 BR*, está indicada na seguinte alternativa:
- (A) salvar arquivos de imagens em um dos formatos *JPG* e *SCR*  
 (B) gerar arquivos de apresentações de slides em um dos formatos *PPT* e *AVI*  
 (C) exibir slides das apresentações como resultado do acionamento da tecla *F7*  
 (D) permitir ao usuário escolher a orientação dos slides como retrato ou paisagem



50. Quando um internauta utiliza o Internet Explorer 8 BR, ele pode definir um site como página inicial. Para isso, deve acessar o site de interesse e clicar numa das opções do menu Ferramentas. A opção escolhida irá abrir uma janela que apresenta a figura abaixo, para que esse internauta possa definir o site de interesse, como por exemplo, <http://multirio.rio.rj.gov.br/portal/>



Após o procedimento descrito, o internauta, toda vez que acessa o Internet Explorer 8 BR, o software irá exibir o site configurado na janela acima indicada. Se ele estiver acessando um outro site, como o do Google, poderá acessar o site configurado, clicando, por meio do mouse, no ícone . A opção do menu Ferramentas é:

- (A) Sites Sugeridos
- (B) Opções da Internet
- (C) Barra do Explorer
- (D) Configuração do Modo de Exibição