

## 18 – Assistente em Administração

### INSTRUÇÕES

1. Confira, abaixo, o seu número de inscrição, turma e nome. Assine no local indicado.
2. Aguarde autorização para abrir o caderno de prova. Antes de iniciar a resolução das questões, confira a numeração de todas as páginas.
3. Esta prova é constituída de 40 questões objetivas.
4. Nesta prova, as questões objetivas são de múltipla escolha, com 5 alternativas cada uma, sempre na seqüência **a, b, c, d, e**, das quais somente uma deve ser assinalada.
5. A interpretação das questões é parte do processo de avaliação, não sendo permitidas perguntas aos aplicadores de prova.
6. Ao receber o cartão-resposta, examine-o e verifique se o nome impresso nele corresponde ao seu. Caso haja qualquer irregularidade, comunique-a imediatamente ao aplicador de prova.
7. O cartão-resposta deverá ser preenchido com caneta esferográfica preta, tendo-se o cuidado de não ultrapassar o limite do espaço para cada marcação.
8. Não serão permitidas consultas, empréstimos e comunicação entre os candidatos, tampouco o uso de livros, apontamentos e equipamentos eletrônicos ou não, inclusive relógio. O não-cumprimento dessas exigências implicará a eliminação do candidato.
9. Os aparelhos celulares deverão ser desligados e colocados OBRIGATORIAMENTE no saco plástico. Caso essa exigência seja descumprida, o candidato será excluído do concurso.
10. O tempo de resolução das questões, incluindo o tempo para preenchimento do cartão-resposta, é de 4 horas.
11. Ao concluir a prova, permaneça em seu lugar e comunique ao aplicador de prova. Aguarde autorização para entregar o caderno de prova, o cartão-resposta e a ficha de identificação.
12. Se desejar, anote as respostas no quadro abaixo, recorte na linha indicada e leve-o consigo.

Português

Matemática

Informática

Legislação

DURAÇÃO DESTA PROVA: 4 horas

INSCRIÇÃO

TURMA

NOME DO CANDIDATO

ASSINATURA DO CANDIDATO

✕ .....

RESPOSTAS							
01 -	06 -	11 -	16 -	21 -	26 -	31 -	36 -
02 -	07 -	12 -	17 -	22 -	27 -	32 -	37 -
03 -	08 -	13 -	18 -	23 -	28 -	33 -	38 -
04 -	09 -	14 -	19 -	24 -	29 -	34 -	39 -
05 -	10 -	15 -	20 -	25 -	30 -	35 -	40 -

O gabarito estará disponível no site [www.nc.ufpr.br](http://www.nc.ufpr.br) 24 horas após o término da prova.



## PORTUGUÊS

As questões 01 e 02 referem-se ao texto a seguir.

### Diploma não dá dinheiro

Para Alison Wolf, professora de educação do *King's College*, de Londres, fazer faculdade não garante bons salários. Na Era do Conhecimento, a saída pode ser o telemarketing.

Por que hoje, no Brasil e no mundo, as pessoas vão mais à universidade?

O principal motivo para essa expansão é o aumento da demanda dos estudantes, e não do mercado. As pessoas acham muito arriscado não ter um diploma universitário. A idéia básica é que, se você não tiver curso superior, não estará competindo pelos melhores empregos.

Há vagas para todos esses formados?

Não. E há um outro problema: a massificação do ensino superior mudou o comportamento dos empregadores. Vários trabalhos que não precisavam dessa qualificação agora precisam, simplesmente porque as empresas consideram que quem nem se deu ao trabalho de fazer faculdade não está preparado para o mercado. O diploma não serve mais para abrir portas profissionalmente, mas, sim, para não fechá-las.

Onde estão os empregos no mundo atual?

Basicamente, nos setores que não necessitam de tanta especialização. O chamado telesserviço ou telemarketing, por exemplo, é uma das atividades que mais crescem no mundo e não requer experiência superior.

No Brasil, o governo gasta 14 vezes mais com um estudante da educação superior do que com o aluno da educação básica. Isso faz sentido?

O problema é que num país em desenvolvimento não se pode simplesmente abandonar a universidade. A sociedade precisa de universidades atrativas, que sejam reconhecidas e gerem conhecimento, e o governo precisa efetivamente de pessoas altamente qualificadas – médicos, professores... Senão, como o país pretende crescer? Se as universidades públicas fossem gerenciadas de maneira mais profissional, talvez não se gastasse tanto. E acredito que, se você vai à universidade e depois tem um grande benefício profissional e econômico com essa educação, é totalmente razoável que você pague de volta à instituição pela formação recebida.

(Adaptado de: *Superinteressante*, nov. 2007.)

#### 01 - Que afirmativa está de acordo com as declarações de Alison Wolf?

- a) O aumento da exigência de curso superior pelas empresas empregadoras deve-se à maior especialização do trabalho.
- b) A maior parte das vagas de emprego disponíveis no mercado encontra-se em setores que exigem formação especializada.
- c) Quem não dispõe de diploma superior tem mais facilidade de encontrar emprego.
- \*d) O investimento estatal em educação superior traz benefícios para a sociedade e o governo.
- e) Para evitar gastos, a administração da universidade pública deveria ser feita por profissionais externos, o que não ocorre hoje.

#### 02 - Qual das alternativas NÃO corresponde às idéias presentes no texto?

- a) Ocorreu expansão da universidade devido à procura dos estudantes por formação superior.
- \*b) Há possibilidades de trabalho para todos os formados, desde que eles procurem se especializar cada vez mais.
- c) Em muitas empresas, o diploma passou de meio para novas oportunidades a condição obrigatória de contratação.
- d) Em países em desenvolvimento, o governo não pode deixar de investir na educação superior.
- e) Pessoas formadas na universidade e bem-sucedidas na sociedade deveriam recompensar a instituição.

#### 03 - “Há vagas para todos esses formados?” Qual das frases abaixo também está de acordo com a norma padrão do português escrito?

- a) Haverão vagas para todos esses formados?
- b) Existe vagas para todos esses formados?
- c) Conseguirá vagas todos esses formados?
- d) Tem vagas todos esses formados?
- \*e) Existirão vagas para todos esses formados?

#### 04 - “Por que hoje, no Brasil e no mundo, as pessoas vão mais à universidade?” Em qual das frases estão corretos o uso e a grafia da expressão sublinhada?

- a) Os jovens não estudam mais tempo por que não querem.
- b) Fica difícil entender o por que de tanta resistência aos cursos profissionalizantes médios.
- \*c) Gostaríamos de saber por que esse método não rende bons resultados.
- d) E não se deve difundir essas modalidades de estudo por que?
- e) Valorizar cursos médios e pós-médios é bom por que esse nível de formação supre o mercado de trabalho mais promissor.

O texto a seguir, da Comissão de Biossegurança da Universidade Federal de São Paulo (UNIFESP), é parte de uma instrução para uso de laboratório na Instituição. As questões 05 e 06 referem-se a ele.

### Práticas especiais para o Nível de Biossegurança 2 (NB 2)

Além das práticas especiais descritas para o NB 1 devem ser observadas para o NB 2 as práticas a seguir discriminadas:

O Pesquisador Principal tem a responsabilidade de limitar o acesso ao laboratório. Cabe ao Pesquisador Principal a responsabilidade de avaliar cada situação e autorizar quem poderá entrar ou trabalhar no laboratório.

O Pesquisador Principal deve estabelecer políticas e procedimentos com ampla informação a todos que trabalhem no laboratório sobre o potencial de risco relacionado ao trabalho, bem como sobre os requisitos específicos para entrada em laboratório e em salas onde ocorra manipulação de animais.

No interior do laboratório, os freqüentadores devem utilizar roupas apropriadas, tais como jalecos, gorros, máscaras etc. Antes de sair do laboratório para áreas externas (biblioteca, cantina, escritório administrativo), a roupa protetora deve ser retirada e deixada no laboratório. Quando organismos contendo moléculas de DNA/RNA recombinantes estiverem sendo manipulados, são exigidos requisitos especiais para a entrada de pessoal no laboratório (por exemplo, a vacinação). Deve ser colocado um aviso sinalizando o risco, identificando o agente e o nome do Pesquisador Principal, endereço completo e diferentes possibilidades de sua localização ou outra pessoa responsável. Todos os requisitos necessários para a entrada no laboratório devem estar assinalados na porta de entrada, ao lado de fora.

#### 05 - Sobre o trecho apresentado, é correto afirmar:

- a) Contém todas as práticas especiais que a equipe de trabalho no laboratório deve conhecer.
- b) Confere acesso irrestrito ao laboratório para pesquisadores interessados.
- c) Limita-se a prescrever práticas e ações desempenhadas no interior do laboratório.
- d) Prevê função e tarefas para o agente do Pesquisador Principal.
- \*e) Insiste na exposição de informação sobre risco relacionado ao trabalho.

#### 06 - Qual das ações abaixo está de acordo com as instruções da Comissão de Biossegurança no texto apresentado?

- a) Um freqüentador do laboratório atua nele sem conhecer as práticas especiais para o NB 1.
- b) Na ausência do Pesquisador Principal, e sem conhecimento deste, outro freqüentador autoriza a entrada de um docente da instituição no laboratório.
- \*c) Durante manipulação de organismo contendo molécula de DNA/RNA recombinante, o Pesquisador Principal impede a entrada no laboratório de um indivíduo que não atende aos requisitos específicos do procedimento em curso.
- d) Um freqüentador do laboratório, que precisa ausentar-se brevemente, veste a roupa protetora para deixar o local.
- e) Depois de estabelecida a equipe autorizada pelo Pesquisador Principal, retira-se da porta o aviso sobre requisitos para entrar.

#### 07 - Que alternativa NÃO mantém o sentido da frase a seguir?

**Para satisfazer as necessidades do consumidor não basta apenas oferecer produtos de baixo custo.**

- a) Oferecer produtos de baixo custo não basta para satisfazer as necessidades do consumidor.
- b) Para satisfazer as necessidades do consumidor é preciso fazer mais que oferecer produtos de baixo custo.
- \*c) Não basta oferecer produtos de baixo custo e satisfazer as necessidades do consumidor.
- d) Para satisfazer as necessidades do consumidor, é preciso oferecer produtos de baixo custo, mas isso não basta.
- e) Deve-se oferecer produtos de baixo custo, mas isso não basta para satisfazer as necessidades do consumidor.

#### 08 - Após receber um colega para proferir conferência, o docente anfitrião escreve-lhe um bilhete de agradecimento. Qual das alternativas completa o bilhete de forma correta quanto ao uso dos pronomes?

*Prezado Colega,*

.....  
*Cordialmente,*

*Dr. Docente Anfitrião*

- \*a) Agradeço-lhe sua conferência. Foi um sucesso!
- b) Gostaria de agradecer a Vossa Senhoria vossa conferência. Foi um sucesso!
- c) Cumprimento-o por vossa conferência. Foi um sucesso!
- d) Sou-lhe muito grato por vossa conferência. Foi um sucesso!
- e) Agradeço-vos de coração por sua conferência. Foi um sucesso!

#### 09 - “Gostaria de dar aos pesquisadores informações detalhadas sobre o acervo.” Qual das alternativas substitui corretamente a expressão sublinhada na frase, segundo as normas do português padrão?

- a) dá-lhes.
- b) dá-la.
- c) dar-lhos.
- \*d) dar-lhes.
- e) dá-los.

10- “A Universidade em que trabalho tem *campi* em cinco municípios.” Em qual das alternativas abaixo a parte sublinhada foi substituída de forma correta?

- \*a) A Universidade onde trabalho tem *campi* em cinco municípios.
- b) A Universidade à qual trabalho tem *campi* em cinco municípios.
- c) A Universidade que trabalho tem *campi* em cinco municípios.
- d) A Universidade que trabalho nela tem *campi* em cinco municípios.
- e) A Universidade em cuja trabalho tem *campi* em cinco municípios.

## MATEMÁTICA

11 - José comprou um terreno plano, no qual planeja construir uma casa e plantar uma horta. Ele planeja usar  $\frac{3}{8}$  da área total do terreno para construir uma casa e 30% da área livre restante para a horta. Após a construção da casa e da horta, restarão ainda  $112 \text{ m}^2$  de área livre no terreno. Qual é o tamanho da casa que José planeja construir?

- a)  $84 \text{ m}^2$ .
- b)  $64 \text{ m}^2$ .
- c)  $72 \text{ m}^2$ .
- \*d)  $96 \text{ m}^2$ .
- e)  $128 \text{ m}^2$ .

12 - Alberto, Bernardo e Casemiro se uniram para comprar uma lanchonete. Alberto entrou com R\$ 18.000,00, Bernardo com R\$ 22.500,00 e Casemiro com R\$ 31.500,00. Um ano após esse evento, constatou-se que a lanchonete havia dado a eles um lucro de R\$ 9.600,00. Dividindo esse lucro proporcionalmente ao investimento inicial dos sócios, quanto cada um deve receber?

- \*a) Alberto deve receber R\$ 2.400,00, Bernardo deve receber R\$ 3.000,00 e Casemiro deve receber 4.200,00.
- b) Alberto deve receber R\$ 4.200,00, Bernardo deve receber R\$ 2.250,00 e Casemiro deve receber 3.150,00.
- c) Alberto deve receber R\$ 2.600,00, Bernardo deve receber R\$ 3.200,00 e Casemiro deve receber 3.800,00.
- d) Alberto deve receber R\$ 2.100,00, Bernardo deve receber R\$ 2.900,00 e Casemiro deve receber 4.600,00.
- e) Alberto deve receber R\$ 2.200,00, Bernardo deve receber R\$ 2.850,00 e Casemiro deve receber 4.550,00.

13 - Sabendo que 20 costureiras, trabalhando 8 horas por dia, conseguiram aprontar  $\frac{3}{5}$  de uma encomenda em 27 dias, quantas costureiras a mais serão necessárias para concluir essa tarefa em 10 dias, sendo que todas as costureiras (as antigas e as novas) passarão a trabalhar 12 horas por dia?

- a) 5 costureiras.
- b) 2 costureiras.
- c) 6 costureiras.
- d) 8 costureiras.
- \*e) 4 costureiras.

14 - Para ampliar a capacidade de tratamento de esgoto de uma estação, uma empresa de saneamento mandou construir um novo reservatório para o tratamento do esgoto doméstico. Esse reservatório terá internamente o formato de um cilindro circular reto com altura de 1,25 m e diâmetro de 32,0 m. Qual será, aproximadamente, a capacidade desse reservatório?

- a) 2.200.000 litros.
- \*b) 1.000.000 litros.
- c) 1.800.000 litros.
- d) 1.400.000 litros.
- e) 3.000.000 litros.

15 - Em um cofrinho havia 8 moedas de R\$ 0,25, 10 moedas de R\$ 0,50 e 5 moedas de R\$ 1,00. Sabendo que 3 dessas moedas foram retiradas aleatoriamente, qual é a probabilidade de que nesse cofrinho tenha restado um valor igual ou inferior a R\$ 10,00?

- a)  $\frac{7}{27}$ .
- b)  $\frac{1}{9}$ .
- c)  $\frac{1}{3}$ .
- d)  $\frac{2}{9}$ .
- e)  $\frac{5}{27}$ .

(\*) – Questão anulada e pontuada a todos os candidatos.

16 - Num triângulo retângulo, os lados perpendiculares têm o mesmo comprimento, e o lado oposto ao ângulo reto mede  $4\sqrt{5} \text{ cm}$ . Qual é a área desse triângulo?

- a)  $30 \text{ cm}^2$ .
- b)  $15 \text{ cm}^2$ .
- \*c)  $20 \text{ cm}^2$ .
- d)  $10 \text{ cm}^2$ .

e) 25 cm<sup>2</sup>.

**17 - Fiz um empréstimo de R\$ 4.000,00 para meu cunhado e combinamos que ele me pagaria juros simples de 15% ao ano. Após nove meses, ele me procurou para quitar a dívida. Qual é o valor que devo receber?**

- \*a) R\$ 4.450,00.
- b) R\$ 4.525,00.
- c) R\$ 4.380,00.
- d) R\$ 4.275,00.
- e) R\$ 4.420,00.

**18 - Antônio esqueceu de pagar a taxa de condomínio na data do vencimento e, em vez dos R\$ 132,00 habituais, pagou R\$ 137,00. Nesse caso, a multa e os juros pelo atraso no pagamento:**

- a) foram inferiores a 2% do valor da taxa do condomínio.
- b) ficaram entre 2% e 3% do valor da taxa do condomínio.
- \*c) ficaram entre 3% e 4% do valor da taxa do condomínio.
- d) ficaram entre 4% e 5% do valor da taxa do condomínio.
- e) foram superiores a 5% do valor da taxa do condomínio.

**19 - Na Pró-Reitoria de Administração de uma universidade, um quarto dos funcionários trabalha há mais de vinte anos, um quinto há menos de 6 anos e os demais (11 funcionários) ingressaram na última década. Quantos funcionários tem essa pró-reitoria?**

- a) 38.
- \*b) 20.
- c) 24.
- d) 42.
- e) 28.

**20 - No início do semestre, o curso de Engenharia Mecânica tinha 330 alunos matriculados, dos quais, apenas 10% eram mulheres. No final de maio, o coordenador fez um levantamento e constatou que entre os alunos que haviam abandonado o curso não estava nenhuma das mulheres. Dessa forma, o índice de alunas matriculadas no curso passou a ser de 11%. Quantos alunos desistiram do curso?**

- a) 3.
- b) 9.
- c) 16.
- d) 22.
- \*e) 30.

## INFORMÁTICA

**21 - Uma das opções para renomear um arquivo ou pasta utilizando o Windows Explorer é:**

- a) Marcar o arquivo ou pasta clicando o botão direito do mouse sobre o arquivo e em seguida clicar novamente com o botão direito do mouse sobre o arquivo marcado, digitando o novo nome no local do atual.
- b) Marcar o arquivo ou pasta clicando duas vezes sobre ele com o botão esquerdo do mouse e em seguida digitar o novo nome no local do atual.
- c) Marcar o arquivo ou pasta clicando o botão esquerdo do mouse sobre o arquivo e em seguida clicar novamente com o botão esquerdo do mouse sobre o arquivo marcado, digitando o novo nome no local do nome atual.
- d) Marcar o arquivo ou pasta clicando duas vezes sobre ele com o botão direito do mouse e em seguida digitar o novo nome no local do atual.
- e) Marcar o arquivo ou pasta clicando o botão direito do mouse sobre o arquivo e em seguida clicar novamente com o botão esquerdo do mouse sobre o arquivo marcado, digitando o novo nome no local do atual.






**(\*) – Questão anulada e pontuada a todos os candidatos.**

**22 - O chefe de seção de um escritório solicitou a verificação, na página da empresa XYZ Suprimentos para Informática, a disponibilidade de tinta para as impressoras de sua seção e a solicitação por e-mail, ao departamento de vendas da empresa XYZ, de dez cartuchos para cada impressora. Para cumprir essa tarefa, deve ser seguido o seguinte procedimento:**

- a) Utilizando o Outlook Express, visitar a página da empresa XYZ, na forma www.host.dominio e em seguida, utilizando o Internet Explorer, enviar um e-mail, na forma usuário@host.dominio, solicitando os cartuchos.
- b) Utilizando o Internet Explorer, visitar a página da empresa XYZ, na forma usuário@host.dominio, e em seguida, utilizando o Outlook Express, enviar um e-mail, na forma www.host.dominio, solicitando os cartuchos.
- c) Utilizando o Outlook Express, visitar a página da empresa XYZ, na forma usuário@host.dominio, e em seguida, utilizando o Internet Explorer, enviar um e-mail, na forma www.host.dominio, solicitando os cartuchos.
- \*d) Utilizando o Internet Explorer, visitar a página da empresa XYZ, na forma www.host.dominio e em seguida, utilizando o Outlook Express, enviar um e-mail, na forma usuário@host.dominio, solicitando os cartuchos.

- e) Utilizando o Internet Explorer, visitar a página da empresa XYZ, na forma `www.host.dominio`, e em seguida, utilizando o Outlook Express, enviar um e-mail, na forma `www.host.dominio`, solicitando os cartuchos.

23 - Os botões apresentados na coluna da esquerda são da barra de ferramentas do Microsoft Word. Numere a coluna da direita de acordo com a finalidade de cada um desses botões.

- |    |   |                          |
|----|---|--------------------------|
| 1. |  | ( ) Colar                |
|    |   | ( ) Abrir                |
|    |   | ( ) Pesquisar            |
| 2. |  | ( ) Visualizar Impressão |
|    |   | ( ) Salvar               |
| 3. |  |                          |
| 4. |  |                          |
| 5. |  |                          |

Assinale a alternativa que apresenta a numeração correta da coluna da direita, de cima para baixo.

- a) 1 – 5 – 3 – 2 – 4.  
 \*b) 5 – 1 – 4 – 3 – 2.  
 c) 3 – 4 – 5 – 2 – 1.  
 d) 2 – 3 – 4 – 1 – 5.  
 e) 4 – 2 – 1 – 5 – 3.

24 - Para abrir um arquivo produzido pelo Microsoft Word utilizando o Windows Explorer deve-se:

- \*a) clicar duas vezes consecutivamente com o botão esquerdo do mouse sobre o arquivo.  
 b) clicar duas vezes consecutivamente com o botão direito do mouse sobre o arquivo.  
 c) clicar uma vez com o botão direito do mouse sobre o arquivo.  
 d) clicar uma vez com o botão esquerdo do mouse sobre o arquivo.  
 e) clicar, consecutivamente, uma vez com o botão direito do mouse e outra com o botão esquerdo sobre o arquivo.

25 - Qual dos periféricos abaixo é indicado para fazer backup de todos os documentos que estão no HD criados tanto com o Microsoft Word quanto com o Microsoft Excel?

- a) Impressora laser.  
 b) Impressora a jato de tinta.  
 c) Scanner.  
 \*d) Gravador de CD.  
 e) Monitor LCD.

26 - Com relação ao aplicativo Microsoft Word, considere as seguintes afirmativas:

- É possível colar um texto com figuras, copiado da Internet, diretamente em um documento que está sendo digitado.
- É possível numerar todas as linhas de um documento automaticamente: basta, na barra de menu, clicar em “Inserir” e em seguida, no menu que será aberto, clicar em “Número de linhas”.
- É possível inserir caracteres que não existem no teclado em um texto que está sendo digitado.
- É possível, em um documento que já foi digitado e foi aberto novamente, inserir um parágrafo inteiro que foi recortado de outro documento.

Assinale a alternativa correta.

- a) Somente as afirmativas 1, 2 e 3 são verdadeiras.  
 b) Somente as afirmativas 2, 3 e 4 são verdadeiras.  
 c) Somente as afirmativas 1 e 2 são verdadeiras.  
 d) Somente as afirmativas 3 e 4 são verdadeiras.  
 \*e) Somente as afirmativas 1, 3 e 4 são verdadeiras.

27 - Considere a figura abaixo, relativa ao Microsoft Excel.

G1		fx =SOMA(A1:F1)/10					
	A	B	C	D	E	F	G
1	5	10	15	20	25	30	#####
2							

O conteúdo da célula G1 é:

- \*a) 10,5.  
 b) 105.  
 c) 3,5.  
 d) 35.  
 e) 75.



**28 - A respeito do trabalho com computadores ligados em rede interna, considere as afirmativas abaixo:**

1. É possível copiar dos outros computadores da rede para o meu computador, qualquer documento produzido pelo Microsoft Word, bastando que os computadores estejam ligados.
2. Para que os outros computadores da rede tenham acesso à impressora conectada ao meu computador, basta que o meu computador e a impressora estejam ligados.
3. É possível, a partir de qualquer computador da rede, gravar em um CD fotos armazenadas no computador que é utilizado pelo chefe da seção, desde que a opção de compartilhamento do dispositivo de gravação do computador do chefe permita.
4. É possível, utilizando o Windows Explorer, verificar o conteúdo do disco local (C:) de todos os computadores da rede, independentemente da opção de compartilhamento dos computadores.

**Assinale a alternativa correta.**

- a) Somente as afirmativas 1 e 2 são verdadeiras.
- b) Somente a afirmativa 4 é verdadeira.
- c) Somente as afirmativas 3 e 4 são verdadeiras.
- d) Somente as afirmativas 1, 2 e 4 são verdadeiras.
- e) Somente a afirmativa 3 é verdadeira.

**(\*) – Questão anulada e pontuada a todos os candidatos.**

**29 - Com relação ao funcionamento de um computador, com seus periféricos e programas, considere as seguintes afirmativas:**

1. Scanner é um periférico de entrada e saída de informações (fotos, imagens).
2. Necessitando de um computador com grande capacidade de processamento, ao efetuar a compra deve-se levar em consideração apenas o tamanho do HD, pois quanto maior for o HD, mais rápido será o computador.
3. Os programas antivírus são exemplos de softwares.

**Assinale a alternativa correta.**

- a) Somente a afirmativa 2 é verdadeira.
- \*b) Somente a afirmativa 3 é verdadeira.
- c) Somente as afirmativas 1 e 2 são verdadeiras.
- d) Somente as afirmativas 2 e 3 são verdadeiras.
- e) As afirmativas 1 e 3 são verdadeiras.

**30 - Sobre o Microsoft Excel, considere as afirmativas abaixo:**

1. Para mudar a cor da fonte de uma célula basta inserir na célula a função SE.
2. É possível colocar como cabeçalho de uma planilha os doze meses do ano, sem digitar todos: basta digitar JANEIRO na célula inicial, marcar essa célula, posicionar o cursor no seu canto inferior e arrastar para as outras onze células.
3. É possível colocar como cabeçalho de uma planilha os números dos trinta e um dias do mês de maio, sem digitar todos: basta digitar 1 na célula inicial, marcar essa célula, posicionar o cursor no seu canto inferior e arrastar para as outras trinta células.
4. As notas do primeiro aluno de uma turma de cinquenta estão nas células C3, D3, E3 e F3. Para calcular a média aritmética das quatro notas de todos os alunos, sem usar a função média, deve-se seguir o seguinte procedimento: digitar  $=(C3+D3+E3+F3)/4$  na célula G3, em seguida marcar a célula G3, posicionar o cursor no canto inferior direito dessa célula e arrastar para as outras quarenta e nove células.

**Assinale a alternativa correta.**

- a) Somente as afirmativas 2 e 3 são verdadeiras.
- \*b) Somente as afirmativas 2 e 4 são verdadeiras.
- c) Somente as afirmativas 1, 2 e 4 são verdadeiras.
- d) Somente as afirmativas 1 e 3 são verdadeiras.
- e) Somente as afirmativas 1, 3 e 4 são verdadeiras.

## LEGISLAÇÃO

**31 - Sobre a responsabilidade civil do servidor público, é correto afirmar:**

- \*a) O servidor público responderá civilmente por ação ou omissão quando causar prejuízo ao erário ou a terceiros, por ter agido com dolo ou culpa.
- b) O servidor público que praticar ato ilícito não ligado ao desempenho de sua função não será civilmente responsável.
- c) O servidor público não pode ser responsabilizado na área administrativa antes do encerramento da apuração civil.
- d) O servidor público responderá perante a Fazenda Pública, em ação regressiva, quando causar dano à administração.
- e) A responsabilidade civil de servidor público federal será apurada sempre pela Justiça Federal.

**32 De acordo com a Constituição Federal, é INCORRETO afirmar:**

- a) São brasileiros natos os nascidos na República Federativa do Brasil, ainda que de pais estrangeiros, desde que estes não estejam a serviço de seu país.
- b) São privativos de brasileiros natos os cargos da carreira diplomática e de oficial das Forças Armadas.
- c) São símbolos da República Federativa do Brasil, a bandeira, o hino, o selo e as armas nacionais.
- \*d) Para concorrer a outros cargos, o presidente da República, os governadores de Estado e do Distrito Federal e os prefeitos devem renunciar aos respectivos mandatos até 3 (três) meses antes do pleito.
- e) A língua portuguesa é o idioma oficial da República Federativa do Brasil.

**33 - Em relação ao Código Civil Brasileiro, assinale a alternativa INCORRETA.**

- a) As autarquias são pessoas jurídicas de direito público interno.
- b) As pessoas jurídicas de direito público são civilmente responsáveis por atos dos seus agentes que nessa qualidade causem danos a terceiros.
- \*c) Os partidos políticos são pessoas jurídicas de direito público.
- d) O poder público não pode negar reconhecimento a organizações religiosas.
- e) As fundações são pessoas jurídicas de direito privado.

**34 - A forma de provimento em cargo público anteriormente ocupado por servidor estável, em virtude de não ter sido aprovado no estágio probatório, necessário à sua efetivação no outro cargo para o qual fora nomeado, denomina-se:**

- a) readmissão.
- b) reintegração.
- \*c) recondução.
- d) reversão.
- e) readaptação

**35 - O processo administrativo, no âmbito da Administração Pública Federal, é regulamentado por dispositivos constitucionais e legais que estabelecem normas básicas visando, em especial, à proteção dos direitos dos administrados e ao melhor cumprimento dos fins da administração. A respeito do assunto, considere as seguintes afirmativas:**

1. **A Administração Pública obedecerá, dentre outros, aos princípios da legalidade, finalidade, motivação, razoabilidade, proporcionalidade, moralidade, ampla defesa, contraditório, segurança jurídica, interesse público e eficiência.**
2. **A competência é irrenunciável e se exerce pelos órgãos administrativos a que foi atribuída como própria, podendo ser delegada em razão de ordem técnica ou social.**
3. **Atos administrativos deverão ser motivados, com indicação dos fatos e dos fundamentos jurídicos, quando decidirem processos administrativos de concurso ou seleção pública.**
4. **O processo administrativo só poderá ser iniciado a pedido do interessado, na defesa de direito próprio ou alheio, desde que legalmente legitimado pelo próprio interessado.**
5. **O prazo para prática de atos em processos administrativos é de 30 dias para a autoridade responsável e de 5 dias quando se tratar de parecer obrigatório e vinculante, podendo ser responsabilizado aquele que der causa ao atraso.**

**Assinale a alternativa correta.**

- a) Somente as afirmativas 1 e 5 são verdadeiras.
- b) Somente as afirmativas 2, 3 e 4 são verdadeiras.
- \*c) Somente as afirmativas 1, 2 e 3 são verdadeiras.
- d) Somente as afirmativas 4 e 5 são verdadeiras.
- e) As afirmativas 1, 2, 3, 4 e 5 são verdadeiras.

**36 - Considere as seguintes afirmativas:**

1. **É livre a manifestação do pensamento, sendo vedado o anonimato.**
2. **É livre o exercício de qualquer trabalho, ofício ou profissão, atendidas as qualificações profissionais que a lei estabelece.**
3. **É garantido o direito de propriedade.**
4. **É assegurado o repouso semanal remunerado, preferencialmente aos domingos.**
5. **É garantido à gestante licença, sem prejuízo do emprego e do salário, com duração de cento e oitenta dias, estendida às mães adotivas.**

**Em relação aos direitos e garantias fundamentais assegurados constitucionalmente aos brasileiros e estrangeiros residentes no país:**

- a) somente as afirmativas 3, 4 e 5 são verdadeiras.
- b) somente as afirmativas 1 e 3 são verdadeiras.
- \*c) somente as afirmativas 1, 2, 3 e 4 são verdadeiras.
- d) somente as afirmativas 1, 2 e 3 são verdadeiras.
- e) somente as afirmativas 1 e 5 são verdadeiras.

**37 - Com base na previsão constitucional sobre a remuneração do servidor público, assinale a alternativa INCORRETA.**

- \*a) A redução de vencimentos do servidor público poderá ocorrer quando da fixação de novas tabelas, desde que aprovadas em lei.
- b) Vencimento é a retribuição pecuniária pelo exercício de cargo público, com valor fixado em lei.
- c) Remuneração é o vencimento do cargo efetivo, acrescido das vantagens pecuniárias estabelecidas em lei.
- d) Subsídio é a remuneração fixada em lei para cargos definidos em lei, fixado em parcela única, sendo vedados acréscimos de gratificação, adicional, abono, prêmio, verba de representação ou outra espécie de remuneração.
- e) Os vencimentos dos cargos do Poder Legislativo e do Poder Judiciário não poderão ser superiores ao do Poder Executivo.

**38 - Sobre licitação, considere as seguintes afirmativas:**

1. São modalidades de licitação, aplicáveis à Administração Pública Federal: concorrência, tomada de preços, convite, concurso e leilão (pregão).
2. É dispensável a licitação para a aquisição ou restauração de obras de arte e objetos históricos, de autenticidade certificada, desde que compatíveis ou inerentes às finalidades do órgão ou entidade.
3. É inexigível a licitação quando houver inviabilidade de competição.
4. Impedir, perturbar ou fraudar a realização de qualquer ato de procedimento licitatório é crime, punível com pena de detenção de 6 meses a dois anos e multa.

De acordo com a Lei 8.666, assinale a alternativa correta.

- a) Somente as afirmativas 1 e 2 são verdadeiras.
- b) Somente as afirmativas 2, 3 e 4 são verdadeiras.
- c) Somente as afirmativas 1 e 3 são verdadeiras.
- d) Somente as afirmativas 1, 2 e 4 são verdadeiras.
- \*e) As afirmativas 1, 2, 3 e 4 são verdadeiras.

**39 - Sobre o candidato aprovado em concurso público, considere as seguintes afirmativas:**

1. Terá de tomar posse no cargo no prazo de trinta dias, contados do ato de provimento.
2. Terá de entrar em exercício no prazo de 15 dias, contados do dia da posse.
3. Ao entrar em exercício, ficará sujeito a estágio probatório por 36 meses.
4. Terá estabilidade no serviço público ao completar dois anos de efetivo exercício.
5. Só perderá o cargo em virtude de cometimento de crime, após sentença judicial transitada em julgado.

Assinale a alternativa correta.

- a) Somente as afirmativas 1, 3 e 5 são verdadeiras.
- b) Somente as afirmativas 2, 3, 4 e 5 são verdadeiras.
- \*c) Somente as afirmativas 1, 2 e 3 são verdadeiras.
- d) Somente as afirmativas 1, 2, 3 e 4 são verdadeiras.
- e) Somente as afirmativas 1, 2, 3 e 5 são verdadeiras.

**40 - Em relação a crimes definidos no Código Penal, numere a coluna da direita de acordo com a coluna da esquerda.**

- |   |                   |
|---|-------------------|
| 1. Exigir para si ou para outrem, direta ou indiretamente, ainda que fora da função ou antes de assumi-la, mas em razão dela, vantagem indevida.  | ( ) Peculato.     |
| 2. Apropriar-se, o servidor público, de dinheiro ou qualquer outro bem móvel, público ou particular, de que tem posse em razão do cargo, ou desviá-lo em proveito próprio ou alheio.  | ( ) Concussão.    |
| 3. Retardar ou deixar de praticar, indevidamente, ato de ofício, ou praticá-lo contra disposição expressa em lei, para satisfazer interesse ou sentimento pessoal.  | ( ) Prevaricação. |
| 4. Usar de violência ou grave ameaça, com o fim de favorecer interesse próprio ou alheio, contra autoridade, parte ou qualquer outra pessoa que funciona ou é chamada a intervir em processo judicial, policial ou administrativo ou em juízo arbitral. | ( ) Corrupção.    |
| 5. Solicitar ou receber para si ou para outrem, direta ou indiretamente, ainda que fora da função ou antes de assumi-la, mas em razão dela, vantagem indevida, ou aceitar promessa de tal vantagem.   | ( ) Coação.       |

Assinale a alternativa que apresenta a numeração correta da coluna da direita, de cima para baixo.

- a) 1 – 3 – 5 – 2 – 4.
- b) 1 – 2 – 3 – 4 – 5.
- c) 2 – 3 – 1 – 4 – 5.
- \*d) 2 – 1 – 3 – 5 – 4.
- e) 1 – 2 – 4 – 5 – 3.