

CONHECIMENTOS BÁSICOS

Texto para as questões de 1 a 6.

1 O termo “desenvolvimento sustentável” foi usado,
pela primeira vez, em 1987, por Gro Harlem Brundtland,
ex-primeira-ministra da Noruega e que atuou como
4 presidente de uma comissão da Organização das Nações
Unidas. Ela publicou um livro no qual define o termo da
seguinte forma: “Desenvolvimento sustentável significa
7 suprir as necessidades do presente sem afetar a habilidade
das gerações futuras de suprirem as próprias necessidades”.

Ao longo da maior parte da história, o homem atuou
10 como um dominador da natureza e acreditava que ela
estava disponível somente para o seu bem-estar, para servir
ao desenvolvimento econômico. Essa forma de pensar
13 produziu uma “sociedade de consumo”, que é exatamente
o oposto do desenvolvimento sustentável, pois as indústrias
e fábricas buscam extrair o máximo de recursos do planeta
16 para acumular riquezas e satisfazer o consumismo
exagerado da população, ocorrendo muito desperdício. O
caminho seguido pela economia até o momento foi extrair,
19 produzir, vender, utilizar e descartar, sem que se levassem
em conta a natureza e as futuras gerações, como se os
recursos naturais não tivessem fim.

22 Esse modelo de desenvolvimento estabelecido até o
momento levou a consequências drásticas, como poluição
ambiental e desigualdade social. Está comprovado que o ser
humano não pode consumir o que e quanto quiser sem se
25 preocupar com as consequências.

Desse modo, surgiu a necessidade urgente de mudar
28 essa visão. Os que buscam aplicar as ideias da
sustentabilidade levam em conta a harmonia entre a
natureza e a sociedade em qualquer empreendimento
31 humano.

Internet: <www.brasilecola.uol.com.br> (com adaptações).

QUESTÃO 1

De acordo com as ideias apresentadas no texto, assinale a alternativa correta.

- (A) A sociedade de consumo opõe-se ao desenvolvimento sustentável.
- (B) O desenvolvimento econômico é mais importante que a preservação do meio ambiente.
- (C) Os recursos naturais são infinitos, portanto é exagerada a preocupação ambiental.
- (D) Poluição ambiental e desigualdade social inserem-se entre as causas do modelo econômico consumista.
- (E) O maior entrave para o desenvolvimento sustentável é o descarte de materiais não perecíveis.

QUESTÃO 2

Assinale a alternativa que apresenta o sinônimo da palavra “suprir” (linha 7).

- (A) conceber
- (B) gastar
- (C) prover
- (D) provir
- (E) suprimir

QUESTÃO 3

Na oração “pois as indústrias e fábricas buscam extrair o máximo de recursos do planeta” (linhas 14 e 15), a conjunção “pois” pode ser substituída, sem prejuízo da correção gramatical e do sentido do período, por

- (A) **entretanto.**
- (B) **por isso.**
- (C) **porque.**
- (D) **por que.**
- (E) **portanto.**

QUESTÃO 4

Assinale a alternativa em que a(s) vírgula(s) está(ão) empregada(s) em uma enumeração.

- (A) “O termo ‘desenvolvimento sustentável’ foi usado, pela primeira vez, em 1987, por Gro Harlem Brundtland, ex-primeira-ministra da Noruega” (linhas de 1 a 3)
- (B) “Ao longo da maior parte da história, o homem atuou como um dominador da natureza” (linhas 9 e 10)
- (C) “Essa forma de pensar produziu uma ‘sociedade de consumo’, que é exatamente o oposto do desenvolvimento sustentável, pois as indústrias e fábricas buscam extrair o máximo de recursos do planeta” (linhas de 12 a 15)
- (D) “O caminho seguido pela economia até o momento foi extrair, produzir, vender, utilizar e descartar” (linhas de 17 a 19)
- (E) “Desse modo, surgiu a necessidade urgente de mudar essa visão.” (linhas 27 e 28)

QUESTÃO 5

São acentuadas de acordo com a mesma regra de acentuação gráfica as palavras

- (A) “sustentável” e econômico”.
- (B) “próprias” e “até”.
- (C) “disponível” e “fábricas”.
- (D) “máximo” e “drásticas”.
- (E) “fábricas” e está”.

QUESTÃO 6

Assinale a alternativa que apresenta o antônimo da palavra “bem-estar” (linha 11), conforme a ortografia oficial.

- (A) mal-estar
- (B) mau-estar
- (C) malestar
- (D) desestima
- (E) desestar

QUESTÃO 7

No que diz respeito à concordância verbal e nominal, assinale a alternativa correta.

- (A) Os crescimentos econômico e populacional das últimas décadas no mundo têm sido marcados por grandes disparidades.
- (B) Embora os países do Hemisfério Norte possua apenas um quinto da população do planeta, eles detém quatro quintos dos rendimentos mundiais.
- (C) O desenvolvimento econômico é vital para os países mais pobres, mas o caminho a seguir não pode serem o mesmo adotado pelos países industrializados.
- (D) Caso as sociedades do Hemisfério Sul copiasse os padrões das sociedades do Norte, a quantidade de combustíveis fóssil consumida atualmente aumentaria dez vezes.
- (E) O consumo crescente de energia e recursos naturais levam ao esgotamento dos recursos naturais do qual dependem a humanidade.

QUESTÃO 8

No que se refere à pontuação, assinale a alternativa correta.

- (A) O conceito de desenvolvimento sustentável representou, uma nova forma de desenvolvimento econômico. Que leva em conta o meio ambiente.
- (B) Muitas vezes, desenvolvimento é confundido com crescimento econômico, que depende do consumo crescente de energia e recursos naturais.
- (C) Dos recursos naturais, dependem, não só a existência humana e a diversidade biológica. Como o próprio crescimento econômico.
- (D) O desenvolvimento sustentável, sugere qualidade em vez de quantidade, com a redução do uso de matérias-primas e produtos e o aumento da reutilização e da reciclagem.
- (E) Ao invés de aumentar os níveis de consumo dos países em desenvolvimento; é preciso reduzir, os níveis observados nos países industrializados.

QUESTÃO 9

Assinale a alternativa correta quanto à conjugação verbal.

- (A) Com o desenvolvimento das atividades industriais vinheram grandes impactos ambientais.
- (B) Para tentar diminuir o impacto ambiental, vários estudos e discussões poram em evidência o desenvolvimento sustentável.
- (C) As ações de desenvolvimento sustentável trouxeram algumas melhorias ao longo dos anos, mas muito ainda tem de ser feito.
- (D) Os defensores do desenvolvimento sustentável proponhem a aliança entre desenvolvimento econômico e responsabilidade ambiental.
- (E) Hoje, muitos empresários preocupam-se em agir de forma sustentável e alinham esse objetivo às suas prioridades e estratégias.

QUESTÃO 10

Considerando o emprego de pronomes, assinale a alternativa correta.

- (A) Sem o controle das práticas de exploração econômica, haverá menos disponibilidade de recursos naturais no planeta.
- (B) O ambientalista disse para mim pesquisar sobre desenvolvimento sustentável na página oficial do Ministério do Meio Ambiente.
- (C) O agricultor não soube responder porquê sua terra se tornara improdutiva.
- (D) O produtor rural perguntou ao ambientalista o quê deveria fazer para reflorestar a área devastada.
- (E) A questão ambiental provocou uma discussão acalorada entre mim e o fazendeiro.

QUESTÃO 11

Em um pedido de 5 pizzas, com 8 pedaços cada, os sabores eram os seguintes: inteira de calabresa; inteira de portuguesa; metade de frango e metade de milho; metade de bacon e metade de muçarela; e metade de banana e metade de chocolate. Uma pessoa tem direito a 2 pedaços dentre os disponíveis.

Com base nesse caso hipotético, assinale a alternativa que apresenta a probabilidade de se receber 1 pedaço de portuguesa e 1 de milho.

- (A) $\frac{1}{5}$
- (B) $\frac{1}{10}$
- (C) $\frac{1}{25}$
- (D) $\frac{1}{50}$
- (E) $\frac{1}{100}$

QUESTÃO 12

Em um estacionamento, há 5 vagas disponíveis, das quais 2 são cobertas, e 10 carros diferentes para estacionar. Entre os 10 carros, há 4 que somente podem ser estacionados nas vagas cobertas.

Considerando esse caso hipotético, assinale a alternativa que apresenta o número de maneiras diferentes de se colocar 5 dos 10 carros nas vagas disponíveis.

- (A) $6 \times 7!$
- (B) $\frac{10!}{5}$
- (C) $6! \times 4!$
- (D) $\frac{10!}{(4! \times 6!)}$
- (E) $\frac{10!}{(5!)^2}$

QUESTÃO 13

Para formar um grupo com 3 pianistas e 5 violonistas, estão disponíveis 5 pianistas e 6 violonistas.

Nessa situação hipotética, poderão ser formados

- (A) 16 grupos.
- (B) 30 grupos.
- (C) 60 grupos.
- (D) 90 grupos.
- (E) 120 grupos.

QUESTÃO 14

Em uma fábrica de chocolates, a produção, em janeiro, foi de 4.500 caixas e, em dezembro, de 6.000 caixas. Sabe-se que o número de funcionários em janeiro aumentou, em dezembro, na mesma proporção da produção. Havia 24 funcionários em dezembro.

A quantidade de funcionários que havia em janeiro era de

- (A) 36.
- (B) 32.
- (C) 18.
- (D) 16.
- (E) 12.

QUESTÃO 15

Se 4 funcionários fazem uma tarefa em 12 dias, então 6 funcionários fazem a mesma tarefa em

- (A) 4 dias.
- (B) 8 dias.
- (C) 9 dias.
- (D) 16 dias.
- (E) 18 dias.

RASCUNHO

QUESTÃO 16

Uma pessoa esperou 2 dias, 2 horas e 40 minutos por um telefonema. O coração da pessoa bate, em média, 80 vezes por minuto.

Com base nesse caso hipotético, o coração da pessoa bateu, durante a espera,

- (A) 432.000 vezes.
- (B) 243.200 vezes.
- (C) 182.400 vezes.
- (D) 5.400 vezes.
- (E) 3.040 vezes.

QUESTÃO 17

Sabendo que x e y são inteiros e positivos e que $x + y = 5$, assinale a alternativa que apresenta a probabilidade de x ser 4.

- (A) $\frac{1}{10}$
- (B) $\frac{1}{6}$
- (C) $\frac{1}{5}$
- (D) $\frac{1}{4}$
- (E) $\frac{1}{3}$

QUESTÃO 18

A sentença "Se Manoel fuma, então ele tem sorriso amarelo" é equivalente à sentença

- (A) "Manoel fuma".
- (B) "Manoel tem sorriso amarelo".
- (C) "Se Manoel tem sorriso amarelo, então ele fuma".
- (D) "Se Manoel não fuma, então ele não tem sorriso amarelo".
- (E) "Se Manoel não tem sorriso amarelo, então ele não fuma".

QUESTÃO 19

- 1) Nenhum primo de Lara é estudioso.
- 2) Todos os professores são estudiosos.
- 3) Alguns estudiosos são egocêntricos.

A partir das proposições acima, é correto inferir que

- (A) nenhum primo de Lara é egocêntrico.
- (B) alguns professores são egocêntricos.
- (C) algum estudioso é primo de Lara.
- (D) nenhum primo de Lara é professor.
- (E) nenhum professor é egocêntrico.

QUESTÃO 20

- A: Chove.
- B: Maria sai de casa.
- C: Luiz carrega um guarda-chuva.

Com base nas sentenças acima, a sentença $A \rightarrow (\sim B \wedge C)$ significa que

- (A) chover é condição necessária para Maria não sair de casa e Luiz carregar um guarda-chuva.
- (B) chover é condição suficiente para Maria não sair de casa e Luiz carregar um guarda-chuva.
- (C) chover é condição necessária para Maria não sair de casa ou Luiz carregar um guarda-chuva.
- (D) Maria não sair de casa e Luiz carregar um guarda-chuva são condições suficientes para chover.
- (E) Maria não sair de casa ou Luiz carregar um guarda-chuva é condição necessária para chover.

QUESTÃO 21

Nascido em 1920, em Rio Verde, teve forte presença política em sua formação. Tornou-se militar, foi diretor da Estrada de Ferro Goiás (EFG) e, mais tarde, elegeu-se deputado federal. Foi também governador de Goiás. Mesmo tendo apoiado o golpe de 1964, foi deposto pelo regime militar nesse mesmo ano e teve seus direitos políticos cassados em 1966.

O texto trata de

- (A) Mauro Ludovico Borges Teixeira.
- (B) Leonino Caiado.
- (C) Otávio Lage de Siqueira.
- (D) Pedro Ludovico Teixeira.
- (E) Ary Valadão.

RASCUNHO

QUESTÃO 22

O segundo turno das eleições 2018 em Goiás contou com votação para escolha do prefeito e do vice-prefeito em alguns municípios, além da votação para presidente da República. Foi a chamada eleição suplementar, que está prevista no artigo 224, § 3.º, do Código Eleitoral (Lei n.º 4.737/1965).

TRE-Goiás (com adaptações).

Acerca desse tema e de assuntos correlatos, assinale a alternativa correta.

- (A) Em Goiás, no segundo turno, foram realizadas também eleições para o governo estadual.
- (B) Eleitores de importantes municípios goianos, como Anápolis e Rio Verde, viveram a experiência de participar da eleição suplementar para prefeito e vice-prefeito.
- (C) As eleições suplementares para prefeito e vice-prefeito mencionadas no texto ocorreram na maioria dos municípios goianos.
- (D) Entre os municípios que participaram da eleição suplementar, encontra-se um que integra o entorno do Distrito Federal.
- (E) A ocorrência da eleição suplementar para prefeito e vice-prefeito deu-se, em dois casos, em consequência de falecimento dos ocupantes anteriores desses cargos.

QUESTÃO 23

Nas eleições de outubro, foram catorze candidatos a presidente da República, 202 a governador de estado, 358 a senador, mais de oito mil a deputado federal, quase dezoito mil a deputado estadual e 981 a deputado distrital, este último exclusivo para o Distrito Federal.

Com relação a aspectos diversos do processo eleitoral brasileiro em 2018, é correto afirmar que

- (A) a bancada feminina na Câmara dos Deputados que tomará posse em 2019 será a menor da história.
- (B) os dois partidos que tiveram candidatos disputando a presidência no segundo turno das eleições são também os que mais elegeram deputados federais em 7 de outubro último.
- (C) os votos brancos e nulos, na votação presidencial, confirmando expectativas dos analistas, foram maiores que a média histórica, tendo superado a marca de 20% do total de votantes.
- (D) as eleições presidenciais demonstraram o tradicionalismo do eleitor, pois os candidatos que disputaram o segundo turno são fundadores dos partidos nos quais competiram, que foram criados logo após a redemocratização, em 1985.
- (E) o Tribunal Superior Eleitoral (TSE) aumentou recentemente o número de representantes de Goiás na Câmara dos Deputados para 2019, passando dos atuais 19 para 21.

QUESTÃO 24

Analisando os aspectos físicos do território goiano, notadamente quanto ao relevo e à hidrografia, é correto afirmar que

- (A) predominam, em Goiás, rios meândricos e intermitentes, com pequena influência do clima em suas vazões.
- (B) as maiores declividades do relevo de Goiás ocorrem no sudoeste do estado, o que dificulta as práticas agrícolas mecanizadas.
- (C) a região em que se inserem o estado de Goiás e o Distrito Federal é divisora de águas de três grandes bacias hidrográficas brasileiras.
- (D) poucos pontos do território goiano ultrapassam os dois mil metros de altitude em relação ao nível do mar, resultado da antiguidade de sua formação e da ação de agentes erosivos externos.
- (E) diversos corpos hídricos goianos cumprem importante papel na geração de energia elétrica, a exemplo do rio das Almas e do rio Maranhão, que abastecem, respectivamente, as usinas de Serra da Mesa e de Corumbá.

QUESTÃO 25

O Distrito Agroindustrial de Anápolis (DAIA) foi criado em 8 de setembro de 1976 com o objetivo de agregar valor à produção agropecuária e mineral da região. Contando com uma área de 593 hectares, é limítrofe com a BR-060/153 e com a GO-330, além de ser interligada ao Porto de Santos por um ramal da ferrovia Centro-Atlântica e ser o marco zero da ferrovia Norte-Sul, em construção.

Internet: <<http://anapolis.go.gov.br>>.

A respeito do assunto abordado no texto e de temas correlatos, assinale a alternativa correta.

- (A) Sediando exclusivamente empresas dos ramos farmacêutico e automobilístico, o DAIA oferta atualmente mais de dez mil empregos diretos e mais de trinta mil indiretos.
- (B) A posição geográfica da cidade de Anápolis fez com que os objetivos alcançados com a criação do DAIA ficassem muito aquém das expectativas.
- (C) O DAIA serviu de modelo para outros projetos semelhantes, embora não tenha sido o primeiro distrito agroindustrial a ser criado no estado.
- (D) Inaugurada oficialmente em 2010, a primeira Estação Aduaneira Interior (EADI) do Brasil, também conhecida como Porto Seco de Anápolis, desempenha papel fundamental no crescimento econômico de Goiás.
- (E) Os maiores incentivos ao DAIA vieram na década de 1980, a partir da instituição, pelo governo estadual, do programa de incentivos fiscais Fomentar, que concedeu crédito de ICMS às indústrias que se instalassem em Goiás.

CONHECIMENTOS ESPECÍFICOS

QUESTÃO 26

Durante o dia, sob neblina ou cerração, o motorista deve imediatamente

- (A) diminuir a distância do veículo à frente.
- (B) aumentar a velocidade do veículo, até sentir mais segurança.
- (C) acender o farol alto do veículo.
- (D) acender a luz baixa do farol.
- (E) parar o veículo na pista e sinalizar o local para evitar acidentes mais graves.

QUESTÃO 27

No caso de uma vítima de acidente automobilístico que apresenta uma hemorragia externa provocada por um corte em que o sangue sai em jato pulsátil e com coloração vermelho vivo, é correto afirmar que esse corte atingiu

- (A) uma artéria.
- (B) uma veia.
- (C) um tendão.
- (D) o coração.
- (E) o músculo.


QUESTÃO 28

Com relação aos veículos especialmente destinados à condução coletiva de escolares, assinale a alternativa correta.

- (A) O motorista de um transporte escolar deve ter, no mínimo, três anos de carteira de habilitação na categoria B.
- (B) Em veículos com capacidade superior a vinte escolares, o uso do cinto de segurança é dispensado.
- (C) Nesses veículos, a inspeção para verificação dos equipamentos obrigatórios e de segurança deve ser feita anualmente.
- (D) No caso de veículos escolares sob a responsabilidade de um município, é dispensado o registro como veículo de passageiros.
- (E) Esses veículos devem ter lanternas de luz branca, fosca ou amarela, dispostas nas extremidades da parte superior dianteira, e lanternas de luz vermelha, dispostas na extremidade superior da parte traseira.

QUESTÃO 29

Assinale a alternativa que apresenta a imagem de uma sinalização de trânsito classificada com horizontal.



QUESTÃO 30

Compete a órgãos e entidades executivos rodoviários da União

- (A) estabelecer, em conjunto com as Polícias Militares, as diretrizes para o policiamento ostensivo de trânsito.
- (B) coletar dados estatísticos e elaborar estudos sobre acidentes de trânsito e suas causas.
- (C) coletar dados e elaborar estudos sobre os acidentes de trânsito e suas causas.
- (D) cumprir e fazer cumprir a legislação e as normas de trânsito, no âmbito das respectivas atribuições.
- (E) estabelecer, em conjunto com as Polícias Militares, as diretrizes para o policiamento ostensivo de trânsito.

QUESTÃO 31

A velocidade máxima permitida para a via será indicada por meio de sinalização, obedecidas suas características técnicas e as condições de trânsito. Nas vias urbanas arteriais, onde não existir sinalização regulamentadora, a velocidade máxima será de

- (A) 100 km/h.
- (B) 80 km/h.
- (C) 60 km/h.
- (D) 40 km/h.
- (E) 20 km/h.

QUESTÃO 32

De acordo com o Código de Trânsito Brasileiro (CTB), constitui infração grave

- (A) usar o veículo para arremessar, sobre os pedestres ou veículos, água ou detritos.
- (B) deixar o condutor ou passageiro de usar o cinto de segurança.
- (C) deixar o condutor envolvido em acidente com vítima de prestar ou providenciar socorro à vítima, podendo fazê-lo.
- (D) ter seu veículo imobilizado na via por falta de combustível.
- (E) disputar corrida.

QUESTÃO 33

Assinale a alternativa que apresenta uma peça da suspensão de um veículo.

(A)



(B)



(C)



(D)





(E)



QUESTÃO 34

Assinale a alternativa que apresenta uma peça que compõe o sistema de transmissão mecânico de um veículo.

**QUESTÃO 35**

As etapas de funcionamento de um motor à gasolina de quatro tempos ocorrem na seguinte ordem:

- (A) combustão; admissão; compressão; e exaustão.
- (B) compressão; combustão; admissão; e exaustão.
- (C) exaustão; compressão; combustão; e admissão.
- (D) admissão; exaustão; compressão; e combustão.
- (E) admissão; compressão; combustão; e exaustão.

QUESTÃO 36

Em uma repartição pública, chegaram as seguintes pessoas para serem atendidas: João – adolescente; Carla – pessoa com deficiência; Alberto – senhor com 65 anos de idade; Joana – gestante; Aline – lactante; Pedro – com criança de colo; Márcio – obeso; e Fábio – com 25 anos de idade. De acordo com a Lei n.º 10.048/2000, terão atendimento prioritário:

- (A) João; Carla; Alberto; Joana; Aline; e Fábio.
- (B) João; Carla; Alberto; Joana; Aline; e Márcio.
- (C) João; Carla; Alberto; Joana; Aline; e Fábio.
- (D) Carla; Alberto; Joana; Aline; Pedro; e Márcio.
- (E) Carla; Alberto; Joana; Aline; Márcio; e Fábio.

QUESTÃO 37

De acordo com a Lei n.º 10.048/2000, as empresas públicas de transporte e as concessionárias de transporte coletivo reservarão assentos, devidamente identificados, para

- (A) obesos, crianças, idosos, gestantes e pessoas acompanhadas por crianças de colo.
- (B) idosos, gestantes, lactantes, pessoas portadoras de deficiência e pessoas acompanhadas por crianças de colo.
- (C) idosos, gestantes, obesos, crianças e pessoas acompanhadas por crianças de colo.
- (D) crianças, gestantes, portadores de deficiência e pessoas acompanhadas por crianças de colo.
- (E) crianças, idosos, gestantes, lactantes e portadores de deficiência.

QUESTÃO 38

A Política Nacional para a Integração da Pessoa Portadora de Deficiência compreende o conjunto de orientações normativas que objetivam assegurar o pleno exercício dos direitos individuais e sociais das pessoas portadoras de deficiência. Para tanto, é necessário ter alguns conceitos estabelecidos. Dessa forma, de acordo com o Decreto n.º 3.298/1999, assinale a alternativa que apresenta conceituação correta.

- (A) deficiência mental – funcionamento intelectual significativamente superior à média, com manifestação após os dezoito anos de idade e limitações associadas a duas ou mais áreas e habilidades adaptativas, como, por exemplo, comunicação
- (B) deficiência física – alteração completa de um ou mais segmentos do corpo humano, acarretando o comprometimento da função física
- (C) deficiência – toda perda ou anormalidade de uma estrutura ou função fisiológica ou anatômica, mas não psicológica, que gere incapacidade para o desempenho de atividade, dentro do padrão considerado como normal para o ser humano
- (D) incapacidade – uma redução efetiva e acentuada da capacidade de integração social, com necessidade de equipamentos, adaptações, meios ou recursos especiais para que a pessoa portadora de deficiência possa receber ou transmitir informações necessárias ao seu bem-estar pessoal e ao desempenho de função ou atividade a ser exercida
- (E) deficiência permanente – aquela que ocorreu e não se estabilizou durante um período de tempo suficiente para não permitir recuperação ou ter probabilidade de alteração, mesmo com antigos tratamentos

QUESTÃO 39

Acerca da acessibilidade aos serviços de transportes coletivos de acordo com o Decreto n.º 5.296/2004, assinale a alternativa correta.

- (A) Para os fins de acessibilidade aos serviços de transporte coletivo terrestre, aquaviário e aéreo, são considerados como integrantes desses serviços os veículos, os terminais, as estações, os pontos de parada, as vias principais, os acessos e a operação.
- (B) A instância pública responsável pela concessão e permissão dos serviços de transporte coletivo municipal e internacional é o governo federal.
- (C) Os serviços de transporte coletivo rodoviário urbano devem priorizar o embarque e desembarque dos usuários em nível, em todos os acessos do veículo.
- (D) Em instituições particulares de ensino, a qualificação dos profissionais que trabalham com serviços de transporte coletivo, para que prestem atendimento prioritário às pessoas portadoras de deficiência ou com mobilidade reduzida, é de responsabilidade do próprio profissional.
- (E) A instância pública responsável pela concessão e permissão dos serviços de transporte coletivo metropolitano e intermunicipal é o governo federal.

QUESTÃO 40

Conforme a Lei n.º 7.853/1989, é correto afirmar que

- (A) é admitido cobrar valores adicionais de aluno em estabelecimento de ensino de qualquer curso ou grau, público ou privado, em razão de sua deficiência.
- (B) é permitido obstar inscrição em concurso público ou acesso de alguém a qualquer cargo ou emprego público em razão de sua deficiência.
- (C) deixar de prestar assistência médico-hospitalar e ambulatorial à pessoa com deficiência constitui crime punível com reclusão e multa.
- (D) a coordenação superior dos assuntos, das ações governamentais e das medidas referentes a pessoas portadoras de deficiência caberá ao Ministério da Cultura.
- (E) o Poder Público deve assegurar às pessoas portadoras de deficiência o pleno exercício de seus direitos básicos, com exceção aos direitos à educação, como a matrícula compulsória em cursos regulares de estabelecimentos públicos e particulares de pessoas portadoras de deficiência capazes de se integrar no sistema regular de ensino.