



**CONCURSO PÚBLICO
PREFEITURA MUNICIPAL DE BOA VISTA
SECRETARIA MUNICIPAL DE ADMINISTRAÇÃO E GESTÃO DE PESSOAS - SMAG**

EDITAL Nº 002/2019-SMAG

ANALISTA ESPECIALISTA EM EPIDEMIOLOGIA E VIGILÂNCIA EM SAÚDE

**Duração: 03h00min (três horas)
Leia atentamente as instruções abaixo:**

01 Você recebeu do fiscal o seguinte material:

a) Este caderno, com 60 (sessenta) questões da Prova Objetiva, sem repetição ou falha, conforme distribuição abaixo:

LÍNGUA PORTUGUESA	ÉTICA NA ADMINISTRAÇÃO PÚBLICA E LEGISLAÇÃO MUNICIPAL	ATUALIDADES	NOÇÕES DE INFORMÁTICA	CONHECIMENTOS ESPECÍFICOS
01 a 10	11 a 30	31 a 35	36 a 40	41 a 60

b) Um Cartão de Respostas destinado às respostas das questões objetivas.

- 02** Verifique se este material está em ordem e se o seu nome e número de inscrição conferem com os que aparecem no Cartão de Respostas. Caso contrário, notifique imediatamente o fiscal.
- 03** Após a conferência, o candidato deverá assinar no espaço próprio do Cartão de Respostas, com caneta esferográfica de tinta na cor azul ou preta.
- 04** No Cartão de Respostas, a marcação da alternativa correta deve ser feita cobrindo a letra correspondente ao número da questão e preenchendo todo o espaço interno, com caneta esferográfica de tinta na cor azul ou preta, de forma contínua e densa.

Exemplo: A B C D

- 05** Para cada uma das questões objetivas, são apresentadas 4 (quatro) alternativas classificadas com as letras (A, B, C e D), mas só uma responde adequadamente à questão proposta. Você só deve assinalar uma alternativa. A marcação em mais de uma alternativa anula a questão, mesmo que uma das respostas esteja correta.
- 06** Somente depois de decorrida 01 (uma) hora do início da prova, o candidato poderá entregar seu Cartão de Respostas, seu Caderno de Questões e retirar-se da sala de prova. O candidato que insistir em sair da sala de prova, descumprindo o aqui disposto, deverá assinar o Termo de Ocorrência declarando sua desistência do Concurso, que será lavrado pelo Coordenador do Local.
- 07** Ao candidato, será permitido levar seu CADERNO DE QUESTÕES faltando no máximo 01 (uma) hora para o término da prova e desde que permaneça em sala até esse momento.
- 08** Não será permitida a cópia de gabarito no local de prova. Ao terminar a prova de Conhecimentos, o candidato entregará, obrigatoriamente, ao fiscal de sala, o seu CARTÃO DE RESPOSTAS e o seu CADERNO DE QUESTÕES, ressalvado o estabelecido no item 7.
- 09** Reserve os 30 (trinta) minutos finais para marcar seu Cartão de Respostas. Os rascunhos e as marcações assinaladas no Caderno de Questões não serão levados em consideração.
- 10** Os 3 (três) últimos candidatos permanecerão sentados até que todos concluem a prova ou que termine o seu tempo de duração, devendo assinar a ata de sala e retirar-se juntos.

LÍNGUA PORTUGUESA

Leia o texto I para responder às questões de 1 a 10.

Texto I

A mobilidade da criança

O que significa a mobilidade para os pequenos habitantes das cidades brasileiras? Para parte deles, o ir e vir está sempre relacionado ao carro. Das janelas dos automóveis, eles enxergam reflexos da cidade, mas não participam dela.

Para a maior parcela, que se locomove a pé e de transporte coletivo, há insegurança, medo e a certeza de que o pedestre é considerado um intruso, um invasor do espaço. Além de aprender que precisa atravessar a rua correndo porque o tempo do semáforo é insuficiente e o pedestre não é respeitado, a criança brasileira se acostuma a caminhar em calçadas muito estreitas e até em ruas sem a presença delas. As décadas de planejamento urbano focado no carro tornaram as ruas um território de guerra – o fato de que o Brasil é o quarto país do mundo em mortes no trânsito fala por si só. Pesquisadores internacionais há tempos discutem os efeitos da “imobilidade” e da violência no trânsito no desenvolvimento físico, cognitivo, motor e social das crianças. Exercer a independência numa cidade segura é fundamental para o crescimento saudável. Nos países em que as crianças andam de bicicleta e a pé com segurança, como na Holanda e na Dinamarca, por exemplo, os acidentes são praticamente inexistentes e a infância é um período de feliz interação na sociedade.

Sobrepeso e falta de luz solar

Segundo a urbanista e arquiteta espanhola Irene Quintáns, os urbanistas usam a presença de crianças no espaço público como indicador de sucesso urbano. “A ausência delas nas ruas aponta as falhas das nossas cidades”, ela diz.

Moradora da capital paulista há sete anos e mãe de dois filhos, Irene acredita que privar os pequenos de caminhar não é positivo. “Uma criança que fica circunscrita à locomoção no carro tende a ficar insegura para se movimentar. Ela também tem mais dificuldade em perceber o outro. Isso se chama empatia e é muito importante para a vida em sociedade. Há ainda a questão do sedentarismo, do sobrepeso e da falta de luz solar. Crianças que caminham para a escola têm mais concentração para desenvolver atividades complexas”.

Mesmo com todas as dificuldades já citadas, é importante usar o transporte público, caminhar e participar da vida na cidade. Na próxima vez que levar seus filhos à escola, reflita: por que ir de carro? Que

tal descobrir a cidade ao lado deles, trocando ideias sobre o que vocês veem? Assim, eles aprendem a ser cidadãos e a viver o coletivo, enquanto exigimos que o poder público priorize a proteção das nossas crianças.

(<https://www.metrojornal.com.br/colunistas/2018/10/11/mobilidade-da-crianca.html>)

1. A temática principal do texto se baseia na relação entre:

- A) mobilidade urbana e infância
- B) hierarquia social e propriedade
- C) acesso a transporte e economia
- D) visibilidade das pessoas e planejamento

2. Uma ideia explicitamente construída sobre o leitor considera que ele:

- A) ignora as desigualdades sociais
- B) transita com crianças pela cidade
- C) trabalha com planejamento geográfico
- D) defende valores do individualismo

3. No segundo parágrafo, o comentário introduzido por travessão expressa, em relação à ideia do parágrafo, uma relação de:

- A) negação
- B) explicação
- C) contradição
- D) comparação

4. No segundo parágrafo, a última frase expressa, em relação à anterior, uma relação de:

- A) contraposição
- B) ponderação
- C) retificação
- D) conclusão

5. “Mesmo com todas as dificuldades já citadas”. O trecho pode ser reescrito da seguinte forma, sem alteração do sentido:

- A) tanto que todas as dificuldades já citadas
- B) apesar de todas as dificuldades já citadas
- C) por causa de todas as dificuldades já citadas
- D) de acordo com todas as dificuldades já citadas

6. “Crianças **que caminham para a escola** têm mais concentração para desenvolver atividades complexas”. O trecho destacado exerce, no conjunto da frase, a função de introduzir uma:

- A) contradição
- B) enumeração
- C) especificação
- D) consequência

7. No último parágrafo, a forma verbal “priorize” indica ação com valor de:

- A) certeza
- B) hesitação
- C) possibilidade
- D) inviabilidade

8. Na frase “Para a maior parcela, que se locomove a pé e de transporte coletivo, há insegurança, medo e a certeza de que o pedestre é considerado um intruso, um invasor do espaço” (2º parágrafo), o uso da voz passiva provoca o seguinte efeito de sentido:

- A) culpar o governo pelo comportamento
- B) sugerir uma falha de planejamento
- C) propor uma solução alternativa
- D) omitir o responsável pela ação

9. Em “que fica circunscrita à locomoção no carro” (4º parágrafo), a palavra “circunscrita” pode ser substituída, sem prejuízo do sentido original, por:

- A) homogênea
- B) confusa
- C) restrita
- D) aberta

10. Acentuação está corretamente justificada em:

- A) “automóveis” – proparoxítona
- B) “país” – oxítona terminada em “-i(s)”
- C) “saudável” – paroxítona terminada em “-l”
- D) “décadas” – paroxítona terminada em “-a(s)”

ÉTICA NA ADMINISTRAÇÃO PÚBLICA E LEGISLAÇÃO MUNICIPAL

11. Sandra, com quinze anos de idade, pretende adquirir estabilidade financeira com a aprovação em concurso público, sendo certo que completou o ensino fundamental e está cursando o último ano do ensino médio. Nos termos da Lei Complementar nº 3/2012 do município de Boa Vista, um dos requisitos para a investidura em cargo público consiste na idade mínima de:

- A) dezesseis anos
- B) dezessete anos
- C) dezoito anos
- D) dezenove anos

12. Pepe resolve estudar para ser aprovado em concurso para ingresso na autarquia municipal W. Nos termos da Lei Complementar nº 3/2012 do município de Boa Vista, a competência para prover os cargos em autarquias seria do seu:

- A) dirigente máximo
- B) diretor de pessoal
- C) gerente regional
- D) coordenador de recursos humanos

13. Sócrates é arquiteto e servidor efetivo do município B, sendo convidado para ocupar, interinamente, cargo em comissão em secretaria municipal. Nos termos da Lei Complementar nº 3/2012 do município de Boa Vista, quando exercido interinamente, o cargo em comissão demanda:

- A) designação
- B) nomeação
- C) indicação
- D) colocação

14. Jervásio foi aprovado em concurso público para o cargo de professor municipal, tendo ocorrido a homologação do certame em 2017. Nos termos da Lei Complementar nº 3/2012 do município de Boa Vista, a prorrogação da validade do concurso poderá ocorrer:

- A) duas vezes
- B) uma única vez
- C) sem prazo
- D) condicionalmente

15. Januário foi instado a realizar exames médicos para comprovar o seu estado de saúde com o objetivo de formalizar os atos finais inerentes a concurso público. Nos termos da Lei Complementar nº 3/2012 do município de Boa Vista, a posse em cargo público depende de prévia inspeção:

- A) hospitalar pública
- B) salutar privada
- C) médica oficial
- D) fisiológica ideal

16. Ernestino é servidor municipal, ocupando cargo de nível superior e, após os trâmites legais, é promovido. Nos termos da Lei Complementar nº 3/2012 do município de Boa Vista, a promoção não interrompe o tempo de exercício, que é contado no novo posicionamento na carreira a partir da data da:

- A) assinatura do ato
- B) publicação do ato
- C) aceitação do ato
- D) resolução do ato

17. Jobinho é servidor municipal e logrou a obtenção de aposentadoria voluntária por ter cumprido os requisitos normativos exigidos. Posteriormente, requereu o retorno ao serviço público municipal. Nos termos da Lei Complementar nº 3/2012 do município de Boa Vista, esse retorno não poderá amparar o servidor que já tiver completado:

- A) sessenta anos de idade
- B) sessenta e dois anos de idade
- C) sessenta e cinco anos de idade
- D) setenta anos de idade

18. Creso é servidor municipal e foi colocado em disponibilidade pelo período de três anos. Após o término do prazo, requereu o seu retorno ao serviço público, sendo comunicado da extinção do órgão onde prestava serviço. Nos termos da Lei Complementar nº 3/2012 do município de Boa Vista, o servidor posto em disponibilidade poderá ser mantido sob responsabilidade da Secretaria Municipal de:

- A) Administração
- B) Fazenda
- C) Governo
- D) Educação

19. Afonso Pena, servidor ocupante de cargo efetivo no município TX, foi convidado para chefiar o setor de Recursos Humanos da Secretaria Municipal de Saúde. Nos termos da Lei Complementar nº 3/2012 do município de Boa Vista, ao ocupante de função de chefia é cabível, pelo seu devido exercício, o pagamento de:

- A) gratificação
- B) retribuição
- C) adicional
- D) diárias

20. Venceslau é engenheiro e foi aprovado em concurso público para ocupar cargo no município ZZ. Para cumprir projeto patrocinado pelo governo federal, passa a atuar em laboratório submetido ao contato com substâncias radioativas. Esse contato ocorre a cada dois meses. Diante disso, requer pagamento de adicional de insalubridade. Nos termos da Lei Complementar nº 3/2012 do município de Boa Vista, **NÃO** haverá pagamento do adicional quando a exposição aos agentes nocivos ocorrer de forma:

- A) assídua
- B) geral
- C) ocasional
- D) conveniada

21. Adiel, servidor público, procura melhorias na sua carreira e remuneração. Nos termos da Lei nº 1.611 do município de Boa Vista, corresponde ao crescimento na mesma classe ou categoria profissional, com mudança para o próximo padrão de vencimento, a:

- A) projeção
- B) progressão
- C) remoção
- D) transposição

22. Tércio concluiu o ensino médio e pretende realizar concurso público. Nos termos da Lei nº 1.611 do município de Boa Vista, o cargo em que o requisito mínimo é o ensino médio corresponde ao cargo de:

- A) assistente
- B) auxiliar
- C) assessor
- D) atendente

23. Sueli é professora com mestrado em Educação e atua no ensino de crianças com necessidades especiais. Nos termos da Lei nº 1.611 do município de Boa Vista, a jornada de trabalho do professor deve corresponder a:

- A) vinte horas semanais
- B) vinte e cinco horas semanais
- C) trinta horas semanais
- D) quarenta horas semanais

24. Maxuell foi reenquadrado em novo plano de carreira aprovado por lei municipal que reorganizou a carreira à qual pertence. Nos termos da Lei nº 712 do município de Boa Vista, após o enquadramento dos servidores, nenhuma nomeação para cargo efetivo poderá ser efetuada senão na referência inicial de cada categoria funcional, vinculada à respectiva especialidade e condicionada à aprovação e habilitação em:

- A) concurso público
- B) seleção pública
- C) chamada pública
- D) processo público

25. Eleutério é servidor municipal e pretende requerer o parcelamento de suas férias. Nos termos da Lei Complementar nº 3/2012 do município de Boa Vista, as férias podem ser parceladas em até:

- A) duas etapas
- B) três etapas
- C) quatro etapas
- D) cinco etapas

26. Epaminondas está com seu enteado Elesbão com problemas de saúde. Diante disso, requer afastamento do serviço público municipal onde exerce o cargo de professor. Nos termos da Lei Complementar nº 3/2012 do município de Boa Vista, nesses casos, o servidor terá direito a licença não remunerada de:

- A) noventa dias
- B) cem dias
- C) cento e vinte dias
- D) cento e cinquenta dias

27. Amadeu pretende candidatar-se a cargo eletivo, tendo apresentado requerimento de registro perante a Justiça eleitoral vinculado ao partido político Asa. Nos termos da Lei Complementar nº 3/2012 do município de Boa Vista, o servidor terá direito a licença, sem remuneração, durante o período que deve ter início com a sua escolha em:

- A) comitê eleitoral
- B) assembleia geral
- C) convenção partidária
- D) votação regional

28. Ricardo Adriano é candidato à presidência do sindicato dos servidores do município TWZ. Após sua eleição, requer o afastamento do serviço para atuar exclusivamente nas funções sindicais. O sindicato possui dez mil associados. Nos termos da Lei Complementar nº 3/2012 do município de Boa Vista, é assegurado ao servidor o direito à licença com remuneração para o desempenho de mandato no sindicato representativo da categoria, limitado, no caso presente, a no máximo:

- A) dois servidores
- B) três servidores
- C) quatro servidores
- D) cinco servidores

29. Holmes atua no setor de licitações da empresa municipal CT do município VV. Cioso de suas responsabilidades, fiscaliza o cumprimento do princípio da publicidade dos atos administrativos. É consentâneo com os instrumentos normativos pátrios que regulam a ética no serviço público que a omissão quanto à publicidade ofende o:

- A) bem comum
- B) solidarismo
- C) patriotismo
- D) corporativismo

30. Winston é servidor público e não está adaptado ao órgão onde foi lotado, realizando repetidos erros e desvios de função. É consentâneo com os instrumentos normativos pátrios que regulam a ética no serviço público que essas atitudes caracterizam, quanto ao desempenho da função pública:

- A) rebeldia
- B) imprudência
- C) mal-estar
- D) descortesia

ATUALIDADES

31. Em novembro de 2019, os jornais noticiaram que, em 2018, 13,5 milhões de brasileiros viveram com uma renda per capita mensal inferior a R\$ 145,00 reais, um recorde de crescimento da população em situação de extrema pobreza, pois foi o maior índice encontrado nos últimos sete anos. A notícia revelou que vem ocorrendo no país um evidente aumento:

- A) do desenvolvimento econômico
- B) da igualdade econômica
- C) da desigualdade social
- D) do estamento social

32. Artigos de jornais, publicados em novembro de 2019, demonstraram que as possibilidades de contingenciamento e de corte de recursos nas áreas da educação, ciência e tecnologia preocupou estudiosos, cientistas e congressistas do país, por considerarem que a redução acentuada de investimento em educação e pesquisa nos tempos atuais poderá se transformar, no futuro, em um fator que:

- A) garantirá o aumento da riqueza nacional
- B) limitará o desenvolvimento econômico do país
- C) estabilizará o crescimento produtivo regional
- D) fortalecerá a competitividade comercial no país

33. No segundo semestre de 2019, os noticiários analisaram o grande desastre ecológico que ocorreu no litoral do país, e avaliaram que as dimensões de danos foram intensas, causando uma degradação no meio ambiente que poderá permanecer por décadas. A contaminação ambiental foi grave por se tratar de toneladas de:

- A) óleo com efeitos tóxicos
- B) rejeitos de minério de ferro
- C) mercúrio e metais pesados
- D) cinzas ácidas das queimadas

34. Especialistas em saúde pública afirmam que o uso excessivo de agrotóxicos na produção nacional de alimentos pode afetar a saúde da população, provocando problemas respiratórios, impotência, depressão, aborto, câncer, entre outros danos à saúde.

Como precaução ao problema, os estudiosos recomendam que a população se alimente de produtos produzidos pela:

- A) silvicultura
- B) agroecologia
- C) aquicultura
- D) agroindústria

35. As metas de Desenvolvimento Sustentável da Organização das Nações Unidas destacam a necessidade de aumentar a participação de energias renováveis na matriz energética global. O Brasil tem avançado, em maior proporção, na geração de um tipo de energia elétrica sustentável que apresenta menor risco de ocorrência de danos e desastres ambientais.

Trata-se da produção de energia:

- A) solar
- B) nuclear
- C) eólica
- D) hidrelétrica

NOÇÕES DE INFORMÁTICA


36. No que diz respeito aos conceitos da internet, pode-se afirmar que:

- I. um termo tem por significado baixar ou transferir dados de uma página para o computador de um usuário, como no caso de um edital em formato PDF, referente a um concurso público;
- II. uma sigla tem por significado o endereço *web* que se digita na barra de endereços de um *browser* para se chegar a um *site*, como por exemplo <https://www.google.com.br/>.

O termo e a sigla são, respectivamente:

- A) *download* e DNS
- B) *download* e URL
- C) *upload* e DNS
- D) *upload* e URL

37. Na Área de Notificação do Windows 10 BR, localizada no canto inferior direito da tela do monitor de um *notebook*, há um ícone que serve para o usuário verificar o *status* da conexão *wifi* à internet. Esse ícone é:



38. A planilha a seguir foi criada no Excel 2019 BR, em que foram realizados os procedimentos descritos a seguir.

- Em F12, foi inserida a expressão =MED(A11:A15).
- Em F14, foi inserida a expressão =MOD(F12;2).

	A	B	C	D	E	F
1						
2						
3						
4						
5						
6						
7						
8						
9						
10	CIDADE DE BOA VISTA - RR					
11	23					
12	15					MEDIANA = <input data-bbox="614 810 746 855" type="text" value="?"/>
13	10					
14	13					MOD = <input data-bbox="614 900 746 945" type="text" value="?"/>
15	19					





Nessas condições, os valores mostrados em F12 e em F14 são, respectivamente:

- 15 e 0
- 15 e 1
- 16 e 0
- 16 e 1

39. No Word 2019 BR, dois recursos devem ser empregados com as seguintes finalidades:

- um atalho de teclado destina-se a converter uma frase ou palavra selecionada em minúsculas para maiúsculas e vice-versa;
- um ícone deve ser acionado por meio do *mouse* para aplicar sombreamento, ou seja, mudar a cor atrás do texto, parágrafo ou célula de tabela selecionada.

O atalho de teclado e o ícone são, respectivamente:

- Ctrl + F3 e 
- Ctrl + F3 e 
- Shift + F3 e 
- Shift + F3 e 

40. A planilha a seguir foi criada no Excel 2019 BR. Para contabilizar a quantidade de atendimentos nas células D27, D28 e D29, foi empregada a função SOMASE, usando o conceito de referência absoluta. Para finalizar, foi inserida em D30 uma expressão que adiciona os valores de D27, D28 e D29.

	A	B	C	D
4				
5				
6				
7				
8				
9				
10				
11	MÊS	ESPECIALIDADE	COLABORADOR	QUANTIDADE
12	1	RESSONÂNCIA	João	123
13		TOMOGRAFIA	Juliana	98
14		TOMOGRAFIA	Juliana	23
15		PEDIATRIA	Feitosa	131
16	2	RESSONÂNCIA	João	56
17		RESSONÂNCIA	João	73
18		TOMOGRAFIA	Juliana	89
19		PEDIATRIA	Feitosa	53
20	3	RESSONÂNCIA	João	48
21		TOMOGRAFIA	Juliana	80
22		PEDIATRIA	Feitosa	76
23		PEDIATRIA	Feitosa	70
24	TOTAL =			920
25				
26	RESUMO			
27	RESSONÂNCIA			300
28	TOMOGRAFIA			290
29	PEDIATRIA			330
30	TOTAL =			920

As expressões inseridas em D29 e em D30 foram, respectivamente:

- =SOMASE(&B&12:&B&23;B29;&D&12:&D&23)
e =SOMA(D27:D29)
- =SOMASE(&B&12:&B&23;B29;&D&12:&D&23)
e =SOMA(D27;D29)
- =SOMASE(\$B\$12:\$B\$23;B29;\$D\$12:\$D\$23)
e =SOMA(D27:D29)
- =SOMASE(\$B\$12:\$B\$23;B29;\$D\$12:\$D\$23)
e =SOMA(D27;D29)

CONHECIMENTOS ESPECÍFICOS

41. Dentre os sistemas de informação em saúde, aquele que é usado na construção do indicador de letalidade do sarampo é o:

- A) SINAN
- B) AIH
- C) SI-API
- D) SINASC

42. NÃO é um critério para a inclusão de doenças e agravos na lista de notificação compulsória:

- A) a magnitude
- B) a sensibilidade
- C) a transcendência
- D) o potencial de disseminação

43. Segundo a Portaria nº 04, de 28/09/2017, do Ministério da Saúde, faz parte da Lista de Notificação Compulsória Imediata um caso suspeito ou confirmado de:

- A) síndrome da imunodeficiência adquirida – SIDA
- B) febre de chikungunya
- C) esquistossomose
- D) síndrome da rubéola congênita

44. São usados na Avaliação dos Sistemas de Vigilância os seguintes atributos:

- A) oportunidade, utilidade, aceitabilidade, transcendência, flexibilidade, representatividade, sensibilidade e valor preditivo negativo
- B) oportunidade, utilidade, aceitabilidade, simplicidade, vulnerabilidade, representatividade, sensibilidade e valor preditivo positivo
- C) oportunidade, utilidade, vulnerabilidade, simplicidade, flexibilidade, representatividade, sensibilidade e valor preditivo negativo
- D) oportunidade, utilidade, aceitabilidade, simplicidade, flexibilidade, representatividade, sensibilidade e valor preditivo positivo

45. O sistema informatizado, desenvolvido para receber as notificações, acompanhamento e encerramento dos casos de tuberculose drogarristente e micobacterioses não tuberculosas, é conhecido como:

- A) VISALEGIS
- B) SINAN
- C) SITE-TB
- D) SIM

46. A legislação vigente define Vigilância Epidemiológica como:

- A) um conjunto de ações que proporcionam o conhecimento e a detecção de mudanças nos fatores determinantes e condicionantes do meio ambiente que interferem na saúde humana, com a finalidade de identificar as medidas de prevenção e controle dos fatores de risco ambientais relacionados às doenças ou a outros agravos à saúde
- B) um processo contínuo e sistemático de coleta, consolidação, análise e disseminação de dados sobre eventos relacionados à saúde, visando o planejamento e a implementação de medidas de saúde pública para a proteção da saúde da população, a prevenção e controle de riscos, agravos e doenças, bem como para a promoção da saúde
- C) um conjunto de ações que proporcionam o conhecimento, a detecção ou prevenção de qualquer mudança nos fatores determinantes e condicionantes de saúde individual ou coletiva, com a finalidade de recomendar e adotar as medidas de prevenção e controle das doenças ou agravos
- D) um processo caracterizado por ações capazes de eliminar, diminuir ou prevenir riscos à saúde e de intervir nos problemas decorrentes do meio ambiente, da produção e circulação de bens e da prestação de serviços de interesse da saúde

47. É o instrumento norteador do planejamento do SUS, onde são explicitadas as políticas e os compromissos de médio prazo do setor saúde, com vigência de quatro anos:

- A) Programação Anual de saúde (PAS)
- B) Plano Nacional de Saúde (PNS)
- C) Relatório Anual de Gestão (RAG)
- D) Relatório Quadrimestral de Prestação de Contas (RQPC)

48. São componentes do coeficiente de mortalidade infantil:

- A) mortalidade neonatal precoce e mortalidade perinatal
- B) mortalidade neonatal tardia e mortalidade perinatal
- C) mortalidade neonatal e mortalidade pós-neonatal
- D) mortalidade perinatal e mortalidade neonatal

49. Compete à Agência Nacional de Saúde Suplementar – ANS, entre outras atribuições:

- A) estabelecer as características específicas dos instrumentos contratuais utilizados no SUS
- B) descredenciamento de prestadores de serviço às operadoras de planos de saúde sem necessidade de fixação de critérios
- C) estabelecer critérios de aferição e controle da qualidade dos serviços oferecidos pelas operadoras de planos privados de assistência à saúde
- D) facilitar o atendimento de consumidores conveniados junto ao Sistema Único de Saúde – SUS

50. O tipo de máscara que deve ser usada no paciente, durante o seu transporte, considerando o diagnóstico de meningite bacteriana ainda nas primeiras 12 horas de tratamento:

- A) máscara comum (tipo cirúrgica)
- B) máscara tipo PFF2 (N95)
- C) conjunto de duas máscaras – uma comum (tipo cirúrgica) e uma tipo N95
- D) conjunto de máscara comum (tipo cirúrgica) mais protetor ocular, avental e luvas

51. O Plano de Ações Estratégicas para o Enfrentamento das Doenças Crônicas Não Transmissíveis - DCNT no Brasil, 2011-2022, define e prioriza as ações e os investimentos necessários para enfrentar e deter as DCNT, estabelecendo algumas metas. Dentre elas, pode-se citar, exceto:

- A) aumentar o consumo de frutas e hortaliças
- B) reduzir a taxa de mortalidade prematura por DCNT
- C) reduzir a prevalência de tabagismo
- D) deter o crescimento da obesidade em crianças e adolescentes e a prevalência em adultos

52. Hierarquizar os serviços de saúde significa organizá-los por:

- A) programas específicos por patologia
- B) níveis de complexidade e ou densidade tecnológica
- C) áreas geográficas definidas
- D) níveis de participação do público na gestão

53. Se a taxa de letalidade de duas doenças são iguais, pode-se afirmar que:

- A) ambas as doenças têm a mesma taxa de mortalidade
- B) as taxas de mortalidade são diferentes para as duas doenças
- C) o risco de morrer é o mesmo para os acometidos pelas duas doenças
- D) as taxas de incidência das duas doenças são iguais

54. A temporalidade de uma associação entre exposição e desfecho pode ser observada no estudo:

- A) de prevalência
- B) de coorte
- C) transversal
- D) de casos e controles

55. Redistribuir poder e responsabilidades entre os três níveis de governo constitui um dos princípios organizativos do SUS denominado:

- A) regionalização
- B) descentralização
- C) hierarquização
- D) participação popular

56. A densidade de incidência é expressa pelo número de casos:

- A) novos, dividido pelo total de pessoas-ano em risco
- B) novos e antigos, dividido pelo número total de pessoas-ano em risco
- C) antigos, dividido pelo número total de pessoas-ano em risco
- D) novos, dividido pela população no meio do período do estudo

57. Os órgãos colegiados em que se dá, no SUS, a participação social são:

- A) feira de saúde e conselho de saúde
- B) conselho de saúde e conferência de saúde
- C) conferência de saúde e união de saúde
- D) conselho de saúde e conferência privada

58. A primeira etapa na elaboração do plano municipal de saúde é composta por:

- A) desenho das estratégias
- B) definição de políticas
- C) análise de situação de saúde
- D) elaboração do orçamento

59. O Pacto pela Vida inclui metas para as seguintes prioridades:

- A) saúde do idoso, controle do câncer do colo do útero e da mama, redução da mortalidade infantil e materna, fortalecimento de resposta às doenças emergenciais e endemias, promoção da saúde, fortalecimento da atenção básica, saúde do trabalhador, saúde mental e saúde do homem
- B) saúde do idoso, controle do câncer do corpo do útero e da mama, redução da mortalidade infantil e materna, fortalecimento de resposta às doenças emergenciais e endemias, promoção da saúde, fortalecimento da atenção básica, saúde do trabalhador, saúde mental e saúde do homem
- C) saúde do idoso, controle do câncer do corpo do útero e da mama, redução da mortalidade infantil e materna, fortalecimento de resposta às doenças emergenciais e endemias, promoção do autocuidado, fortalecimento da atenção básica, saúde do trabalhador, saúde mental e saúde do homem
- D) saúde do idoso, controle do câncer do colo do útero e da mama, redução da mortalidade neonatal e materna, fortalecimento de resposta às doenças emergenciais e endemias, promoção do autocuidado, fortalecimento da atenção básica, saúde do trabalhador, saúde mental e saúde do homem

60. A integração das ações da Vigilância em Saúde (VS) com a Atenção Básica (AB) pode ser considerada um dos grandes desafios do Sistema Único de Saúde (SUS) no Brasil. No Guia Política Nacional de Atenção Básica – Módulo 1, encontram-se as diretrizes para a integração entre as ações no enfrentamento desses desafios, que são:

- A) a política Nacional de Promoção da Saúde e a Política Nacional de Vigilância em Saúde
- B) a política Nacional de Humanização e a Política Nacional de Vigilância em Saúde
- C) a política Nacional de Atenção Básica e a Política Nacional de Humanização
- D) a política Nacional de Atenção Básica e a Política Nacional de Vigilância em Saúde

