



**CONCURSO PÚBLICO  
PREFEITURA MUNICIPAL DE BOA VISTA  
SECRETARIA MUNICIPAL DE ADMINISTRAÇÃO E GESTÃO DE PESSOAS - SMAG**

**EDITAL Nº 002/2019-SMAG**

**CIRURGIÃO-DENTISTA ENDODONTISTA**

**Duração: 03h00min (três horas)  
Leia atentamente as instruções abaixo:**

**01** Você recebeu do fiscal o seguinte material:

**a)** Este caderno, com 60 (sessenta) questões da Prova Objetiva, sem repetição ou falha, conforme distribuição abaixo:

LÍNGUA PORTUGUESA	ÉTICA NA ADMINISTRAÇÃO PÚBLICA E LEGISLAÇÃO MUNICIPAL	ATUALIDADES	NOÇÕES DE INFORMÁTICA	CONHECIMENTOS ESPECÍFICOS
01 a 10	11 a 30	31 a 35	36 a 40	41 a 60

**b)** Um Cartão de Respostas destinado às respostas das questões objetivas.

- 02** Verifique se este material está em ordem e se o seu nome e número de inscrição conferem com os que aparecem no Cartão de Respostas. Caso contrário, notifique imediatamente o fiscal.
- 03** Após a conferência, o candidato deverá assinar no espaço próprio do Cartão de Respostas, com caneta esferográfica de tinta na cor azul ou preta.
- 04** No Cartão de Respostas, a marcação da alternativa correta deve ser feita cobrindo a letra correspondente ao número da questão e preenchendo todo o espaço interno, com caneta esferográfica de tinta na cor azul ou preta, de forma contínua e densa.

**Exemplo:**  A  B  C  D

- 05** Para cada uma das questões objetivas, são apresentadas 4 (quatro) alternativas classificadas com as letras (A, B, C e D), mas só uma responde adequadamente à questão proposta. Você só deve assinalar uma alternativa. A marcação em mais de uma alternativa anula a questão, mesmo que uma das respostas esteja correta.
- 06** Somente depois de decorrida 01 (uma) hora do início da prova, o candidato poderá entregar seu Cartão de Respostas, seu Caderno de Questões e retirar-se da sala de prova. O candidato que insistir em sair da sala de prova, descumprindo o aqui disposto, deverá assinar o Termo de Ocorrência declarando sua desistência do Concurso, que será lavrado pelo Coordenador do Local.
- 07** Ao candidato, será permitido levar seu CADERNO DE QUESTÕES faltando no máximo 01 (uma) hora para o término da prova e desde que permaneça em sala até esse momento.
- 08** Não será permitida a cópia de gabarito no local de prova. Ao terminar a prova de Conhecimentos, o candidato entregará, obrigatoriamente, ao fiscal de sala, o seu CARTÃO DE RESPOSTAS e o seu CADERNO DE QUESTÕES, ressalvado o estabelecido no item 7.
- 09** Reserve os 30 (trinta) minutos finais para marcar seu Cartão de Respostas. Os rascunhos e as marcações assinaladas no Caderno de Questões não serão levados em consideração.
- 10** Os 3 (três) últimos candidatos permanecerão sentados até que todos concluem a prova ou que termine o seu tempo de duração, devendo assinar a ata de sala e retirar-se juntos.

## LÍNGUA PORTUGUESA

Leia o texto I para responder às questões de 1 a 10.

Texto I

### A mobilidade da criança

O que significa a mobilidade para os pequenos habitantes das cidades brasileiras? Para parte deles, o ir e vir está sempre relacionado ao carro. Das janelas dos automóveis, eles enxergam reflexos da cidade, mas não participam dela.

Para a maior parcela, que se locomove a pé e de transporte coletivo, há insegurança, medo e a certeza de que o pedestre é considerado um intruso, um invasor do espaço. Além de aprender que precisa atravessar a rua correndo porque o tempo do semáforo é insuficiente e o pedestre não é respeitado, a criança brasileira se acostuma a caminhar em calçadas muito estreitas e até em ruas sem a presença delas. As décadas de planejamento urbano focado no carro tornaram as ruas um território de guerra – o fato de que o Brasil é o quarto país do mundo em mortes no trânsito fala por si só. Pesquisadores internacionais há tempos discutem os efeitos da “imobilidade” e da violência no trânsito no desenvolvimento físico, cognitivo, motor e social das crianças. Exercer a independência numa cidade segura é fundamental para o crescimento saudável. Nos países em que as crianças andam de bicicleta e a pé com segurança, como na Holanda e na Dinamarca, por exemplo, os acidentes são praticamente inexistentes e a infância é um período de feliz interação na sociedade.

#### *Sobrepeso e falta de luz solar*

Segundo a urbanista e arquiteta espanhola Irene Quintáns, os urbanistas usam a presença de crianças no espaço público como indicador de sucesso urbano. “A ausência delas nas ruas aponta as falhas das nossas cidades”, ela diz.

Moradora da capital paulista há sete anos e mãe de dois filhos, Irene acredita que privar os pequenos de caminhar não é positivo. “Uma criança que fica circunscrita à locomoção no carro tende a ficar insegura para se movimentar. Ela também tem mais dificuldade em perceber o outro. Isso se chama empatia e é muito importante para a vida em sociedade. Há ainda a questão do sedentarismo, do sobrepeso e da falta de luz solar. Crianças que caminham para a escola têm mais concentração para desenvolver atividades complexas”.

Mesmo com todas as dificuldades já citadas, é importante usar o transporte público, caminhar e participar da vida na cidade. Na próxima vez que levar seus filhos à escola, reflita: por que ir de carro? Que

tal descobrir a cidade ao lado deles, trocando ideias sobre o que vocês veem? Assim, eles aprendem a ser cidadãos e a viver o coletivo, enquanto exigimos que o poder público priorize a proteção das nossas crianças.

(<https://www.metrojornal.com.br/colunistas/2018/10/11/mobilidade-da-crianca.html>)

**1.** A temática principal do texto se baseia na relação entre:

- A) mobilidade urbana e infância
- B) hierarquia social e propriedade
- C) acesso a transporte e economia
- D) visibilidade das pessoas e planejamento

**2.** Uma ideia explicitamente construída sobre o leitor considera que ele:

- A) ignora as desigualdades sociais
- B) transita com crianças pela cidade
- C) trabalha com planejamento geográfico
- D) defende valores do individualismo

**3.** No segundo parágrafo, o comentário introduzido por travessão expressa, em relação à ideia do parágrafo, uma relação de:

- A) negação
- B) explicação
- C) contradição
- D) comparação

**4.** No segundo parágrafo, a última frase expressa, em relação à anterior, uma relação de:

- A) contraposição
- B) ponderação
- C) retificação
- D) conclusão

**5.** “Mesmo com todas as dificuldades já citadas”. O trecho pode ser reescrito da seguinte forma, sem alteração do sentido:

- A) tanto que todas as dificuldades já citadas
- B) apesar de todas as dificuldades já citadas
- C) por causa de todas as dificuldades já citadas
- D) de acordo com todas as dificuldades já citadas

**6.** “Crianças que caminham para a escola têm mais concentração para desenvolver atividades complexas”. O trecho destacado exerce, no conjunto da frase, a função de introduzir uma:

- A) contradição
- B) enumeração
- C) especificação
- D) consequência

**7.** No último parágrafo, a forma verbal “priorize” indica ação com valor de:

- A) certeza
- B) hesitação
- C) possibilidade
- D) inviabilidade

**8.** Na frase “Para a maior parcela, que se locomove a pé e de transporte coletivo, há insegurança, medo e a certeza de que o pedestre é considerado um intruso, um invasor do espaço” (2º parágrafo), o uso da voz passiva provoca o seguinte efeito de sentido:

- A) culpar o governo pelo comportamento
- B) sugerir uma falha de planejamento
- C) propor uma solução alternativa
- D) omitir o responsável pela ação

**9.** Em “que fica circunscrita à locomoção no carro” (4º parágrafo), a palavra “circunscrita” pode ser substituída, sem prejuízo do sentido original, por:

- A) homogênea
- B) confusa
- C) restrita
- D) aberta

**10.** Acentuação está corretamente justificada em:

- A) “automóveis” – proparoxítona
- B) “país” – oxítona terminada em “-i(s)”
- C) “saudável” – paroxítona terminada em “-l”
- D) “décadas” – paroxítona terminada em “-a(s)”

## ÉTICA NA ADMINISTRAÇÃO PÚBLICA E LEGISLAÇÃO MUNICIPAL

**11.** Sandra, com quinze anos de idade, pretende adquirir estabilidade financeira com a aprovação em concurso público, sendo certo que completou o ensino fundamental e está cursando o último ano do ensino médio. Nos termos da Lei Complementar nº 3/2012 do município de Boa Vista, um dos requisitos para a investidura em cargo público consiste na idade mínima de:

- A) dezesseis anos
- B) dezessete anos
- C) dezoito anos
- D) dezenove anos

**12.** Pepe resolve estudar para ser aprovado em concurso para ingresso na autarquia municipal W. Nos termos da Lei Complementar nº 3/2012 do município de Boa Vista, a competência para prover os cargos em autarquias seria do seu:

- A) dirigente máximo
- B) diretor de pessoal
- C) gerente regional
- D) coordenador de recursos humanos

**13.** Sócrates é arquiteto e servidor efetivo do município B, sendo convidado para ocupar, interinamente, cargo em comissão em secretaria municipal. Nos termos da Lei Complementar nº 3/2012 do município de Boa Vista, quando exercido interinamente, o cargo em comissão demanda:

- A) designação
- B) nomeação
- C) indicação
- D) colocação

**14.** Jervásio foi aprovado em concurso público para o cargo de professor municipal, tendo ocorrido a homologação do certame em 2017. Nos termos da Lei Complementar nº 3/2012 do município de Boa Vista, a prorrogação da validade do concurso poderá ocorrer:

- A) duas vezes
- B) uma única vez
- C) sem prazo
- D) condicionalmente

**15.** Januário foi instado a realizar exames médicos para comprovar o seu estado de saúde com o objetivo de formalizar os atos finais inerentes a concurso público. Nos termos da Lei Complementar nº 3/2012 do município de Boa Vista, a posse em cargo público depende de prévia inspeção:

- A) hospitalar pública
- B) salutar privada
- C) médica oficial
- D) fisiológica ideal

**16.** Ernestino é servidor municipal, ocupando cargo de nível superior e, após os trâmites legais, é promovido. Nos termos da Lei Complementar nº 3/2012 do município de Boa Vista, a promoção não interrompe o tempo de exercício, que é contado no novo posicionamento na carreira a partir da data da:

- A) assinatura do ato
- B) publicação do ato
- C) aceitação do ato
- D) resolução do ato

**17.** Jobinho é servidor municipal e logrou a obtenção de aposentadoria voluntária por ter cumprido os requisitos normativos exigidos. Posteriormente, requereu o retorno ao serviço público municipal. Nos termos da Lei Complementar nº 3/2012 do município de Boa Vista, esse retorno não poderá amparar o servidor que já tiver completado:

- A) sessenta anos de idade
- B) sessenta e dois anos de idade
- C) sessenta e cinco anos de idade
- D) setenta anos de idade

**18.** Creso é servidor municipal e foi colocado em disponibilidade pelo período de três anos. Após o término do prazo, requereu o seu retorno ao serviço público, sendo comunicado da extinção do órgão onde prestava serviço. Nos termos da Lei Complementar nº 3/2012 do município de Boa Vista, o servidor posto em disponibilidade poderá ser mantido sob responsabilidade da Secretaria Municipal de:

- A) Administração
- B) Fazenda
- C) Governo
- D) Educação

**19.** Afonso Pena, servidor ocupante de cargo efetivo no município TX, foi convidado para chefiar o setor de Recursos Humanos da Secretaria Municipal de Saúde. Nos termos da Lei Complementar nº 3/2012 do município de Boa Vista, ao ocupante de função de chefia é cabível, pelo seu devido exercício, o pagamento de:

- A) gratificação
- B) retribuição
- C) adicional
- D) diárias

**20.** Venceslau é engenheiro e foi aprovado em concurso público para ocupar cargo no município ZZ. Para cumprir projeto patrocinado pelo governo federal, passa a atuar em laboratório submetido ao contato com substâncias radioativas. Esse contato ocorre a cada dois meses. Diante disso, requer pagamento de adicional de insalubridade. Nos termos da Lei Complementar nº 3/2012 do município de Boa Vista, **NÃO** haverá pagamento do adicional quando a exposição aos agentes nocivos ocorrer de forma:

- A) assídua
- B) geral
- C) ocasional
- D) conveniada

**21.** Adiel, servidor público, procura melhorias na sua carreira e remuneração. Nos termos da Lei nº 1.611 do município de Boa Vista, corresponde ao crescimento na mesma classe ou categoria profissional, com mudança para o próximo padrão de vencimento, a:

- A) projeção
- B) progressão
- C) remoção
- D) transposição

**22.** Tércio concluiu o ensino médio e pretende realizar concurso público. Nos termos da Lei nº 1.611 do município de Boa Vista, o cargo em que o requisito mínimo é o ensino médio corresponde ao cargo de:

- A) assistente
- B) auxiliar
- C) assessor
- D) atendente

**23.** Sueli é professora com mestrado em Educação e atua no ensino de crianças com necessidades especiais. Nos termos da Lei nº 1.611 do município de Boa Vista, a jornada de trabalho do professor deve corresponder a:

- A) vinte horas semanais
- B) vinte e cinco horas semanais
- C) trinta horas semanais
- D) quarenta horas semanais

**24.** Maxuell foi reenquadrado em novo plano de carreira aprovado por lei municipal que reorganizou a carreira à qual pertence. Nos termos da Lei nº 712 do município de Boa Vista, após o enquadramento dos servidores, nenhuma nomeação para cargo efetivo poderá ser efetuada senão na referência inicial de cada categoria funcional, vinculada à respectiva especialidade e condicionada à aprovação e habilitação em:

- A) concurso público
- B) seleção pública
- C) chamada pública
- D) processo público

**25.** Eleutério é servidor municipal e pretende requerer o parcelamento de suas férias. Nos termos da Lei Complementar nº 3/2012 do município de Boa Vista, as férias podem ser parceladas em até:

- A) duas etapas
- B) três etapas
- C) quatro etapas
- D) cinco etapas

**26.** Epaminondas está com seu enteado Elesbão com problemas de saúde. Diante disso, requer afastamento do serviço público municipal onde exerce o cargo de professor. Nos termos da Lei Complementar nº 3/2012 do município de Boa Vista, nesses casos, o servidor terá direito a licença não remunerada de:

- A) noventa dias
- B) cem dias
- C) cento e vinte dias
- D) cento e cinquenta dias

**27.** Amadeu pretende candidatar-se a cargo eletivo, tendo apresentado requerimento de registro perante a Justiça eleitoral vinculado ao partido político Asa. Nos termos da Lei Complementar nº 3/2012 do município de Boa Vista, o servidor terá direito a licença, sem remuneração, durante o período que deve ter início com a sua escolha em:

- A) comitê eleitoral
- B) assembleia geral
- C) convenção partidária
- D) votação regional

**28.** Ricardo Adriano é candidato à presidência do sindicato dos servidores do município TWZ. Após sua eleição, requer o afastamento do serviço para atuar exclusivamente nas funções sindicais. O sindicato possui dez mil associados. Nos termos da Lei Complementar nº 3/2012 do município de Boa Vista, é assegurado ao servidor o direito à licença com remuneração para o desempenho de mandato no sindicato representativo da categoria, limitado, no caso presente, a no máximo:

- A) dois servidores
- B) três servidores
- C) quatro servidores
- D) cinco servidores

**29.** Holmes atua no setor de licitações da empresa municipal CT do município VV. Cioso de suas responsabilidades, fiscaliza o cumprimento do princípio da publicidade dos atos administrativos. É consentâneo com os instrumentos normativos pátrios que regulam a ética no serviço público que a omissão quanto à publicidade ofende o:

- A) bem comum
- B) solidarismo
- C) patriotismo
- D) corporativismo

**30.** Winston é servidor público e não está adaptado ao órgão onde foi lotado, realizando repetidos erros e desvios de função. É consentâneo com os instrumentos normativos pátrios que regulam a ética no serviço público que essas atitudes caracterizam, quanto ao desempenho da função pública:

- A) rebeldia
- B) imprudência
- C) mal-estar
- D) descortesia

## ATUALIDADES

**31.** Em novembro de 2019, os jornais noticiaram que, em 2018, 13,5 milhões de brasileiros viveram com uma renda per capita mensal inferior a R\$ 145,00 reais, um recorde de crescimento da população em situação de extrema pobreza, pois foi o maior índice encontrado nos últimos sete anos. A notícia revelou que vem ocorrendo no país um evidente aumento:

- A) do desenvolvimento econômico
- B) da igualdade econômica
- C) da desigualdade social
- D) do estamento social

**32.** Artigos de jornais, publicados em novembro de 2019, demonstraram que as possibilidades de contingenciamento e de corte de recursos nas áreas da educação, ciência e tecnologia preocupou estudiosos, cientistas e congressistas do país, por considerarem que a redução acentuada de investimento em educação e pesquisa nos tempos atuais poderá se transformar, no futuro, em um fator que:

- A) garantirá o aumento da riqueza nacional
- B) limitará o desenvolvimento econômico do país
- C) estabilizará o crescimento produtivo regional
- D) fortalecerá a competitividade comercial no país

**33.** No segundo semestre de 2019, os noticiários analisaram o grande desastre ecológico que ocorreu no litoral do país, e avaliaram que as dimensões de danos foram intensas, causando uma degradação no meio ambiente que poderá permanecer por décadas. A contaminação ambiental foi grave por se tratar de toneladas de:

- A) óleo com efeitos tóxicos
- B) rejeitos de minério de ferro
- C) mercúrio e metais pesados
- D) cinzas ácidas das queimadas

**34.** Especialistas em saúde pública afirmam que o uso excessivo de agrotóxicos na produção nacional de alimentos pode afetar a saúde da população, provocando problemas respiratórios, impotência, depressão, aborto, câncer, entre outros danos à saúde.

Como precaução ao problema, os estudiosos recomendam que a população se alimente de produtos produzidos pela:

- A) silvicultura
- B) agroecologia
- C) aquicultura
- D) agroindústria

**35.** As metas de Desenvolvimento Sustentável da Organização das Nações Unidas destacam a necessidade de aumentar a participação de energias renováveis na matriz energética global. O Brasil tem avançado, em maior proporção, na geração de um tipo de energia elétrica sustentável que apresenta menor risco de ocorrência de danos e desastres ambientais.

Trata-se da produção de energia:

- A) solar
- B) nuclear
- C) eólica
- D) hidrelétrica

## NOÇÕES DE INFORMÁTICA

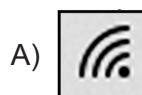
**36.** No que diz respeito aos conceitos da internet, pode-se afirmar que:

- I. um termo tem por significado baixar ou transferir dados de uma página para o computador de um usuário, como no caso de um edital em formato PDF, referente a um concurso público;
- II. uma sigla tem por significado o endereço *web* que se digita na barra de endereços de um *browser* para se chegar a um *site*, como por exemplo <https://www.google.com.br/>.

O termo e a sigla são, respectivamente:

- A) *download* e DNS
- B) *download* e URL
- C) *upload* e DNS
- D) *upload* e URL

**37.** Na Área de Notificação do Windows 10 BR, localizada no canto inferior direito da tela do monitor de um *notebook*, há um ícone que serve para o usuário verificar o *status* da conexão *wifi* à internet. Esse ícone é:



**38.** A planilha a seguir foi criada no Excel 2019 BR, em que foram realizados os procedimentos descritos a seguir.

- Em F12, foi inserida a expressão =MED(A11:A15).
- Em F14, foi inserida a expressão =MOD(F12;2).

	A	B	C	D	E	F
1						
2						
3						
4						
5						
6						
7						
8						
9						
10	<b>CIDADE DE BOA VISTA - RR</b>					
11	<b>23</b>					
12	<b>15</b>					MEDIANA = <input style="width: 50px;" type="text" value="?"/>
13	<b>10</b>					
14	<b>13</b>					MOD = <input style="width: 50px;" type="text" value="?"/>
15	<b>19</b>					





Nessas condições, os valores mostrados em F12 e em F14 são, respectivamente:

- 15 e 0
- 15 e 1
- 16 e 0
- 16 e 1

**39.** No Word 2019 BR, dois recursos devem ser empregados com as seguintes finalidades:

- um atalho de teclado destina-se a converter uma frase ou palavra selecionada em minúsculas para maiúsculas e vice-versa;
- um ícone deve ser acionado por meio do *mouse* para aplicar sombreamento, ou seja, mudar a cor atrás do texto, parágrafo ou célula de tabela selecionada.

O atalho de teclado e o ícone são, respectivamente:

- Ctrl + F3 e 
- Ctrl + F3 e 
- Shift + F3 e 
- Shift + F3 e 

**40.** A planilha a seguir foi criada no Excel 2019 BR. Para contabilizar a quantidade de atendimentos nas células D27, D28 e D29, foi empregada a função SOMASE, usando o conceito de referência absoluta. Para finalizar, foi inserida em D30 uma expressão que adiciona os valores de D27, D28 e D29.

	A	B	C	D
4				
5				
6				
7				
8				
9				
10				
11	<b>MÊS</b>	<b>ESPECIALIDADE</b>	<b>COLABORADOR</b>	<b>QUANTIDADE</b>
12	<b>1</b>	<b>RESSONÂNCIA</b>	<i>João</i>	<b>123</b>
13		<b>TOMOGRAFIA</b>	<i>Juliana</i>	<b>98</b>
14		<b>TOMOGRAFIA</b>	<i>Juliana</i>	<b>23</b>
15		<b>PEDIATRIA</b>	<i>Feitosa</i>	<b>131</b>
16	<b>2</b>	<b>RESSONÂNCIA</b>	<i>João</i>	<b>56</b>
17		<b>RESSONÂNCIA</b>	<i>João</i>	<b>73</b>
18		<b>TOMOGRAFIA</b>	<i>Juliana</i>	<b>89</b>
19		<b>PEDIATRIA</b>	<i>Feitosa</i>	<b>53</b>
20	<b>3</b>	<b>RESSONÂNCIA</b>	<i>João</i>	<b>48</b>
21		<b>TOMOGRAFIA</b>	<i>Juliana</i>	<b>80</b>
22		<b>PEDIATRIA</b>	<i>Feitosa</i>	<b>76</b>
23		<b>PEDIATRIA</b>	<i>Feitosa</i>	<b>70</b>
24	<b>TOTAL =</b>			<b>920</b>
25				
26	<b>RESUMO</b>			
27	<b>RESSONÂNCIA</b>			<b>300</b>
28	<b>TOMOGRAFIA</b>			<b>290</b>
29	<b>PEDIATRIA</b>			<b>330</b>
30	<b>TOTAL =</b>			<b>920</b>

As expressões inseridas em D29 e em D30 foram, respectivamente:

- =SOMASE(&B&12:&B&23;B29;&D&12:&D&23)  
e =SOMA(D27:D29)
- =SOMASE(&B&12:&B&23;B29;&D&12:&D&23)  
e =SOMA(D27;D29)
- =SOMASE(\$B\$12:\$B\$23;B29;\$D\$12:\$D\$23)  
e =SOMA(D27:D29)
- =SOMASE(\$B\$12:\$B\$23;B29;\$D\$12:\$D\$23)  
e =SOMA(D27;D29)

## CONHECIMENTOS ESPECÍFICOS

**41.** Paciente, sexo feminino, 40 anos de idade, compareceu ao consultório dentário com dor espontânea, pulsátil e localizada no dente 26. Na inspeção, foi observada uma tumefação intraoral com ponto de flutuação; o teste de sensibilidade pulpar ao frio foi negativo e, no teste de percussão, a paciente apresentou sensibilidade exagerada. No exame radiográfico, observou-se espessamento do ligamento periodontal.

O possível diagnóstico e a conduta a ser tomada no atendimento de emergência devem ser, respectivamente:

- A) periodontite apical aguda; drenagem do abscesso, prescrição de antibiótico e retorno após 48 horas
- B) abscesso perirradicular agudo; drenagem do abscesso, limpeza e desinfecção do canal
- C) periodontite apical aguda; prescrição de analgésico e anti-inflamatório e retorno após 24 horas
- D) abscesso perirradicular agudo; prescrição de antibiótico e retorno após 48 horas

**42.** Diversos micro-organismos são responsáveis pela indução de patologias pulpares e perirradiculares.

Com base no exposto, os principais micro-organismos encontrados em uma infecção endodôntica primária são:

- A) bactérias gram-negativas anaeróbicas, como *Porphyromonas* e *Prevotella*
- B) bactérias gram-positivas facultativas, como o *Enterococcus faecalis* e *Streptococcus*
- C) bactérias gram-negativas facultativas, como *Tanerella* e *Dialister*
- D) bactérias gram-positivas anaeróbicas, como *Actinomyces* e *Eubacterium*

**43.** O hidróxido de cálcio  $[Ca(OH)_2]$  é amplamente utilizado como medicação intracanal entre consultas do tratamento endodôntico.

Sobre as propriedades físico-químicas e biológicas do  $[Ca(OH)_2]$ , é correto afirmar que:

- A) apresenta o pH em torno de 10,8
- B) apresenta ampla ação antimicrobiana devido ao pH ácido
- C) sua ação ocorre a partir da dissociação iônica em íons cálcio e hidroxila
- D) não é biocompatível com os tecidos perirradiculares

**44.** De acordo com o Código de Ética Odontológica, aprovado pela resolução CFO 118/2012, constitui-se como infração ética:

- A) propugnar pela harmonia na classe
- B) revelar, com justa causa, fato sigiloso de que tenha conhecimento em razão do exercício de sua profissão
- C) abster-se da prática de atos que impliquem mercantilização da Odontologia ou sua má conceituação
- D) deixar de atender paciente em caso de urgência, quando não há outro cirurgião-dentista em condições de fazê-lo

**45.** O conhecimento da anatomia dos canais radiculares é de extrema importância para a realização de um tratamento endodôntico adequado. Em relação à anatomia interna dos incisivos, pode-se afirmar:

- A) O incisivo central inferior possui alta prevalência de anomalias anatômicas, como *dens in dente* e fusão.
- B) O incisivo central superior normalmente apresenta canal único e canais acessórios principalmente no terço médio.
- C) O incisivo lateral superior geralmente apresenta canal único com curvatura no sentido disto-vestibular.
- D) O incisivo lateral inferior pode apresentar dois canais radiculares, um vestibular e outro palatino.

**46.** A pigmentação acastanhada e a impregnação da dentina advinda da combinação do hipoclorito de sódio e da clorexidina durante a irrigação dos canais radiculares ocorre devido à formação do composto chamado:

- A) paracloranilina
- B) sal trissódico
- C) doxiciclina
- D) peróxido de ureia

**47.** A detecção de fraturas coronárias ou radiculares é de difícil identificação clínica e radiográfica. São propostas para a identificação destas fraturas as seguintes técnicas:

- A) teste de sensibilidade pulpar e técnica da mordida
- B) técnica da mordida e visualização por microscopia operatória
- C) percussão horizontal e visualização por microscopia operatória
- D) teste de sensibilidade pulpar e transiluminação



**48.** O Endodontista realiza um movimento com instrumentos tipo Kerr de pequeno calibre, com pequenos avanços em sentido apical, juntamente com discretos movimentos de rotação à direita e à esquerda, com retrocesso. O nome deste movimento é:

- A) alargamento
- B) remoção
- C) limagem
- D) cateterismo

**49.** A esterilização ou descontaminação dos materiais endodônticos deve ser feita corretamente da seguinte forma:

- A) Os instrumentos endodônticos (limas) são considerados artigos semicríticos e, portanto, devem ser esterilizados através da autoclave.
- B) Os instrumentos endodônticos (limas) devem ser esterilizados através da autoclave com exposição do material por 30 minutos à temperatura de 121°C.
- C) Os cones de guta-percha não podem ser submetidos à esterilização por autoclave, portanto, devem ser descontaminados em solução de hipoclorito de sódio de 1% a 2% por 15 segundos.
- D) Antes de serem esterilizados, os instrumentos endodônticos devem ser limpos e deixados ligeiramente úmidos para proceder com o acondicionamento e empacotamento do material.

**50.** Em relação às indicações para a realização da pulpotomia, é correto afirmar:

- A) É indicada quando há exposição por cárie em dentes imaturos.
- B) Pode ser feita em casos de pulpite irreversível em dentes maduros, como tratamento definitivo.
- C) É indicada quando há exposição por cárie em dentes maduros, como tratamento definitivo.
- D) Pode ser feita nos casos de pulpite reversível em dentes imaturos.

**51.** Os fatores que devem ser observados antes da obturação dos canais radiculares são:

- A) preparo químico-mecânico completo e uso de medicação intracanal entre consultas
- B) ausência de exsudato persistente e preparo apical com diâmetro reduzido
- C) ausência de odor e preparo químico-mecânico completo
- D) ausência de odor e limite apical de obturação entre 0-3mm aquém do ápice radicular

**52.** O limite apical ideal para instrumentação do canal radicular deve ser:

- A) no limite da junção cementodentinária, que pode ser facilmente visualizada radiograficamente
- B) entre 0 a 1 mm aquém do vértice do ápice radiográfico no tratamento de dentes polpados e despolpados
- C) entre 1 a 2 mm aquém do vértice do ápice radiográfico no tratamento de dentes polpados e entre 0 a 1mm nos dentes despolpados
- D) entre 1 a 2 mm aquém do vértice do ápice radiográfico tanto no tratamento de dentes polpados quanto no de dentes despolpados

**53.** Paciente compareceu ao consultório e foi diagnosticado com necrose pulpar assintomática no dente 33. No entanto, durante a anamnese relatou ter hipertensão não controlada. Nesse caso, a forma que o Endodontista deve proceder no atendimento do paciente é:

- A) encaminhar o paciente para um cardiologista antes de iniciar o tratamento endodôntico
- B) realizar o acesso e encaminhar o paciente para um cardiologista
- C) fazer antibioticoterapia profilática antes de iniciar o tratamento endodôntico
- D) realizar o acesso após aplicação de anestésico sem vasoconstritor

**54.** Com relação à cirurgia de acesso coronário, o dente que apresenta forma de contorno triangular, com a base voltada para vestibular é o de número:

- A) 12
- B) 26
- C) 46
- D) 32

**55.** Paciente do sexo masculino com diagnóstico de abscesso periapical agudo e presença de tumefação no dente 16, foi anestesiado com bloqueio regional e infiltração de ambos os lados da tumefação. No entanto, ao iniciar a instrumentação dos canais, o paciente relatou sintomatologia dolorosa. A conduta anestésica a ser tomada é:

- A) anestesia intrapulpar com lidocaína 1:100.000
- B) anestesia intraóssea com lidocaína 1:100.000
- C) anestesia na tuberosidade alta com lidocaína 1:100.000
- D) anestesia intraligamentar com lidocaína 1:100.000

**56.** Paciente compareceu ao consultório com dor pulsátil, excruciante e resposta exacerbada ao teste de sensibilidade ao frio. No teste de percussão e palpação, não houve sintomatologia dolorosa e radiograficamente observou-se cárie extensa, próxima à câmara pulpar. O diagnóstico e o tratamento propostos na consulta de emergência devem ser, respectivamente:

- A) pulpite irreversível; acesso, pulpectomia e medicação intracanal
- B) periodontite apical aguda; acesso, pulpectomia e medicação intracanal
- C) pulpite irreversível; prescrição de antibiótico e anti-inflamatório, com retorno após 48 horas
- D) periodontite apical aguda; prescrição de anti-inflamatório, com retorno após 48 horas

**57.** Em alguns casos, como em pacientes sob risco de apresentar *flare-up*, o Endodontista deve lançar mão da prescrição de medicamentos logo após a consulta odontológica. O medicamento que deve ser prescrito nesse caso é:

- A) amoxicilina 500 mg de 8 em 8 horas por 7 dias
- B) dipirona 500 mg de 6 em 6 horas por 2 dias
- C) paracetamol 750 mg de 8 em 8 horas por 2 dias
- D) ibuprofeno 600 a 800 mg de 8 em 8 horas por até 3 dias

**58.** Em relação às auditorias e às perícias odontológicas, constitui-se como infração ética:

- A) intervir, quando na qualidade de perito ou auditor, nos atos de outro profissional
- B) atuar com absoluta isenção quando designado para servir como perito ou auditor
- C) exercer a função de perito quando a parte for parente de terceiro grau
- D) prestar serviços de auditoria a pessoas físicas que estejam regularmente inscritas no Conselho

**59.** Um pré-molar superior direito apresenta dois canais radiculares (vestibular e palatino). No entanto, na radiografia ortorradiar, estes canais se encontram em linha reta, sobrepostos. Para visualizar os dois canais, deve-se deslocar o cilindro do aparelho de Raios X horizontalmente (mesial ou distal). Após o deslocamento horizontal, observa-se que o canal palatino irá:

- A) deslocar-se em sentido contrário ao movimento do aparelho de Raios X
- B) deslocar-se no mesmo sentido ao movimento do aparelho de Raios X
- C) permanecerá na mesma posição original
- D) não haverá dissociação de imagens no caso apresentado

**60.** A Lei nº 8.080/90 dispõe sobre as condições para a promoção, proteção e recuperação da saúde, a organização e o funcionamento dos serviços correspondentes. De acordo com essa lei, dentre as atribuições do Sistema Único de Saúde - SUS estão:

- A) execução e verificação das ações de assistência terapêutica, com exceção da farmacêutica
- B) formulação e execução da política de alimentos e seus derivados
- C) fiscalização e a inspeção de alimentos, água e bebidas para consumo humano
- D) ações apenas na área da vigilância sanitária, não sendo incluída a vigilância epidemiológica

