



**CONCURSO PÚBLICO  
PREFEITURA MUNICIPAL DE BOA VISTA  
SECRETARIA MUNICIPAL DE ADMINISTRAÇÃO E GESTÃO DE PESSOAS - SMAG**

**EDITAL Nº 002/2019-SMAG**

**CIRURGIÃO-DENTISTA ODONTOPEDIATRA**

**Duração: 03h00min (três horas)**

**Leia atentamente as instruções abaixo:**

**01** Você recebeu do fiscal o seguinte material:

**a)** Este caderno, com 60 (sessenta) questões da Prova Objetiva, sem repetição ou falha, conforme distribuição abaixo:

LÍNGUA PORTUGUESA	ÉTICA NA ADMINISTRAÇÃO PÚBLICA E LEGISLAÇÃO MUNICIPAL	ATUALIDADES	NOÇÕES DE INFORMÁTICA	CONHECIMENTOS ESPECÍFICOS
01 a 10	11 a 30	31 a 35	36 a 40	41 a 60

**b)** Um Cartão de Respostas destinado às respostas das questões objetivas.

**02** Verifique se este material está em ordem e se o seu nome e número de inscrição conferem com os que aparecem no Cartão de Respostas. Caso contrário, notifique imediatamente o fiscal.

**03** Após a conferência, o candidato deverá assinar no espaço próprio do Cartão de Respostas, com caneta esferográfica de tinta na cor azul ou preta.

**04** No Cartão de Respostas, a marcação da alternativa correta deve ser feita cobrindo a letra correspondente ao número da questão e preenchendo todo o espaço interno, com caneta esferográfica de tinta na cor azul ou preta, de forma contínua e densa.

**Exemplo:**  A  B  C  D

**05** Para cada uma das questões objetivas, são apresentadas 4 (quatro) alternativas classificadas com as letras (A, B, C e D), mas só uma responde adequadamente à questão proposta. Você só deve assinalar uma alternativa. A marcação em mais de uma alternativa anula a questão, mesmo que uma das respostas esteja correta.

**06** Somente depois de decorrida 01 (uma) hora do início da prova, o candidato poderá entregar seu Cartão de Respostas, seu Caderno de Questões e retirar-se da sala de prova. O candidato que insistir em sair da sala de prova, descumprindo o aqui disposto, deverá assinar o Termo de Ocorrência declarando sua desistência do Concurso, que será lavrado pelo Coordenador do Local.

**07** Ao candidato, será permitido levar seu CADERNO DE QUESTÕES faltando no máximo 01 (uma) hora para o término da prova e desde que permaneça em sala até esse momento.

**08** Não será permitida a cópia de gabarito no local de prova. Ao terminar a prova de Conhecimentos, o candidato entregará, obrigatoriamente, ao fiscal de sala, o seu CARTÃO DE RESPOSTAS e o seu CADERNO DE QUESTÕES, ressalvado o estabelecido no item 7.

**09** Reserve os 30 (trinta) minutos finais para marcar seu Cartão de Respostas. Os rascunhos e as marcações assinaladas no Caderno de Questões não serão levados em consideração.

**10** Os 3 (três) últimos candidatos permanecerão sentados até que todos concluem a prova ou que termine o seu tempo de duração, devendo assinar a ata de sala e retirar-se juntos.

## LÍNGUA PORTUGUESA

Leia o texto I para responder às questões de 1 a 10.

Texto I

### A mobilidade da criança

O que significa a mobilidade para os pequenos habitantes das cidades brasileiras? Para parte deles, o ir e vir está sempre relacionado ao carro. Das janelas dos automóveis, eles enxergam reflexos da cidade, mas não participam dela.

Para a maior parcela, que se locomove a pé e de transporte coletivo, há insegurança, medo e a certeza de que o pedestre é considerado um intruso, um invasor do espaço. Além de aprender que precisa atravessar a rua correndo porque o tempo do semáforo é insuficiente e o pedestre não é respeitado, a criança brasileira se acostuma a caminhar em calçadas muito estreitas e até em ruas sem a presença delas. As décadas de planejamento urbano focado no carro tornaram as ruas um território de guerra – o fato de que o Brasil é o quarto país do mundo em mortes no trânsito fala por si só. Pesquisadores internacionais há tempos discutem os efeitos da “imobilidade” e da violência no trânsito no desenvolvimento físico, cognitivo, motor e social das crianças. Exercer a independência numa cidade segura é fundamental para o crescimento saudável. Nos países em que as crianças andam de bicicleta e a pé com segurança, como na Holanda e na Dinamarca, por exemplo, os acidentes são praticamente inexistentes e a infância é um período de feliz interação na sociedade.

#### *Sobrepeso e falta de luz solar*

Segundo a urbanista e arquiteta espanhola Irene Quintáns, os urbanistas usam a presença de crianças no espaço público como indicador de sucesso urbano. “A ausência delas nas ruas aponta as falhas das nossas cidades”, ela diz.

Moradora da capital paulista há sete anos e mãe de dois filhos, Irene acredita que privar os pequenos de caminhar não é positivo. “Uma criança que fica circunscrita à locomoção no carro tende a ficar insegura para se movimentar. Ela também tem mais dificuldade em perceber o outro. Isso se chama empatia e é muito importante para a vida em sociedade. Há ainda a questão do sedentarismo, do sobrepeso e da falta de luz solar. Crianças que caminham para a escola têm mais concentração para desenvolver atividades complexas”.

Mesmo com todas as dificuldades já citadas, é importante usar o transporte público, caminhar e participar da vida na cidade. Na próxima vez que levar seus filhos à escola, reflita: por que ir de carro? Que

tal descobrir a cidade ao lado deles, trocando ideias sobre o que vocês veem? Assim, eles aprendem a ser cidadãos e a viver o coletivo, enquanto exigimos que o poder público priorize a proteção das nossas crianças.

(<https://www.metrojornal.com.br/colunistas/2018/10/11/mobilidade-da-crianca.html>)

**1.** A temática principal do texto se baseia na relação entre:

- A) mobilidade urbana e infância
- B) hierarquia social e propriedade
- C) acesso a transporte e economia
- D) visibilidade das pessoas e planejamento

**2.** Uma ideia explicitamente construída sobre o leitor considera que ele:

- A) ignora as desigualdades sociais
- B) transita com crianças pela cidade
- C) trabalha com planejamento geográfico
- D) defende valores do individualismo

**3.** No segundo parágrafo, o comentário introduzido por travessão expressa, em relação à ideia do parágrafo, uma relação de:

- A) negação
- B) explicação
- C) contradição
- D) comparação

**4.** No segundo parágrafo, a última frase expressa, em relação à anterior, uma relação de:

- A) contraposição
- B) ponderação
- C) retificação
- D) conclusão

**5.** “Mesmo com todas as dificuldades já citadas”. O trecho pode ser reescrito da seguinte forma, sem alteração do sentido:

- A) tanto que todas as dificuldades já citadas
- B) apesar de todas as dificuldades já citadas
- C) por causa de todas as dificuldades já citadas
- D) de acordo com todas as dificuldades já citadas

**6.** “Crianças que caminham para a escola têm mais concentração para desenvolver atividades complexas”. O trecho destacado exerce, no conjunto da frase, a função de introduzir uma:

- A) contradição
- B) enumeração
- C) especificação
- D) consequência

**7.** No último parágrafo, a forma verbal “priorize” indica ação com valor de:

- A) certeza
- B) hesitação
- C) possibilidade
- D) inviabilidade

**8.** Na frase “Para a maior parcela, que se locomove a pé e de transporte coletivo, há insegurança, medo e a certeza de que o pedestre é considerado um intruso, um invasor do espaço” (2º parágrafo), o uso da voz passiva provoca o seguinte efeito de sentido:

- A) culpar o governo pelo comportamento
- B) sugerir uma falha de planejamento
- C) propor uma solução alternativa
- D) omitir o responsável pela ação

**9.** Em “que fica circunscrita à locomoção no carro” (4º parágrafo), a palavra “circunscrita” pode ser substituída, sem prejuízo do sentido original, por:

- A) homogênea
- B) confusa
- C) restrita
- D) aberta

**10.** Acentuação está corretamente justificada em:

- A) “automóveis” – proparoxítona
- B) “país” – oxítona terminada em “-i(s)”
- C) “saudável” – paroxítona terminada em “-l”
- D) “décadas” – paroxítona terminada em “-a(s)”

## ÉTICA NA ADMINISTRAÇÃO PÚBLICA E LEGISLAÇÃO MUNICIPAL

**11.** Sandra, com quinze anos de idade, pretende adquirir estabilidade financeira com a aprovação em concurso público, sendo certo que completou o ensino fundamental e está cursando o último ano do ensino médio. Nos termos da Lei Complementar nº 3/2012 do município de Boa Vista, um dos requisitos para a investidura em cargo público consiste na idade mínima de:

- A) dezesseis anos
- B) dezessete anos
- C) dezoito anos
- D) dezenove anos

**12.** Pepe resolve estudar para ser aprovado em concurso para ingresso na autarquia municipal W. Nos termos da Lei Complementar nº 3/2012 do município de Boa Vista, a competência para prover os cargos em autarquias seria do seu:

- A) dirigente máximo
- B) diretor de pessoal
- C) gerente regional
- D) coordenador de recursos humanos

**13.** Sócrates é arquiteto e servidor efetivo do município B, sendo convidado para ocupar, interinamente, cargo em comissão em secretaria municipal. Nos termos da Lei Complementar nº 3/2012 do município de Boa Vista, quando exercido interinamente, o cargo em comissão demanda:

- A) designação
- B) nomeação
- C) indicação
- D) colocação

**14.** Jervásio foi aprovado em concurso público para o cargo de professor municipal, tendo ocorrido a homologação do certame em 2017. Nos termos da Lei Complementar nº 3/2012 do município de Boa Vista, a prorrogação da validade do concurso poderá ocorrer:

- A) duas vezes
- B) uma única vez
- C) sem prazo
- D) condicionalmente

**15.** Januário foi instado a realizar exames médicos para comprovar o seu estado de saúde com o objetivo de formalizar os atos finais inerentes a concurso público. Nos termos da Lei Complementar nº 3/2012 do município de Boa Vista, a posse em cargo público depende de prévia inspeção:

- A) hospitalar pública
- B) salutar privada
- C) médica oficial
- D) fisiológica ideal

**16.** Ernestino é servidor municipal, ocupando cargo de nível superior e, após os trâmites legais, é promovido. Nos termos da Lei Complementar nº 3/2012 do município de Boa Vista, a promoção não interrompe o tempo de exercício, que é contado no novo posicionamento na carreira a partir da data da:

- A) assinatura do ato
- B) publicação do ato
- C) aceitação do ato
- D) resolução do ato

**17.** Jobinho é servidor municipal e logrou a obtenção de aposentadoria voluntária por ter cumprido os requisitos normativos exigidos. Posteriormente, requereu o retorno ao serviço público municipal. Nos termos da Lei Complementar nº 3/2012 do município de Boa Vista, esse retorno não poderá amparar o servidor que já tiver completado:

- A) sessenta anos de idade
- B) sessenta e dois anos de idade
- C) sessenta e cinco anos de idade
- D) setenta anos de idade

**18.** Creso é servidor municipal e foi colocado em disponibilidade pelo período de três anos. Após o término do prazo, requereu o seu retorno ao serviço público, sendo comunicado da extinção do órgão onde prestava serviço. Nos termos da Lei Complementar nº 3/2012 do município de Boa Vista, o servidor posto em disponibilidade poderá ser mantido sob responsabilidade da Secretaria Municipal de:

- A) Administração
- B) Fazenda
- C) Governo
- D) Educação

**19.** Afonso Pena, servidor ocupante de cargo efetivo no município TX, foi convidado para chefiar o setor de Recursos Humanos da Secretaria Municipal de Saúde. Nos termos da Lei Complementar nº 3/2012 do município de Boa Vista, ao ocupante de função de chefia é cabível, pelo seu devido exercício, o pagamento de:

- A) gratificação
- B) retribuição
- C) adicional
- D) diárias

**20.** Venceslau é engenheiro e foi aprovado em concurso público para ocupar cargo no município ZZ. Para cumprir projeto patrocinado pelo governo federal, passa a atuar em laboratório submetido ao contato com substâncias radioativas. Esse contato ocorre a cada dois meses. Diante disso, requer pagamento de adicional de insalubridade. Nos termos da Lei Complementar nº 3/2012 do município de Boa Vista, **NÃO** haverá pagamento do adicional quando a exposição aos agentes nocivos ocorrer de forma:

- A) assídua
- B) geral
- C) ocasional
- D) conveniada

**21.** Adiel, servidor público, procura melhorias na sua carreira e remuneração. Nos termos da Lei nº 1.611 do município de Boa Vista, corresponde ao crescimento na mesma classe ou categoria profissional, com mudança para o próximo padrão de vencimento, a:

- A) projeção
- B) progressão
- C) remoção
- D) transposição

**22.** Tércio concluiu o ensino médio e pretende realizar concurso público. Nos termos da Lei nº 1.611 do município de Boa Vista, o cargo em que o requisito mínimo é o ensino médio corresponde ao cargo de:

- A) assistente
- B) auxiliar
- C) assessor
- D) atendente

**23.** Sueli é professora com mestrado em Educação e atua no ensino de crianças com necessidades especiais. Nos termos da Lei nº 1.611 do município de Boa Vista, a jornada de trabalho do professor deve corresponder a:

- A) vinte horas semanais
- B) vinte e cinco horas semanais
- C) trinta horas semanais
- D) quarenta horas semanais

**24.** Maxuell foi reenquadrado em novo plano de carreira aprovado por lei municipal que reorganizou a carreira à qual pertence. Nos termos da Lei nº 712 do município de Boa Vista, após o enquadramento dos servidores, nenhuma nomeação para cargo efetivo poderá ser efetuada senão na referência inicial de cada categoria funcional, vinculada à respectiva especialidade e condicionada à aprovação e habilitação em:

- A) concurso público
- B) seleção pública
- C) chamada pública
- D) processo público

**25.** Eleutério é servidor municipal e pretende requerer o parcelamento de suas férias. Nos termos da Lei Complementar nº 3/2012 do município de Boa Vista, as férias podem ser parceladas em até:

- A) duas etapas
- B) três etapas
- C) quatro etapas
- D) cinco etapas

**26.** Epaminondas está com seu enteado Elesbão com problemas de saúde. Diante disso, requer afastamento do serviço público municipal onde exerce o cargo de professor. Nos termos da Lei Complementar nº 3/2012 do município de Boa Vista, nesses casos, o servidor terá direito a licença não remunerada de:

- A) noventa dias
- B) cem dias
- C) cento e vinte dias
- D) cento e cinquenta dias

**27.** Amadeu pretende candidatar-se a cargo eletivo, tendo apresentado requerimento de registro perante a Justiça eleitoral vinculado ao partido político Asa. Nos termos da Lei Complementar nº 3/2012 do município de Boa Vista, o servidor terá direito a licença, sem remuneração, durante o período que deve ter início com a sua escolha em:

- A) comitê eleitoral
- B) assembleia geral
- C) convenção partidária
- D) votação regional

**28.** Ricardo Adriano é candidato à presidência do sindicato dos servidores do município TWZ. Após sua eleição, requer o afastamento do serviço para atuar exclusivamente nas funções sindicais. O sindicato possui dez mil associados. Nos termos da Lei Complementar nº 3/2012 do município de Boa Vista, é assegurado ao servidor o direito à licença com remuneração para o desempenho de mandato no sindicato representativo da categoria, limitado, no caso presente, a no máximo:

- A) dois servidores
- B) três servidores
- C) quatro servidores
- D) cinco servidores

**29.** Holmes atua no setor de licitações da empresa municipal CT do município VV. Cioso de suas responsabilidades, fiscaliza o cumprimento do princípio da publicidade dos atos administrativos. É consentâneo com os instrumentos normativos pátrios que regulam a ética no serviço público que a omissão quanto à publicidade ofende o:

- A) bem comum
- B) solidarismo
- C) patriotismo
- D) corporativismo

**30.** Winston é servidor público e não está adaptado ao órgão onde foi lotado, realizando repetidos erros e desvios de função. É consentâneo com os instrumentos normativos pátrios que regulam a ética no serviço público que essas atitudes caracterizam, quanto ao desempenho da função pública:

- A) rebeldia
- B) imprudência
- C) mal-estar
- D) descortesia

## ATUALIDADES

**31.** Em novembro de 2019, os jornais noticiaram que, em 2018, 13,5 milhões de brasileiros viveram com uma renda per capita mensal inferior a R\$ 145,00 reais, um recorde de crescimento da população em situação de extrema pobreza, pois foi o maior índice encontrado nos últimos sete anos. A notícia revelou que vem ocorrendo no país um evidente aumento:

- A) do desenvolvimento econômico
- B) da igualdade econômica
- C) da desigualdade social
- D) do estamento social

**32.** Artigos de jornais, publicados em novembro de 2019, demonstraram que as possibilidades de contingenciamento e de corte de recursos nas áreas da educação, ciência e tecnologia preocupou estudiosos, cientistas e congressistas do país, por considerarem que a redução acentuada de investimento em educação e pesquisa nos tempos atuais poderá se transformar, no futuro, em um fator que:

- A) garantirá o aumento da riqueza nacional
- B) limitará o desenvolvimento econômico do país
- C) estabilizará o crescimento produtivo regional
- D) fortalecerá a competitividade comercial no país

**33.** No segundo semestre de 2019, os noticiários analisaram o grande desastre ecológico que ocorreu no litoral do país, e avaliaram que as dimensões de danos foram intensas, causando uma degradação no meio ambiente que poderá permanecer por décadas. A contaminação ambiental foi grave por se tratar de toneladas de:

- A) óleo com efeitos tóxicos
- B) rejeitos de minério de ferro
- C) mercúrio e metais pesados
- D) cinzas ácidas das queimadas

**34.** Especialistas em saúde pública afirmam que o uso excessivo de agrotóxicos na produção nacional de alimentos pode afetar a saúde da população, provocando problemas respiratórios, impotência, depressão, aborto, câncer, entre outros danos à saúde.

Como precaução ao problema, os estudiosos recomendam que a população se alimente de produtos produzidos pela:

- A) silvicultura
- B) agroecologia
- C) aquicultura
- D) agroindústria

**35.** As metas de Desenvolvimento Sustentável da Organização das Nações Unidas destacam a necessidade de aumentar a participação de energias renováveis na matriz energética global. O Brasil tem avançado, em maior proporção, na geração de um tipo de energia elétrica sustentável que apresenta menor risco de ocorrência de danos e desastres ambientais.

Trata-se da produção de energia:

- A) solar
- B) nuclear
- C) eólica
- D) hidrelétrica

## NOÇÕES DE INFORMÁTICA

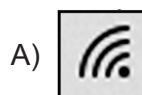
**36.** No que diz respeito aos conceitos da internet, pode-se afirmar que:

- I. um termo tem por significado baixar ou transferir dados de uma página para o computador de um usuário, como no caso de um edital em formato PDF, referente a um concurso público;
- II. uma sigla tem por significado o endereço *web* que se digita na barra de endereços de um *browser* para se chegar a um *site*, como por exemplo <https://www.google.com.br/>.

O termo e a sigla são, respectivamente:

- A) *download* e DNS
- B) *download* e URL
- C) *upload* e DNS
- D) *upload* e URL

**37.** Na Área de Notificação do Windows 10 BR, localizada no canto inferior direito da tela do monitor de um *notebook*, há um ícone que serve para o usuário verificar o *status* da conexão *wifi* à internet. Esse ícone é:



**38.** A planilha a seguir foi criada no Excel 2019 BR, em que foram realizados os procedimentos descritos a seguir.

- Em F12, foi inserida a expressão =MED(A11:A15).
- Em F14, foi inserida a expressão =MOD(F12;2).

	A	B	C	D	E	F
1						
2						
3						
4						
5						
6						
7						
8						
9						
10	<b>CIDADE DE BOA VISTA - RR</b>					
11	23					
12	15				MEDIANA =	?
13	10					
14	13				MOD =	?
15	19					





Nessas condições, os valores mostrados em F12 e em F14 são, respectivamente:

- 15 e 0
- 15 e 1
- 16 e 0
- 16 e 1

**39.** No Word 2019 BR, dois recursos devem ser empregados com as seguintes finalidades:

- um atalho de teclado destina-se a converter uma frase ou palavra selecionada em minúsculas para maiúsculas e vice-versa;
- um ícone deve ser acionado por meio do *mouse* para aplicar sombreamento, ou seja, mudar a cor atrás do texto, parágrafo ou célula de tabela selecionada.

O atalho de teclado e o ícone são, respectivamente:

- Ctrl + F3 e 
- Ctrl + F3 e 
- Shift + F3 e 
- Shift + F3 e 

**40.** A planilha a seguir foi criada no Excel 2019 BR. Para contabilizar a quantidade de atendimentos nas células D27, D28 e D29, foi empregada a função SOMASE, usando o conceito de referência absoluta. Para finalizar, foi inserida em D30 uma expressão que adiciona os valores de D27, D28 e D29.

	A	B	C	D
4				
5				
6				
7				
8				
9				
10				
11	<b>MÊS</b>	<b>ESPECIALIDADE</b>	<b>COLABORADOR</b>	<b>QUANTIDADE</b>
12	1	<b>RESSONÂNCIA</b>	<i>João</i>	123
13		<b>TOMOGRAFIA</b>	<i>Juliana</i>	98
14		<b>TOMOGRAFIA</b>	<i>Juliana</i>	23
15		<b>PEDIATRIA</b>	<i>Feitosa</i>	131
16	2	<b>RESSONÂNCIA</b>	<i>João</i>	56
17		<b>RESSONÂNCIA</b>	<i>João</i>	73
18		<b>TOMOGRAFIA</b>	<i>Juliana</i>	89
19		<b>PEDIATRIA</b>	<i>Feitosa</i>	53
20	3	<b>RESSONÂNCIA</b>	<i>João</i>	48
21		<b>TOMOGRAFIA</b>	<i>Juliana</i>	80
22		<b>PEDIATRIA</b>	<i>Feitosa</i>	76
23		<b>PEDIATRIA</b>	<i>Feitosa</i>	70
24	<b>TOTAL =</b>			<b>920</b>
25				
26	<b>RESUMO</b>			
27	<b>RESSONÂNCIA</b>			<b>300</b>
28	<b>TOMOGRAFIA</b>			<b>290</b>
29	<b>PEDIATRIA</b>			<b>330</b>
30	<b>TOTAL =</b>			<b>920</b>

As expressões inseridas em D29 e em D30 foram, respectivamente:

- =SOMASE(&B&12:&B&23;B29;&D&12:&D&23)  
e =SOMA(D27:D29)
- =SOMASE(&B&12:&B&23;B29;&D&12:&D&23)  
e =SOMA(D27;D29)
- =SOMASE(\$B\$12:\$B\$23;B29;\$D\$12:\$D\$23)  
e =SOMA(D27:D29)
- =SOMASE(\$B\$12:\$B\$23;B29;\$D\$12:\$D\$23)  
e =SOMA(D27;D29)

## CONHECIMENTOS ESPECÍFICOS

**41.** Quando procedimentos operatórios ou cirúrgicos são executados em dentes decíduos inferiores de um paciente infantil, o nervo alveolar inferior deve ser bloqueado. Durante a técnica anestésica, é importante considerar que o forame mandibular, em crianças, está localizado:

- A) mais para baixo e para posterior
- B) mais para baixo e para anterior
- C) mais para cima e para posterior
- D) mais para cima e para anterior

**42.** O Odontopediatra deve aprofundar o conhecimento sobre a criança e suas emoções. Contudo, sobre o controle do comportamento infantil, está correta a seguinte afirmativa:

- A) Comandos de voz com entonação firme e decidida, a fim de estabelecer a autoridade, agravam os comportamentos indesejáveis em pacientes infantis.
- B) A técnica dizer-mostrar-fazer é a mais utilizada e tem como objetivo preparar e familiarizar a criança com os procedimentos odontológicos mais invasivos.
- C) Em crianças colaboradoras, a técnica da dessensibilização é essencial para a manutenção do comportamento.
- D) Durante o controle de voz, o cirurgião-dentista influencia e direciona o comportamento do paciente diretamente, onde o conteúdo da mensagem, entonação e o modo como o profissional a transmite possuem importante valor.

**43.** Os dentes decíduos e permanentes possuem um ciclo vital característico e bem definido para alcançar sua maturidade morfológica. Durante essas fases de desenvolvimento dentário, anomalias relacionadas com diversas etiologias podem acontecer, um exemplo disso é a Amelogênese Imperfeita, tipo hipoplásica, que ocorre devido a uma falha no estágio de:

- A) calcificação
- B) campânula
- C) aposição
- D) capuz

**44.** A supervisão da erupção e do desenvolvimento da dentição decídua, mista e permanente é essencial para todos os pacientes pediátricos, pois contribui para o estabelecimento de uma oclusão aceitável em termos de estabilidade, funcionalidade e estética. Sobre o desenvolvimento da oclusão na dentição decídua, **NÃO** se pode considerar a seguinte afirmativa:

- A) Devido à implantação dos dentes decíduos nas suas bases ósseas, o plano oclusal não apresenta as curvas de Spee e Wilson.
- B) O *leeway space* proporciona um espaço de 2 a 3 mm no arco na dentição permanente.
- C) O arco tipo II de Baume é caracterizado pela presença de espaços generalizados entre os dentes.
- D) A dimensão sagital dos arcos dentários decíduos se mantém basicamente inalterada até o momento da erupção dos primeiros molares permanentes.

**45.** A doença cárie ainda se destaca como o principal agravo de saúde bucal na infância, contribuindo para que muitas crianças possuam dentes com comprometimento pulpar, e a terapia pulpar permite que estes dentes decíduos sejam mantidos na arcada até o momento da sua esfoliação. Sobre o tratamento pulpar indireto, é correto afirmar que:

- A) induz formação de dentina terciária com a finalidade de proteger o tecido pulpar de estímulos negativos
- B) está indicado para dentes com pelo menos 1/3 de raiz intacta
- C) durante a realização da técnica, uma pequena porção de dentina cariada amolecida é deixada nas margens e na porção mais profunda da lesão
- D) após a realização do tratamento, a cavidade deve ser reaberta no período de 6-8 semanas para a remoção cuidadosa do tecido remanescente

**46.** Criança com dez anos de idade, apresenta linha média normal e apenas os dentes 26 e 36 com mordida cruzada, classificada como dentoalveolar. Sobre o tratamento desta maloclusão, recomenda-se:

- A) placa expansora palatina
- B) aparelho quadri-hélice
- C) elásticos cruzados
- D) aparelho de arco em W



**47.** A forte relação entre o uso de fluoretos e a Odontopediatria é antiga, tanto para o benefício anticárie, como para o risco de fluorose dental. Com relação ao uso de fluoretos em crianças, é correto afirmar:

- A) Alta prevalência de fluorose ocorre nos dentes molares e o efeito do íon flúor na fluorose ocorre depois da erupção, durante a maturação do esmalte.
- B) Na escovação com dentifrício fluoretado, nos locais onde o biofilme não foi totalmente removido, o flúor terá ação, ativando a remineralização por todo o período que o pH estiver neutro, e reduzindo a desmineralização quando o pH do biofilme diminuir.
- C) O uso contínuo do fluoreto tem a capacidade de tornar o elemento dentário mais resistente aos ácidos produzidos pelas bactérias durante a exposição ao açúcar, permitindo uma redução da doença cárie.
- D) A fluorose é um distúrbio de maturação do esmalte em formação, que permanece com uma maior porcentagem de proteínas e menos mineral, sendo um efeito agudo da exposição elevado ao flúor.

**48.** Os traumatismos dentários estão entre as lesões mais prevalentes que acometem a cavidade bucal na infância, e a radiografia é um exame complementar essencial para a avaliação da sua extensão, auxiliando na classificação, no tratamento e no prognóstico. Nos casos em que ocorre luxação intrusiva na região de incisivos superiores decíduos, a técnica radiográfica mais indicada é:

- A) método de Clark
- B) bissetriz
- C) oclusal
- D) lateral de nariz

**49.** Alterações congênitas e de desenvolvimento são muito prevalentes em recém-natos. Cistos superficiais contendo queratina e epitélio escamoso estratificado, localizados na região vestibular dos rodets gengivais, são características:

- A) do cisto da lâmina dentária
- B) das pérolas de Epstein
- C) dos nódulos de Bohn
- D) do cisto de erupção

**50.** De acordo com o Código de Ética Odontológico, constitui infração ética:

- A) Não manter atualizados os prontuários na forma das normas em vigor, incluindo os prontuários digitais.
- B) Apontar falhas nos regulamentos e nas normas das instituições em que trabalhe, mesmo que as julgue indignas para o exercício da profissão.
- C) Propugnar pela harmonia da classe.
- D) Ceder consultório ou laboratório, sem a observância da legislação pertinente.

**51.** Criança, com oito anos de idade, apresenta uma restauração defeituosa extensa no elemento 85, com presença de fistula na mesma região, e com queixa de dor durante a mastigação. Radiograficamente, observa-se reabsorção óssea envolvendo a cripta do elemento permanente sucessor. Frente ao exposto, a conduta correta para o tratamento desse elemento dentário seria:

- A) exodontia
- B) pulpectomia
- C) pulpotomia
- D) antibioticoterapia

**52.** Um dos aspectos mais importantes da orientação do comportamento infantil é o controle da dor, portanto, se a criança possuir experiência de dor durante procedimentos restauradores ou cirúrgicos, seu futuro como paciente odontológico poderá ser prejudicado. Apresenta-se o anestésico local apropriado para o bloqueio do nervo alveolar superior médio e posterior em crianças em:

- A) mepivacaína 2% com epinefrina 1:100.000
- B) mepivacaína 3% sem vasoconstritor
- C) lidocaína a 2% sem vasoconstritor
- D) lidocaína a 2% com epinefrina 1:100.000

**53.** A sequência correta das etapas do desenvolvimento dentário é:

- A) proliferação, iniciação, histodiferenciação, morfodiferenciação, aposição, calcificação
- B) iniciação, proliferação, histodiferenciação, morfodiferenciação, aposição, calcificação
- C) proliferação, iniciação, morfodiferenciação, histodiferenciação, aposição, calcificação
- D) iniciação, proliferação, aposição, morfodiferenciação, histodiferenciação, calcificação

**54.** Os selantes de fósulas e fissuras são efetivos na prevenção da cárie, além de prevenir a progressão de lesões cariosas não cavitadas. Dentre os selantes utilizados, os que possuem maior aplicabilidade clínica pertencem ao grupo do:

- A) policarboxilato
- B) BIS-GMA
- C) ionômero
- D) poliuretano

**55.** Criança com quatro anos de idade apresenta queixa de lesão no lábio inferior, de evolução lenta e com períodos de regressão. Clinicamente, observa-se aspecto bolhoso, em forma de cúpula, superfície lisa e com líquido claro em seu interior, medindo aproximadamente 4 mm.

O diagnóstico e a conduta clínica são, respectivamente:

- A) fibroma traumático; excisão cirúrgica.
- B) mucocele; excisão cirúrgica.
- C) rânula pseudocística; marsupialização.
- D) epúlide congênita; excisão cirúrgica.

**56.** Sobre o Sistema Único de Saúde (SUS), conforme a Lei 8.080, de 19 de setembro de 1990, é correto afirmar:

- A) Compete à direção nacional do SUS estabelecer critérios, parâmetros e métodos para o controle da qualidade sanitária de produtos, substâncias e serviços de consumo e uso humano.
- B) A vigilância epidemiológica também abrange o controle da prestação de serviços que se relacionam direta ou indiretamente com a saúde.
- C) A iniciativa privada não participa do SUS, em nenhuma hipótese.
- D) As ações e serviços de saúde, executados pelo SUS, são organizados de forma regionalizada e em níveis de complexidade decrescente.

**57.** A esfoliação prematura ou mobilidade acentuada nos dentes na infância podem estar associados a algumas desordens sistêmicas. Neste caso, um exemplo de desordem sistêmica é:

- A) displasia cleidocraniana
- B) trissomia do cromossomo 21
- C) hipotireoidismo
- D) hipofosfatemia

**58.** O Tratamento Restaurador Atraumático (TRA) apresenta uma filosofia de mínima intervenção, e é bastante utilizado em pacientes infantis. Diante desta afirmação, está correto afirmar:

- A) O material preconizado para ser utilizado é o Cimento de Ionômero de Vidro (CIV), que tem como base o ácido poliacrílico.
- B) A dentina afetada, não passível de remineralização, é removida e a dentina infectada, que pode ter sua estrutura reorganizada, é mantida.
- C) A técnica atraumática está indicada somente para situações de campo.
- D) Por ser uma técnica bem aceita por crianças, pode ser aplicada em lesões cariosas em estágios mais avançados.

**59.** O Cimento Ionômero de Vidro (CIV) contempla o maior número de requisitos exigidos pela odontologia de mínima intervenção. Sobre este material, pode-se afirmar:

- A) É um material cuja composição consiste de partículas orgânicas de vidro dispersas em uma matriz solúvel de hidrogel.
- B) Após a inserção do material, este deve ser imediatamente protegido com o protetor de superfície para evitar contaminação por umidade proveniente da cavidade bucal.
- C) Os CIVs convencionais apresentam algumas vantagens sobre os CIVs modificados por monômeros resinosos, como maior resistência total e melhor controle sobre a presa do material.
- D) É necessário respeitar a proporção pó/líquido durante a sua manipulação, pois a falta de líquido induz à porosidade, à diminuição da resistência à fratura e ao desgaste.

**60.** A classificação de injúrias dentárias tem como objetivo reconhecer os acometimentos em diferentes partes do dente e das estruturas de suporte. Sendo assim, são consideradas injúrias aos tecidos periodontais e à mucosa oral, respectivamente:

- A) avulsão e subluxação
- B) fratura de processo alveolar da maxila e abrasão
- C) luxação intrusiva e laceração
- D) contusão e concussão

