



**CONCURSO PÚBLICO
PREFEITURA MUNICIPAL DE BOA VISTA
SECRETARIA MUNICIPAL DE ADMINISTRAÇÃO E GESTÃO DE PESSOAS - SMAG**

EDITAL Nº 002/2019-SMAG

CIRURGIÃO DENTISTA PROTESISTA

**Duração: 03h00min (três horas)
Leia atentamente as instruções abaixo:**

01 Você recebeu do fiscal o seguinte material:

a) Este caderno, com 60 (sessenta) questões da Prova Objetiva, sem repetição ou falha, conforme distribuição abaixo:

LÍNGUA PORTUGUESA	ÉTICA NA ADMINISTRAÇÃO PÚBLICA E LEGISLAÇÃO MUNICIPAL	ATUALIDADES	NOÇÕES DE INFORMÁTICA	CONHECIMENTOS ESPECÍFICOS
01 a 10	11 a 30	31 a 35	36 a 40	41 a 60

b) Um Cartão de Respostas destinado às respostas das questões objetivas.

- 02** Verifique se este material está em ordem e se o seu nome e número de inscrição conferem com os que aparecem no Cartão de Respostas. Caso contrário, notifique imediatamente o fiscal.
- 03** Após a conferência, o candidato deverá assinar no espaço próprio do Cartão de Respostas, com caneta esferográfica de tinta na cor azul ou preta.
- 04** No Cartão de Respostas, a marcação da alternativa correta deve ser feita cobrindo a letra correspondente ao número da questão e preenchendo todo o espaço interno, com caneta esferográfica de tinta na cor azul ou preta, de forma contínua e densa.

Exemplo: A B C D

- 05** Para cada uma das questões objetivas, são apresentadas 4 (quatro) alternativas classificadas com as letras (A, B, C e D), mas só uma responde adequadamente à questão proposta. Você só deve assinalar uma alternativa. A marcação em mais de uma alternativa anula a questão, mesmo que uma das respostas esteja correta.
- 06** Somente depois de decorrida 01 (uma) hora do início da prova, o candidato poderá entregar seu Cartão de Respostas, seu Caderno de Questões e retirar-se da sala de prova. O candidato que insistir em sair da sala de prova, descumprindo o aqui disposto, deverá assinar o Termo de Ocorrência declarando sua desistência do Concurso, que será lavrado pelo Coordenador do Local.
- 07** Ao candidato, será permitido levar seu CADERNO DE QUESTÕES faltando no máximo 01 (uma) hora para o término da prova e desde que permaneça em sala até esse momento.
- 08** Não será permitida a cópia de gabarito no local de prova. Ao terminar a prova de Conhecimentos, o candidato entregará, obrigatoriamente, ao fiscal de sala, o seu CARTÃO DE RESPOSTAS e o seu CADERNO DE QUESTÕES, ressalvado o estabelecido no item 7.
- 09** Reserve os 30 (trinta) minutos finais para marcar seu Cartão de Respostas. Os rascunhos e as marcações assinaladas no Caderno de Questões não serão levados em consideração.
- 10** Os 3 (três) últimos candidatos permanecerão sentados até que todos concluem a prova ou que termine o seu tempo de duração, devendo assinar a ata de sala e retirar-se juntos.

LÍNGUA PORTUGUESA

Leia o texto I para responder às questões de 1 a 10.

Texto I

A mobilidade da criança

O que significa a mobilidade para os pequenos habitantes das cidades brasileiras? Para parte deles, o ir e vir está sempre relacionado ao carro. Das janelas dos automóveis, eles enxergam reflexos da cidade, mas não participam dela.

Para a maior parcela, que se locomove a pé e de transporte coletivo, há insegurança, medo e a certeza de que o pedestre é considerado um intruso, um invasor do espaço. Além de aprender que precisa atravessar a rua correndo porque o tempo do semáforo é insuficiente e o pedestre não é respeitado, a criança brasileira se acostuma a caminhar em calçadas muito estreitas e até em ruas sem a presença delas. As décadas de planejamento urbano focado no carro tornaram as ruas um território de guerra – o fato de que o Brasil é o quarto país do mundo em mortes no trânsito fala por si só. Pesquisadores internacionais há tempos discutem os efeitos da “imobilidade” e da violência no trânsito no desenvolvimento físico, cognitivo, motor e social das crianças. Exercer a independência numa cidade segura é fundamental para o crescimento saudável. Nos países em que as crianças andam de bicicleta e a pé com segurança, como na Holanda e na Dinamarca, por exemplo, os acidentes são praticamente inexistentes e a infância é um período de feliz interação na sociedade.

Sobrepeso e falta de luz solar

Segundo a urbanista e arquiteta espanhola Irene Quintáns, os urbanistas usam a presença de crianças no espaço público como indicador de sucesso urbano. “A ausência delas nas ruas aponta as falhas das nossas cidades”, ela diz.

Moradora da capital paulista há sete anos e mãe de dois filhos, Irene acredita que privar os pequenos de caminhar não é positivo. “Uma criança que fica circunscrita à locomoção no carro tende a ficar insegura para se movimentar. Ela também tem mais dificuldade em perceber o outro. Isso se chama empatia e é muito importante para a vida em sociedade. Há ainda a questão do sedentarismo, do sobrepeso e da falta de luz solar. Crianças que caminham para a escola têm mais concentração para desenvolver atividades complexas”.

Mesmo com todas as dificuldades já citadas, é importante usar o transporte público, caminhar e participar da vida na cidade. Na próxima vez que levar seus filhos à escola, reflita: por que ir de carro? Que

tal descobrir a cidade ao lado deles, trocando ideias sobre o que vocês veem? Assim, eles aprendem a ser cidadãos e a viver o coletivo, enquanto exigimos que o poder público priorize a proteção das nossas crianças.

(<https://www.metrojornal.com.br/colunistas/2018/10/11/mobilidade-da-crianca.html>)

1. A temática principal do texto se baseia na relação entre:

- A) mobilidade urbana e infância
- B) hierarquia social e propriedade
- C) acesso a transporte e economia
- D) visibilidade das pessoas e planejamento

2. Uma ideia explicitamente construída sobre o leitor considera que ele:

- A) ignora as desigualdades sociais
- B) transita com crianças pela cidade
- C) trabalha com planejamento geográfico
- D) defende valores do individualismo

3. No segundo parágrafo, o comentário introduzido por travessão expressa, em relação à ideia do parágrafo, uma relação de:

- A) negação
- B) explicação
- C) contradição
- D) comparação

4. No segundo parágrafo, a última frase expressa, em relação à anterior, uma relação de:

- A) contraposição
- B) ponderação
- C) retificação
- D) conclusão

5. “Mesmo com todas as dificuldades já citadas”. O trecho pode ser reescrito da seguinte forma, sem alteração do sentido:

- A) tanto que todas as dificuldades já citadas
- B) apesar de todas as dificuldades já citadas
- C) por causa de todas as dificuldades já citadas
- D) de acordo com todas as dificuldades já citadas

6. “Crianças que caminham para a escola têm mais concentração para desenvolver atividades complexas”. O trecho destacado exerce, no conjunto da frase, a função de introduzir uma:

- A) contradição
- B) enumeração
- C) especificação
- D) consequência

7. No último parágrafo, a forma verbal “priorize” indica ação com valor de:

- A) certeza
- B) hesitação
- C) possibilidade
- D) inviabilidade

8. Na frase “Para a maior parcela, que se locomove a pé e de transporte coletivo, há insegurança, medo e a certeza de que o pedestre é considerado um intruso, um invasor do espaço” (2º parágrafo), o uso da voz passiva provoca o seguinte efeito de sentido:

- A) culpar o governo pelo comportamento
- B) sugerir uma falha de planejamento
- C) propor uma solução alternativa
- D) omitir o responsável pela ação

9. Em “que fica circunscrita à locomoção no carro” (4º parágrafo), a palavra “circunscrita” pode ser substituída, sem prejuízo do sentido original, por:

- A) homogênea
- B) confusa
- C) restrita
- D) aberta

10. Acentuação está corretamente justificada em:

- A) “automóveis” – proparoxítona
- B) “país” – oxítona terminada em “-i(s)”
- C) “saudável” – paroxítona terminada em “-l”
- D) “décadas” – paroxítona terminada em “-a(s)”

ÉTICA NA ADMINISTRAÇÃO PÚBLICA E LEGISLAÇÃO MUNICIPAL

11. Sandra, com quinze anos de idade, pretende adquirir estabilidade financeira com a aprovação em concurso público, sendo certo que completou o ensino fundamental e está cursando o último ano do ensino médio. Nos termos da Lei Complementar nº 3/2012 do município de Boa Vista, um dos requisitos para a investidura em cargo público consiste na idade mínima de:

- A) dezesseis anos
- B) dezessete anos
- C) dezoito anos
- D) dezenove anos

12. Pepe resolve estudar para ser aprovado em concurso para ingresso na autarquia municipal W. Nos termos da Lei Complementar nº 3/2012 do município de Boa Vista, a competência para prover os cargos em autarquias seria do seu:

- A) dirigente máximo
- B) diretor de pessoal
- C) gerente regional
- D) coordenador de recursos humanos

13. Sócrates é arquiteto e servidor efetivo do município B, sendo convidado para ocupar, interinamente, cargo em comissão em secretaria municipal. Nos termos da Lei Complementar nº 3/2012 do município de Boa Vista, quando exercido interinamente, o cargo em comissão demanda:

- A) designação
- B) nomeação
- C) indicação
- D) colocação

14. Jervásio foi aprovado em concurso público para o cargo de professor municipal, tendo ocorrido a homologação do certame em 2017. Nos termos da Lei Complementar nº 3/2012 do município de Boa Vista, a prorrogação da validade do concurso poderá ocorrer:

- A) duas vezes
- B) uma única vez
- C) sem prazo
- D) condicionalmente

15. Januário foi instado a realizar exames médicos para comprovar o seu estado de saúde com o objetivo de formalizar os atos finais inerentes a concurso público. Nos termos da Lei Complementar nº 3/2012 do município de Boa Vista, a posse em cargo público depende de prévia inspeção:

- A) hospitalar pública
- B) salutar privada
- C) médica oficial
- D) fisiológica ideal

16. Ernestino é servidor municipal, ocupando cargo de nível superior e, após os trâmites legais, é promovido. Nos termos da Lei Complementar nº 3/2012 do município de Boa Vista, a promoção não interrompe o tempo de exercício, que é contado no novo posicionamento na carreira a partir da data da:

- A) assinatura do ato
- B) publicação do ato
- C) aceitação do ato
- D) resolução do ato

17. Jobinho é servidor municipal e logrou a obtenção de aposentadoria voluntária por ter cumprido os requisitos normativos exigidos. Posteriormente, requereu o retorno ao serviço público municipal. Nos termos da Lei Complementar nº 3/2012 do município de Boa Vista, esse retorno não poderá amparar o servidor que já tiver completado:

- A) sessenta anos de idade
- B) sessenta e dois anos de idade
- C) sessenta e cinco anos de idade
- D) setenta anos de idade

18. Creso é servidor municipal e foi colocado em disponibilidade pelo período de três anos. Após o término do prazo, requereu o seu retorno ao serviço público, sendo comunicado da extinção do órgão onde prestava serviço. Nos termos da Lei Complementar nº 3/2012 do município de Boa Vista, o servidor posto em disponibilidade poderá ser mantido sob responsabilidade da Secretaria Municipal de:

- A) Administração
- B) Fazenda
- C) Governo
- D) Educação

19. Afonso Pena, servidor ocupante de cargo efetivo no município TX, foi convidado para chefiar o setor de Recursos Humanos da Secretaria Municipal de Saúde. Nos termos da Lei Complementar nº 3/2012 do município de Boa Vista, ao ocupante de função de chefia é cabível, pelo seu devido exercício, o pagamento de:

- A) gratificação
- B) retribuição
- C) adicional
- D) diárias

20. Venceslau é engenheiro e foi aprovado em concurso público para ocupar cargo no município ZZ. Para cumprir projeto patrocinado pelo governo federal, passa a atuar em laboratório submetido ao contato com substâncias radioativas. Esse contato ocorre a cada dois meses. Diante disso, requer pagamento de adicional de insalubridade. Nos termos da Lei Complementar nº 3/2012 do município de Boa Vista, **NÃO** haverá pagamento do adicional quando a exposição aos agentes nocivos ocorrer de forma:

- A) assídua
- B) geral
- C) ocasional
- D) conveniada

21. Adiel, servidor público, procura melhorias na sua carreira e remuneração. Nos termos da Lei nº 1.611 do município de Boa Vista, corresponde ao crescimento na mesma classe ou categoria profissional, com mudança para o próximo padrão de vencimento, a:

- A) projeção
- B) progressão
- C) remoção
- D) transposição

22. Tércio concluiu o ensino médio e pretende realizar concurso público. Nos termos da Lei nº 1.611 do município de Boa Vista, o cargo em que o requisito mínimo é o ensino médio corresponde ao cargo de:

- A) assistente
- B) auxiliar
- C) assessor
- D) atendente

23. Sueli é professora com mestrado em Educação e atua no ensino de crianças com necessidades especiais. Nos termos da Lei nº 1.611 do município de Boa Vista, a jornada de trabalho do professor deve corresponder a:

- A) vinte horas semanais
- B) vinte e cinco horas semanais
- C) trinta horas semanais
- D) quarenta horas semanais

24. Maxuell foi reenquadrado em novo plano de carreira aprovado por lei municipal que reorganizou a carreira à qual pertence. Nos termos da Lei nº 712 do município de Boa Vista, após o enquadramento dos servidores, nenhuma nomeação para cargo efetivo poderá ser efetuada senão na referência inicial de cada categoria funcional, vinculada à respectiva especialidade e condicionada à aprovação e habilitação em:

- A) concurso público
- B) seleção pública
- C) chamada pública
- D) processo público

25. Eleutério é servidor municipal e pretende requerer o parcelamento de suas férias. Nos termos da Lei Complementar nº 3/2012 do município de Boa Vista, as férias podem ser parceladas em até:

- A) duas etapas
- B) três etapas
- C) quatro etapas
- D) cinco etapas

26. Epaminondas está com seu enteado Elesbão com problemas de saúde. Diante disso, requer afastamento do serviço público municipal onde exerce o cargo de professor. Nos termos da Lei Complementar nº 3/2012 do município de Boa Vista, nesses casos, o servidor terá direito a licença não remunerada de:

- A) noventa dias
- B) cem dias
- C) cento e vinte dias
- D) cento e cinquenta dias

27. Amadeu pretende candidatar-se a cargo eletivo, tendo apresentado requerimento de registro perante a Justiça eleitoral vinculado ao partido político Asa. Nos termos da Lei Complementar nº 3/2012 do município de Boa Vista, o servidor terá direito a licença, sem remuneração, durante o período que deve ter início com a sua escolha em:

- A) comitê eleitoral
- B) assembleia geral
- C) convenção partidária
- D) votação regional

28. Ricardo Adriano é candidato à presidência do sindicato dos servidores do município TWZ. Após sua eleição, requer o afastamento do serviço para atuar exclusivamente nas funções sindicais. O sindicato possui dez mil associados. Nos termos da Lei Complementar nº 3/2012 do município de Boa Vista, é assegurado ao servidor o direito à licença com remuneração para o desempenho de mandato no sindicato representativo da categoria, limitado, no caso presente, a no máximo:

- A) dois servidores
- B) três servidores
- C) quatro servidores
- D) cinco servidores

29. Holmes atua no setor de licitações da empresa municipal CT do município VV. Cioso de suas responsabilidades, fiscaliza o cumprimento do princípio da publicidade dos atos administrativos. É consentâneo com os instrumentos normativos pátrios que regulam a ética no serviço público que a omissão quanto à publicidade ofende o:

- A) bem comum
- B) solidarismo
- C) patriotismo
- D) corporativismo

30. Winston é servidor público e não está adaptado ao órgão onde foi lotado, realizando repetidos erros e desvios de função. É consentâneo com os instrumentos normativos pátrios que regulam a ética no serviço público que essas atitudes caracterizam, quanto ao desempenho da função pública:

- A) rebeldia
- B) imprudência
- C) mal-estar
- D) descortesia

ATUALIDADES

31. Em novembro de 2019, os jornais noticiaram que, em 2018, 13,5 milhões de brasileiros viveram com uma renda per capita mensal inferior a R\$ 145,00 reais, um recorde de crescimento da população em situação de extrema pobreza, pois foi o maior índice encontrado nos últimos sete anos. A notícia revelou que vem ocorrendo no país um evidente aumento:

- A) do desenvolvimento econômico
- B) da igualdade econômica
- C) da desigualdade social
- D) do estamento social

32. Artigos de jornais, publicados em novembro de 2019, demonstraram que as possibilidades de contingenciamento e de corte de recursos nas áreas da educação, ciência e tecnologia preocupou estudiosos, cientistas e congressistas do país, por considerarem que a redução acentuada de investimento em educação e pesquisa nos tempos atuais poderá se transformar, no futuro, em um fator que:

- A) garantirá o aumento da riqueza nacional
- B) limitará o desenvolvimento econômico do país
- C) estabilizará o crescimento produtivo regional
- D) fortalecerá a competitividade comercial no país

33. No segundo semestre de 2019, os noticiários analisaram o grande desastre ecológico que ocorreu no litoral do país, e avaliaram que as dimensões de danos foram intensas, causando uma degradação no meio ambiente que poderá permanecer por décadas. A contaminação ambiental foi grave por se tratar de toneladas de:

- A) óleo com efeitos tóxicos
- B) rejeitos de minério de ferro
- C) mercúrio e metais pesados
- D) cinzas ácidas das queimadas

34. Especialistas em saúde pública afirmam que o uso excessivo de agrotóxicos na produção nacional de alimentos pode afetar a saúde da população, provocando problemas respiratórios, impotência, depressão, aborto, câncer, entre outros danos à saúde.

Como precaução ao problema, os estudiosos recomendam que a população se alimente de produtos produzidos pela:

- A) silvicultura
- B) agroecologia
- C) aquicultura
- D) agroindústria

35. As metas de Desenvolvimento Sustentável da Organização das Nações Unidas destacam a necessidade de aumentar a participação de energias renováveis na matriz energética global. O Brasil tem avançado, em maior proporção, na geração de um tipo de energia elétrica sustentável que apresenta menor risco de ocorrência de danos e desastres ambientais.

Trata-se da produção de energia:

- A) solar
- B) nuclear
- C) eólica
- D) hidrelétrica

NOÇÕES DE INFORMÁTICA


36. No que diz respeito aos conceitos da internet, pode-se afirmar que:

- I. um termo tem por significado baixar ou transferir dados de uma página para o computador de um usuário, como no caso de um edital em formato PDF, referente a um concurso público;
- II. uma sigla tem por significado o endereço *web* que se digita na barra de endereços de um *browser* para se chegar a um *site*, como por exemplo <https://www.google.com.br/>.

O termo e a sigla são, respectivamente:

- A) *download* e DNS
- B) *download* e URL
- C) *upload* e DNS
- D) *upload* e URL

37. Na Área de Notificação do Windows 10 BR, localizada no canto inferior direito da tela do monitor de um *notebook*, há um ícone que serve para o usuário verificar o *status* da conexão *wifi* à internet. Esse ícone é:



38. A planilha a seguir foi criada no Excel 2019 BR, em que foram realizados os procedimentos descritos a seguir.

- Em F12, foi inserida a expressão =MED(A11:A15).
- Em F14, foi inserida a expressão =MOD(F12;2).

	A	B	C	D	E	F
1						
2						
3						
4						
5						
6						
7						
8						
9	CIDADE DE BOA VISTA - RR					
10						
11		23				
12		15			MEDIANA =	?
13		10				
14		13			MOD =	?
15		19				





Nessas condições, os valores mostrados em F12 e em F14 são, respectivamente:

- A) 15 e 0
- B) 15 e 1
- C) 16 e 0
- D) 16 e 1

39. No Word 2019 BR, dois recursos devem ser empregados com as seguintes finalidades:

- I. um atalho de teclado destina-se a converter uma frase ou palavra selecionada em minúsculas para maiúsculas e vice-versa;
- II. um ícone deve ser acionado por meio do *mouse* para aplicar sombreamento, ou seja, mudar a cor atrás do texto, parágrafo ou célula de tabela selecionada.

O atalho de teclado e o ícone são, respectivamente:

- A) Ctrl + F3 e 
- B) Ctrl + F3 e 
- C) Shift + F3 e 
- D) Shift + F3 e 

40. A planilha a seguir foi criada no Excel 2019 BR. Para contabilizar a quantidade de atendimentos nas células D27, D28 e D29, foi empregada a função SOMASE, usando o conceito de referência absoluta. Para finalizar, foi inserida em D30 uma expressão que adiciona os valores de D27, D28 e D29.

	A	B	C	D
4				
5				
6				
7				
8				
9				
10				
11	MÊS	ESPECIALIDADE	COLABORADOR	QUANTIDADE
12	1	RESSONÂNCIA	João	123
13		TOMOGRAFIA	Juliana	98
14		TOMOGRAFIA	Juliana	23
15		PEDIATRIA	Feitosa	131
16	2	RESSONÂNCIA	João	56
17		RESSONÂNCIA	João	73
18		TOMOGRAFIA	Juliana	89
19	3	PEDIATRIA	Feitosa	53
20		RESSONÂNCIA	João	48
21		TOMOGRAFIA	Juliana	80
22		PEDIATRIA	Feitosa	76
23		PEDIATRIA	Feitosa	70
24	TOTAL =			920
25				
26	RESUMO			
27	RESSONÂNCIA			300
28	TOMOGRAFIA			290
29	PEDIATRIA			330
30	TOTAL =			920

As expressões inseridas em D29 e em D30 foram, respectivamente:

- A) =SOMASE(&B&12:&B&23;B29;&D&12:&D&23)
e =SOMA(D27:D29)
- B) =SOMASE(&B&12:&B&23;B29;&D&12:&D&23)
e =SOMA(D27;D29)
- C) =SOMASE(\$B\$12:\$B\$23;B29;\$D\$12:\$D\$23)
e =SOMA(D27:D29)
- D) =SOMASE(\$B\$12:\$B\$23;B29;\$D\$12:\$D\$23)
e =SOMA(D27;D29)

CONHECIMENTOS ESPECÍFICOS

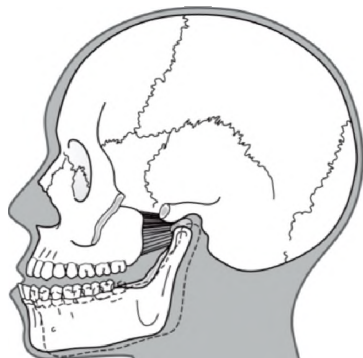
41. A articulação temporomandibular (ATM) é uma das articulações mais complexas do corpo. Ela proporciona um movimento de dobradiça em um plano; ao mesmo tempo, também pode proporcionar movimentos de deslizamento.

A partir dessa afirmativa, pode-se classificar a ATM como uma articulação:

- A) gínglimoartrodial
- B) temporozigomática
- C) coronalis
- D) sphenoardrodial

42. Os músculos da mastigação são compostos por quatro pares de músculos.

Analisar a figura abaixo:



OKESON, JP. Tratamento das desordens Temporomandibulares e Oclusão

A figura representa, respectivamente, o seguinte músculo e sua função correta:

- A) digástrico, que tem função de abaixamento mandibular
- B) pterigóideo Lateral, que tem função de protusão mandibular
- C) pterigóideo Medial, que tem função de elevação mandibular
- D) masséter, que tem função de lateralidade mandibular

43. As chaves digitais 0,9 mm e 1,2 mm são utilizadas respectivamente na confecção da prótese sobre implantes quando se tem:

- A) parafuso quadrado e minipilar
- B) cover screw e tapa implante
- C) minipilar e cover screw
- D) tapa implante e cicatrizador

44. Em relação à origem e inserção dos músculos da mastigação, pode-se afirmar que:

- A) o masséter tem origem no processo zigomático da maxila e os dois terços anteriores da borda inferior do arco zigomático, e a inserção é no ângulo e na metade inferior da superfície lateral do ramo da mandíbula
- B) o temporal tem origem na depressão no lado interno do bordo inferior da mandíbula, perto da sínfise, e a inserção é no tendão que passa através de uma roldana tendinosa ligada ao osso hioide
- C) o pterigoide lateral tem origem no aspecto lateral do crânio em toda a extensão da linha temporal superior, e a inserção é na borda anterior do processo coronoide e na borda anterior do ramo da mandíbula
- D) o pterigoide medial tem origem na superfície lateral da lâmina lateral do pterigoide, e a inserção é no colo do côndilo mandibular

45. Considerando os determinantes verticais da morfologia oclusal, ou seja, altura das cúspides e profundidade das fossas, pode-se afirmar que:

- A) em relação à guia anterior, quanto mais paralelo à guia condilar mais curtas as cúspides posteriores
- B) em relação ao plano oclusal, quanto mais inclinado mais altas as cúspides posteriores
- C) em relação à curva de Spee, quanto mais acentuada a curva mais curtas serão as cúspides posteriores
- D) em relação à guia condilar, quanto mais superior o movimento de rotação do côndilo mais altas as cúspides posteriores

46. O Código de Ética Odontológica regula os direitos e deveres do cirurgião-dentista, profissionais técnicos e auxiliares e pessoas jurídicas que exerçam atividades na área da Odontologia, em âmbito público e/ou privado, com a obrigação de inscrição nos Conselhos de Odontologia, segundo suas atribuições específicas. **NÃO** constitui infração ética em relação à documentação odontológica:

- A) receber ou dar gratificação por encaminhamento de paciente
- B) deixar de emitir laudo dos exames por imagens realizados em clínicas de radiologia
- C) comercializar atestados odontológicos, recibos, notas fiscais, ou prescrições de especialidades farmacêuticas
- D) usar formulários de instituições públicas para prescrever, encaminhar ou atestar fatos verificados na clínica privada

47. Dentes com tratamento endodôntico têm sua resistência diminuída e estão mais propensos a sofrer fratura em virtude da perda de estrutura dentária causada pelo acesso aos condutos durante o preparo, somado à perda de estrutura coronal, especialmente das cristas marginais. A análise do remanescente coronal após seu preparo é muito importante: o remanescente melhora a forma de retenção e de resistência do preparo e diminui as tensões que se formam na interface dente/cimento/pino, pois atua como um absorvedor de tensões provenientes das forças que atuam sobre a coroa, diminuindo, portanto, a possibilidade de descimentação do pino. O núcleo metálico fundido é uma indicação para casos de grande destruição coronal.

Em relação a esses núcleos, deve-se considerar corretamente que:

- A) as paredes da coroa preparada devem apresentar uma base de sustentação para o núcleo com espessura mínima de 1 mm; quando não existe estrutura coronal suficiente para propiciar essa base de sustentação, as forças que incidem sobre o núcleo são direcionadas no sentido oblíquo, tornando a raiz mais suscetível a sofrer fratura
- B) quando não existe estrutura coronal suficiente para propiciar uma base de sustentação, deve-se preparar uma pequena caixa no interior da raiz com aproximadamente 4 mm de profundidade para criar uma base de sustentação para o núcleo e assim direcionar as forças predominantemente no sentido oblíquo
- C) o comprimento ideal do núcleo equivale a um terço do remanescente dentário ou à metade do suporte ósseo que envolve a raiz; um núcleo longo favorece a concentração de estresse em determinadas áreas, causando a fratura da raiz
- D) os núcleos intrarradiculares com paredes inclinadas apresentam maior retenção que os de paredes paralelas, também desenvolvem grande concentração de esforços em suas paredes circundantes, o que pode gerar um efeito de cunha e, conseqüentemente, desenvolver fraturas ao seu redor

48. A moldagem representa um meio importante de comunicação com o laboratório, permitindo que a reprodução das estruturas dentogengivais envolvidas na reabilitação protética seja transmitida em negativo. Em relação a este tema, pode-se afirmar que:

- A) na moldagem com dois fios, a inserção do primeiro fio promove o afastamento horizontal do tecido gengival e a inserção de um fio de maior calibre, o segundo fio, promovendo o afastamento vertical do tecido gengival
- B) o poliéter tem como subproduto o álcool etílico que, após evaporar, confere ao material maior alteração dimensional
- C) na técnica do reembasamento, os materiais pesado e leve são manipulados e usados simultaneamente
- D) o afastamento com casquete é feito de forma mecânica, sendo responsável por afastar o tecido gengival e atuar como uma moldeira individual unitária

49. Em relação aos meios de afastamento gengival, é correto afirmar:

- A) os meios químicos surgiram em 1960 com os afastamentos utilizando guta-percha e anéis de cobre
- B) os meios cirúrgicos utilizam adstringentes do tipo cloreto de alumínio a 25% para evitar resíduos e manchas
- C) os meios mecânicos e químicos utilizam fios e substâncias embebidos em soluções químicas que propiciam a vasoconstrição, promovendo o controle do fluido gengival e hemostasia temporária
- D) os meios químicos utilizam casquetes em resina e fios retratores e são considerados os melhores métodos de afastamento gengival, promovendo vasoconstrição e facilitando muito a moldagem

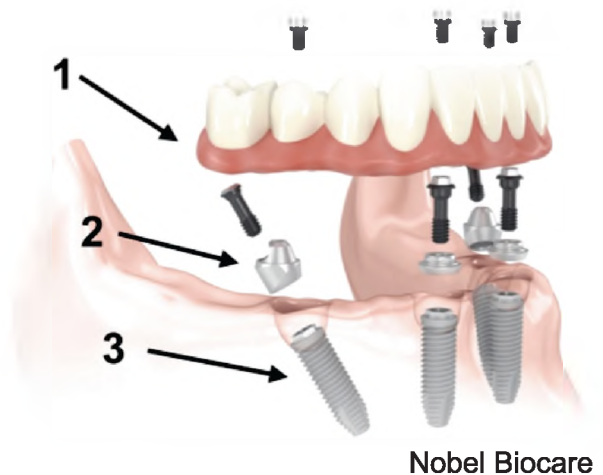
50. O uso de próteses totais pode levar a alterações nos tecidos de suporte e nos demais tecidos que as circundam. Essas patologias podem trazer dificuldades na execução de novas próteses. O protesista precisa avaliar o paciente e compreender seus mecanismos de formação para devolver a situação de normalidade aos tecidos atingidos. O tratamento que **NÃO** deve ser indicado para o paciente edentado é:

- A) indicar a manutenção da prótese total antiga para pacientes com candidíase nas comissuras labiais, do tipo queilite angular; para a melhora do quadro, é de fundamental importância que a prótese esteja com as dimensões verticais diminuídas
- B) desgastar a porção sobreestendida da base da prótese ou fazer a correção das discrepâncias oclusais quando surgirem úlceras do tipo hiperplasia fibrosa inflamatória após a instalação de uma prótese total
- C) em pacientes com candidíase eritematosa, o protesista deve adaptar, regularizar e polir a superfície interna da prótese que entra em contato com a mucosa, orientar o paciente a melhorar a higienização da prótese
- D) em pacientes usuários de prótese total que desenvolvem resposta inflamatória no palato e lesões do tipo candidíase atrófica crônica com superfície papilomatosa, a indicação de tratamento é remoção cirúrgica, através de mucoabrasão

51. Em relação à saliva na reabilitação com prótese total, é correto afirmar:

- A) uma saliva mais fluida gera uma película bem fina, o que aumenta o efeito de capilaridade entre a base da prótese e a mucosa, diminuído assim a sua retenção
- B) a secreção diária de saliva atinge entre 800 a 1500 ml e um aumento ou diminuição nesses níveis pode trazer sérias dificuldades para o uso da prótese
- C) a saliva é composta por dois tipos de secreção, sendo a serosa mais viscosa e responsável pela lubrificação e a secreção mucosa, que é fina e aquosa e contém ptialina
- D) o fluxo salivar aumenta consideravelmente em pacientes que usam medicamentos do tipo ansiolíticos, o que aumenta a retenção das próteses

52. Observe a figura abaixo:



- 1. Prótese tipo Protocolo Branemark;
- 2. Componente intermediário - mini pilar angulado;
- 3. Implante instalado de forma angulada.

Demonstra-se o objetivo na inclinação na posição dos implantes, em:

- A) diminuir o cantilever distal da barra do protocolo (método *all-on-four*), sendo essa inclinação para desviar do nervo alveolar inferior na altura do forame mental
- B) facilitar a etapa cirúrgica pela instalação de implantes inclinados, não necessitando de guia cirúrgico
- C) facilitar a etapa protética pela emergência do parafuso estar mais distalizado
- D) resistir mais às forças oclusais, já que os implantes foram instalados de forma inclinada

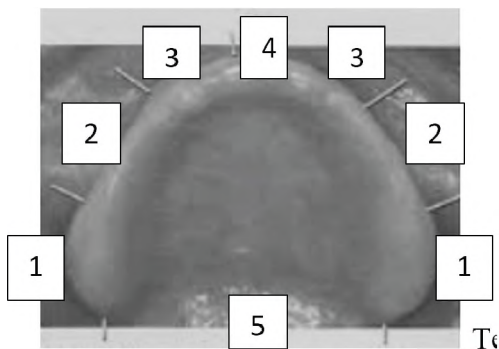
53. A articulação temporomandibular (ATM) é dividida em duas cavidades distintas. A cavidade superior é delimitada pela fossa mandibular e pela superfície superior do disco articular. A cavidade inferior é delimitada pelo côndilo mandibular e pela superfície inferior do disco. O líquido sinovial preenche as duas cavidades e lubrifica as superfícies articulares por meio de dois mecanismos, a saber:

- A) lubrificação remodeladora e aleatória
- B) lubrificação alternativa e excessiva
- C) lubrificação seletiva e exaustiva
- D) lubrificação divisória e exsudativa

54. Os materiais mais utilizados para a moldagem anatômica dos edentados são o alginato, a godiva e o silicone. Em relação à desinfecção desses materiais de moldagem, pode-se afirmar:

- A) A desinfecção de moldes de godiva, previamente ao vazamento do gesso, pode ser obtida imergindo-se o molde em uma solução de glutaraldeído a 10% por 2 minutos.
- B) A desinfecção de moldes de alginato, previamente ao vazamento do gesso, pode ser obtida borrifando hipoclorito de sódio a 2% e mantendo-os em um recipiente fechado por 1 minuto.
- C) A desinfecção de moldes de silicone, previamente ao vazamento do gesso, pode ser obtida imergindo-se o molde em uma solução de hipoclorito de sódio a 1% ou glutaraldeído 2% por 10 minutos.
- D) A desinfecção de moldes de godiva e alginato previamente ao vazamento do gesso pode ser obtida borrifando uma solução de glutaraldeído a 15% por 1 minuto.

55. Observe a imagem a seguir das regiões do rebordo superior:



(Telles, D. Prótese Total Convencional e sobre Implantes)

Está correta a correspondência da delimitação funcional para base da prótese superior na seguinte alternativa:

- A) região nº5 – espaço coronomaxilar
- B) região nº4 – chanfradura do masséter
- C) região nº3 – fossas retroalveolares
- D) região nº2 – fundo de vestibulo bucal

56. Na classificação de House, o palato mole é classificado de acordo com o ângulo que forma na junção com o palato duro. A afirmativa que corresponde a essa classificação é:

- A) Classe I indica um palato mole horizontal com a porção distal mais próxima à parede posterior da faringe; apresenta pouca atividade muscular; geralmente associada a uma concavidade platina mais rasa, é o tipo de palato mais favorável
- B) Classe II indica um palato mole que forma um ângulo com o palato duro de aproximadamente 110°, com a porção distal mais próxima da parede anterior da faringe; exige grande elevação da musculatura para obliterar a comunicação da oro com a nasofaringe
- C) Classe III indica um palato mole que forma um ângulo com o palato duro de 135°, com a porção distal equidistante das paredes anterior e posterior da faringe; o término da prótese fica localizado 2 a 5 mm da junção dos palatos duro e mole
- D) Classe IV indica um palato mole que forma um ângulo com o palato duro de 90°, com a porção distal das paredes anterior e posterior da faringe; apresenta alta atividade muscular; é o tipo de palato mais desfavorável

57. Avalie a imagem abaixo:



TODESCAN, R. Atlas de Prótese Parcial Removível

De acordo com a classificação de Kennedy, a imagem corresponde a:

- A) Classe I
- B) Classe II
- C) Classe III
- D) Classe IV

58. Uma prótese fixa não terá uma longevidade satisfatória se o dente preparado não apresentar condições mecânicas de mantê-la em posição, se o desgaste for exagerado e alterar a biologia pulpar, se o término cervical for levado muito subgingivalmente, quebrando a homeostasia da área e se a estética for prejudicada por um desgaste inadequado. Os preparos devem atender aos três princípios fundamentais: mecânicos, biológicos e estéticos.

Em relação aos princípios mecânicos, pode-se afirmar:

- A) quanto mais paralelas forem as paredes axiais do dente preparado, maior será a retenção friccional da restauração
- B) a diminuição exagerada da retenção friccional dificulta a cimentação da restauração pela resistência ao escoamento do cimento, impedindo o seu assentamento final e, conseqüentemente, causando o desajuste oclusal e cervical da restauração
- C) a retenção friccional da restauração e a ação do agente cimentante são capazes de manter a restauração em posição, garantindo a longevidade do trabalho
- D) quanto maior for a coroa clínica de um dente preparado, maior será a superfície de contato e a retenção final, com dentes longos, pode-se diminuir a inclinação das paredes para um maior ângulo de convergência oclusal sem prejuízo da retenção

59. São informações relativas à classificação protética PF-2 de Misch:

- A) prótese fixa com dente alongado no sentido mesiodistal
- B) prótese fixa com dente alongado no sentido cervicoincisal
- C) prótese do tipo protocolo de Branemark
- D) prótese do tipo *overdenture*

60. Observe a panorâmica de um paciente edêntulo total.



RR Imagens

Caracteriza-se a reabilitação apresentada na imagem, no que concerne à prótese, conexão e implante utilizados como:

- A) protocolo de Branemark superior e inferior; plataforma Butt Joint; implantes convencionais associados a implantes zigomáticos
- B) *overdenture* superior e protocolo de Branemark inferior; plataforma Butt Joint; implantes convencionais
- C) protocolo de Branemark superior e inferior; plataforma Switching; implantes convencionais associados a implantes zigomáticos
- D) *overdenture* inferior e protocolo de Branemark superior; plataforma Butt Joint; implantes convencionais

