



**CONCURSO PÚBLICO  
PREFEITURA MUNICIPAL DE BOA VISTA  
SECRETARIA MUNICIPAL DE ADMINISTRAÇÃO E GESTÃO DE PESSOAS - SMAG**

**EDITAL Nº 002/2019-SMAG**

**MÉDICO CIRURGIÃO CABEÇA E PESCOÇO**

**Duração: 03h00min (três horas)  
Leia atentamente as instruções abaixo:**

**01** Você recebeu do fiscal o seguinte material:

**a)** Este caderno, com 60 (sessenta) questões da Prova Objetiva, sem repetição ou falha, conforme distribuição abaixo:

LÍNGUA PORTUGUESA	ÉTICA NA ADMINISTRAÇÃO PÚBLICA E LEGISLAÇÃO MUNICIPAL	ATUALIDADES	NOÇÕES DE INFORMÁTICA	CONHECIMENTOS ESPECÍFICOS
01 a 10	11 a 30	31 a 35	36 a 40	41 a 60

**b)** Um Cartão de Respostas destinado às respostas das questões objetivas.

- 02** Verifique se este material está em ordem e se o seu nome e número de inscrição conferem com os que aparecem no Cartão de Respostas. Caso contrário, notifique imediatamente o fiscal.
- 03** Após a conferência, o candidato deverá assinar no espaço próprio do Cartão de Respostas, com caneta esferográfica de tinta na cor azul ou preta.
- 04** No Cartão de Respostas, a marcação da alternativa correta deve ser feita cobrindo a letra correspondente ao número da questão e preenchendo todo o espaço interno, com caneta esferográfica de tinta na cor azul ou preta, de forma contínua e densa.

**Exemplo:**  A  B  C  D

- 05** Para cada uma das questões objetivas, são apresentadas 4 (quatro) alternativas classificadas com as letras (A, B, C e D), mas só uma responde adequadamente à questão proposta. Você só deve assinalar uma alternativa. A marcação em mais de uma alternativa anula a questão, mesmo que uma das respostas esteja correta.
- 06** Somente depois de decorrida 01 (uma) hora do início da prova, o candidato poderá entregar seu Cartão de Respostas, seu Caderno de Questões e retirar-se da sala de prova. O candidato que insistir em sair da sala de prova, descumprindo o aqui disposto, deverá assinar o Termo de Ocorrência declarando sua desistência do Concurso, que será lavrado pelo Coordenador do Local.
- 07** Ao candidato, será permitido levar seu CADERNO DE QUESTÕES faltando no máximo 01 (uma) hora para o término da prova e desde que permaneça em sala até esse momento.
- 08** Não será permitida a cópia de gabarito no local de prova. Ao terminar a prova de Conhecimentos, o candidato entregará, obrigatoriamente, ao fiscal de sala, o seu CARTÃO DE RESPOSTAS e o seu CADERNO DE QUESTÕES, ressalvado o estabelecido no item 7.
- 09** Reserve os 30 (trinta) minutos finais para marcar seu Cartão de Respostas. Os rascunhos e as marcações assinaladas no Caderno de Questões não serão levados em consideração.
- 10** Os 3 (três) últimos candidatos permanecerão sentados até que todos concluem a prova ou que termine o seu tempo de duração, devendo assinar a ata de sala e retirar-se juntos.

## LÍNGUA PORTUGUESA

Leia o texto I para responder às questões de 1 a 10.

Texto I

### A mobilidade da criança

O que significa a mobilidade para os pequenos habitantes das cidades brasileiras? Para parte deles, o ir e vir está sempre relacionado ao carro. Das janelas dos automóveis, eles enxergam reflexos da cidade, mas não participam dela.

Para a maior parcela, que se locomove a pé e de transporte coletivo, há insegurança, medo e a certeza de que o pedestre é considerado um intruso, um invasor do espaço. Além de aprender que precisa atravessar a rua correndo porque o tempo do semáforo é insuficiente e o pedestre não é respeitado, a criança brasileira se acostuma a caminhar em calçadas muito estreitas e até em ruas sem a presença delas. As décadas de planejamento urbano focado no carro tornaram as ruas um território de guerra – o fato de que o Brasil é o quarto país do mundo em mortes no trânsito fala por si só. Pesquisadores internacionais há tempos discutem os efeitos da “imobilidade” e da violência no trânsito no desenvolvimento físico, cognitivo, motor e social das crianças. Exercer a independência numa cidade segura é fundamental para o crescimento saudável. Nos países em que as crianças andam de bicicleta e a pé com segurança, como na Holanda e na Dinamarca, por exemplo, os acidentes são praticamente inexistentes e a infância é um período de feliz interação na sociedade.

#### *Sobrepeso e falta de luz solar*

Segundo a urbanista e arquiteta espanhola Irene Quintáns, os urbanistas usam a presença de crianças no espaço público como indicador de sucesso urbano. “A ausência delas nas ruas aponta as falhas das nossas cidades”, ela diz.

Moradora da capital paulista há sete anos e mãe de dois filhos, Irene acredita que privar os pequenos de caminhar não é positivo. “Uma criança que fica circunscrita à locomoção no carro tende a ficar insegura para se movimentar. Ela também tem mais dificuldade em perceber o outro. Isso se chama empatia e é muito importante para a vida em sociedade. Há ainda a questão do sedentarismo, do sobrepeso e da falta de luz solar. Crianças que caminham para a escola têm mais concentração para desenvolver atividades complexas”.

Mesmo com todas as dificuldades já citadas, é importante usar o transporte público, caminhar e participar da vida na cidade. Na próxima vez que levar seus filhos à escola, reflita: por que ir de carro? Que

tal descobrir a cidade ao lado deles, trocando ideias sobre o que vocês veem? Assim, eles aprendem a ser cidadãos e a viver o coletivo, enquanto exigimos que o poder público priorize a proteção das nossas crianças.

(<https://www.metrojornal.com.br/colunistas/2018/10/11/mobilidade-da-crianca.html>)

**1.** A temática principal do texto se baseia na relação entre:

- A) mobilidade urbana e infância
- B) hierarquia social e propriedade
- C) acesso a transporte e economia
- D) visibilidade das pessoas e planejamento

**2.** Uma ideia explicitamente construída sobre o leitor considera que ele:

- A) ignora as desigualdades sociais
- B) transita com crianças pela cidade
- C) trabalha com planejamento geográfico
- D) defende valores do individualismo

**3.** No segundo parágrafo, o comentário introduzido por travessão expressa, em relação à ideia do parágrafo, uma relação de:

- A) negação
- B) explicação
- C) contradição
- D) comparação

**4.** No segundo parágrafo, a última frase expressa, em relação à anterior, uma relação de:

- A) contraposição
- B) ponderação
- C) retificação
- D) conclusão

**5.** “Mesmo com todas as dificuldades já citadas”. O trecho pode ser reescrito da seguinte forma, sem alteração do sentido:

- A) tanto que todas as dificuldades já citadas
- B) apesar de todas as dificuldades já citadas
- C) por causa de todas as dificuldades já citadas
- D) de acordo com todas as dificuldades já citadas

**6.** “Crianças que caminham para a escola têm mais concentração para desenvolver atividades complexas”. O trecho destacado exerce, no conjunto da frase, a função de introduzir uma:

- A) contradição
- B) enumeração
- C) especificação
- D) consequência

**7.** No último parágrafo, a forma verbal “priorize” indica ação com valor de:

- A) certeza
- B) hesitação
- C) possibilidade
- D) inviabilidade

**8.** Na frase “Para a maior parcela, que se locomove a pé e de transporte coletivo, há insegurança, medo e a certeza de que o pedestre é considerado um intruso, um invasor do espaço” (2º parágrafo), o uso da voz passiva provoca o seguinte efeito de sentido:

- A) culpar o governo pelo comportamento
- B) sugerir uma falha de planejamento
- C) propor uma solução alternativa
- D) omitir o responsável pela ação

**9.** Em “que fica circunscrita à locomoção no carro” (4º parágrafo), a palavra “circunscrita” pode ser substituída, sem prejuízo do sentido original, por:

- A) homogênea
- B) confusa
- C) restrita
- D) aberta

**10.** Acentuação está corretamente justificada em:

- A) “automóveis” – proparoxítona
- B) “país” – oxítona terminada em “-i(s)”
- C) “saudável” – paroxítona terminada em “-l”
- D) “décadas” – paroxítona terminada em “-a(s)”

## ÉTICA NA ADMINISTRAÇÃO PÚBLICA E LEGISLAÇÃO MUNICIPAL

**11.** Sandra, com quinze anos de idade, pretende adquirir estabilidade financeira com a aprovação em concurso público, sendo certo que completou o ensino fundamental e está cursando o último ano do ensino médio. Nos termos da Lei Complementar nº 3/2012 do município de Boa Vista, um dos requisitos para a investidura em cargo público consiste na idade mínima de:

- A) dezesseis anos
- B) dezessete anos
- C) dezoito anos
- D) dezenove anos

**12.** Pepe resolve estudar para ser aprovado em concurso para ingresso na autarquia municipal W. Nos termos da Lei Complementar nº 3/2012 do município de Boa Vista, a competência para prover os cargos em autarquias seria do seu:

- A) dirigente máximo
- B) diretor de pessoal
- C) gerente regional
- D) coordenador de recursos humanos

**13.** Sócrates é arquiteto e servidor efetivo do município B, sendo convidado para ocupar, interinamente, cargo em comissão em secretaria municipal. Nos termos da Lei Complementar nº 3/2012 do município de Boa Vista, quando exercido interinamente, o cargo em comissão demanda:

- A) designação
- B) nomeação
- C) indicação
- D) colocação

**14.** Jervásio foi aprovado em concurso público para o cargo de professor municipal, tendo ocorrido a homologação do certame em 2017. Nos termos da Lei Complementar nº 3/2012 do município de Boa Vista, a prorrogação da validade do concurso poderá ocorrer:

- A) duas vezes
- B) uma única vez
- C) sem prazo
- D) condicionalmente

**15.** Januário foi instado a realizar exames médicos para comprovar o seu estado de saúde com o objetivo de formalizar os atos finais inerentes a concurso público. Nos termos da Lei Complementar nº 3/2012 do município de Boa Vista, a posse em cargo público depende de prévia inspeção:

- A) hospitalar pública
- B) salutar privada
- C) médica oficial
- D) fisiológica ideal

**16.** Ernestino é servidor municipal, ocupando cargo de nível superior e, após os trâmites legais, é promovido. Nos termos da Lei Complementar nº 3/2012 do município de Boa Vista, a promoção não interrompe o tempo de exercício, que é contado no novo posicionamento na carreira a partir da data da:

- A) assinatura do ato
- B) publicação do ato
- C) aceitação do ato
- D) resolução do ato

**17.** Jobinho é servidor municipal e logrou a obtenção de aposentadoria voluntária por ter cumprido os requisitos normativos exigidos. Posteriormente, requereu o retorno ao serviço público municipal. Nos termos da Lei Complementar nº 3/2012 do município de Boa Vista, esse retorno não poderá amparar o servidor que já tiver completado:

- A) sessenta anos de idade
- B) sessenta e dois anos de idade
- C) sessenta e cinco anos de idade
- D) setenta anos de idade

**18.** Creso é servidor municipal e foi colocado em disponibilidade pelo período de três anos. Após o término do prazo, requereu o seu retorno ao serviço público, sendo comunicado da extinção do órgão onde prestava serviço. Nos termos da Lei Complementar nº 3/2012 do município de Boa Vista, o servidor posto em disponibilidade poderá ser mantido sob responsabilidade da Secretaria Municipal de:

- A) Administração
- B) Fazenda
- C) Governo
- D) Educação

**19.** Afonso Pena, servidor ocupante de cargo efetivo no município TX, foi convidado para chefiar o setor de Recursos Humanos da Secretaria Municipal de Saúde. Nos termos da Lei Complementar nº 3/2012 do município de Boa Vista, ao ocupante de função de chefia é cabível, pelo seu devido exercício, o pagamento de:

- A) gratificação
- B) retribuição
- C) adicional
- D) diárias

**20.** Venceslau é engenheiro e foi aprovado em concurso público para ocupar cargo no município ZZ. Para cumprir projeto patrocinado pelo governo federal, passa a atuar em laboratório submetido ao contato com substâncias radioativas. Esse contato ocorre a cada dois meses. Diante disso, requer pagamento de adicional de insalubridade. Nos termos da Lei Complementar nº 3/2012 do município de Boa Vista, **NÃO** haverá pagamento do adicional quando a exposição aos agentes nocivos ocorrer de forma:

- A) assídua
- B) geral
- C) ocasional
- D) conveniada

**21.** Adiel, servidor público, procura melhorias na sua carreira e remuneração. Nos termos da Lei nº 1.611 do município de Boa Vista, corresponde ao crescimento na mesma classe ou categoria profissional, com mudança para o próximo padrão de vencimento, a:

- A) projeção
- B) progressão
- C) remoção
- D) transposição

**22.** Tércio concluiu o ensino médio e pretende realizar concurso público. Nos termos da Lei nº 1.611 do município de Boa Vista, o cargo em que o requisito mínimo é o ensino médio corresponde ao cargo de:

- A) assistente
- B) auxiliar
- C) assessor
- D) atendente

**23.** Sueli é professora com mestrado em Educação e atua no ensino de crianças com necessidades especiais. Nos termos da Lei nº 1.611 do município de Boa Vista, a jornada de trabalho do professor deve corresponder a:

- A) vinte horas semanais
- B) vinte e cinco horas semanais
- C) trinta horas semanais
- D) quarenta horas semanais

**24.** Maxuell foi reenquadrado em novo plano de carreira aprovado por lei municipal que reorganizou a carreira à qual pertence. Nos termos da Lei nº 712 do município de Boa Vista, após o enquadramento dos servidores, nenhuma nomeação para cargo efetivo poderá ser efetuada senão na referência inicial de cada categoria funcional, vinculada à respectiva especialidade e condicionada à aprovação e habilitação em:

- A) concurso público
- B) seleção pública
- C) chamada pública
- D) processo público

**25.** Eleutério é servidor municipal e pretende requerer o parcelamento de suas férias. Nos termos da Lei Complementar nº 3/2012 do município de Boa Vista, as férias podem ser parceladas em até:

- A) duas etapas
- B) três etapas
- C) quatro etapas
- D) cinco etapas

**26.** Epaminondas está com seu enteado Elesbão com problemas de saúde. Diante disso, requer afastamento do serviço público municipal onde exerce o cargo de professor. Nos termos da Lei Complementar nº 3/2012 do município de Boa Vista, nesses casos, o servidor terá direito a licença não remunerada de:

- A) noventa dias
- B) cem dias
- C) cento e vinte dias
- D) cento e cinquenta dias

**27.** Amadeu pretende candidatar-se a cargo eletivo, tendo apresentado requerimento de registro perante a Justiça eleitoral vinculado ao partido político Asa. Nos termos da Lei Complementar nº 3/2012 do município de Boa Vista, o servidor terá direito a licença, sem remuneração, durante o período que deve ter início com a sua escolha em:

- A) comitê eleitoral
- B) assembleia geral
- C) convenção partidária
- D) votação regional

**28.** Ricardo Adriano é candidato à presidência do sindicato dos servidores do município TWZ. Após sua eleição, requer o afastamento do serviço para atuar exclusivamente nas funções sindicais. O sindicato possui dez mil associados. Nos termos da Lei Complementar nº 3/2012 do município de Boa Vista, é assegurado ao servidor o direito à licença com remuneração para o desempenho de mandato no sindicato representativo da categoria, limitado, no caso presente, a no máximo:

- A) dois servidores
- B) três servidores
- C) quatro servidores
- D) cinco servidores

**29.** Holmes atua no setor de licitações da empresa municipal CT do município VV. Cioso de suas responsabilidades, fiscaliza o cumprimento do princípio da publicidade dos atos administrativos. É consentâneo com os instrumentos normativos pátrios que regulam a ética no serviço público que a omissão quanto à publicidade ofende o:

- A) bem comum
- B) solidarismo
- C) patriotismo
- D) corporativismo

**30.** Winston é servidor público e não está adaptado ao órgão onde foi lotado, realizando repetidos erros e desvios de função. É consentâneo com os instrumentos normativos pátrios que regulam a ética no serviço público que essas atitudes caracterizam, quanto ao desempenho da função pública:

- A) rebeldia
- B) imprudência
- C) mal-estar
- D) descortesia

## ATUALIDADES

**31.** Em novembro de 2019, os jornais noticiaram que, em 2018, 13,5 milhões de brasileiros viveram com uma renda per capita mensal inferior a R\$ 145,00 reais, um recorde de crescimento da população em situação de extrema pobreza, pois foi o maior índice encontrado nos últimos sete anos. A notícia revelou que vem ocorrendo no país um evidente aumento:

- A) do desenvolvimento econômico
- B) da igualdade econômica
- C) da desigualdade social
- D) do estamento social

**32.** Artigos de jornais, publicados em novembro de 2019, demonstraram que as possibilidades de contingenciamento e de corte de recursos nas áreas da educação, ciência e tecnologia preocupou estudiosos, cientistas e congressistas do país, por considerarem que a redução acentuada de investimento em educação e pesquisa nos tempos atuais poderá se transformar, no futuro, em um fator que:

- A) garantirá o aumento da riqueza nacional
- B) limitará o desenvolvimento econômico do país
- C) estabilizará o crescimento produtivo regional
- D) fortalecerá a competitividade comercial no país

**33.** No segundo semestre de 2019, os noticiários analisaram o grande desastre ecológico que ocorreu no litoral do país, e avaliaram que as dimensões de danos foram intensas, causando uma degradação no meio ambiente que poderá permanecer por décadas. A contaminação ambiental foi grave por se tratar de toneladas de:

- A) óleo com efeitos tóxicos
- B) rejeitos de minério de ferro
- C) mercúrio e metais pesados
- D) cinzas ácidas das queimadas

**34.** Especialistas em saúde pública afirmam que o uso excessivo de agrotóxicos na produção nacional de alimentos pode afetar a saúde da população, provocando problemas respiratórios, impotência, depressão, aborto, câncer, entre outros danos à saúde.

Como precaução ao problema, os estudiosos recomendam que a população se alimente de produtos produzidos pela:

- A) silvicultura
- B) agroecologia
- C) aquicultura
- D) agroindústria

**35.** As metas de Desenvolvimento Sustentável da Organização das Nações Unidas destacam a necessidade de aumentar a participação de energias renováveis na matriz energética global. O Brasil tem avançado, em maior proporção, na geração de um tipo de energia elétrica sustentável que apresenta menor risco de ocorrência de danos e desastres ambientais.

Trata-se da produção de energia:

- A) solar
- B) nuclear
- C) eólica
- D) hidrelétrica

## NOÇÕES DE INFORMÁTICA





**36.** No que diz respeito aos conceitos da internet, pode-se afirmar que:

- I. um termo tem por significado baixar ou transferir dados de uma página para o computador de um usuário, como no caso de um edital em formato PDF, referente a um concurso público;
- II. uma sigla tem por significado o endereço *web* que se digita na barra de endereços de um *browser* para se chegar a um *site*, como por exemplo <https://www.google.com.br/>.

O termo e a sigla são, respectivamente:

- A) *download* e DNS
- B) *download* e URL
- C) *upload* e DNS
- D) *upload* e URL

**37.** Na Área de Notificação do Windows 10 BR, localizada no canto inferior direito da tela do monitor de um *notebook*, há um ícone que serve para o usuário verificar o *status* da conexão *wifi* à internet. Esse ícone é:

- A) 
- B) 
- C) 
- D) 

**38.** A planilha a seguir foi criada no Excel 2019 BR, em que foram realizados os procedimentos descritos a seguir.

- Em F12, foi inserida a expressão =MED(A11:A15).
- Em F14, foi inserida a expressão =MOD(F12;2).

	A	B	C	D	E	F
1						
2						
3						
4						
5						
6						
7						
8						
9						
10	<b>CIDADE DE BOA VISTA - RR</b>					
11	<b>23</b>					
12	<b>15</b>					MEDIANA = <input data-bbox="614 810 746 855" type="text" value="?"/>
13	<b>10</b>					
14	<b>13</b>					MOD = <input data-bbox="614 900 746 945" type="text" value="?"/>
15	<b>19</b>					





Nessas condições, os valores mostrados em F12 e em F14 são, respectivamente:

- A) 15 e 0
- B) 15 e 1
- C) 16 e 0
- D) 16 e 1


**39.** No Word 2019 BR, dois recursos devem ser empregados com as seguintes finalidades:

- I. um atalho de teclado destina-se a converter uma frase ou palavra selecionada em minúsculas para maiúsculas e vice-versa;
- II. um ícone deve ser acionado por meio do *mouse* para aplicar sombreamento, ou seja, mudar a cor atrás do texto, parágrafo ou célula de tabela selecionada.

O atalho de teclado e o ícone são, respectivamente:

- A) Ctrl + F3 e 
- B) Ctrl + F3 e 
- C) Shift + F3 e 
- D) Shift + F3 e 

**40.** A planilha a seguir foi criada no Excel 2019 BR. Para contabilizar a quantidade de atendimentos nas células D27, D28 e D29, foi empregada a função SOMASE, usando o conceito de referência absoluta. Para finalizar, foi inserida em D30 uma expressão que adiciona os valores de D27, D28 e D29.

	A	B	C	D
4				
5				
6				
7				
8				
9				
10				
11	<b>MÊS</b>	<b>ESPECIALIDADE</b>	<b>COLABORADOR</b>	<b>QUANTIDADE</b>
12	<b>1</b>	<b>RESSONÂNCIA</b>	<i>João</i>	<b>123</b>
13		<b>TOMOGRAFIA</b>	<i>Juliana</i>	<b>98</b>
14		<b>TOMOGRAFIA</b>	<i>Juliana</i>	<b>23</b>
15		<b>PEDIATRIA</b>	<i>Feitosa</i>	<b>131</b>
16	<b>2</b>	<b>RESSONÂNCIA</b>	<i>João</i>	<b>56</b>
17		<b>RESSONÂNCIA</b>	<i>João</i>	<b>73</b>
18		<b>TOMOGRAFIA</b>	<i>Juliana</i>	<b>89</b>
19		<b>PEDIATRIA</b>	<i>Feitosa</i>	<b>53</b>
20	<b>3</b>	<b>RESSONÂNCIA</b>	<i>João</i>	<b>48</b>
21		<b>TOMOGRAFIA</b>	<i>Juliana</i>	<b>80</b>
22		<b>PEDIATRIA</b>	<i>Feitosa</i>	<b>76</b>
23		<b>PEDIATRIA</b>	<i>Feitosa</i>	<b>70</b>
24	<b>TOTAL =</b>			<b>920</b>
25				
26	<b>RESUMO</b>			
27	<b>RESSONÂNCIA</b>			<b>300</b>
28	<b>TOMOGRAFIA</b>			<b>290</b>
29	<b>PEDIATRIA</b>			<b>330</b>
30	<b>TOTAL =</b>			<b>920</b>

As expressões inseridas em D29 e em D30 foram, respectivamente:

- A) =SOMASE(&B&12:&B&23;B29;&D&12:&D&23) e =SOMA(D27:D29)
- B) =SOMASE(&B&12:&B&23;B29;&D&12:&D&23) e =SOMA(D27;D29)
- C) =SOMASE(\$B\$12:\$B\$23;B29;\$D\$12:\$D\$23) e =SOMA(D27:D29)
- D) =SOMASE(\$B\$12:\$B\$23;B29;\$D\$12:\$D\$23) e =SOMA(D27;D29)

## CONHECIMENTOS ESPECÍFICOS

**41.** Exemplifica-se um fio de sutura não absorvível na seguinte alternativa:

- A) poliglactina
- B) polipropileno
- C) poliglecaprona 25
- D) polidioxanona

**42.** Em relação às orientações de dieta, o mais adequado jejum pré-operatório para a realização de um procedimento agendado para as 14h do dia seguinte é:

- A) nenhum líquido após a meia-noite
- B) refeição leve até as 11h
- C) leite e torrada permitidos até as 7h
- D) nenhum sólido após as 8h

**43.** Descreve-se de forma mais adequada o cuidado paliativo em:

- A) É o cuidado interdisciplinar que aborda todas as fontes de sofrimento para os pacientes gravemente enfermos e seus familiares.
- B) É o mesmo que cuidado paliativo domiciliar, sendo apropriado somente para pacientes terminais.
- C) Não pode ser combinado com tratamento direcionado para a doença, visto que iria interferir com a necessidade de o paciente aceitar que está morrendo.
- D) Não é apropriado para pacientes com câncer de cabeça e pescoço que ainda desejem realizar tratamentos agressivos contra o câncer.

**44.** Durante um esvaziamento cervical radical com o paciente sentado, o anestesilogista alerta para uma súbita redução na concentração de CO<sub>2</sub> no final da expiração do paciente. O passo imediato mais apropriado nesse momento é:

- A) pedir ao anestesilogista para reduzir a taxa de ventilação, visto que uma hipocarbica severa reduz o fluxo sanguíneo cerebral
- B) solicitar ao anestesilogista para aumentar a porcentagem de óxido nitroso, para que um agente menos volátil possa ser usado
- C) irrigar o campo com solução salina e colocar o paciente em posição Trendelenburg
- D) colocar um cateter de artéria pulmonar e aspirar o ar proveniente desta artéria

**45.** Das seguintes alternativas, melhor se caracteriza um carcinoma *in situ* em:

- A) atipia celular de espessura total com uma membrana basal intacta
- B) bordas bem delimitadas com leve atipia ao longo da camada basal
- C) leve atipia, porém com violação da membrana basal subjacente
- D) atipia moderada estendendo-se até o terço superior da mucosa

**46.** Paciente do sexo feminino, 43 anos de idade, apresentando lesão de aspecto tumoral em região de palato duro à direita, referindo dormência na distribuição de V2 ipsilateral. A técnica de imagem mais adequada para avaliação de possível disseminação perineural da lesão deve ser:

- A) CT de pescoço sem contraste
- B) CT de face com contraste
- C) angiografia por CT do pescoço
- D) MRI sem e com contraste IV

**47.** Paciente de 40 anos de idade, realiza uma MRI para investigação de cefaleia. O aspecto do cérebro é normal, mas aparece uma massa sólida de 3 cm com hipersinal em T2, bem delimitada, no espaço parafaríngeo pré-estiloide. A opção que melhor sugere a origem da lesão é:

- A) hemangioma
- B) schwannoma
- C) neoplasia de glândula salivar
- D) paraganglioma

**48.** Quanto ao reflexo pupilar consensual, é correto afirmar que:

- A) ocorre apenas em pacientes com lesão aferente do II par de nervos cranianos
- B) em pacientes saudáveis, deve ocorrer ao se iluminar o globo ocular contralateral
- C) lesão eferente do III par de nervos cranianos não pode ser uma causa de sua ausência
- D) refere-se à constrição ipsilateral da pupila iluminada



**49.** Em pacientes com rinoliquorria pós-traumática da base do crânio, o uso de antibióticos profiláticos está associado a:

- A) redução da mortalidade associada à meningite
- B) redução na frequência da meningite
- C) menor necessidade de reparo cirúrgico da fístula líquórica
- D) nenhum benefício terapêutico aparente

**50. NÃO** é correto afirmar que a abordagem transmaxilar anterior fornece acesso a:

- A) recesso lateral do seio esfenoidal
- B) fossa pterigopalatina
- C) fossa infratemporal
- D) fossa mandibular

**51.** A artéria esfenopalatina é um ramo da seguinte artéria:

- A) palatina ascendente
- B) temporal profunda
- C) maxilar interna
- D) transversa da face

**52.** Dos músculos laríngeos, é bilateralmente innervado o:

- A) tireoaritenóideo
- B) interaritenóideo
- C) cricoaritenóideo lateral
- D) cricoaritenóideo posterior

**53.** Das fraturas mandibulares citadas a seguir, aquela que pode ser adequadamente tratada com miniplacas do sistema de fixação esquelética 2.0 mm vem a ser a:

- A) fratura cominutiva do ângulo mandibular
- B) fratura linear do ângulo direito e região subcondilar esquerda
- C) seqüela de fratura com má consolidação e reabsorção óssea severa
- D) fratura cominutiva da região do arco central

**54.** O tratamento ideal do carcinoma nasofaríngeo em estágio avançado é:

- A) quimioterapia de indução e radioterapia (CRT)
- B) CRT concomitante
- C) radioterapia e braquiterapia
- D) cirurgia e radioterapia pós-operatória

**55.** O sítio laríngeo que está em maior risco para o desenvolvimento de radionecrose é:

- A) lâmina da cartilagem tireoide
- B) epiglote
- C) cricoide
- D) aritenóide

**56.** Paciente de 46 anos de idade, com diagnóstico de adenoma pleomórfico na cauda da glândula parótida direita. A intervenção mais apropriada está representada pela seguinte alternativa:

- A) parotidectomia superficial completa
- B) enucleação
- C) parotidectomia parcial
- D) radioterapia

**57.** O sintoma mais comum do carcinoma de células escamosas da traqueia é a:

- A) disfagia
- B) tosse com hemoptise
- C) dispneia
- D) massa cervical

**58.** Nove horas após uma orbitotomia lateral para biópsia de um tumor orbitário, o paciente nota uma dor persistente progressiva e quemose. Deve-se considerar como uma provável causa desta condição:

- A) a tração do nervo infraorbitário
- B) a infecção do sítio operatório
- C) a conjuntivite pós-operatória
- D) o hematoma retrobulbar

**59.** Paciente de 52 anos de idade, apresentando um carcinoma de células escamosas pouco diferenciado de 1,5 cm, comprovado por biópsia, na orelha esquerda. Nesse caso, está melhor representado como estágio do tumor primário o:

- A) T1
- B) T2
- C) T3
- D) T4

**60.** As toxicidades agudas mais comuns observadas após a radioterapia oral são:

- A) mucosite, osteonecrose e xerostomia
- B) mucosite, disfagia e xerostomia
- C) mucosite, fibrose e xerostomia
- D) mucosite, endarterite de carótida e xerostomia