



**CONCURSO PÚBLICO
PREFEITURA MUNICIPAL DE BOA VISTA
SECRETARIA MUNICIPAL DE ADMINISTRAÇÃO E GESTÃO DE PESSOAS - SMAG**

EDITAL Nº 002/2019-SMAG

MÉDICO GASTROENTEROLOGISTA

**Duração: 03h00min (três horas)
Leia atentamente as instruções abaixo:**

01 Você recebeu do fiscal o seguinte material:

a) Este caderno, com 60 (sessenta) questões da Prova Objetiva, sem repetição ou falha, conforme distribuição abaixo:

LÍNGUA PORTUGUESA	ÉTICA NA ADMINISTRAÇÃO PÚBLICA E LEGISLAÇÃO MUNICIPAL	ATUALIDADES	NOÇÕES DE INFORMÁTICA	CONHECIMENTOS ESPECÍFICOS
01 a 10	11 a 30	31 a 35	36 a 40	41 a 60

b) Um Cartão de Respostas destinado às respostas das questões objetivas.

- 02** Verifique se este material está em ordem e se o seu nome e número de inscrição conferem com os que aparecem no Cartão de Respostas. Caso contrário, notifique imediatamente o fiscal.
- 03** Após a conferência, o candidato deverá assinar no espaço próprio do Cartão de Respostas, com caneta esferográfica de tinta na cor azul ou preta.
- 04** No Cartão de Respostas, a marcação da alternativa correta deve ser feita cobrindo a letra correspondente ao número da questão e preenchendo todo o espaço interno, com caneta esferográfica de tinta na cor azul ou preta, de forma contínua e densa.

Exemplo: A B C D

- 05** Para cada uma das questões objetivas, são apresentadas 4 (quatro) alternativas classificadas com as letras (A, B, C e D), mas só uma responde adequadamente à questão proposta. Você só deve assinalar uma alternativa. A marcação em mais de uma alternativa anula a questão, mesmo que uma das respostas esteja correta.
- 06** Somente depois de decorrida 01 (uma) hora do início da prova, o candidato poderá entregar seu Cartão de Respostas, seu Caderno de Questões e retirar-se da sala de prova. O candidato que insistir em sair da sala de prova, descumprindo o aqui disposto, deverá assinar o Termo de Ocorrência declarando sua desistência do Concurso, que será lavrado pelo Coordenador do Local.
- 07** Ao candidato, será permitido levar seu CADERNO DE QUESTÕES faltando no máximo 01 (uma) hora para o término da prova e desde que permaneça em sala até esse momento.
- 08** Não será permitida a cópia de gabarito no local de prova. Ao terminar a prova de Conhecimentos, o candidato entregará, obrigatoriamente, ao fiscal de sala, o seu CARTÃO DE RESPOSTAS e o seu CADERNO DE QUESTÕES, ressalvado o estabelecido no item 7.
- 09** Reserve os 30 (trinta) minutos finais para marcar seu Cartão de Respostas. Os rascunhos e as marcações assinaladas no Caderno de Questões não serão levados em consideração.
- 10** Os 3 (três) últimos candidatos permanecerão sentados até que todos concluem a prova ou que termine o seu tempo de duração, devendo assinar a ata de sala e retirar-se juntos.

LÍNGUA PORTUGUESA

Leia o texto I para responder às questões de 1 a 10.

Texto I

A mobilidade da criança

O que significa a mobilidade para os pequenos habitantes das cidades brasileiras? Para parte deles, o ir e vir está sempre relacionado ao carro. Das janelas dos automóveis, eles enxergam reflexos da cidade, mas não participam dela.

Para a maior parcela, que se locomove a pé e de transporte coletivo, há insegurança, medo e a certeza de que o pedestre é considerado um intruso, um invasor do espaço. Além de aprender que precisa atravessar a rua correndo porque o tempo do semáforo é insuficiente e o pedestre não é respeitado, a criança brasileira se acostuma a caminhar em calçadas muito estreitas e até em ruas sem a presença delas. As décadas de planejamento urbano focado no carro tornaram as ruas um território de guerra – o fato de que o Brasil é o quarto país do mundo em mortes no trânsito fala por si só. Pesquisadores internacionais há tempos discutem os efeitos da “imobilidade” e da violência no trânsito no desenvolvimento físico, cognitivo, motor e social das crianças. Exercer a independência numa cidade segura é fundamental para o crescimento saudável. Nos países em que as crianças andam de bicicleta e a pé com segurança, como na Holanda e na Dinamarca, por exemplo, os acidentes são praticamente inexistentes e a infância é um período de feliz interação na sociedade.

Sobrepeso e falta de luz solar

Segundo a urbanista e arquiteta espanhola Irene Quintáns, os urbanistas usam a presença de crianças no espaço público como indicador de sucesso urbano. “A ausência delas nas ruas aponta as falhas das nossas cidades”, ela diz.

Moradora da capital paulista há sete anos e mãe de dois filhos, Irene acredita que privar os pequenos de caminhar não é positivo. “Uma criança que fica circunscrita à locomoção no carro tende a ficar insegura para se movimentar. Ela também tem mais dificuldade em perceber o outro. Isso se chama empatia e é muito importante para a vida em sociedade. Há ainda a questão do sedentarismo, do sobrepeso e da falta de luz solar. Crianças que caminham para a escola têm mais concentração para desenvolver atividades complexas”.

Mesmo com todas as dificuldades já citadas, é importante usar o transporte público, caminhar e participar da vida na cidade. Na próxima vez que levar seus filhos à escola, reflita: por que ir de carro? Que

tal descobrir a cidade ao lado deles, trocando ideias sobre o que vocês veem? Assim, eles aprendem a ser cidadãos e a viver o coletivo, enquanto exigimos que o poder público priorize a proteção das nossas crianças.

(<https://www.metrojornal.com.br/colunistas/2018/10/11/mobilidade-da-crianca.html>)

1. A temática principal do texto se baseia na relação entre:

- A) mobilidade urbana e infância
- B) hierarquia social e propriedade
- C) acesso a transporte e economia
- D) visibilidade das pessoas e planejamento

2. Uma ideia explicitamente construída sobre o leitor considera que ele:

- A) ignora as desigualdades sociais
- B) transita com crianças pela cidade
- C) trabalha com planejamento geográfico
- D) defende valores do individualismo

3. No segundo parágrafo, o comentário introduzido por travessão expressa, em relação à ideia do parágrafo, uma relação de:

- A) negação
- B) explicação
- C) contradição
- D) comparação

4. No segundo parágrafo, a última frase expressa, em relação à anterior, uma relação de:

- A) contraposição
- B) ponderação
- C) retificação
- D) conclusão

5. “Mesmo com todas as dificuldades já citadas”. O trecho pode ser reescrito da seguinte forma, sem alteração do sentido:

- A) tanto que todas as dificuldades já citadas
- B) apesar de todas as dificuldades já citadas
- C) por causa de todas as dificuldades já citadas
- D) de acordo com todas as dificuldades já citadas

6. “Crianças que caminham para a escola têm mais concentração para desenvolver atividades complexas”. O trecho destacado exerce, no conjunto da frase, a função de introduzir uma:

- A) contradição
- B) enumeração
- C) especificação
- D) consequência

7. No último parágrafo, a forma verbal “priorize” indica ação com valor de:

- A) certeza
- B) hesitação
- C) possibilidade
- D) inviabilidade

8. Na frase “Para a maior parcela, que se locomove a pé e de transporte coletivo, há insegurança, medo e a certeza de que o pedestre é considerado um intruso, um invasor do espaço” (2º parágrafo), o uso da voz passiva provoca o seguinte efeito de sentido:

- A) culpar o governo pelo comportamento
- B) sugerir uma falha de planejamento
- C) propor uma solução alternativa
- D) omitir o responsável pela ação

9. Em “que fica circunscrita à locomoção no carro” (4º parágrafo), a palavra “circunscrita” pode ser substituída, sem prejuízo do sentido original, por:

- A) homogênea
- B) confusa
- C) restrita
- D) aberta

10. Acentuação está corretamente justificada em:

- A) “automóveis” – proparoxítona
- B) “país” – oxítona terminada em “-i(s)”
- C) “saudável” – paroxítona terminada em “-l”
- D) “décadas” – paroxítona terminada em “-a(s)”

ÉTICA NA ADMINISTRAÇÃO PÚBLICA E LEGISLAÇÃO MUNICIPAL

11. Sandra, com quinze anos de idade, pretende adquirir estabilidade financeira com a aprovação em concurso público, sendo certo que completou o ensino fundamental e está cursando o último ano do ensino médio. Nos termos da Lei Complementar nº 3/2012 do município de Boa Vista, um dos requisitos para a investidura em cargo público consiste na idade mínima de:

- A) dezesseis anos
- B) dezessete anos
- C) dezoito anos
- D) dezenove anos

12. Pepe resolve estudar para ser aprovado em concurso para ingresso na autarquia municipal W. Nos termos da Lei Complementar nº 3/2012 do município de Boa Vista, a competência para prover os cargos em autarquias seria do seu:

- A) dirigente máximo
- B) diretor de pessoal
- C) gerente regional
- D) coordenador de recursos humanos

13. Sócrates é arquiteto e servidor efetivo do município B, sendo convidado para ocupar, interinamente, cargo em comissão em secretaria municipal. Nos termos da Lei Complementar nº 3/2012 do município de Boa Vista, quando exercido interinamente, o cargo em comissão demanda:

- A) designação
- B) nomeação
- C) indicação
- D) colocação

14. Jervásio foi aprovado em concurso público para o cargo de professor municipal, tendo ocorrido a homologação do certame em 2017. Nos termos da Lei Complementar nº 3/2012 do município de Boa Vista, a prorrogação da validade do concurso poderá ocorrer:

- A) duas vezes
- B) uma única vez
- C) sem prazo
- D) condicionalmente

15. Januário foi instado a realizar exames médicos para comprovar o seu estado de saúde com o objetivo de formalizar os atos finais inerentes a concurso público. Nos termos da Lei Complementar nº 3/2012 do município de Boa Vista, a posse em cargo público depende de prévia inspeção:

- A) hospitalar pública
- B) salutar privada
- C) médica oficial
- D) fisiológica ideal

16. Ernestino é servidor municipal, ocupando cargo de nível superior e, após os trâmites legais, é promovido. Nos termos da Lei Complementar nº 3/2012 do município de Boa Vista, a promoção não interrompe o tempo de exercício, que é contado no novo posicionamento na carreira a partir da data da:

- A) assinatura do ato
- B) publicação do ato
- C) aceitação do ato
- D) resolução do ato

17. Jobinho é servidor municipal e logrou a obtenção de aposentadoria voluntária por ter cumprido os requisitos normativos exigidos. Posteriormente, requereu o retorno ao serviço público municipal. Nos termos da Lei Complementar nº 3/2012 do município de Boa Vista, esse retorno não poderá amparar o servidor que já tiver completado:

- A) sessenta anos de idade
- B) sessenta e dois anos de idade
- C) sessenta e cinco anos de idade
- D) setenta anos de idade

18. Creso é servidor municipal e foi colocado em disponibilidade pelo período de três anos. Após o término do prazo, requereu o seu retorno ao serviço público, sendo comunicado da extinção do órgão onde prestava serviço. Nos termos da Lei Complementar nº 3/2012 do município de Boa Vista, o servidor posto em disponibilidade poderá ser mantido sob responsabilidade da Secretaria Municipal de:

- A) Administração
- B) Fazenda
- C) Governo
- D) Educação

19. Afonso Pena, servidor ocupante de cargo efetivo no município TX, foi convidado para chefiar o setor de Recursos Humanos da Secretaria Municipal de Saúde. Nos termos da Lei Complementar nº 3/2012 do município de Boa Vista, ao ocupante de função de chefia é cabível, pelo seu devido exercício, o pagamento de:

- A) gratificação
- B) retribuição
- C) adicional
- D) diárias

20. Venceslau é engenheiro e foi aprovado em concurso público para ocupar cargo no município ZZ. Para cumprir projeto patrocinado pelo governo federal, passa a atuar em laboratório submetido ao contato com substâncias radioativas. Esse contato ocorre a cada dois meses. Diante disso, requer pagamento de adicional de insalubridade. Nos termos da Lei Complementar nº 3/2012 do município de Boa Vista, **NÃO** haverá pagamento do adicional quando a exposição aos agentes nocivos ocorrer de forma:

- A) assídua
- B) geral
- C) ocasional
- D) conveniada

21. Adiel, servidor público, procura melhorias na sua carreira e remuneração. Nos termos da Lei nº 1.611 do município de Boa Vista, corresponde ao crescimento na mesma classe ou categoria profissional, com mudança para o próximo padrão de vencimento, a:

- A) projeção
- B) progressão
- C) remoção
- D) transposição

22. Tércio concluiu o ensino médio e pretende realizar concurso público. Nos termos da Lei nº 1.611 do município de Boa Vista, o cargo em que o requisito mínimo é o ensino médio corresponde ao cargo de:

- A) assistente
- B) auxiliar
- C) assessor
- D) atendente

23. Sueli é professora com mestrado em Educação e atua no ensino de crianças com necessidades especiais. Nos termos da Lei nº 1.611 do município de Boa Vista, a jornada de trabalho do professor deve corresponder a:

- A) vinte horas semanais
- B) vinte e cinco horas semanais
- C) trinta horas semanais
- D) quarenta horas semanais

24. Maxuell foi reenquadrado em novo plano de carreira aprovado por lei municipal que reorganizou a carreira à qual pertence. Nos termos da Lei nº 712 do município de Boa Vista, após o enquadramento dos servidores, nenhuma nomeação para cargo efetivo poderá ser efetuada senão na referência inicial de cada categoria funcional, vinculada à respectiva especialidade e condicionada à aprovação e habilitação em:

- A) concurso público
- B) seleção pública
- C) chamada pública
- D) processo público

25. Eleutério é servidor municipal e pretende requerer o parcelamento de suas férias. Nos termos da Lei Complementar nº 3/2012 do município de Boa Vista, as férias podem ser parceladas em até:

- A) duas etapas
- B) três etapas
- C) quatro etapas
- D) cinco etapas

26. Epaminondas está com seu enteado Elesbão com problemas de saúde. Diante disso, requer afastamento do serviço público municipal onde exerce o cargo de professor. Nos termos da Lei Complementar nº 3/2012 do município de Boa Vista, nesses casos, o servidor terá direito a licença não remunerada de:

- A) noventa dias
- B) cem dias
- C) cento e vinte dias
- D) cento e cinquenta dias

27. Amadeu pretende candidatar-se a cargo eletivo, tendo apresentado requerimento de registro perante a Justiça eleitoral vinculado ao partido político Asa. Nos termos da Lei Complementar nº 3/2012 do município de Boa Vista, o servidor terá direito a licença, sem remuneração, durante o período que deve ter início com a sua escolha em:

- A) comitê eleitoral
- B) assembleia geral
- C) convenção partidária
- D) votação regional

28. Ricardo Adriano é candidato à presidência do sindicato dos servidores do município TWZ. Após sua eleição, requer o afastamento do serviço para atuar exclusivamente nas funções sindicais. O sindicato possui dez mil associados. Nos termos da Lei Complementar nº 3/2012 do município de Boa Vista, é assegurado ao servidor o direito à licença com remuneração para o desempenho de mandato no sindicato representativo da categoria, limitado, no caso presente, a no máximo:

- A) dois servidores
- B) três servidores
- C) quatro servidores
- D) cinco servidores

29. Holmes atua no setor de licitações da empresa municipal CT do município VV. Cioso de suas responsabilidades, fiscaliza o cumprimento do princípio da publicidade dos atos administrativos. É consentâneo com os instrumentos normativos pátrios que regulam a ética no serviço público que a omissão quanto à publicidade ofende o:

- A) bem comum
- B) solidarismo
- C) patriotismo
- D) corporativismo

30. Winston é servidor público e não está adaptado ao órgão onde foi lotado, realizando repetidos erros e desvios de função. É consentâneo com os instrumentos normativos pátrios que regulam a ética no serviço público que essas atitudes caracterizam, quanto ao desempenho da função pública:

- A) rebeldia
- B) imprudência
- C) mal-estar
- D) descortesia

ATUALIDADES

31. Em novembro de 2019, os jornais noticiaram que, em 2018, 13,5 milhões de brasileiros viveram com uma renda per capita mensal inferior a R\$ 145,00 reais, um recorde de crescimento da população em situação de extrema pobreza, pois foi o maior índice encontrado nos últimos sete anos. A notícia revelou que vem ocorrendo no país um evidente aumento:

- A) do desenvolvimento econômico
- B) da igualdade econômica
- C) da desigualdade social
- D) do estamento social

32. Artigos de jornais, publicados em novembro de 2019, demonstraram que as possibilidades de contingenciamento e de corte de recursos nas áreas da educação, ciência e tecnologia preocupou estudiosos, cientistas e congressistas do país, por considerarem que a redução acentuada de investimento em educação e pesquisa nos tempos atuais poderá se transformar, no futuro, em um fator que:

- A) garantirá o aumento da riqueza nacional
- B) limitará o desenvolvimento econômico do país
- C) estabilizará o crescimento produtivo regional
- D) fortalecerá a competitividade comercial no país

33. No segundo semestre de 2019, os noticiários analisaram o grande desastre ecológico que ocorreu no litoral do país, e avaliaram que as dimensões de danos foram intensas, causando uma degradação no meio ambiente que poderá permanecer por décadas. A contaminação ambiental foi grave por se tratar de toneladas de:

- A) óleo com efeitos tóxicos
- B) rejeitos de minério de ferro
- C) mercúrio e metais pesados
- D) cinzas ácidas das queimadas

34. Especialistas em saúde pública afirmam que o uso excessivo de agrotóxicos na produção nacional de alimentos pode afetar a saúde da população, provocando problemas respiratórios, impotência, depressão, aborto, câncer, entre outros danos à saúde.

Como precaução ao problema, os estudiosos recomendam que a população se alimente de produtos produzidos pela:

- A) silvicultura
- B) agroecologia
- C) aquicultura
- D) agroindústria

35. As metas de Desenvolvimento Sustentável da Organização das Nações Unidas destacam a necessidade de aumentar a participação de energias renováveis na matriz energética global. O Brasil tem avançado, em maior proporção, na geração de um tipo de energia elétrica sustentável que apresenta menor risco de ocorrência de danos e desastres ambientais.

Trata-se da produção de energia:

- A) solar
- B) nuclear
- C) eólica
- D) hidrelétrica

NOÇÕES DE INFORMÁTICA





36. No que diz respeito aos conceitos da internet, pode-se afirmar que:

- I. um termo tem por significado baixar ou transferir dados de uma página para o computador de um usuário, como no caso de um edital em formato PDF, referente a um concurso público;
- II. uma sigla tem por significado o endereço *web* que se digita na barra de endereços de um *browser* para se chegar a um *site*, como por exemplo <https://www.google.com.br/>.

O termo e a sigla são, respectivamente:

- A) *download* e DNS
- B) *download* e URL
- C) *upload* e DNS
- D) *upload* e URL

37. Na Área de Notificação do Windows 10 BR, localizada no canto inferior direito da tela do monitor de um *notebook*, há um ícone que serve para o usuário verificar o *status* da conexão *wifi* à internet. Esse ícone é:

- A) 
- B) 
- C) 
- D) 

38. A planilha a seguir foi criada no Excel 2019 BR, em que foram realizados os procedimentos descritos a seguir.

- Em F12, foi inserida a expressão =MED(A11:A15).
- Em F14, foi inserida a expressão =MOD(F12;2).

	A	B	C	D	E	F
1						
2						
3						
4						
5						
6						
7						
8						
9						
10	CIDADE DE BOA VISTA - RR					
11	23					
12	15					MEDIANA = ?
13	10					
14	13					MOD = ?
15	19					





Nessas condições, os valores mostrados em F12 e em F14 são, respectivamente:

- 15 e 0
- 15 e 1
- 16 e 0
- 16 e 1

39. No Word 2019 BR, dois recursos devem ser empregados com as seguintes finalidades:

- um atalho de teclado destina-se a converter uma frase ou palavra selecionada em minúsculas para maiúsculas e vice-versa;
- um ícone deve ser acionado por meio do *mouse* para aplicar sombreamento, ou seja, mudar a cor atrás do texto, parágrafo ou célula de tabela selecionada.

O atalho de teclado e o ícone são, respectivamente:

- Ctrl + F3 e 
- Ctrl + F3 e 
- Shift + F3 e 
- Shift + F3 e 

40. A planilha a seguir foi criada no Excel 2019 BR. Para contabilizar a quantidade de atendimentos nas células D27, D28 e D29, foi empregada a função SOMASE, usando o conceito de referência absoluta. Para finalizar, foi inserida em D30 uma expressão que adiciona os valores de D27, D28 e D29.

	A	B	C	D
4				
5				
6				
7				
8				
9				
10				
11	MÊS	ESPECIALIDADE	COLABORADOR	QUANTIDADE
12	1	RESSONÂNCIA	João	123
13		TOMOGRAFIA	Juliana	98
14		TOMOGRAFIA	Juliana	23
15		PEDIATRIA	Feitosa	131
16	2	RESSONÂNCIA	João	56
17		RESSONÂNCIA	João	73
18		TOMOGRAFIA	Juliana	89
19		PEDIATRIA	Feitosa	53
20	3	RESSONÂNCIA	João	48
21		TOMOGRAFIA	Juliana	80
22		PEDIATRIA	Feitosa	76
23		PEDIATRIA	Feitosa	70
24	TOTAL =			920
25				
26	RESUMO			
27	RESSONÂNCIA			300
28	TOMOGRAFIA			290
29	PEDIATRIA			330
30	TOTAL =			920

As expressões inseridas em D29 e em D30 foram, respectivamente:

- =SOMASE(&B&12:&B&23;B29;&D&12:&D&23)
e =SOMA(D27:D29)
- =SOMASE(&B&12:&B&23;B29;&D&12:&D&23)
e =SOMA(D27;D29)
- =SOMASE(\$B\$12:\$B\$23;B29;\$D\$12:\$D\$23)
e =SOMA(D27:D29)
- =SOMASE(\$B\$12:\$B\$23;B29;\$D\$12:\$D\$23)
e =SOMA(D27;D29)

CONHECIMENTOS ESPECÍFICOS

41. A incidência de linfomas gástricos primários está intimamente ligada à taxa de infecção causada pelo seguinte micro-organismo:

- A) *Escherichia coli*
- B) *Helicobacter pylori*
- C) *Salmonella enteritidis*
- D) *Clostridium perfringens*

42. A esofagite eosinofílica (EoE) é uma doença inflamatória do esôfago, que frequentemente se manifesta como uma doença de refluxo gastroesofágico (DRGE). **NÃO** se enquadra dentro dos critérios para diagnóstico diferencial entre EoE e DRGE a seguinte afirmativa:

- A) A pHmetria na EoE encontra-se normal no esôfago distal.
- B) Na EoE, os sintomas de disfusão esofágica são tipicamente intermitentes.
- C) Na DRGE, a terapêutica com inibidores da bomba de prótons apresenta melhora significativa.
- D) Na EoE, a biópsia da mucosa esofágica apresenta <10 eosinófilos por CGA (campo de grande ampliação).

43. A causa mais frequente de pancreatite aguda é:

- A) trauma
- B) altos níveis de triglicérides no sangue
- C) cálculos biliares
- D) níveis elevados de cálcio no sangue

44. Quanto à localização das úlceras gástricas pela Classificação de Johnson, aquelas que estão presentes na pequena curvatura, próximas à incisura angular, são classificadas como tipo:

- A) I
- B) II
- C) III
- D) IV

45. A síndrome de Paterson-Kelly é caracterizada por:

- A) dor abdominal, esteatorreia e baixa estatura
- B) anemia ferropriva, disfagia cervical e membranas esofágicas
- C) úlceras pépticas, esofagite e membranas esofágicas
- D) dor abdominal, diarreia e fístulas perineais

46. Um paciente do gênero feminino, 45 anos de idade, dá entrada na unidade de pronto-atendimento referindo dor abdominal com irradiação para dorso, de início súbito, associada a náuseas e vômitos. Alega que horas antes fez ingestão de alimentos gordurosos. Nega alergias, cirurgias prévias e constipação. Informa mãe diabética e pai hipertenso. Ao exame físico, apresenta regular estado geral, com fácies de dor aguda, lúcida, orientada, anictérica, acianótica. Abdome com dor à palpação em hipocôndrio direito, sinal de Murphy positivo. Sinais vitais evidenciam temperatura de 38,2° C, frequência cardíaca de 92 bpm, PA: 130 x 70 mmHg. Exames Laboratoriais: Hb: 13g%, Hematócrito: 38%, Leucócitos 13.000/ mm³ (bastões 6%), Plaquetas 286.000. ALT: 55 U/L, AST: 50 U/L, Fosfatase Alcalina: 145 U/L, Amilase: 140 UI, Lipase: 30 UI. Diante desse quadro, o diagnóstico mais provável é:

- A) pancreatite aguda
- B) úlcera perforada
- C) apendicite
- D) colecistite aguda

47. No exame físico de alguns pacientes masculinos com pancreatite grave, pode-se observar presença de equimose em região inguinal e na base do pênis. Este sinal denomina-se:

- A) Sinal de Cullen
- B) Sinal de Grey-Turner
- C) Sinal de Fox
- D) Sinal de Gersuny

48. Os tumores carcinoides são neoplasias do sistema celular neuroendócrino difuso. As mais frequentes sedes desses tumores são o trato gastrointestinal e o sistema respiratório. No aparelho digestivo, os principais locais afetados são:

- A) duodeno e pâncreas
- B) estômago e duodeno
- C) cólon e esôfago
- D) intestino delgado e apêndice cecal

49. Ao realizar uma endoscopia digestiva alta num paciente quadro de hemorragia digestiva alta, foi constatado coágulo aderido à úlcera. Pela classificação de Forrest, esta úlcera é do tipo:

- A) IA
- B) IB
- C) IIA
- D) IIB

50. Quanto ao esôfago de Barret, é correto afirmar:

- A) Esôfago de Barrett é fator de risco para o desenvolvimento de adenocarcinoma de esôfago.
- B) Esôfago de Barret curto ocorre quando a extensão da metaplasia colunar é acima de 4 cm.
- C) Não há relação entre o esôfago de Barrett e a doença do refluxo gastroesofágico (DRGE).
- D) O tratamento do esôfago de Barret é sempre cirúrgico.

51. As doenças inflamatórias intestinais (DII), compreendem, principalmente, a doença de Crohn (DC) e a retocolite ulcerativa (RU), ambas idiopáticas. São características da doença de Crohn, com **EXCEÇÃO** de:

- A) As lesões se estendem por todas as camadas da parede intestinal, afetando de forma segmentar e assimétrica.
- B) Há envolvimento comumente restrito à porção final do intestino delgado e ao cólon, podendo afetar qualquer segmento do trato gastrointestinal.
- C) A inflamação é difusa e inespecífica, confinada a mucosa e submucosa da parede do trato gastrointestinal.
- D) Eritema nodoso, artrite e pioderma gangrenoso são manifestações extraintestinais da doença de Crohn.

52. A doença do refluxo gastroesofágico (DRGE) é definida como uma afecção crônica decorrente do fluxo retrógrado do conteúdo gastroduodenal para o esôfago e/ou órgãos adjacentes a ele, acarretando um espectro variável de sintomas e/ou sinais esofagianos e/ou extraesofagianos, associados ou não a lesões teciduais. São manifestações típicas da DRGE:

- A) pirose e regurgitação
- B) dor torácica e tosse
- C) laringite e hemoptise
- D) rouquidão e pigarro

53. Uma síndrome que consiste na associação de neoplasia primária do sistema nervoso central e polipose colorretal é a:

- A) síndrome de Peutz-Jeghens
- B) síndrome de Turcot
- C) síndrome de Lynch
- D) síndrome de Gardner

54. A classificação de Child-Pugh é utilizada para avaliação da gravidade ou da atividade da doença hepática. Encontram-se apenas os critérios de avaliação da gravidade da hepatopatia, segundo essa classificação, na seguinte alternativa:

- A) ascite, bilirrubinas, ureia sérica, TGO, encefalopatia e tempo de protrombina
- B) ascite, albumina, bilirrubinas, INR, encefalopatia e tempo de protrombina
- C) ascite, encefalopatia, ureia sérica, INR, albumina e TGO
- D) ascite, TGP, TGO, ureia sérica, encefalopatia e INR

55. Segundo a classificação de Spaulding, os endoscópios são considerados artigos:

- A) críticos e necessitam de desinfecção de alto nível.
- B) críticos que requerem desinfecção de baixo a médio nível.
- C) semicríticos e necessitam de esterilização ou desinfecção de alto nível.
- D) não críticos e requerem limpeza ou desinfecção de baixo ou médio nível.

56. Na sedação moderada de um procedimento endoscópico, pode ser utilizado um medicamento com as seguintes características: rápido início de ação, curta duração e propriedades amnésicas. Esse medicamento denomina-se:

- A) fentanil
- B) meperidina
- C) cetamina
- D) midazolam

57. As diarreias são definidas clinicamente pela eliminação de fezes de consistência diminuída ou líquida, com aumento do número de evacuações. A diarreia que decorre da invasão do patógeno na mucosa intestinal ou agressão imunomediada, com perda da integridade da mucosa, citólise e necrose celular é do tipo:

- A) secretora
- B) exsudativa
- C) osmótica
- D) motora

58. A doença ulcerosa péptica permanece como uma das doenças gastrointestinais mais prevalentes. Sobre as úlceras gástricas e as úlceras duodenais, é verdadeiro que:

- A) após o tratamento das úlceras com a erradicação do *H.pylori*, não há diminuição da taxa de recidiva das úlceras
- B) todos os pacientes com úlceras gástricas ou duodenais infectados pelo *H.pylori*, independente de se tratar de primeira apresentação ou recidiva, não necessitam receber tratamento
- C) algumas condições clínicas que podem predispor à úlcera gástrica incluem ingestão crônica de álcool, tabagismo e terapia com corticosteroides de longa duração
- D) as úlceras associadas ao *H.pylori* são mais frequentes no estômago, enquanto as úlceras induzidas pelos anti-inflamatórios não esteroides são mais encontradas no duodeno

59. Os achados da endoscopia digestiva alta são corretamente correlacionados com os tipos de esofagites infecciosas na seguinte afirmativa:

- A) A esofagite por cândida apresenta placas branco-amareladas distribuídas na mucosa dos dois terços inferiores do esôfago.
- B) Na esofagite herpética, evidenciam-se lesões ulceradas, de tamanhos variados, únicas ou múltiplas, ocupando preferencialmente o terço médio e distal do esôfago.
- C) Nas infecções esofágicas causadas pelo vírus citomegálico (VCM), a apresentação endoscópica clássica é a de pequenas lesões purpúreas ou vesiculares, que evoluem para pequenas úlceras superficiais com fundo enantematoso e halo de hiperemia.
- D) Na esofagite pelo vírus HPV, os achados endoscópicos são friabilidade da mucosa, eritema e perda da vascularização normal do esôfago, pregueamento linear vertical, placas brancas ou exsudatos esbranquiçados, anéis concêntricos (traquealização esofágica), mucosa delicada em papel crepom.

60. Em relação às hepatites virais, pode-se afirmar corretamente que:

- A) a presença do marcador Anti-HAV IgM é compatível com infecção recente pelo HAV, confirmando o diagnóstico de hepatite aguda A
- B) o antígeno de superfície do HBV (HbsAg) permanece detectável por toda a vida nos indivíduos que tiveram a infecção
- C) o marcador Anti-HBs não indica imunidade contra o HBV e sua presença indica mau prognóstico
- D) o marcador Anti-HCV é o marcador de triagem para a hepatite C, entretanto a infecção aguda deve ser confirmada pela pesquisa de HCV-RNA

