



**CONCURSO PÚBLICO
PREFEITURA MUNICIPAL DE BOA VISTA
SECRETARIA MUNICIPAL DE ADMINISTRAÇÃO E GESTÃO DE PESSOAS - SMAG**

EDITAL Nº 002/2019-SMAG

MÉDICO PEDIATRA

**Duração: 03h00min (três horas)
Leia atentamente as instruções abaixo:**

01 Você recebeu do fiscal o seguinte material:

a) Este caderno, com 60 (sessenta) questões da Prova Objetiva, sem repetição ou falha, conforme distribuição abaixo:

LÍNGUA PORTUGUESA	ÉTICA NA ADMINISTRAÇÃO PÚBLICA E LEGISLAÇÃO MUNICIPAL	ATUALIDADES	NOÇÕES DE INFORMÁTICA	CONHECIMENTOS ESPECÍFICOS
01 a 10	11 a 30	31 a 35	36 a 40	41 a 60

b) Um Cartão de Respostas destinado às respostas das questões objetivas.

- 02** Verifique se este material está em ordem e se o seu nome e número de inscrição conferem com os que aparecem no Cartão de Respostas. Caso contrário, notifique imediatamente o fiscal.
- 03** Após a conferência, o candidato deverá assinar no espaço próprio do Cartão de Respostas, com caneta esferográfica de tinta na cor azul ou preta.
- 04** No Cartão de Respostas, a marcação da alternativa correta deve ser feita cobrindo a letra correspondente ao número da questão e preenchendo todo o espaço interno, com caneta esferográfica de tinta na cor azul ou preta, de forma contínua e densa.

Exemplo: A B C D

- 05** Para cada uma das questões objetivas, são apresentadas 4 (quatro) alternativas classificadas com as letras (A, B, C e D), mas só uma responde adequadamente à questão proposta. Você só deve assinalar uma alternativa. A marcação em mais de uma alternativa anula a questão, mesmo que uma das respostas esteja correta.
- 06** Somente depois de decorrida 01 (uma) hora do início da prova, o candidato poderá entregar seu Cartão de Respostas, seu Caderno de Questões e retirar-se da sala de prova. O candidato que insistir em sair da sala de prova, descumprindo o aqui disposto, deverá assinar o Termo de Ocorrência declarando sua desistência do Concurso, que será lavrado pelo Coordenador do Local.
- 07** Ao candidato, será permitido levar seu CADERNO DE QUESTÕES faltando no máximo 01 (uma) hora para o término da prova e desde que permaneça em sala até esse momento.
- 08** Não será permitida a cópia de gabarito no local de prova. Ao terminar a prova de Conhecimentos, o candidato entregará, obrigatoriamente, ao fiscal de sala, o seu CARTÃO DE RESPOSTAS e o seu CADERNO DE QUESTÕES, ressalvado o estabelecido no item 7.
- 09** Reserve os 30 (trinta) minutos finais para marcar seu Cartão de Respostas. Os rascunhos e as marcações assinaladas no Caderno de Questões não serão levados em consideração.
- 10** Os 3 (três) últimos candidatos permanecerão sentados até que todos concluem a prova ou que termine o seu tempo de duração, devendo assinar a ata de sala e retirar-se juntos.

LÍNGUA PORTUGUESA

Leia o texto I para responder às questões de 1 a 10.

Texto I

A mobilidade da criança

O que significa a mobilidade para os pequenos habitantes das cidades brasileiras? Para parte deles, o ir e vir está sempre relacionado ao carro. Das janelas dos automóveis, eles enxergam reflexos da cidade, mas não participam dela.

Para a maior parcela, que se locomove a pé e de transporte coletivo, há insegurança, medo e a certeza de que o pedestre é considerado um intruso, um invasor do espaço. Além de aprender que precisa atravessar a rua correndo porque o tempo do semáforo é insuficiente e o pedestre não é respeitado, a criança brasileira se acostuma a caminhar em calçadas muito estreitas e até em ruas sem a presença delas. As décadas de planejamento urbano focado no carro tornaram as ruas um território de guerra – o fato de que o Brasil é o quarto país do mundo em mortes no trânsito fala por si só. Pesquisadores internacionais há tempos discutem os efeitos da “imobilidade” e da violência no trânsito no desenvolvimento físico, cognitivo, motor e social das crianças. Exercer a independência numa cidade segura é fundamental para o crescimento saudável. Nos países em que as crianças andam de bicicleta e a pé com segurança, como na Holanda e na Dinamarca, por exemplo, os acidentes são praticamente inexistentes e a infância é um período de feliz interação na sociedade.

Sobrepeso e falta de luz solar

Segundo a urbanista e arquiteta espanhola Irene Quintáns, os urbanistas usam a presença de crianças no espaço público como indicador de sucesso urbano. “A ausência delas nas ruas aponta as falhas das nossas cidades”, ela diz.

Moradora da capital paulista há sete anos e mãe de dois filhos, Irene acredita que privar os pequenos de caminhar não é positivo. “Uma criança que fica circunscrita à locomoção no carro tende a ficar insegura para se movimentar. Ela também tem mais dificuldade em perceber o outro. Isso se chama empatia e é muito importante para a vida em sociedade. Há ainda a questão do sedentarismo, do sobrepeso e da falta de luz solar. Crianças que caminham para a escola têm mais concentração para desenvolver atividades complexas”.

Mesmo com todas as dificuldades já citadas, é importante usar o transporte público, caminhar e participar da vida na cidade. Na próxima vez que levar seus filhos à escola, reflita: por que ir de carro? Que

tal descobrir a cidade ao lado deles, trocando ideias sobre o que vocês veem? Assim, eles aprendem a ser cidadãos e a viver o coletivo, enquanto exigimos que o poder público priorize a proteção das nossas crianças.

(<https://www.metrojornal.com.br/colunistas/2018/10/11/mobilidade-da-crianca.html>)

1. A temática principal do texto se baseia na relação entre:

- A) mobilidade urbana e infância
- B) hierarquia social e propriedade
- C) acesso a transporte e economia
- D) visibilidade das pessoas e planejamento

2. Uma ideia explicitamente construída sobre o leitor considera que ele:

- A) ignora as desigualdades sociais
- B) transita com crianças pela cidade
- C) trabalha com planejamento geográfico
- D) defende valores do individualismo

3. No segundo parágrafo, o comentário introduzido por travessão expressa, em relação à ideia do parágrafo, uma relação de:

- A) negação
- B) explicação
- C) contradição
- D) comparação

4. No segundo parágrafo, a última frase expressa, em relação à anterior, uma relação de:

- A) contraposição
- B) ponderação
- C) retificação
- D) conclusão

5. “Mesmo com todas as dificuldades já citadas”. O trecho pode ser reescrito da seguinte forma, sem alteração do sentido:

- A) tanto que todas as dificuldades já citadas
- B) apesar de todas as dificuldades já citadas
- C) por causa de todas as dificuldades já citadas
- D) de acordo com todas as dificuldades já citadas

6. “Crianças que caminham para a escola têm mais concentração para desenvolver atividades complexas”. O trecho destacado exerce, no conjunto da frase, a função de introduzir uma:

- A) contradição
- B) enumeração
- C) especificação
- D) consequência

7. No último parágrafo, a forma verbal “priorize” indica ação com valor de:

- A) certeza
- B) hesitação
- C) possibilidade
- D) inviabilidade

8. Na frase “Para a maior parcela, que se locomove a pé e de transporte coletivo, há insegurança, medo e a certeza de que o pedestre é considerado um intruso, um invasor do espaço” (2º parágrafo), o uso da voz passiva provoca o seguinte efeito de sentido:

- A) culpar o governo pelo comportamento
- B) sugerir uma falha de planejamento
- C) propor uma solução alternativa
- D) omitir o responsável pela ação

9. Em “que fica circunscrita à locomoção no carro” (4º parágrafo), a palavra “circunscrita” pode ser substituída, sem prejuízo do sentido original, por:

- A) homogênea
- B) confusa
- C) restrita
- D) aberta

10. Acentuação está corretamente justificada em:

- A) “automóveis” – proparoxítona
- B) “país” – oxítona terminada em “-i(s)”
- C) “saudável” – paroxítona terminada em “-l”
- D) “décadas” – paroxítona terminada em “-a(s)”

ÉTICA NA ADMINISTRAÇÃO PÚBLICA E LEGISLAÇÃO MUNICIPAL

11. Sandra, com quinze anos de idade, pretende adquirir estabilidade financeira com a aprovação em concurso público, sendo certo que completou o ensino fundamental e está cursando o último ano do ensino médio. Nos termos da Lei Complementar nº 3/2012 do município de Boa Vista, um dos requisitos para a investidura em cargo público consiste na idade mínima de:

- A) dezesseis anos
- B) dezessete anos
- C) dezoito anos
- D) dezenove anos

12. Pepe resolve estudar para ser aprovado em concurso para ingresso na autarquia municipal W. Nos termos da Lei Complementar nº 3/2012 do município de Boa Vista, a competência para prover os cargos em autarquias seria do seu:

- A) dirigente máximo
- B) diretor de pessoal
- C) gerente regional
- D) coordenador de recursos humanos

13. Sócrates é arquiteto e servidor efetivo do município B, sendo convidado para ocupar, interinamente, cargo em comissão em secretaria municipal. Nos termos da Lei Complementar nº 3/2012 do município de Boa Vista, quando exercido interinamente, o cargo em comissão demanda:

- A) designação
- B) nomeação
- C) indicação
- D) colocação

14. Jervásio foi aprovado em concurso público para o cargo de professor municipal, tendo ocorrido a homologação do certame em 2017. Nos termos da Lei Complementar nº 3/2012 do município de Boa Vista, a prorrogação da validade do concurso poderá ocorrer:

- A) duas vezes
- B) uma única vez
- C) sem prazo
- D) condicionalmente

15. Januário foi instado a realizar exames médicos para comprovar o seu estado de saúde com o objetivo de formalizar os atos finais inerentes a concurso público. Nos termos da Lei Complementar nº 3/2012 do município de Boa Vista, a posse em cargo público depende de prévia inspeção:

- A) hospitalar pública
- B) salutar privada
- C) médica oficial
- D) fisiológica ideal

16. Ernestino é servidor municipal, ocupando cargo de nível superior e, após os trâmites legais, é promovido. Nos termos da Lei Complementar nº 3/2012 do município de Boa Vista, a promoção não interrompe o tempo de exercício, que é contado no novo posicionamento na carreira a partir da data da:

- A) assinatura do ato
- B) publicação do ato
- C) aceitação do ato
- D) resolução do ato

17. Jobinho é servidor municipal e logrou a obtenção de aposentadoria voluntária por ter cumprido os requisitos normativos exigidos. Posteriormente, requereu o retorno ao serviço público municipal. Nos termos da Lei Complementar nº 3/2012 do município de Boa Vista, esse retorno não poderá amparar o servidor que já tiver completado:

- A) sessenta anos de idade
- B) sessenta e dois anos de idade
- C) sessenta e cinco anos de idade
- D) setenta anos de idade

18. Creso é servidor municipal e foi colocado em disponibilidade pelo período de três anos. Após o término do prazo, requereu o seu retorno ao serviço público, sendo comunicado da extinção do órgão onde prestava serviço. Nos termos da Lei Complementar nº 3/2012 do município de Boa Vista, o servidor posto em disponibilidade poderá ser mantido sob responsabilidade da Secretaria Municipal de:

- A) Administração
- B) Fazenda
- C) Governo
- D) Educação

19. Afonso Pena, servidor ocupante de cargo efetivo no município TX, foi convidado para chefiar o setor de Recursos Humanos da Secretaria Municipal de Saúde. Nos termos da Lei Complementar nº 3/2012 do município de Boa Vista, ao ocupante de função de chefia é cabível, pelo seu devido exercício, o pagamento de:

- A) gratificação
- B) retribuição
- C) adicional
- D) diárias

20. Venceslau é engenheiro e foi aprovado em concurso público para ocupar cargo no município ZZ. Para cumprir projeto patrocinado pelo governo federal, passa a atuar em laboratório submetido ao contato com substâncias radioativas. Esse contato ocorre a cada dois meses. Diante disso, requer pagamento de adicional de insalubridade. Nos termos da Lei Complementar nº 3/2012 do município de Boa Vista, **NÃO** haverá pagamento do adicional quando a exposição aos agentes nocivos ocorrer de forma:

- A) assídua
- B) geral
- C) ocasional
- D) conveniada

21. Adiel, servidor público, procura melhorias na sua carreira e remuneração. Nos termos da Lei nº 1.611 do município de Boa Vista, corresponde ao crescimento na mesma classe ou categoria profissional, com mudança para o próximo padrão de vencimento, a:

- A) projeção
- B) progressão
- C) remoção
- D) transposição

22. Tércio concluiu o ensino médio e pretende realizar concurso público. Nos termos da Lei nº 1.611 do município de Boa Vista, o cargo em que o requisito mínimo é o ensino médio corresponde ao cargo de:

- A) assistente
- B) auxiliar
- C) assessor
- D) atendente

23. Sueli é professora com mestrado em Educação e atua no ensino de crianças com necessidades especiais. Nos termos da Lei nº 1.611 do município de Boa Vista, a jornada de trabalho do professor deve corresponder a:

- A) vinte horas semanais
- B) vinte e cinco horas semanais
- C) trinta horas semanais
- D) quarenta horas semanais

24. Maxuell foi reenquadrado em novo plano de carreira aprovado por lei municipal que reorganizou a carreira à qual pertence. Nos termos da Lei nº 712 do município de Boa Vista, após o enquadramento dos servidores, nenhuma nomeação para cargo efetivo poderá ser efetuada senão na referência inicial de cada categoria funcional, vinculada à respectiva especialidade e condicionada à aprovação e habilitação em:

- A) concurso público
- B) seleção pública
- C) chamada pública
- D) processo público

25. Eleutério é servidor municipal e pretende requerer o parcelamento de suas férias. Nos termos da Lei Complementar nº 3/2012 do município de Boa Vista, as férias podem ser parceladas em até:

- A) duas etapas
- B) três etapas
- C) quatro etapas
- D) cinco etapas

26. Epaminondas está com seu enteado Elesbão com problemas de saúde. Diante disso, requer afastamento do serviço público municipal onde exerce o cargo de professor. Nos termos da Lei Complementar nº 3/2012 do município de Boa Vista, nesses casos, o servidor terá direito a licença não remunerada de:

- A) noventa dias
- B) cem dias
- C) cento e vinte dias
- D) cento e cinquenta dias

27. Amadeu pretende candidatar-se a cargo eletivo, tendo apresentado requerimento de registro perante a Justiça eleitoral vinculado ao partido político Asa. Nos termos da Lei Complementar nº 3/2012 do município de Boa Vista, o servidor terá direito a licença, sem remuneração, durante o período que deve ter início com a sua escolha em:

- A) comitê eleitoral
- B) assembleia geral
- C) convenção partidária
- D) votação regional

28. Ricardo Adriano é candidato à presidência do sindicato dos servidores do município TWZ. Após sua eleição, requer o afastamento do serviço para atuar exclusivamente nas funções sindicais. O sindicato possui dez mil associados. Nos termos da Lei Complementar nº 3/2012 do município de Boa Vista, é assegurado ao servidor o direito à licença com remuneração para o desempenho de mandato no sindicato representativo da categoria, limitado, no caso presente, a no máximo:

- A) dois servidores
- B) três servidores
- C) quatro servidores
- D) cinco servidores

29. Holmes atua no setor de licitações da empresa municipal CT do município VV. Cioso de suas responsabilidades, fiscaliza o cumprimento do princípio da publicidade dos atos administrativos. É consentâneo com os instrumentos normativos pátrios que regulam a ética no serviço público que a omissão quanto à publicidade ofende o:

- A) bem comum
- B) solidarismo
- C) patriotismo
- D) corporativismo

30. Winston é servidor público e não está adaptado ao órgão onde foi lotado, realizando repetidos erros e desvios de função. É consentâneo com os instrumentos normativos pátrios que regulam a ética no serviço público que essas atitudes caracterizam, quanto ao desempenho da função pública:

- A) rebeldia
- B) imprudência
- C) mal-estar
- D) descortesia

ATUALIDADES

31. Em novembro de 2019, os jornais noticiaram que, em 2018, 13,5 milhões de brasileiros viveram com uma renda per capita mensal inferior a R\$ 145,00 reais, um recorde de crescimento da população em situação de extrema pobreza, pois foi o maior índice encontrado nos últimos sete anos. A notícia revelou que vem ocorrendo no país um evidente aumento:

- A) do desenvolvimento econômico
- B) da igualdade econômica
- C) da desigualdade social
- D) do estamento social

32. Artigos de jornais, publicados em novembro de 2019, demonstraram que as possibilidades de contingenciamento e de corte de recursos nas áreas da educação, ciência e tecnologia preocupou estudiosos, cientistas e congressistas do país, por considerarem que a redução acentuada de investimento em educação e pesquisa nos tempos atuais poderá se transformar, no futuro, em um fator que:

- A) garantirá o aumento da riqueza nacional
- B) limitará o desenvolvimento econômico do país
- C) estabilizará o crescimento produtivo regional
- D) fortalecerá a competitividade comercial no país

33. No segundo semestre de 2019, os noticiários analisaram o grande desastre ecológico que ocorreu no litoral do país, e avaliaram que as dimensões de danos foram intensas, causando uma degradação no meio ambiente que poderá permanecer por décadas. A contaminação ambiental foi grave por se tratar de toneladas de:

- A) óleo com efeitos tóxicos
- B) rejeitos de minério de ferro
- C) mercúrio e metais pesados
- D) cinzas ácidas das queimadas

34. Especialistas em saúde pública afirmam que o uso excessivo de agrotóxicos na produção nacional de alimentos pode afetar a saúde da população, provocando problemas respiratórios, impotência, depressão, aborto, câncer, entre outros danos à saúde.

Como precaução ao problema, os estudiosos recomendam que a população se alimente de produtos produzidos pela:

- A) silvicultura
- B) agroecologia
- C) aquicultura
- D) agroindústria

35. As metas de Desenvolvimento Sustentável da Organização das Nações Unidas destacam a necessidade de aumentar a participação de energias renováveis na matriz energética global. O Brasil tem avançado, em maior proporção, na geração de um tipo de energia elétrica sustentável que apresenta menor risco de ocorrência de danos e desastres ambientais.

Trata-se da produção de energia:

- A) solar
- B) nuclear
- C) eólica
- D) hidrelétrica

NOÇÕES DE INFORMÁTICA





36. No que diz respeito aos conceitos da internet, pode-se afirmar que:

- I. um termo tem por significado baixar ou transferir dados de uma página para o computador de um usuário, como no caso de um edital em formato PDF, referente a um concurso público;
- II. uma sigla tem por significado o endereço *web* que se digita na barra de endereços de um *browser* para se chegar a um *site*, como por exemplo <https://www.google.com.br/>.

O termo e a sigla são, respectivamente:

- A) *download* e DNS
- B) *download* e URL
- C) *upload* e DNS
- D) *upload* e URL

37. Na Área de Notificação do Windows 10 BR, localizada no canto inferior direito da tela do monitor de um *notebook*, há um ícone que serve para o usuário verificar o *status* da conexão *wifi* à internet. Esse ícone é:

- A) 
- B) 
- C) 
- D) 

38. A planilha a seguir foi criada no Excel 2019 BR, em que foram realizados os procedimentos descritos a seguir.

- Em F12, foi inserida a expressão =MED(A11:A15).
- Em F14, foi inserida a expressão =MOD(F12;2).

	A	B	C	D	E	F
1						
2						
3						
4						
5						
6						
7						
8						
9						
10	CIDADE DE BOA VISTA - RR					
11	23					
12	15					MEDIANA = <input data-bbox="614 810 746 855" type="text" value="?"/>
13	10					
14	13					MOD = <input data-bbox="614 900 746 945" type="text" value="?"/>
15	19					





Nessas condições, os valores mostrados em F12 e em F14 são, respectivamente:

- 15 e 0
- 15 e 1
- 16 e 0
- 16 e 1

39. No Word 2019 BR, dois recursos devem ser empregados com as seguintes finalidades:

- um atalho de teclado destina-se a converter uma frase ou palavra selecionada em minúsculas para maiúsculas e vice-versa;
- um ícone deve ser acionado por meio do *mouse* para aplicar sombreamento, ou seja, mudar a cor atrás do texto, parágrafo ou célula de tabela selecionada.

O atalho de teclado e o ícone são, respectivamente:

- Ctrl + F3 e 
- Ctrl + F3 e 
- Shift + F3 e 
- Shift + F3 e 

40. A planilha a seguir foi criada no Excel 2019 BR. Para contabilizar a quantidade de atendimentos nas células D27, D28 e D29, foi empregada a função SOMASE, usando o conceito de referência absoluta. Para finalizar, foi inserida em D30 uma expressão que adiciona os valores de D27, D28 e D29.

	A	B	C	D
4				
5				
6				
7				
8				
9				
10				
11	MÊS	ESPECIALIDADE	COLABORADOR	QUANTIDADE
12	1	RESSONÂNCIA	<i>João</i>	123
13		TOMOGRAFIA	<i>Juliana</i>	98
14		TOMOGRAFIA	<i>Juliana</i>	23
15		PEDIATRIA	<i>Feitosa</i>	131
16	2	RESSONÂNCIA	<i>João</i>	56
17		RESSONÂNCIA	<i>João</i>	73
18		TOMOGRAFIA	<i>Juliana</i>	89
19		PEDIATRIA	<i>Feitosa</i>	53
20	3	RESSONÂNCIA	<i>João</i>	48
21		TOMOGRAFIA	<i>Juliana</i>	80
22		PEDIATRIA	<i>Feitosa</i>	76
23		PEDIATRIA	<i>Feitosa</i>	70
24	TOTAL =			920
25				
26	RESUMO			
27	RESSONÂNCIA			300
28	TOMOGRAFIA			290
29	PEDIATRIA			330
30	TOTAL =			920

As expressões inseridas em D29 e em D30 foram, respectivamente:

- =SOMASE(&B&12:&B&23;B29;&D&12:&D&23)
e =SOMA(D27:D29)
- =SOMASE(&B&12:&B&23;B29;&D&12:&D&23)
e =SOMA(D27;D29)
- =SOMASE(\$B\$12:\$B\$23;B29;\$D\$12:\$D\$23)
e =SOMA(D27:D29)
- =SOMASE(\$B\$12:\$B\$23;B29;\$D\$12:\$D\$23)
e =SOMA(D27;D29)

CONHECIMENTOS ESPECÍFICOS

41. Durante as consultas de pré-natal, adolescente não relata à sua médica obstetra, que faz uso contínuo de determinado medicamento. Seu bebê nasce com defeito de tubo neural, fissura de lábio e palato, entre outras anomalias. Durante o acompanhamento mensal do pequeno paciente, a pediatra observa que o menor apresenta problemas no desenvolvimento mental e físico.

Dos medicamentos abaixo relacionados, aquele que, usado durante a gravidez, pode aumentar o risco de a criança desenvolver essas patologias é:

- A) indometacina
- B) ácido valpróico
- C) digoxina
- D) talidomida

42. Lactente de 6 meses de vida é trazido pela mãe ao ambulatório de Pediatria com relato de febre há dois dias, associado a episódios de vômito (5x), recusa alimentar (leite materno exclusivo) evoluindo com um episódio de fezes com muco e sangue parecendo “geleia de framboesa”. Ao exame físico, o paciente encontra-se em regular estado de nutrição, irritado, desidratado e hipocorado. Ausculta pulmonar e cardíaca sem alterações. Abdome doloroso à palpação, distendido, hipertimpânico, com massa papável em forma de salsicha no quadrante superior direito. Foi encaminhado à internação para investigação diagnóstica. Foram solicitados: hemograma, bioquímica sanguínea, Raio X de abdome e ultrassonografia abdominal.

No quadro descrito, a patologia mais sugestiva é:

- A) intussuscepção
- B) gastroenterite
- C) infarto mesentérico
- D) volvo intestinal

43. Lactente com 12 semanas de vida apresenta icterícia prolongada, fontanela posterior aumentada, letargia, obstipação intestinal e hérnia umbilical. Fez o teste de triagem neonatal com resultado positivo para hipotireoidismo congênito (HC).

Os valores apresentados no resultado do exame que sugerem este diagnóstico são:

- A) TSH, T4 total e T4 livre aumentados
- B) TSH aumentado, T4 total ou T4 livre diminuídos
- C) TSH diminuído, T4 total ou T4 livre aumentados
- D) TSH, T4 total e T4 livre diminuídos

44. Um menino de 3 anos de idade é levado à Emergência após ingerir acidentalmente soda cáustica que estava em uma garrafa *pet* de refrigerante, em local de fácil acesso. A mãe, muito nervosa, não sabe informar o volume do líquido ingerido e nem há quanto tempo houve o acidente. A criança com *facies* de dor e chorosa apresenta lesões na cavidade oral, sialorreia, deglutição dolorosa com recusa alimentar.

Após o manejo inicial do paciente, com prioridade à estabilização hemodinâmica e permeabilidade das vias aéreas, a conduta a ser tomada até a realização da endoscopia digestiva alta para definir a extensão da lesão do trato digestivo é:

- A) administrar ácidos e antibióticos de largo espectro
- B) induzir o vômito, fazer lavagem gástrica e oferecer leite
- C) usar carvão ativado além da alimentação por via oral
- D) não ofertar alimentação por via oral e utilizar inibidores de bomba de prótons

45. A invasão dos territórios indígenas ianomâmis por garimpeiros ilegais tem provocado a contaminação dos rios da região com mercúrio usado para capturar as partículas de ouro. A exposição prolongada da gestante ao mercúrio pode causar danos irreversíveis ao sistema nervoso central (SNC) do feto. Crianças expostas a este metal podem apresentar redução da inteligência e do desempenho nas áreas de linguagem, atenção e memória. De acordo com pesquisa da Fiocruz, mais de 50% das amostras de cabelo entre mulheres na idade fértil e crianças apresentam índices de contaminação desse metal.

Segundo a Organização Mundial da Saúde, a dose referência de tolerância biológica à contaminação de mercúrio no cabelo é de:

- A) $< 0,1 \mu\text{g.g}^{-1}$
- B) $> 1,0 \mu\text{g.g}^{-1}$ a $6,0 \mu\text{g.g}^{-1}$
- C) $> 6,0 \mu\text{g.g}^{-1}$ a $10 \mu\text{g.g}^{-1}$
- D) $> 10 \mu\text{g.g}^{-1}$

46. Ao nascimento, profundas mudanças ocorrem na circulação do recém-nascido a termo. Estas mudanças incluem:

- A) diminuição do fluxo pulmonar
- B) aumento da resistência vascular pulmonar
- C) queda da resistência vascular sistêmica
- D) queda da resistência vascular pulmonar

47. Menino na faixa etária de 6 anos de idade chega à Emergência referindo estar com o rosto inchado. Segundo a mãe, o menor apresenta urina avermelhada há dias, que ela refere coincidir com uma bolada nas costas que recebeu no futebol. Durante a anamnese, o pediatra elabora suspeita diagnóstica de que o menino tenha tido impetigo há mais ou menos quinze dias, pelas marcas na pele. No exame clínico, o paciente apresenta edema de face e de membros inferiores. A pressão arterial está em torno de valores superiores ao percentil 95 para idade, sexo e percentil de estatura, confirmados em 3 ocasiões subsequentes. Como resultado de exames, apresentou hipoalbuminemia e, no exame de urina, relação proteína/creatinina na amostra isolada maior que 3,5 gramas, além de hemácias associadas a cilindros hemáticos e leucócitos polimorfonucleares. O quadro exposto sugere:

- A) síndrome de Alport
- B) glomeruloesclerose focal
- C) glomerulonefrite membranosa idiopática
- D) glomerulonefrite aguda pós estreptocócica

48. Criança com 9 meses de idade apresenta febre de 39° C persistente, acompanhada de tosse, coriza, fotofobia e conjuntivite. O quadro deu início há mais ou menos 5 dias e no 3º dia apareceram, inicialmente, manchas vermelhas no rosto e atrás das orelhas que, em seguida, se espalharam pelo corpo. Segundo o pediatra, o lactente apresenta sinais e sintomas de sarampo. Como o menor frequenta uma creche, a diretora encaminhou aos pais a notificação da doença. Segundo o Ministério da Saúde, devido à ocorrência de surtos da doença em vários estados, os critérios de indicação da vacina são:

- A) primeira dose: aos 5 meses de vida
- B) primeira dose: aos 15 meses de vida
- C) dose zero: de 6 meses a menores de 1 ano
- D) dose zero: aos 4 meses de vida

49. Um lactente de oito meses de idade iniciou há sete dias um quadro de diarreia aguda, cujo agente etiológico foi identificado como rotavírus. Desde então, tem apresentado evacuações frequentes, explosivas, com fezes líquidas. Ao exame clínico, a criança apresenta bom estado geral, discreta distensão abdominal e hiperemia perianal. Este é um caso característico de:

- A) enterite bacteriana secundária
- B) intolerância à lactose
- C) síndrome do intestino contaminado
- D) persistência da infecção bacteriana

50. Um recém-nascido apresentou, ao nascer, um estridor alto e dificuldade respiratória. A gravidez transcorreu sem complicações, com resultados da ultrassonografia pré-natal sem alterações. Após o parto vaginal espontâneo de 38 semanas de gestação, o neonato desenvolveu imediatamente taquipneia, retrações severas, tosse forte e rouca e dessaturação de oxigênio a 60%, o que exigiu pressão positiva contínua nas vias aéreas. Foi entubado na primeira hora de vida. O médico, ao entubar o bebê, notou a presença de uma grande massa laríngea que não continha ar em seu interior e não se comunicava com o lúmen laríngeo. A patologia que o quadro clínico descreve é:

- A) cisto sacular congênito da laringe
- B) membrana glótica
- C) laringomalacia
- D) laringocele

51. Adolescente com diagnóstico de anemia falciforme, desde os dois anos de idade, procurou atendimento médico, pois apresenta dor abdominal associada à icterícia. Relata que já apresentou estes sintomas duas vezes nos últimos seis meses. A queixa atual é de dor abdominal localizada no quadrante superior direito, náuseas, vômitos, febre, alteração do hábito intestinal, piora da icterícia e colúria. Ao exame físico, o pediatra observa icterícia ++/+4, distensão abdominal e dor à palpação superficial no hipocôndrio direito. Internado para investigação, apresentou hemograma com hemoglobina de 6,5 g/dl, leucocitose (19.000 leuc/mm³) com desvio para a esquerda e bilirrubina direta de 5 mg/dl. A ultrassonografia demonstrou vesícula biliar com paredes espessadas e cálculos biliares.

A conduta que deve ser tomada para resolver essa patologia é:

- A) observar a evolução do quadro, prescrever medicamentos sintomáticos, corrigir os distúrbios eletrolíticos e alta para casa
- B) prescrever hidratação, transfusão de concentrado de plaquetas e colecistectomia de urgência
- C) prescrever antibióticos, hidratação venosa, transfusão de concentrado de plaquetas e medidas gerais para o alívio dos sintomas
- D) prescrever antibióticos, hidratação venosa, transfusão de concentrado de hemácias, correção de distúrbios eletrolíticos, medidas gerais para o alívio dos sintomas e colecistectomia eletiva precoce

52. Mãe de um lactente de três meses de idade relata ansiosa ao pediatra que seu filho tem apresentado evacuações com fezes líquidas, de coloração esverdeada, às vezes explosivas, logo após as mamadas. O bebê está em aleitamento materno exclusivo. Ao exame físico, o menor encontra-se clinicamente bem, com peso mantido no percentil 25. A conduta neste caso é:

- A) suspender o leite materno e prescrever fórmula láctea sem lactose
- B) suspender o leite materno e prescrever leite de vaca desnatado
- C) manter o aleitamento materno exclusivo
- D) suspender o leite materno e prescrever leite de soja

53. Menino com 5 anos de idade foi trazido ao pronto-atendimento de Pediatria por apresentar quadro de febre de 38,7° C, duas a três vezes ao dia, rinorreia, cefaleia e mal-estar, com três dias de evolução. Calendário vacinal em dia. Segundo a mãe, sempre foi hígido. Após exame físico, foi diagnosticado com uma síndrome gripal. Foram prescritos sintomáticos e solicitado seu retorno em 48 h caso não melhorasse. Sete dias após a consulta e já sem os sintomas anteriores, apresentou, subitamente, dor intensa em ambas as panturrilhas que o impedia deambular. Retornou ao ambulatório, onde foi atendido anteriormente, sendo solicitada sua internação para investigação diagnóstica. O exame de sangue mostrou leucopenia com 4.100 leuc/mm³, linfopenia com 1.100 linf/mm³, plaquetas de 123.000/mm³ e creatinina fosfoquinase (CPK) de 2.180 U/L.

A hipótese diagnóstica mais provável é:

- A) miosite benigna aguda
- B) rabdomiólise
- C) Guillain-Barré
- D) dermatomiosite

54. Lactente com 6 meses de vida apresenta dermatite periorifical, estomatite, glossite, alopecia, irritabilidade, diarreia, candidíase na região das fraldas e fotofobia. Nunca foi amamentado pela mãe, ingerindo leite de vaca desde o nascimento. O quadro dermatológico manifestou-se com poucas semanas após o nascimento. Inicialmente apresentou eritema cutâneo e, após, lesões vesiculosas e eczematosas. O quadro clínico sugere:

- A) acrodermatite enteropática
- B) dermatose por IgA linear
- C) histiocitose X
- D) psoríase

55. Maria Eduarda tem 13 anos de idade e vai pela primeira vez à consulta médica como adolescente. Depois de uma conversa inicial com a pediatra e um psicólogo e esclarecimentos sobre o exame físico e o respeito ao pudor, a paciente percebe a importância daquela consulta. No exame das características sexuais secundárias, Maria Eduarda apresenta projeção da aréola e das papilas para formar montículo secundário por cima da mama e presença de pêlos mais escuros e ásperos sobre o púbis. Pelos critérios de Tanner, o estagiamento do desenvolvimento puberal da adolescente é:

- A) M3 P3
- B) M4 P3
- C) M2 P3
- D) M4 P2

56. Recém-nascido prematuro, depois de passar por várias intercorrências na UTI Neonatal onde está internado, tais como episódios de hipóxia e quadros infecciosos, apresenta distensão abdominal, vômitos biliosos e hematoquezia. Evoluiu com pneumoperitônio.

A causa que mais sugere este quadro clínico é:

- A) acidose metabólica
- B) volvo intestinal
- C) enterocolite necrotizante
- D) invaginação intestinal

57. Uma menina com 10 anos de idade é levada à Clínica da Família devido a dores abdominais frequentes. Na anamnese, relata que o abdome está sempre distendido e que suas fezes são pastosas e, às vezes, líquidas. Bebe água de poço e brinca na terra. Refere que tem prurido perianal toda noite. Pesa 22 quilos e tanto o IMC quanto relação peso/idade estão abaixo do percentil 10, quando se utiliza o padrão da OMS.

Nesse caso específico, o enteroparasita que potencialmente provoca esta patologia é:

- A) *Enterobius vermicularis*
- B) *Ancylostoma duodenale*
- C) *Ascaris lumbricoides*
- D) *Trichuris trichiura*

58. Dos exames abaixo relacionados, aquele que confirma o diagnóstico de asma brônquica atópica em crianças acima de 6 anos de idade é a:

- A) radiografia de tórax em PA e perfil
- B) dosagem de imunoglobulina A
- C) prova de função pulmonar alterada
- D) dosagem de precipitina sérica contra micoplasma

59. Menino com 8 anos de idade, história de glomerulonefrite pós-estreptocócica aguda tratada há mais ou menos 1 ano, vai à consulta de rotina com a nefrologista. Não refere queixas. Apresenta estatura de 127 cm compatível com percentil 50 e peso de 27,5 kg entre os percentis 50 e 75. Ausculta cardíaca sem soprológia com ritmo regular em 2 tempos e bulhas normofonéticas. Ausculta pulmonar com murmúrio vesicular presente sem ruídos adventícios. Abdome globoso sem visceromegalias. Pressão arterial (PA): 114/76 mmHg (mesma medida em aferições anteriores). As pressões sistólica e diastólica estão acima do percentil 90 e abaixo do percentil 95 quando relacionadas com o percentil de estatura.

Diante do exposto a condição clínica do menino é identificada como:

- A) normotensão
- B) hipertensão grave
- C) pré-hipertensão
- D) hipertensão estágio 2

60. Criança de 7 anos de idade, natural de uma tribo indígena, apresenta há quase um ano emagrecimento, queda do estado geral e febre baixa. O menino refere dor precordial e dispnéia de decúbito. Ao exame físico, apresenta mucosas hipocoradas ++/+4, sem estase jugular. Ausculta cardíaca com bulhas hipofonéticas e pulso paradoxal. Ausculta pulmonar sem ruídos adventícios. Raio X de tórax em PA mostrou índice cardíaco aumentado e parênquima pulmonar sem alterações. Tomografia computadorizada de tórax mostrou espessamento pericárdico e linfonodos mediastinais.

A hipótese diagnóstica para este caso é de:

- A) pericardite viral
- B) pericardite reumática
- C) Síndrome de Kawasaki
- D) pericardite tuberculosa