



**CONCURSO PÚBLICO
PREFEITURA MUNICIPAL DE BOA VISTA
SECRETARIA MUNICIPAL DE ADMINISTRAÇÃO E GESTÃO DE PESSOAS - SMAG**

EDITAL Nº 002/2019-SMAG

MÉDICO REUMATOLOGISTA PEDIÁTRICO

Duração: 03h00min (três horas)

Leia atentamente as instruções abaixo:

01 Você recebeu do fiscal o seguinte material:

a) Este caderno, com 60 (sessenta) questões da Prova Objetiva, sem repetição ou falha, conforme distribuição abaixo:

LÍNGUA PORTUGUESA	ÉTICA NA ADMINISTRAÇÃO PÚBLICA E LEGISLAÇÃO MUNICIPAL	ATUALIDADES	NOÇÕES DE INFORMÁTICA	CONHECIMENTOS ESPECÍFICOS
01 a 10	11 a 30	31 a 35	36 a 40	41 a 60

b) Um Cartão de Respostas destinado às respostas das questões objetivas.

02 Verifique se este material está em ordem e se o seu nome e número de inscrição conferem com os que aparecem no Cartão de Respostas. Caso contrário, notifique imediatamente o fiscal.

03 Após a conferência, o candidato deverá assinar no espaço próprio do Cartão de Respostas, com caneta esferográfica de tinta na cor azul ou preta.

04 No Cartão de Respostas, a marcação da alternativa correta deve ser feita cobrindo a letra correspondente ao número da questão e preenchendo todo o espaço interno, com caneta esferográfica de tinta na cor azul ou preta, de forma contínua e densa.

Exemplo:



05 Para cada uma das questões objetivas, são apresentadas 4 (quatro) alternativas classificadas com as letras (A, B, C e D), mas só uma responde adequadamente à questão proposta. Você só deve assinalar uma alternativa. A marcação em mais de uma alternativa anula a questão, mesmo que uma das respostas esteja correta.

06 Somente depois de decorrida 01 (uma) hora do início da prova, o candidato poderá entregar seu Cartão de Respostas, seu Caderno de Questões e retirar-se da sala de prova. O candidato que insistir em sair da sala de prova, descumprindo o aqui disposto, deverá assinar o Termo de Ocorrência declarando sua desistência do Concurso, que será lavrado pelo Coordenador do Local.

07 Ao candidato, será permitido levar seu CADERNO DE QUESTÕES faltando no máximo 01 (uma) hora para o término da prova e desde que permaneça em sala até esse momento.

08 Não será permitida a cópia de gabarito no local de prova. Ao terminar a prova de Conhecimentos, o candidato entregará, obrigatoriamente, ao fiscal de sala, o seu CARTÃO DE RESPOSTAS e o seu CADERNO DE QUESTÕES, ressalvado o estabelecido no item 7.

09 Reserve os 30 (trinta) minutos finais para marcar seu Cartão de Respostas. Os rascunhos e as marcações assinaladas no Caderno de Questões não serão levados em consideração.

10 Os 3 (três) últimos candidatos permanecerão sentados até que todos concluem a prova ou que termine o seu tempo de duração, devendo assinar a ata de sala e retirar-se juntos.

LÍNGUA PORTUGUESA

Leia o texto I para responder às questões de 1 a 10.

Texto I

A mobilidade da criança

O que significa a mobilidade para os pequenos habitantes das cidades brasileiras? Para parte deles, o ir e vir está sempre relacionado ao carro. Das janelas dos automóveis, eles enxergam reflexos da cidade, mas não participam dela.

Para a maior parcela, que se locomove a pé e de transporte coletivo, há insegurança, medo e a certeza de que o pedestre é considerado um intruso, um invasor do espaço. Além de aprender que precisa atravessar a rua correndo porque o tempo do semáforo é insuficiente e o pedestre não é respeitado, a criança brasileira se acostuma a caminhar em calçadas muito estreitas e até em ruas sem a presença delas. As décadas de planejamento urbano focado no carro tornaram as ruas um território de guerra – o fato de que o Brasil é o quarto país do mundo em mortes no trânsito fala por si só. Pesquisadores internacionais há tempos discutem os efeitos da “imobilidade” e da violência no trânsito no desenvolvimento físico, cognitivo, motor e social das crianças. Exercer a independência numa cidade segura é fundamental para o crescimento saudável. Nos países em que as crianças andam de bicicleta e a pé com segurança, como na Holanda e na Dinamarca, por exemplo, os acidentes são praticamente inexistentes e a infância é um período de feliz interação na sociedade.

Sobrepeso e falta de luz solar

Segundo a urbanista e arquiteta espanhola Irene Quintáns, os urbanistas usam a presença de crianças no espaço público como indicador de sucesso urbano. “A ausência delas nas ruas aponta as falhas das nossas cidades”, ela diz.

Moradora da capital paulista há sete anos e mãe de dois filhos, Irene acredita que privar os pequenos de caminhar não é positivo. “Uma criança que fica circunscrita à locomoção no carro tende a ficar insegura para se movimentar. Ela também tem mais dificuldade em perceber o outro. Isso se chama empatia e é muito importante para a vida em sociedade. Há ainda a questão do sedentarismo, do sobrepeso e da falta de luz solar. Crianças que caminham para a escola têm mais concentração para desenvolver atividades complexas”.

Mesmo com todas as dificuldades já citadas, é importante usar o transporte público, caminhar e participar da vida na cidade. Na próxima vez que levar seus filhos à escola, reflita: por que ir de carro? Que

tal descobrir a cidade ao lado deles, trocando ideias sobre o que vocês veem? Assim, eles aprendem a ser cidadãos e a viver o coletivo, enquanto exigimos que o poder público priorize a proteção das nossas crianças.

(<https://www.metrojornal.com.br/colunistas/2018/10/11/mobilidade-da-crianca.html>)

1. A temática principal do texto se baseia na relação entre:

- A) mobilidade urbana e infância
- B) hierarquia social e propriedade
- C) acesso a transporte e economia
- D) visibilidade das pessoas e planejamento

2. Uma ideia explicitamente construída sobre o leitor considera que ele:

- A) ignora as desigualdades sociais
- B) transita com crianças pela cidade
- C) trabalha com planejamento geográfico
- D) defende valores do individualismo

3. No segundo parágrafo, o comentário introduzido por travessão expressa, em relação à ideia do parágrafo, uma relação de:

- A) negação
- B) explicação
- C) contradição
- D) comparação

4. No segundo parágrafo, a última frase expressa, em relação à anterior, uma relação de:

- A) contraposição
- B) ponderação
- C) retificação
- D) conclusão

5. “Mesmo com todas as dificuldades já citadas”. O trecho pode ser reescrito da seguinte forma, sem alteração do sentido:

- A) tanto que todas as dificuldades já citadas
- B) apesar de todas as dificuldades já citadas
- C) por causa de todas as dificuldades já citadas
- D) de acordo com todas as dificuldades já citadas

6. “Crianças que caminham para a escola têm mais concentração para desenvolver atividades complexas”. O trecho destacado exerce, no conjunto da frase, a função de introduzir uma:

- A) contradição
- B) enumeração
- C) especificação
- D) consequência

7. No último parágrafo, a forma verbal “priorize” indica ação com valor de:

- A) certeza
- B) hesitação
- C) possibilidade
- D) inviabilidade

8. Na frase “Para a maior parcela, que se locomove a pé e de transporte coletivo, há insegurança, medo e a certeza de que o pedestre é considerado um intruso, um invasor do espaço” (2º parágrafo), o uso da voz passiva provoca o seguinte efeito de sentido:

- A) culpar o governo pelo comportamento
- B) sugerir uma falha de planejamento
- C) propor uma solução alternativa
- D) omitir o responsável pela ação

9. Em “que fica circunscrita à locomoção no carro” (4º parágrafo), a palavra “circunscrita” pode ser substituída, sem prejuízo do sentido original, por:

- A) homogênea
- B) confusa
- C) restrita
- D) aberta

10. Acentuação está corretamente justificada em:

- A) “automóveis” – proparoxítona
- B) “país” – oxítona terminada em “-i(s)”
- C) “saudável” – paroxítona terminada em “-l”
- D) “décadas” – paroxítona terminada em “-a(s)”

ÉTICA NA ADMINISTRAÇÃO PÚBLICA E LEGISLAÇÃO MUNICIPAL

11. Sandra, com quinze anos de idade, pretende adquirir estabilidade financeira com a aprovação em concurso público, sendo certo que completou o ensino fundamental e está cursando o último ano do ensino médio. Nos termos da Lei Complementar nº 3/2012 do município de Boa Vista, um dos requisitos para a investidura em cargo público consiste na idade mínima de:

- A) dezesseis anos
- B) dezessete anos
- C) dezoito anos
- D) dezenove anos

12. Pepe resolve estudar para ser aprovado em concurso para ingresso na autarquia municipal W. Nos termos da Lei Complementar nº 3/2012 do município de Boa Vista, a competência para prover os cargos em autarquias seria do seu:

- A) dirigente máximo
- B) diretor de pessoal
- C) gerente regional
- D) coordenador de recursos humanos

13. Sócrates é arquiteto e servidor efetivo do município B, sendo convidado para ocupar, interinamente, cargo em comissão em secretaria municipal. Nos termos da Lei Complementar nº 3/2012 do município de Boa Vista, quando exercido interinamente, o cargo em comissão demanda:

- A) designação
- B) nomeação
- C) indicação
- D) colocação

14. Jervásio foi aprovado em concurso público para o cargo de professor municipal, tendo ocorrido a homologação do certame em 2017. Nos termos da Lei Complementar nº 3/2012 do município de Boa Vista, a prorrogação da validade do concurso poderá ocorrer:

- A) duas vezes
- B) uma única vez
- C) sem prazo
- D) condicionalmente

15. Januário foi instado a realizar exames médicos para comprovar o seu estado de saúde com o objetivo de formalizar os atos finais inerentes a concurso público. Nos termos da Lei Complementar nº 3/2012 do município de Boa Vista, a posse em cargo público depende de prévia inspeção:

- A) hospitalar pública
- B) salutar privada
- C) médica oficial
- D) fisiológica ideal

16. Ernestino é servidor municipal, ocupando cargo de nível superior e, após os trâmites legais, é promovido. Nos termos da Lei Complementar nº 3/2012 do município de Boa Vista, a promoção não interrompe o tempo de exercício, que é contado no novo posicionamento na carreira a partir da data da:

- A) assinatura do ato
- B) publicação do ato
- C) aceitação do ato
- D) resolução do ato

17. Jobinho é servidor municipal e logrou a obtenção de aposentadoria voluntária por ter cumprido os requisitos normativos exigidos. Posteriormente, requereu o retorno ao serviço público municipal. Nos termos da Lei Complementar nº 3/2012 do município de Boa Vista, esse retorno não poderá amparar o servidor que já tiver completado:

- A) sessenta anos de idade
- B) sessenta e dois anos de idade
- C) sessenta e cinco anos de idade
- D) setenta anos de idade

18. Creso é servidor municipal e foi colocado em disponibilidade pelo período de três anos. Após o término do prazo, requereu o seu retorno ao serviço público, sendo comunicado da extinção do órgão onde prestava serviço. Nos termos da Lei Complementar nº 3/2012 do município de Boa Vista, o servidor posto em disponibilidade poderá ser mantido sob responsabilidade da Secretaria Municipal de:

- A) Administração
- B) Fazenda
- C) Governo
- D) Educação

19. Afonso Pena, servidor ocupante de cargo efetivo no município TX, foi convidado para chefiar o setor de Recursos Humanos da Secretaria Municipal de Saúde. Nos termos da Lei Complementar nº 3/2012 do município de Boa Vista, ao ocupante de função de chefia é cabível, pelo seu devido exercício, o pagamento de:

- A) gratificação
- B) retribuição
- C) adicional
- D) diárias

20. Venceslau é engenheiro e foi aprovado em concurso público para ocupar cargo no município ZZ. Para cumprir projeto patrocinado pelo governo federal, passa a atuar em laboratório submetido ao contato com substâncias radioativas. Esse contato ocorre a cada dois meses. Diante disso, requer pagamento de adicional de insalubridade. Nos termos da Lei Complementar nº 3/2012 do município de Boa Vista, **NÃO** haverá pagamento do adicional quando a exposição aos agentes nocivos ocorrer de forma:

- A) assídua
- B) geral
- C) ocasional
- D) conveniada

21. Adiel, servidor público, procura melhorias na sua carreira e remuneração. Nos termos da Lei nº 1.611 do município de Boa Vista, corresponde ao crescimento na mesma classe ou categoria profissional, com mudança para o próximo padrão de vencimento, a:

- A) projeção
- B) progressão
- C) remoção
- D) transposição

22. Tércio concluiu o ensino médio e pretende realizar concurso público. Nos termos da Lei nº 1.611 do município de Boa Vista, o cargo em que o requisito mínimo é o ensino médio corresponde ao cargo de:

- A) assistente
- B) auxiliar
- C) assessor
- D) atendente

23. Sueli é professora com mestrado em Educação e atua no ensino de crianças com necessidades especiais. Nos termos da Lei nº 1.611 do município de Boa Vista, a jornada de trabalho do professor deve corresponder a:

- A) vinte horas semanais
- B) vinte e cinco horas semanais
- C) trinta horas semanais
- D) quarenta horas semanais

24. Maxuell foi reenquadrado em novo plano de carreira aprovado por lei municipal que reorganizou a carreira à qual pertence. Nos termos da Lei nº 712 do município de Boa Vista, após o enquadramento dos servidores, nenhuma nomeação para cargo efetivo poderá ser efetuada senão na referência inicial de cada categoria funcional, vinculada à respectiva especialidade e condicionada à aprovação e habilitação em:

- A) concurso público
- B) seleção pública
- C) chamada pública
- D) processo público

25. Eleutério é servidor municipal e pretende requerer o parcelamento de suas férias. Nos termos da Lei Complementar nº 3/2012 do município de Boa Vista, as férias podem ser parceladas em até:

- A) duas etapas
- B) três etapas
- C) quatro etapas
- D) cinco etapas

26. Epaminondas está com seu enteado Elesbão com problemas de saúde. Diante disso, requer afastamento do serviço público municipal onde exerce o cargo de professor. Nos termos da Lei Complementar nº 3/2012 do município de Boa Vista, nesses casos, o servidor terá direito a licença não remunerada de:

- A) noventa dias
- B) cem dias
- C) cento e vinte dias
- D) cento e cinquenta dias

27. Amadeu pretende candidatar-se a cargo eletivo, tendo apresentado requerimento de registro perante a Justiça eleitoral vinculado ao partido político Asa. Nos termos da Lei Complementar nº 3/2012 do município de Boa Vista, o servidor terá direito a licença, sem remuneração, durante o período que deve ter início com a sua escolha em:

- A) comitê eleitoral
- B) assembleia geral
- C) convenção partidária
- D) votação regional

28. Ricardo Adriano é candidato à presidência do sindicato dos servidores do município TWZ. Após sua eleição, requer o afastamento do serviço para atuar exclusivamente nas funções sindicais. O sindicato possui dez mil associados. Nos termos da Lei Complementar nº 3/2012 do município de Boa Vista, é assegurado ao servidor o direito à licença com remuneração para o desempenho de mandato no sindicato representativo da categoria, limitado, no caso presente, a no máximo:

- A) dois servidores
- B) três servidores
- C) quatro servidores
- D) cinco servidores

29. Holmes atua no setor de licitações da empresa municipal CT do município VV. Cioso de suas responsabilidades, fiscaliza o cumprimento do princípio da publicidade dos atos administrativos. É consentâneo com os instrumentos normativos pátrios que regulam a ética no serviço público que a omissão quanto à publicidade ofende o:

- A) bem comum
- B) solidarismo
- C) patriotismo
- D) corporativismo

30. Winston é servidor público e não está adaptado ao órgão onde foi lotado, realizando repetidos erros e desvios de função. É consentâneo com os instrumentos normativos pátrios que regulam a ética no serviço público que essas atitudes caracterizam, quanto ao desempenho da função pública:

- A) rebeldia
- B) imprudência
- C) mal-estar
- D) descortesia

ATUALIDADES

31. Em novembro de 2019, os jornais noticiaram que, em 2018, 13,5 milhões de brasileiros viveram com uma renda per capita mensal inferior a R\$ 145,00 reais, um recorde de crescimento da população em situação de extrema pobreza, pois foi o maior índice encontrado nos últimos sete anos. A notícia revelou que vem ocorrendo no país um evidente aumento:

- A) do desenvolvimento econômico
- B) da igualdade econômica
- C) da desigualdade social
- D) do estamento social

32. Artigos de jornais, publicados em novembro de 2019, demonstraram que as possibilidades de contingenciamento e de corte de recursos nas áreas da educação, ciência e tecnologia preocupou estudiosos, cientistas e congressistas do país, por considerarem que a redução acentuada de investimento em educação e pesquisa nos tempos atuais poderá se transformar, no futuro, em um fator que:

- A) garantirá o aumento da riqueza nacional
- B) limitará o desenvolvimento econômico do país
- C) estabilizará o crescimento produtivo regional
- D) fortalecerá a competitividade comercial no país

33. No segundo semestre de 2019, os noticiários analisaram o grande desastre ecológico que ocorreu no litoral do país, e avaliaram que as dimensões de danos foram intensas, causando uma degradação no meio ambiente que poderá permanecer por décadas. A contaminação ambiental foi grave por se tratar de toneladas de:

- A) óleo com efeitos tóxicos
- B) rejeitos de minério de ferro
- C) mercúrio e metais pesados
- D) cinzas ácidas das queimadas

34. Especialistas em saúde pública afirmam que o uso excessivo de agrotóxicos na produção nacional de alimentos pode afetar a saúde da população, provocando problemas respiratórios, impotência, depressão, aborto, câncer, entre outros danos à saúde.

Como precaução ao problema, os estudiosos recomendam que a população se alimente de produtos produzidos pela:

- A) silvicultura
- B) agroecologia
- C) aquicultura
- D) agroindústria

35. As metas de Desenvolvimento Sustentável da Organização das Nações Unidas destacam a necessidade de aumentar a participação de energias renováveis na matriz energética global. O Brasil tem avançado, em maior proporção, na geração de um tipo de energia elétrica sustentável que apresenta menor risco de ocorrência de danos e desastres ambientais.

Trata-se da produção de energia:

- A) solar
- B) nuclear
- C) eólica
- D) hidrelétrica

NOÇÕES DE INFORMÁTICA

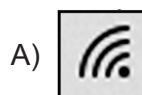
36. No que diz respeito aos conceitos da internet, pode-se afirmar que:

- I. um termo tem por significado baixar ou transferir dados de uma página para o computador de um usuário, como no caso de um edital em formato PDF, referente a um concurso público;
- II. uma sigla tem por significado o endereço *web* que se digita na barra de endereços de um *browser* para se chegar a um *site*, como por exemplo <https://www.google.com.br/>.

O termo e a sigla são, respectivamente:

- A) *download* e DNS
- B) *download* e URL
- C) *upload* e DNS
- D) *upload* e URL

37. Na Área de Notificação do Windows 10 BR, localizada no canto inferior direito da tela do monitor de um *notebook*, há um ícone que serve para o usuário verificar o *status* da conexão *wifi* à internet. Esse ícone é:



38. A planilha a seguir foi criada no Excel 2019 BR, em que foram realizados os procedimentos descritos a seguir.

- Em F12, foi inserida a expressão =MED(A11:A15).
- Em F14, foi inserida a expressão =MOD(F12;2).

	A	B	C	D	E	F
1						
2						
3						
4						
5						
6						
7						
8						
9						
10	CIDADE DE BOA VISTA - RR					
11	23					
12	15					MEDIANA = <input data-bbox="614 810 746 855" type="text" value="?"/>
13	10					
14	13					MOD = <input data-bbox="614 900 746 945" type="text" value="?"/>
15	19					





Nessas condições, os valores mostrados em F12 e em F14 são, respectivamente:

- 15 e 0
- 15 e 1
- 16 e 0
- 16 e 1

39. No Word 2019 BR, dois recursos devem ser empregados com as seguintes finalidades:

- um atalho de teclado destina-se a converter uma frase ou palavra selecionada em minúsculas para maiúsculas e vice-versa;
- um ícone deve ser acionado por meio do *mouse* para aplicar sombreamento, ou seja, mudar a cor atrás do texto, parágrafo ou célula de tabela selecionada.

O atalho de teclado e o ícone são, respectivamente:

- Ctrl + F3 e 
- Ctrl + F3 e 
- Shift + F3 e 
- Shift + F3 e 

40. A planilha a seguir foi criada no Excel 2019 BR. Para contabilizar a quantidade de atendimentos nas células D27, D28 e D29, foi empregada a função SOMASE, usando o conceito de referência absoluta. Para finalizar, foi inserida em D30 uma expressão que adiciona os valores de D27, D28 e D29.

	A	B	C	D
4				
5				
6				
7				
8				
9				
10				
11	MÊS	ESPECIALIDADE	COLABORADOR	QUANTIDADE
12	1	RESSONÂNCIA	<i>João</i>	123
13		TOMOGRAFIA	<i>Juliana</i>	98
14		TOMOGRAFIA	<i>Juliana</i>	23
15		PEDIATRIA	<i>Feitosa</i>	131
16	2	RESSONÂNCIA	<i>João</i>	56
17		RESSONÂNCIA	<i>João</i>	73
18		TOMOGRAFIA	<i>Juliana</i>	89
19		PEDIATRIA	<i>Feitosa</i>	53
20	3	RESSONÂNCIA	<i>João</i>	48
21		TOMOGRAFIA	<i>Juliana</i>	80
22		PEDIATRIA	<i>Feitosa</i>	76
23		PEDIATRIA	<i>Feitosa</i>	70
24	TOTAL =			920
25				
26	RESUMO			
27	RESSONÂNCIA			300
28	TOMOGRAFIA			290
29	PEDIATRIA			330
30	TOTAL =			920

As expressões inseridas em D29 e em D30 foram, respectivamente:

- =SOMASE(&B&12:&B&23;B29;&D&12:&D&23)
e =SOMA(D27:D29)
- =SOMASE(&B&12:&B&23;B29;&D&12:&D&23)
e =SOMA(D27;D29)
- =SOMASE(\$B\$12:\$B\$23;B29;\$D\$12:\$D\$23)
e =SOMA(D27:D29)
- =SOMASE(\$B\$12:\$B\$23;B29;\$D\$12:\$D\$23)
e =SOMA(D27;D29)

CONHECIMENTOS ESPECÍFICOS

41. Paciente de cinco anos de idade, sexo masculino, iniciou há trinta dias um quadro febril com hiperemia conjuntival bilateral, eritema difuso da orofaringe e linfadenopatia cervical associada com exantema em tronco e superfícies extensoras dos membros, além de lesões eritematosas e edematosas acometendo as regiões palmoplantares. Há doze dias surgiram descamações nos dedos das mãos e dos pés. De acordo com esses dados, a principal hipótese diagnóstica que deve ser considerada, nesse caso clínico é a:

- A) poliarterite cutânea
- B) doença de Kawasaki
- C) poliarterite nodosa
- D) púrpura de Henoch-Schönlein

42. A endocardite reumática é a manifestação mais comum da pancardite da febre reumática, sendo o sopro cardíaco o achado clínico mais frequente. De acordo com essas informações, a alteração ecocardiográfica mais observada na fase aguda da doença é a:

- A) estenose pulmonar
- B) regurgitação aórtica
- C) estenose tricúspide
- D) regurgitação mitral

43. Paciente de quinze anos de idade, com quadro de oligoartrite em mão e punho direito, joelho esquerdo e tornozelo esquerdo com seis meses de evolução, apresentou, nos últimos trinta dias, dois episódios de subluxação do quadril direito. Ao exame de imagem, foram constatadas braquidactilia em mão direita, tumefação de partes moles e retificação da margem inferior da patela esquerda e protusão acetabular do quadril direito. De acordo com o padrão de envolvimento articular e os achados radiográficos, a principal hipótese diagnóstica dessa paciente é:

- A) osteomalácia
- B) febre reumática
- C) artrite reumatoide juvenil
- D) espondiloartrite periférica

44. O autoanticorpo miosite específico que deve ser pesquisado em um paciente com fenômeno de Raynaud, artrite, fraqueza muscular moderada a grave e doença intersticial pulmonar é o:

- A) anti-Jo-1
- B) anti-MI-2
- C) anti-SRP
- D) anti-RNP

45. Paciente de oito anos de idade, sexo feminino, iniciou há duas semanas, polineuropatia periférica sensitivo motora associada com livedo reticular e nódulos subcutâneos dolorosos em membros inferiores. A paciente foi submetida a uma biópsia que demonstrou vasculite necrosante de vasos de pequeno e médio calibre. De acordo com esses dados clínicos e histopatológicos, a principal hipótese diagnóstica que deve ser considerada é a de:

- A) poliarterite cutânea
- B) doença de Kawasaki
- C) poliarterite nodosa
- D) púrpura de Henoch-Schönlein

46. De acordo com a classificação proposta pela Sociedade Europeia de Reumatologia Pediátrica (PRES), a esclerodermia localizada foi dividida em cinco formas de apresentação clínica. Segundo essa classificação, a forma cutânea mais comum no sexo feminino e nas duas primeiras décadas de vida sem associação com manifestações vasculares ou sistêmicas é a:

- A) morfeia linear
- B) morfeia circunscrita
- C) morfeia mista
- D) morfeia generalizada

47. Pacientes com doenças reumáticas em tratamento com altas doses de corticosteroides ou imunossupressores possuem um aumento da incidência de infecções pulmonares fúngicas. De acordo com essa informação, o agente infeccioso mais associado com pneumonia nesses pacientes é o:

- A) *Aspergillus* spp.
- B) *Pneumocystis jirovecii*
- C) *Histoplasma capsulatum*
- D) *Cryptococcus neoformans*

48. Na investigação imunolaboratorial da glomerulonefrite rapidamente progressiva com crescentes, o padrão p-ANCA pode indicar a presença de anticorpos anticitoplasma de neutrófilos direcionados contra o autoantígeno:

- A) proteinase-3 de grânulos azurófilos
- B) mieloperoxidase de grânulos específicos
- C) proteinase-3 de grânulos secundários
- D) mieloperoxidase de grânulos primários

49. O desenvolvimento precoce de nefrite lúpica grave em pacientes com lúpus eritematoso sistêmico juvenil pode estar correlacionado com a presença de autoanticorpos direcionados contra a fração do sistema complemento denominada:

- A) C1q
- B) C2
- C) C4
- D) C9

50. Interprete o seguinte resultado de FAN em células HEp-2 por IFI:

Núcleo: reagente
 Nucléolo: não reagente
 Citoplasma: não reagente
 Aparelho mitótico: não reagente
 Placa metafásica cromossômica: reagente

Padrão: nuclear pontilhado homogêneo / Título 1/640

De acordo com essas informações, o autoanticorpo associado com esse padrão de FAN é o:

- A) anti-U1-RNP
- B) antinucleossomo
- C) anti-Ro/SSA
- D) anti-DNA topoisomerase-1

51. No lúpus neonatal, o período crítico para a passagem dos anticorpos anti-Ro/SSA, anti-La/SSb e/ou anti-U1-RNP da circulação sanguínea materna para a circulação fetal, com maior risco de lesão ao sistema de condução e ao desenvolvimento de bloqueio atrioventricular, ocorre no período entre a:

- A) 08ª e a 14ª semana de gestação
- B) 10ª e a 16ª semana de gestação
- C) 18ª e a 24ª semana de gestação
- D) 26ª e a 32ª semana de gestação

52. Paciente de 12 anos de idade vem apresentando dor de moderada intensidade na face lateral do punho direito. Relata, como fatores desencadeantes e agravantes, o ato de escrever e o uso frequente de celular e computador. Ao exame físico, apresenta dor de moderada intensidade a digitopressão da tabaqueira anatômica e teste de Finkelstein positivo. De acordo com estes dados, pode-se concluir que os tendões do primeiro compartimento dorsal acometidos nesse paciente são:

- A) oponente e abductor curto do polegar
- B) extensor curto e abductor longo do polegar
- C) oponente e extensor longo do polegar
- D) flexor longo do polegar e flexor profundo do 2º dedo

53. Paciente de 20 anos de idade, sexo masculino, alega episódio de uretrite após relação sexual. Após quatro semanas da infecção inicial, começou a apresentar mal-estar, fadiga e inapetência seguida pelo desenvolvimento de oligoartrite aguda acometendo mão e punho direito com presença de dactilite em segundo quirodáctilo, joelho esquerdo com dor e discreto edema e tornozelos com entesite em retrocalcâneo direito e em subcalcâneo esquerdo. Há cinco dias começou a apresentar hiperemia conjuntival e escleral associada com dor ocular de forte intensidade em olho direito. Ao exame físico, observa-se a presença de hipópio na câmara anterior do olho direito. Baseada nessas informações, foi feita a hipótese diagnóstica de síndrome de Reiter. De acordo com estes dados, o principal agente etiológico que deve ser investigado é:

- A) *Haemophilus ducreyi*
- B) *Trichomonas vaginalis*
- C) *Klebsiella granulomatis*
- D) *Chlamydia trachomatis*

54. Na fisiopatogenia da artrite reumatoide, o mecanismo de citrulinização de proteínas envolve a quebra enzimática de aminoácidos arginina com a geração de aminoácidos citrulina + uma molécula de óxido nítrico. Portanto, a enzima chave para a geração de peptídeos citrulinados e, conseqüentemente, de autoanticorpos anti-peptídeos citrulinados é a:

- A) SRP-1
- B) PADI-4
- C) NOD-2
- D) MYD-88

55. Paciente de 50 anos de idade, sexo masculino, apresenta, ao exame físico, uma monoartrite em joelho direito. Após a realização de artrocentese, sinovianálise e microscopia com luz polarizada foi constatada a presença de cristais de pirofosfato de cálcio com birrefringência positiva fraca. Na avaliação radiográfica de joelho direito, foi constatada a presença de imagem de hiperdensidade linear na fenda interarticular. Dessa forma, o provável diagnóstico da monoartrite desse paciente é:

- A) gota
- B) hemocromatose
- C) condrocalcinose
- D) hiperparatireoidismo

56. Pacientes com fibromialgia apresentam dores difusas pelo corpo associadas com rigidez matinal, fadiga intensa, cefaleia, distúrbio do sono e transtornos do humor. Alterações das concentrações da substância P, que exerce efeito imunorregulador sobre estímulos nociceptivos, podem resultar na alteração da percepção da dor. De acordo com essas informações, o neurotransmissor diretamente relacionado com a síntese e a liberação da substância P é a:

- A) serotonina
- B) dopamina
- C) acetilcolina
- D) noradrenalina

57. Paciente de 22 anos de idade, sexo masculino, com diagnóstico de epilepsia e em uso de terapia anticonvulsivante com difenilhidantoína desde os 05 anos de idade, vem apresentando, nos últimos 4 meses, dor crônica na região proximal do membro superior direito e na região proximal do membro inferior esquerdo. Ao exame radiográfico, foi constatada osteopenia generalizada associada com a presença de múltiplas linhas radiotransparentes na região cortical da escápula direita e no colo do fêmur esquerdo (zonas de Looser). De acordo com essas informações, o provável diagnóstico desse paciente é de:

- A) osteonecrose
- B) doença de Sever
- C) osteomalácia
- D) doença de Forestier

58. Atualmente, o uso excessivo de celulares por crianças e adolescentes vem se tornando uma preocupação na área de saúde. O uso repetitivo dos polegares para envio de mensagens e para outras atividades em diversos aplicativos como jogos *online* podem causar um desgaste da cartilagem articular e o subsequente desenvolvimento precoce de osteoartrite rizomélica. De acordo com essas informações, a principal articulação acometida nesses pacientes é a:

- A) 1ª metacarpofalangeana
- B) escafoide-metacarpiana
- C) interfalangeana proximal
- D) trapézio-metacarpiana

59. Pacientes com doenças reumáticas que apresentam hiperreatividade de células T podem obter resultados promissores pela inibição do sinal de coestimulação entre as células apresentadoras de antígenos que expressam as moléculas B7-1 (CD80), B7-2 (CD86) e os linfócitos T CD4+ que expressam o receptor de coestimulação (CD28). Dessa forma, o único agente biológico com esse mecanismo de ação é o:

- A) abatacepte
- B) rituximabe
- C) etanercepte
- D) tocilizumabe

60. O padrão de acometimento articular mais comum em pacientes com artrite psoriásica e, geralmente, associados com dactilite e entesite, segundo os critérios de Moll e Wright, é a:

- A) artrite distal
- B) poliartrite simétrica
- C) artrite mutilante
- D) oligoartrite assimétrica

