



CONCURSO PÚBLICO PREFEITURA MUNICIPAL DE CAMPO GRANDE/MS

EDITAL Nº 01/2020

GUARDA CIVIL METROPOLITANO – 3ª CLASSE

Duração: 04h (quatro horas)
Leia atentamente as instruções abaixo:

01 Você recebeu do fiscal o seguinte material:

a) Este Caderno, com 60 (sessenta) questões da Prova Objetiva, sem repetição ou falha, conforme distribuição abaixo:

LÍNGUA PORTUGUESA	RACIOCÍNIO LÓGICO	NOÇÕES DE INFORMÁTICA	LEGISLAÇÃO MUNICIPAL	CONHECIMENTOS ESPECÍFICOS
01 a 15	16 a 25	26 a 35	36 a 40	41 a 60

b) Um Cartão de Respostas destinado às respostas das questões objetivas.

- 02** Verifique se este material está em ordem e se o seu nome e número de inscrição conferem com os que aparecem no Cartão de Respostas. Caso contrário, notifique imediatamente o fiscal.
- 03** Após a conferência, o candidato deverá assinar no espaço próprio do Cartão de Respostas, com caneta esferográfica de tinta na cor azul ou preta.
- 04** No Cartão de Respostas, a marcação da alternativa correta deve ser feita cobrindo a letra correspondente ao número da questão e preenchendo todo o espaço interno, com caneta esferográfica de tinta na cor azul ou preta, de forma contínua e densa.

Exemplo: A B C D

- 05** Para cada uma das questões objetivas, são apresentadas 4 (quatro) alternativas classificadas com as letras (A, B, C e D), mas só uma responde adequadamente à questão proposta. Você deve assinalar apenas uma alternativa. A marcação em mais de uma alternativa anula a questão, mesmo que uma das respostas esteja correta.
- 06** Somente depois de decorrida 01 (uma) hora do início da prova, o candidato poderá entregar seu Cartão de Respostas, seu Caderno de Questões e retirar-se da sala de prova. O candidato que insistir em sair da sala de prova, descumprindo o aqui disposto, deverá assinar o Termo de Ocorrência declarando sua desistência do Concurso, que será lavrado pelo Coordenador do Local.
- 07** Ao candidato, será permitido levar seu CADERNO DE QUESTÕES a partir de 01 (uma) hora para o término da prova e desde que permaneça em sala até esse momento.
- 08** Não será permitida a cópia de gabarito no local de prova. Ao terminar a prova de Conhecimentos, o candidato entregará, obrigatoriamente, ao fiscal de sala, o seu CARTÃO DE RESPOSTAS e o seu CADERNO DE QUESTÕES, ressalvado o estabelecido no item 7.
- 09** Reserve os 30 (trinta) minutos finais para marcar seu Cartão de Respostas. Os rascunhos e as marcações assinaladas no Caderno de Questões não serão levados em consideração.
- 10** Os 3 (três) últimos candidatos permanecerão sentados até que todos concluíam a prova ou que termine o seu tempo de duração, devendo assinar a ata de sala e retirar-se juntos.

LÍNGUA PORTUGUESA

TEXTO I

Cheio de gargalhadas. Coisa de um ano atrás. Impossível não notar. Ele estava no jardim do clube, os antebraços fincados na grama bem tratada, e as pernas atléticas, eretas, apontando para o céu azul, sem nenhuma nuvem, “uma posição invertida de ioga”, conforme explicou quando se juntou a mim na piscina. “O sangue faz uma espécie de roto-rooter nos nossos vasos sanguíneos”, disse ele, entre dois breves mergulhos, “... bota fora um montão de coisas podres”.

Meu trabalho era lidar com afiadas lanças de ódio e imensos volumes de ignorância. Se eu me virasse de cabeça para baixo, pensei, vomitaria arsenais nucleares e arame farpado.

– Do que você está rindo? – perguntou ele.

Eu não estava rindo. Minha fotofobia, aumentada pela falta de óculos de sol, me deixava com aquele simulacro de sorriso pregado no rosto.

Ele se chamava Amir e vivia no meu mundo, era advogado como eu, mais velho que eu, divorciado, e agora eu descobria que éramos sócios do mesmo clube recreativo do bairro de Pinheiros.

No fórum, muitas vezes eu assistira ao seu desempenho na acusação de criminosos anônimos, com uma oratória sólida, impactante. Notável.

Ali na água, sem o terno nem os assassinos que destruíra e apesar dos dentes que poderiam ser melhores, ele me pareceu ainda mais sedutor. Na verdade sob aquela luz radiante, o que eu via era um tipo bem insólito: promotor iogue, com tese de doutorado em Wittgenstein, e capacidade para plantar bananeira semelhante à de um acrobata de circo.

Meia hora de conversa, e eu já me sentia à vontade.

Depois de nadarmos, continuamos nosso papo, falamos sobre seus criminosos, e a filosofia que o interessava especialmente. Conteí sobre minha tentativa de ler *Investigações lógicas*.

– Desisti bem rápido – expliquei –, logo depois de topar com uma divagação sobre o que seria a representação de um não-gato sobre a mesa. Ou de um gato que esteve na mesa.

– Isso deve ser Husserl – afirmou ele, rindo.

Logo fomos envolvidos por uma atmosfera bem-humorada. Rir juntos é um afrodisíaco poderoso. Eu disse:

– Fico pensando se essa sua paixão por esse tipo de filósofo não foi o que acabou enfiando a promotoria pública na sua vida. Você parece gostar de coisas complicadas.

– Tenho que tomar cuidado com você – respondeu ele. – Mulher inteligente não é fácil.

O que ele estava me dizendo, naquele momento, é que de forma geral as mulheres são burras. Mas claro que, sob o efeito da sedução e envenenada pelos meus próprios hormônios, não me dei conta disso. Pior: inverti os sinais, transformei o negativo em positivo. Ele tinha uma tática eficiente de se transformar em protagonista, que consistia em usar a própria língua como um martelo para botar abaixo tudo ao redor.

Patrícia Melo

(Adaptado de Mulheres empilhadas. São Paulo: LeYa, 2019.)

1. No primeiro parágrafo do texto, a descrição da cena tem o objetivo de:

- A) refutar um estereótipo masculino
- B) reforçar a atenção dada pela narradora
- C) demonstrar o desleixo inicial do contato
- D) comparar o perfil dos personagens apresentados

2. Na visão da narradora, o comentário “Mulher inteligente não é fácil” sugere:

- A) uma desqualificação generalizada
- B) uma perspectiva compartilhada
- C) um parecer sentimental
- D) um elogio inesperado

3. “Eu não estava rindo. Minha fotofobia, aumentada pela falta de óculos de sol, me deixava com aquele simulacro de sorriso pregado no rosto.” (4º parágrafo). A expressão que melhor une as duas frases é:

- A) em suma
- B) na verdade
- C) ainda assim
- D) acima de tudo

4. Na apresentação inicial das personagens, um aspecto em destaque se refere a:

- A) recordações infantis
- B) neutralidade religiosa
- C) divergências familiares
- D) afinidades socioeconômicas

5. No quinto parágrafo, a relação estabelecida entre a expressão “era advogado como eu, mais velho que eu, divorciado” e o fragmento anterior é corretamente explicitada pelo seguinte conectivo:

- A) porque
- B) embora
- C) enquanto
- D) entretanto

6. A palavra acentuada por ser uma paroxítona é:

- A) insólito
- B) atléticas
- C) impossível
- D) afrodisíaco

7. “Mas claro que, sob o efeito da sedução e envenenada pelos meus próprios hormônios, não me dei conta disso” (15º parágrafo). A expressão entre vírgula assume, na frase, o valor de:

- A) modo
- B) causa
- C) tempo
- D) dúvida

Considerando a frase abaixo, responda às questões 8 e 9:

“Ali na água, sem o terno nem os assassinos que destruíra e apesar dos dentes que poderiam ser melhores, ele me pareceu ainda mais sedutor” (7º parágrafo).

8. No contexto da frase, a expressão introduzida por “apesar d(os)” assume o sentido de:

- A) hipótese
- B) finalidade
- C) frequência
- D) ponderação

9. O comentário presente no trecho estabelece com o desfecho da narrativa uma relação de:

- A) reforço à convergência construída
- B) contraste entre aparência e realidade
- C) comparação entre qualidades positivas
- D) destaque à manutenção da admiração

10. “No fórum, muitas vezes eu assistira ao seu desempenho na acusação de criminosos anônimos” (6º parágrafo). Ao reformular o trecho, o acento grave se encontra corretamente empregado em:

- A) muitas vezes eu assistira à observações relevantes
- B) muitas vezes eu assistira à nosso próprio empenho
- C) muitas vezes eu assistira à exposições controversas
- D) muitas vezes eu assistira à contundente apresentação

11. “o que eu via era um tipo bem insólito: promotor iogue, com tese de doutorado em Wittgenstein, e capacidade para plantar bananeira semelhante à de um acrobata de circo” (7º parágrafo). O emprego dos dois-pontos introduz expressão com o propósito de:

- A) explicar uma caracterização
- B) comparar uma avaliação
- C) segmentar um indicador
- D) resumir um conjunto

12. “Se eu me virasse de cabeça para baixo, pensei, vomitaria arsenais nucleares e arame farpado” (2º parágrafo). A primeira oração do período em destaque tem o valor de:

- A) condição
- B) finalidade
- C) adversidade
- D) comparação

13. A palavra “mesmo” é considerada invariável em:

- A) O mesmo representante deve se apresentar ao setor.
- B) A aplicação da vacina será realizada pelo mesmo profissional.
- C) Não há mesmo condições de reduzir os esforços no combate à doença.
- D) Todos os estudos em análise foram conduzidos pelo mesmo laboratório.

14. Um hiato está presente no seguinte verbo:

- A) juntou
- B) destruía
- C) deixava
- D) pareceu

15. A palavra “simulacro” é sinônimo de:

- A) imitação
- B) conserto
- C) aplicação
- D) finalização

RACIOCÍNIO LÓGICO

16. Um candidato ao cargo de guarda civil metropolitano, em seu treinamento físico, planeja correr diariamente uma determinada distância. A tabela a seguir expõe a distância que esse candidato correrá nos oito primeiros dias do treinamento:

Dia	1	2	3	4	5	6	7	8
Distância em metros	200	220	250	290	340	400	470	550

Analisando essa tabela, é possível perceber que existe um padrão que determina a distância percorrida a cada dia. Segundo esse padrão, a distância de 970 metros será corrida no dia:

- A) 10
- B) 11
- C) 12
- D) 13

17. Em um grupo de 54 guardas civis, 26 são casados, 32 são do sexo masculino e 15 são mulheres solteiras. O número de homens casados desse grupo é:

- A) 16
- B) 17
- C) 18
- D) 19

18. Dezessete guardas civis metropolitanos foram divididos em três equipes, conforme mostra a tabela a seguir.

Equipe	Guardas
A	6
B	4
C	7

Para a realização de uma tarefa especial, será formada uma dupla de guardas de modo que esses dois guardas pertençam a equipes diferentes. A quantidade máxima de duplas distintas que podem ser formadas equivale a:

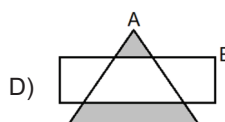
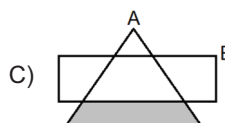
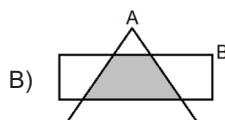
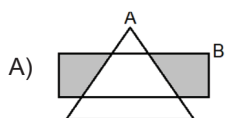
- A) 92
- B) 94
- C) 96
- D) 98

19. Considere os seguintes conjuntos:

A = {parques de Campo Grande}

B = {espaços públicos destinados a grandes eventos}

A opção cuja parte sombreada representa os parques de Campo Grande não destinados a grandes eventos é:



20. Considere verdadeiras as afirmativas a seguir:

- Todo guarda metropolitano zela pelo patrimônio de sua cidade.
 - Alguns guardas metropolitanos têm mais de 30 anos.
- A partir dessas afirmativas, é possível concluir que, necessariamente:

- A) Algumas pessoas com mais de 30 anos zelam pelo patrimônio de sua cidade.
- B) Toda pessoa que zela pelo patrimônio de sua cidade tem mais de 30 anos.
- C) Alguns guardas metropolitanos com mais de 30 anos não zelam pelo patrimônio de sua cidade.
- D) Toda pessoa que zela pelo patrimônio de sua cidade é um guarda metropolitano.

21. Admita que, num concurso para guarda civil sejam aprovados 200 candidatos. Se $\frac{3}{5}$ de $\frac{1}{4}$ dos aprovados possuem curso superior completo e este número corresponde a n candidatos, o valor de n é igual a:

- A) 20
- B) 30
- C) 35
- D) 40

22. Cinco guardas civis metropolitanos, Ana, Bruna, Carlos, Davi e Edson, ao participarem de uma solenidade, foram colocados um ao lado do outro para uma fotografia. Levando em conta apenas a posição deles entre si, existem exatamente **k** arrumações diferentes, de modo que as pessoas do sexo feminino fiquem nas extremidades. O valor de **k** é:

- A) 8
B) 12
C) 18
D) 24

23. João disse a Marcela: pense um número, eleve esse número ao cubo e divida o resultado por 4. Se Marcela informou ao final das duas operações que o resultado obtido foi 250, a soma dos algarismos do número que Marcela pensou é igual a:

- A) 1
B) 2
C) 3
D) 4

24. Observe a figura a seguir.

a	×	b	4	=	c	d	2
---	---	---	---	---	---	---	---

As letras a, b, c e d representam algarismos distintos e devem ser substituídas por 1, 3, 5 e 6, de modo que a igualdade obtida seja verdadeira.

A letra b deve ser substituída pelo algarismo:

- A) 1
B) 3
C) 5
D) 6

25. A negação da proposição “todo guarda civil metropolitano é eficiente” está corretamente indicada na seguinte opção:


- A) “existe pelo menos um guarda civil metropolitano que não é eficiente”
B) “todo guarda civil metropolitano não é eficiente”
C) “nenhum guarda civil metropolitano é eficiente”
D) “nenhum guarda civil metropolitano não é eficiente”

NOÇÕES DE INFORMÁTICA

26. No que diz respeito ao *hardware* dos microcomputadores atuais, são utilizados dispositivos que operam exclusivamente na entrada de dados a serem processados. Dois exemplos desses dispositivos são:









- A) *pendrive* e *scanner*
B) *pendrive* e *plotter*
C) teclado e *scanner*
D) teclado e *plotter*

27. Em um microcomputador modelo *desktop* com sistema operacional Windows 10 BR, no canto inferior direito da tela do monitor de vídeo fica localizada a Área de Notificação, que exibe diversos ícones, para aplicações específicas e diferenciadas.

Exemplificando, o ícone  tem por significado “remover *hardware* e ejetar mídia com segurança” e deve ser usado para remover um *pendrive*. Dois outros ícones devem ser utilizados nas situações descritas a seguir.

- I. para “visualizar o *status* do *link* internet no padrão cabeado ethernet”.
II. para “visualizar o *status* de carga da bateria do equipamento”.





Esses ícones são, respectivamente:

- A)  e 
B)  e 
C)  e 
D)  e 

28. Um funcionário da Guarda Civil Metropolitana lotado na Prefeitura de Campo Grande - MS digitou um texto no Word 2019 BR. No decorrer desta atividade, executou três procedimentos, descritos a seguir.

- I. Acionou um ícone para inserir uma quebra de página, entre as páginas 1 e 2 do documento.
II. Inseriu a referência **CAMPO GRANDE - MS** no título do documento, por meio do uso de um recurso deste editor, que tem por função possibilitar a criação de artes gráficas pela inserção de toques artísticos como efeitos especiais.
III. Para finalizar, salvou o texto em um arquivo com um novo nome, pressionou uma tecla de função como um atalho, com o significado de “Salvar como”.

Nessas condições, o ícone, a denominação para o recurso utilizado, e a tecla de função são, respectivamente:

- A)  Quebra de Página, PaintArt e F11
B)  Quebra de Página, WordArt e F12
C)  Quebra de Página, WordArt e F11
D)  Quebra de Página, PaintArt e F12

29. A planilha da figura a seguir foi criada no *software* Calc da suite 7.03.1 (x64), versão em português. Nela foram realizados os procedimentos descritos a seguir.

- I. Em F9 foi inserida a expressão =SE(MOD(D7;3)=0;"AQUIDAUANA";"DOURADOS").
II. Em F11 foi inserida uma expressão para determinar o segundo maior número dentre todos nas células B7, C7, D7, E7 e F7.
III. Em F13 foi inserida a expressão =MÉDIA(B7;F7).

	A	B	C	D	E	F
1						
2						
3						
4						
5						
6						
7		21	30	23	17	19
8						
9					SE --- >>>	?
10						
11					SEGUNDO MAIOR --- >>>	23
12						
13					MÉDIA --- >>>	?

Nessas condições, o conteúdo mostrado em F9, a expressão inserida na célula F11 e o valor mostrado em F13 são, respectivamente:

- A) DOURADOS, =MAIOR(B7:F7;2) e 20
B) DOURADOS, =MAIOR(B7:F7;1) e 22
C) AQUIDAUANA, =MAIOR(B7:F7;1) e 20
D) AQUIDAUANA, =MAIOR(B7:F7;2) e 22


30. No *software* Impress da suíte 7.03.1 (x64), versão em português, para exibir uma apresentação de *slides* existem dois modos:

- I. a partir do começo por meio do acionamento de uma tecla de função e
- II. a partir do *slide* atual em edição por meio da execução de um atalho de teclado.

A tecla de função e o atalho de teclado são, respectivamente:

- A) F3 e Ctrl + F3
- B) F5 e Ctrl + F5
- C) F3 e Shift + F3
- D) F5 e Shift + F5

31. As redes de computadores cabeadas atuais são implementadas por meio de cabos UTP, não blindados, que usam um conector específico, em conformidade com os padrões Fast Ethernet e Gigabit Ethernet. A imagem e sigla utilizadas para referenciar esse conector estão indicadas na seguinte alternativa:



32. Na navegação em *sites* na internet por meio do Google Chrome, a execução de dois atalhos de teclado gera como resultado:

- I. a abertura da página de *downloads* em uma nova guia;
- II. o fechamento da janela atual.

Os atalhos de teclado caracterizados em I e II são, respectivamente:

- A) Ctrl + D e Alt + F4
- B) Ctrl + D e Alt + F7
- C) Ctrl + J e Alt + F4
- D) Ctrl + J e Alt + F7

33. No contexto da segurança da informação, três afirmativas são listadas a seguir.

- I. É a capacidade que garante a um usuário ser de fato quem alega ser.
- II. É a capacidade de uma informação estar correta, ser verdadeira e não estar corrompida.
- III. É a capacidade de um sistema de permitir que usuários acessem determinadas informações ao mesmo tempo em que impede que outros, não autorizados, o vejam.

As afirmativas listadas em I, II e III representam as definições, respectivamente, dos seguintes termos:

- A) autenticação, privacidade e disponibilidade
- B) autenticação, integridade e confidencialidade
- C) replicação, privacidade e confidencialidade
- D) replicação, integridade e disponibilidade

34. Atualmente tem crescido a preocupação com a segurança relacionada à navegação na internet, tendo a criptografia se tornado um recurso no sentido de evitar fraudes. Por definição, a criptografia constitui o processo de transformar dados usando um algoritmo criptográfico e uma chave e, neste contexto, dois tipos são caracterizados a seguir.

- I. Também conhecido como criptografia de chave *secreta*, representa um modo no qual a criptografia e a decriptografia usam a mesma chave.
- II. Também conhecido como criptografia de chave pública, representa um modo no qual a criptografia e a decriptografia usam uma chave diferente, porém matematicamente relacionada.

Os tipos descritos em I e II são denominados, respectivamente, criptografia de chave:

- A) analógica e digital
- B) digital e analógica
- C) simétrica e assimétrica
- D) assimétrica e simétrica

35. No que diz respeito aos formatos de arquivos, duas extensões válidas e empregadas para imagens e figuras em *sites* na internet são:

- A) SCR e JPG
- B) JPG e PNG
- C) PNG e MP3
- D) MP3 e SCR

LEGISLAÇÃO MUNICIPAL

36. D. Corbusier foi aprovado em concurso público municipal, mas não foi chamado no primeiro grupo de aprovados. Após um período sem notícias, busca informações no setor de Recursos Humanos do município para saber da validade do processo seletivo. Nos termos da Lei Complementar municipal nº 190 de 22 de dezembro de 2011, o concurso terá validade de até dois anos a contar de sua:

- A) aprovação
- B) publicação
- C) decisão
- D) homologação

37. K. pretende participar de concurso público, requerendo sua inscrição na cota de pessoas com necessidades especiais. Nos termos da Lei Complementar municipal nº 190 de 22 de dezembro de 2011, as pessoas consideradas com alguma deficiência devem apresentar laudo médico com a espécie, grau ou nível de deficiência com expressa referência ao código da:

- A) Classificação Especial de Doença (CED)
- B) Classificação Médica de Doença (CMD)
- C) Classificação Internacional de Doença (CID)
- D) Classificação Aceita de Doença (CAD)

38. Ed é aprovado em concurso público realizado pelo município LLK e, nos termos da legislação aplicável, passa a ser submetido a estágio probatório. Nos termos da Lei Complementar municipal nº 190 de 22 de dezembro de 2011, nos casos de remanejamento ou remoção, o servidor deverá ser submetido à avaliação:

- A) extraordinária
- B) projetada
- C) mediana
- D) natural

39. B. é servidor público municipal vinculado ao serviço de assistência social. Dada sua idade, não foi dispensado das atividades em decorrência da pandemia. Temeroso pela sua saúde, decide não mais comparecer ao serviço, sendo considerado como abandono de cargo. Nos termos da Lei Complementar municipal nº 190 de 22 de dezembro de 2011, o abandono de cargo gera um ato punitivo denominado:

- A) readaptação
- B) demissão
- C) exoneração
- D) remoção

40. Rafa foi aprovado em concurso público para ingresso nos quadros da Guarda Civil Metropolitana do município XC, passando a integrar o curso de formação. Nos termos da Lei Complementar municipal nº 358, de 29 de agosto de 2019, durante o período do curso de formação, o candidato receberá uma bolsa-auxílio correspondente a:

- A) trinta por cento do vencimento do Guarda Civil Terceira Classe
- B) quarenta por cento do vencimento do Guarda Civil Terceira Classe
- C) cinquenta por cento do vencimento do Guarda Civil Terceira Classe
- D) sessenta por cento do vencimento do Guarda Civil Terceira Classe

CONHECIMENTOS ESPECÍFICOS

41. Fiona é empresária com contatos em vários países dispostos a investir no Brasil. Um dos setores buscados é o de petróleo e gás. Ao analisar a divisão de competências estabelecidas na Constituição Federal, verifica que existe um setor que pertence aos estados federados. Nos termos da Lei Maior, cabe aos estados a exploração direta ou mediante concessão de serviços locais de:

- A) minério de ouro
- B) gás canalizado
- C) pedras preciosas
- D) águas marítimas

42. L.R. é Deputado Estadual, tendo sido eleito para o exercício de várias legislaturas. Consulta o partido ao qual pertence sobre a possibilidade de lançar candidatura ao Senado Federal. Após pesquisa de intenção de votos, afere que está nas primeiras colocações e apresenta seu pleito ao partido. Nos termos da Constituição Federal quanto ao Senado, a representação de cada Estado e do Distrito Federal será renovada de quatro em quatro anos, alternadamente, por:

- A) metade e um terço
- B) dois terços e um quinto
- C) três quintos e um terço
- D) um e dois terços

43. Mireles Sarif, brasileira nata, viajou para determinado país onde obteve autorização para residir e exercer atividade laborativa. Após alguns anos, resolve requerer a nacionalidade local para exercer direitos políticos. Apesar desse ato, manteve o passaporte brasileiro. Nos termos da Constituição Federal, ocorrerá a perda da nacionalidade quando adquirir outra nacionalidade, salvo de imposição de naturalização, pela norma estrangeira, ao brasileiro residente em estado estrangeiro, como condição para permanência em seu território ou para o exercício de direitos:

- A) pessoais
- B) civis
- C) eleitorais
- D) migratórios

44. Pilat é professor vinculado ao município ZZ e realiza concurso para o município TT. Após aprovação, dirige-se ao setor de recursos humanos para tomar posse, onde o responsável exige comprovante de exoneração do órgão anterior. Nos termos da Constituição Federal, quando houver compatibilidade de horários, é permitida a acumulação de dois cargos de:

- A) advogado
- B) promotor
- C) professor
- D) policial

45. O agente público Theotônio busca organizar a atividade da Secretaria Municipal de Obras do município LL com o intuito de adequá-la aos modernos parâmetros da administração pública. Um dos eixos da organização consiste em estabelecer parâmetros para os atos de polícia, editando normas que impõem a definição do objeto e de metas. Nos termos das normas do Direito Administrativo, são considerados atos de polícia os de:

- A) legislação
- B) fiscalização
- C) julgamento
- D) consultoria

46. Fred pretende promover ação com pedido condenatório do município por ter caído em um bueiro destampado. Houve alerta de vários munícipes quanto ao fato, e a secretaria competente não se pronunciou sobre o assunto. Nos termos da doutrina do Direito Administrativo, a responsabilidade do município decorre da existência de omissão:

- A) específica
- B) natural
- C) generalista
- D) apropriada

47. Pablo é admitido, por concurso, no serviço público municipal. Por força da legislação de regência, seu órgão de atuação exige a apresentação de declaração de bens. Nos termos da Lei Federal nº 8.429, de 02 de junho de 1992, o servidor poderá entregar cópia da declaração anual de bens, na conformidade da legislação do Imposto sobre a Renda e proventos de qualquer natureza, apresentada à:

- A) Secretaria Estadual de Fazenda
- B) Inspeção Seccional do Tesouro
- C) Delegacia da Receita Federal
- D) Superintendência da Fiscalização

48. Corey Mum é prefeito do município Fifty e pratica vários atos que, em tese, estariam no âmbito de sua competência, mas com objetivo de beneficiar terceiras pessoas. Nesse caso, de acordo com o Direito Administrativo, estaria caracterizado o denominado:

- A) excesso exacerbado
- B) vício de atribuição
- C) desvio de poder
- D) uso restrito

49. Xará B, servidor público efetivo da União, resolve disputar eleição para prefeito do município MM, logrando obter a maioria de votos, sendo eleito. Nos termos da Constituição Federal, afastado do cargo de origem, o servidor será remunerado:

- A) pelo cargo federal de origem
- B) por ambos os cargos, vez que cumuláveis
- C) pelo cargo de Prefeito, desde que aprovado pelo legislativo local
- D) por Fundo Especial que equaliza as remunerações

50. ETR, sociedade empresarial, resolve impugnar determinado ato administrativo emanado do município MR aduzindo sua ilegalidade. O pedido impugnativo é rejeitado por ausência de elementos apresentados pelo autor. Nesse caso, prevaleceu, de acordo com o Direito Administrativo, a denominada presunção de:

- A) eficácia
- B) habilidade
- C) onerosidade
- D) legitimidade

51. Bianca conduz um veículo automotor na contramão quando vem a colidir com outro veículo dirigido por Paula, que ultrapassou o farol vermelho. Nos termos das normas penais aplicáveis, deve ocorrer a:

- A) caracterização da culpa de Bianca
- B) exclusão da culpa de Paula
- C) compensação de culpas
- D) transformação das culpas

52. Pepe é servidor público e atua como ordenador de despesas de determinado órgão municipal. No exercício de suas atribuições, presta garantia em operação de crédito sem que tenha sido constituída contragarantia em valor igual ou superior ao valor da garantia prestada. Nos termos do Código Penal, cometeu o crime de prestação de garantia:

- A) avulsa
- B) graciosa
- C) relevante
- D) formal

53. Raí se envolve em discussão com Fe, em botequim localizado próximo de sua residência, acarretando vias de fato, o que provocou a presença da Guarda Civil. Nos termos da lei, os envolvidos foram encaminhados para a Delegacia de Polícia que verificou ser o delito próprio da Lei de Juizados Especiais. Nos termos da Lei dos Juizados Especiais (Lei nº 9.099/95), havendo danos civis sem composição, poderá o ofendido exercer o direito de:

- A) ação penal
- B) intervenção repressiva
- C) representação verbal
- D) utilização de mãos próprias

54. Sheldon é condutor habilitado, segundo as regras do Código de Trânsito Brasileiro, e trafega nas vias urbanas do município RR. Ao buscar estacionamento próximo ao local onde iria realizar reunião de negócios, encontra uma vaga na mão contrária ao seu fluxo e coloca as duas rodas sobre o calçamento. Nos termos do Código de Trânsito Brasileiro, o veículo deverá ser posicionado no sentido do fluxo, paralelo ao bordo da pista de rolamento e junto à:

- A) sinalização de trânsito
- B) faixa pintada
- C) localização de destino
- D) guia da calçada

55. Harry é condutor profissional com habilitação para dirigir veículos de alta potência. Nos finais de semana, dirige veículo de passeio em que conduz sua família para atividades de lazer. Muito preocupado com a segurança, sempre tece considerações de como proceder nas vias de tráfego, sendo um defensor da educação no trânsito. Um dos itens que está na sua lista consiste nos procedimentos de entrada e saída do veículo. Nos termos do Código Brasileiro de Trânsito, o condutor e os passageiros não deverão abrir a porta do veículo, deixá-la aberta ou descer do veículo sem antes se certificarem de que isso não constitui:

- A) ato infracional
- B) erro de localização
- C) defeito de inserção
- D) perigo para eles

56. J. é servidor público municipal e foi informado que, em determinada localidade do município onde exerce atividade vinculada ao serviço social, existe uma casa com menores abandonados. Ao realizar diligência com sua equipe, constatou três crianças sem a presença dos seus pais ou responsáveis. Após pesquisa, é informado pelos vizinhos que os pais realizaram mudança para outro estado da federação sem deixar contato. Diante disso, as crianças são encaminhadas ao Juízo competente que, após os atos necessários, ouvido o Ministério Público, expede documento para que haja o acolhimento em instituição governamental especializada. Nos termos do Estatuto da Criança e do Adolescente, haverá expedição de:

- A) Auto de Remessa
- B) Nota de Responsabilidade
- C) Guia de Acolhimento
- D) Documento Especial

57. O adolescente Saq é submetido ao regime de liberdade assistida por força de decisão judicial. Nos termos do Estatuto da Criança e do Adolescente, a liberdade assistida será acompanhada por um:

- A) tutor
- B) orientador
- C) curador
- D) oficial

58. Marta foi aprovada em concurso público para integrar os quadros da Guarda Municipal do município LUV. Tendo em vista suas características expansivas, é designada para atividades que demandam o convívio social. Nos termos do Estatuto Geral das Guardas Municipais, uma das competências específicas das guardas municipais, respeitadas as competências dos órgãos federais e estaduais, consiste em interagir com a sociedade civil para discussão de soluções de problemas e projetos locais voltados à melhoria das condições de:

- A) hígidez dos cidadãos
- B) moradia do local
- C) segurança da comunidade
- D) saúde do distrito

59. Nos termos do Estatuto Geral das Guardas Municipais, o funcionamento das guardas municipais será acompanhado por órgãos próprios, permanentes, autônomos e com atribuições de fiscalização, investigação e auditoria. O denominado controle interno naquelas com efetivo superior a 50 (cinquenta) servidores da guarda será exercido por:

- A) Controladoria
- B) Corregedoria
- C) Capatazia
- D) Comando

60. Ivan foi eleito prefeito do município PA onde não existia Guarda Municipal. Como um dos seus principais projetos, organizou projeto de lei, que foi aprovado pelo órgão legislativo competente. Após a instituição da Guarda, analisa currículos para chefiar o referido órgão. Nos termos do Estatuto Geral das Guardas Municipais, nos primeiros quatro anos de funcionamento, a guarda municipal poderá ser dirigida por profissional estranho a seus quadros, preferencialmente com experiência ou formação na área de:

- A) Educação Física
- B) Defesa Social
- C) Assistência
- D) Pedagogia

RASCUNHO
