

CONCURSO PÚBLICO EMPRESA CUIABANA DE LIMPEZA URBANA - LIMPURB

EDITAL Nº 001/2022/LIMPURB

CONTADOR

Duração: 03h00min (três horas)
Leia atentamente as instruções abaixo:

- 01 Você recebeu do fiscal o seguinte material:
a) Este caderno, com 60 (sessenta) questões da Prova Objetiva, sem repetição ou falha, conforme distribuição abaixo:

CONHECIMENTOS BÁSICOS	CONHECIMENTOS GERAIS	CONHECIMENTOS ESPECÍFICOS
01 a 20	21 a 40	41 a 60

- b) Um Cartão de Respostas destinado às respostas das questões objetivas.
- 02 Verifique se este material está em ordem e se o seu nome e número de inscrição conferem com os que aparecem no Cartão de Respostas. Caso contrário, notifique imediatamente o fiscal.
- 03 Após a conferência, o candidato deverá assinar no espaço próprio do Cartão de Respostas, com caneta esferográfica de tinta na cor azul ou preta.
- 04 No Cartão de Respostas, a marcação da alternativa correta deve ser feita cobrindo a letra correspondente ao número da questão e preenchendo todo o espaço interno, com caneta esferográfica de tinta na cor azul ou preta, de forma contínua e densa.

Exemplo: A B C D

- 05 Para cada uma das questões objetivas, são apresentadas 4 (quatro) alternativas classificadas com as letras (A, B, C e D), mas só uma responde adequadamente à questão proposta. Você só deve assinalar uma alternativa. A marcação em mais de uma alternativa anula a questão, mesmo que uma das respostas esteja correta.
- 06 Somente depois de decorrida 01 (uma) hora do início da prova, o candidato poderá entregar seu Cartão de Respostas, seu Caderno de Questões e retirar-se da sala de prova. O candidato que insistir em sair da sala de prova, descumprindo o aqui disposto, deverá assinar o Termo de Ocorrência declarando sua desistência do Concurso, que será lavrado pelo Coordenador do Local.
- 07 Ao candidato, será permitido levar seu CADERNO DE QUESTÕES a partir de 01 (uma) hora para o término da prova e desde que permaneça em sala até esse momento.
- 08 Não será permitida a cópia de gabarito no local de prova. Ao terminar a prova de Conhecimentos, o candidato entregará, obrigatoriamente, ao fiscal de sala, o seu CARTÃO DE RESPOSTAS e o seu CADERNO DE QUESTÕES, ressalvado o estabelecido no item 7.
- 09 Reserve os 30 (trinta) minutos finais para marcar seu Cartão de Respostas. Os rascunhos e as marcações assinaladas no Caderno de Questões não serão levados em consideração.
- 10 Os 3 (três) últimos candidatos permanecerão sentados até que todos concluem a prova ou que termine o seu tempo de duração, devendo assinar a ata de sala e retirar-se juntos.

CONHECIMENTOS BÁSICOS

LÍNGUA PORTUGUESA

Texto I

Tomossíntese: novo exame é mais eficaz que a mamografia na detecção do câncer de mama; entenda

Ferramenta, disponível no Brasil, aumenta até 30% a taxa de detecção da doença

Um novo tipo de exame é capaz de detectar o câncer de mama com maior eficácia e precisão do que a mamografia convencional. Diversos estudos têm demonstrado que a tomossíntese da mama, também conhecida como mamografia 3D, aumenta até 30% a taxa de detecção da doença. Outras vantagens da técnica incluem uma redução significativa nas taxas de reconvocação e na necessidade de imagens complementares.

— A tomossíntese tem a vantagem de ser tridimensional, fazer cortes mais finos e mais detalhados, o que evita sobreposições de imagens. Isso é importante porque evita falsos-positivos e falsos-negativos. Então essa é uma ferramenta que representa um enorme avanço porque acaba diagnosticando mais tumores de mama dentro do rastreamento do que o exame convencional — diz o oncologista Fernando Maluf, fundador do Instituto Vencer o Câncer.

A mais recente evidência sobre o assunto é um estudo publicado na conceituada revista científica *Lancet Oncology*, que mostrou que a tomossíntese em conjunto com a mamografia tradicional é capaz de detectar 48% mais tumores invasivos do que apenas a mamografia tradicional. A pesquisa, conduzida pela Universidade de Munster, na Alemanha, rastreou 99 mil mulheres com idade entre 50 e 69 anos. Entre 5 de julho de 2018 e 30 de dezembro de 2020, as pacientes foram aleatoriamente designadas para realizar um dos dois exames.

Esse não é o primeiro estudo a mostrar a superioridade da tomossíntese em relação à mamografia tradicional no rastreio do câncer de mama. Um trabalho anterior, realizado pela Universidade de Lund, na Suécia, e publicado na mesma revista, mostrou que a mamografia 3D foi capaz de detectar 34% mais tumores do que a mamografia tradicional. Mas, de acordo com os pesquisadores, esse é o primeiro estudo controlado randomizado a comparar os dois métodos em um ambiente multicêntrico e com equipamentos de diferentes fornecedores.

O equipamento utilizado para a tomossíntese é o mesmo da mamografia tradicional. Basicamente, a diferença entre os dois métodos está na forma como a imagem é capturada. Enquanto a mamografia tradicional é bidimensional (2D), a tomossíntese é em 3D. Isso significa que são tiradas várias imagens de raios X de baixa dose da mama, de diferentes ângulos. Em seguida, essas imagens são reconstruídas por um computador, para mostrar camadas finas da mama. Com menos estruturas de tecido sobrepostas e imagens melhores e mais precisas, a probabilidade de detectar tumores pequenos aumenta.

Embora o estudo tenha avaliado a combinação da tomossíntese com a mamografia, não é preciso se assustar achando que vai ter que passar pelo desconforto dos apertos da mamografia duas vezes seguidas. A radiologista Marcela Balara, especialista pelo Instituto Nacional do Câncer (INCA) e responsável pelo setor de Imagem Mamária do Richet Medicina & Diagnóstico, explica que mamógrafos de última geração permitem a realização simultânea dos dois exames. Além de diminuir a dor, isso também reduz o nível de radiação, que é uma preocupação em relação ao uso da tomossíntese em conjunto com a mamografia. Vale ressaltar que mesmo nos casos em que é necessário realizar os dois exames, o nível de radiação ainda fica dentro do limite considerado seguro.

Fonte:

<https://oglobo.globo.com/saude/medicina/noticia/2022/07/tomossintese-novo-exame-e-mais-eficaz-que-a-mamografia-na-deteccao-do-cancer-de-mama-entenda.ghtml>. Acesso em 2 de julho de 2022. Adaptado

1. O objetivo principal do texto é:

- A) indicar as semelhanças entre a mamografia e a tomossíntese
- B) indicar as diferenças entre a mamografia e a tomossíntese
- C) indicar as maiores vantagens da tomossíntese em relação à mamografia
- D) indicar as maiores vantagens da mamografia em relação à tomossíntese

2. O texto apresentado faz referência a conhecimentos científicos, voltados à detecção de doenças da mama. Considerando as suas condições de produção, esse texto volta-se prioritariamente:

- A) aos médicos
- B) às mulheres
- C) a todos os leitores em geral
- D) aos profissionais da área da Saúde

3. A palavra “tomossíntese” é acentuada pela mesma razão da palavra:

- A) câncer
- B) técnica
- C) também
- D) disponível

4. Na palavra “mamografia”, detecta-se o uso do sufixo -grafia. Esse sufixo tem um significado morfológico próprio. Significa:

- A) exame
- B) registro
- C) doença
- D) ciência

5. “Enquanto a mamografia tradicional é bidimensional (2D), a tomossíntese é em 3D” (5º parágrafo). O conector destacado serve para indicar a noção de:

- A) tempo
- B) conformidade
- C) proporção
- D) contraste

6. “A tomossíntese tem a vantagem de ser tridimensional, fazer cortes mais finos e mais detalhados, o que evita a sobreposições de imagens. Isso é importante porque evita falsos-positivos e falsos-negativos. Então essa é uma ferramenta que representa um enorme avanço [...]” (2º parágrafo). No texto, o pronome destacado faz referência a:

- A) tomossíntese
- B) mamografia
- C) ferramenta
- D) avanço

7. “A radiologista Marcela Balara, especialista pelo Instituto Nacional do Câncer (INCA) e responsável pelo setor de Imagem Mamária do Richet Medicina & Diagnóstico, explica que mamógrafos de última geração permitem a realização simultânea dos dois exames.” (6º parágrafo). Nesse trecho, as vírgulas são usadas para:

- A) isolar vocativo
- B) separar conjunções
- C) destacar um aposto explicativo
- D) indicar elementos de mesma função sintática

8. “A mais recente evidência sobre o assunto é um estudo publicado na conceituada revista científica Lancet Oncology, que mostrou que a tomossíntese em conjunto com a mamografia tradicional é capaz de detectar 48% mais tumores invasivos do que apenas a mamografia tradicional” (3º parágrafo). Nesse trecho, há uso de uma importante técnica argumentativa que se baseia:

- A) no contraste
- B) na exemplificação
- C) na alusão histórica
- D) no argumento de autoridade

RACIOCÍNIO LÓGICO E MATEMÁTICO

9. Considere os seguintes conjuntos A, B e C, definidos da seguinte maneira:

A= conjunto formado por todas as pessoas que são engenheiros.

B= conjunto formado por todas as pessoas que gostam de desafios.

C= conjunto formado por todas as pessoas que possuem capacidade de liderança.

Se Marcelo pertence ao conjunto $(B-A) - (A \cup C)$, então é necessariamente verdade que Marcelo:

- A) não gosta de desafios, é engenheiro e possui capacidade de liderança
- B) gosta de desafios, é engenheiro e possui capacidade de liderança
- C) não gosta de desafios, não é engenheiro e não possui capacidade de liderança
- D) gosta de desafios, não é engenheiro e não possui capacidade de liderança

10. Considere a seguinte proposição:

Se Maria não atua no tribunal de júri, então Maria é analista de RH”

Dessa afirmação, é possível concluir corretamente que:

- A) se Maria não é analista de RH, então ela atua no tribunal de júri
- B) se Maria é analista de RH, então ela não atua no tribunal de júri
- C) se Maria é analista de RH, então ela atua no tribunal de júri
- D) se Maria atua no tribunal de júri, então ela não é analista de RH

11. Um arquiteto apresentou os projetos A e B para a prefeitura de um município. Considere que a probabilidade de o projeto A ser aprovado seja de 80% e que a probabilidade de o projeto B ser aprovado seja de 60%. Se a aprovação de um projeto é independente da aprovação do outro, a probabilidade de somente o projeto B ter sido aprovado é de:

- A) 12%
- B) 15%
- C) 18%
- D) 20%

12. Em uma reunião estão presentes 8 profissionais, sendo 4 advogados, 3 engenheiros e 1 arquiteto. Seja **n** a quantidade máxima de diferentes comissões que podem ser formadas com quatro desses profissionais e com a presença obrigatória do arquiteto. O valor de **n** é:

- A) 45
- B) 40
- C) 35
- D) 30

NOÇÕES DE INFORMÁTICA





13. No que diz respeito aos conceitos básicos, existem duas atividades bem comuns, definidas quando se usam os recursos da internet. Uma tem por significado baixar um arquivo da Internet para um dispositivo, como imagens, vídeos, músicas e documentos; outra faz o caminho inverso, visto que transfere arquivos de um dispositivo para a Internet, como postar uma foto na rede social ou encaminhar um anexo por *e-mail*. Essas atividades são conhecidas, respectivamente, como

- A) downgrade e upgrade
- B) upgrade e downgrade
- C) download e upload
- D) upload e download

14. Atualmente tem crescido a preocupação com a atividade de *backup*, com a realização de cópias de segurança, que visa a garantir a integridade dos dados armazenados nos microcomputadores e notebooks. Nesse contexto, dois dispositivos de armazenamento que são utilizados nessa atividade são:

- A) scanner e disco rígido
- B) disco rígido e pendrive
- C) pendrive e teclado
- D) teclado e scanner

15. Atualmente um dos aplicativos mais utilizados no uso de microcomputadores e notebooks é um editor de textos, como o *Word* do pacote *MS Office 2019 BR*. No uso dos recursos desse editor, um ícone é acionado, por meio do ponteiro do mouse, para salvar um texto digitado, na forma de um arquivo, normalmente em formato DOCX. Esse ícone é o:

- A) 
- B) 
- C) 
- D) 

22. “Se durante a colonização Mato Grosso foi reconhecido pelo ouro, hoje é um mercado potencial para a fabricação de joias e semijoias a partir de pedras preciosas. Além de ser o maior produtor de diamante do Brasil – com 88% do total da produção brasileira, segundo o Departamento Nacional de Produção Mineral (DNPM) –, o estado também se destaca pelas pedras coradas, como a ametista, o quartzo rosa, a ágata e a turmalina. A atividade mineral no Estado é histórica. Não há como falar da povoação de Mato Grosso sem falar da extração do ouro e diamante”.

Fonte: <http://www.mt.gov.br/economia> (acesso em 04/07/2022)

O início da mineração nos atuais estados de Mato Grosso e Mato Grosso do Sul data das primeiras décadas do século XVIII, atividade de fundamental importância para a ocupação da capitania de Mato Grosso à época. A partir dessas informações, com relação ao processo colonizador de Mato Grosso, pode-se atestar que:

- A) Cuiabá chegou a abrigar as terras das minas então pertencentes à capitania de São Paulo, e que o governador dessa capitania adotou uma rigorosa política fiscal visando a aumentar as rendas da coroa portuguesa.
- B) o abandono de Mato Grosso por parte da metrópole portuguesa, desinteressada pelo baixo retorno da mineração, facilitou que os espanhóis expandissem seu domínio até o centro-sul da colônia portuguesa.
- C) a metrópole portuguesa no início do século XVIII ainda dependia bastante da economia açucareira, levando-a a dar pouca atenção às regiões mineradoras, fato ocorrido com a capitania de Mato Grosso.
- D) a capitania conquistou sua autonomia política e administrativa de São Paulo apenas após a independência do Brasil, fato que pode ser explicado pelo pouco sucesso da mineração nas terras de Cuiabá.

23. Localizado na Região Centro-Oeste do Brasil, o estado de Mato Grosso é o maior estado em extensão territorial da região e faz limites com o estado:

- A) de Goiás, a leste
- B) do Tocantins, a noroeste
- C) de Rondônia, a nordeste
- D) do Pará, ao sul

24. Suponha que uma partida de futebol, válida pelo campeonato mato-grossense, ocorreu no dia 11 de julho de 2022, às 15h, no horário local. Que horas seriam, nesse exato momento, na cidade de São Paulo?

- A) 15h
- B) 16h
- C) 18h
- D) 21h

25. Em Mato Grosso e na região Centro-Oeste, o processo de ocupação do território e a implantação de novos sistemas de produção gerou, além dos conflitos fundiários, impactos ambientais como:

- A) fertilização dos solos
- B) aumento dos estoques pesqueiros
- C) difusão e proliferação de novas espécies vegetais e animais
- D) intensificação da erosão dos solos e consequente assoreamento dos rios

NOÇÕES DE ÉTICA E FILOSOFIA

26. A recusa do livre-arbítrio é expressa pela conjunção das seguintes afirmações:

- A) toda ação é predeterminada; liberdade e predeterminação são incompatíveis
- B) toda ação é predeterminada; liberdade e predeterminação são compatíveis
- C) nenhuma ação é predeterminada; ações livres são possíveis
- D) nenhuma ação é predeterminada; todas as ações são livres

27. A afirmação de Protágoras de que o homem é a medida de todas as coisas significa, no campo da moral, que:

- A) todas as verdades morais são absolutas e universais
- B) algumas verdades morais são absolutas e universais
- C) não há verdades morais absolutas e universais
- D) há apenas uma verdade moral absoluta e universal

28. O conceito de autoconhecimento implica:

- A) uma incapacidade de pensar de forma reflexiva e racional sobre si mesmo
- B) uma capacidade de pensar reflexivamente sobre si mesmo
- C) uma capacidade de pensar de modo ilógico e irrefletido sobre si mesmo
- D) uma incapacidade de pensar sobre si mesmo como um ser social

29. Afirmar a existência de princípios lógicos universais significa:

- A) afirmar a existência de padrões de racionalidade válidos independentemente dos contextos locais particulares
- B) afirmar que nenhum padrão de racionalidade é válido independentemente de contextos locais particulares
- C) afirmar que a validade de toda norma de racionalidade é relativa a uma comunidade linguística particular
- D) afirmar a inexistência de normas de racionalidade válidas

30. Heráclito afirma que “ninguém pode entrar duas vezes no mesmo rio”. Essa afirmação expressa uma concepção segundo a qual:

- A) nada muda ao longo do tempo
- B) nada permanece o mesmo ao longo do tempo
- C) toda impermanência é ilusória
- D) tudo o que existe é permanente

RELAÇÕES INTERPESSOAIS

31. A negociação é o processo pelo qual duas ou mais partes trocam bens ou serviços e buscam um acordo sobre as vantagens dessa troca (ROBBINS, 2005). Nesse processo são utilizadas estratégias de barganha:

- A) distributiva e integrativa
- B) distributiva e normativa
- C) distributiva e discriminativa
- D) distributiva e comunicativa

32. Estudos relatam que, diante de um certo nível de conflito intelectual, quanto mais incompatíveis os grupos, mais produtivos eles tendem a ser (ROBBINS, 2005). Nesse caso, observa-se uma consequência:

- A) distributiva
- B) funcional
- C) integrativa
- D) disfuncional

33. As palestras, os debates formais entre duas pessoas ou em grupo e a rede informal de rumores são uma forma de comunicação:

- A) verbal
- B) escrita
- C) oral
- D) não verbal

34. Para que as relações interpessoais ocorram de forma harmoniosa no ambiente de trabalho, é necessário que tenhamos habilidade para olhar com os olhos do outro, considerando a possibilidade de sentir o que outra pessoa sente caso estivesse na mesma situação ou em situação similar vivenciada por ela. Essa habilidade é denominada:

- A) harmonia
- B) motivação
- C) compaixão
- D) empatia

35. A teoria mais conhecida sobre liderança refere-se à liderança em termos de estilos de comportamento do líder em relação aos seus subordinados (CHIAVENATTO, 2014). No estilo de liderança autocrática, o líder:

- A) centraliza as decisões e impõe suas ordens ao grupo
- B) conduz, orienta o grupo e incentiva a participação de todos nas decisões
- C) delega totalmente as decisões ao grupo e deixa-o à vontade e sem controle algum
- D) conduz e orienta sua equipe, incentivando a participação das pessoas de forma cordial

NOÇÕES DE ADMINISTRAÇÃO PÚBLICA

36. Há um princípio na Administração Pública, segundo o qual somente é permitida a execução do que está previsto expressamente em lei ou em demais espécies normativas. Esse é o princípio da:

- A) eficiência
- B) moralidade
- C) legalidade
- D) publicidade

37. Apurar infrações internamente e aplicar sanções disciplinares a seus agentes são atuações que decorrem do poder:

- A) disciplinar
- B) normativo
- C) de polícia
- D) administrativo

38. Na organização da administração pública, a descentralização se dá quando as atribuições do Estado são desempenhadas por meio de outras pessoas. Esse serviço descentralizado poderá ocorrer por:

- A) autorização
- B) cessão
- C) licença
- D) outorga

39. Os vícios de legitimidade, em regra geral, acarretam a nulidade de um ato administrativo. Quando a administração pública corrige um ato com vícios sanáveis, não acarretando lesão ao interesse público e nem prejuízo a terceiros, denomina-se:

- A) anulação
- B) convalidação
- C) revogação
- D) homologação

40. Com relação aos controles da administração pública, cabe ao Poder Legislativo exercer suas competências sobre o controle:

- A) judicial
- B) preventivo
- C) financeiro
- D) concomitante

CONHECIMENTOS ESPECÍFICOS

41. Em um ambiente organizacional, a qualidade é um elemento essencial para o desenvolvimento de um serviço que satisfaça às necessidades do cliente/usuário. É correto afirmar que a concepção da Gestão de Qualidade Total introduzido por Deming:

- A) baseia-se na junção entre planejamento, controle e melhoria de qualidade
- B) entende a qualidade como a ausência de deficiências
- C) adota o Diagrama de Pareto como instrumento fundamental de auxílio no processo de controle de qualidade
- D) preconiza que sejam realizados treinamentos no local de trabalho

42. Para a escolha entre as alternativas em um processo decisório, o tomador da decisão é influenciado pelas condições de risco que o circunda. Um dos elementos que compõem toda decisão é a:

- A) heurística
- B) certeza
- C) estratégia
- D) eficácia

43. João é nomeado para órgão público onde seu cunhado, que exerce atividade profissional, não tem autoridade para nomear o parente para cargo de direção. O acesso ao cargo na situação apresentada:

- A) viola o princípio da eficiência na administração pública
- B) é hipótese de nepotismo e viola o princípio da moralidade
- C) é constitucional em função da posição de hierarquia existente entre João e seu cunhado
- D) obedece aos princípios da moralidade e impessoalidade, não havendo hipótese de nepotismo

44. A Receita Corrente Líquida é um indicador financeiro adotado como parâmetro para fins de verificação do cumprimento das disposições presentes na Lei de Responsabilidade Fiscal. Para a sua apuração no âmbito dos Estados, é necessário:

- A) incluir as parcelas entregues aos municípios por determinação constitucional
- B) somar as receitas arrecadadas no mês em referência e nos onze anteriores, excluídas as duplicidades
- C) incluir a contribuição dos servidores para o custeio do seu sistema de previdência e assistência social
- D) deduzir os valores transferidos à União e aos Municípios por determinação constitucional.

45. Para a aquisição de bens e serviços comuns pela Administração Pública, pode ser vantajosa a utilização do pregão presencial, pois engloba qualquer valor estimável de contratação, sendo a disputa pelo fornecimento feita por meio de propostas e lances em sessão pública. Nessa espécie de concorrência, observa-se o seguinte prazo:

- A) máximo de 10 (dez) dias entre a publicação do edital e a apresentação da proposta
- B) de 3 (três) dias, para a impugnação do resultado, podendo haver manifestação da intenção de recorrer posteriormente à divulgação do vencedor
- C) de 45 (quarenta e cinco) dias, no que tange à validade das propostas, caso o edital não preveja outro
- D) de, no mínimo, 8 (oito) dias entre a publicação do aviso e a data do certame

46. A Empresa Comercial Ltda. comercializa uma única mercadoria, e o seu estoque para revenda em 31/08 era de 50 unidades, no valor total de R\$ 6.000,00. Durante o mês de setembro, realizou as seguintes operações:

- 05/09: aquisição de 10 unidades ao custo unitário de R\$ 150,00;
- 12/09: venda de 40 unidades a R\$ 200,00 cada;
- 20/09: aquisição de 20 unidades a R\$ 180,00 cada uma;
- 28/09: venda de 30 unidades no montante de R\$ 7.200,00.

Sabendo-se que os impostos incidentes nas operações de compras e vendas das mercadorias eram de 20% e o método de avaliação dos estoques praticado pela empresa era o PEPS, pode-se então concluir que o custo das mercadorias vendidas, no mês de setembro, correspondeu ao seguinte valor:

- A) R\$ 7.440,00
- B) R\$ 8.640,00
- C) R\$ 9.960,00
- D) R\$ 15.200,00

47. Em 30/11, o balancete de verificação de uma determinada empresa apresentava as seguintes contas com seus respectivos saldos:

Contas	Valores R\$
Caixa	100.000,00
Mercadorias	380.000,00
Veículos	40.000,00
Móveis e Utensílios	40.000,00
Fornecedores	60.000,00
Financiamentos Curto Prazo	160.000,00
Capital Social	340.000,00

Durante o mês de dezembro, ocorreram as seguintes movimentações nas seguintes contas:

Contas	Débito	Crédito
Caixa	120.000,00	180.000,00
Adiantamento a Diretores	60.000,00	-----
Financiamentos Curto Prazo	-----	80.000,00
Clientes a Longo Prazo	40.000,00	-----
Fornecedores	-----	40.000,00
Mercadorias	40.000,00	-----
Capital Social	-----	60.000,00
Imóveis de Uso	60.000,00	-----
Marcas e Patentes	40.000,00	-----

Com base somente nessas informações, no balanço patrimonial elaborado em 31/12, o montante do Ativo Não Circulante demonstrado era igual a:

- A) R\$ 80.000,00
- B) R\$ 200.000,00
- C) R\$ 240.000,00
- D) R\$ 280.000,00

48. Em 01/04/2020, uma empresa adquiriu à vista um equipamento por R\$ 78.000,00, sendo atribuído, além da vida útil de quatro anos, um valor residual de R\$ 6.000,00. A sua instalação e início de operação ocorreu somente em 01/07/2020. Sabendo-se que a empresa adota o método da soma dos dígitos decrescente e que não ocorreu qualquer alteração na sua avaliação, o valor contábil líquido, em 31/12/2021, correspondia ao seguinte valor:

- A) R\$ 42.000,00
- B) R\$ 38.400,00
- C) R\$ 37.200,00
- D) R\$ 36.000,00

49. Em 31/12, para apurar o resultado do exercício, de acordo com a legislação societária, uma empresa comercial revendedora de mercadorias levantou, entre outros, os seguintes dados referentes às suas operações durante o exercício:

CONTAS	R\$
Receitas de Vendas	100.000,00
Comissões sobre Vendas	3.000,00
PIS s/Faturamento	2.000,00
Descontos Comerciais Concedidos	5.000,00
Despesas Financeiras	2.000,00
Salários e Encargos Sociais	9.000,00
COFINS s/Faturamento	1.000,00
Descontos Condicionais Concedidos	4.000,00
Descontos Condicionais Obtidos	3.000,00
ICMS s/Vendas	13.500,00
Receitas Financeiras	2.500,00
Perdas Eventuais	1.500,00
Vendas Canceladas	3.000,00
Depreciação do Imobilizado	2.000,00
Estoque Inicial de Mercadorias	5.000,00
Compras de Mercadorias	60.000,00
ICMS s/Compras	8.500,00
Estoque Final de Mercadorias	3.000,00
Devolução de Compras	3.000,00

Com os dados acima, pode-se concluir que o lucro bruto apurado no exercício correspondeu ao seguinte valor:

- A) R\$ 9.000,00
- B) R\$ 13.000,00
- C) R\$ 24.500,00
- D) R\$ 25.000,00

50. O Balanço Patrimonial da Cia. ABC elaborado, em 31/12/2020, apresentava no ativo imobilizado um equipamento com o seguinte valor contábil:

Custo de Aquisição..... R\$ 600.000,00
Depreciação Acumulada...(R\$ 180.000,00) R\$ 420.000,00

No início do exercício de 2021, a companhia reestimou a vida útil do equipamento para cinco anos restantes, com um valor residual de R\$ 30.000,00. No final do referido exercício, cumprindo a legislação pertinente, realizou o teste de "impairment", apurando os seguintes valores:

- valor justo líquido de despesas de vendas....R\$ 350.000,00
- valor em uso.....R\$ 360.000,00

Sabendo-se que a companhia adota o método linear para o cálculo da depreciação do seu imobilizado, o saldo contábil desse equipamento a ser apresentado no balanço patrimonial de 31/12/2021 seria igual a:

- A) R\$ 306.000,00
- B) R\$ 342.000,00
- C) R\$ 350.000,00
- D) R\$ 360.000,00

51. O balanço patrimonial da Cia. XYZ, elaborado em 31/12/2021, era composto pelas seguintes contas com seus respectivos saldos (em reais):

Disponibilidades	24.000,00
Capital Social	90.000,00
Salários a Pagar	8.000,00
Estoques	36.000,00
Adiantamento a Diretores	3.600,00
Ágio na emissão de ações	4.000,00
Imóveis	12.000,00
Capital a Integralizar	16.000,00
Adiantamento a Fornecedores a Curto Prazo	4.800,00
Prejuízos Acumulados	3.200,00
Impostos a Recolher	2.000,00
Empréstimos a Longo Prazo	1.200,00
ICMS a Recuperar	1.600,00
Fornecedores a Curto Prazo	10.000,00
Mobiliário	2.800,00
Participações em Controladas	11.200,00

Durante o mês de março de 2022, a companhia estava passando por uma avaliação econômico-financeira, e um dos índices apurados foi o seu grau de endividamento em relação ao total do ativo. Com esses dados demonstrados no referido balanço, pode-se concluir que o valor pertinente apurado foi igual a: (resposta com duas casas decimais, aplicando a regra de aproximação)

- A) 0,12
- B) 0,16
- C) 0,22
- D) 0,27

52. O balanço patrimonial de uma determinada companhia, elaborado em 31/12, apresentava a seguinte composição:

ATIVO		Passivo e Patrimônio Líquido	
Disponibilidade	50.000,00	Fornecedores	20.000,00
Clientes	20.000,00	Empréstimos	80.000,00
Mercadorias	30.000,00	Capital Social	100.000,00
Mobilizado	100.000,00	TOTAL	200.000,00
TOTAL	200.000,00	TOTAL	200.000,00

Além do balanço apresentado, foram obtidas de outras demonstrações as seguintes informações:

- lucro bruto.....R\$ 50.000,00
- margem líquida.....20%
- rentabilidade do ativo total....15%

Sabendo-se que o montante das mercadorias adquiridas durante o exercício, líquidas de impostos, foi igual a R\$ 120.000,00 e, levando em consideração o ano comercial, pode-se concluir com base nessas informações que o prazo médio de rotação de estoque, em termo de dias, no exercício, foi igual a:

- A) 90
- B) 72
- C) 60
- D) 40

53. Do balanço orçamentário de um determinado ente federativo elaborado no final de um exercício, foram extraídos os seguintes dados:

Total das receitas correntes previstas	450.000,00
Economia orçamentária	85.000,00
Insuficiência de arrecadação de receitas	50.000,00
Déficit de capital	35.000,00
Receitas de capital realizadas	340.000,00

Sabendo-se que a Lei Orçamentária aprovada para o exercício previa receitas e fixava despesas no valor de R\$ 750.000,00; durante o exercício financeiro não foi aprovado qualquer tipo de crédito adicional e não houve refinanciamento de dívidas; o resultado orçamentário demonstrado na respectiva demonstração correspondia a um:

- A) déficit de R\$ 85.000,00
- B) déficit de R\$ 25.000,00
- C) superávit de R\$ 60.000,00
- D) superávit de R\$ 35.000,00

54. As demonstrações contábeis do setor público são a representação estruturada da situação patrimonial, financeira e do desempenho da entidade, devendo proporcionar informação útil para subsidiar a tomada de decisão, prestação de contas e a responsabilização. No final de cada exercício financeiro, as demonstrações contábeis são elaboradas, na sua maioria, contendo o quadro principal, demonstrativos auxiliares e notas explicativas. Os demonstrativos auxiliares denominados de "Quadro do Superávit / Déficit Financeiro" e "Quadro de Transferências Recebidas e Concedidas" compõem, respectivamente, as seguintes demonstrações contábeis:

- A) balanço financeiro e balanço orçamentário
- B) balanço financeiro e demonstração das variações patrimoniais
- C) balanço patrimonial e demonstração dos fluxos de caixa
- D) balanço patrimonial e balanço orçamentário

55. Em 22/09/2021, após todas as tratativas realizadas, um determinado órgão do governo federal transferiu para um Estado da Federação um imóvel que não estava em utilização na União e, ao passar para o patrimônio de Estado, seria transformado em uma creche infantil. Na ocasião do recebimento do imóvel pelo Estado e para cumprir as normas vigentes, deveria ter sido efetuado pelo seu setor de contabilidade o seguinte lançamento: (D: débito; C: crédito)

- A) D: 1.2.3.2.1.00.00 Bens Imóveis – Consolidação
C: 4.5.2.3.4.00.00 Transferências Voluntárias – Inter OFSS – Estado
- B) D: 1.2.3.2.1.00.00 Bens Imóveis – Consolidação
C: 4.5.2.3.3.00.00 Transferências Voluntárias – Inter OFSS – União
- C) D: 1.2.3.2.1.00.00 Bens Imóveis – Consolidação
C: 4.5.1.2.2.00.00 Transferências Recebidas Independentes de Execução da Orçamentária – Intra OFSS
- D) D: 1.2.3.2.1.00.00 Bens Imóveis - Consolidação
C: 4.5.2.4.4.00.00 Outras Transferências – Inter OFSS – Estado

56. No final do exercício financeiro, um determinado ente público, ao elaborar a Demonstração das Variações Patrimoniais, observa que os valores correspondentes a “Valorizações e Ganhos com Ativos e Desincorporações de Passivos”, obtidos durante o exercício, serão indicados na sua composição, no seguinte agrupamento (classe e grupo):

- A) 4.7
- B) 4.6
- C) 4.5
- D) 4.4

57. Conforme preconizado na NBC TSP – Estrutura Conceitual, as bases de mensuração para o passivo podem ser classificadas em termos de valores de entrada ou de saída. Os valores de entrada se relacionam à transação na qual a obrigação é contraída ou ao montante que a entidade aceitaria para assumir um passivo. Os valores de saída refletem o montante exigido para cumprir a obrigação ou o montante exigido para liberar a entidade da obrigação. Dentre as bases de mensuração para o passivo, aquelas que fornecem valores de saída são:

- A) custo histórico e preço presumido
- B) valor de mercado e custo histórico
- C) custo de liberação e valor de mercado
- D) custo de cumprimento da obrigação e custo de liberação

58. O suprimento de fundos é caracterizado por ser um adiantamento de recursos financeiros a um servidor para futura prestação de contas, e deverá passar por todos os estágios da execução da despesa. Considere, então, o fato de que uma determinada prefeitura, no início do mês de maio, realizou a transferência de recursos para um servidor (estágio do pagamento). Assinale, entre os lançamentos efetuados abaixo, aquele que não é pertinente à operação: (D: débito; C: crédito)

- A) D: 2.1.8.9.x.xx.xx Outras Obrigações de Curto Prazo – Suprimento de Fundos (F)
C: 1.1.1.1.x.xx.xx Caixa e Equivalentes de Caixa em Moeda Nacional (F)
- B) D: 6.2.2.1.3.03.xx Crédito Empenhado Liquidado a Pagar
C: 6.2.2.1.3.04.xx Crédito Empenhado Pago
- C) D: 8.2.1.1.3.xx.xx DDR Comprometida por Liquidação e Entradas Compensatórias
C: 8.2.1.1.4.xx.xx DDR Utilizada
- D) D: 3.3.x.x.x.xx.xx VPD – Uso de Bens, Serviços e Consumo de Capital Fixo
C: 1.1.3.1.x.xx.xx Adiantamentos Concedidos a Pessoal e a Terceiros (P)

59. Em 31/12/2021, o balanço financeiro elaborado por um determinado ente público apresentava a seguinte composição (Valores em Reais):

INGRESSOS	
Receitas Orçamentárias	
Ordinárias	133.000,00
Vinculadas	84.000,00
Recebimentos Extraorçamentários	
Restos a Pagar Processados	14.000,00
Restos a Pagar Não Processados	4.000,00
Depósitos Restituíveis e Valores Vinculados	5.000,00
Consignações Retidas	5.000,00
Saldo do Exercício Anterior	
Caixa e Equivalentes de Caixa	22.000,00
TOTAL	267.000,00

DISPÊNDIOS	
Despesas Orçamentárias	
Ordinárias	132.000,00
Vinculadas	86.000,00
Pagamentos Extraorçamentários	
Restos a Pagar Processados	17.000,00
Restos a Pagar Não Processados	2.000,00
Depósitos Restituíveis e valores Vinculados	3.000,00
Consignações Transferidas	2.000,00
Saldo Para o Próximo Exercício	
Caixa e Equivalentes de Caixa	25.000,00
TOTAL	267.000,00

Com base nos dados apresentados na demonstração acima, pode-se afirmar que, no balanço orçamentário elaborado na mesma data, o montante indicado das Despesas Liquidadas no exercício foi igual a:

- A) R\$ 214.000,00
- B) R\$ 210.000,00
- C) R\$ 199.000,00
- D) R\$ 194.000,00

60. Em 31/12, as seguintes transações realizadas no exercício financeiro estavam registradas na contabilidade de um determinado ente público:

Transações	R\$
Reconhecimento de impostos diretos	1.600,00
Baixa de material do almoxarifado por consumo	100,00
Arrecadação de outros impostos indiretos	2.000,00
Operação de crédito interna	2.000,00
Receitas de serviços	650,00
Aquisição de mobiliário	400,00
Arrecadação de impostos diretos	1.300,00
Empenho e Liquidação de serviços de terceiros	900,00
Amortização de empréstimos internos	2.000,00
Apropriação de depreciação do imobilizado	150,00
Pagamento de juros e encargos da dívida	700,00
Alienação de bens imóveis	500,00
Empenho, liquidação e pagamento dos servidores	1.400,00
Cancelamento de restos a pagar	200,00
Apropriação de Imóvel recebido por doação de entidade privada	550,00
Pagamento de restos a pagar inscritos no exercício anterior	650,00
Inscrição no exercício em restos a pagar	350,00
Ganho na alienação de imobilizado	100,00
Inscrição na Dívida Ativa Tributária	200,00
Doação a terceiros de bens móveis	150,00

Na Demonstração das Variações Patrimoniais elaborada, no final do exercício, o montante correspondente ao somatório das variações patrimoniais aumentativas era igual a:

- A) R\$ 4.900,00
- B) R\$ 5.100,00
- C) R\$ 5.000,00
- D) R\$ 6.500,00

RASCUNHO

RASSCUNHO