



ESTADO DE SANTA CATARINA  
TRIBUNAL DE JUSTIÇA  
GABINETE DA 1ª VICE-PRESIDÊNCIA – SALA DAS COMISSÕES

## CADERNO DE PROVA

EDITAL N.º 195/2011

### CONCURSO: TÉCNICO JUDICIÁRIO AUXILIAR

#### LEIA ATENTAMENTE AS INSTRUÇÕES ABAIXO

1. O candidato está recebendo, juntamente com este **caderno de prova, o cartão-resposta, único e insubstituível. Confira os dados nele inseridos.**
2. O cartão-resposta apresenta um campo em que o candidato **deve assinar.**
3. Este caderno de prova **contém 100 questões**, todas com cinco alternativas. Para cada questão existe apenas **UMA resposta correta**. O caderno de prova só será trocado se apresentar problema de impressão.
4. O caderno de prova **será devolvido** ao fiscal, juntamente com o **cartão-resposta.**
5. A tarefa do candidato consiste em analisar o conteúdo de cada questão e assinalar a resposta que julgar correta. A **interpretação** das questões, bem como das instruções, faz parte da prova.
6. Preencha o cartão-resposta na mesma seqüência das questões do caderno de provas (de n. 1 à de n. 100). A resposta deve ser assinalada conforme instruções contidas no cartão-resposta. A **rasura** implicará a **anulação da resposta.**
7. Utilize as folhas em branco, para efetuar os cálculos.
8. Na página de número \_\_\_\_, o candidato encontrará uma grade de respostas para anotar o seu gabarito. **Recorte-a e leve-a consigo.**
9. A duração da prova é de seis horas. A **saída do candidato** só será permitida após transcorridas uma hora do início da mesma. Os **três últimos** candidatos a terminar a prova deverão **retirar-se** da sala simultaneamente.
10. O **Gabarito** e o **Caderno de Prova** serão divulgados no dia 4 de outubro, após as 16 horas, no site do Tribunal de Justiça **www.tj.sc.gov**. O resultado **NÃO** será fornecido por telefone.

FLORIANÓPOLIS, 2 de Outubro de 2011.

A COMISSÃO



## LÍNGUA PORTUGUESA

**1ª Questão:** Relacione os sinônimos dos adjetivos entre as colunas e, a seguir, assinale a resposta **correta**.

- |                 |                |
|-----------------|----------------|
| 1 - telúrico    | ( ) intrépido  |
| 2 - anacrônico  | ( ) preventivo |
| 3 - destemido   | ( ) queixoso   |
| 4 - lamurioso   | ( ) da terra   |
| 5 - profilático | ( ) retrógrado |

- a) 1, 3, 4, 2, 5;  
b) 2, 3, 4, 5, 1;  
c) 2, 3, 1, 5, 4;  
d) 3, 5, 4, 1, 2;  
e) 4, 3, 1, 5, 2.

**2ª Questão:** Assinale a alternativa em que ambos os termos das expressões a seguir **NÃO** admitem flexão de gênero.

- a) agiota foragido;  
b) ônus real;  
c) atriz consagrada;  
d) leão feroz;  
e) cônsul incompetente.

**3ª Questão:** Assinale a alternativa em que o grupo de vocábulos, a seguir, admite, exclusivamente, o artigo masculino.

- a) conceito, poema, sentinela;  
b) atleta, eclipse, herpes;  
c) quadrilha, assalto, hangar;  
d) fonema, afã, champanha;  
e) epígrafe, introito, omoplata.

**4ª Questão:** Observe os períodos a seguir, diferentes quanto à pontuação.

- I Ador-meceu logo; não pôde ver o espetáculo.  
II Ador-meceu; logo, não pôde ver o espetáculo.

A observação atenta desses períodos permite **afirmar** que:

- a) no primeiro, logo é um advérbio de tempo; no segundo, uma conjunção causal.  
b) no primeiro, logo é uma palavra invariável; no segundo, uma palavra variável.  
c) no primeiro, as orações estão coordenadas sem a presença do síndeto; no segundo, com a presença de uma conjunção conclusiva.  
d) no primeiro, as orações estão coordenadas com a presença de síndeto; no segundo, sem conjunção alguma.  
e) no primeiro, a segunda oração indica alternância; no segundo, a segunda oração indica consequência.

**5ª Questão:** Assinale a alternativa em que as palavras MAL e MAU estão aplicadas **corretamente**.

- a) O país não precisava desse mal costume. Os maus poderiam se retirar do recinto.  
b) Prepararam-se muito mal para o exame, porque foram mau aconselhados.  
c) —Que mal há em ser curioso, perguntou o menino que mau saía das fraldas.  
d) Mesmo que não haja mau maior, ele vai acabar mal.  
e) —Não há mal maior que a ignorância, acrescentou aquele conferencista que era mau exemplo para seus pares.

**6ª Questão:** Leia o texto extraído de um *outdoor* e, a seguir, assinale a alternativa gramaticalmente **INCORRETA**.

Bebeu e está dirigindo?

Desculpe a intimidade, mas a viúva é bonita?

Dirigir e beber é suicídio. Não brinque no trânsito.

- a) Há no texto o uso do imperativo negativo na 3ª pessoa do singular.  
b) O uso do conectivo MAS indica coordenação entre as ideias.  
c) Os verbos DIRIGIR e BEBER estão exercendo a função de objeto direto na frase.  
d) A expressão NO TRÂNSITO, sintaticamente, identifica uma função adverbial de lugar.  
e) O adjetivo BONITA exerce a função de predicativo do sujeito.

**7ª Questão:** Na frase “Comentava-se muito sobre aquela senhora misteriosa.” assinale a **única** alternativa **correta** quanto à função sintática do “SE”.

- a) partícula apassivadora
- b) agente da passiva
- c) índice de indeterminação do sujeito
- d) sujeito
- e) objeto indireto

**8ª Questão:** Assinale a **única** proposição que **NÃO** apresenta **erro** gramatical.

- a) No Congresso, haviam mais projetos para aumentar as punições.
- b) Necessitavam-se de muitas conquistas para se ganhar o campeonato.
- c) Mais de um atleta aceitaram a hospedagem gratuita.
- d) Cinquenta por cento concordavam com a decisão judicial.
- e) Não se questionava as dúvidas daqueles candidatos.

**9ª Questão:** Assinale a alternativa em que houve **ERRO** quanto à substituição do pronome pessoal oblíquo.

- a) Traziam **muitos afazeres**. Traziam-**nos**.
- b) Onde os vigias deveriam guardar **suas armas**? guardá-**las**.
- c) Amou **o marido** com intensidade. Amou-**o**.
- d) Oferecia flores **a todas as mulheres**. Oferecia-**lhas**.
- e) A sociedade está sempre disposta a apoiar **as ações** de faxina na administração pública. apoiar-**lhe**

**10ª Questão:** Assinale a alternativa que preenche, **correta e respectivamente**, as lacunas do texto a seguir. Prestou-\_\_\_\_\_um excelente serviço, já que elas \_\_\_\_\_haviam auxiliado quando ele \_\_\_\_assistia como médico naquele hospital de renome.

- a) lhe - as - lhes
- b) as - o - as
- c) lhes - o - as
- d) lhes - os - as
- e) os - lhes - as

**11ª Questão:** Assinale a alternativa em que o termo em negrito **NÃO** apresenta o valor circunstancial indicado entre parênteses.

- a) O hábito, naquele país, era comer **com as mãos**.(instrumento)
- b) **Naquele verão**, quantos teriam viajado? (tempo)
- c) **Para vencer**, precisávamos de um esforço hercúleo.( fim)
- d) Procurava, **desordenadamente**, as fichas no arquivo morto.(modo)
- e) Só se retirarão do recinto **com a minha licença**.(companhia)

**12ª Questão:** Todas as alternativas **contêm** predicado nominal, **EXCETO**:


- a) Parecia um atleta no pódio.
- b) O jornalista tornou-se célebre por sua audácia.
- c) Os tempos andam difíceis e soturnos.
- d) Não era uma qualquer a moça de São Bernardo.
- e) Será inverno agora na Europa?

**13ª Questão:** Assinale a **única** alternativa que **NÃO** se completa adequadamente com a preposição entre parênteses.

- a) A rota \_\_\_\_\_ onde vamos é muito íngreme. (por)
- b) O trem nos levará \_\_\_\_\_ a cidade mais próxima. (até)
- c) Nenhum juiz quis comentar \_\_\_\_\_ a reforma eleitoral. (sobre)
- d) O aluguel \_\_\_\_\_ cujo valor discutíamos. (sobre)
- e) O animal \_\_\_\_\_ que todos maltrataram ficou gravemente ferido.(a)

**14ª Questão:** Leia o texto publicitário a seguir e assinale a **única** alternativa **correta** a respeito da oração: “Ninguém é perfeito.”

Ninguém é perfeito



- a) Existe uma oração subordinada assindética no texto.
- b) Existe uma oração sem sujeito no texto.
- c) O sujeito da oração é indeterminado.
- d) O pronome ninguém exerce a função de sujeito simples.
- e) Inexiste sujeito na oração.

**15ª Questão:** “**Passados os maus momentos**, voltou a ver a vida com mais otimismo.” A oração reduzida de participípio, **em negrito**, tem valor de:

- a) adverbial temporal.
- b) adverbial condicional.
- c) substantiva apositiva.
- d) substantiva predicativa.
- e) adverbial causal.

**16ª Questão:** Observe os vocábulos destacados nos excertos a seguir. Assinale a alternativa que contém seus sinônimos na mesma ordem em que aparecem.

“Alguns **gestores** públicos parecem fascinados com certas práticas de empresas privadas. Antes de adotá-las, seria **prudente** conhecer os efeitos colaterais.”

WOOD, Thomaz Junior. Afogando em números.

**Carta Capital**, São Paulo, n. 658, p.67, 10/ago. 2011.

“Os cortes, no valor de 1,2 trilhão de dólares, serão **discriminados** pelo Congresso nos próximos meses, no que **analistas** apontam como o núcleo das batalhas políticas no Capitólio até as eleições de 2012, à frente de temas importantes como a retirada militar do Iraque e do Afeganistão e a guerra civil na Líbia.”

GRAÇA, Eduardo. Tea Party apagou as velas.

**Carta Capital**, São Paulo, n. 658, p.58, 10/ago. 2011.

“Por meio de uma nota, o Metrô de São Paulo informa que o seu orçamento para 2011 é de 4,8 bilhões de reais. Desse total, 1,5 bilhão é proveniente do Tesouro do estado, e 300 milhões foram **contingenciados** no início da atual administração.”

MARTINS, Rodrigo. Em latas de sardinha.

**Carta Capital**, São Paulo, n. 658, p.44, 10/ago. 2011.

- a) patrões – invariável – sanados – gerentes - guardados
- b) gerentes – organizado – anotados – financistas - retirados
- c) financiadores – covarde – escondidos – patrões - desviados
- d) presos - evidente – evitados – jornalistas - perdidos
- e) administradores – cauteloso – especificados – especialistas - alocados

**17ª Questão:** Assinale a alternativa que substitui a expressão **em negrito**, sem alteração de sentido, no fragmento “**À margem da** polêmica sobre a constitucionalidade do exame da Ordem dos Advogados do Brasil, há um retrato apavorante do ensino superior no Brasil.”

DIAS, Maurício. Rosa dos Ventos.

*Carta Capital*, São Paulo, n. 658, p.19, 10/ago. 2011. (adaptado)

- a) À beira da
- b) Por causa da
- c) Em virtude de
- d) À parte a
- e) Em restrição à

**18ª Questão:** Ao passar a frase “Aquele grande ator de teatro, por mais ridículo que fosse o seu papel, era sempre levado a sério por seu grande público fiel.” para a **voz ativa**, encontra-se a forma verbal:

- a) levava;
- b) levasse;
- c) levou;
- d) levara;
- e) levaria.

**19ª Questão:** Assinale a alternativa que completa **corretamente** os períodos a seguir.

Arrebanhava trabalhadores \_\_\_\_\_margens das estradas \_\_\_\_\_poucos metros de sua fazenda. \_\_\_\_\_anos que não pagava os direitos trabalhistas e, por tal motivo, \_\_\_\_\_justiça federal multou-o e condenou-o \_\_\_\_\_pagar todas as dívidas referentes aos contratos de trabalho não oficiais.

- a) as - há - há - à - a
- b) às - há - havia - a - à
- c) às - a - havia - a - a
- d) as - à - houve - a - a
- e) às - há - há - a - à

**20ª Questão:** Assinale a alternativa **INCORRETA** quanto à concordância verbal.

- a) Mais de um convidado participou daquele debate no plenário.
- b) Haviam histórias mirabolantes sobre aquele condenado.
- c) A maior parte dos alunos daquela escola são de origem humilde.
- d) Existem, aparentemente, um lugar e uma situação específica para analisar.
- e) Discute-se muito aprimorar os cursos de especialização naquela faculdade do interior.

**21ª Questão:** Leia a notícia a seguir e assinale a alternativa **INCORRETA**.

“O **furacão Irene**, primeiro da temporada do Atlântico 2011, ganhou força nesta quarta-feira com ventos **que** chegaram a 185 km/h em sua passagem pelas Bahamas e **subiu para categoria três**. Os prognósticos para a chegada do furacão no sudeste dos Estados Unidos são de mais fortalecimento nas **próximas** horas, informou o **Centro Nacional de Furacões** (NCH) em Miami.”

(<http://www.clicrbs.com.br/diariocatarinense/jsp/default.jsp?uf=2&local=18&section=Mundo&newsID=a3460530.xml>)

- a) A palavra **próximas** exerce a função sintática de adjunto adnominal.
- b) Há, no contexto do fragmento, apenas um verbo que exige como complemento um objeto direto.
- c) O pronome **que** exerce a função sintática de sujeito na oração em que se encontra.
- d) O sujeito da oração “... e **subiu para categoria três**.” pode ser classificado como inexistente.
- e) As expressões “O furacão Irene. “e”. O Centro Nacional de Furacões...” exercem a mesma função sintática.

**22ª Questão:** Se substituirmos o vocábulo **condomínio** em “Naquele bairro afastado de tudo e de todos, criou-se um **condomínio** de luxo que logo ficou famoso.” pela forma pluralizada **condomínios**, quantos **outros** vocábulos do período terão de ser, **obrigatoriamente**, pluralizados?

- a) quatro
- b) sete
- c) três
- d) seis
- e) oito

**23ª Questão:** Assinale a alternativa que apresenta, **correta e respectivamente**, as classes gramaticais a que pertencem as palavras **em negrito** no trecho a seguir.

"**Se** fosse ensinar a uma criança a beleza da música, **não** começaria **com** partituras, notas e pautas. Ouviríamos juntos **as** melodias mais gostosas e **lhe** contaria sobre os instrumentos que fazem a música. **Aí**, encantada com a beleza da música, ela mesma me pediria que **lhe** ensinasse o mistério daquelas bolinhas pretas escritas sobre cinco linhas. Porque as bolinhas pretas e as cinco linhas são apenas ferramentas para a produção da beleza musical. A experiência da beleza tem de vir antes."

([http://pensador.uol.com.br/alegria de ensinar de rubens alves/](http://pensador.uol.com.br/alegria%20de%20ensinar%20de%20rubens%20alves/))

- a) conjunção – pronome – artigo – conjunção – pronome;
- b) conjunção – advérbio – preposição – artigo – pronome;
- c) pronome – advérbio – artigo – pronome – conjunção;
- d) pronome – conjunção – preposição – conjunção – pronome;
- e) conjunção – pronome – preposição – pronome – conjunção.

**24ª Questão:** Assinale a alternativa que completa **corretamente** as lacunas dos períodos a seguir.

Não se \_\_\_\_\_ mais papéis jogados no chão da escola. As crianças agora \_\_\_\_\_ com jogos e brincadeiras que lhes ensinam comportamentos de cidadãos.

- a) via – se entertem
- b) viam – se entreteram
- c) vê – se enterteem
- d) veria – se entertêm
- e) viam – se entretêm

**25ª Questão:** Assinale a alternativa em que a forma pronominal preenche **corretamente** a lacuna da frase a seguir.

A empresa \_\_\_\_\_ gerentes trabalhamos, aumentou em 25% a sua produção este ano.

- a) a cujo;
- b) para cujos;
- c) a quem;
- d) com cujos os;
- e) de cujo.

**26ª Questão:** Observe os períodos a seguir e assinale a alternativa **correta** quanto à regência verbal.

- I Talvez seja esse aspecto da tarefa que o advogado da causa se refira.
- II Os adendos em cuja a elaboração o autor dos editais trabalhou foram-lhe muito úteis na pesquisa.
- III Antipatizava com aquela senhora gratuitamente.
- IV Desde cedo abdicou as mordomias que lhe foram oferecidas.

- a) I
- b) II
- c) III
- d) II e III
- e) III e IV

**27ª Questão** Está correta a grafia de todas as palavras nas frases, **EXCETO** em:

- a) Todas as ideias apresentadas no congresso anticorrupção faziam referência aos truculentos crimes ocorridos pela obsessão dos homens pelo lucro.
- b) A obsolescência programada faz parte de uma estratégia de mercado que visa garantir um consumo constante através da insatisfação, de forma que os produtos, que satisfazem as necessidades daqueles que os compram, parem de funcionar, tendo de ser obrigatoriamente substituídos, de tempos em tempos, por mais modernos.
- c) Por excesso de trabalho, acabaram obrigados a, de repente, começar a dividir melhor as atribuições; caso não o fizessem, haveria um caos naquela seção do escritório geral.
- d) Nunca pôde entender as razões para atos tão antissociais de seu irmão, no entanto, o rapaz fazia exceções em relação a algumas pessoas, principalmente as senis.
- e) O litígio entre as partes se deu em virtude da atitude xucra e digladiadora do defensor público, que não manteve o decoro diante do fascínora.

**28ª Questão** Leia o excerto a seguir e assinale a alternativa **INCORRETA**:

“Quando eu aprendi a ler, aos sete anos, senti que minha vida ganhava todas as possibilidades do mundo. Cheguei perto dessa sensação algumas vezes ao longo dos meus 43 anos, mas nunca como a dos primeiros livros. Desde então, eu, que era ao mesmo tempo uma criança que olhava muito e falava pouco, mas também uma criança que aprontava bastante, passei a atravessar meus dias trancada no quarto lendo um livro atrás do outro. Às vezes nem comia. Ou me sentava à mesa para o almoço imersa na última linha lida, temerosa de perdê-la numa colherada de feijão e, com ela, a chance de chegar à linha seguinte.”

([http://revistaepoca.globo.com/Revista/Epoca/0,,EMI74307-15230,00A+HISTORIA+DE+LILI+LOHMANN.html/eliane brum](http://revistaepoca.globo.com/Revista/Epoca/0,,EMI74307-15230,00A+HISTORIA+DE+LILI+LOHMANN.html/eliane%20brum))

- a) O verbo aprontar está sendo utilizado no texto como intransitivo, e a palavra bastante exerce a função de adjunto adverbial.
- b) Na forma verbal “perdê-la”, o pronome substitui o substantivo criança.
- c) Na frase “Ou me sentava à mesa...” o conectivo ou dá ideia de alternância.
- d) A expressão “numa colherada de feijão” indica circunstância de modo.
- e) Se a oração “Quando eu aprendi a ler...” fosse substituída por “Ao aprender a ler...” a frase não sofreria alteração semântica.

**29ª Questão** Assinale a série em que todas as palavras estão grafadas **corretamente**.

- a) maciço – sedução – sanguesuga – zigue-zague;
- b) ogeriza – rebuliço – sancionar – privilégio;
- c) perspicaz – prazerosamente – míssil – heroico;
- d) sucinto – risoto – pajem – reboliço;
- e) terebintina – vicissitude – sossobrar – supertição.

**30ª Questão** Em relação às regras da norma padrão da língua portuguesa, **NÃO** há erro de concordância verbal em:

- a) Pretendiam-se doar cem quilos de alimentos não perecíveis para o asilo.
- b) Mais de um candidato elogiou a iniciativa do governo naquele país do sudeste asiático.
- c) Deu quatro horas no relógio do batalhão da guarda imperial.
- d) Ao pesar os alimentos, é necessário uma balança de alta precisão.
- e) Alguns estudos sobre genética, senão todos, tem sido feitos pelo bem da humanidade.

**31ª Questão:** A expressão “assim que” no texto a seguir denota relação de :

Assim que escurecer vou namorar.

Que mundo ordenado e bom!

Namorar quem?

Minha alma nasceu desposada

Com um marido invisível.

( [http://pensador.uol.com.br/autor/adelia prado/](http://pensador.uol.com.br/autor/adelia%20prado/))

- a) condição.
- b) alternativa.
- c) tempo.
- d) adversidade.
- e) exclusão.

**32ª Questão:** Houve **desrespeito** à norma culta quanto ao uso do acento indicador da crase em:

- a) Desobedecia às ordens sem pestanejar.
- b) Sempre às seis horas, era obrigado à sair daquela sala para a reunião mensal.
- c) Diria tudo a qualquer pessoa que se intrometesse em sua vida.
- d) Os advogados comparecerão perante a juíza engarregada do julgamento.
- e) Muitos analistas não deram importância a essa alínea do contrato empresarial.

**33ª Questão:** Assinale a **única** alternativa em que a expressão “**porque**” deveria ter grafia diferente da apresentada.

- a) Porque era inadmissível aquele comportamento, foi penalizado com uma multa de 2 salários.
- b) Porque haveria de desistir, se havia investido todos os esforços naquele empreendimento?
- c) Apressem essa receita, porque o jantar já está muito atrasado.
- d) Estamos numa enrascada, porque as chaves do carro ficaram na outra bolsa.



e) Afinal, as leis são escritas porque é necessário organizar a sociedade civil.

**34ª Questão:** Observe o uso dos termos **grifados** nos períodos abaixo e assinale a **única** alternativa com as proposições **corretas**.

- I O deputado, testemunha arrolada pelo promotor e ouvida como informante do juízo, **a** algumas perguntas respondeu.
- II A carreira **à** qual o estudante aspirava era almejada por muitos.
- III A avenida onde ocorreu o acidente é paralela **à** que vai para fora da cidade.
- IV Providencie-se a execução da pena pecuniária e officie-se **à** Justiça Trabalhista.
- V Depois da terrível enchente que ceifou a vida de seu filho, **à** custa de muito esforço e sacrifício, ela conseguiu se reerguer.

- a) III, IV e V.
- b) I, II e V.
- c) I, II, IV e V.
- d) I, II, III e IV.
- e) I, II, III, IV, V.

**35ª Questão:** Está inteiramente **correta** a transposição para a voz passiva analítica em:

- a) A Aeronáutica cedeu o terreno onde funcionará o edifício do Ministério Público Militar no Rio de Janeiro. / O edifício do Ministério Público Militar no Rio de Janeiro funcionará no terreno que será cedido pela Aeronáutica.
- b) Quando a pessoa não conhece o mérito da questão, não deve dar palpites. / Quando o mérito da questão não seja conhecido, palpites não deviam ser dados.
- c) Todos os presentes perceberão a disposição errada das testemunhas no julgamento. / A disposição errada das testemunhas no julgamento pôde ser percebida por todos os presentes.
- d) Alguém arquivou os processos, sem perceber os erros de digitação./ Arquivaram-se os processos, sem que se percebesse os erros de digitação.
- e) Reembolsei todas as custas do processo pelo fato de a vítima não ter condições de fazê-lo. / Pelo fato de a vítima não ter condições de fazê-lo, todas as custas do processo foram reembolsadas por mim.

**36ª Questão:** Leia os fragmentos do texto a seguir e assinale a alternativa **correta** em relação à classificação morfológica das palavras em negrito.

[...]

Os predestinados a ter **QI** elevado usam óculos com armações grossas e retangulares, tênis All Star coloridos, fumam cachimbo, adornam o crânio **privilegiado** com chapéus (mas, cuidado: boina, **nem** pensar), curtem casacos xadrezes e, em quase todas as regiões do Brasil e estações do ano, enrolam um cachecol encardido no pescoço. Comumente, trajam tecidos que emulam as vestes de camponeses medievais da Bavária. Os homens cultivam uma barba cuidadosamente maltratada e as mulheres são ideologicamente **a** favor da chapinha e contra o cavalheirismo.

[...]

A alegria é permitida, **desde que** pareça ingênua. Mas é a angústia de sentir o peso do tempo e da efemeridade dos gestos que adorna a aura daqueles dotados de sensibilidade. Com ela, choverão convites para simpósios, jantares, congressos e passeios de lancha.

([http://revistapiaui.estadao.com.br/edicao-59/tipos-academicos/o-neoerudito-alegorico/renato\\_terra](http://revistapiaui.estadao.com.br/edicao-59/tipos-academicos/o-neoerudito-alegorico/renato_terra))

- a) adjetivo – substantivo – conjunção – artigo - advérbio
- b) substantivo – adjetivo – advérbio – preposição – locução conjuntiva
- c) substantivo –adjetivo – preposição – preposição - advérbio
- d) advérbio – adjetivo – preposição – conjunção - conjunção
- e) substantivo adjetivo – conjunção – preposição - advérbio

**37ª Questão:** Assinale a alternativa em que o verbo **em negrito** está flexionado de modo **INCORRETO**.

- a) Os governos de coalizão **mediavam** os conflitos enquanto não se decidiam as discórdias.
- b) Após **dirimirem** as dúvidas do processo contra o traficante, condenaram-se todos os envolvidos no atentado.
- c) Os candidatos envolvidos no concurso esperam que seus esforços **dêem** resultados, eles sejam aprovados e nomeados em seguida.

- d) Ações disciplinares mais eficazes **impõem-se** imediatamente nesta instituição de ensino.
- e) Vinte e cinco por cento **constitui** a comissão de ética do senado federal.

**38ª Questão:** O vocábulo cujo número de letras é igual ao número de fonemas está na alternativa:

- a) sucesso;
- b) hombridade;
- c) gritos;
- d) assexuado;
- e) resabiado.

**39ª Questão:** Nas alternativas a seguir, os acentos foram omitidos propositadamente. Assinale a alternativa em que **todas** as palavras deveriam ser graficamente acentuadas

- a) rubrica, diluvio, viuva.
- b) ambar, heroi, ilustra-lo.
- c) protons, forceps, releem.
- d) dificilmente, Piaui, misantropo.
- e) perdoo, atribuímos, caiste.

**40ª Questão:** Assinale a alternativa em que a classificação morfológica da palavra está **INCORRETA**.

- a) Ele jamais faria tal afirmação tão leviana e vil. Leviana é adjetivo.
- b) Nunca se soube verdadeiramente quem era culpado naquela história. Quem é pronome adjetivo interrogativo.
- c) Não sei se vocês estão conscientes da situação periclitante em que nos encontramos. Se é conjunção.
- d) A essa hora, o delegado já terá feito a ocorrência. Ocorrência é substantivo.
- e) Era mister considerar todas as particularidades daquele contrato. Mister é adjetivo.

## CONHECIMENTO GERAIS

### HISTÓRIA

**41º Questão:** O programa de ajuda financeira para a reconstrução dos países europeus devastados durante a Segunda Guerra Mundial, proposto pelos EUA e que tinha como objetivo deter a expansão socialista e também reforçar sua influência sobre eles ficou conhecido como:

- a) Plano Marshall
- b) Congresso de Viena
- c) OTAN
- d) Guerra Fria
- e) Guerra da Secessão

**42º Questão:** (...) apesar da retórica apocalíptica de ambos os lados, mas sobretudo do lado americano, os governos das duas superpotências aceitaram a distribuição global de forças no fim da Segunda Guerra Mundial, que equivalia a um equilíbrio de poder desigual mas não contestado em sua essência.

(HOBSBAWM, Eric. Era dos extremos: o breve século XX)

O período citado nesse texto, conhecido por “Guerra Fria” pode ser definido como aquele momento histórico em que houve:

- a) Confronto que teve início logo após a Segunda Guerra Mundial, quando os Estados Unidos e a União Soviética passaram a disputar a hegemonia política, econômica e militar no mundo.
- b) Disputa imperialista entre as potências do norte e do sul da Europa em busca do domínio dos países que ainda eram socialistas, entre eles, os Estados Unidos.
- c) Conflito entre Estados Unidos e Japão que deu origem à primeira guerra Mundial.
- d) Conflito entre Estados Unidos e a Alemanha Nazista em que os Estados Unidos tentaram frear as investidas do Partido Nazista na América do Norte.
- e) Disputa entre a Europa, os Estados Unidos e a União Soviética caracterizada pela corrida armamentista do leste da Europa e o desarmamento nuclear do Oeste Europeu.

**43º Questão:** Em relação ao Período Colonial do Brasil, leia as proposições abaixo:

- I Como Portugal não tinha recursos próprios para implantar um sistema administrativo na sua colônia americana, resolveu transferir o ônus da colonização para particulares, dividindo o território brasileiro em Capitânicas Hereditárias.
- II O Sistema de Governo Geral trouxe maior centralização à administração colonial. O primeiro governador geral do Brasil foi Tomé de Sousa (1549 – 1553).

**III** Entre os motivos que levaram Portugal a querer colonizar o Brasil, podemos citar a decadência do comércio português no Oriente.

**IV** A estrutura da economia açucareira do Brasil neste período era composta por: grandes propriedades, monocultura, mão-de-obra escrava, entre outros.

Assinale a alternativa **correta**:

- a) Apenas a alternativa II está incorreta
- b) Apenas a alternativa IV está incorreta
- c) Apenas a alternativa II e III estão corretas
- d) Apenas as alternativas II, III e IV estão corretas
- e) Todas as alternativas estão corretas

**44º Questão:** As revoltas nativistas que eclodiram no Brasil colonial não foram somente dos grupos submetidos (índios e negros), mas também dos próprios colonos. As razões desses movimentos são variadas, porém todos eles apresentaram uma característica comum: o sentimento nativista, expresso na insubordinação dos colonos contra as autoridades e representantes da Coroa. As revoltas nativistas foram um movimento de protesto, de caráter local ou regional, isto é, em defesa de interesses específicos de determinada região. Buscavam melhorias para os colonos sem, contudo, contestar as bases da ordem social e econômica.(...).

(DOMINGUES, J.E. e FIUSA, L.P.L – História – O Brasil em Foco, FTD, p.53

Sobre as revoltas nativistas, assinale a única alternativa que está **INCORRETA**:

- a) A revolta de Filipe dos Santos envolveu mineradores e a intendência das minas, órgão que representava os interesses de Portugal.
- b) O combate conhecido como “Capão da Traição” está relacionado à Guerra dos Emboabas.
- c) A Guerra dos Mascates aconteceu devido ao choque entre comerciantes portugueses do Recife e a aristocracia rural de Olinda, cujas relações comerciais eram, respectivamente, de credores e devedores.
- d) A primeira rebelião nativista foi a Revolta de Vila Rica.
- e) A rebelião contra os abusos cometidos pela Companhia de Comércio do Maranhão deu origem à Revolta dos irmãos Beckman.

**45º Questão:** A República Brasileira começou com um Governo Provisório, encabeçado:

- a) Por Benjamin Constant
- b) Por D. Pedro I
- c) Por D. Pedro II
- d) Pelo Marechal Deodoro da Fonseca
- e) Pelo Marechal Floriano Peixoto

## GEOGRAFIA

**46º Questão:** “ Quantos somos? Como vivemos? Onde vivemos?”

A cada nova década estas e outras perguntas são respondidas pelo IBGE ( Instituto Brasileiro de Geografia e Estatística), com a realização dos censos demográficos. Segundo os últimos dados divulgados pelo IBGE, avalie as alternativas abaixo e marque com “**V**” as verdadeiras e com “**F**” as falsas.

- ( ) Já somos mais de 190 milhões de habitantes e o 5º país mais populoso do planeta mas, a população brasileira cresce mais devagar.
- ( ) Os últimos dados mostram uma tendência de redução do ritmo de crescimento da população brasileira, com a diminuição das taxas de natalidade e aumento da expectativa média de vida. Este processo é chamado de transição demográfica avançado.
- ( ) As regiões que tiveram um maior aumento populacional foram respectivamente, a região Norte e Centro Oeste. Isto indica um fluxo de migração interna para estas regiões.
- ( ) No processo das migrações internas do Brasil verifica-se que desacelera a migração de nordestinos para o Sudeste, percebendo-se mesmo uma pequena migração de retorno. Os nordestinos deixam São Paulo e voltam para a sua região. Isto é em decorrência da abertura de novas frentes de trabalho, com a instalação de novas indústrias em outras regiões como, por exemplo, no Nordeste.
- ( ) As baixas taxas de fecundidade da população brasileira, de 1,9 filhos por mulher em idade fértil, têm ocasionado políticas de incentivo para que as mulheres sejam estimuladas a abandonar suas atividades profissionais, a fim de que ocorra um crescimento populacional.

Assinale a alternativa que contenha a sequência **correta** de proposições verdadeiras e falsas:

- a) V, V, V, F, F
- b) V, V, V, V, F
- c) F, V, V, V, F
- d) V, V, F, F, V

e) V, F, V, F, V

**47º Questão:** Em relação as principais características e tendências recentes do setor agrário brasileiro, leia as proposições abaixo e responda.

- I O Brasil se destaca no cenário mundial como exportador do “commodities”, produtos agrícolas como soja, o café, o algodão, a laranja e produtos da pecuária portanto, a modernização do setor agrário brasileiro está orientado pelo binômio industrialização – exportação, o agronegócio.
- II O grande problema da estrutura fundiária do Brasil é a extrema concentração das propriedades, cujas origens remontam ao nosso modelo de colonização aqui aplicado.
- III A utilização da biotecnologia, a mudança na estrutura genética dos vegetais, tornando-os mais resistentes às pragas, adaptando-os a diferentes tipos de solos e climas aumenta a produção mundial de alimentos e com isto em poucos anos a fome será erradicada do nosso planeta.

Assinale a alternativa **corretas**:

- a) Somente a alternativa I está correta
- b) Somente a alternativa II está correta
- c) Somente as alternativas I e II estão corretas
- d) Somente as alternativas II e III estão corretas
- e) Todas as alternativas estão corretas.

**48º Questão:** “ No cinturão de máxima diversidade biológica do planeta – que tornou possível o advento do homem- a Amazônia se destaca pela extraordinária continuidade de suas florestas, pela ordem de grandeza de sua principal rede hidrográfica e pelas sutis variações de seus ecossistemas, em nível regional e de altitude.”

Ab’Saber, Aziz- Os Domínios de Natuza do Brasil: Potencialidades Paisagísticas. São Paulo: Ateliê Editorial, 2003, p. 65.

Sobre a Amazônia , suas características e aspectos fisionômicos, todas as alternativas estão corretas, **EXCETO:**

- a) A Amazônia é caracterizada pela predominância de terras baixas florestadas, delimitadas pelas bordas dos planaltos ao norte e ao sul..
- b) A região é caracterizada pelo predomínio do clima equatorial que apresenta médias térmicas elevadas e pequena amplitude térmica anual. Os índices pluviométricos são elevados, superiores a 2 000mm. anuais.
- c) O processo de degradação e devastação da região Amazônica pode-se facilmente ser observado pelas imagens de satélite, o “arco do desmatamento,” que avança de Rondônia e Mato Grosso para o sul e sudeste do Pará.
- d) Os fatores responsáveis pelo desmatamento da Amazônia são: o avanço das fronteiras agrícolas, com a soja, a exploração madeireira, a criação de gado, com a queimada das vegetação para a instalação das pastagens e os grandes projetos mineralógicos da região.
- e) A Amazônia apresenta a maior diversidade biológica do planeta e isto está diretamente relacionada com a grande variação latitudinal da região.

**49º Questão:** Com referência às bases geológicas do território brasileiro todas as alternativas estão corretas, **EXCETO:**

- a) O território brasileiro é constituído por escudos ou maciços antigos e bacias sedimentares recentes e antigas.
- b) Os terrenos proterozóicos apresentam grande importância econômica pois, correspondem as áreas de ocorrência dos minerais metálicos como o ferro , o manganês, a bauxita, importantes produtos de exportação do Brasil.
- c) A Planície do Pantanal . localizada no interior do país, corresponde à uma bacia sedimentar recente.
- d) Os dobramentos modernos que se ocorrem acompanhando todo o litoral brasileiro, desde o Rio Grande do Norte até o Rio Grande do Sul, é a nossa Serra do Mar.
- e) Os escudos cristalinos arqueozóicos que constituem o embasamento do território brasileiro, por serem muito antigos, já foram intensamente desgastados pela erosão.

**50º Questão:** A crise econômica mundial, iniciada nos Estados Unidos, em 2008, se alastra no cenário da economia globalizada e atinge principalmente, as nações desenvolvidas: Estados Unidos, União Européia e Japão. Isto é uma característica marcante da globalização, a grande interdependência das economias dos diferentes países.

Sobre as conseqüências e problemas decorrentes do cenário econômico global nos países da união européia assinale a alternativa **correta**:

- I** Elevado déficit no orçamento, associado ao aumento da dívida pública leva a Grécia a uma crise de insolvência financeira no início de 2010.
- II** República da Irlanda, país que após a entrada para a União Européia, experimentou um forte crescimento econômico, ficando conhecido como o “Tigre Celta” é um dos poucos países da União Européia que não entrou na onda da crise econômica e financeira que abalou o continente.
- III** Baixo crescimento econômico, corte nos gastos sociais, a crise econômica provocou o fechamento de milhares de postos de trabalho na zona do euro. A taxa média de desemprego atingiu um dos maiores índices da história do bloco.
- IV** As nações européias mais vulneráveis à crise econômica foram apelidadas de PIIGS, sigla formada com iniciais de Portugal, Irlanda, Itália, Grécia e Espanha.

Estão **corretas** as proposições:

- a) Todas as proposições estão corretas.
- b) I, II e IV
- c) II, III e IV
- d) II e III
- e) I, III e IV

## NOÇÕES BÁSICAS DE DIREITO E LEGISLAÇÃO

**51º Questão:** Na presente questão, cada afirmação está associada ao número que a precede, o qual deverá ser considerado para se obter o somatório relativo à alternativa correta. Analise as afirmações segundo os preceitos da Constituição Federal e responda:

- 1. A República Federativa do Brasil é formada pela união indissolúvel dos Estados e Municípios;
- 2. Os valores sociais do trabalho e da livre iniciativa constituem um dos fundamentos da República Federativa do Brasil;
- 3. É garantida a qualquer grupo social a liberdade de associação para fins pacíficos ou paramilitares;
- 4. A propriedade deve atender à sua função econômica;
- 5. A moradia e a previdência social constituem direitos sociais constitucionalmente previstos;

Somando-se os números correspondentes a todas as afirmações corretas, chega-se ao resultado de:

- a) 8 (oito)
- b) 15 (quinze)
- c) 5 (cinco)
- d) 12 (doze)
- e) 7 (sete)

**52º Questão:** Analise se as afirmações abaixo são verdadeiras “**V**” ou falsas “**F**” de acordo com a Constituição Federal, assinalando a alternativa que contém a resposta correta:

- I** A língua portuguesa, o hino e a bandeira nacional são símbolos da República Federativa do Brasil;
- II** Os Estados, os Municípios e o Distrito Federal podem ter símbolos próprios;
- III** O cargo de senador é privativo de brasileiros natos;
- IV** Consideram-se brasileiros natos os nascidos no território brasileiro e aqueles que, na forma da lei, adquirirem a nacionalidade brasileira;

- a) I / F, II / F, III / V e IV / V
- b) I / V, II / V, III / F e IV / F
- c) I / V, II / F, III / V e IV / V
- d) I / F, II / F, III / F e IV / V

e) I / F, II / V, III / F e IV / F

**53º Questão:** Associe a primeira coluna de acordo com a segunda e assinale a alternativa que contém a seqüência **correta** de acordo com a Constituição Federal:

- |                          |  |
|--------------------------|--|
| (1) Cassação de direitos | ( ) Crime imprescritível                   |
| (2) Tortura              | ( ) Pena admitida                          |
| (3) Racismo              | ( ) Pena não admitida                      |
| (4) Perda de bens        | ( ) Crime insuscetível de graça ou anistia |

- a) 3, 4, 2, 1
- b) 2, 1, 4, 3
- c) 3, 4, 1, 2
- d) 2, 4, 1, 3
- e) 2, 1, 3, 4

**54º Questão:** De acordo com a Constituição Federal, **NÃO** constitui uma das ocorrências que autorizam a violação da casa de uma pessoa sem o seu consentimento:

- a) Prestação de socorro
- b) Desastre
- c) Flagrante delito
- d) Determinação judicial, durante o dia
- e) Determinação judicial, durante a noite

**55º Questão:** Nos termos da Constituição Federal, o Brasil em suas relações internacionais deve buscar integrar-se com os países da América Latina visando a formação de uma comunidade latino-americana de nações. Entre as formas de integração previstas, **NÃO** se inclui:

- a) a econômica
- b) a política
- c) a social
- d) a militar
- e) a cultural

**56º Questão:** Em geral os atos processuais são públicos, mas de acordo com a Constituição Federal, a lei poderá restringir a publicidade dos atos processuais quando o exigirem:

- a) a defesa da honra ou a vida privada;
- b) a defesa da intimidade ou o interesse social
- c) a defesa vida privada e o interesse público
- d) a proteção da imagem e o interesse público
- e) a proteção da intimidade e a vida privada

**57º Questão:** No que tange à organização do Poder Judiciário, a Constituição Federal preconiza que o número de juizes nas unidades jurisdicionais deve ser proporcional:

- a) Ao número de habitantes e à respectiva extensão territorial.
- b) À efetiva demanda judicial e à respectiva população.
- c) À extensão territorial e à receita orçamentária da comarca.
- d) Ao número de eleitores e à respectiva receita tributária da comarca.
- e) Ao número de eleitores e à efetiva demanda judicial.

**58º Questão:** Segundo a Constituição Federal, o Conselho Nacional de Justiça compõe-se de 15 membros com mandato temporário, sendo presidido:

- a) Pelo Presidente do Supremo Tribunal Federal.
- b) Pelo Presidente do Superior Tribunal de Justiça.
- c) Pelo Ministro da Justiça.
- d) Pelo Procurador Geral da República.
- e) Pelo mais antigo dos Presidentes dos Tribunais de Justiça Estaduais.

**59º Questão:** Nos Estados em que o efetivo militar seja inferior a 20.000 (vinte mil) integrantes, a Justiça Militar Estadual de 2º (segundo) grau é constituída:

- a) Pelo Conselho de Justiça
- b) Pelo Tribunal de Justiça Militar
- c) Pelo Conselho de Justiça Militar
- d) Pelo Superior Tribunal Militar
- e) Pelo Tribunal de Justiça

**60º Questão:** Assinale a alternativa que contém a afirmação correta de acordo com a Constituição de Santa Catarina:

- a) O Estado tem competência exclusiva para legislar sobre defensoria pública.
- b) O Estado exerce com os Municípios competência concorrente para legislar sobre proteção à infância e à velhice.
- c) O Estado detém competência exclusiva para preservar as florestas, a fauna e a flora que se encontram em seu território.
- d) Os Municípios possuem competência exclusiva para promover a melhoria das condições de saneamento básico.
- e) O Estado exerce com a União e os Municípios a competência para proteger o meio-ambiente e combater a poluição em qualquer das suas formas.

**61º Questão:** No processo civil, o ato pelo qual o juiz decide questão incidente no curso da demanda é denominado:

- a) Sentença
- b) Despacho de expediente
- c) Decisão interlocutória
- d) Decisão ordinatória
- e) Despacho ordinatório

**62º Questão:** Qual o recurso cabível de decisão do juiz que, em processo civil, indefere a petição inicial por considerá-la inepta:

- a) Agravo de instrumento
- b) Agravo regimental
- c) Embargos infringentes
- d) Recurso ordinário
- e) Apelação

**63º Questão:** Na execução civil, pratica fraude à execução o devedor que:

- a) Aliena bens sobre os quais pende ação fundada em direito real;
- b) Opõe-se à execução de forma maliciosa, empregando meios artificiosos;
- c) Resiste sem justificativa às ordens do juiz;
- d) Embarga a execução sem estar garantido o juízo;
- e) Não indica ao juízo onde se encontram os bens sujeitos à penhora quando intimado a fazê-lo.

**64º Questão:** No que tange à disciplina do protocolo unificado prevista no Código de Normas da Corregedoria Geral de Justiça, os Distribuidores Judiciais **NÃO** podem receber petições relativas a:

- a) Exceção de incompetência
- b) Interposição de recursos
- c) Apresentação de quesitos
- d) Manifestação à contestação
- e) Arrolamento de testemunhas

**65º Questão:** De acordo com o mesmo Código de Normas da Corregedoria, assinale a alternativa que contém uma hipótese em que a citação pode ser feita pela via postal:

- a) Ação de danos materiais contra pessoa menor de 16 (dezesseis) anos.
- b) Ação de danos morais contra empresa de telefonia.

- c) Ação de anulação de débito fiscal contra o Município.
- d) Ação criminal.
- e) Ação de interdição de pessoa.

**66º Questão:** Segundo o Código de Divisão e Organização Judiciárias do Estado de Santa Catarina, no que diz respeito às entrâncias, as Comarcas classificam-se em:

- a) Inicial, Intermediária e Especial
- b) Inicial e Final
- c) Inicial, Intermediária e Final
- d) Inicial, Intermediária, Final e Especial
- e) Inicial, Final e Especial

**67º Questão:** De acordo com o Código Penal, a pessoa que comparece perante uma autoridade, acusando-se de um crime que sabe praticado por outro, comete o crime de:

- a) Auto-acusação falsa
- b) Falso testemunho
- c) Fraude processual
- d) Comunicação falsa de crime
- e) Favorecimento pessoal

**68º Questão:** Assinale a alternativa que contém um típico crime “contra a administração da justiça”:

- a) Extravio ou inutilização de documento
- b) Advocacia administrativa
- c) Exercício arbitrário das próprias razões
- d) Prevaricação
- e) Desobediência

**69º Questão:** Assinale a alternativa correta de acordo com o Código Processual Penal:

- a) O arquivamento do inquérito policial é de competência exclusiva da autoridade policial.
- b) Estando o réu preso, o Ministério Público tem prazo de 10 (dez) dias para oferecer a denúncia, a contar da data que for notificado da prisão.
- c) Se o réu estiver fora do território da jurisdição do juiz processante, sua citação deve ser feita por carta rogatória.
- d) É ordinário o procedimento quando o processo tem por objeto crime a que for cominada sanção máxima igual ou superior a 04 (quatro) anos de pena privativa de liberdade.
- e) A intimação do defensor nomeado deve ser realizada por meio de publicação no órgão oficial da Comarca.

**70º Questão:** Analise se as afirmações abaixo são verdadeiras “V” ou falsas “F” e assinale a alternativa correta conforme dispõe a Lei das Licitações:

- ( ) - É vedada a combinação das modalidades “tomada de preço” e “convite” num mesmo certame licitatório;
- ( ) - Nos casos em que couber “convite”, a Administração poderá se utilizar de “concorrência” e, vice-versa;
- ( ) - A publicidade e a pessoalidade são dois dos princípios a serem constantemente observados no processamento e no julgamento da licitação;
- ( ) - As sociedades de economia mista não estão subordinadas ao preceitos da lei que regem as licitações;
- ( ) - No âmbito do Poder Judiciário, o procedimento licitatório é dispensável para os casos de locação de bens móveis e imóveis;

A seqüência **correta** de cima para baixo é:

- a) V; V; F; F; F
- b) V; F; V; V; F
- c) V; F; F; F; F
- d) F; F; V; F; V
- e) F; V; F; V; V

## CONHECIMENTOS BÁSICOS DE INFORMÁTICA

### OBSERVAÇÕES:

1. *A menos que seja explicitamente informado na questão, o termo “clicar” significa a operação de pressionar o botão esquerdo do mouse;*



2. Para todos os programas e acessórios mencionados nas questões, considere a configuração padrão em português do Brasil, quando existir.

**71º Questão:** O funcionário de uma empresa recebe as seguintes atribuições, que devem ser executadas em sequência:

1 – Acessar o endereço <http://www.tjsc.jus.br/noticias.php?cd=125>

2 – Digitar um resumo do conteúdo da página acessada, salvando o documento com o nome noticia.docx

3 – Abrir para visualização o arquivo “normasdeseguranca.pdf”

4 – Enviar uma mensagem de correio eletrônico para seu chefe informando sobre a conclusão das tarefas

Assinale a alternativa que contém as ferramentas que o funcionário necessita para realizar essas atribuições, na ordem exata em que devem ser executadas:

- a) Adobe Reader, Word, Windows Live Mail e Internet Explorer
- b) Internet Explorer, Word, Adobe Reader e Windows Live Mail
- c) Internet Explorer, Adobe Reader, Write e Windows Explorer
- d) Windows Explorer, Word, Excel e BrOffice.org
- e) Excel, Word, Windows Explorer e Windows Live Mail

**72º Questão:** Considere que um usuário, pretendendo acessar o endereço <http://www.google.com>, digita na barra de endereços do Internet Explorer apenas [www.google.com](http://www.google.com) (sem http://) e pressiona a tecla Enter. Considere ainda que o computador possui acesso à internet. O que acontece?

- a) O Internet Explorer exibe uma mensagem de erro informando que é obrigatória a presença do http://
- b) O Internet Explorer inclui a partícula <http://> na frente do endereço e tenta acessar a página solicitada
- c) O Internet Explorer exibe uma página em branco
- d) O computador é reiniciado
- e) O Internet Explorer exibe a página da Microsoft

**73º Questão:** O que significa a opção “cco” (com cópia oculta) disponível ao criar uma mensagem no Windows Live Mail?

- a) Que os endereços contidos nessa opção receberão a mensagem, mas esses endereços não estarão visíveis para os outros destinatários da mensagem.
- b) Que os endereços contidos nessa opção precisarão executar o programa “Windows Visible Mail” para conseguir ler a mensagem.
- c) Que os endereços contidos nessa opção conseguirão visualizar apenas o assunto da mensagem, mas não o conteúdo, que estará invisível.
- d) Que os endereços contidos nessa opção não conseguirão ver os endereços de e-mail contidos nas caixas “Para” e “cc”.
- e) Que os endereços contidos nessa opção não receberão a mensagem, mas seu endereço de e-mail estará visível para todos os outros destinatários.

**74º Questão:** Considere um arquivo do Word chamado “texto.docx”. Utilizando o Windows Explorer, são operações possíveis de realizar com esse arquivo, **EXCETO**:

- a) Renomear o arquivo.
- b) Alterar a data de modificação do arquivo.
- c) Excluir o arquivo.
- d) Alterar a extensão do arquivo.
- e) Abrir o arquivo.

**75º Questão:** Considere um computador com duas janelas do Windows Explorer abertas, que vamos chamar de “janela A” e “janela B”. O que acontece quando um usuário seleciona um arquivo da pasta “c:\origem” da “janela A”, arrasta esse arquivo e tenta soltá-lo na pasta “c:\destino” da “janela B”?

- a) É criada uma cópia do arquivo na pasta “c:\destino”, sendo mantido o arquivo original na pasta “c:\origem”.
- b) É exibida uma mensagem informando que não é possível mover arquivos entre janelas distintas.
- c) O arquivo é excluído do computador.
- d) O arquivo sai da pasta “c:\origem” e é movido para a pasta “c:\destino”
- e) O Windows Explorer é fechado.

**76º Questão:** São opções de espaçamento entre linhas no Word, **EXCETO**:

- a) “Meia linha”, que é a metade do espaçamento de linha simples.

- b) “Simple”
- c) “1,5 linhas”, que é uma vez e meia maior que o espaçamento de linha simples.
- d) “Duplo”, que é duas vezes maior que o espaçamento de linha simples.
- e) “Exatamente”, que define um espaçamento fixo expresso em pontos.

**77º Questão:** Com relação aos recursos do Word, assinale a alternativa **correta**:

- a) Para abrir o Word, é obrigatório que exista uma impressora conectada ao computador.
- b) O número de figuras que podem ser inseridas em um documento é limitado a 8.
- c) É possível aplicar as formatações negrito, itálico e sublinhado a uma mesma palavra.
- d) É possível inserir no máximo 1 hiperlink em cada página de um documento.
- e) É permitido manter apenas 1 documento aberto de cada vez. Para abrir outro documento, é obrigatório fechar o atual.

**78º Questão:** Um usuário recebe a mensagem de e-mail mostrada na imagem a seguir:



Ao passar o ponteiro do mouse sobre o link “Cadastrar computador”, o usuário percebe que esse link está direcionado para o endereço malicioso <http://200.217.42.54/golpe.exe>. Mensagens de e-mail como essa configuram uma tentativa de fraude conhecida como:

- a) Worm
- b) Popup
- c) Pescaria
- d) Phishing scan
- e) Malicious mail

**ATENÇÃO:** As questões 79 e 80 referem-se à seguinte imagem do aplicativo MS-EXCEL 2007, em português, na sua configuração padrão, o qual será denominado apenas “Excel”.

C8      fx      =SOMA(C3:C7)					
	A	B	C	D	E
1	<b>RELATÓRIO DE VENDAS - SETEMBRO 2011</b>				
2	<b>ITEM</b>	<b>DESCRIÇÃO</b>	<b>QTDE</b>	<b>UNITÁRIO</b>	<b>TOTAL</b>
3	1	Luminária	3	R\$ 100,00	R\$ 300,00
4	2	Lápis	5	R\$ 5,00	R\$ 25,00
5	3	Cimento	2	R\$ 20,00	R\$ 40,00
6	4	Cadeira	4	R\$ 30,00	R\$ 120,00
7	5	Armário	2	R\$ 200,00	R\$ 400,00
8			16	R\$ 355,00	

**79º Questão:** O valor da célula C8 foi obtido através da aplicação da fórmula:

- a) =SOMA(C)

- b) =SOMA(C3:C7)
- c) =C3+C4+C5+C6+C7
- d) =SOMA(C1:Cn)
- e) =SOMA("QTDE")

**80º Questão:** Um usuário executa as seguintes operações:

- I Selecciona a célula C8.
- II Pressiona a tecla "CTRL" e, mantendo-a pressionada, pressiona a tecla "C" (CTRL+C).
- III Selecciona a célula A8.
- IV Pressiona a tecla "CTRL" e, mantendo-a pressionada, pressiona a tecla "D" (CTRL+D).

Após essa sequência de comandos, o valor da célula A8 é:

- a) 15
- b) 6
- c) 16
- d) #REF
- e) 0

## RACIOCÍNIO LÓGICO E MATEMÁTICO

**81º Questão:** Maria comprou 5 lápis e 8 cadernos por R\$ 75,55. Júlia foi à mesma loja e comprou 3 lápis e 4 cadernos, iguais aos comprados por Maria, por R\$ 38,45. O valor de um lápis é de:

- a) R\$ 1,70
- b) R\$ 2,35
- c) R\$ 1,35
- d) R\$ 2,85
- e) R\$ 0,85

**82º Questão:** Marcos e sua esposa aproveitaram uma promoção para comprar alguns utensílios para a nova casa. Adquiriram uma geladeira, um televisor e um forno elétrico gastando no total de R\$ 4 269,00. A geladeira custou o dobro do preço da TV e a TV custou o triplo do preço do forno elétrico mais R\$ 93,00. A TV custou:

- a) R\$ 890,00
- b) R\$ 990,00
- c) R\$ 1480,00
- d) R\$ 1 290,00
- e) R\$ 1099,00

**83º Questão:** **La Boca** é um bairro de Buenos Aires, localizado próximo ao porto, formado por imigrantes das mais distintas origens, sobretudo de genoveses. Junto ao Bairro está **El Caminito** – rua pitoresca e muito visitada pelos turistas – considerada um museu a céu aberto, pois suas casas são todas com múltiplas cores associadas às sobras de tintas que os marinheiros conseguiam dos navios no porto. A frente de uma das construções que abrigavam várias famílias possui 8 portas dispostas lado a lado. Dispondo de 3 diferentes cores, de quantas maneiras as portas poderão ser pintadas, utilizando uma única cor por porta, e que portas lado a lado não fiquem com a mesma cor?

- a) 768
- b) 512
- c) 1 536
- d) 384
- e) 24

**84º Questão:** Feito uma pesquisa entre 600 alunos de uma escola sobre as vacinas que haviam tomado, obteve-se o seguinte resultado: 260 haviam recebido a vacina contra sarampo, 340 contra rubéola e 60 não haviam recebido nenhuma das duas vacinas. Tomando ao acaso um aluno dessa escola, qual a probabilidade dele ter tomado as duas vacinas?

- a) 20%
- b) 10%
- c) 15%
- d) 12,5%
- e) 7%

**85° Questão:** Um laboratório testou a ação de uma droga em uma amostra de 1575 camundongos. Constatou-se que a lei de sobrevivência dos camundongos era dada pela relação  $v(t) = at^2 + b$ , onde  $v(t)$  é o número de elementos vivos no tempo  $t$  (meses). Sabendo-se que o último camundongo morreu quando  $t = 15$  meses após o início da experiência, a quantidade de camundongos que ainda estava viva no décimo mês era de:

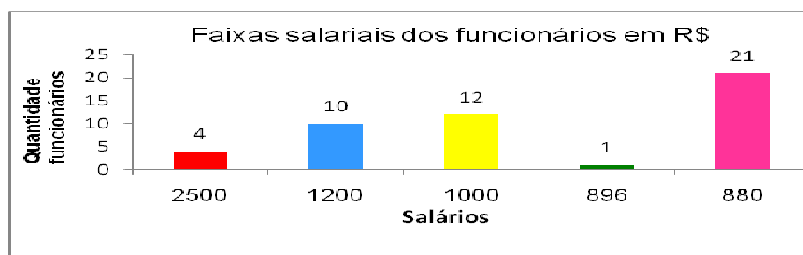
- a) 1 500
- b) 820
- c) 1 565
- d) 800
- e) 875

**86° Questão:** Em um cesto temos doze frutas, entre elas quatro estão estragadas. Escolhendo-se ao acaso duas dessas frutas, qual é a probabilidade de ambas não estarem estragadas?

- a) 36,82%
- b) 16,66%
- c) 25%
- d) 42,42%
- e) 33,33%

**87° Questão:** O gráfico a seguir representa a distribuição de frequências das diferentes faixas salariais numa determinada empresa. Qual é a média salarial dos funcionários dessa empresa?

- a) R\$ 1 112,00
- b) R\$ 1 295,20
- c) R\$ 1 000,00
- d) R\$ 1 100,00
- e) R\$ 980,00



**88° Questão:** Um cofre possui um teclado com 10 números. A combinação que abre o cofre tem cinco números. Quantas tentativas mal sucedidas podem ser efetuadas por uma pessoa que desconheça a senha?

- a) 99 999
- b) 100 000
- c) 30 240
- d) 151 200
- e) 50 000

**89° Questão:** Um investidor brasileiro compra US\$ 20 000 dólares, faz a conversão dos dólares para reais (1 dólar = 1,60 real). Aplica os reais por um ano a uma taxa de 12% ao ano e, no resgate, converte os reais recebidos para dólares novamente (no ato da conversão, o dólar valorizou 5% em relação ao real do início da aplicação). Com os valores expressos em dólares, qual a taxa, aproximada, de lucro dessa aplicação?

- a) 9,8%
- b) 4,5%
- c) 6,6%
- d) 2,5%
- e) 17%


**90° Questão:** Ou correr uma maratona é fácil, ou Henrique não gosta de correr uma maratona. Por outro lado, se correr 100 metros rasos não é difícil, então correr uma maratona é difícil. Daí segue-se que, se Henrique gosta de correr uma maratona, então:

- a) Se correr 100 metros rasos é difícil, então correr uma maratona é difícil.
- b) Correr uma maratona é fácil e correr 100 metros rasos é difícil.
- c) Correr uma maratona é fácil e correr 100 metros rasos é fácil.
- d) Correr uma maratona é difícil e correr 100 metros rasos é difícil.
- e) Correr uma maratona é difícil ou correr 100 metros rasos é fácil.

**91º Questão:** Os censos populacionais produzem informações que permitem conhecer a distribuição territorial e as principais características das pessoas e dos domicílios, acompanhar sua evolução ao longo do tempo, e planejar adequadamente o uso sustentável dos recursos, sendo imprescindíveis para a definição de políticas públicas e a tomada de decisões de investimento. Constituem a única fonte de referência sobre a situação de vida da população nos municípios e em seus recortes internos – distritos, bairros e localidades, rurais ou urbanos – cujas realidades socioeconômicas dependem dos resultados censitários para serem conhecidas.

<http://www.ibge.gov.br/home/estatistica/populacao/censo2010/default.shtm> (Acesso dia 29/08/2011)

Um dos resultados possíveis de se conhecer, é a distribuição entre homens e mulheres no território brasileiro. A seguir parte da pirâmide etária da população brasileira disponibilizada pelo IBGE.



[http://www.ibge.gov.br/censo2010/piramide\\_etaria/index.php](http://www.ibge.gov.br/censo2010/piramide_etaria/index.php) (Acesso dia 29/08/2011)

O quadro abaixo, mostra a distribuição da quantidade de homens e mulheres, por faixa etária de uma determinada cidade. (Dados aproximados)

Considerando somente a população masculina dos 20 aos 44 anos e com base no quadro abaixo a frequência relativa, dos homens, da classe [30, 34] é:

Faixa etária	Homens	Mulheres
Classes	Quantidade (f <sub>i</sub> )	Quantidade (f <sub>i</sub> )
[20,24]	300	320
[25,29]	400	450
[30,34]	600	610
[35,39]	500	550
[40,44]	200	220

- a) 64%
- b) 35%
- c) 25%
- d) 29%
- e) 30%

**92º Questão:** A matriz X fornece, em reais, o custo das porções de carne, macarrão e salada usadas em um restaurante.

$$\begin{pmatrix} 2 \\ 3 \\ 1 \end{pmatrix} \begin{matrix} \rightarrow \text{macarrão} \\ \rightarrow \text{carne} \\ \rightarrow \text{salada} \end{matrix}$$

A matriz Y fornece o número de porções de macarrão, carne e salada usadas na composição dos pratos tipo A<sub>1</sub>, A<sub>2</sub> e A<sub>3</sub> desse restaurante.

$$Y = \begin{pmatrix} \text{macarrão} & \text{carne} & \text{salada} \\ 1 & 1 & 1 \\ 2 & 1 & 1 \\ 1 & 2 & 0 \end{pmatrix} \begin{matrix} \text{Prato A}_1 \\ \text{Prato A}_2 \\ \text{Prato A}_3 \end{matrix}$$

Qual é a matriz que representa o custo de produção, em reais, dos pratos A<sub>1</sub>, A<sub>2</sub> e A<sub>3</sub>?

- a)  $\begin{pmatrix} 6 \\ 8 \\ 8 \end{pmatrix}$
- b)  $\begin{pmatrix} 6 \\ 6 \\ 8 \end{pmatrix}$
- c)  $\begin{pmatrix} 4 \\ 8 \\ 6 \end{pmatrix}$
- d)  $\begin{pmatrix} 3 \\ 2 \\ 4 \end{pmatrix}$
- e)  $\begin{pmatrix} 3 \\ 4 \\ 3 \end{pmatrix}$

**93º Questão:** Se *b* é diferente de zero e se  $\frac{a}{b} = 5$ , então a razão de  $4a - b$  para *a*, em valores percentuais é igual a:

- a) 380%
- b) 3,8%
- c) 26,3%
- d) 20%
- e) 420%

**94° Questão:** Dois amigos, Lucas e Pedro, seguiam o leito de uma ferrovia e começaram a atravessar uma ponte estreita na qual havia espaço apenas para o trem. No momento em que completavam  $\frac{2}{5}$  do percurso da ponte, ouviram o trem que se aproxima por trás deles. Lucas começou a correr de encontro ao trem, saindo da ponte praticamente no instante em que o trem entrava. Pedro, que correu no sentido oposto ao sentido de Lucas, conseguiu sair da ponte praticamente no instante em que o trem saía. Sendo 15 km/h a velocidade que Lucas e Pedro correram, assinale a alternativa que contém a velocidade do trem.

- a) 60 km/h
- b) 37,5 km/h
- c) 75 km/h
- d) 30 km/h
- e) 67,5 km/h

**95° Questão:** Numa enquete, que possuía duas perguntas, os entrevistados só poderiam responder “sim” ou “não”. Sabe-se que 55 entrevistados responderam “sim” às duas perguntas, 82 entrevistados responderam “não” à primeira questão, 67 entrevistados responderam “não” á segunda questão e 100 entrevistados responderam “sim” a uma questão, ao menos. Nenhuma pergunta ficou sem resposta. Assinale a alternativa que contém o número total de entrevistados na enquete.

- a) 122
- b) 137
- c) 152
- d) 149
- e) 167

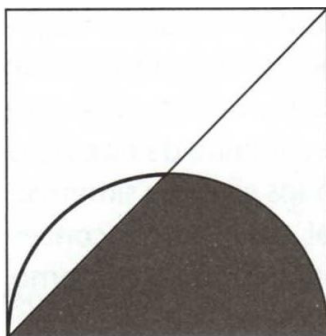
**96° Questão:** Observe as proposições e assinale a alternativa que contém a(s) proposição(ões) verdadeira(s).

- I Se  $(a_n)$  é uma progressão aritmética com  $a_4 = 12$  e  $a_7 = 21$ , então  $a_2 = 3$ .
- II Se  $(a_n)$  é uma progressão geométrica com  $a_6 = 32$  e  $a_7 = -64$ , então  $a_1 = -1$ .
- III Se  $(n a)$  é uma progressão aritmética com  $a_8 = 16$  e  $a_{10} = 20$ , então  $S_{10} = 110$ .

- a) I, II e III.
- b) I e III.
- c) II e III.
- d) II.
- e) III.

**97° Questão:** Na seguinte figura, estão representados um quadrado de lado medindo 8 metros, uma de suas diagonais e uma semicircunferência.

Assinale a alternativa que contém a área NÃO hachurada.



- a)  $4(14 - \pi) m^2$
- b)  $\left(\frac{\pi}{2} + 2\right) m^2$
- c)  $(56 - 4\pi) cm^2$

- d)  $(8 + \pi) m^2$
- e)  $(4\pi + 8) m^2$

**98° Questão:** Seu João, que é casado com dona Maria, guarda todas as suas meias dentro de uma gaveta do armário, localizado no quarto onde o próprio casal dorme. Seu João acorda muito cedo para ir ao trabalho e, para não acordar dona Maria, sempre pega suas meias dentro da gaveta sem acender a luz do quarto, por isso, não enxerga a cor das meias. Seu João **não** guarda suas meias em pares e sim todas soltas. Dessa forma, quando vai escolher seu par de meias, sempre pega um pé por vez. Dentro da gaveta encontram-se 15 pares de meias na cor branca, 10 pares na cor preta e 12 pares na cor azul. Assinale a alternativa que contém a quantidade mínima de pés de meia que seu João deve pegar, sem acender a luz, para ter certeza que em suas mãos tem, pelo menos, um par de meias na cor preta.

- a) 28 pés de meia.
- b) 25 pés de meia.
- c) 56 pés de meia.
- d) 52 pés de meia.
- e) 40 pés de meia.

**99° Questão:** Dadas as matrizes  $A = (a_{ij})_{3 \times 3}$  tal que  $a_{ij} = i + j$ ,  $B = (b_{ij})_{3 \times 3}$  tal que  $b_{ij} = i - j$  e  $C = (c_{ij})_{3 \times 3}$  tal que  $c_{ij} = a_{ij} + b_{ij}$ .

Sabendo que  $D$  é a matriz transposta de  $C$ , assinale a alternativa que contém o elemento  $d_{32}$  da matriz  $D$ .

- a) 2
- b) 6
- c) 5
- d) 4
- e) 3

**100° Questão:** Sabendo que  $\log_{10} 123 = 2,09$ , assinale a alternativa que contém o valor de  $\log_{10} 1,23$ .

- a) 0,09
- b) 0,0209
- c) 0,209
- d) 1,09
- e) 1,209

GABARITO									
1 D	2 B	3 D	4 C	5 E	6 C	7 C	8 D	9 E	10 C
11 E	12 E	13 E	14 D	15 A	16 E	17 D	18 A	19 C	20 B
21 D	22 A	23 B	24 E	25 B	26 E	27 E	28 B	29 C	30 B
31 C	32 B	33 B	34 E	35 E	36 B	37 E	38 C	39 B	40 B
41 A	42 A	43 E	44 D	45 D	46 B	47 C	48 E	49 D	50 E
51 E	52 E	53 C	54 E	55 D	56 B	57 B	58 A	59 E	60 E
61 C	62 E	63 A	64 E	65 B	66 E	67 A	68 C	69 D	70 C
71 B	72 B	73 A	74 B	75 D	76 A	77 C	78 D	79 B	80 A
81 C	82 D	83 D	84 B	85 E	86 D	87 A	88 A	89 C	90 B
91 E	92 A	93 A	94 C	95 C	96 C	97 A	98 C	99 D	100 A

## A T E N Ç Ã O

O candidato que manifestar interesse em protocolar recurso contra a prova escrita, deverá observar o Edital de abertura, que assim dispõem:

{ ... }

### 9 DOS RECURSOS

**9.1** Os recursos contra ato da Comissão de Concurso poderão ser interpostos **pessoalmente ou por procurador**, mediante instrumento de mandato com poderes específicos e firma reconhecida.

**9.2** Obrigatoriamente fundamentados, os recursos deverão ser dirigidos ao Presidente da Comissão de Concurso, **até dois dias úteis**, após a publicação do ato impugnado, e entregues diretamente no Protocolo Administrativo – andar térreo do Tribunal de Justiça, das 9 às 19 horas, ou remetidos por Sedex para o endereço informado no item 3.2.3.4. **A data de postagem garante o cumprimento do prazo.**

**9.3** As questões recorridas **deverão ser agrupadas por disciplina** e para cada conjunto de questões uma petição interpositória. (folha de rosto, onde constarão os dados do candidato)

**9.4** As respostas aos recursos interpostos estarão a disposição dos candidatos, na Secretaria da Comissão de Concurso, até a data da homologação do concurso.