



**Concurso
Público**

Edital nº 003/2017-PMC

Prefeitura Municipal de Cáceres - MT



Médio/Médio Técnico

Cargo:

**TÉCNICO EM SEGURANÇA
DO TRABALHO**

Caderno de Prova

Nome do Candidato

Número de Inscrição

							-	
--	--	--	--	--	--	--	---	--



INSTRUÇÕES

LEIA COM ATENÇÃO

1. Este Caderno de Prova, com páginas numeradas de 1 a 15, é constituído de **40 (quarenta)** questões objetivas, cada uma com **4 (quatro)** alternativas, assim distribuídas:

01 a 10 – Língua Portuguesa

11 a 15 – Informática Básica

16 a 20 – Legislação Básica

21 a 40 – Conhecimentos Específicos

2. Caso o Caderno de Prova esteja incompleto ou tenha qualquer defeito de impressão, solicite ao fiscal que o substitua.
3. **Sobre a Marcação do Cartão de Respostas**

As respostas deverão ser transcritas com caneta esferográfica de tinta azul ou preta não porosa, fabricada em material transparente, para o Cartão de Respostas, que será o único documento válido para correção. O Cartão de Respostas não será substituído por erro ou dano do candidato.

- 3.1. Para cada questão existe apenas uma alternativa que a responde acertadamente. Para a marcação da alternativa escolhida no **CARTÃO DE RESPOSTAS**, pinte **completamente** o círculo correspondente.

*Exemplo: Suponha que para determinada questão a alternativa **C** seja a escolhida.*

N.º da Questão
<input type="radio"/> A
<input type="radio"/> B
<input checked="" type="radio"/> C
<input type="radio"/> D

- 3.2. Marque apenas uma alternativa para cada questão.
- 3.3. Será invalidada a questão em que houver mais de uma marcação, marcação rasurada ou emendada, ou não houver marcação.
- 3.4. Não rasure nem amasse o **CARTÃO DE RESPOSTAS**.
4. Todos os espaços em branco, neste caderno, podem ser utilizados para rascunho.
5. A duração da prova é **4 (quatro)** horas, já incluído o tempo destinado ao preenchimento do **CARTÃO DE RESPOSTAS**.
6. Somente após decorridas **2 horas e 30 minutos** do início da prova, o candidato, depois de entregar seu Caderno de Prova e seu Cartão de Respostas, poderá retirar-se da sala de prova. O candidato que insistir em sair da sala de prova antes desse tempo deverá assinar **Termo de Ocorrência** declarando sua desistência do concurso.
7. Será permitida a saída de candidatos levando o Caderno de Prova somente **na última meia hora** de prova.
8. Na página **15** deste Caderno de Prova, encontra-se a **Folha de Anotação do Candidato**, a qual poderá ser utilizada para a transcrição das respostas das questões objetivas. Essa folha poderá ser levada pelo candidato para posterior conferência com o gabarito somente após decorridas **2 horas e 30 minutos** do início da prova.
9. Após o término da prova, o candidato deverá, obrigatoriamente, entregar ao fiscal o **CARTÃO DE RESPOSTAS** devidamente assinado e preenchido.

LÍNGUA PORTUGUESA

INSTRUÇÃO: Leia atentamente o texto e responda às questões de 01 a 05.

A bolha

1 Ninguém mais conversa no metrô. Ninguém mais paquera. Ninguém mais olha o vazio, o mapa das linhas, os anúncios, as luzes passando em sentido contrário, a própria imagem refletida nas janelas, quem entra, quem sai, quem veste o que, quem está bem, quem está feliz, quem chora, quem dorme, quem está por um fio, quem se dirige a uma manifestação de protesto, ou de apoio, quem defende o

5 que, gosta de qual banda, quem parte para um encontro secreto, ou acaba de ser beijada, por alguém que sempre quis, e que nunca tomou a iniciativa, quem acaba de se apaixonar, ou descobre que o amor acabou, quem espera gêmeos, está exultante e nem consegue mais dormir, quem acaba de conseguir um emprego, quem não desce em nenhuma estação, e quer apenas um ar-condicionado no talo no verão impiedoso, ou fugir da chuva, ou dar um tempo, viver sem sentir a vida, percorrer túneis

10 subterrâneos de uma grande metrópole, em que, apesar da multidão, se sente sozinho.

Ninguém troca ideias, opiniões divergentes, ninguém debate, é convencido de algo, muda de opinião. A bolha que nos cerca nos protege. É como um escudo contra o que nos agride. A cidade nos agride. O ódio nos agride. Todos nela nos agridem. Suas vozes incomodam.

15 Preferimos a música preferida da lista previamente selecionada que sai dos meus fones de ouvido conectados por um cabo ao meu universo pessoal, em que sou Deus, em que decido o que ler e ouvir, o que ver e curtir, o que assistir e ignorar, graças à opção “bloqueio”, à opção “excluir”, à opção “apagar perfil”, “colocar em modo avião”, “não receber notificações”.

Há uns anos, não pegava celular no metrô. Os passageiros conversavam, paqueravam, miravam o vazio, redescobriam estações no mapa das linhas, checavam os cabelos na imagem refletida, quem

20 entrava, saía, vestia o que, (...) quem estava bem, feliz, chorava, dormia, quem, pelo perfume, banho tomado, roupa bonita, estava a caminho de um encontro secreto, fora beijada, por alguém surpreendente, inexplicável, paixão que nasceu do fundo da alma, quem descobriu que não ama mais, descobriu que estava grávida e não consegue mais dormir, tensa, quem acabou de perder um emprego, a estação, o sentido de viver, porque se sente sozinho, apesar da multidão nas estações.

25 Trocavam-se ideias, opiniões, debatia-se, mudavam as convicções de alguém, apresentavam outros pontos de vista, experiências e erros da história que se repetem. A bolha é nosso mundo agora. E o que tem de tão urgente nos celulares, que não era na década anterior? O que é inadiável? A bolha em si, e nela que se quer estar: protegido e isolado. O mundo é muito louco, tem muito louco por aí. E boa parte, quando chega à sua estação, continua nela, caminha olhando ou falando para seu universo

30 pessoal. Haverá um dia em que as pessoas voltarão a interagir? O mundo corre perigo. (...)

Marcelo Rubens Paiva

(Adaptado a partir de: <http://cultura.estadao.com.br/>. Acesso em abril de 2017.)

QUESTÃO 01

A partir do título e no decorrer do texto, a palavra *bolha* aparece diversas vezes. Nesse contexto, bolha é entendida como

- (A) antítese à divisão social do trabalho.
- (B) sinestesia de cores e sentidos, típica das bolhas de sabão.
- (C) metáfora do isolamento e segurança.
- (D) hipérbole da modernidade e da tecnologia.

QUESTÃO 02

O autor do texto faz uma reflexão a partir de situações vividas na atualidade. Com base nas ideias defendidas pelo autor, pode-se concluir:

- (A) Os metrô superlotados e a pressa das grandes cidades não criam situações para que as pessoas se conheçam e possam se comunicar, gerando ódio e sentimento de solidão.
- (B) As cidades grandes isolam os cidadãos dada a distância entre o trabalho e a moradia, tornando muito difícil a comunicação e criação de amizades.
- (C) A modernidade, representada pelo metrô, e a tecnologia, representada pelo celular, impedem a comunicação humana, criando barreiras e bolhas, as quais protegem e isolam.
- (D) As cidades e o ritmo de trabalho produzem isolamentos entre os cidadãos, contribuindo para a desigualdade social.

QUESTÃO 03

As expressões grifadas em *Ninguém mais olha o vazio* (linha 1) e *quem está por um fio* (linha 4) trazem, respectivamente, implícito sentido de

- (A) perder-se em pensamento; não ver sentido na vida.
- (B) contemplar um muro; estar com dificuldades econômicas.
- (C) dormir de olhos abertos; andar em linha reta.
- (D) descansar; estar muito doente.

QUESTÃO 04

Em relação aos recursos linguísticos do segundo parágrafo do texto, analise as afirmativas.

- I - O autor utiliza períodos curtos, com ausência de períodos compostos, para enfatizar o sentido produzido por cada oração.
- II - As escolhas lexicais do autor constroem um cenário de apatia e solidão das pessoas no metrô, visto que não há mais conversas, diálogos.
- III - Em *A bolha que nos cerca nos protege*, há um exemplo de oração adjetiva, introduzida por pronome relativo.
- IV - A ausência de recursos coesivos ligando as sentenças do parágrafo aproxima o texto do registro oral.

Está correto o que se afirma em

- (A) I, II e III, apenas.
- (B) I, II e IV, apenas.
- (C) III e IV, apenas.
- (D) I, II, III e IV.

QUESTÃO 05

*Há uns anos, não **pegava** celular no metrô*, o sentido do verbo pegar, nesse contexto, é o mesmo em

- (A) Ele pegou a moto e saiu.
- (B) O rádio não pega a FM fora da cidade.
- (C) Combinaram de pegar uma praia no feriado.
- (D) Carlos pegou 10 anos de cadeia.

QUESTÃO 06

A coluna da esquerda apresenta processos de formação de palavras e a da direita, exemplo de cada um. Numere a coluna da direita de acordo com a da esquerda.

- | | |
|------------------|---------------------|
| 1 - Prefixação | () Ajoelhar |
| 2 - Abreviação | () Redescobriram |
| 3 - Composição | () Metrô |
| 4 - Parassíntese | () Ar-condicionado |

Assinale a sequência correta.

- (A) 1, 2, 3, 4
(B) 4, 1, 2, 3
(C) 4, 2, 3, 1
(D) 1, 3, 4, 2

INSTRUÇÃO: Leia atentamente o texto e responda às questões de 07 a 09.

Ande como alguém feliz para ser feliz, afirma estudo

- 1 Uma pesquisa publicada em uma revista internacional sobre Comportamento e Psiquiatria afirma que para se sentir feliz, basta caminhar como uma pessoa alegre. Durante o experimento, uma série de pessoas foi testada para saber se estufar o peito e balançar os braços realmente traz mais felicidade do que passos pesados e olhares cabisbaixos.
- 5 No estudo, o grupo teve de caminhar durante 15 minutos em uma esteira enquanto alguns fatores eram analisados. Os participantes foram acompanhados por câmeras com sensores de movimento. Na frente da esteira, uma tela mostrava as ações de um medidor – que pendia à esquerda quando caminhavam “deprimidos” e à direita quando “felizes”.
- 10 À medida que os minutos iam passando, a equipe de pesquisadores pedia para que as pessoas tentassem jogar o medidor para a esquerda ou para a direita. Só que antes de começarem o teste físico, os convidados tiveram que ler uma lista de palavras positivas e negativas.
- Depois da caminhada, os participantes tiveram que escrever as palavras que lembravam. O resultado mostrou que quem caminhava de maneira mais triste (seguindo a lógica de outro estudo) conseguiu lembrar mais palavras tristes; e aqueles que andaram felizes se lembraram de mais
- 15 palavras positivas.
- Para os pesquisadores, essa lógica está alinhada a de outros trabalhos publicados sobre o tema. Segundo tais pesquisas, andar como um líder pode aumentar as chances de se tornar um; e segurar uma caneta com os lábios pode aumentar a vontade de sorrir. Então não custa nada andar mais “animado” por aí. Vai que contagia.

(Adaptado a partir de <http://revistagalileu.globo.com/>. Acesso em abril de 2017.)

QUESTÃO 07

Sobre o texto, marque V para as afirmativas verdadeiras e F para as falsas.

- () A função da linguagem predominante no texto é a referencial.
() As aspas, no texto, foram utilizadas para marcar o uso de neologismos.
() O recurso coesivo *À medida que* (linha 9) apresenta valor semântico de proporção.
() *Uma série de pessoas, o grupo, os participantes* são utilizados como recursos coesivos para a não repetição de termos.
() A expressão *vai que contagia* é um exemplo de linguagem informal e tem o sentido de conformidade.

Assinale a sequência correta.

- (A) F, V, F, F, V
(B) V, F, F, V, F
(C) F, F, V, V, V
(D) V, F, V, V, F

QUESTÃO 08

Sobre o texto, é correto afirmar:

- (A) A postura física colabora para que os sujeitos se sintam mais felizes.
- (B) Fazer atividades físicas é um dos fatores que aumenta a felicidade.
- (C) Caminhar junto a pessoas felizes faz com que os outros também se sintam felizes.
- (D) Assistir à televisão enquanto se faz esteira aumenta a sensação de felicidade.

QUESTÃO 09

A regra de concordância presente no trecho *uma série de pessoas foi testada* é a mesma em

- (A) Mais de um colega se ofenderam na assembleia de ontem.
- (B) Cerca de mil pessoas se inscreveram para a prova.
- (C) A maioria dos professores aprovou a ideia.
- (D) 60% dos entrevistados não aprovam a mudança.

QUESTÃO 10

Leia a tira.



São verbos que expressam ordens ou pedidos, típicos do modo imperativo, nessa tira:

- (A) Mandar, apagar, amassar.
- (B) Dar, apagar e amassar.
- (C) Folgar, mandar, jogar.
- (D) Apagar, amassar, jogar.

INFORMÁTICA BÁSICA

QUESTÃO 11

Considere a planilha do Microsoft Excel 2010 (idioma português) abaixo.

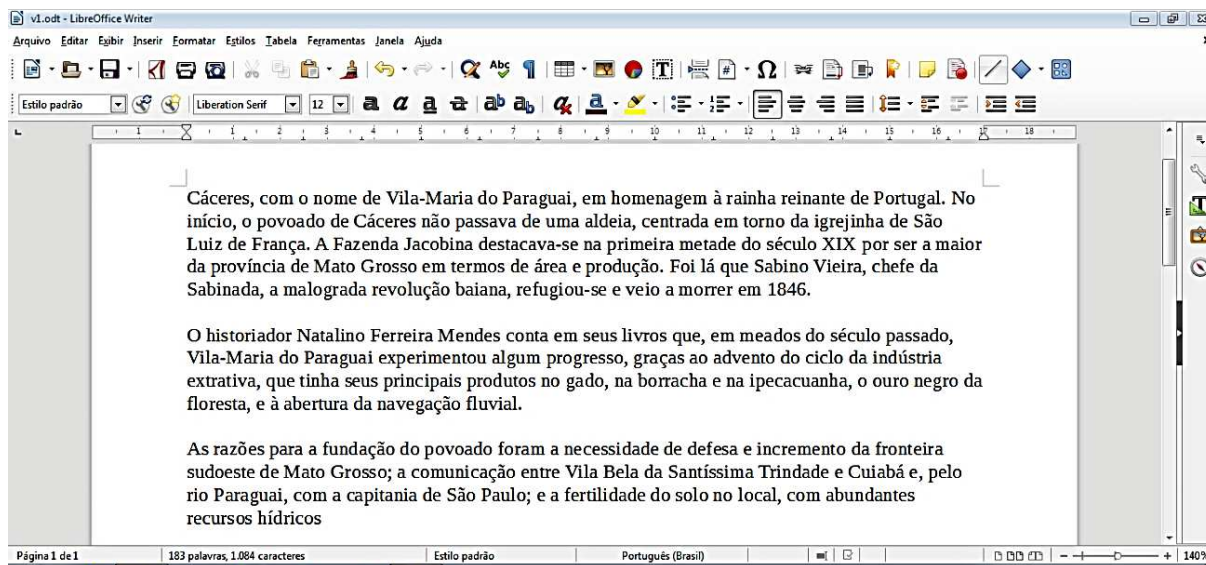
	A	B	C	D	E
1	12	5	8		20
2	10	4	1		
3					

De acordo com a planilha, o valor exibido na célula E1 pode ser a fórmula

- (A) =A1+B1+C1-A2-B2-C2
- (B) =SOMA(A1:C1)-MÉDIA(A2:C2)
- (C) =MÉDIA(A2:C2)+SOMA(A1:C1)
- (D) =A2+B2+C2-A1-B1-C1

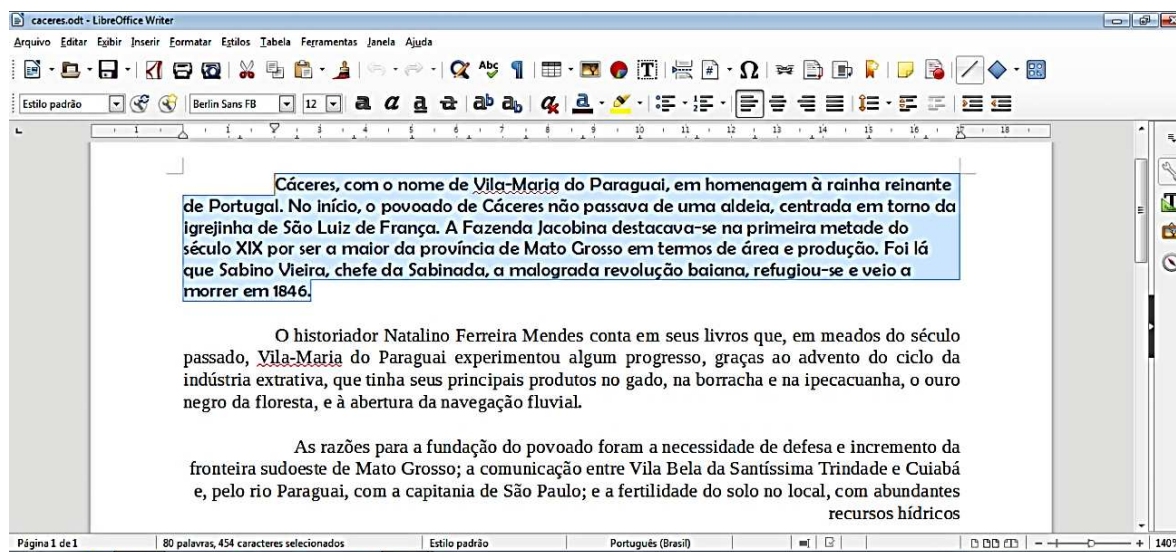
QUESTÃO 12

Considere a figura abaixo (Fig.1) que mostra um texto sendo editado no LibreOffice Writer, versão 5.1.4, em sua configuração padrão.



(Fig.1)

Em nenhum momento durante a edição o usuário fechou o arquivo ou abriu um novo arquivo e, após ele fazer algumas alterações, o texto editado ficou como apresenta a figura a seguir (Fig.2), onde o primeiro parágrafo está selecionado.



(Fig.2)

A respeito das modificações realizadas neste texto (Fig.2), analise as afirmativas a seguir.

- I - No primeiro parágrafo, o usuário alterou a fonte do texto para que ela ficasse em negrito e deixou o parágrafo justificado.
- II - Uma das alterações realizadas pelo usuário foi a modificação do nome do arquivo que está sendo editado.
- III - O alinhamento do segundo parágrafo foi ajustado para justificado.
- IV - O estilo definido para o parágrafo selecionado é o **Estilo padrão**.

Está correto o que se afirma em

- (A) II, III e IV.
- (B) I, II e III.
- (C) I, III e IV.
- (D) I, II e IV.

QUESTÃO 13

NÃO é dispositivo de entrada nem de saída de um computador:

- (A) Monitor LCD
- (B) Unidade Lógica Aritmética
- (C) Impressora a Laser
- (D) Mouse Óptico

QUESTÃO 14

Considerando o site de busca Google, quais termos de pesquisa retornam todas as páginas do domínio **.mt.gov.br** que contenham a palavra **Cáceres** como qualquer parte de seus conteúdos?

- (A) @mt.gov.br –Cáceres
- (B) site:mt.gov.br –Cáceres
- (C) @mt.gov.br +Cáceres
- (D) site:mt.gov.br "Cáceres"

QUESTÃO 15

A respeito do Mozilla Firefox, versão 47.0.1, para que o usuário possa exibir a navegação em Tela Inteira, ele deverá pressionar

- (A) a tecla F11.
- (B) a tecla F12.
- (C) as teclas Alt + P.
- (D) as teclas Ctrl + O.

LEGISLAÇÃO BÁSICA

QUESTÃO 16

Para efeito da Lei Complementar nº 25/1997, o regime jurídico único é o conjunto de preceitos, direitos e deveres, proibições e responsabilidades dos servidores públicos, estabelecido com base

- (A) nos princípios constitucionais que regem as relações entre o Município e seus servidores.
- (B) na legislação federal sobre servidores públicos.
- (C) nas leis e tratados internacionais que regulam as relações entre o Poder Público e seus servidores.
- (D) nos princípios constitucionais e leis estaduais sobre servidores públicos municipais.

QUESTÃO 17

De acordo com as disposições da Lei Complementar nº 25/1997 acerca das formas de provimento derivado de cargos públicos, assinale a assertiva **INCORRETA**.

- (A) A reintegração é a reinvestidura no cargo do servidor estável, em caso de invalidação de sua demissão por decisão administrativa ou judicial.
- (B) O aproveitamento de servidor que se encontra em disponibilidade dependerá de prévia comprovação de sua capacidade física e mental, por junta médica oficial.
- (C) A readaptação acarretará aumento de vencimento ou remuneração do servidor.
- (D) Não poderá ocorrer reversão quando o aposentado tiver completado 60 (sessenta) anos de idade.

QUESTÃO 18

Quanto aos deveres e proibições previstos na Lei Complementar nº 25/1997, que dispõe sobre o Regime Jurídico dos Servidores Públicos do Município de Cáceres, marque V para as afirmativas verdadeiras e F para as falsas.

- () O servidor deve atender com presteza tanto aos pedidos de expedição de certidões para defesa de direitos pessoais quanto às requisições para a defesa da Fazenda Pública.
- () O servidor deve levar ao conhecimento dos demais servidores do órgão as irregularidades de que tiver ciência em razão do cargo.
- () É proibida a retirada, sem prévia anuência da autoridade competente, de qualquer documento ou objeto da repartição pública.
- () É permitido que o servidor atue, perante repartições públicas, como procurador de parente até o segundo grau em processo relacionado com o recebimento de benefício previdenciário ou assistencial.

Assinale a sequência correta.

- (A) F, V, F, V
- (B) V, F, V, V
- (C) V, F, V, F
- (D) F, F, V, F

QUESTÃO 19

Em consonância com a Lei Complementar nº 25/1997, que dispõe sobre o Regime Jurídico dos Servidores Públicos do Município de Cáceres, analise as assertivas acerca da acumulação de cargos públicos.

- I - A acumulação de cargos, ainda que lícita, fica condicionada à comprovação da compatibilidade de horários.
- II - A proibição de acumular estende-se a cargos, empregos e funções em autarquias, fundações públicas, empresas públicas e de economia mista, da União, dos Estados, do Distrito Federal e Municípios.
- III - O servidor poderá exercer mais de um cargo em comissão quando houver compatibilidade de horários.
- IV - A proibição de acumular proventos não se aplica aos aposentados, nos casos de exercício de mandato eletivo, cargo em comissão ou contrato para prestação de serviços técnicos especializados, de caráter temporário.

Estão corretas as assertivas

- (A) III e IV, apenas.
- (B) I, II e III, apenas.
- (C) II e III, apenas.
- (D) I, II e IV, apenas.

QUESTÃO 20

Nos termos da Lei Complementar nº 25/1997, que dispõe sobre o Regime Jurídico dos Servidores Públicos do Município de Cáceres, às faltas injustificadas ao serviço, por 60 (sessenta) dias intercalados, durante o período de 12 (doze) meses, conforme apurado em processo administrativo com observância do direito ao contraditório, será aplicada a seguinte penalidade:

- (A) Suspensão.
- (B) Advertência.
- (C) Demissão.
- (D) Transferência.

CONHECIMENTOS ESPECÍFICOS

QUESTÃO 21

NÃO é atribuição da Comissão Interna de Prevenção de Acidentes (CIPA):

- (A) Identificar os riscos dos processos de trabalho.
- (B) Elaborar o Programa de Controle Médico e Saúde Ocupacional.
- (C) Elaborar o mapa de riscos.
- (D) Promover, anualmente, em conjunto com o SESMT, onde houver, a Semana Interna de Prevenção de Acidentes do Trabalho (SIPAT).

QUESTÃO 22

A máscara de solda é um Equipamento de Proteção Individual (EPI) para proteção dos olhos e face. **NÃO** é função desse EPI proteger contra

- (A) radiação ultravioleta.
- (B) radiação infravermelha e luminosidade intensa.
- (C) impactos de partículas volantes.
- (D) gases e vapores.

QUESTÃO 23

A coluna da esquerda apresenta o método de extinção do incêndio e a da direita, o respectivo mecanismo de extinção. Numere a coluna da direita de acordo com a da esquerda.

- | | | |
|----------------------|-----|---|
| 1 - Extinção química | () | Consiste no arrefecimento do combustível, por meio da diminuição da sua temperatura. |
| 2 - Isolamento | () | Consiste na redução/retirada da concentração do comburente tornando a mistura pobre em oxigênio. |
| 3 - Abafamento | () | Consiste na separação entre o combustível e a fonte de energia (calor) ou entre aquele e o ambiente incendiado. |
| 4 - Resfriamento | () | Consiste em aplicar agentes extintores que reagem com radicais livres que alimentam a combustão, provocando a quebra da reação química. |

Marque a sequência correta.

- (A) 3, 1, 4, 2
- (B) 4, 2, 3, 1
- (C) 4, 3, 2, 1
- (D) 2, 4, 1, 3

QUESTÃO 24

NÃO é considerada atividade perigosa de acordo com a NR 16:

- (A) Trabalho na Indústria da Construção Civil com temperatura extrema.
- (B) Vigilância patrimonial.
- (C) Operação de manuseio de explosivos.
- (D) Produção, transporte, processamento e armazenamento de gás liquefeito.

QUESTÃO 25

O nível de ação é o valor acima do qual devem ser iniciadas ações preventivas de forma a minimizar a probabilidade de que as exposições a agentes ambientais ultrapassem os limites de exposição. De acordo com a NR 9, deverão ser objeto de controle sistemático as situações que apresentem exposição ocupacional acima dos níveis de ação. Sobre esse tema, marque V para as afirmativas verdadeiras e F para as falsas.

- () O nível de ação para agentes químicos, que possuem limites de tolerância estabelecidos, é considerado aquele em que os limites de exposição ocupacional ultrapassam a metade dos valores previstos na NR 15.
- () O nível de ação para o ruído é considerado como aquele em que o limite de exposição ocupacional ultrapassa a dose de 0,75 (ou 75%), conforme critério estabelecido na NR 15.
- () O nível de ação para a avaliação da exposição ocupacional diária à vibração em mãos e braços corresponde a um valor de aceleração resultante de exposição normalizada (aren) de $2,5 \text{ m/s}^2$.
- () O nível de ação para a avaliação da exposição ocupacional diária à vibração de corpo inteiro corresponde a um valor da aceleração resultante de exposição normalizada (aren) de $0,5 \text{ m/s}^2$, ou ao valor da dose de vibração resultante (VDVR) de $9,1 \text{ m/s}^{1,75}$.

Assinale a sequência correta.

- (A) V, V, F, F
- (B) V, F, V, V
- (C) F, F, V, V
- (D) F, V, F, F

QUESTÃO 26

Sobre os sintomas e primeiros socorros às vítimas de calor, marque V para as afirmativas verdadeiras e F para as falsas.

- () No caso de insolação, recomenda-se baixar a temperatura corporal, lenta e gradativamente.
- () No caso de exaustão pelo calor, recomenda-se remover o acidentado para um local fresco e ventilado, longe da fonte de calor.
- () As vítimas de câibras apresentam contrações musculares involuntárias, fortes e muito dolorosas; ocorrem nos músculos do abdômen e nas extremidades.
- () Os efeitos da síncope por calor são eridemas e dor na pele que se iniciam logo após a exposição, devendo a vítima ser tratada com compressas frias na região afetada ou aplicação de creme hidratante.

Assinale a sequência correta.

- (A) V, V, V, F
- (B) V, F, F, V
- (C) F, V, V, F
- (D) F, V, F, V

QUESTÃO 27

Qual variável ambiental **NÃO** é utilizada para avaliar as condições de conforto em locais de trabalho onde são executadas atividades que exijam solicitação intelectual e atenção constantes?

- (A) Índice de Bulbo Úmido Termômetro de Globo (IBUTG)
- (B) Umidade relativa do ar
- (C) Índice de temperatura efetiva
- (D) Velocidade do ar

QUESTÃO 28

Por questões ergonômicas, os equipamentos utilizados no processamento eletrônico de dados com terminais de vídeo devem observar critérios estabelecidos na NR 17. Acerca desses critérios, analise as afirmativas.


- I - A tela, o teclado e o suporte para documentos devem ser colocados de maneira que as distâncias olho-teclado e olho-documento sejam duas vezes a distância olho-tela.
- II - O teclado deve ser independente e ter mobilidade, permitindo ao trabalhador ajustá-lo de acordo com as tarefas a serem executadas.
- III - As condições de mobilidade devem ser suficientes para permitir o ajuste da tela do equipamento à iluminação do ambiente, protegendo-a contra reflexos e para proporcionar corretos ângulos de visibilidade ao trabalhador.
- IV - Os equipamentos devem ser posicionados em superfícies de trabalho com altura ajustável.

Estão corretas as afirmativas

- (A) I, II e III, apenas.
- (B) I e IV, apenas.
- (C) II, III e IV, apenas.
- (D) II e III, apenas.

QUESTÃO 29

Considere a figura abaixo que apresenta um Mapa de Risco de um local de trabalho.



A partir das informações apresentadas no mapa, marque V para as afirmativas verdadeiras e F para as falsas.

- () Na bancada de trabalho 01, existem riscos biológico e químico em grau médio.
- () Nas bancadas de trabalho 01 e 02, estão indicados risco físico e de acidente em grau baixo e risco biológico em grau alto.
- () Na bancada de trabalho 01, os riscos estão representados de forma equivocada, visto que deveriam ter sido representados separadamente com seus respectivos graus.
- () A bancada de trabalho 01 apresenta risco químico em grau médio e a bancada de trabalho 02 apresenta risco ergonômico em grau pequeno.

Assinale a sequência correta.

- (A) V, F, F, F
- (B) F, V, V, F
- (C) F, V, V, V
- (D) V, F, F, V

QUESTÃO 30

Nos estabelecimentos em que trabalhem mais de 30 até 300 empregados, embora não seja exigido refeitório, deverão ser asseguradas aos trabalhadores condições suficientes de conforto para a ocasião das refeições. Sobre os requisitos mínimos especificados na NR 24, assinale a alternativa **INCORRETA**.

- (A) O piso deve ser lavável.
- (B) O refeitório deve ser limpo, arejado e ter boa iluminação.
- (C) As mesas e assentos devem ser em quantidade suficiente para atender a metade dos usuários.
- (D) Deve ser fornecida água potável aos empregados.

QUESTÃO 31

Sobre as competências e atribuições dos profissionais integrantes dos Serviços Especializados em Engenharia de Segurança e em Medicina do Trabalho, de acordo com a NR 4, assinale a afirmativa **INCORRETA**.

- (A) Acumular o exercício das atividades dos Serviços Especializados em Engenharia de Segurança e em Medicina do Trabalho com as outras atividades na empresa, no mesmo horário de sua atuação.
- (B) Esclarecer e conscientizar os empregadores sobre acidentes do trabalho e doenças ocupacionais, estimulando-os em favor da prevenção.
- (C) Aplicar os conhecimentos de engenharia de segurança e de medicina do trabalho ao ambiente de trabalho e a todos os seus componentes, inclusive máquinas e equipamentos, de modo a reduzir, até eliminar os riscos ali existentes à saúde do trabalhador.
- (D) Promover a realização de atividades de conscientização, educação e orientação dos trabalhadores para a prevenção de acidentes do trabalho e doenças ocupacionais.

QUESTÃO 32

Sobre as Doenças Ocupacionais e Doenças do Trabalho, analise as afirmativas.

- I - Doença Ocupacional é a entidade mórbida desencadeada pelo exercício do trabalho peculiar a determinada atividade.
- II - Doença do Trabalho é aquela derivada das condições especiais em que o trabalho é realizado e com ele se relacione diretamente.
- III - Doença Ocupacional é aquela que não produz incapacidade laborativa.
- IV - Doença Ocupacional ou do Trabalho é a doença endêmica adquirida por habitante de região em que ela se desenvolva.

Estão corretas as afirmativas

- (A) II e IV, apenas.
- (B) III e IV, apenas.
- (C) I e II, apenas.
- (D) I, II e III, apenas.

QUESTÃO 33

Os exames médicos obrigatórios no PCMSO compreendem avaliação clínica e exames complementares. A avaliação clínica abrange

- (A) anamnese ocupacional e Raio X do tórax.
- (B) anamnese ocupacional e exame físico e mental.
- (C) apenas exame físico.
- (D) apenas exame mental.

QUESTÃO 34

De acordo com a Portaria nº 3.275, de 21 de setembro de 1989, **NÃO** é atribuição do profissional Técnico de Segurança do Trabalho:

- (A) Executar as normas de segurança referentes a projetos de construção, aplicação, reforma, arranjos físicos e de fluxos, com vista à observância das medidas de segurança e higiene do trabalho, inclusive por terceiros.
- (B) Avaliar o trabalhador e a sua condição de saúde para determinadas funções e/ou ambientes, procurando ajustar o trabalho ao trabalhador; indicando sua alocação para trabalhos compatíveis com sua situação de saúde, orientando-o, se necessário, no referido processo de adaptação.
- (C) Encaminhar aos setores e áreas competentes normas, regulamentos, documentação, dados estatísticos, resultados de análises e avaliações, materiais de apoio técnico, educacional e outros de divulgação para conhecimento e autodesenvolvimento do trabalhador.
- (D) Indicar, solicitar e inspecionar equipamentos de proteção contra incêndio, recursos audiovisuais e didáticos e outros materiais considerados indispensáveis, de acordo com a legislação vigente, dentro das qualidades e especificações técnicas recomendadas, avaliando seu desempenho.

QUESTÃO 35

Com o objetivo de alertar um indivíduo para uma situação de perigo, o Sistema Globalmente Harmonizado de Classificação propõe a utilização de “frases de precaução”, apresentadas na coluna da direita, que se relacionam às classes de produtos químicos, apresentadas na coluna da esquerda. Numere a coluna da direita de acordo com a da esquerda.

- | | |
|---|---|
| 1 - Corrosivo | () Evite contato com pele e olhos. |
| 2 - Substâncias oxidantes | () Mantenha longe do calor. |
| 3 - Líquidos inflamáveis, Sólidos e Gases | () Evite choque ou impacto. |
| 4 - Explosivos | () Não armazene perto de material combustível. |

Marque a sequência correta.

- (A) 1, 3, 4, 2
- (B) 2, 1, 3, 4
- (C) 3, 4, 1, 2
- (D) 4, 3, 2, 1

QUESTÃO 36

A respeito da Classificação de Riscos e suas consequências, numere a coluna da direita de acordo com a da esquerda.

- | | |
|-----------------------|---|
| 1 - Risco Ergonômico | () Intoxicação devido à presença de gases tóxicos. |
| 2 - Risco Químico | () Lesões musculoesqueléticas devido a posturas forçadas e incorretas. |
| 3 - Risco de Acidente | () Fraturas devido a quedas por presença de líquidos no solo (água, óleos, lubrificantes). |
| 4 - Risco Físico | () Lesões oculares devido à emissão de radiações ultravioletas, consequência dos processos de soldadura por arco elétrico. |

Marque a sequência correta.

- (A) 3, 4, 2, 1
- (B) 4, 3, 1, 2
- (C) 1, 2, 4, 3
- (D) 2, 1, 3, 4

QUESTÃO 37

A NR 30 – Segurança e Saúde no Trabalho Aquaviário estabelece as diretrizes de avaliação do nível mínimo da capacidade física necessária para admissão e permanência em serviço a bordo, que deve ser utilizada em trabalhadores aquaviários que operam embarcações classificadas para navegação em mar aberto e apoio marítimo. A coluna da esquerda apresenta as tarefas em situações normais a bordo e a capacidade física necessária para sua realização. A coluna da direita apresenta diretriz para medir a capacidade física correspondente do trabalhador. Numere a coluna da direita de acordo com a da esquerda.

Tarefa a bordo e Capacidade física relacionada

1 -Tarefa: vestir prontamente colete salva-vidas ou roupa de exposição. Capacidade física relacionada: mover-se com agilidade.

2 -Tarefa: utilizar ferramentas manuais. Capacidade física relacionada: destreza e força manual e digital.

3 -Tarefa: executar procedimentos de reação à emergência. Capacidade física relacionada: ouvir um som com um nível especificado de dB, numa frequência especificada.

4 -Tarefa: reagir a alarmes, avisos e instruções visuais. Capacidade física relacionada: distinguir um objeto ou uma forma a certa distância.

Marque a sequência correta.

- (A) 2, 1, 3, 4
- (B) 3, 1, 2, 4
- (C) 3, 4, 1, 2
- (D) 4, 3, 2, 1

Um examinador médico deve estar convencido de que o candidato

- () atende aos padrões de capacidade auditiva especificados pela autoridade competente.
- () não tem qualquer debilitação ou doença que possa impedir seus movimentos e suas atividades físicas normais.
- () é capaz de girar os punhos para girar manivelas.
- () atende aos padrões de acuidade visual especificados pela autoridade competente.

INSTRUÇÃO: Leia o texto abaixo para responder às questões 38 e 39.

Ruppenthal (2013) afirma que, em Engenharia de Segurança, denomina-se Causa do Acidente ao fato “de caráter humano ou material, relacionado com o evento catastrófico ou acidente, pela materialização de um perigo, resultando em danos. É aquilo que provocou o acidente, sendo responsável por sua ocorrência, permitindo que o risco se transformasse em dano. Antes do acidente existe o risco. Após o acidente existe a causa”.

(RUPPENTHAL, J. E. **Gerenciamento de riscos**. Santa Maria: UFSM, Colégio Técnico Industrial de Santa Maria, Rede e-Tec Brasil, 2003.)

QUESTÃO 38

Sobre as causas dos acidentes, é correto afirmar:

- (A) Condição insegura é todo ato, consciente ou não, realizado pelo trabalhador ou empresa, capaz de provocar dano ao trabalhador, a seus companheiros ou a máquinas, materiais e equipamentos.
- (B) Incidente é o prejuízo sofrido por uma organização, com garantia de ressarcimento por seguro ou por outros meios.
- (C) Ato inseguro consiste em irregularidades ou deficiências existentes no ambiente de trabalho que constituem riscos para a integridade física do trabalhador e para a sua saúde, bem como para os bens materiais da empresa.
- (D) Existem três tipos de causas de acidentes: atos inseguros, condições inseguras e fator pessoal de insegurança.

QUESTÃO 39

O dano decorrente do acidente constitui

- (A) a ocorrência não programada, inesperada ou não, que interrompe ou interfere no processo normal de uma atividade, ocasionando perda de tempo útil, lesões nos trabalhadores ou perdas materiais.
- (B) a chance de ocorrência de uma falha que pode conduzir a um determinado acidente.
- (C) a consequência negativa do acidente que gera prejuízo.
- (D) o problema pessoal do indivíduo que pode vir a provocar acidentes, tais como problemas de saúde, familiares, dívidas, alcoolismo, uso de substâncias tóxicas.

QUESTÃO 40

São Equipamentos de Proteção Coletiva (EPC):

- (A) Detectores de fumaça e Máscaras respiratórias.
- (B) Lava-olhos de emergência e Cremes protetores.
- (C) Balaclava e Capela química.
- (D) Extintor de incêndio e Redes de proteção.



Concurso Público

Edital nº 003/2017-PMC

Prefeitura Municipal de Cáceres - MT



Folha de Anotação do Candidato

Nível de Escolaridade: Médio/Médio Técnico

Cargo: Técnico em Segurança do Trabalho

01	02	03	04	05	06	07	08	09	10

11	12	13	14	15	16	17	18	19	20

21	22	23	24	25	26	27	28	29	30

31	32	33	34	35	36	37	38	39	40

Esta folha é destinada para uso EXCLUSIVO do candidato.



Secretaria de Articulação e Relações Institucionais
Gerência de Exames e Concursos