



UFESB

UNIVERSIDADE FEDERAL
DO SUL DA BAHIA

Concurso Público - 2017

Técnico Administrativo em Educação

NÍVEL SUPERIOR

Cargo:

Nutricionista

CADERNO DE PROVAS

Nome do Candidato

Número de Inscrição

							-	
--	--	--	--	--	--	--	---	--

Assinatura do Candidato

--



Universidade Federal de Mato Grosso
Secretaria de Articulação e Relações Institucionais
Gerência de Exames e Concursos

INSTRUÇÕES

LEIA COM ATENÇÃO

1. Este Caderno de Provas, com páginas numeradas de 1 a 39, é constituído de 110 (cento e dez) questões objetivas, cada uma com 4 (quatro) alternativas, assim distribuídas:

- 01 a 20 – Português
- 21 a 35 – Administração Pública
- 36 a 50 – Informática Básica
- 51 a 60 – Raciocínio Lógico I
- 61 a 70 – Língua Inglesa
- 71 a 110 – Conhecimentos Específicos

2. Caso o Caderno de Provas esteja incompleto ou tenha qualquer defeito de impressão, solicite ao fiscal que o substitua.
3. **Sobre a Marcação do Cartão de Respostas**

As respostas deverão ser transcritas com caneta esferográfica de tinta azul ou preta não porosa, fabricada em material transparente, para o Cartão de Respostas, que será o único documento válido para correção.

- 3.1. Para cada questão existe apenas uma alternativa que a responde acertadamente. Para a marcação da alternativa escolhida no **CARTÃO DE RESPOSTAS**, pinte completamente o círculo correspondente.

Exemplo: Suponha que para determinada questão a alternativa C seja a escolhida.

N.º da Questão
<input type="radio"/> A
<input type="radio"/> B
<input checked="" type="radio"/>
<input type="radio"/> D

- 3.2. Marque apenas uma alternativa para cada questão.
 - 3.3. Será invalidada a questão em que houver mais de uma marcação, marcação rasurada ou emendada, ou não houver marcação.
 - 3.4. Não rasure nem amasse o **CARTÃO DE RESPOSTAS**.
4. Todos os espaços em branco, neste caderno, podem ser utilizados para rascunho.
 5. A duração das provas é 5 (cinco) horas, já incluído o tempo destinado ao preenchimento do **CARTÃO DE RESPOSTAS**.
 6. Somente após decorridas 2 horas e 30 minutos do início das provas, o candidato, depois de entregar seu Caderno de Provas e seu Cartão de Respostas, poderá retirar-se da sala de provas. O candidato que insistir em sair da sala de provas antes desse tempo deverá assinar **Termo de Ocorrência** declarando sua desistência do concurso.
 7. Será permitida a saída de candidatos levando o Caderno de Provas somente **na última meia hora** de prova.
 8. Na página 39 deste Caderno de Provas, encontra-se a **Folha de Anotação do Candidato**, a qual poderá ser utilizada para a transcrição das respostas das questões objetivas. Essa folha poderá ser levada pelo candidato para posterior conferência com o gabarito somente após decorridas 2 horas e 30 minutos do início das provas.
 9. Após o término das provas, o candidato deverá, obrigatoriamente, entregar ao fiscal o **CARTÃO DE RESPOSTAS** devidamente assinado e preenchido.

Português

INSTRUÇÃO: Leia a propaganda abaixo e responda às questões de 01 a 03.



QUESTÃO 01

Essa propaganda intenciona conscientizar a população quanto ao respeito pelo tempo estipulado para a ocorrência da piracema nas bacias hidrográficas. É uma propaganda social. Qual característica **NÃO** se aplica a esse tipo de propaganda?

- [A] Caráter persuasivo para sensibilizar e convencer o público-alvo.
- [B] Predominância de frases curtas, associadas à imagem para reforçar o sentido.
- [C] Objetiva difundir um conjunto de ideias a respeito de uma dada realidade.
- [D] Busca interferir no cotidiano de determinada sociedade.

QUESTÃO 02

Acerca da peça propagandística, marque V para as afirmativas verdadeiras e F para as falsas.

- () As informações relativas à intencionalidade da propaganda encontram-se no cartão, localizado na parte inferior direita da propaganda.
- () O vocábulo *traíra* denomina um peixe que costuma atacar peixes menores; no texto, caracteriza a pessoa que se porta como traidora, não respeitadora da época de preservar os peixes.
- () A expressão *Está na hora* sugere que há um tempo pré-fixado, o mesmo sempre que ocorre a piracema nas bacias hidrográficas brasileiras.
- () O pronome *aquele* em *dar aquele tempinho* remete a um tempo conhecido pelo leitor da propaganda, tempo de parar de pescar.

Assinale a sequência correta.

[A] V, V, F, V

[B] V, F, V, F

[C] F, F, V, V

[D] F, V, F, F

QUESTÃO 03

Em relação aos recursos linguísticos empregados nas partes verbais da propaganda, assinale a afirmativa correta.

- [A] Os verbos *respeitar* e *denunciar*, ambos no imperativo, estão empregados na segunda pessoa do singular, concordando com o sujeito *você*, o leitor do texto.
- [B] As formas verbais *pescar* e *Pescar* estão empregadas, respectivamente, no presente do indicativo e no infinitivo impessoal.
- [C] O pronome *quem*, em *Quem pesca na piracema é traíra*, pode ser substituído por a pessoa que, sendo classificado como pronome relativo.
- [D] O pronome relativo *que*, em *Pescar na piracema é crime ambiental que dá cadeia*, retoma o sentido de seu antecedente *Pescar na piracema*.

QUESTÃO 04

Leia os dizeres de uma faixa de rua.

**SE TOCA MULHER!
FAÇA O AUTOEXAME!**

OUTUBRO ROSA

A leitura atenta do texto permite afirmar:

- [A] Os verbos *tocar* e *fazer*, ambos no imperativo, apresentam-se como ordem, uma exigência.
- [B] A escrita à direita da faixa contextualiza as frases à esquerda, direcionando o entendimento.
- [C] A expressão *Se toca* não permitiria, em outra situação linguística, diferente entendimento, pois seu significado está cristalizado na língua.
- [D] As formas verbais *toca* e *faça* encontram-se na terceira pessoa do singular, em consonância com o pronome *se*.

INSTRUÇÃO: Leia atentamente a crônica literária abaixo e responda às questões de 05 a 07.

Aos poucos pesa em nosso corpo (e na alma não menos) a realidade de que o rio que empurra a vida não é miragem. Manchas, rugas, cansaço, impaciência e, sempre espiando atrás das portas, o medo: estou fora dos padrões, fora do esquadro, devo impedir isso, preciso mudar? O grande engodo da nossa cultura nos convoca: a endeusada juventude tem de ser a nossa meta.

Correr para frente, voltados para trás.

Ou nascemos assim, querendo permanência e achando, infantilmente, que criança não sofre, adolescente não adocece, só na adultez e na maturidade, pior ainda, na velhice, acontecem coisas negativas. Esquecemos a solidão, a falta de afeto, a sensação de abandono, o medo do escuro ou da frieza dos adultos, tudo o que nos atormentou nesse frágil paraíso chamado infância, ainda que ela tenha sido boa.

(LUFT, Lya. *O tempo é um rio que corre*. Rio de Janeiro: Record, 2014.)

QUESTÃO 05

A respeito da crônica, analise as afirmativas.

- I - O segmento (*e na alma não menos*) conota que, para a narradora, o corpo sofre alterações ao longo do tempo, o que não acontece com a alma.
- II - A frase *Correr para frente, voltados para trás* remete à outra anterior: *a endeusada juventude tem de ser nossa meta*.
- III - Para a narradora, em todas as fases da vida, as pessoas passam por sofrimentos, por *coisas negativas*, não somente na maturidade.
- IV - *Manchas, rugas, cansaço, impaciência* são marcas do medo dos adultos em relação à chegada do envelhecimento.

Está correto o que se afirma em

- [A] I, II e IV, apenas.
- [B] II, III e IV, apenas.
- [C] I e III, apenas.
- [D] II e III, apenas.

QUESTÃO 06

Sobre os sinais de pontuação utilizados no texto, marque V para as afirmativas verdadeiras e F para as falsas.

- () Em (*e na alma não menos*), os parênteses indicam intercalação de uma frase no período e podem ser substituídas por vírgulas.
- () No segmento *só na adultez e na maturidade, pior ainda, na velhice*, as vírgulas separam uma expressão que retifica o que foi dito anteriormente.
- () Os dois pontos, em *O grande engodo da nossa cultura nos convoca: a endeusada juventude tem de ser a nossa meta.*, introduzem a fala da narradora da crônica.
- () Em *Esquecemos a solidão, a falta de afeto, a sensação de abandono, o medo do escuro*, as vírgulas foram usadas para separar expressões explicativas.

Assinale a sequência correta.

- [A] V, V, F, F
- [B] V, F, F, V
- [C] F, V, V, F
- [D] F, F, V, V

QUESTÃO 07

Sobre as palavras *atrás* (*sempre espiando atrás das portas*) e *trás* (*voltados para trás.*), assinale a afirmativa correta.

- [A] Ambas são advérbios, podem tomar o lugar uma da outra, pois são usadas de igual forma sintática.
- [B] Trás, advérbio de lugar, indica na parte posterior e vem sempre seguido de preposição.
- [C] Atrás, além de indicar lugar, como no texto, pode indicar tempo passado.
- [D] Atrás, advérbio, aparece sempre precedido de preposição, formando uma locução adverbial.

INSTRUÇÃO: Leia o poema de Paulo Leminski e responda às questões 08 e 09.

Despropósito geral

Esse estranho hábito,
escrever obras-primas,
Não me veio rápido.
Custou-me rimas.
Umas, paguei caro,
liras, vidas, preços máximos.
Umas, foi fácil.
Outras, nem falo.
Me lembro duma
que desfiz a socos.
Duas, em suma.
Bati mais um pouco.
Esse estranho abuso,
adquiri, faz séculos.
Aos outros, as músicas.
Eu, senhor, sou todo ecos.

(*Melhores poemas*. São Paulo: Global, 1997.)

QUESTÃO 08

A partir da leitura do poema, analise as afirmativas.

- I - O eu lírico considera a arte de versejar muito árdua, como revelam os segmentos *paguei caro* e *desfiz a socos*.
- II - O verso *Eu, senhor, sou todo ecos* sugere a presença de outras vozes no poema, uma intertextualidade não marcada.
- III - O eu lírico louva o poema espontâneo, as rimas fáceis, mesmo artificiais ou musicais.
- IV - O vocativo *senhor* incorpora, explicitamente, o leitor na leitura e significação do poema.

Está correto o que se afirma em

- [A] I, II e IV, apenas.
- [B] III e IV, apenas.
- [C] I, II e III, apenas.
- [D] II e IV, apenas.

QUESTÃO 09

Leminski, em Despropósito geral, trata da composição de poemas, segundo o eu lírico, *obras-primas*. Essa função da linguagem – no caso, a poesia que fala do fazer poético – denomina-se Função

- [A] Fática.
- [B] Poética.
- [C] Referencial.
- [D] Metalinguística.

INSTRUÇÃO: Leia o fragmento do artigo *Metas para o governo* e responda às questões 10 e 11.

Em grandes empresas do setor privado, é comum os gestores receberem metas de desempenho e serem continuamente cobrados pelo resultado do seu trabalho à luz dessas metas. Em vários casos, funcionários recebem bônus por desempenho. Se a empresa vai mal, os gestores devem prestar contas e podem, no limite, até perder seu emprego. Estudos têm indicado que a adoção dessas práticas responde por cerca de 25% das diferenças de produtividade entre empresas.

E no setor público, o que acontece quando o desempenho está aquém do desejado? Com algumas meritórias exceções, nada.[...]

Alguns podem dizer que o problema do setor público não está na falta de metas e gestão, mas sim na falta de recursos para alcançar os objetivos almejados. O remédio normalmente vem na forma de recomendações para aumentar salários e gastos. Eis então uma proposta: qualquer tentativa de aumentar o orçamento de determinadas áreas deve ser necessariamente condicional a metas claras de desempenho, havendo plena responsabilização dos gestores caso os resultados não sejam atingidos. [...]

(LAZZARINI, S. *Revista Veja*. Ed. nº 2497.)

QUESTÃO 10

O articulista tece reflexões com objetivo precípuo de

- [A] ressaltar o caráter produtivo de empresas privadas que trabalham por metas.
- [B] apontar o quanto perde o funcionário de empresa particular quando não atinge as metas.
- [C] atribuir ao aumento de salários a responsabilidade para melhor desempenho de empresas públicas.
- [D] comparar, entre empresas privadas e públicas, as consequências de um mau desempenho.

QUESTÃO 11

A respeito de recursos expressivos empregados no texto, analise as afirmativas.

- I - Em *Se a empresa vai mal, os gestores devem prestar contas*, o vocábulo *mal* funciona como substantivo e seu plural é *males*.
- II - O sentido do advérbio *aquém*, em *E no setor público, o que acontece quando o desempenho está aquém do desejado?*, é nível ou qualidade inferior e seu antônimo é *longe*.
- III - O vocábulo *bônus*, no trecho *funcionários recebem bônus por desempenho*, é um substantivo que não se flexiona no plural.
- IV - Em *havendo plena responsabilização dos gestores caso os resultados não sejam atingidos*, a conjunção *caso* pode ser substituída por *se*, com as devidas alterações na forma verbal.

Está correto o que se afirma em

- [A] I, II e IV, apenas.
- [B] III e IV, apenas.
- [C] II e III, apenas.
- [D] I, II e III, apenas.

INSTRUÇÃO: Leia o texto e responda às questões 12 e 13.

O Parque Nacional do Pau Brasil está localizado no município de Porto Seguro, no extremo sul da Bahia, na conhecida Costa do Descobrimento e representa enorme potencial turístico de base sustentável em um bioma que está constantemente ameaçado. No total, são mais de 19 mil hectares de território protegidos, com potencial para se transformar, agora, em um dos principais pontos turísticos do país. Na região, os visitantes encontrarão uma belíssima cachoeira, trilhas abertas e sinalizadas (algumas com acessibilidade para pessoas com dificuldades de locomoção), mirantes de observação para apreciar as paisagens naturais, mais de 40 km de estradas para a prática de ciclismo, além de terem a oportunidade de conhecer árvores de até 600 anos de idade e o berçário de árvores pau-brasil. Quem quiser explorar um pouco mais sobre a história do parque, o encontro de civilizações que ocorreu na região, as comunidades locais e a riqueza da biodiversidade local, poderá visitar a exposição no centro de visitantes.

(Disponível em: <http://www.portosegurotur.com>. Acesso em: 05 de novembro de 2016.)

QUESTÃO 12

Em que reside a intencionalidade desse texto?

- [A] Enfatizar as características turísticas do parque de modo a concretizar seu potencial turístico.
- [B] Incentivar os visitantes do parque a praticar esportes, como caminhada e ciclismo.
- [C] Transformar o parque em reduto de apreciação da natureza tal qual era à época do descobrimento.
- [D] Provocar visita pública ao parque antes que o bioma no qual se insere acabe.

QUESTÃO 13

No trecho *em um dos principais pontos turísticos do país*, foi empregado um adjetivo que se flexiona somente em número. Assinale a alternativa que apresenta adjetivos do texto que se flexionam somente em número.

- [A] *enorme, sustentável, naturais*
- [B] *abertas, naturais, belíssima*
- [C] *locais, sinalizadas, ameaçado*
- [D] *turístico, local, sustentável*

INSTRUÇÃO: Leia o texto a seguir e responda às questões de 14 a 16.

Discurso de paraninfo

Lembrei-me de um artista goiano que não tirou diploma, mas ficou artista e foi convidado por uma turma para ser paraninfo. Ficou apavorado, porque fazer arte ele sabia, mas não sabia fazer discursos, especialmente discursos segundo as etiquetas da academia. Procurou auxílio de um amigo, reitor de universidade, e implorou que ele lhe escrevesse o tal discurso. Negado o seu pedido, o artista resolveu fazer uma pesquisa: entrevistou várias pessoas já formadas para saber o que, no discurso do seu paraninfo, mais as impressionara. O resultado de sua pesquisa foi surpreendente: nenhum dos entrevistados tinha a menor ideia do que o paraninfo havia falado. Assim, munido desse saber, no dia da formatura, ele se levantou perante o público ilustrado de professores, pais e formandos, e no seu jeito de quem não sabia falar a língua própria, contou dos resultados da sua pesquisa. E concluiu: “Como vocês não vão se lembrar mesmo do que vou falar, quero só dizer que não vou falar nada. Só quero que vocês sejam muito felizes.” Falou três minutos e foi delirantemente aplaudido. Do seu discurso ninguém se esqueceu.

(ALVES, Rubens. *Ostra feliz não faz pérola*. São Paulo: Planeta, 2008.)

QUESTÃO 14

Acerca de recursos expressivos empregados, marque V quando o significado proposto está adequado na construção dos sentidos do texto e F quando está inadequado.

- () O trecho *não sabia falar a língua própria*, no texto, significa ser falante de uma outra língua que não a sua.
- () A expressão *ficou artista* sugere reconhecimento público, a pessoa ser apontada pela sociedade como famosa naquilo que faz, no caso, na arte.
- () Em *vocês não vão se lembrar mesmo do que vou falar*, o termo *mesmo* pode ser substituído por realmente, de fato, verdadeiramente, sem prejuízo do sentido.
- () Em *não vou falar nada*, ocorre grande contradição, pois o artista *falou três minutos e foi delirantemente aplaudido*.

Assinale a sequência correta.

- [A] F, V, F, V
- [B] V, F, V, V
- [C] F, V, V, F
- [D] V, F, F, F

QUESTÃO 15

Os elementos coesivos são responsáveis pelas relações de sentido construídas no texto. Sobre esses elementos, analise as afirmativas.

- I - Nos trechos *fazer arte ele sabia, implorou que ele lhe escrevesse e ele se levantou*, o pronome *ele* estabelece uma relação referencial com artista.
- II - Em *e no seu jeito de quem não sabia falar a língua própria, contou dos resultados da sua pesquisa*, os pronomes *seu* e *sua* remetem ao termo artista: do jeito do artista e da pesquisa do artista.
- III - Em *Assim, munido desse saber*, o pronome *esse* (de + esse) leva o sentido do termo *saber* ao trecho *nenhum dos entrevistados tinha a menor ideia do que o paraninfo havia falado*.
- IV - O conector *Assim*, em *Assim, munido desse saber*, estabelece relação semântica com ideia anterior de forma a concluir o que foi dito.

Está correto o que se afirma em

- [A] I, II e III, apenas.
- [B] I e IV, apenas.
- [C] I, II, III e IV.
- [D] II, III e IV, apenas.

QUESTÃO 16

No trecho *Negado o seu pedido, o artista resolveu fazer uma pesquisa*, a primeira oração estabelece com a segunda uma relação de

- [A] consequência, pois, depois de ter seu pedido negado, o artista resolveu fazer a pesquisa.
- [B] proporção, visto que, à medida que tinha seu pedido negado, o artista decidiu fazer a pesquisa.
- [C] causa, já que a ação de fazer uma pesquisa foi decidida em função de o pedido do artista ter sido negado.
- [D] finalidade, uma vez que, para fazer o discurso na formatura, o artista precisava que alguém o escrevesse.

INSTRUÇÃO: Leia o texto abaixo e responda às questões 17 e 18.

Sabe de tudo, inocente

Do alto dos seus 25 anos de experiência, o norte-americano especialista em segurança da informação Dave Kearns costuma avisar em seus artigos e relatórios: a era da inocência acabou. O que você pesquisa no Google, os e-mails que envia, as fotos e os vídeos que compartilha, as vezes que avisa ao mundo que está no cinema ou na Tailândia, os sites de notícias (ou de pornografia...) que acessa. Tudo está disponível para alguém. E pode ser usado contra você. Para escapar dos olhares indiscretos das pessoas, empresas ou instituições que foram autorizadas a fuçar sua vida, existe uma série de aplicativos, navegadores, redes sociais – ou mesmo um telefone celular caríssimo – que prometem proteção total ao anonimato. É melhor conhecê-los e começar a usá-los logo.

(Revista Galileu. Ed. Nº 303.)

QUESTÃO 17

Sobre o texto, assinale a afirmativa correta.

- [A] O trecho *a era da inocência acabou* refere-se ao fato de, atualmente, até crianças usarem as redes sociais para lazer ou mesmo comunicarem-se com os amiguinhos.
- [B] A expressão entre parênteses (*ou de pornografia...*) foi usada como brincadeira para mostrar que também o especialista norte-americano acessa esse tipo de site.
- [C] *Do alto dos seus 25 anos de experiência* é expressão usada comumente, com alterações devidas, para enfatizar o conhecimento ou a experiência da pessoa a que se refere sobre o assunto em pauta, como é o caso do texto.
- [D] O título *Sabe de tudo, inocente* sintetiza a ideia de que, atualmente, as pessoas não se preocupam se suas ações nas redes sociais se tornam de domínio público.

QUESTÃO 18

Na língua escrita padrão, leva-se em conta a relação de dependência estabelecida entre um termo e outro mediante um contexto, são as concordâncias e regências. A concordância verbal trata das alterações do verbo para se acomodar ao seu sujeito. Assinale a alternativa que apresenta a norma **INADEQUADA** para explicar a concordância verbal utilizada no trecho dado.

- [A] *o norte-americano especialista em segurança da informação Dave Kearns costuma avisar* → O verbo concorda com o sujeito em pessoa e número.
- [B] *existe uma série de aplicativos, navegadores, redes sociais* → Usa-se o verbo existir somente na terceira pessoa do singular, pois é impessoal.
- [C] *das pessoas, empresas ou instituições que foram autorizadas* → Quando o sujeito for pronome relativo, o verbo concorda com o antecedente desse pronome.
- [D] *Tudo está disponível para alguém. E pode ser usado contra você.* → Nos dois casos, o verbo concorda com o sujeito em pessoa e número.

INSTRUÇÃO: Leia a tira abaixo e responda às questões 19 e 20.



(QUINO. Toda Mafalda. São Paulo: Martins Fontes, 1993.)

QUESTÃO 19

A personagem Mafalda tem uma visão aguda da vida e vive questionando o mundo à sua volta. O último quadrinho mostra claramente seu espírito crítico. Nessa tira, ela critica

- [A] o fato de as crianças terem que trocar os dentes de leite por dentes permanentes.
- [B] a troca que as pessoas realizam de coisas antigas por outras, por serem novas.
- [C] a falta de explicações às crianças sobre a troca de dentes.
- [D] o esbanjamento feito mesmo em tempos economicamente difíceis.

QUESTÃO 20

Sobre a tira, analise as afirmativas.

- I - A expressão *a gente*, no quarto quadrinho, refere-se à própria personagem e pode ser substituída pelo pronome pessoal reto da primeira pessoa do singular.
- II - As interrogações, no segundo quadrinho, são retóricas, pois a personagem não espera respostas, já as tem.
- III - O conector *Além disso*, no terceiro quadrinho, equivale a *ainda mais* e foi usado para introduzir um novo argumento para a tese de Mafalda.

Está correto o que se afirma em

- [A] II, apenas.
- [B] II e III, apenas.
- [C] I e III, apenas.
- [D] I, II e III.

Administração Pública

QUESTÃO 21

De acordo com as disposições gerais sobre Administração Pública previstas na Constituição Federal de 1988, é correto afirmar:

- [A] Os acréscimos pecuniários percebidos por servidor público serão computados para fins de concessão de acréscimos ulteriores.
- [B] É vedada a vinculação ou equiparação de quaisquer espécies remuneratórias para efeito de remuneração de pessoal do serviço público.
- [C] Os vencimentos dos cargos do Poder Legislativo e do Poder Judiciário poderão ser superiores aos pagos pelo Poder Executivo, observadas as peculiaridades das funções.
- [D] A remuneração dos servidores públicos poderá ser alterada por lei específica de iniciativa do Chefe do Poder Executivo para ajustar os limites de gastos com pessoal nos três Poderes.

QUESTÃO 22

Em consonância com a Constituição Federal de 1988, os atos de improbidade administrativa sujeitam o agente às seguintes sanções:

- [A] Perda dos direitos políticos e da função pública, indisponibilidade dos bens e ressarcimento ao erário.
- [B] Perda dos direitos políticos e da função pública, ressarcimento ao erário e prisão civil.
- [C] Perda do cargo público e inabilitação para o exercício de função pública por oito anos, sem prejuízo do ressarcimento ao erário e da ação penal cabível.
- [D] Suspensão dos direitos políticos, perda da função pública, indisponibilidade dos bens e ressarcimento ao erário.

QUESTÃO 23

De acordo com a norma geral sobre licitações públicas inserta na Constituição Federal de 1988, é **INCORRETO** afirmar:

- [A] A Constituição prescreve a obrigatoriedade de processo de licitação pública nos casos de obras, serviços e compras, ressalvadas as alienações de bens públicos.
- [B] A observância do princípio constitucional da isonomia consiste em assegurar igualdade de condições aos concorrentes no processo licitatório.
- [C] O princípio da vinculação ao instrumento convocatório garante ao contratado que as obrigações de pagamento previstas no contrato observem as condições efetivas da proposta.
- [D] Há previsão constitucional de exigências de qualificação técnica e econômica para habilitação dos licitantes, a fim de garantir o cumprimento das obrigações assumidas.

QUESTÃO 24

No tocante às responsabilidades do servidor público federal estabelecidas pela Lei nº 8.112/1990, analise as assertivas.

- I - O servidor responde civil, penal e administrativamente pelo exercício irregular de suas atribuições, uma vez que as sanções são independentes entre si.
- II - O servidor responde de forma direta e imediata perante terceiros por danos causados no exercício das suas funções.
- III - O servidor é responsável por atos comissivos, que resultem em prejuízos ao erário e a terceiros, mas não responde por atos omissivos praticados no desempenho do cargo ou função.
- IV - A reparação do dano causado ao erário será cobrada por meio de execução do débito na via judicial, inclusive em face dos sucessores, até o limite da herança recebida.

Estão corretas as assertivas

- [A] I e IV, apenas.
- [B] I, II e III, apenas.
- [C] II e IV, apenas.
- [D] I, III e IV, apenas.

QUESTÃO 25

Quanto aos deveres fundamentais do servidor público instituídos pelo Código de Ética Profissional do Servidor Público Civil do Poder Executivo Federal (Decreto nº 1.171/1994), marque V para as afirmativas verdadeiras e F para as falsas.

- () O servidor deve comunicar irregularidades aos seus superiores desde que isso não importe em desrespeito à hierarquia.
- () O servidor deve zelar, no exercício do direito de greve, pelas exigências específicas da defesa da vida e da segurança coletiva.
- () O servidor deve agir de forma honesta, demonstrando toda integridade do seu caráter, escolhendo sempre, quando estiver diante de duas opções, a melhor para o seu crescimento pessoal na carreira pública.
- () O servidor deve exercer plenamente as prerrogativas funcionais que lhe foram atribuídas, ainda que isso contrarie os interesses de usuários do serviço público.

Assinale a sequência correta.

- [A] V, V, F, F
- [B] V, F, V, V
- [C] F, V, F, F
- [D] F, F, V, V

QUESTÃO 26

Segundo as vedações previstas no Código de Ética Profissional do Servidor Público Civil do Poder Executivo Federal (Decreto nº 1.171/1994), o servidor, em função de seu espírito de solidariedade, **NÃO** deve

- [A] zelar pela reputação de outros servidores ou de cidadãos que deles dependam.
- [B] utilizar avanços técnicos e científicos de seu conhecimento sem autorização de seus superiores hierárquicos.
- [C] dar o seu concurso a qualquer instituição privada que mantenha contato com a repartição pública onde atua.
- [D] ser conivente com erro ou infração aos princípios éticos aplicáveis à prestação dos serviços públicos.

QUESTÃO 27

Em conformidade com a Lei nº 9.784/1999, que regula o processo administrativo no âmbito da Administração Federal, analise as afirmativas.

- I - Os atos administrativos eivados de vício de legalidade, devem ser _____.
- II - Os atos administrativos inconvenientes ou inoportunos podem ser _____.
- III - Os atos que apresentarem defeitos sanáveis poderão ser _____.
- IV - O prazo de cinco anos para revisão de atos administrativos de que decorram efeitos favoráveis aos destinatários de boa-fé é _____.

Assinale a sequência que preenche correta e respectivamente as lacunas.

- [A] revogados, anulados, convalidados, decadencial.
- [B] anulados, convalidados, revogados, prescricional.
- [C] anulados, revogados, convalidados, decadencial.
- [D] cancelados, revogados, corrigidos, prescricional.

QUESTÃO 28

Considerando as normas previstas na Lei nº 9.784/1999 em matéria de competência, analise as assertivas.

- I - Um órgão administrativo e seu titular poderão, se não houver impedimento legal, delegar parte da sua competência a outros órgãos ou titulares, desde que sejam hierarquicamente subordinados a eles.
- II - O ato de delegação é revogável a qualquer tempo pela autoridade delegante.
- III - Não pode ser objeto de delegação a edição de atos de caráter normativo.
- IV - A avocação temporária de competência por órgão hierarquicamente superior ao qual ela foi atribuída é permitida em caráter excepcional e por motivos relevantes devidamente justificados.

Estão corretas as assertivas

- [A] I, II e IV, apenas.
- [B] II, III e IV, apenas.
- [C] I, III e IV, apenas.
- [D] II e III, apenas.

QUESTÃO 29

De acordo com a Lei nº 8.666/1993, a compra ou locação de imóvel destinado ao atendimento das finalidades precípuas da Administração, cujas necessidades de instalação e localização condicionem a sua escolha, desde que o preço seja compatível com o valor de mercado, segundo avaliação prévia, é uma das hipóteses de

- [A] dispensa de licitação.
- [B] inexigibilidade de licitação.
- [C] vedação de licitação.
- [D] obrigatoriedade de licitação.

QUESTÃO 30

Numere a coluna da direita de acordo com a da esquerda para definir modalidades de licitação previstas na Lei nº 8.666/1993.

- | | | |
|----------------------|-----|--|
| 1 - Concorrência | () | É a modalidade de licitação entre interessados do ramo pertinente ao seu objeto, cadastrados ou não, escolhidos e convidados em número mínimo de 3 (três) pela unidade administrativa. |
| 2 - Tomada de Preços | () | É a modalidade de licitação entre interessados devidamente cadastrados ou que atenderem a todas as condições exigidas para cadastramento até o terceiro dia anterior à data do recebimento das propostas, observada a necessária qualificação. |
| 3 - Convite | () | É a modalidade de licitação entre quaisquer interessados para escolha de trabalho técnico, científico ou artístico, mediante a instituição de prêmios ou remuneração aos vencedores, conforme critérios constantes no edital. |
| 4 - Concurso | () | É a modalidade de licitação entre quaisquer interessados que, na fase inicial de habilitação preliminar, comprovem possuir os requisitos mínimos de qualificação exigidos no edital para execução de seu objeto. |

Marque a sequência correta.

- [A] 2, 4, 3, 1
- [B] 3, 1, 4, 2
- [C] 1, 3, 2, 4
- [D] 3, 2, 4, 1

QUESTÃO 31

Leia o texto abaixo:

O Estado é uma organização de bens e pessoas para a realização dos direitos fundamentais. Existem mecanismos jurídicos de controle da atividade administrativa destinados a verificar a regularidade dos atos administrativos e a reprimir os desvios ocorridos.

(JUSTEN FILHO, Marçal. **Curso de Direito Administrativo**. 11 ed. São Paulo: Editora Revista dos Tribunais, 2015.)

Em relação aos mecanismos de controle externo conferidos ao Tribunal de Contas da União (TCU), é correto afirmar:

- [A] Quando verificada ilegalidade em contrato celebrado por órgãos e entidades da Administração Pública Federal, compete ao TCU a sustação imediata do contrato.
- [B] Aos Ministros do TCU são conferidos poderes próprios de autoridades judiciais para execução das multas impostas em suas decisões.
- [C] Ao TCU compete julgar as contas prestadas por administradores de órgãos e entidades públicas federais, mas tal competência não alcança entidades privadas beneficiadas por subvenções concedidas pela União.
- [D] Compete ao TCU apreciar, para fins de registro, a legalidade dos atos de concessão de aposentadorias, reformas e pensões, inclusive as melhorias posteriores que alterem o fundamento legal do ato concessório.

QUESTÃO 32

É prática sustentável prevista no Plano Orientador da UFSB para alcançar melhores níveis de desempenho ambiental na gestão universitária:

- [A] Contratação de empresas especializadas em gestão ambiental.
- [B] Criação de um programa ambiental específico para a fase de implantação das unidades de aprendizagem.
- [C] Aproveitamento de áreas antropizadas em posse de outros órgãos públicos.
- [D] Adoção do padrão de desempenho ambiental praticado pela maioria das universidades brasileiras.

QUESTÃO 33

De acordo com o Plano Orientador da UFSB, um dos aspectos norteadores do eixo Político-Pedagógico da instituição é a arquitetura curricular organizada em ciclos de formação. Assinale a alternativa que descreve o sistema de ciclos de formação previsto no plano curricular da UFSB.

- [A] No Primeiro Ciclo, Bacharelados Interdisciplinares e Licenciaturas Interdisciplinares; no Segundo Ciclo, formações profissionais e acadêmicas; no Terceiro Ciclo, doutorados e mestrados profissionais, acoplados a Residências redefinidas como ensino em serviço, em todos os campos de formação.
- [B] No Primeiro Ciclo, formações profissionais e acadêmicas; no Segundo Ciclo, Bacharelados Interdisciplinares e Licenciaturas Interdisciplinares; no Terceiro Ciclo, doutorados e mestrados profissionais, acoplados a Residências redefinidas como ensino em serviço, em todos os campos de formação.
- [C] No Primeiro Ciclo, Bacharelados Unidisciplinares e Licenciaturas Unidisciplinares; no Segundo Ciclo, formações profissionais e acadêmicas; no Terceiro Ciclo, doutorados e mestrados acadêmicos.
- [D] No Primeiro Ciclo, Bacharelados Multidisciplinares e Licenciaturas Multidisciplinares; no Segundo Ciclo, doutorados e mestrados acadêmicos e profissionais; no Terceiro Ciclo, formações profissionais e acadêmicas.

QUESTÃO 34

Entre as sanções impostas pela Lei nº 8.666/1993 para os casos de inadimplemento das obrigações, é prevista suspensão temporária de participação em licitação e impedimento de contratar com a Administração, por prazo não superior a

- [A] 5 (cinco) anos.
- [B] 2 (dois) anos.
- [C] 10 (dez) anos.
- [D] 1 (um) ano.

QUESTÃO 35

Assinale o órgão de caráter consultivo contemplado no modelo de gestão e governança da UFSB, com alto grau de representatividade da comunidade externa, para contribuir com análises e tendências de longo prazo referentes a processos macrossociais e políticos pertinentes ao desenvolvimento regional.

- [A] Conselho Universitário
- [B] Decanato
- [C] Conselho Estratégico Social
- [D] Conselho de Ensino, Pesquisa e Extensão

Informática Básica

QUESTÃO 36

No Microsoft Windows 7, a ferramenta que verifica se há atualizações de software e driver e exibe as atualizações instaladas chama-se

- [A] Windows Update.
- [B] Firewall do Windows.
- [C] Central de Ações.
- [D] Backup e Restauração.

QUESTÃO 37

Sobre o Microsoft Windows 7, em sua configuração padrão de instalação, marque V para as afirmativas verdadeiras e F para as falsas.

- () Para remover/desinstalar um programa do computador, é recomendado excluir diretamente a(s) pasta(s) que armazena(m) seus arquivos, por meio do Windows Explorer.
- () A combinação de teclas Alt e Tab (Alt+Tab) possibilita alternar entre as janelas dos programas/arquivos que estão ativos (abertos) no momento.
- () Por meio do item Sistema, do Painel de Controle, pode-se exibir um resumo de informações importantes sobre o computador, tais como informações básicas sobre o hardware e o nome do computador.
- () O Windows 7 foi desenvolvido para gerenciar computadores equipados apenas com processadores de 64 bits.

Assinale a sequência correta.

- [A] V, F, F, V
- [B] V, F, V, F
- [C] F, V, F, V
- [D] F, V, V, F

QUESTÃO 38

A figura abaixo ilustra a caixa de pesquisa do Google preenchida com alguns termos de pesquisa.



De acordo com a figura, qual o resultado da busca utilizando os termos de pesquisa especificados?

- [A] Todos os endereços da internet de arquivos do tipo pdf que apresentem em seu conteúdo a palavra **filetype**, excluindo-se aqueles que possuem como conteúdo a expressão exata **Universidade Federal do Sul da Bahia** .
- [B] Todos os endereços da internet de arquivos do tipo pdf que apresentem em seu conteúdo a expressão exata **Universidade Federal do Sul da Bahia** .
- [C] Todos os sites da internet que apresentem em seu conteúdo a expressão exata **Universidade Federal do Sul da Bahia**, excluindo-se os endereços de arquivos do tipo pdf.
- [D] Todos os sites da internet que apresentem em seu conteúdo a palavra **filetype**, excluindo-se aqueles que possuem como conteúdo a expressão exata **Universidade Federal do Sul da Bahia** .

QUESTÃO 39

Sobre o navegador Google Chrome, instalado em um computador com o sistema operacional Windows 7, analise as afirmativas.

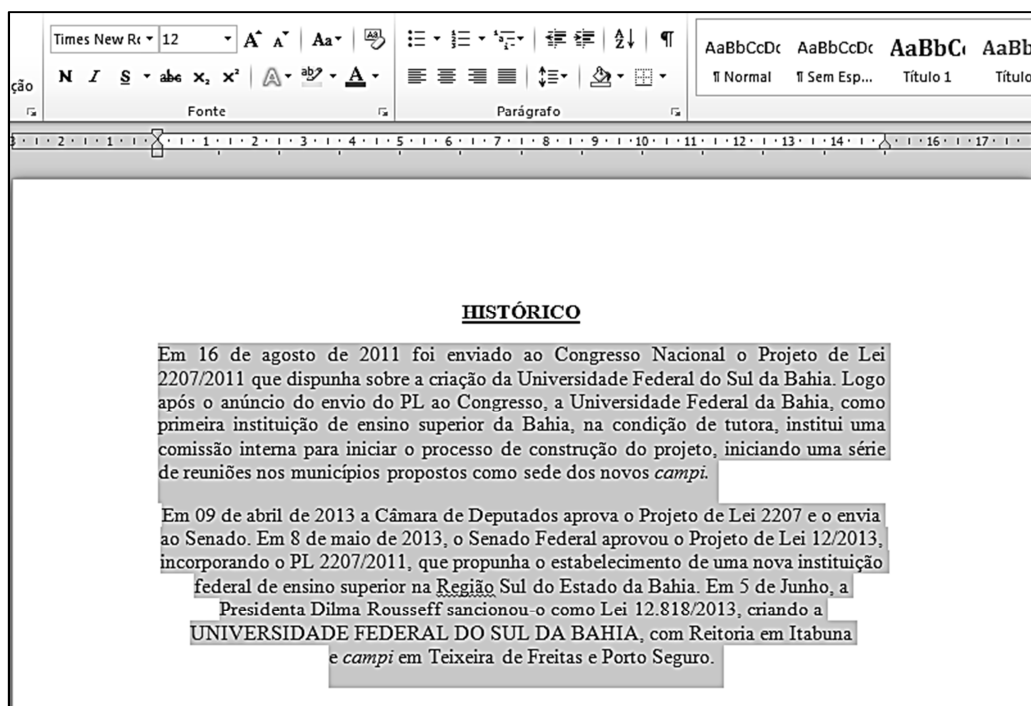
- I - Permite apenas limpar todos os dados de navegação de uma só vez, não permitindo preservar dados, tais como senhas e preenchimento automático dos dados do formulário.
- II - Pode usar um serviço da Web para oferecer automaticamente o preenchimento de termos de pesquisa ou endereços de websites à medida que o usuário digita na barra de endereço.
- III - Permite ao usuário alterar o idioma utilizado e fazer com que o navegador traduza páginas da Web.
- IV - Todos os downloads são salvos na pasta chamada Downloads, não sendo possível alterar o local para outra pasta desejada.

Estão corretas as afirmativas

- [A] I e IV, apenas.
- [B] I, III e IV, apenas.
- [C] I, II, III e IV.
- [D] II e III, apenas.

QUESTÃO 40

A figura abaixo apresenta um texto do Microsoft Word 2010 (idioma português), em sua instalação padrão, com dois parágrafos selecionados.



Sobre a figura, marque V para as afirmativas verdadeiras e F para as falsas.

- () A formatação de fonte utilizada nos dois parágrafos selecionados é Times New Roman, tamanho 12.
- () O alinhamento do primeiro parágrafo selecionado é justificado, já o do segundo parágrafo selecionado é centralizado.
- () A margem esquerda do texto selecionado está configurada para 2 cm.
- () Na formatação do título foi aplicado o efeito itálico.

Assinale a sequência correta.

- [A] V, F, F, V
- [B] F, F, V, V
- [C] V, V, F, F
- [D] F, V, V, F

QUESTÃO 41

Sobre segurança na internet e códigos maliciosos (malware), leia o texto abaixo.

_____ é um programa ou parte de um programa de computador, normalmente malicioso, que se propaga inserindo cópias de si mesmo e se tornando parte de outros programas e arquivos. Já o _____ não se propaga por meio da inclusão de cópias de si mesmo em outros programas ou arquivos, mas sim pela execução direta de suas cópias ou pela exploração automática de vulnerabilidades existentes em programas instalados em computadores.

Os termos que preenchem correta e respectivamente as lacunas são:

- [A] Worm, Vírus.
- [B] Vírus, Worm.
- [C] Spam, Cavalo de Troia.
- [D] Spyware, Spam.

QUESTÃO 42

Phishing é o tipo de fraude na internet, por meio da qual um golpista tenta obter dados pessoais e financeiros de um usuário pela utilização combinada de meios técnicos e engenharia social. Sobre esse assunto, analise as afirmativas.

- I - *Pharming* é um tipo específico de *phishing* que envolve o redirecionamento da navegação do usuário para sites falsos, de forma que, quando ele tenta acessar um site legítimo, o navegador Web é redirecionado para uma página falsa.
- II - Por se tratar de uma fraude pouco comum e, na maioria das vezes, inofensiva, descarta-se a utilização de mecanismos de segurança, como programas antimalware, firewall pessoal e filtros antiphishing.
- III - Sites de comércio eletrônico ou Internet Banking confiáveis, na maioria das vezes, utilizam conexões seguras, por exemplo HTTPS, quando dados sensíveis são solicitados.
- IV - O *phishing* pode ocorrer por meio do envio de mensagens eletrônicas que tentam se passar pela comunicação oficial de uma instituição conhecida, como um banco, uma empresa ou um site popular.

Estão corretas as afirmativas

- [A] I e IV, apenas.
- [B] II e III, apenas.
- [C] II, III e IV, apenas.
- [D] I, III e IV, apenas.

QUESTÃO 43

Considere uma planilha do Microsoft Excel 2010 (idioma português) com as células A1, A2, B1 e B2 preenchidas com os valores 12, 8, 16 e 20, respectivamente. Os valores retornados pelas fórmulas **=MÁXIMO(A1:B1)-MÍNIMO(A2:B2)**, **=MÉDIA(A1:B2)/2** e **=SOMA(A1;B2)** são, respectivamente:

- [A] -4; 14; 56.
- [B] 8; 7; 32.
- [C] 8; 14; 56.
- [D] -4; 7; 32.

QUESTÃO 44

Considere a planilha do LibreOfficeCalc, versão 5.1.4 abaixo.

	A	B	C
1	Nome	Valor	Situação
2	João	63	
3	Maria	58	
4	Joana	70	
5			

Se a célula C2 for preenchida com a fórmula `=SE(B2>59;"AP";SE(B2>50;"PF";"REP"))` e a célula C3 for preenchida com a fórmula `=SE(B3>59;"AP";SE(B3>50;"PF";"REP"))`, os resultados apresentados por essas fórmulas serão, respectivamente:

- [A] PF ; REP
- [B] AP ; PF
- [C] AP ; REP
- [D] REP ; PF

QUESTÃO 45

A tabela a seguir descreve um computador desktop que está sendo comercializado.


Item	Configurações
Processador	Intel® Core i5 (2,7 GHz expansível até 3,3GHz, cache de 6 MB)
Placa de vídeo	Placa de vídeo NVIDIA® GEFORCE® GT 730 DE 2GB, DDR3
Memória RAM	Memória de 8GB, DDR4, 2133 MHz (2x4GB)
Disco Rígido	HD de 1TB (7200 RPM)
Conectividade	<ul style="list-style-type: none">• Placa Wireless 802.11 b/g/n• Placa de Rede (10/100/1000 – RJ45)

A partir dos dados da tabela, assinale a afirmativa correta.

- [A] O computador tem 2 GB do modelo DDR3 de memória principal e, na configuração apresentada, ela trabalha de forma compartilhada com a placa de vídeo.
- [B] O disco rígido de 1 TB é de tecnologia SSD, mas trabalha no padrão de 7200 RPM para aumentar a velocidade de acesso.
- [C] O processador possui memória cache e seu tamanho é 6 MB.
- [D] A placa de rede sem fio apresentada permite conexões com taxa de transferência de até 1000 Mbps.

QUESTÃO 46

A respeito do Mozilla Firefox, versão 47.0.1, pode-se alterar o mecanismo de pesquisa padrão do navegador,

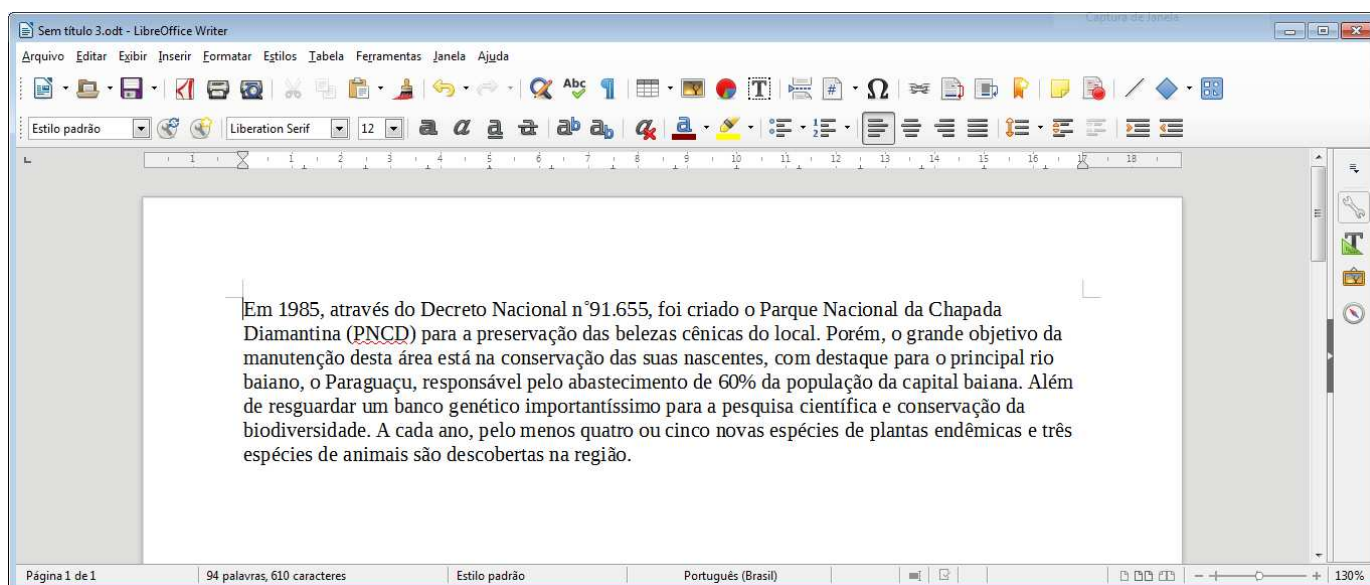
clikando no botão , depois no botão Opções e, na janela que será aberta, deve-se acessar a aba _____ e alterar o mecanismo na lista *drop-down* do **Mecanismo de pesquisa padrão**.

Assinale a alternativa que preenche corretamente a lacuna.

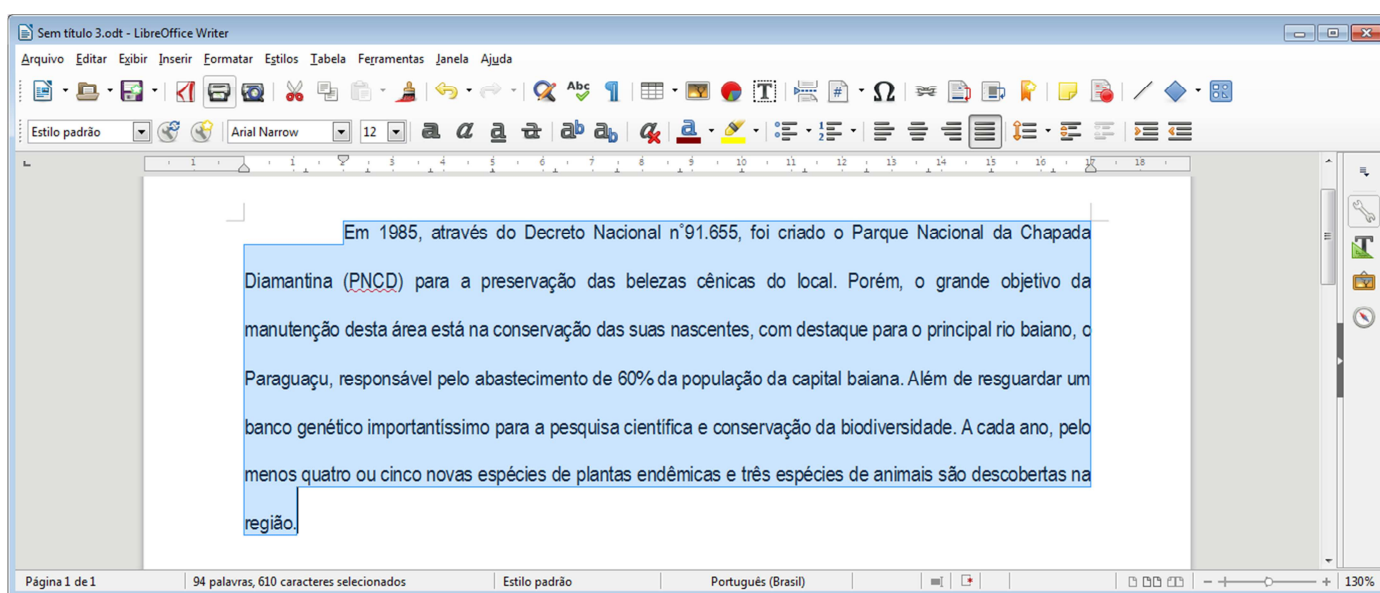
- [A] Pesquisar
- [B] Geral
- [C] Avançado
- [D] Motores de busca

QUESTÃO 47

A respeito do LibreOffice Writer, versão 5.1.4, observe o texto mostrado na figura a seguir.



Após algumas alterações, o texto editado ficou da seguinte forma:



Analise as afirmativas a respeito das modificações realizadas no texto.

- I - O alinhamento do texto manteve-se como justificado, semelhante ao que estava antes das alterações.
- II - A fonte do texto foi modificada para Arial Narrow, tamanho 12, após a formatação do texto.
- III - O recuo **Antes do texto** foi modificado para 2 centímetros após a formatação.
- IV - Aumentou-se o espaçamento entre as linhas do texto.

Está correto o que se afirma em

- [A] I e III, apenas.
- [B] I, II e III, apenas.
- [C] II e IV, apenas.
- [D] II, III e IV, apenas.

QUESTÃO 48

A respeito de memória e meios de armazenamento de dados, a coluna da esquerda apresenta dispositivos de armazenamento de dados e a da direita, tipos de tecnologia de construção de memória. Numere a coluna da direita de acordo com a da esquerda.

- | | |
|-------------------|---|
| 1 - Pen-drive | () Magnética |
| 2 - Disco Blu-Ray | () Flash |
| 3 - Memória RAM | () Transistores e circuitos de <i>refreshing</i> |
| 4 - Disco Rígido | () Óptica |

Assinale a sequência correta.

- [A] 4, 1, 3, 2
- [B] 2, 3, 1, 4
- [C] 3, 4, 2, 1
- [D] 1, 2, 4, 3

QUESTÃO 49

Acerca de políticas de segurança na internet, é correto afirmar que a política de confidencialidade define

- [A] as formas de uso dos recursos computacionais, os direitos e as responsabilidades de quem os utiliza e as situações que são consideradas abusivas.
- [B] regras de elaboração de senhas de acesso aos recursos computacionais, sugerindo tamanho, formação e periodicidade de troca.
- [C] como são tratadas as informações institucionais, ou seja, se elas podem ou não ser repassadas a terceiros.
- [D] as regras sobre cópias de segurança e os tipos de mídia, período de retenção e frequência de execução.

QUESTÃO 50

A respeito de busca na Web, observe a figura a seguir.



No site de buscas Google, ao se utilizar o operador **related**: juntamente com um endereço conhecido, como no exemplo da figura, o resultado da busca permitirá que se

- [A] encontrem resultados apenas do domínio incluído na busca.
- [B] veja como estava a página na última vez que o Google visitou o site.
- [C] vejam tags sociais, nas principais redes sociais da internet.
- [D] encontrem sites semelhantes a um endereço da Web que já se conhece.

Raciocínio Lógico I

QUESTÃO 51

Assinale a alternativa que **NÃO** apresenta uma proposição.

- [A] Jorge Amado nasceu em Itabuna-BA.
- [B] Antônio é produtor de cacau.
- [C] Jorge Amado não foi um grande escritor baiano.
- [D] Queimem os seus livros.

INSTRUÇÃO: Considere as sentenças a seguir como verdadeiras, para responder às questões 52 e 53.

- João Ubaldo Ribeiro foi um grande escritor baiano, nasceu em Itaparica e publicou as obras *Sargento Getúlio* e *O sorriso do lagarto*.
- Porto Seguro é um município litorâneo da Bahia e é um importante ponto turístico do Brasil.
- Teixeira de Freitas é um município do extremo sul da Bahia.
- Itabuna é conhecida como a *Capital do Cacau*.
- Salvador foi a primeira capital do Brasil.
- Gregório de Matos foi um grande poeta baiano e escreveu o soneto *A Jesus Cristo Nosso Senhor*.
- José de Alencar foi um escritor cearense.

QUESTÃO 52

Em relação à disjunção, marque V para as sentenças verdadeiras e F para as falsas.

- () Itabuna não é conhecida como a *Capital do Cacau* ou Porto Seguro não é um município litorâneo da Bahia.
- () Porto Seguro é um importante ponto turístico do Brasil ou Gregório de Matos foi um grande poeta baiano.
- () João Ubaldo Ribeiro publicou a obra *Sargento Getúlio* ou nasceu em Porto Seguro.
- () Ilhéus foi a primeira capital do Brasil ou Teixeira de Freitas não é conhecida como a *Capital do Cacau*.

Assinale a sequência correta.

- [A] F, V, V, V
- [B] F, F, V, V
- [C] V, F, F, F
- [D] V, V, F, F

QUESTÃO 53

Em relação à estrutura bicondicional, analise as sentenças.

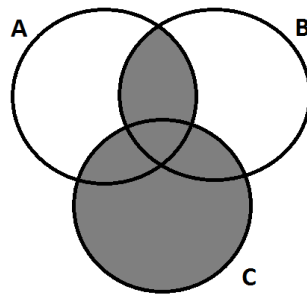
- I - Teixeira de Freitas é um município do extremo sul da Bahia se, e somente se, Itabuna é a capital da Bahia.
- II - João Ubaldo Ribeiro foi um grande escritor baiano se, e somente se, *A Jesus Cristo Nosso Senhor* é um soneto de Gregório de Matos.
- III - João Ubaldo Ribeiro foi um escritor pernambucano se, e somente se, José de Alencar foi um escritor baiano.
- IV - Recife é a capital da Bahia se, e somente se, Pernambuco localiza-se no Nordeste brasileiro.

São verdadeiras as sentenças:

- [A] I e IV.
- [B] I e III.
- [C] II e III.
- [D] II e IV.

QUESTÃO 54

Observe o diagrama.



Em relação à região sombreada no diagrama, assinale a afirmativa **INCORRETA**.

- [A] Podem existir elementos que pertencem a A e a B.
- [B] Podem existir elementos que pertencem somente a A.
- [C] Podem existir elementos que pertencem a dois conjuntos apenas.
- [D] Podem existir elementos que pertencem somente a C.

QUESTÃO 55

Considere verdadeiras as seguintes proposições:

- P1: Antônio é grapiúna.
- P2: Todo grapiúna é baiano.
- P3: Alguns baianos são artistas.

Portanto, pode-se afirmar que

- [A] nenhum grapiúna é artista.
- [B] Antônio pode ser artista.
- [C] todo grapiúna é artista.
- [D] nenhum baiano é grapiúna.

QUESTÃO 56

A sentença “Se Arraial d’Ajuda é um distrito de Porto Seguro, então Trancoso é um distrito de Itabuna” equivale a:

- [A] Se Trancoso não é um distrito de Itabuna, então Arraial d’Ajuda é um distrito de Porto Seguro.
- [B] Arraial d’Ajuda é um distrito de Porto Seguro ou Trancoso não é um distrito de Itabuna.
- [C] Se Arraial d’Ajuda é um distrito de Porto Seguro, então Trancoso não é um distrito de Itabuna.
- [D] Trancoso é um distrito de Itabuna ou Arraial d’Ajuda não é um distrito de Porto Seguro.

QUESTÃO 57

A sentença “Não é verdade que a Universidade Federal do Sul da Bahia foi criada pela Lei nº 12.818, de 5 de junho de 2013, ou não possui três *campi*” equivale a:

- [A] A Universidade Federal do Sul da Bahia não foi criada pela Lei nº 12.818, de 5 de junho de 2013, e não possui três *campi*.
- [B] A Universidade Federal do Sul da Bahia não foi criada pela Lei nº 12.818, de 5 de junho de 2013, e possui três *campi*.
- [C] A Universidade Federal do Sul da Bahia não foi criada pela Lei nº 12.818, de 5 de junho de 2013, ou possui três *campi*.
- [D] A Universidade Federal do Sul da Bahia não foi criada pela Lei nº 12.818, de 5 de junho de 2013, ou não possui três *campi*.

QUESTÃO 58

Assinale a alternativa que apresenta a correta negação da sentença “Todos os municípios do sul da Bahia são atendidos pela Universidade Federal do Sul da Bahia”.

- [A] Nenhum município do sul da Bahia é atendido pela Universidade Federal do Sul da Bahia.
- [B] Existe um município do sul da Bahia que é atendido pela Universidade Federal do Sul da Bahia.
- [C] Ao menos um município do sul da Bahia não é atendido pela Universidade Federal do Sul da Bahia.
- [D] Todos os municípios do sul da Bahia não são atendidos pela Universidade Federal do Sul da Bahia.

QUESTÃO 59

Se José não é sanfoneiro, então Severino nasceu em Ilhéus. Se Severino nasceu em Ilhéus, então Raimundo é zabumbeiro. Ou Raimundo não é zabumbeiro ou o cupuaçu é matéria prima para a produção de chocolate. Ora, o cupuaçu não é matéria prima para a produção de chocolate.

Logo,

- [A] José é sanfoneiro.
- [B] o cupuaçu é matéria prima para a produção de chocolate.
- [C] Raimundo é zabumbeiro.
- [D] Severino nasceu em Ilhéus.

QUESTÃO 60

São dados os seguintes argumentos:

ARGUMENTO 1

P1: Iracema não gosta de acarajé ou Iracema não é soteropolitana.

P2: Iracema é soteropolitana.

C:

ARGUMENTO 2

P1: Se Aurélia não é ilheense, então Aurélia não é produtora de cacau.

P2: Aurélia não é ilheense.

C:

ARGUMENTO 3

P1: Lucíola é bailarina ou Lucíola é turista.

P2: Lucíola não é bailarina.

C:

ARGUMENTO 4

P1: Se Cecília é baiana, então Cecília gosta de vatapá.

P2: Cecília não gosta de vatapá.

C:

Pode-se inferir que

- [A] Lucíola é turista.
- [B] Cecília é baiana.
- [C] Aurélia é produtora de cacau.
- [D] Iracema gosta de acarajé.

Língua Inglesa

QUESTÃO 61



Here Comes a Wave of Change for Cuba

Warming relations with the U.S. has an upbeat but wary island bracing for a rush of visitors from its Cold War adversary.

(Disponível em: <http://www.nationalgeographic.com/magazine/>. Acesso em: 05/11/2016.)

Segundo o texto, as relações entre Estados Unidos e Cuba

- [A] como adversários depende da ilha e de sua postura frente aos visitantes norte-americanos.
- [B] estão esquentando e Cuba aguarda a chegada dos norte-americanos no país.
- [C] remetem ao período da Guerra Fria quando eram parceiros nas mudanças por Cuba.
- [D] tornam a ilha de Cuba cenário promissor para ondas de investimentos estrangeiros.

INSTRUÇÃO: Leia o texto e responda às questões 62 e 63.

Status: In a relationship

Relationship Status

Public

FAMILY MEMBERS

+ Add a family member

-
-
- Single
- In a relationship**
- Engaged
- Married
- In a civil partnership
- In a domestic partnership
- In an open relationship
- It's complicated
- Separated
- Divorced
- Widowed

Sahar Zand (Iran): Increasing numbers of young Iranian couples are now living together before marriage, something which would have been unthinkable a generation ago and is still illegal. Dating apps like Tinder are starting to take off in Tehran and it's suddenly become fashionable for some middle-class girls in the capital to have lots of different boyfriends and to flag up their regularly changing relationship status on social media.

(Disponível em: <http://www.bbc.com/news/magazine-36130971>. Acesso em: 05/11/2016.)

QUESTÃO 62

Segundo o depoimento da iraniana Sahar Zand,

- [A] o status “em relacionamento” no aplicativo Tinder é o de maior prestígio entre os namorados iranianos.
- [B] as mídias sociais estão influenciando os relacionamentos entre jovens casais no Irã.
- [C] em Tehran é ilegal que meninas de classe média postem seu status de relacionamento no Tinder.
- [D] casais morarem juntos antes do casamento é um costume antigo de várias gerações.

QUESTÃO 63

Quanto ao sentido de sufixos em palavras do texto, assinale a afirmativa **INCORRETA**.

- [A] Em *numbers* e *couples*, *-s* indica quantidade.
- [B] Em *partnership* e *relationship*, *-ship* indica estado.
- [C] Em *suddenly* e *regularly*, *-ly* indica modo.
- [D] Em *Increasing* e *Dating*, *-ing* indica relação.

QUESTÃO 64

Hey, you
Out there in the cold
Getting lonely, getting old
Can you feel me? (...)

(Disponível em: <https://www.lettras.mus.br/pink-floyd/64540/>. Acesso em: 02/11/2016.)

Na letra da canção *Hey You*, da banda Pink Floyd, o interlocutor (*you*) é

- [A] o ouvinte da canção no mundo lá fora.
- [B] alguém que precisa de ajuda.
- [C] representado pelas pessoas muito jovens.
- [D] visto como um andarilho.

INSTRUÇÃO: Leia o texto e responda às questões 65 e 66.

Brazilian Gestures That Non-Brazilians Won't Be Able To Guess

[...] We Brazilians are famous for being expressive — not just vocally, but gesturally (after all, what’s music without some dancing to go with it?). So where does this talent for talking with our hands come from? Perhaps we inherited it from our Italian great-grandmothers (there have been several waves of Italian immigration to Brazil over the last century-and-a-half); or maybe it comes from our even older African and Portuguese roots. One thing is certain: We Brazilians have invented many gestures that are unique to our country. [...]

(Disponível em: <https://www.babbel.com/en/magazine/>. Acesso em: 06/11/2016.)

QUESTÃO 65

O assunto principal do texto **NÃO** envolve questões relacionadas à

- [A] ancestralidade brasileira.
- [B] comunicação no Brasil.
- [C] deficiência auditiva no Brasil.
- [D] cultura brasileira.

QUESTÃO 66

Sobre os recursos linguísticos empregados no texto, marque V para as afirmativas verdadeiras e F para as falsas.

- () *Perhaps* introduz uma suposição.
- () *or maybe* expressa dúvida.
- () *not just* nega possibilidades.
- () *So* introduz ideia de conclusão.

Assinale a sequência correta.

- [A] V, F, V, F
- [B] F, V, F, V
- [C] F, F, V, F
- [D] V, V, F, V

QUESTÃO 67



"WHAT DO YOU MEAN, THE FOOD IS TERRIFIC?"

(Disponível em: https://www.cartoonstock.com/directory/v/visiting_prison.asp. Acesso em 15/11/2016.)

Segundo a linguagem verbal e não verbal do texto, pode-se inferir que

- [A] a mulher argumenta contra o cardápio servido no presídio.
- [B] o homem sente-se culpado por gostar da comida do presídio.
- [C] o homem deu a entender que a comida do presídio é ótima.
- [D] a mulher está decepcionada com a comida terrível servida no presídio.

INSTRUÇÃO: Leia o texto a seguir e responda às questões 68 e 69.



Ghana currently spends over \$1 billion on food imports, making it highly susceptible to price hikes. One way to prevent this, is to invest in local entrepreneurs like Janet Gyimah-Kessie. She has a large-scale cassava processing operation which not only increases local food production, but also creates employment and a market for other local cassava producers.

*cassava: mandioca, aipim, macaxeira

(Disponível em: <https://www.ifad.org/what/overview>. Acesso em: 10/11/2016.)

QUESTÃO 68

Sobre o texto, é correto afirmar:

- [A] Em Ghana, a produção local de alimentos é recurso usado para diminuir a importação de alimentos e gerar empregos.
- [B] As altas de preço em Ghana estão relacionadas à importação de alimentos e ao incremento da produção local.
- [C] Grandes exportadores de Ghana buscam investir na produção de alimentos e incentivar o mercado de alimentos feitos de mandioca.
- [D] A produção local de alimentos torna suscetível a baixa de preços de produtos importados em Ghana e economia 1 bilhão de dólares.

QUESTÃO 69

No texto, o pronome relativo *which* refere-se a

- [A] *entrepreneurs like Janet Gyimah-Kessie.*
- [B] *a large-scale processing operation.*
- [C] *local food production.*
- [D] *local cassava producers.*

QUESTÃO 70



(Disponível em: <http://idyeah.com/blog/wp-content/uploads/2012/06/asl.jpg>. Acesso em: 15/11/2016.)

A figura acima é de um site

- [A] para ser usado por surdos interessados em matemática.
- [B] em inglês para ensinar língua americana de sinais.
- [C] em língua de sinais para promover cultura surda e língua de sinais.
- [D] de busca de tradução de palavras em inglês para língua de sinais.

Conhecimentos Específicos

QUESTÃO 71

Sobre a aferição de dobras cutâneas em adultos, assinale a afirmativa correta.

- [A] Deve ser feita do lado esquerdo do corpo, nas regiões do tríceps, bíceps, coxa e panturrilha, para estimar a gordura corporal total.
- [B] É utilizada para estimar a gordura corporal total por meio de valores de gordura subcutânea em vários pontos do corpo.
- [C] É utilizada para estimar a gordura corporal total por meio de valores de gordura intramuscular em um ou mais pontos do corpo.
- [D] É utilizada para estimar a gordura corporal subcutânea e abdominal por meio da medida de circunferências em um ou mais pontos do corpo.

QUESTÃO 72

Sobre a Avaliação Global Subjetiva (AGS), analise as afirmativas.

- I - É um método simples, de baixo custo, facilmente aplicável e pode ser realizado rapidamente à beira do leito.
- II - Associa informações sobre alteração na ingestão de nutrientes, digestão e absorção, efeitos na composição corporal e exame físico detalhado.
- III - Avalia questões referentes a mudanças no peso habitual no último ano e nos últimos dois meses e alterações nos hábitos alimentares.
- IV - Baseia-se unicamente em critérios qualitativos, dificultando a detecção de pequenas alterações do estado nutricional.

Estão corretas as afirmativas

- [A] I, II e III, apenas.
- [B] I e IV, apenas.
- [C] II e IV, apenas.
- [D] I, III e IV, apenas.

QUESTÃO 73

Sobre os indicadores bioquímicos do estado nutricional, assinale a afirmativa **INCORRETA**.

- [A] A deficiência de ferro pode ser diagnosticada pelo nível plasmático de ferro e transferrina.
- [B] Os níveis plasmáticos de colesterol representam de forma objetiva o seguimento de um plano alimentar específico.
- [C] O nível plasmático de albumina encontra-se aumentado em resposta à doença inflamatória.
- [D] O baixo nível plasmático de betacaroteno pode ser indicativo de baixa ingestão de vitamina A.

QUESTÃO 74

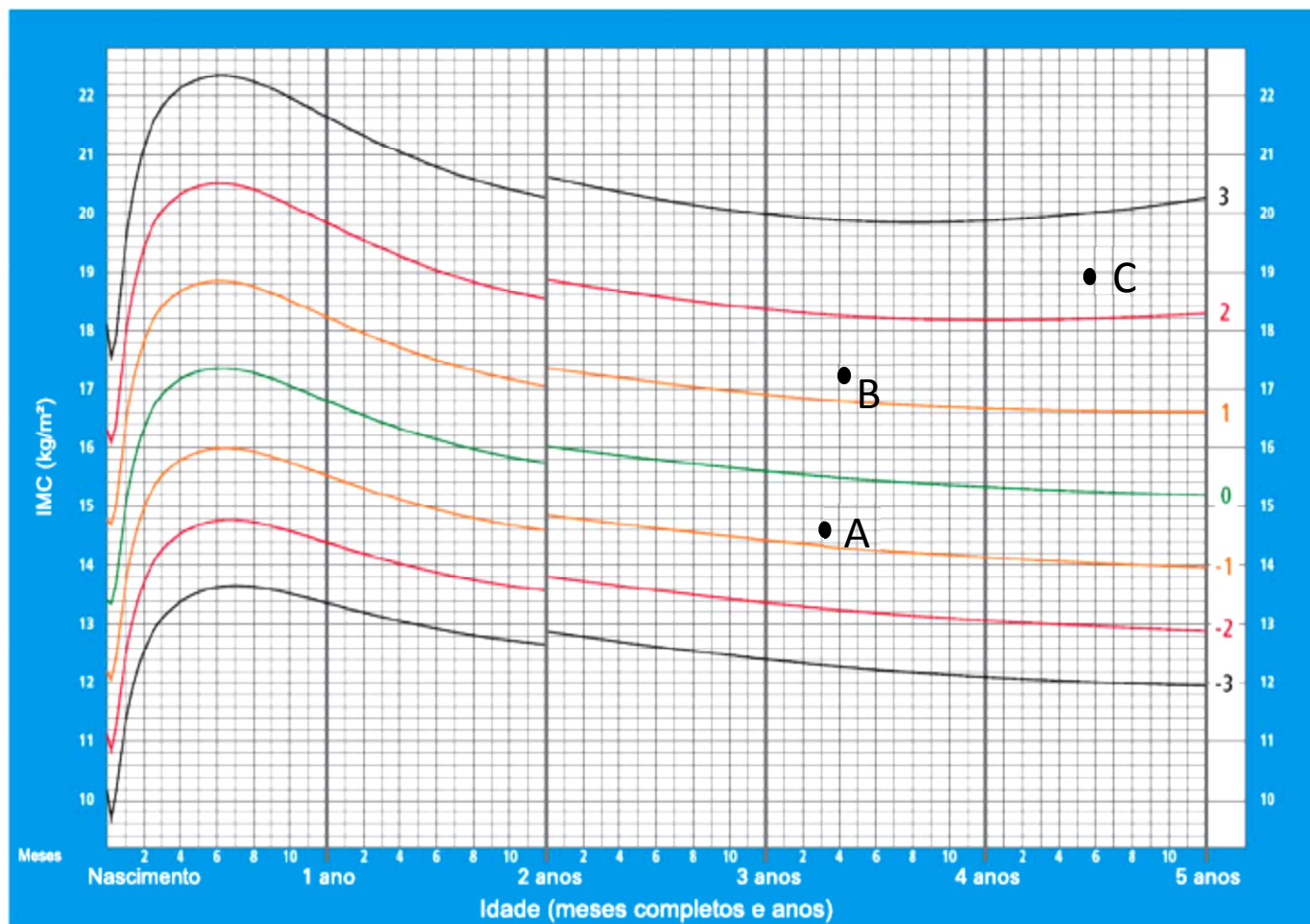
Sobre o transporte reverso do colesterol, assinale a afirmativa correta.

- [A] Consiste na remoção, pela HDL, do excesso de colesterol livre dos tecidos periféricos e lipoproteínas, e subsequente depósito no fígado para secreção.
- [B] Consiste na remoção, pela LDL, do excesso de colesterol livre dos tecidos periféricos e lipoproteínas, e subsequente depósito no fígado para secreção.
- [C] Consiste no transporte do colesterol, pela LDL, do fígado para os tecidos que dele necessitam.
- [D] Consiste no transporte do colesterol, pela HDL, do fígado para os tecidos que dele necessitam.

QUESTÃO 75

A figura a seguir apresenta o posicionamento de três crianças menores de cinco anos (A, B e C) na curva de crescimento proposta pela WHO (2006) para avaliação do estado nutricional, segundo Índice de Massa Corporal (IMC) para a idade.

Curva de crescimento para meninos do nascimento aos cinco anos, segundo IMC para a idade.



(Fonte: WHO Child Growth Standards, 2006.)

De acordo com os dados apresentados na figura e os critérios adotados pelo Ministério da Saúde/SISVAN (2011), o estado nutricional das crianças A, B e C pode ser classificado, respectivamente, como

- [A] Magreza, eutrofia e sobrepeso.
- [B] Eutrofia, sobrepeso e obesidade.
- [C] Magreza, risco de sobrepeso e obesidade.
- [D] Eutrofia, risco de sobrepeso e sobrepeso.

QUESTÃO 76

Sobre as necessidades e recomendações nutricionais para o pré-escolar, assinale a afirmativa correta.

- [A] Os nutrientes mais críticos são os lipídeos e a vitamina B6, porque as quantidades recomendadas são elevadas em relação à capacidade gástrica da criança e seu tamanho corporal.
- [B] A necessidade nutricional de ferro é facilmente alcançada nessa fase, de forma que o pré-escolar não constitui um grupo de risco para ocorrência de anemia ferropriva.
- [C] A recomendação diária de proteínas é facilmente alcançada, pois os alimentos fontes (carnes, leite e derivados) apresentam alta concentração desse nutriente.
- [D] A necessidade nutricional de minerais deve ser garantida por meio de suplementação oral, mesmo com uma alimentação balanceada.

QUESTÃO 77

Sobre o gasto energético (GE), marque V para as afirmativas verdadeiras e F para as falsas.

- () O estudo do padrão de GE na população pauta-se, principalmente, na determinação das necessidades energéticas e na definição dos padrões de atividade física compatíveis com a saúde.
- () A Taxa Metabólica Basal representa cerca de 10% do GE Total (GET) diário em indivíduos muito ativos fisicamente e cerca de 20% em indivíduos sedentários.
- () A termogênese dos alimentos totaliza, para uma dieta mista, aproximadamente 10% do GET diário.
- () O método recomendado para medir o GET em estudos epidemiológicos é o da água duplamente marcada.

Assinale a sequência correta.

[A] F, F, V, V

[B] V, F, V, F

[C] V, V, F, F

[D] F, V, F, V

QUESTÃO 78

As ingestões dietéticas de referência (DRI) para a população em geral fornecem

- [A] valores de nutrientes por faixas etárias para indivíduos do sexo masculino e do feminino, gestantes e nutrízes.
- [B] um único valor por nutriente independente da idade, sexo e ciclo de vida.
- [C] valores de nutrientes iguais à necessidade fisiológica de todos os indivíduos da população em geral.
- [D] um único valor de nutriente, considerando indivíduo saudável de 70 kg, para ambos os sexos.

QUESTÃO 79

Sobre a nutrição na gestação e lactação, analise as afirmativas.

- I - As necessidades energéticas para a nutriz são afetadas pela duração da amamentação.
- II - O consumo de bebidas alcoólicas, café e chá deve ser evitado durante a lactação.
- III - A gestante não necessita consumir energia extra no primeiro trimestre de gestação, de acordo com as recomendações do IOM (2005).
- IV - O ganho ponderal recomendado para todo o período de gestação (cerca de 40 semanas) é 12 kg para todas as gestantes.

Estão corretas as afirmativas

[A] I e III, apenas.

[B] II e IV, apenas.

[C] II, III e IV, apenas.

[D] I, II e III, apenas.

QUESTÃO 80

Sobre a intolerância à lactose, assinale a afirmativa **INCORRETA**.

- [A] O defeito intrínseco da enzima lactase pode ser uma de suas causas.
- [B] A hidrólise da lactose nos monossacarídeos galactose e glicose está prejudicada nesse caso.
- [C] Os sintomas são diarreia aquosa explosiva, distensão abdominal, flatulência e vômitos dentre outros.
- [D] O tratamento é baseado em uma dieta com exclusão completa dos alimentos que possuem lactose.

QUESTÃO 81

Leia o trecho.

A _____ consiste na administração de nutrientes no sistema gastrointestinal por meio de sonda ou cateter. No _____, o frasco/bolsa é preenchido pelo fabricante com uma fórmula líquida estéril pronta para uso. No _____, a pessoa que administra o alimento precisa abrir o frasco/bolsa e despejar o alimento em seu interior. A _____ consiste na administração de nutrientes via intravenosa. Deve ser adotada para aqueles cuja função _____ é insuficiente para restaurar ou manter um estado nutricional ótimo.

Assinale a alternativa que preenche correta e respectivamente as lacunas.

- [A] Nutrição parenteral, sistema enteral aberto, sistema enteral fechado, nutrição enteral, renal.
- [B] Nutrição enteral, sistema enteral simples, sistema enteral complexo, nutrição parenteral, renal.
- [C] Nutrição enteral, sistema enteral fechado, sistema enteral aberto, nutrição parenteral, gastrointestinal.
- [D] Nutrição parenteral, sistema enteral simples, sistema enteral complexo, nutrição enteral, gastrointestinal.

QUESTÃO 82

Sobre a dietoterapia na insuficiência renal crônica, analise as afirmativas.

- I - A intervenção dietética visa, entre outros objetivos, controlar a sintomatologia urêmica e os distúrbios hidroeletrolíticos.
- II - A dieta hiperproteica contribui para redução da pressão intraglomerular e do consumo de oxigênio em consequência da menor excreção de amônia e fosfatos.
- III - A dieta, em geral, deve ser restrita em sódio.
- IV - A prescrição de líquidos para pacientes em hemodiálise baseia-se no volume urinário residual de 24 horas, acrescido de 500 mL.

Estão corretas as afirmativas

- [A] I, III e IV, apenas.
- [B] II, III e IV, apenas.
- [C] I e IV, apenas.
- [D] II e III, apenas.

QUESTÃO 83

NÃO é orientação nutricional para a hipertensão arterial:

- [A] Redução do consumo de bebidas alcoólicas.
- [B] Restrição do consumo de alimentos enlatados, embutidos, conservas e caldos de carne.
- [C] Redução da ingestão de alimentos ricos em potássio.
- [D] Restrição do consumo de alimentos fritos e gordurosos.

QUESTÃO 84

Paciente O. L. B., do gênero masculino, 56 anos, com 89,0 kg e 1,63m de altura, ao exame bioquímico apresentou colesterol total de 311 mg/dL, HDL de 33 mg/dL, LDL de 230 mg/dL e triglicerídeos de 185 mg/dL. Qual o diagnóstico e a conduta nutricional adequados para esse paciente?

- [A] Obesidade grau I, hiperlipidemia isolada e HDL normal; dieta hipocalórica e hipolipídica.
- [B] Obesidade grau I, hiperlipidemia mista e HDL baixo; dieta hipocalórica e hipolipídica.
- [C] Obesidade grau II, hipercolesterolemia isolada e HDL baixo; dieta normocalórica e normolipídica.
- [D] Obesidade grau II, hiperlipidemia mista e HDL normal; dieta hipocalórica e normolipídica.

QUESTÃO 85

Sobre a estrutura física e edificação de uma Unidade de Alimentação e Nutrição (UAN), assinale a afirmativa correta.

- [A] O projeto das instalações deve prever o fluxo contínuo da produção, de forma que o alimento processado não seja manipulado próximo ao não processado, evitando o risco de contaminação cruzada.
- [B] As áreas internas e externas devem ser livres de lixo e focos de salubridade, como objetos em desuso ou estranhos, animais ou outras condições para proliferação de pragas.
- [C] O conforto térmico e a renovação do ar devem ser garantidos com ventilação natural, por meio de janelas basculantes, distribuídas por todos os setores da UAN.
- [D] A direção do fluxo de ar na área de preparação e distribuição de alimentos deve ser da área limpa para a suja, com o uso de ventiladores e aparelhos de ar condicionado devidamente dimensionados para a manutenção da temperatura ideal.

QUESTÃO 86

Sobre os setores envolvidos diretamente na manipulação de alimentos, analise as afirmativas.

- I - O espaço definido para cada setor é variável e depende diretamente da composição do cardápio, tipo de alimento adquirido e sistema de produção empregado.
- II - As áreas de recepção, armazenamento, pré-preparo, preparo ou cocção e distribuição são consideradas setores de manipulação de alimentos.
- III - Os setores podem ser definidos por barreira física ou não, dependendo da planta estabelecida no projeto.
- IV - Na inexistência de barreira física (barreira ou divisória), é importante definir rotinas e horários para prevenir contaminação cruzada.

Estão corretas as afirmativas

- [A] I, II, III e IV.
- [B] II, III e IV, apenas.
- [C] I, II e III, apenas.
- [D] I e IV, apenas.

QUESTÃO 87

Em relação ao planejamento de refeições em uma Unidade de Alimentação e Nutrição (UAN), marque V para as afirmativas verdadeiras e F para as falsas.

- () O cardápio ou *menu* é importante ferramenta de comunicação direta com o cliente e determina a organização e a funcionalidade da área de produção de refeições.
- () A combinação das preparações de acordo com o número e o tipo de equipamentos disponíveis evita atrasos ou alterações do cardápio.
- () A distribuição descentralizada permite maior controle de temperatura, tempo de exposição e reposição das preparações.
- () A combinação de sabor, cor, textura e forma de apresentação caracteriza os aspectos sensoriais a serem considerados no planejamento de cardápios.

Assinale a sequência correta.

- [A] F, F, V, F
- [B] V, V, F, F
- [C] F, F, V, V
- [D] V, V, F, V

QUESTÃO 88

Sobre as funções administrativas em uma UAN, marque V para as afirmativas verdadeiras e F para as falsas.

- () O planejamento é um instrumento de ordenação, de eficiência e produtividade, utilizado contra a rotina, a improvisação e a estagnação.
- () A organização pode ocorrer em três níveis de abrangência: estratégica, tática e operacional.
- () A direção é uma função administrativa que se fundamenta nos conceitos de autoridade e poder.
- () O controle é constituído pelo estabelecimento de padrões ou critérios, observação de desempenho, comparação entre o estabelecido e o observado e ação corretiva.

Assinale a sequência correta.

- [A] V, F, F, V
- [B] F, V, F, F
- [C] V, F, V, V
- [D] F, F, V, F

QUESTÃO 89

Sobre as estruturas organizacionais em uma UAN, marque V para as afirmativas verdadeiras e F para as falsas.

- () O funcionograma é a representação gráfica das relações formais que ocorrem dentro da UAN, pelas linhas de responsabilidades e autoridades.
- () A autoridade funcional resulta da necessidade de divisão do trabalho e desenvolvimento das especializações.
- () Autoridade de linha é o poder direto do chefe imediato em relação aos subordinados.
- () A autoridade funcional tem como desvantagens a ocorrência de quebra de disciplina e a duplicidade do comando.

Assinale a sequência correta.

- [A] V, F, F, V
- [B] F, V, V, V
- [C] F, V, F, F
- [D] V, F, V, F

QUESTÃO 90

Sobre o planejamento de refeições em UAN, analise as afirmativas.

- I - O receituário padrão ou ficha técnica de preparação garante o fornecimento das necessidades nutricionais e energéticas dos clientes.
- II - O cardápio é uma ferramenta que inicia o processo produtivo e serve como instrumento gerencial para a administração da unidade.
- III - A partir da elaboração do cardápio, podem ser dimensionados os recursos humanos e materiais, o controle de custos e o planejamento de compras.
- IV - A ficha técnica de preparação permite padronização da qualidade e planejamento das operações e custos da unidade.

Estão corretas as afirmativas

- [A] I, II e IV.
- [B] I, III e IV.
- [C] I, II e III.
- [D] II, III e IV.

QUESTÃO 91

NÃO são fatores de risco para o diabetes gestacional:

- [A] Estatura superior a 1,80 m e ganho excessivo de peso na gravidez anterior.
- [B] Sobrepeso, obesidade e ganho excessivo de peso na gravidez atual.
- [C] Idade materna avançada e ganho excessivo de peso na gravidez atual.
- [D] Crescimento fetal excessivo, polidrâmnio, hipertensão ou pré-eclâmpsia na gravidez atual.

QUESTÃO 92

Sobre a elaboração do Plano Alimentar, assinale a afirmativa **INCORRETA**.

- [A] Plano alimentar é a quantidade e a qualidade de alimentos que o indivíduo deve receber nas 24 horas do dia para manter seu organismo em equilíbrio.
- [B] Somente a lei da adequação é universal e deve ser aplicada sem nenhuma exceção para indivíduos sadios ou enfermos.
- [C] Variedade, moderação, adequação e proporcionalidade são leis fundamentais da alimentação que devem ser consideradas no planejamento alimentar.
- [D] Atender às necessidades energéticas, hábitos alimentares, condições socioeconômicas do indivíduo, dentre outras, são condições imprescindíveis para a elaboração de um plano alimentar equilibrado.

QUESTÃO 93

A centralização do processo de compras em uma UAN que mantém diversas unidades de atendimento **NÃO** apresenta como vantagem:

- [A] Maior poder de negociação em função do volume adquirido.
- [B] A reposição diária e imediata dos produtos para as unidades solicitantes.
- [C] Melhor controle dos procedimentos envolvidos no processo de compras.
- [D] A redução dos custos com compradores especializados.

QUESTÃO 94

A coluna da esquerda apresenta estudos nacionais na área de nutrição e saúde, e a da direita, características e objetivos relativos a cada um. Numere a coluna da direita de acordo com a da esquerda.

- | | | |
|-------------|-----|---|
| 1 - ENDEF | () | Estudo realizado nos domicílios, durante doze meses, com amostra representativa da população brasileira, visando traçar um perfil das condições de vida da população a partir da análise de seus orçamentos domésticos. |
| 2 - POF | () | Considerado o primeiro estudo domiciliar de abrangência nacional, cujos principais objetivos foram conhecer a distribuição do orçamento familiar, suas prioridades, a parcela de renda destinada à alimentação e analisar a situação nutricional da população brasileira. |
| 3 - VIGITEL | () | Fornecer informações para o Sistema de Vigilância de Fatores de Risco de Doenças Crônicas não Transmissíveis (DCNT), do Ministério da Saúde, e objetiva investigar fatores comportamentais de risco e de proteção à saúde de adolescentes. |
| 4 - PeNSE | () | Compõe o Sistema de Vigilância de Fatores de Risco de DCNT, do Ministério da Saúde, e objetiva monitorar a frequência e a distribuição de fatores de risco e proteção para DCNT em todas as capitais brasileiras e Distrito Federal na população adulta. |

Assinale a sequência correta.

- [A] 4, 3, 2, 1
- [B] 3, 1, 4, 2
- [C] 3, 4, 2, 1
- [D] 2, 1, 4, 3

QUESTÃO 95

A coluna da esquerda apresenta quantidades de referência em estoques de gêneros alimentícios e materiais e a da direita, definição e aplicação de cada uma. Numere a coluna da direita de acordo com a da esquerda.

- | | | |
|---------------------|-----|---|
| 1 - Estoque mínimo | () | Tem como objetivo evitar o investimento financeiro em produtos que não serão utilizados por um longo período. |
| 2 - Estoque máximo | () | Indica a necessidade de compra, considerando prazos de entrega e de consumo. |
| 3 - Ponto de pedido | () | Denominado estoque de segurança, proteção ou reserva. |
| | () | Quantidade calculada para o período de ressuprimento. |

Assinale a sequência correta.

- [A] 2, 1, 3, 1
[B] 3, 3, 1, 2
[C] 3, 1, 2, 2
[D] 2, 3, 1, 1

QUESTÃO 96

A curva ABC é um método diretamente relacionado aos aspectos financeiros da movimentação de estoques. Sobre a Curva ABC, analise as afirmativas.

- I - A classificação A representa aproximadamente 70% a 80% dos produtos armazenados, que correspondem a 10% do investimento financeiro.
- II - A classificação B representa 25% dos produtos armazenados, que correspondem de 20% a 30% do investimento financeiro.
- III - A classificação C representa de 5% a 10% dos produtos armazenados, que correspondem a 65% do investimento financeiro.
- IV - A curva ABC permite avaliar e controlar o consumo dos itens conforme a sua influência direta nos custos.

Estão corretas as afirmativas

- [A] II e IV, apenas.
[B] III e IV, apenas.
[C] I, II e III, apenas.
[D] I, II, III e IV.

QUESTÃO 97

Sobre higiene e segurança alimentar na cadeia produtora e distribuidora em uma Unidade de Alimentação e Nutrição (UAN), marque V para as afirmativas verdadeiras e F para as falsas.

- () A utilização de práticas adequadas na conservação e no preparo de alimentos visa destruir, reduzir ou inibir o desenvolvimento de microrganismos prejudiciais ao organismo humano.
- () Uma alimentação segura evita a ocorrência de doenças transmitidas por alimentos, reduz perdas econômicas por alteração, deterioração e contaminação dos alimentos.
- () Segurança alimentar e nutricional é o ramo da Nutrição que estuda e aplica a utilização de práticas adequadas na conservação e no preparo de alimentos.
- () O controle higiênico e sanitário na produção e distribuição de alimentos é requisito básico para garantir uma alimentação segura ao consumidor.

Assinale a sequência correta.

- [A] V, F, F, V
[B] V, V, F, V
[C] F, F, V, F
[D] F, V, V, F

QUESTÃO 98

Sobre os custos em Unidades de Alimentação e Nutrição (UAN), assinale a afirmativa **INCORRETA**.

- [A] Custo direto ou controlável é aquele relacionado especificamente com a produção do bem ou serviço.
- [B] Custo indireto é aquele calculado por rateio ou divisão para ser incorporado aos custos do produto.
- [C] Em relação ao aspecto contábil da UAN, os custos podem ser classificados em diretos, indiretos, fixos e variáveis.
- [D] Custo fixo é aquele que independe de maior ou menor produção de bens ou serviços.

QUESTÃO 99

Sobre contaminação dos alimentos, assinale a afirmativa correta.

- [A] A contaminação microbiológica é a de menor ocorrência devido ao controle higiênico e sanitário.
- [B] Aditivos químicos e drogas veterinárias são considerados contaminantes pela legislação vigente.
- [C] Na contaminação física, não é necessária a presença de um vetor ou veículo de contaminação.
- [D] A contaminação química é caracterizada pela presença de substâncias tóxicas nos alimentos.

QUESTÃO 100

A coluna da esquerda apresenta princípios do sistema Análise de Perigos e Pontos Críticos de Controle (APPCC), determinados pelo *Codex Alimentarius*, e a da direita, a descrição de cada um. Numere a coluna da direita de acordo com a da esquerda.

- | | | |
|--|-----|--|
| 1 - Análise dos perigos e caracterização das medidas de controle | () | Etapa em que, dependendo da frequência com que ocorrem as não conformidades, pode haver necessidade de modificações do processo. |
| 2 - Identificação dos pontos críticos de controle | () | Etapa da observação e mensuração, que tem como objetivo avaliar se um determinado perigo está sob controle. |
| 3 - Monitorização | () | Etapa que tem por objetivo identificar perigos significativos nas matérias primas, nos ingredientes e nos processos. |
| 4 - Ação Corretiva | () | Etapa do processo na qual pode haver um controle para eliminar ou reduzir o perigo. |

Assinale a sequência correta.

- [A] 2, 4, 3, 1
- [B] 3, 2, 1, 4
- [C] 4, 3, 1, 2
- [D] 4, 3, 2, 1

QUESTÃO 101

Fatores intrínsecos e extrínsecos estão intimamente ligados à capacidade de sobrevivência ou de multiplicação dos microrganismos presentes nos alimentos. Sobre os fatores que influenciam a multiplicação dos microrganismos, assinale a afirmativa **INCORRETA**.

- [A] O potencial de hidrogênio (pH), a atividade da água (Aa), o potencial de oxirredução (Eh), dentre outros, são fatores intrínsecos.
- [B] A atividade de água (Aa) de 0,60 é o limite mínimo para a multiplicação de qualquer microrganismo.
- [C] O potencial de hidrogênio (pH) é uma escala que varia de zero a sete, usada para determinar o grau de acidez de diferentes substâncias.
- [D] O potencial de oxirredução (Eh), ou potencial redox, é definido como a capacidade de troca de elétrons entre compostos químicos.

QUESTÃO 102

A coluna da esquerda apresenta a classificação de microrganismos de acordo com a utilização de oxigênio e a da direita, características e exemplos de cada um. Numere a coluna da direita de acordo com a da esquerda.

- | | | |
|--------------------|-----|--|
| 1 - Aeróbios | () | Multiplicam-se em Eh positivo e negativo, como as leveduras fermentativas, enterobactérias e <i>Bacillus</i> . |
| 2 - Anaeróbios | () | Multiplicam-se melhor em Eh baixo, como as bactérias lácticas. |
| 3 - Facultativos | () | Requerem Eh positivo, como os bolores e bactérias como <i>Pseudomonas</i> e <i>Acinetobacter</i> . |
| 4 - Microaerófilos | () | Requerem Eh negativo, como as bactérias do gênero <i>Clostridium</i> . |

Assinale a sequência correta.

- [A] 2, 3, 4, 1
- [B] 3, 4, 1, 2
- [C] 1, 2, 3, 4
- [D] 4, 1, 2, 3

QUESTÃO 103

As inovações tecnológicas têm influenciado cada vez mais na redução da área física, permitindo alta produtividade em pequenos espaços e exigindo a definição do tipo de produção a ser adotado. Sobre o tipo de produção em uma UAN, assinale a afirmativa **INCORRETA**.

- [A] A produção tradicional é aquela em que os alimentos são pré-preparados e preparados com um mínimo de antecedência ao consumo de acordo com o cardápio pré-estabelecido, por uma equipe que realiza todo o processo de manipulação.
- [B] A produção tradicional com alimentos minimamente processados leva à redução das etapas do processo, menor custo de manutenção do espaço, redução do volume de resíduos orgânicos gerados e menor custo da mão de obra.
- [C] O sistema *Cook chill* envolve investimentos em tecnologia, como o uso de forno combinado e resfriador de alimentos, o que garante a manutenção dos aspectos sensoriais da preparação e a segurança microbiológica pela redução controlada da temperatura.
- [D] O sistema *Sous vide* é o processo de cozer alimento e resfriá-lo para armazenamento frio com rigoroso método de controle de temperatura, permitindo a eliminação de formas vegetativas de bactérias e aumento na segurança do consumo.

QUESTÃO 104

Sobre as inovações tecnológicas para a produção em alimentação coletiva, marque V para as afirmativas verdadeiras e F para as falsas.

- () As inovações tecnológicas em termos de equipamentos referem-se, principalmente, à transmissão de calor e resfriamento de alimentos.
- () A cozinha de montagem e a alimentação diferenciada são inovações em termos de processos produtivos.
- () Cadeia quente, cadeia fria positiva ou refrigerada e cadeia fria negativa ou supergelada são modalidades da cozinha de montagem.
- () As inovações tecnológicas em termos de processos produtivos apresentam grande precisão de tempos e temperaturas envolvidos.

Assinale a sequência correta.

- [A] V, F, F, V
- [B] V, V, F, F
- [C] F, V, V, F
- [D] F, F, V, V

QUESTÃO 105

Sobre o Programa Nacional de Alimentação Escolar (PNAE), analise as afirmativas.

- I - O PNAE consiste na descrição contínua e na predição de tendência das condições de alimentação e nutrição da população e os seus fatores determinantes.
- II - O PNAE tem como proposta garantir alimentação escolar a todos os alunos da educação básica matriculados em escolas públicas, filantrópicas e entidades comunitárias.
- III - A alimentação escolar é o programa de suplementação alimentar mais antigo no Brasil, criado oficialmente em 1955, por meio do Decreto nº 37.106, que instituiu a Campanha de Merenda Escolar (CME).
- IV - Os recursos financeiros destinados ao PNAE são exclusivos para a aquisição de alimentos oriundos da agricultura familiar, infraestrutura e mão de obra.

Estão corretas as afirmativas

- [A] II e III, apenas.
- [B] I, II e III, apenas.
- [C] III e IV, apenas.
- [D] I, II e IV, apenas.

QUESTÃO 106

Sobre o comportamento alimentar, marque V para as afirmativas verdadeiras e F para as falsas.

- () O componente cognitivo engloba o conhecimento popular e o conhecimento científico sobre alimentos e nutrição.
- () Os processos comuns de aprendizagem do comportamento alimentar, como o condicionamento e a imitação, dependem do conhecimento científico do indivíduo sobre alimentação.
- () Os apoios estruturais, como acesso e disponibilidade do alimento, não interferem no comportamento alimentar dos indivíduos.
- () O componente afetivo corresponde ao que sentimos sobre os alimentos, expresso em nossas atitudes e práticas alimentares.

Assinale a sequência correta.

- [A] F, F, V, V
- [B] V, V, V, F
- [C] V, F, F, V
- [D] F, V, F, V

QUESTÃO 107

Sobre o *empowerment* nos programas de educação alimentar e nutricional, analise as afirmativas.

- I - Objetiva apoiar os indivíduos a fazer suas próprias análises para tomarem as melhores decisões.
- II - Enfatiza a responsabilidade do cliente na causa do problema e a adquirir competência para resolvê-lo.
- III - Apresenta três etapas que determinam o comportamento alimentar: a cognitiva, a afetiva e a situacional.
- IV - É uma estratégia educacional na qual o educando estuda por meio de material previamente elaborado.

Está correto o que se afirma em

- [A] I e II, apenas.
- [B] II, apenas.
- [C] I, III e IV, apenas.
- [D] III e IV, apenas.

QUESTÃO 108

Sobre a Política Nacional de Alimentação e Nutrição (PNAN), assinale a afirmativa **INCORRETA**.

- [A] É um instrumento oficial, constituído pelas primeiras diretrizes e hábitos alimentares saudáveis para a população brasileira.
- [B] Estabelece um conjunto de políticas públicas que propõe respeitar, proteger, promover e prover os direitos humanos à saúde e à alimentação.
- [C] Tem como objetivo a melhoria das condições de alimentação, nutrição e saúde da população brasileira.
- [D] Tem por pressupostos os direitos à saúde e à alimentação, e é orientada pelos princípios doutrinários e organizativos do SUS.

QUESTÃO 109

A coluna da esquerda apresenta os estágios de mudança do comportamento alimentar segundo o modelo transteórico e a da direita, a definição de cada um. Numere a coluna da direita de acordo com a da esquerda.

- | | | |
|----------------------|-----|--|
| 1 - Pré-Contemplação | () | Modificação no comportamento alimentar nos últimos seis meses. |
| 2 - Contemplação | () | Planejamento de mudança no comportamento alimentar para um futuro próximo. |
| 3 - Preparação | () | Inexistência de intenção em mudar o comportamento alimentar. |
| 4 - Ação | () | Reconhecimento da necessidade de mudança do comportamento alimentar, mas sem planos. |
| 5 - Manutenção | () | Modificação do comportamento alimentar há mais de seis meses. |

Assinale a sequência correta.

- [A] 3, 4, 5, 1, 2
- [B] 2, 1, 4, 3, 5
- [C] 4, 3, 2, 5, 1
- [D] 4, 3, 1, 2, 5

QUESTÃO 110

Sobre os princípios para as ações de educação alimentar e nutricional estabelecidos no Marco de Referência de Educação Alimentar e Nutricional (EAN) para Políticas Públicas, marque V para afirmativas verdadeiras e F para as falsas.

- () O princípio da abordagem do sistema alimentar na sua integralidade prevê que as ações de EAN abordem o acesso à terra, à água e aos meios de produção; as formas de processamento, de abastecimento, de comercialização e de distribuição, a escolha e consumo dos alimentos; e a geração e a destinação de resíduos.
- () O princípio da promoção do autocuidado e da autonomia prevê o favorecimento da adesão das pessoas às mudanças necessárias ao seu modo de vida, empoderando-as em relação à sua saúde.
- () O princípio da valorização da culinária enquanto prática emancipatória prevê que as abordagens educativas e pedagógicas adotadas em EAN privilegiem os processos ativos e incorporem conhecimentos e práticas populares contextualizados.
- () O princípio da intersetorialidade prevê que as estratégias de EAN devam ser desenvolvidas de maneira coordenada e com abordagens que se complementem de forma harmônica e sistêmica.

Assinale a sequência correta.

- [A] F, V, V, F
- [B] V, V, F, F
- [C] V, V, F, V
- [D] F, F, V, V

Concurso Público-2017

Técnica Administrativa em Educação

Nível Superior

Cargo: NUTRICIONISTA

Nome do Candidato: _____

FOLHA DE ANOTAÇÃO DO CANDIDATO

01	02	03	04	05	06	07	08	09	10	11	12	13	14	15	16	17	18	19	20

21	22	23	24	25	26	27	28	29	30	31	32	33	34	35

36	37	38	39	40	41	42	43	44	45	46	47	48	49	50

51	52	53	54	55	56	57	58	59	60	61	62	63	64	65	66	67	68	69	70

71	72	73	74	75	76	77	78	79	80	81	82	83	84	85	86	87	88	89	90

91	92	93	94	95	96	97	98	99	100	101	102	103	104	105	106	107	108	109	110

Esta folha é destinada para uso EXCLUSIVO do candidato.