



PREFEITURA MUNICIPAL DE VÁRZEA GRANDE
SECRETARIA MUNICIPAL DE ADMINISTRAÇÃO

EDITAL Nº 02/2017 - PMVG, DE 27 DE NOVEMBRO DE 2017

CONCURSO PÚBLICO



Cargo de Nível Médio: Agente de Saúde Municipal

Perfil: Agente Administrativo

Cargo de Nível Médio: Agente de Apoio dos Serviços do SUS

*Perfis: Agente de Serviços Gerais, Agente de Segurança e
Manutenção, Maqueiro e Motorista*

Caderno de Prova

NOME DO CANDIDATO

NÚMERO DE INSCRIÇÃO

ASSINATURA DO CANDIDATO



INSTRUÇÕES

LEIA COM ATENÇÃO

1. Este Caderno de Prova, com páginas numeradas de 1 a 17, é constituído de **40 (quarenta)** questões objetivas, cada uma com quatro alternativas, assim distribuídas:

01 a 10 – Língua Portuguesa

11 a 20 – Matemática

21 a 25 – Informática Básica

26 a 30 – Legislação Básica

31 a 40 – Conhecimentos Gerais

2. Caso o Caderno de Prova esteja incompleto ou tenha qualquer defeito de impressão, solicite ao fiscal que o substitua.

3. **Sobre a Marcação do Cartão de Respostas**

As respostas deverão ser transcritas com caneta esferográfica de tinta azul ou preta não porosa, fabricada em material transparente, para o Cartão de Respostas, que será o único documento válido para correção. O Cartão de Respostas não será substituído por erro ou dano do candidato.

- 3.1. Para cada questão existe apenas uma alternativa que a responde acertadamente. Para a marcação da alternativa escolhida no **CARTÃO DE RESPOSTAS**, pinte completamente o campo correspondente.

*Exemplo: Suponha que para determinada questão a alternativa **C** seja a escolhida.*

N.º da Questão
<input type="radio"/> A
<input type="radio"/> B
<input checked="" type="radio"/> C
<input type="radio"/> D

- 3.2. Será invalidada a questão em que houver mais de uma marcação, marcação rasurada ou emendada, ou não houver marcação.

- 3.3. Não rasure nem amasse o **CARTÃO DE RESPOSTAS**.

4. A duração da prova é de **quatro** horas, já incluído o tempo destinado ao preenchimento do **CARTÃO DE RESPOSTAS** e a coleta de impressão digital de candidatos.
5. Todos os espaços em branco, neste caderno, podem ser utilizados para rascunho.
6. Será permitida a saída de candidatos da sala de prova **somente** após decorridas **duas horas e trinta minutos** do início da prova. Nesse caso, o candidato deverá entregar, **obrigatoriamente**, ao fiscal o Caderno de Prova e o Cartão de Respostas.
7. O candidato que insistir em sair da sala de prova antes de transcorridas **duas horas e trinta minutos** do início da prova deverá assinar **Termo de Ocorrência** declarando **desistência** do Concurso.
8. Será permitida a saída de candidatos levando o Caderno de Prova **somente na última meia hora de prova**.
9. Na página 17 deste Caderno de Prova, encontra-se a **Folha de Anotação do Candidato**, a qual poderá ser utilizada para a transcrição das respostas das questões objetivas. Essa folha poderá ser levada pelo candidato para posterior conferência com o gabarito somente após decorridas **duas horas e trinta minutos** do início da prova.
10. Terminada a prova, o candidato deverá, **obrigatoriamente**, entregar ao fiscal o **CARTÃO DE RESPOSTAS**.

INSTRUÇÃO: Leia o texto e responda às questões de 01 a 07.

SANGUE DE BARATA

1 Passei por um casal discutindo num ponto de ônibus. A moça estava uma arara, mas aludiu a outro bicho: “Não tenho sangue de barata!” gritava ela pra justificar seu destempero. Passei reto, mas encasquei: barata teria sangue mesmo? Pelo que pesquisei, tem uma gosma chamada hemolinfa que não apresenta pigmentos como a hemoglobina, e por isso é transparente e não conduz sensibilidade até o coração, como acontece com os seres humanos. Daí o surgimento da expressão popular “ter sangue de barata”, que significa que a pessoa não reage quando é atingida, fica apática. Não ter sangue de barata é uma virtude. Seres humanos são reagentes por natureza, lutam pelos seus desejos, brigam por suas ideias, inflamam-se. Porém, fiz um rápido flashback dos momentos em que eu deveria ter feito a casa cair, soltado os cachorros e demais reações de quem tem sangue de verdade correndo nas veias, e concluí que tenho uma infeliz familiaridade com o tal inseto.

10 Minha sensibilidade alcança o coração, lógico, mas não provoca grandes curtos-circuitos. [...]. Nasci pouco antes de completar os nove meses de gestação e deve ter sido essa pressa em existir que me fez chegar aqui incompleta. Não deu tempo de incluir a raiva no meu DNA. Amo, sofro, choro, me frustro, me encanto, me assusto, me emociono e cometo seis dos sete pecados capitais, menos a ira, que faltou no meu código genético.

15 Tenho, pois, sangue de barata.

 Por um lado, é útil. [...]. Não chego a ser o sonho do Procon: reivindico meus direitos legais, mas quando o caso é de discordância ou falta de sintonia, simplesmente sumo, desapareço. Prefiro tratar da minha vida a vencer uma discussão. Pode não ser nobre, mas só eu sei o que essa inclinação para a paz me devolve em benefícios, e não são poucos. Quase tudo que conquistei na vida (desconte o exagero) foi por ter sangue de barata. O silêncio em meio a discussões estéreis, a confiança de que as pessoas cansarão se eu não der corda para suas maluquices, a compaixão por quem não tem condição de expandir-se, a calma diante de provocações, a tolerância com alguns desaforos e a paciência para aguardar a hora exata de cair fora. Falando nisso, o que o Brasil mais tem feito é testar o meu sangue de barata. Não creio que mudarei de tática, mas a continuar o avanço do nosso atraso, a barata pode voar.

(Martha Medeiros. Adaptado de: <https://gauchazh.clicrbs.com.br>. Acesso em: 30 de outubro de 2017.)

Questão 01

Em relação ao texto, analise as afirmativas.

- I - Há um narrador em 1.^a pessoa do singular.
- II - Os eventos temporais retratados no texto referem-se ao passado e presente do narrador.
- III - O evento inicial, casal discutindo na rua, serve como um gatilho para a reflexão proposta pelo narrador.
- IV - O narrador reconhece os fatos da história e pode ser classificado como narrador-observador.

Estão corretas as afirmativas

- [A] II, III e IV, apenas.
- [B] I, II e III, apenas.
- [C] I e IV, apenas.
- [D] II e III, apenas.

Questão 02

O texto “Sangue de barata” trata de assunto comum do cotidiano sobre o qual a autora, de forma leve e bem-humorada, tece reflexões, sendo um exemplo do gênero

- [A] Classificados.
- [B] Carta.
- [C] Notícia.
- [D] Crônica.

Questão 03

A expressão popular *ter sangue de barata*, no texto, está associada à

- [A] falta de reação, apatia, virtude.
- [B] raiva, desespero, violência.
- [C] vingança, brigas, discussão.
- [D] insensibilidade, insegurança, solidão.

Questão 04

A autora afirma que tem sangue de barata e aponta como causa para esse fator

- [A] ter nascido antes dos nove meses de gestação, não tendo tempo suficiente de inserir o sentimento de raiva em seu DNA.
- [B] dedicar mais tempo a cuidar da sua vida do que a vencer discussões.
- [C] exigir seus direitos no Procon quando algo não está certo.
- [D] as conquistas que fez na vida, ao não se envolver com problemas alheios.

Questão 05

Apresenta a mesma regra de flexão de número que *curtos-circuitos* o substantivo

- [A] palavras-chaves.
- [B] quintas-feiras.
- [C] más-línguas.
- [D] peixes-espadas.

Questão 06

Assinale a alternativa em que os dois termos destacados **NÃO** apresentam o mesmo tempo verbal.

- [A] A moça estava uma arara (linha 1) – barata teria sangue mesmo (linha 3)
- [B] Passei por um casal discutindo (linha 1) – Pelo que pesquisei (linha 3)
- [C] Seres humanos são reagentes por natureza, lutam por seus desejos (linhas 6 e 7) – brigam por suas ideias (linha 7)
- [D] A confiança de que as pessoas cansarão (linha 21) – Não creio que mudarei de tática (linha 24)

Questão 07

O pronome relativo também exerce a função de elemento coesivo, pois retoma o sentido de algo já dito no texto. Assinale o trecho que **NÃO** apresenta pronome relativo.

- [A] *Porém, fiz um rápido flashback dos momentos em que eu deveria ter feito a casa cair*
- [B] *demais reações de quem tem sangue de verdade correndo nas veias*
- [C] *tem uma gosma chamada hemolinfa que não apresenta pigmentos*
- [D] *Daí o surgimento da expressão popular “ter sangue de barata”, que significa que a pessoa não reage*

INSTRUÇÃO: Leia o texto e responda às questões de 08 a 10.

Brasileiro diz que juventude acaba aos 37 e velhice começa aos 64

A velhice de hoje não é mais o que era antigamente. Demógrafos deixaram de contar só os anos desde o nascimento, antropólogos veem uma reinvenção da velhice, valores que valiam antes hoje não têm mais valor, e pergunte aos brasileiros com que idade ficamos velhos: as respostas vão de 14 a 130 anos.

Na média, segundo a população, a velhice começa aos 64. Com tamanha amplitude de números, convém também olhar o que aparece no meio (mediana), que é 60. A cada 10 pessoas, porém, 1 delas não sabe dizer quando é que envelhecemos. (...)

O próprio significado da faixa etária precisa ser ajustado a cada época, defende uma corrente de demógrafos voltada à formulação de políticas públicas.

Nos cálculos de Sergei Scherbov, diretor de demografia do IIASA (International Institute for Applied Systems Analysis) e um dos principais especialistas mundiais em medida de populações, os 60 podem ser os novos 50. Em vez de contar o número de anos já vividos, Scherbov olha para quantos anos de vida ainda falta viver.

Para um australiano de 62 nos anos 2000, seriam mais 19 anos e meio. Em 1950, para ter a mesma sobrevida, teria que ser oito anos mais novo. "Tratar do envelhecimento com base apenas na idade cronológica é incompleto e inadequado", diz Scherbov.

O que os demógrafos estão fazendo é dar novo significado ao fato de que, na maioria dos países, há cada vez mais gente vivendo cada vez mais. No Brasil do ano 2000, por exemplo, havia 9,7 milhões de brasileiros com 65 anos ou mais, e eles eram menos de 6% da população. O número dobrou para 17,6 milhões em 2017, e a fatia superou 8%.

Em 2030, 30 milhões de brasileiros (ou 13% do total) estarão acima dos 65 anos, na estimativa do IBGE. Sinal de que o país está cada vez mais velho? Para quem conta anos já vividos, sim. Mas, para quem olha a vida que resta, a juventude e a maturidade se alongam, e haverá mais gente ainda ativa.

(Adaptado de: <http://www1.folha.uol.com.br/cotidiano>. Acesso em: 27 de novembro de 2017.)

Questão 08

De acordo com o texto, analise as afirmativas.

- I - As definições de idoso e faixa etária estão sendo reconfiguradas, visto que a população tem vivido mais, a cada época.
- II - De acordo com os dados numéricos, os brasileiros estão ficando cada vez mais jovens, por isso é considerado idoso aquele que passa dos 60 anos.
- III - A mudança de paradigma de se contar os anos vividos para se contar os anos que ainda restam alonga a maturidade e cria um novo mercado ativo.
- IV - A velhice de hoje não é mais o que era antigamente, porque atualmente os australianos tornam-se idosos a partir dos 62 anos.

Estão corretas as afirmativas

- [A] I e II.
- [B] III e IV.
- [C] I e III.
- [D] II e IV.

Questão 09

Assinale a alternativa que apresenta, respectivamente, os nomes dos processos de formação presentes nos termos: *demógrafos*, *sobrevida*, *reinventar*, *envelhecer*.

- [A] Sufixação, composição, prefixação, prefixação.
- [B] Prefixação, parassíntese, sufixação, parassíntese.
- [C] Parassíntese, composição, sufixação, prefixação.
- [D] Sufixação, prefixação, prefixação, parassíntese.

Questão 10

Os conectivos funcionam como termos que ligam palavras, orações, partes do texto, estabelecendo diversos sentidos. Assinale a alternativa em que o valor semântico **NÃO** corresponde ao que o conectivo representa:

- [A] [...] segundo a população, a velhice começa aos 64 → causa
- [B] Demógrafos deixaram de contar só os anos desde o nascimento → tempo
- [C] [...] 30 milhões de brasileiros (ou 13% do total) → alternância
- [D] A cada 10 pessoas, porém, 1 delas não sabe dizer quando é que envelhecemos → adversidade

MATEMÁTICA

Questão 11

Em um estacionamento para carros e motos, o valor a ser pago não depende do tempo que o veículo fica estacionado. Na portaria de entrada do estacionamento, existe um sensor que registra quantos pneus cruzaram essa portaria com base no toque desses com o equipamento que está instalado no chão. Os preços do estacionamento para carro e moto são, respectivamente, R\$ 10,00 e R\$ 7,00. Em certo dia, o estacionamento faturou R\$ 650,00 e o sensor registrou a entrada de 220 pneus. Com base nessas informações, a quantidade de veículos pagantes (carros + motos) nesse dia foi:

- [A] 70
- [B] 60
- [C] 80
- [D] 83

Questão 12

Alessandra, Marizete e Cléia são amigas e gostam de fazer corridas numa pista circular de um parque. Marizete, a mais lenta, demora, em média, 3 minutos para concluir uma volta na pista, enquanto Alessandra e Cléia demoram 5 minutos e 6 minutos, respectivamente, para concluir a mesma volta. As amigas combinaram que iriam iniciar a corrida juntas no ponto de partida da pista e também que só parariam quando as três se encontrassem novamente nesse ponto de partida. A duração da corrida das amigas será:

- [A] 15 minutos.
- [B] 30 minutos.
- [C] 18 minutos.
- [D] 14 minutos.

Espaço para rascunho

Questão 13

No cruzamento da rua A com a rua B, existe um semáforo no qual a razão entre os tempos em que cada rua está com sinal verde é igual à razão entre os fluxos dessas ruas (fluxo: carros por minuto). Sabendo que os fluxos médios nas ruas A e B são, respectivamente, 26 e 39 carros por minuto e que a rua A fica com sinal verde por 24 segundos, a quantidade de segundos em que a rua B fica com sinal verde é:

- [A] 30
- [B] 38
- [C] 45
- [D] 36

Questão 14

A numeração dos calçados no Brasil obedece à seguinte função:

$$T(p) = \frac{5}{4}p + 7,$$

em que p é o comprimento do pé em centímetros e T o número do calçado adequado para este pé. Com base nessas informações, o número do calçado para um pé de 24 centímetros de comprimento é:

- [A] 37
- [B] 24
- [C] 36
- [D] 39

Questão 15

Joaquim fará uma viagem dentro de Mato Grosso, com seu carro flex (bicombustível, álcool e gasolina). Ele sairá de Várzea Grande, passará por Jangada, Rosário Oeste, chegará em Nobres e em seguida retornará à Várzea Grande, percorrendo um total de 240 km. O carro de Joaquim percorre 10 km com um litro de gasolina e 6 km com um litro de álcool. O preço médio do litro de gasolina é R\$ 4,00 e o de álcool R\$ 2,50. O valor mínimo para o gasto com combustível nessa viagem de Joaquim é:

- [A] R\$ 100,00
- [B] R\$ 98,00
- [C] R\$ 120,00
- [D] R\$ 96,00

Questão 16

Três estudantes de uma mesma turma não compareceram a uma prova. Na aula seguinte, eles pediram ao professor para que lhes aplicasse a prova perdida, sob a justificativa de um pneu furado no carro em que eles vinham no dia da prova. A verdade é que eles perderam a hora devido aos excessos da noite anterior, o que lhes proporcionou considerável ressaca e o professor estava muito desconfiado disso. Mas, mesmo assim, o professor decidiu aplicar a prova, porém, para tentar desmascarar os estudantes, ele colocou como primeira a seguinte questão:

Questão 1: No dia que vocês perderam a prova, qual pneu do carro furou?

Levando em conta que os estudantes não combinaram esse detalhe, que não havia a possibilidade de eles colarem uns dos outros e que cada um dos estudantes deu uma resposta apontando para um dos quatro pneus, a chance deles não serem desmascarados pelo professor é:

- [A] 12,5%
- [B] 6,25%
- [C] 1,25%
- [D] 1,5625%

Questão 17

Uma rede de supermercados faz descontos baseado na quantidade que o cliente adquirir:

- Levando 2 unidades de um mesmo produto, 10% de desconto;
- Levando 3 ou mais unidades de um mesmo produto, 15% de desconto.

Há ainda o “cartão da loja” que dá um desconto de 5% sobre o valor final da compra, caso o cliente o adquira. Confira os preços de alguns produtos:

Creme dental URUBU: R\$ 3,00

Creme para cabelo MILAGRIL: R\$ 5,00

Se um cliente com cartão da loja adquire dois cremes dentais URUBU e três cremes MILAGRIL, a expressão que representa o valor a pagar por essa compra é:

- [A] $0,95 \times (0,9 \times 3,00 + 0,85 \times 5,00)$
- [B] $0,05 \times (2 \times 3,00 + 3 \times 5,00)$
- [C] $0,95 \times (0,9 \times 2 \times 3,00 + 0,85 \times 3 \times 5,00)$
- [D] $0,05 \times (0,9 \times 2 \times 3,00 + 0,85 \times 3 \times 5,00)$

Questão 18

O senhor José produz e vende massa para pastel. A massa, depois de amassada e cilindrada, é enrolada formando um rolo com a forma de um cilindro circular reto de 20 cm de comprimento e diâmetro suficiente para que fique com 1 kg ou com 2 kg, únicos formatos que ele comercializa. Se o diâmetro do rolo de 1 kg é 16 cm, o diâmetro do rolo de massa com 2 kg é:

- [A] 32 cm.
- [B] $16\sqrt{2}$ cm.
- [C] $16\sqrt{\pi}$ cm.
- [D] 16π cm.

Questão 19

A população de certa cidade é dada pela função:

$$P(t) = 10.000(0,95)^t,$$

em que t é o tempo em anos e P é a quantidade de pessoas na cidade, passados t anos. Com base nessas informações, pode-se afirmar que a população dessa cidade, com o passar dos anos, está

- [A] crescendo.
- [B] estagnada, constante.
- [C] decrescendo.
- [D] oscilando em fases crescente e decrescente.

Questão 20

Dito Vegê é um vendedor ambulante, que vende queijo caseiro e leite em garrafa pet de 2 litros. A garrafa de leite pesa cerca de 2 kg e o queijo pesa em média 1,5 kg. Dito Vegê não anda muito bem da coluna e o médico recomendou que ele não carregasse peso maior que 30 kg em sua empreitada. Considerando x e y , respectivamente, as quantidades (em unidades) de queijo e garrafas de leite que ele carregará, a inequação que representa a restrição do peso que Dito Vegê pode levar é:

- [A] $x + y \leq 30$
- [B] $1,5 + 2 \leq 30$
- [C] $1,5x + 2y \geq 30$
- [D] $1,5x + 2y \leq 30$

Questão 21

Sobre o Microsoft Windows 7, marque V para as afirmativas verdadeiras e F para as falsas.

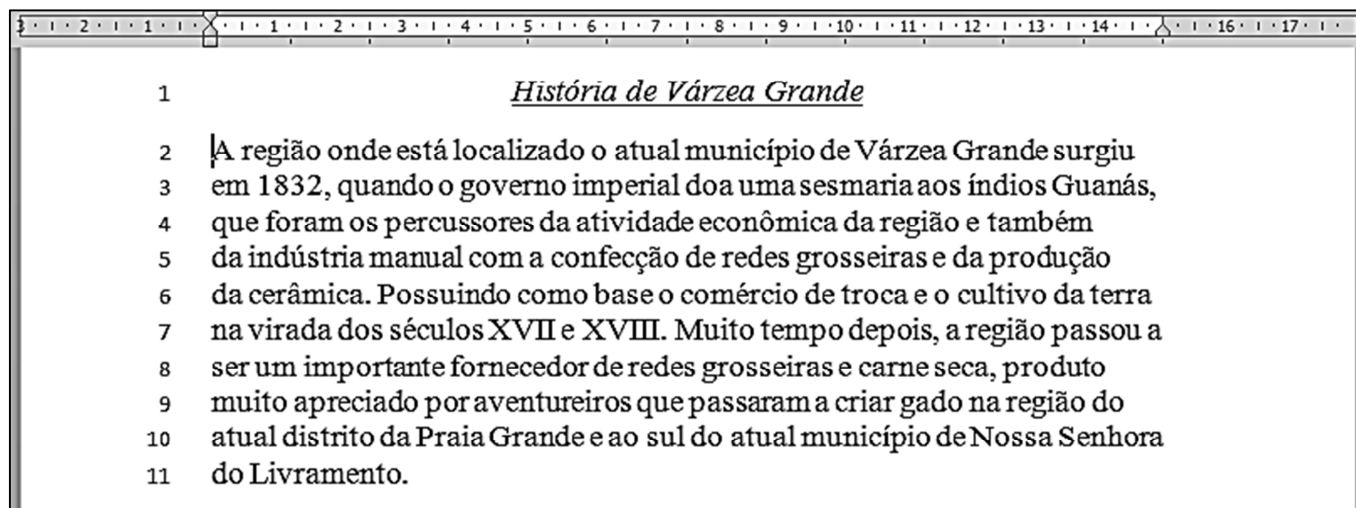
- () Um arquivo no formato pdf pode ser visualizado/editado no acessório/programa Paint.
- () Agenda/2017/2.docx é um nome de arquivo válido para o Microsoft Windows 7.
- () Um arquivo com 2.100.000 bytes ocupa aproximadamente 2 MB de espaço em disco.
- () Arquivos com a extensão txt podem ser visualizados/editados no acessório/programa Bloco de Notas.

Assinale a sequência correta.

- [A] F, F, V, V
- [B] V, V, F, F
- [C] V, F, F, V
- [D] F, V, V, F

Questão 22

A figura abaixo apresenta um texto do Microsoft Word 2010 com as linhas numeradas de 1 a 11.



Sobre a figura, analise as afirmativas.

- I - O título do texto (linha 1) está com a fonte em estilo itálico e sublinhado.
- II - O alinhamento do texto (linhas 2 a 11) é justificado.
- III - A margem esquerda do texto possui 2 cm.
- IV - O alinhamento do título do texto (linha 1) é centralizado.

Estão corretas as afirmativas

- [A] I, III e IV, apenas.
- [B] II e III, apenas.
- [C] I e IV, apenas.
- [D] I, II, III e IV.

Questão 23

Assinale a alternativa que **NÃO** apresenta um tipo de código malicioso.

- [A] Virus
- [B] Firewall
- [C] Botnet
- [D] Worm

Questão 24

Observe a planilha eletrônica do LibreOffice Calc, versão 5.3.7 a seguir, na qual o usuário inseriu informações nas células A1 a A5 e uma fórmula na célula B1, que está selecionada.

	A	B	C
1	1	4	
2	2		
3	3		
4	4		
5	5		
6			

Nessa planilha, o usuário selecionou a célula B1 e posicionou o cursor no canto inferior direito dessa célula para que se transforme em um sinal de adição (+). Após isso, com o botão principal do mouse pressionado, arrastou a alça de preenchimento até a célula B4, tal qual mostrado na figura.

Pode-se afirmar que, após o usuário soltar o botão direito do mouse, as células B2, B3 e B4 serão preenchidas, respectivamente, com os valores:

- [A] 4, 4 e 4.
- [B] 7, 10 e 13.
- [C] 6, 8 e 10.
- [D] 5, 6 e 7.

Questão 25

A respeito do navegador Google Chrome Versão 61.0.0031163.100, a coluna da esquerda apresenta teclas de atalho disponíveis no navegador e a da direita, as funções ativadas ao se utilizar as teclas. Numere a coluna da direita de acordo com a da esquerda.

- | | | |
|--------------|-----|-------------|
| 1 - Ctrl + T | () | Buscar |
| 2 - Ctrl + J | () | Histórico |
| 3 - Ctrl + N | () | Downloads |
| 4 - Ctrl + F | () | Nova guia |
| 5 - Ctrl + H | () | Nova janela |

Assinale a sequência correta.

- [A] 5, 2, 3, 4, 1
- [B] 4, 5, 2, 1, 3
- [C] 1, 2, 5, 3, 4
- [D] 2, 3, 1, 5, 4

LEGISLAÇÃO BÁSICA

Questão 26

Nos termos da Lei n.º 1.164/1991, que dispõe sobre o Estatuto dos Servidores da Administração Direta, das Autarquias e das Fundações Públicas do Município de Várzea Grande-MT, o servidor estável poderá retornar ao seu cargo, em virtude de inabilitação em estágio probatório relativo a outro cargo, por meio de

- [A] reintegração.
- [B] reversão.
- [C] recondução.
- [D] readaptação.

Questão 27

De acordo com a Lei n.º 1.164/1991, que dispõe sobre o Estatuto dos Servidores da Administração Direta, das Autarquias e das Fundações Públicas do Município de Várzea Grande-MT, no tocante à nomeação e promoção, assinale a afirmativa correta.

- [A] A nomeação far-se-á em caráter efetivo, como ato de provimento originário de cargo de carreira, ou, em comissão, como ato de provimento de cargo de confiança.
- [B] A designação para função de direção, chefia, assessoramento e assistência poderá recair tanto em servidor de carreira quanto em servidor ocupante de cargo exclusivamente comissionado.
- [C] O provimento dos cargos far-se-á mediante ato do chefe da repartição ou do dirigente da autarquia ou fundação pública municipal.
- [D] Os requisitos para o ingresso e desenvolvimento do servidor na carreira, mediante promoção, não dependem de lei para sua fixação, mas apenas de decreto do(a) Prefeito(a) Municipal.

Questão 28

Em conformidade com as normas da Lei n.º 1.164/1991 sobre disponibilidade e aproveitamento, analise as assertivas.

- I - O retorno à atividade de servidor em disponibilidade far-se-á mediante aproveitamento obrigatório em cargo de atribuições e vencimentos compatíveis com o anteriormente ocupado.
- II - Em caso de servidor lotado em órgão do Poder Executivo Municipal, o aproveitamento não poderá ser feito em entidades da Administração Pública Indireta.
- III - Será tornado sem efeito o aproveitamento e cassada a disponibilidade se o servidor não entrar em exercício no prazo legal, salvo doença comprovada por junta médica oficial.
- IV - Havendo mais de um concorrente à mesma vaga, terá preferência no aproveitamento sempre o mais idoso.

Estão corretas as assertivas

- [A] I e III, apenas.
- [B] II e IV, apenas.
- [C] II, III e IV, apenas.
- [D] I, II e III, apenas.

Questão 29

Quanto aos prazos para apuração de infrações disciplinares e aplicação de penalidades previstos na Lei n.º 1.164/1991, marque V para as afirmativas verdadeiras e F para as falsas.

- () A ação disciplinar prescreverá em 5 (cinco) anos, nos casos de infrações puníveis com demissão, cassação de aposentadoria e disponibilidade e destituição de cargo em comissão.
- () Nos casos de infrações puníveis com a pena de suspensão, o prazo prescricional é de 02 (dois) anos, a contar da data em que o fato ou transgressão se tornou conhecido.
- () Os prazos de prescrição previstos na lei penal aplicam-se às infrações disciplinares capituladas também como crime.
- () A abertura de sindicância não interrompe o prazo de prescrição, mas apenas a instauração de processo administrativo disciplinar.

Assinale a sequência correta.

- [A] V, F, V, F
- [B] V, V, V, F
- [C] F, V, F, V
- [D] F, F, F, V

Questão 30

Sobre as responsabilidades do servidor público municipal estabelecidas na Lei n.º 1.164/1991, assinale a afirmativa **INCORRETA**.

- [A] A responsabilidade civil decorre do ato omissivo ou comissivo, doloso ou culposo, que resulte em prejuízo ao erário ou a terceiros.
- [B] As sanções civis, penais e administrativas poderão ser acumuladas, sendo independentes entre si.
- [C] A obrigação de reparar o dano é personalíssima e não se estende aos sucessores do servidor falecido.
- [D] A responsabilidade administrativa do servidor será afastada no caso de absolvição criminal que negue a existência do fato ou a sua autoria.

CONHECIMENTOS GERAIS

Questão 31

Observe a figura a seguir.



(Disponível em: <https://www.google.com.br/search?>. Acesso em: 26 de novembro de 2017.)

A imagem de Jean-Baptiste Debret mostra uma faceta do trabalho escravo no Brasil. A partir da análise da imagem e com base no tema, nota-se

- [A] a diversidade de atividades realizadas pelos escravos urbanos.
- [B] o ócio dos escravos nas ruas da cidade.
- [C] a devoção às divindades africanas mesmo durante o trabalho.
- [D] a homogeneidade das condições de vida dos escravos.

Questão 32

Leia o texto a seguir.

Aquela notícia de poucas linhas num jornal do Recife me abalava. Ainda não dispunha de meios para avaliar com segurança a inteligência de Prestes: dois ou três manifestos, repreensões amargas aos antigos companheiros, eram insuficientes. Admirava-lhe, porém, a firmeza, a coragem, a dignidade. E sentia que essa grande força estivesse paralisada – Com os diabos!

Certamente outros iriam cair, as prisões se encheriam, a ditadura mal disfarçada que humilhava um congresso poltrão grimparia. Anos perdidos. E se a agressão fascista continuar lá fora, teríamos aqui medonhas injustiças e muita safadeza.

(RAMOS, Graciliano. **Memórias do Cárcere**. Rio de Janeiro: Jose Olympio, 1953.)

As palavras do célebre escritor brasileiro Graciliano Ramos foram escritas em qual contexto histórico?

- [A] Redemocratização do pós-guerra
- [B] Golpe Militar de 1964
- [C] Coluna Prestes
- [D] Governo Vargas após a Intentona Comunista

Questão 33

Observe a figura a seguir.



(Disponível em: <https://www.google.com.br/search?q=charges>. Acesso em: 26 de novembro de 2017.)

A charge demonstra um dos fenômenos políticos e sociais mais marcantes do Brasil contemporâneo. Qual é esse fenômeno?

- [A] Avanço das políticas de inclusão
- [B] Busca do consenso no debate político
- [C] Crescimento do pensamento conservador
- [D] Combate à corrupção política

Questão 34

A Província de Mato Grosso foi um dos principais cenários nos quais se desenvolveu a Guerra do Paraguai, que ocorreu entre os anos de 1865-1870. No ano de 1867, observa-se um pico no número de mortes na Paróquia do Senhor Bom Jesus de Cuiabá, que registrou 1.176 óbitos, enquanto no ano anterior, foram 287 mortes e, no posterior, 109. O que explica o aumento expressivo no número de óbitos na cidade de Cuiabá naquele momento?

- [A] A epidemia de varíola trazida pelos soldados.
- [B] O ataque das tropas paraguaias à cidade.
- [C] As chuvas torrenciais que causaram a maior inundaç o j  registrada.
- [D] A crise do sistema de sa de sem recursos devido   guerra.

Questão 35

O texto a seguir apresenta um depoimento de Aecim Tocantins, pol tico que foi vereador e prefeito de Cuiab .

O que eu acho que houve [...], se foi um ato arbitr rio? N o digo que foi um ato arbitr rio, mas foi um ato violento, um ato muito assim [...] abrupto. Porque, lamentavelmente,   verdade, n o estava preparado – o governo federal n o tinha preparado aqueles planos que se falava na Lei Complementar n.  31: o Programa de Desenvolvimento para 10 anos... nada preparado.

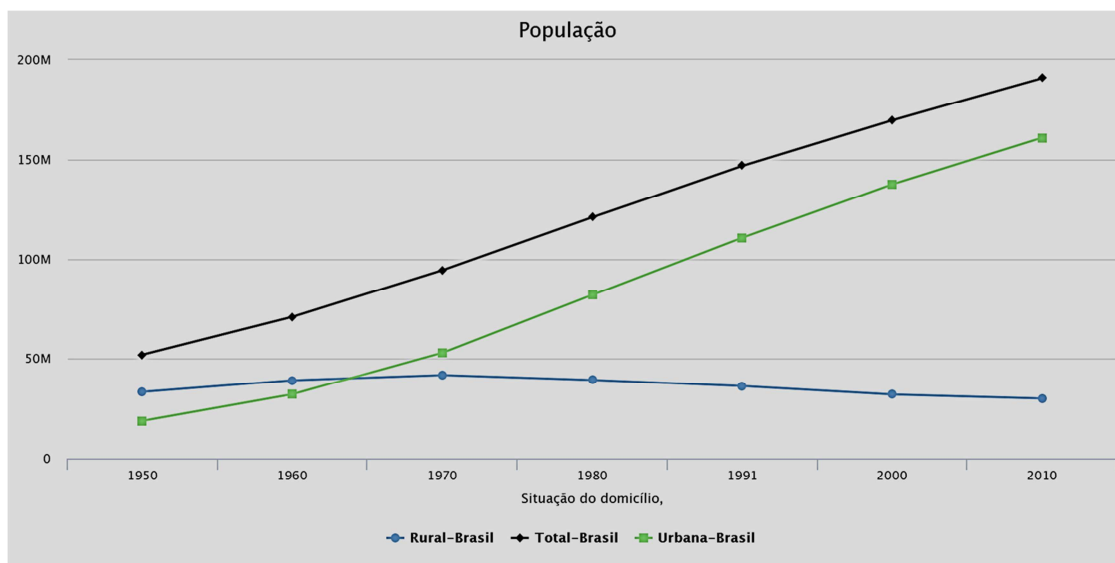
(NEVES, Maria Manuela Renha de Novis. **Relatos pol ticos**: entrevistas: mem ria divisionista – MT. Rio de Janeiro: Mariela Editora, 2001.)

Na avalia o de Aecim Tocantins sobre a divis o do Estado de Mato Grosso, esse processo foi marcado

- [A] pelo minucioso planejamento administrativo.
- [B] pela inexist ncia de pol ticas federais para viabilizar a divis o.
- [C] pelo atendimento das reivindica es das elites locais.
- [D] pelas vantagens econ micas para os fazendeiros.

Questão 36

Observe gráfico sobre a população urbana e rural brasileira (1950 – 2010).



(Disponível em: <https://www.ibge.gov.br/estatisticas-novoportal/>. Acesso em: 26/11/2017.)

O fenômeno da mobilidade populacional vem apresentando transformações significativas no seu comportamento desde as últimas décadas do século XX, não só no Brasil como em outras partes do mundo. Até o presente momento, essas mudanças têm demandado um esforço por parte dos estudiosos no sentido de buscar explicações teóricas para esses novos processos, que se materializam, entre outros aspectos, na dimensão interna, tanto pelo redirecionamento dos fluxos migratórios para as cidades médias em detrimento dos grandes centros urbanos, como pelos deslocamentos de curta duração e a distâncias menores, quanto pelos movimentos pendulares, que passaram a assumir maior relevância nas estratégias de sobrevivência dos indivíduos, não mais restritos aos grandes aglomerados urbanos.

(Disponível em: <https://ww2.ibge.gov.br/home/estatistica/>. Acesso em: 26/11/2017.)

Como se percebe no gráfico, a população urbana no Brasil em 2010 estava próxima dos 161 milhões de habitantes. Esse número só aumentou devido à vinda de imigrantes de outros países, principalmente durante os eventos esportivos que o país sediou, os quais não retornaram para seu país de origem. Da mesma forma que o número de estrangeiros no Brasil vem aumentando, o número de brasileiros no exterior vem diminuindo, mas essa expansão das imigrações externas e internas atuais no Brasil vieram acompanhadas de problemas socioeconômicos, como o aumento

- [A] da discriminação com os imigrantes, da violência rural e de condições precárias de moradia e saúde.
- [B] da xenofobia, de condições precárias de vida em relação a emprego e moradia e do tráfico de pessoas.
- [C] da xenofobia, da formalidade no emprego e da violência urbana.
- [D] da violência urbana e rural, da disponibilidade de emprego formal e da xenofobia.

Questão 37

O Pantanal mato-grossense constitui-se em importante feição ecológica de Mato Grosso, formando a maior área inundável contínua do planeta. Ocupa 7,02% da extensão do estado e compreende uma região inundável na Planície e Pantanal do rio Paraguai mato-grossense, submetida a inundações com diferentes ordens de grandeza e periodicidades deste rio e seus afluentes. O Pantanal apresenta uma área de contato, resultado da convergência de quatro grandes domínios.

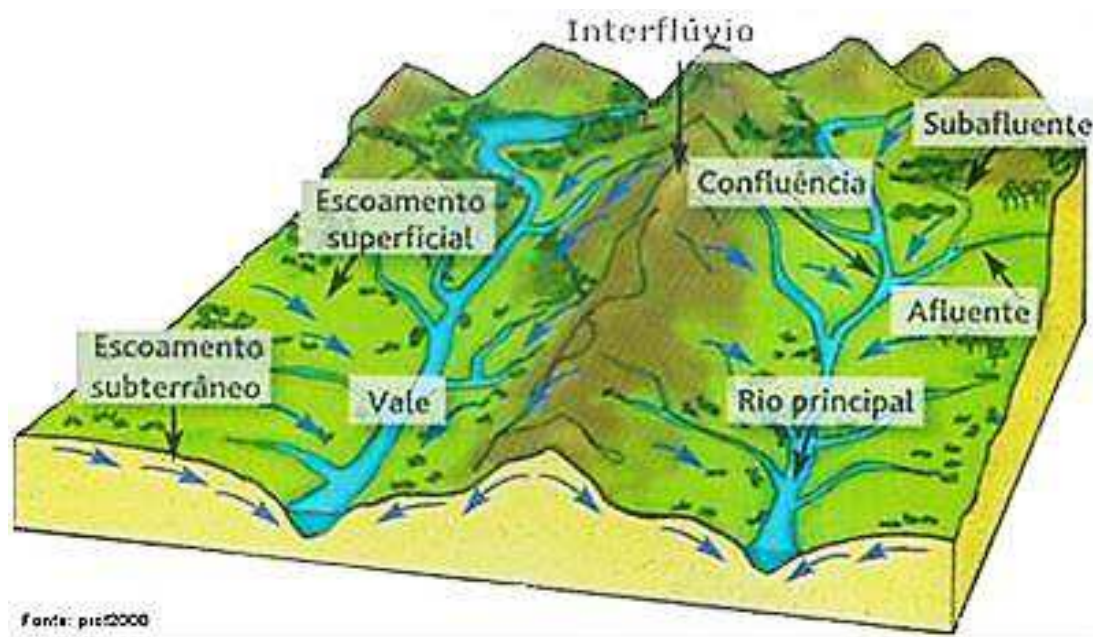
(SCHWENK, L. M. *Geografia de Mato Grosso: território, sociedade, ambiente*. MORENO, G; HIGA, T. C. S. Cuiabá: Entrelinhas, 2005. Adaptado.)

Marque a alternativa que apresenta os quatro grandes domínios biogeográficos presentes no Pantanal.

- [A] Florestas Estacional e Decidual, o Chaco e a Caatinga.
- [B] Florestas Amazônica e Estacional, os Cerrados e a Caatinga.
- [C] Florestas Atlântica e Decidual, a Savana Estépica e os Campos.
- [D] Florestas Amazônica e Atlântica, os Cerrados e o Chaco.

Questão 38

Observe a figura.



(Disponível em: <http://www.geografia.seed.pr.gov.br/modules/galeria>. Acesso em: 26/11/2017.)

Entende-se por bacia hidrográfica o conjunto de terras limitadas por divisores de águas, que se encontram nas regiões mais elevadas do relevo. É drenada por um rio principal e por seus afluentes, e geralmente recebe o nome desse rio.

Sobre a temática, numere a coluna da direita de acordo com a da esquerda.

- | | |
|-------------------------|---|
| 1 - Interflúvio | () Superfície com inclinação, sendo importante para a bacia, principalmente por estabelecer conexão dinâmica entre os topos e o fundo do vale, por comportar, geralmente, a maior parte da vegetação. |
| 2 - Vertente | () Os rios de primeira ordem correspondem às nascentes, onde o volume de água ainda é baixo. Os rios de segunda ordem correspondem à junção de dois rios de primeira ordem, e os rios de terceira ordem, à junção de dois de segunda ordem e assim sucessivamente. |
| 3 - Perfil longitudinal | () Região mais elevada da bacia, servindo de divisor entre uma bacia e outra. Nela predomina processo de erosão areolar, realizada pelo intemperismo físico e químico, que tende a rebaixar o relevo. |
| 4 - Hierarquia fluvial | () Intimamente ligado ao relevo, pois compreende a diferença de altitude entre a nascente e a confluência com um outro rio. É possível também classificar cada trecho do rio ao longo do seu canal de escoamento. |

Marque a sequência correta.

- [A] 1, 2, 3, 4
- [B] 4, 3, 2, 1
- [C] 2, 4, 1, 3
- [D] 2, 3, 1, 4

Questão 39

Leia o texto.

De olho aberto para não virar escravo

De Norte a Sul do Brasil, a imposição de condições degradantes de trabalho, em atividades geralmente terceirizadas, é a característica mais frequente do trabalho escravo, sendo, vez ou outra, acompanhada da brutal negação da liberdade. Privar o trabalhador de sua dignidade e/ou de sua liberdade é muito mais que desrespeitar alguns direitos trabalhistas. Sem dignidade, não se pode ser livre. E sem liberdade, não é possível viver com dignidade. O trabalho escravo rebaixa a pessoa a uma condição de não ser humano, a coisifica, submetendo-a a uma profunda humilhação. Muitos trabalhadores, ao relatar a situação nas fazendas, dizem que foram “tratados pior do que animal”. Desde 1995 foram liberados no Brasil mais de 500 mil escravos, mas libertar milhares de escravos não basta para erradicar essa atividade ilegal.

(Disponível em: <https://www.cptnacional.org.br/campanhas>. Acesso em: 26/11/2017. Adaptado.)

Sobre as razões para a persistência do trabalho escravo no Brasil, assinale a afirmativa correta.

- [A] A distância das áreas onde o trabalho é praticado impossibilita a fiscalização e a penalização dos responsáveis.
- [B] Há falta de punição e condenação dos responsáveis, pois as leis vigentes no país são inadequadas para a responsabilização dos infratores.
- [C] Há omissão da sociedade, bem como dos órgãos responsáveis pela fiscalização, assim como inadequação das leis vigentes.
- [D] Há continuidade do ciclo da miséria, concomitante à ganância e à impunidade dos grandes proprietários de terras.

Questão 40

Sobre as tecnologias modernas aplicadas à cartografia, marque V para as afirmativas verdadeiras e F para as falsas.

- () Sensoriamento remoto é o conjunto de técnicas de obtenção de informações sobre a superfície terrestre por meio do contato físico dos sensores que captam a radiação eletromagnética e a superfície/objetos.
- () As imagens de satélite são produzidas a partir de sensores capazes de distinguir a luz visível e o calor, podendo revelar características da superfície terrestre relativas a ambiente e recursos naturais.
- () A aerofotogrametria é instrumento importante na geração de dados espaciais, pelo qual as fotografias são produzidas a partir de máquinas fotográficas instaladas nos satélites, apresentando ótima resolução para mapeamento.
- () O GPS (Global Positioning System) é um equipamento receptor de sinais enviados pelos satélites e sua principal função é a localização; também potencializa a aquisição de dados em campo, necessários à elaboração de mapas.

Assinale a sequência correta.

- [A] F, F, V, F
- [B] F, V, F, V
- [C] V, V, F, F
- [D] V, F, V, V



PREFEITURA MUNICIPAL DE VÁRZEA GRANDE
SECRETARIA MUNICIPAL DE ADMINISTRAÇÃO

EDITAL Nº 02/2017 - PMVG, DE 27 DE NOVEMBRO DE 2017

CONCURSO PÚBLICO

Cargo de Nível Médio: Agente de Saúde Municipal

Perfil: Agente Administrativo

Cargo de Nível Médio: Agente de Apoio dos Serviços do SUS

*Perfis: Agente de Serviços Gerais, Agente de Segurança e Manutenção,
Maquero e Motorista*

Folha de Anotação do Candidato

01	02	03	04	05	06	07	08	09	10

11	12	13	14	15	16	17	18	19	20

21	22	23	24	25	26	27	28	29	30

31	32	33	34	35	36	37	38	39	40

Esta folha é destinada para uso EXCLUSIVO do candidato.



Secretaria de Articulação e Relações Institucionais
Gerência de Exames e Concursos