



# CONCURSO PÚBLICO

EDITAL Nº. 001/2019-PMR

CARGO: ANALISTA INSTRUMENTAL –  
ECONOMISTA

**Caderno de Prova**

Nome do Candidato

--	--	--	--	--	--	--	--	--	--	--	--	--	--	--	--	--	--	--	--	--

# INSTRUÇÕES

## LEIA COM ATENÇÃO

1. Este Caderno de Prova, com páginas numeradas de 1 a 17, é constituído de **44 (quarenta e quatro)** questões de múltipla escolha, cada uma com **4 (quatro)** alternativas, assim distribuídas:

- 01 a 10 – Língua Portuguesa
- 11 a 15 – Informática Básica
- 16 a 19 – História e Geografia de Mato Grosso
- 20 a 24 – Legislação Básica
- 25 a 44 – Conhecimentos Específicos

2. Caso o Caderno de Prova esteja incompleto ou tenha qualquer defeito de impressão, solicite ao fiscal que o substitua.

### 3. Sobre a Marcação do Cartão de Respostas da Prova Objetiva

**As respostas das questões objetivas deverão ser transcritas com caneta esferográfica de tinta azul ou preta não porosa, fabricada em material transparente, para o Cartão de Respostas, que será o único documento válido para correção. O Cartão de Respostas não será substituído por erro ou dano do candidato.**

3.1. Para cada questão existe apenas uma alternativa que a responde acertadamente. Para a marcação da alternativa escolhida no **CARTÃO DE RESPOSTAS**, pinte **completamente** o círculo correspondente.

*Exemplo: Suponha que para determinada questão a alternativa **C** seja a escolhida.*

N.º da Questão
<input type="radio"/> A
<input type="radio"/> B
<input checked="" type="radio"/>
<input type="radio"/> D

3.2. Será invalidada a questão em que houver mais de uma marcação, marcação rasurada ou emendada, ou não houver marcação.

3.3. Não rasure nem amasse o **CARTÃO DE RESPOSTAS**.

4. Todos os espaços em branco, neste caderno, podem ser utilizados para rascunho.

5. A duração da prova é **4 (quatro)** horas, já incluído o tempo destinado ao preenchimento do **CARTÃO DE RESPOSTAS**.

6. Somente após decorridas **2 horas e 30 minutos** do início da prova, o candidato, depois de entregar seu Caderno de Prova e seu Cartão de Respostas, poderá retirar-se da sala de prova.

7. O candidato que insistir em sair da sala de prova antes desse tempo deverá assinar **Termo de Ocorrência** declarando sua desistência do concurso.

8. Será permitida a saída de candidatos levando o Caderno de Prova somente **na última meia hora** de prova.

9. Na página 17 deste Caderno de Prova, encontra-se a **Folha de Anotação do Candidato**, a qual poderá ser utilizada para a transcrição das respostas das questões objetivas. Essa folha poderá ser levada pelo candidato para posterior conferência com o gabarito somente após decorridas **2 horas e 30 minutos** do início da prova.

10. Após o término da prova, o candidato deverá, obrigatoriamente, entregar ao fiscal o **CARTÃO DE RESPOSTAS**.

Instrução: Leia atentamente a charge e responda às questões 01 e 02.



(Disponível em: <http://conexaobytes.blogspot.com>. Acesso em: 18/06/2019.)

### QUESTÃO 01

Sobre a charge, analise as afirmativas.

- I- A sequência dos quadrinhos mostra que os seres humanos podem tornar-se dependentes em relação aos produtos tecnológicos.
- II- A capacidade de pensar, de criar pode ser embaçada pelo uso impensado e acrítico da tecnologia.
- III- Os trabalhadores têm mente fechada, prendem-se exclusivamente ao que apresentam os produtos tecnológicos.
- IV- Atualmente, o mercado de trabalho busca o trabalhador especializado, sem integração com a tecnologia.

Estão corretas as afirmativas

- (A) I, II, III e IV.
- (B) II, III e IV, apenas.
- (C) III e IV, apenas.
- (D) I e II, apenas.

### QUESTÃO 02

Em relação a aspectos linguísticos empregados no texto, marque V para as afirmativas verdadeiras e F para as falsas.

- ( ) Os termos laptop, smartphone, pen-drive e i-pod pertencem à língua inglesa e não devem ser incorporados na língua portuguesa.
- ( ) A palavra *aqui*, no quinto quadrinho, funciona como elemento coesivo em referência à cabeça do personagem masculino.
- ( ) Os termos *mequetrefes* e *E olhe lá*, no último quadrinho, são empregados principalmente na linguagem oral no registro informal.
- ( ) A fala do personagem, no quarto quadrinho, pode ser reescrita, sem prejuízo do sentido, da seguinte maneira: Quero gravar 10 mil músicas no meu i-pod.

Assinale a sequência correta.

- (A) F, V, V, F
- (B) F, V, F, V
- (C) V, F, F, V
- (D) V, F, V, F

**Instrução: Leia o parágrafo abaixo pertencente a um artigo científico e responda às questões de 03 a 05.**

Rodrigues (1999) afirma que a qualidade de vida no trabalho sempre foi focada em simplificar e trazer prazer e bem-estar ao trabalhador na realização de suas funções. Ressalta também que a qualidade de vida sempre foi alvo de preocupação para a humanidade. Exemplificando esse aspecto, o autor menciona técnicas utilizadas na história da espécie humana que facilitaram e trouxeram qualidade de vida em diferentes contextos, como a geração do fogo no período neolítico, que atribuiu um grande avanço, pois assim foi possível se proteger do frio e também preparar alimentos. A criação da roda, no período proto-história, facilitou a vida da humanidade. Ao invés da utilização de antigos trenós, foi possível a utilização de carros o que, por consequência, simplificou o deslocamento de pessoas e cargas e melhorou a qualidade de vida da raça humana. Euclides de Alexandria (300 a.C.) ensinou os princípios da geometria que auxiliaram no aprimoramento das técnicas de agricultura à margem do rio Nilo, tal como a Lei das Alavancas, de Arquimedes (287 a.C.), que veio a minimizar os esforços físicos de muitos trabalhadores.

(RODRIGUES, Marcus V.C. **Qualidade de vida no trabalho**: evolução e análise no nível gerencial. Petrópolis: Vozes, 1999.)

**QUESTÃO 03**

Como parte de um artigo científico, esse parágrafo obedece a certas características linguísticas e discursivas. Assinale a alternativa que **NÃO** apresenta qualquer dessas características.

- (A) Informatividade e coerência
- (B) Clareza e precisão das ideias
- (C) Uso de figuras de linguagem
- (D) Intertextualidade

**QUESTÃO 04**

No trecho *foi possível a utilização de carros*, o verbo, mesmo antes do sujeito, concordou com ele em número e pessoa, que é uma regra geral de concordância verbal. Assinale a alternativa que apresenta concordância **INCORRETA**, segundo a escrita padrão.

- (A) Reinava, com muita graça, a beleza infantil da pequena embaixadora do samba.
- (B) Não faltarão alimentos aos que chegarem esfomeados da Venezuela.
- (C) Não fossem a boa vontade e a ajuda dos vizinhos, os desabrigados teriam sucumbido.
- (D) Como eles já disseram, chegou até nós inúmeras reclamações sobre o valor propagandeado.

**QUESTÃO 05**

A coesão é responsável pela ligação das ideias entre as partes de um texto. Sobre elementos coesivos empregados no texto acima, analise as afirmativas.

- I- O trecho *esse aspecto* (linha 3) retoma o sentido de *simplificar e trazer prazer e bem-estar ao trabalhador na realização de suas funções*.
- II- No trecho *Ressalta também*, a presença de elipse do sujeito, Rodrigues, estabelece a coesão referencial.
- III- Em *o autor menciona técnicas*, o termo grifado recupera o sentido de Rodrigues pela substituição lexical.
- IV- O pronome relativo *que*, nas linhas 4 e 9, retoma o sentido de palavras citadas na oração anterior, *técnicas e princípios*, respectivamente.

Estão corretas as afirmativas

- (A) II e IV, apenas.
- (B) I e IV, apenas.
- (C) II, III e IV, apenas.
- (D) I, II e III, apenas.

**Instrução: Leia o texto e responda às questões de 06 a 09.**

Além da importância significativa do trabalho voluntário como forma de suprir em muitos aspectos necessidades da sociedade, fator que, por si, pode ser o grande motivador de tal proposta, pode-se afirmar que um programa bem elaborado, planejado com cuidado e bem gerenciado também traz diversos benefícios ao voluntariado. Pode-se afirmar que, indiretamente, a investidura nessas atividades contribui de forma significativa para o desenvolvimento pessoal e profissional, possibilita a descoberta de novas aptidões, contribui para o aumento do círculo de amizades e traz a satisfação da certeza que é possível ajudar o próximo. A organização, ou a empresa, quando se insere neste tipo de atividade, também obtém significativos retornos, não apenas para a sua imagem, que fica mais reforçada quanto à sua credibilidade, mas também no desenvolvimento da potencialidade de seus colaboradores, pois novos talentos e lideranças acabam despontando. A sociedade, porém, é a maior beneficiária do trabalho voluntário ao receber os

gestos de solidariedade que, na maioria das vezes, atendem necessidades não supridas pelo Estado, inclusive de resgate da cidadania. Como já foi salientado, o importante é que toda essa motivação que faz o cidadão, a organização e a iniciativa privada a investirem no desenvolvimento de frentes de trabalho voluntário tenha como objetivo maior o bem comum e a solidariedade, mas em hipótese alguma a autopromoção.

(LIMA e BARELI, *A Importância Social do Desenvolvimento do Trabalho Voluntário*. Disponível em: <http://www.eticaempresarial.com.br>. Acesso em: 10/06/2019.)

### QUESTÃO 06

Sobre os sentidos do texto, assinale a afirmativa correta.

- (A) A existência do trabalho voluntário restringe-se às necessidades de uma sociedade subdesenvolvida como a brasileira.
- (B) O segundo período do texto apresenta explicitamente os tipos de benefício que o trabalho voluntário pode proporcionar ao voluntariado.
- (C) Os benefícios do trabalho voluntário voltam-se às pessoas com necessidades especiais e não às empresas que usam tal serviço para se promoverem.
- (D) O último período do texto reduz a participação de pessoas ligadas a empresas públicas e privadas nos trabalhos voluntários.

### QUESTÃO 07

Com o Novo Acordo Ortográfico, obrigatório a partir de 2016, a língua portuguesa sofreu alterações na ortografia. Assinale a alternativa que apresenta corretamente palavras cuja grafia foi alterada pelo Acordo, a exemplo de *autopromoção*.

- (A) assembleia – autorretrato – paraquedas
- (B) joia – vôo – extra-seco
- (C) heroico – microondas – superrealista
- (D) colmeia – pé-de-moleque – ante-sala

### QUESTÃO 08

Releia o trecho *A organização, ou a empresa, quando se insere neste tipo de atividade, também obtém significativos retornos, não apenas para a sua imagem, que fica mais reforçada quanto à sua credibilidade, mas também no desenvolvimento da potencialidade de seus colaboradores, pois novos talentos e lideranças acabam despontando.*

Sobre as relações estabelecidas na construção do sentido desse trecho, é correto afirmar que

- (A) o conectivo *mas também* exprime ideia de contraste.
- (B) o conectivo *quando* pode ser substituído por *no momento em que*.
- (C) a palavra *que* é um pronome relativo e retoma o sentido de *organização*.
- (D) o conectivo *pois* exprime uma justificativa.

### QUESTÃO 09

A pontuação muito contribui para a ordenação das ideias de um texto, proporcionando uma leitura competente. As vírgulas são empregadas para separar certas conjunções quando se encontram pospositivas, enfatizando o sentido que exprimem. Em qual alternativa as vírgulas foram usadas com essa função?

- (A) *a investidora nessas atividades contribui de forma significativa para o desenvolvimento pessoal e profissional, possibilita a descoberta de novas aptidões, contribui para o aumento do círculo de amizades*
- (B) *Pode-se afirmar que, indiretamente, a investidora nessas atividades contribui de forma significativa*
- (C) *A sociedade, porém, é a maior beneficiária do trabalho voluntário ao receber os gestos de solidariedade*
- (D) *forma de suprir em muitos aspectos necessidades da sociedade, fator que, por si, pode ser o grande motivador de tal proposta*

**QUESTÃO 10**

Leia o texto abaixo que constitui uma faixa, lida em 14/05/2019, nos muros da UFMT, Campus Cuiabá.

Se não nos deixarem sonhar, não os deixaremos dormir.  
(Movimento português Geração Rasca)

Sobre aspectos linguísticos do texto, marque V para as afirmativas verdadeiras e F para as falsas.

- ( ) Os pronomes *nos* e *os* estão empregados em posição proclítica em razão da presença de palavra de sentido negativo.
- ( ) O texto é composto por um período subordinado em que a primeira oração expressa sentido de condição em relação à segunda.
- ( ) O texto poderia ser reescrito, sem prejuízo da correção gramatical, da seguinte maneira: Caso não nos deixam sonhar, não os deixaremos dormir.
- ( ) Em outras situações de comunicação, os verbos sonhar e dormir precedidos de artigo podem desempenhar as funções dos nomes, a exemplo de O olhar não se despregou da garota.

Assinale a sequência correta.

- (A) V, V, F, V  
(B) V, F, F, V  
(C) F, F, V, F  
(D) F, V, V, F

<b>INFORMÁTICA BÁSICA</b>
---------------------------

**QUESTÃO 11**

A tabela abaixo apresenta um resumo comparativo das ações maliciosas mais comuns de quatro tipos de códigos maliciosos (malware) representados pelas colunas numeradas de 1 a 4.

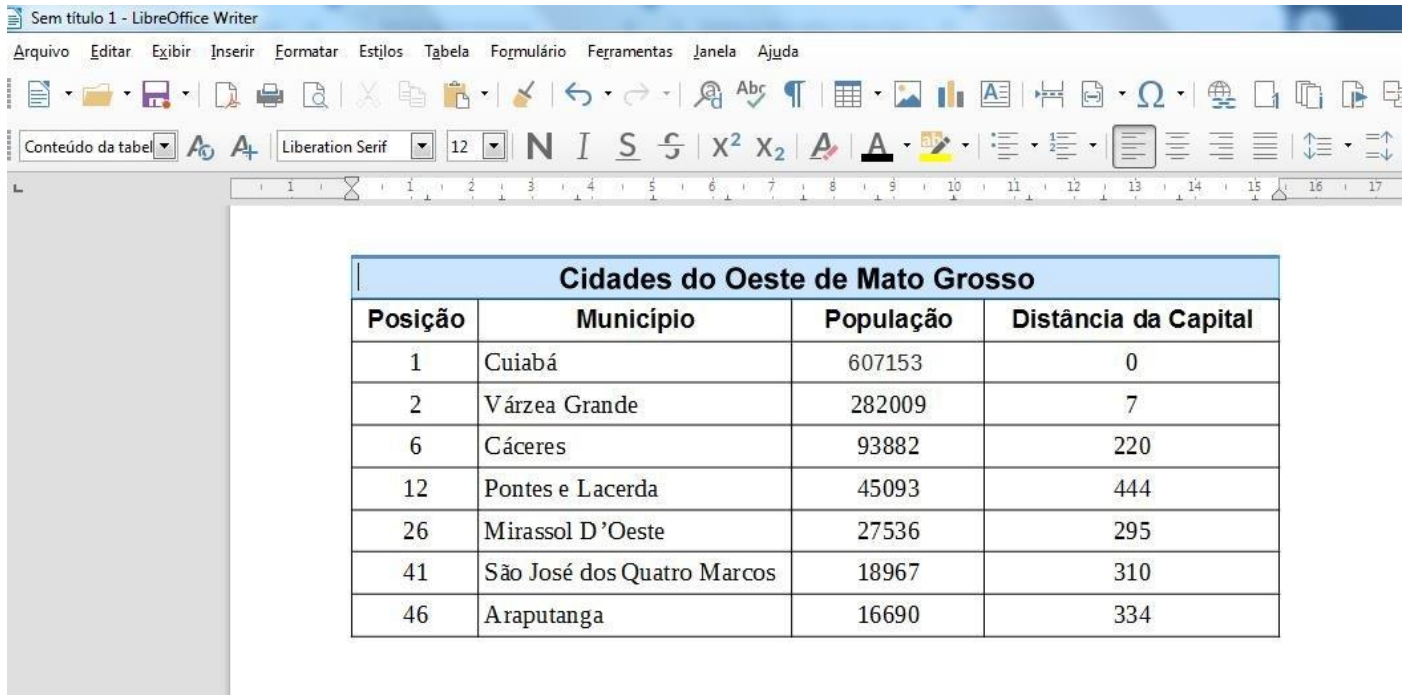
Códigos Maliciosos				
Ações maliciosas mais comuns:				
	<b>1</b>	<b>2</b>	<b>3</b>	<b>4</b>
Altera e/ou remove arquivos	✓		✓	
Consome grande quantidade de recursos		✓		
Furta informações sensíveis			✓	✓
Instala outros códigos maliciosos		✓	✓	
Possibilita o retorno do invasor				
Envia <i>spam</i> e <i>phishing</i>				
Desfere ataques na Internet		✓		
Procura se manter escondido	✓			✓

De acordo com a figura, assinale a alternativa que associa corretamente cada coluna ao tipo de malware caracterizado.

- (A) 1-Cavalo de Troia, 2-Worm, 3-Vírus, 4-Spyware.  
(B) 1-Vírus, 2-Worm, 3-Cavalo de Troia, 4-Spyware.  
(C) 1-Worm, 2-Spyware, 3-Cavalo de Troia, 4-Vírus.  
(D) 1-Vírus, 2-Cavalo de Troia, 3-Spyware, 4-Worm.

## QUESTÃO 12

A figura abaixo apresenta a área de trabalho e uma tabela do LibreOffice Writer (idioma português), com a primeira linha selecionada.



Posição	Município	População	Distância da Capital
1	Cuiabá	607153	0
2	Várzea Grande	282009	7
6	Cáceres	93882	220
12	Pontes e Lacerda	45093	444
26	Mirassol D'Oeste	27536	295
41	São José dos Quatro Marcos	18967	310
46	Araputanga	16690	334

Sobre a tabela e o LibreOffice Writer, analise as afirmativas.

- I- O recurso Mesclar células foi aplicado na primeira linha da tabela.
- II- Para inserir uma linha logo abaixo da primeira linha da tabela, que está selecionada, pode-se clicar no menu Inserir na barra de menus, opção Tabela, item Inserir linhas abaixo.
- III- Para excluir a primeira linha da tabela, pode-se clicar com o botão direito do mouse sobre a linha, selecionar no menu a opção Excluir e clicar sobre o item Linhas.
- IV- Para ajustar a altura da primeira linha da tabela, pode-se clicar no menu Tabela na barra de menus, opção Tamanho, item Altura da linha, para abrir a caixa de diálogo e ajustar a altura da linha.

Estão corretas as afirmativas

- (A) II e IV, apenas.
- (B) I, III e IV, apenas.
- (C) I e III, apenas.
- (D) I, II, III e IV.

## QUESTÃO 13

Sobre hardware, analise as afirmativas.

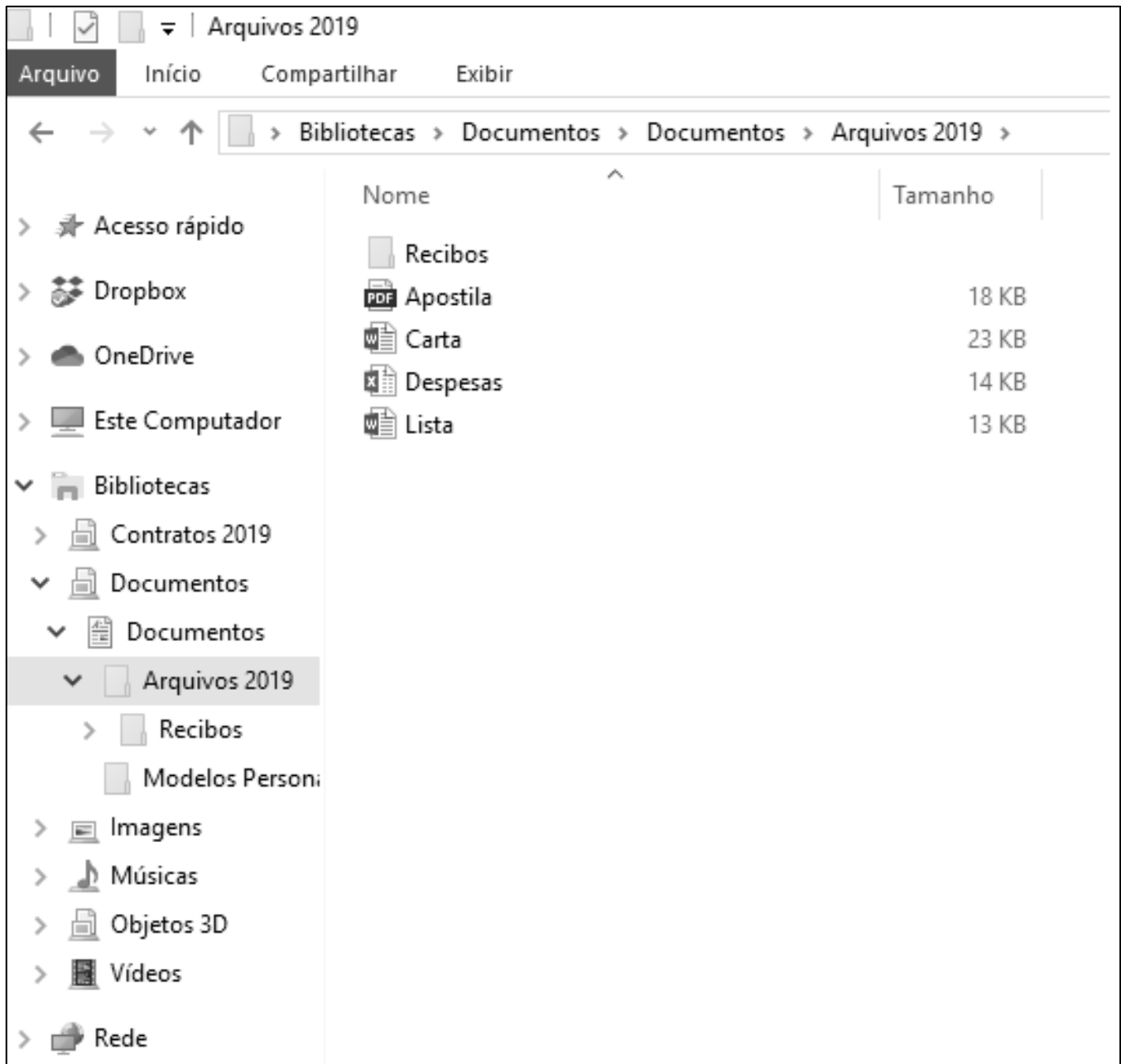
- I- Os discos que utilizam a tecnologia SSD funcionam, basicamente, com discos móveis para armazenar os dados e um braço mecânico para fazer a leitura e a gravação.
- II- Um dos componentes da CPU é a UC (Unidade de Controle), responsável por realizar as operações matemáticas e armazenar os resultados em um registrador de saída.
- III- Um disco rígido com capacidade de armazenamento de 2 TB possui quatro vezes mais capacidade que um disco rígido de 500 GB e metade da capacidade que um disco rígido de 4 TB.
- IV- A memória RAM (Random Access Memory) é um dos principais componentes do computador, sendo que o padrão DDR4, lançado em 2014, ainda é considerado o mais atual, até que ocorra o lançamento do DDR5.

Estão corretas as afirmativas

- (A) III e IV, apenas.
- (B) I e II, apenas.
- (C) II, III e IV, apenas.
- (D) I, II, III e IV.

## QUESTÃO 14

A figura abaixo apresenta uma tela do Explorador de Arquivos do Windows 10 com uma pasta selecionada.



Sobre a figura, analise as afirmativas.

- I- A pasta selecionada (Arquivos 2019) possui em seu conteúdo uma pasta chamada Recibos que, por sua vez, possui uma ou mais pastas em seu conteúdo.
- II- As Bibliotecas existentes são todas padrão, ou seja, já foram criadas no momento da instalação do Windows 10.
- III- A pasta selecionada (Arquivos 2019) possui dois documentos do Microsoft Word e apenas uma planilha do Microsoft Excel.
- IV- O espaço de armazenamento utilizado pelos quatro arquivos presentes na pasta selecionada (Arquivos 2019) é superior a 50 MB.

Estão corretas as afirmativas

- (A) I, II e IV, apenas.
- (B) II, III e IV, apenas.
- (C) I e III, apenas.
- (D) I, II, III e IV.



**QUESTÃO 15**

A figura abaixo apresenta uma planilha do Microsoft Excel 2016 (idioma português) com um intervalo de células selecionado.

	A	B	C	D
1	12	10	8	
2	6	2	4	
3	16	0	14	
4				
5				

De acordo com a figura, como se apresentará a planilha após clicar no botão Soma  $\Sigma$  e em seguida no botão Porcentagem  $\%$ , na barra de ferramentas?

(A)

	A	B	C	D
1	12%	10%	8%	
2	6%	2%	4%	
3	16%	0%	14%	
4			72%	
5				

(B)

	A	B	C	D
1	1200%	1000%	800%	
2	600%	200%	400%	
3	1600%	0%	1400%	
4			7200%	
5				

(C)


	A	B	C	D
1	12%	10%	8%	
2	6%	2%	4%	
3	16%	0%	14%	
4	34%	12%	26%	
5				

(D)

	A	B	C	D
1	1200%	1000%	800%	
2	600%	200%	400%	
3	1600%	0%	1400%	
4	3400%	1200%	2600%	
5				

**QUESTÃO 16**

Leia a charge abaixo.



(Disponível em: <http://fococidadao.blogspot.com/2011/05/charges>. Acesso em: 28/07/2019.)

A charge refere-se a duas questões fundamentais para a história recente do Estado de Mato Grosso. Quais são essas questões?

- (A) A demarcação de terras indígenas e os incentivos fiscais para instalação de indústrias.
- (B) O crescimento do rebanho bovino e a instalação da indústria moveleira.
- (C) A expansão do agronegócio e a preservação ambiental.
- (D) O uso de agrotóxicos e o aumento do reconhecimento de comunidades quilombolas.

**QUESTÃO 17**

No início de 2019, o governo do Estado de Mato Grosso decretou situação de calamidade financeira no âmbito da Administração Pública Estadual (Decreto n.º 07, de 17 de janeiro de 2019), que autorizou “medidas necessárias à racionalização de todos os serviços públicos”. Prorrogada em 17 de julho por mais 120 dias, a situação de calamidade financeira tem permitido ao governo executar medidas como diminuição do valor de contratos, renegociação de dívidas, enxugamento de cargos comissionados e contratados e suspensão do pagamento de horas extras. O principal argumento utilizado pelo governo para justificar a necessidade de tais ações é:

- (A) O calote generalizado promovido pelos fornecedores de bens e serviços ao Estado, os quais receberam valores em antecipação e não entregaram o contratado, trazendo prejuízos enormes aos cofres públicos.
- (B) A sonegação fiscal por parte dos grandes produtores agrícolas, que cria uma situação caótica para o Estado, uma vez que a arrecadação depende quase que exclusivamente das atividades agropecuárias.
- (C) A desindustrialização, que tem feito a arrecadação diminuir e impedido o Estado de arcar com suas despesas com a prestação dos serviços públicos.
- (D) O aprofundamento da crise fiscal do Estado, com as receitas arrecadadas não sendo suficientes para arcar com as despesas públicas, gerando seguidos déficits financeiros.

### QUESTÃO 18

Ao longo do tempo, os historiadores que escreveram a História de Mato Grosso tiveram como foco de análise Cuiabá. Foi a primeira vila a ser erguida e, no século XIX, passou a ser a capital da já então província de Mato Grosso, posto que mantém até os dias correntes. Sem dúvida, as conquistas do Cuiabá localizavam-se num dos pontos mais distantes alcançados pelos súditos da coroa portuguesa no Estado do Brasil. O povoamento daquelas plagas requereu muito esforço físico e investimento de capitais e ceifou muitas vidas de seus partícipes – índios, europeus, negros e de seus descendentes. As narrativas dos fatos ocorridos nas minas do Cuiabá têm privilegiado as agruras.

(LUCÍDIO, J. A. B. *A Ocidente do Imenso Brasil: a conquista dos rios Paraguai e Guaporé. 1680-1750.*)

Dentre as dificuldades que marcaram a ocupação do espaço em torno da bacia do Rio Cuiabá pelas populações não indígenas, quais podem ser destacadas?

- (A) Os animais selvagens e os poucos recursos minerais.
- (B) A fome e as doenças tropicais.
- (C) A anterior presença jesuítica e a resistência das comunidades quilombolas.
- (D) A hostilidade indígena e o pouco acesso a fontes de água potável.

### QUESTÃO 19

A Guerra da Tríplice Aliança, também conhecida como Guerra do Paraguai, foi o maior e mais importante conflito bélico enfrentado pelo Império brasileiro. Travada entre os anos de 1864 e 1870, tendo a Província de Mato Grosso como um dos cenários das ações militares.

É possível identificar, após o final da Guerra, significativos desdobramentos em Mato Grosso. Quais foram esses desdobramentos?

- (A) Crescimento do comércio com a Bolívia e início dos trabalhos de construção de uma ligação ferroviária com São Paulo.
- (B) Deslocamento do eixo econômico da Província para a região do Araguaia devido à exploração de borracha e às primeiras tentativas separatistas do sul de Mato Grosso.
- (C) Expressiva diminuição do número de escravos libertados devido ao engajamento nas tropas imperiais e fortalecimento político das elites cuiabanais.
- (D) Maior articulação do sul de Mato Grosso com a economia nacional e a intensificação da chegada de imigrantes estrangeiros.

## LEGISLAÇÃO BÁSICA

### QUESTÃO 20

A Lei n.º 1.752/1990, que instituiu o Regime Jurídico Único dos Servidores Públicos do Município de Rondonópolis/MT, estabelece os períodos que são computados como tempo de efetivo exercício do cargo, entre os quais **NÃO** se inclui:

- (A) Tempo de serviço prestado concomitantemente em mais de um cargo ou função, de órgão ou entidade federal, estadual, distrital ou municipal.
- (B) Exercício de cargo em comissão ou equivalente em órgão, ou entidade federal, estadual, distrital ou municipal.
- (C) Desempenho de mandato eletivo federal, estadual, distrital ou municipal, exceto para promoção por merecimento.
- (D) Participação em programa de treinamento instituído e autorizado pelo respectivo órgão ou repartição municipal.

### QUESTÃO 21

Em conformidade com a Lei n.º 1.752/1990, que instituiu o Regime Jurídico Único dos Servidores Públicos do Município de Rondonópolis/MT, o servidor de carreira em estágio probatório que responde a processo administrativo disciplinar

- (A) não poderá ser exonerado por inabilitação na avaliação do estágio probatório, devendo ser demitido.
- (B) poderá ser exonerado a pedido na pendência do processo.
- (C) será exonerado de ofício após a conclusão do processo.
- (D) somente poderá ser exonerado a pedido após a conclusão do processo e o cumprimento da penalidade, acaso aplicada.

**QUESTÃO 22**

Quanto às competências do Município de Rondonópolis/MT, previstas na Lei Orgânica Municipal, marque V para as afirmativas verdadeiras e F para as falsas.

- ( ) Compete privativamente ao Município conceder licença ou autorização para abertura e funcionamento de estabelecimentos industriais, comerciais e similares de acordo com a lei de zoneamento.
- ( ) É da competência privativa do Município a implantação da política de educação e orientação para a segurança do trânsito.
- ( ) Compete ao Município, em comum com a União e o Estado de Mato Grosso, cuidar da saúde e assistência social, da proteção e garantia das pessoas com deficiência.
- ( ) Ao Município compete, concorrentemente com o Estado de Mato Grosso, criar mecanismos que aprimorem as relações de consumo e de vigilância sanitária.

Assinale a sequência correta.

- (A) V, F, V, V
- (B) F, V, F, F
- (C) V, F, F, V
- (D) F, V, V, F

**QUESTÃO 23**

De acordo com a Lei Complementar n.º 226/2016, que dispõe sobre a Reestruturação da Carreira e a instituição do Plano de Cargos, Carreiras e Vencimentos da Área Instrumental do Município de Rondonópolis-MT, analise as assertivas acerca da progressão funcional.

- I- A progressão vertical na carreira do servidor obedecerá à avaliação de desempenho anual e ao cumprimento do interstício de 03 (três) anos.
- II- A primeira progressão de nível, na linha vertical, ocorrerá a partir do cumprimento, aprovação e homologação do servidor no estágio probatório.
- III- Compete à Administração Municipal proceder anualmente à homologação dos resultados da avaliação de desempenho, sob pena de progressão automática.
- IV- Somente o servidor que estiver isento de penalidades disciplinares fará jus à progressão funcional.

Estão corretas as assertivas

- (A) I, II e III, apenas.
- (B) II, III e IV, apenas.
- (C) I, II, III e IV.
- (D) I e IV, apenas.

**QUESTÃO 24**

Em consonância com a Lei Orgânica do Município de Rondonópolis/MT, assinale a assertiva correta acerca da participação popular na gestão municipal.

- (A) É assegurada a participação popular, por meio de referendos, no processo de elaboração e apreciação pela Câmara Municipal das leis orçamentárias.
- (B) A consulta popular, na modalidade de plebiscito, poderá ser proposta por documento dirigido à Câmara Municipal, contendo assinatura de, pelo menos, cinco por cento do eleitorado inscrito no Município.
- (C) É garantida a participação popular na criação, modificação, supressão e organização de distritos político-administrativos, observada a legislação federal.
- (D) O exercício do trabalho comunitário e em mutirão será estimulado pelo Poder Público como forma legítima de viabilizar anseios coletivos, vedada qualquer interferência da administração direta e indireta em sua organização.

**QUESTÃO 25**

Em relação às preferências do consumidor, é correto afirmar:

- (A) A transitividade das preferências exige racionalidade dos agentes para que seja válida nos pressupostos associados à teoria do consumidor.
- (B) As preferências são completas, permitindo assim que os consumidores comparem e ordenem suas cestas de consumo de mercado.
- (C) Considerar mercadorias (bens) desejáveis faz com que os consumidores sempre atinjam um nível ótimo de utilidade, independente de quaisquer outras variáveis.
- (D) Uma curva de indiferença representa a combinação de cestas de consumo que garantam diferentes níveis de satisfação.

**QUESTÃO 26**

Quando se discute a teoria do consumidor, um dos temas abordados diz respeito às curvas de indiferença. Esse conceito é fundamental quando se tratam das preferências do consumidor e suas escolhas. Nesse sentido, é correto afirmar:

- (A) A Taxa Marginal de Substituição decrescente garante a convexidade das curvas de indiferença.
- (B) Considera-se que dois bens são substitutos perfeitos quando a Taxa Marginal de Substituição é positiva e decrescente.
- (C) Considera-se que dois bens são complementares perfeitos entre si quando a Taxa Marginal de Substituição é negativa e crescente.
- (D) A Convexidade da curva de indiferença garante a especialização no consumo de um agente econômico.

**QUESTÃO 27**

A demanda do consumidor individual fornece informações relevantes acerca de como o consumo se altera de acordo com variações nos preços dos bens e em sua renda. Considere para essa questão dois bens, bem 1 e bem 2, e um agente econômico racional. Dessa forma, é correto afirmar:

- (A) Quando se associam preços e consumo de um determinado bem 1, essa relação é dada pela otimização da utilidade pelo consumo do bem 1, e assim expressando essa relação pelo preço de 1.
- (B) Ao se considerar a relação de consumo de um determinado bem 1 e a renda do agente econômico, a curva de Engel para um bem normal é decrescente.
- (C) Ao se considerar a relação de consumo de um determinado bem 2 e o consumo do bem 1, a curva de Engel para um bem normal é decrescente.
- (D) Quando se associam preços e consumo de um determinado bem 1, essa relação é dada pela combinação otimizadora da utilidade entre dois bens (1 e 2), em que se expressa essa relação pelo preço de 1.

**QUESTÃO 28**

Ao analisar os efeitos das mudanças de preço sobre o consumo, os economistas sempre devem levar em consideração os efeitos renda, substituição e efeitos totais dessa mudança. Isso faz parte de qualquer análise econômica. Nesse sentido, é correto afirmar:

- (A) Um bem de Giffen é observado quando o efeito substituição é inferior ao efeito renda, e o bem é normal.
- (B) A convexidade das curvas de indiferença garante o efeito renda, por meio da redução do consumo ao se observar uma redução da renda.
- (C) Um bem de Giffen é observado quando o efeito substituição é superior ao efeito renda, e o bem é inferior.
- (D) A convexidade das curvas de indiferença garante o efeito substituição, por meio da redução do consumo ao se observar um aumento de preços.

### QUESTÃO 29

Dentro da análise da atividade econômica de uma indústria, pode-se deparar com a situação de somente uma empresa nesse mercado, dessa forma, configurando-se como monopólio. Nesse contexto, é correto afirmar:

- (A) Pode-se determinar que o *markup* do monopolista será igual ao negativo do inverso da elasticidade preço da oferta.
- (B) Considerando uma curva de demanda linear, a curva de receita marginal tem inclinação duas vezes menor que a curva de demanda.
- (C) O monopolista atinge máximo lucro quando sua receita marginal se iguala ao seu custo marginal.
- (D) Observa-se que, quanto maior a elasticidade demanda, maior será o benefício (em termos de receita) em ser um monopolista.

### QUESTÃO 30

Seja uma empresa que apresente uma função Custo Total dada por  $CT(q) = q^2 + 3q + 2$ , assim como uma função Receita Total dada por  $RT(q) = 11q$ . Tendo isso em vista, e assumindo que essa empresa esteja em concorrência perfeita e apresente um comportamento racional, qual será a quantidade ótima produzida ( $q^*$ ) e o lucro máximo ( $\pi^*$ ), quanto ao processo de otimização do lucro?

- (A)  $q^* = 4$  e  $\pi^* = 14$
- (B)  $q^* = 8$  e  $\pi^* = 16$
- (C)  $q^* = 2$  e  $\pi^* = 8$
- (D)  $q^* = 6$  e  $\pi^* = 10$

### QUESTÃO 31

Diversos setores da economia são caracterizados pela existência de imperfeições de mercado, muitas vezes causadas por modelos de equilíbrio diferentes do modelo de concorrência perfeita. Um desses modelos é o oligopólio. Sobre o assunto, analise as seguintes afirmativas:

- I- O modelo de equilíbrio de Cournot é caracterizado pela decisão simultânea das empresas em monopólio acerca da quantidade produzida.
- II- O modelo de equilíbrio de Stackelberg considera a decisão sobre a produção baseado no nível de preços dos agentes oligopolistas no mercado.
- III- O modelo de Bertrand considera a determinação do nível de preços das empresas oligopolistas de forma simultânea.

Estão corretas as afirmativas

- (A) I e II, apenas.
- (B) II e III, apenas.
- (C) I e III, apenas.
- (D) I, II e III.

### QUESTÃO 32

Quando se trata de comércio internacional, uma das abordagens é quando as negociações entre duas nações são tratadas basicamente por diferenças entre os recursos dos países em questão. Nesse cenário, considera-se a teoria das proporções de fatores. Sobre o assunto, assinale a afirmativa correta.

- (A) Países tendem a importar bens cuja produção é intensiva em fatores com os quais ele tem maiores retornos na remuneração e não em abundância.
- (B) Uma economia tende a ser relativamente eficaz na produção de bens intensivos em um determinado fator produtivo quando essa economia é bem-dotada desse fator produtivo.
- (C) Os proprietários dos fatores abundantes de um país perdem com o comércio (dado o excesso) e os proprietários dos fatores escassos ganham com esse mesmo comércio.
- (D) A completa equalização dos preços dos fatores pode ser observada quando houver grandes diferenças entre a dotação dos recursos entre os países.

**QUESTÃO 33**

A teoria macroeconômica é centrada em algumas escolas. Uma dessas escolas é a macroeconomia clássica, que surgiu como um contraponto às doutrinas econômicas dos mercantilistas. Sobre a macroeconomia clássica, é correto afirmar:

- (A) Economistas clássicos consideram que as mudanças nos gastos do governo ou nos impostos tem efeito independente sobre a demanda agregada.
- (B) A quantidade de mão de obra empregada seria determinada, de acordo com os economistas clássicos, pelas forças de equilíbrio na oferta e demanda agregada.
- (C) Para os economistas clássicos, um acréscimo igualmente proporcional nos salários monetários e no nível de preços eleva a quantidade de oferta de trabalho.
- (D) Os economistas clássicos consideravam que as economias apresentavam aspectos autorregulatórios, criticando assim políticas do governo voltadas para o ajustamento da demanda à produção.

**QUESTÃO 34**

Acerca do modelo de regressão linear múltiplo clássico, analise as afirmativas.

- I- Se a hipótese de homocedasticidade for violada, os estimadores de Modelo de Mínimos Quadrados Ordinários (MQO) serão viesados.
- II- Assumindo que todos os pressupostos clássicos sejam satisfeitos, então os estimadores de MQO serão os melhores estimadores na classe dos lineares.
- III- Se o valor esperado dos erros estimados do modelo for diferente de zero, então os estimadores de todos os parâmetros, inclusive o intercepto, não serão de mínima variância.

Está correto o que se afirma em

- (A) I e III, apenas.
- (B) II, apenas.
- (C) II e III, apenas.
- (D) I, II e III.

**QUESTÃO 35**

Um economista tem a sua disposição o seguinte conjunto de informações para estimação de uma função demanda dada por  $Q_{1i} = \beta_1 P_{1i} + \beta_2 P_{2i} + \varepsilon_i$ :

$$(X'X)^{-1} = \frac{1}{60} \begin{bmatrix} 21 & -17 \\ -17 & 14 \end{bmatrix} \quad \sum Q_{1i} P_{1i} = 552 \quad \sum Q_{1i} P_{2i} = 696 \quad \sum Q_{1i}^2 = 1976$$

Número de observações: 6

Considere que  $Q_{1i}$  é a quantidade de demanda do bem 1,  $P_{1i}$  e  $P_{2i}$  são os preços do bem 1 e do bem 2, respectivamente, e que o modelo respeita todos os pressupostos associados ao modelo clássico de regressão linear múltiplo.

Qual será a estimativa dos parâmetros  $\beta_1$  e  $\beta_2$ , respectivamente, e a estatística F desse modelo?

- (A)  $-4,6$  e  $F = 492$
- (B)  $-6,4$  e  $F = 634$
- (C)  $-8,12$  e  $F = 544$
- (D)  $-2,3$  e  $F = 236$

**QUESTÃO 36**

Ao longo da década de 1980 e início da década de 1990, diversas políticas econômicas foram implementadas visando à estabilização econômica, em particular da inflação. Nesse sentido, marque a afirmativa correta.

- (A) A acumulação de reservas fiscais e consequente aumento do superávit comercial dentro do contexto do Plano Cruzado foi um dos elementos determinantes da falha do Plano Cruzado como plano de estabilização econômica.
- (B) O Plano Bresser, semelhantemente ao Plano Cruzado, permitiu aumentos de preços públicos e de preços administrados momentos antes do congelamento de preços.
- (C) Uma das principais diferenças entre os Planos Bresser e Cruzado diz respeito à preocupação do Plano Bresser no controle do déficit público, assumindo que o problema inflacionário era puramente inercial e associado à demanda.
- (D) Os defensores da tese da inflação inercial consideravam que os choques de oferta elevavam o patamar da inflação, no entanto, os choques de demanda tendiam a reproduzir a tendência inercial.

### QUESTÃO 37

Sobre o Plano Real, analise as seguintes afirmativas:

- I- Acerca da relação câmbio/salários, pode-se observar que, durante a primeira metade da década de 1990, houve uma elevação nessa razão, seguida de uma estabilidade nos anos finais de 1990.
- II- O Plano Real pode ser considerado como um plano que trata três aspectos econômicos, buscando estabilidade: ajuste fiscal, desindexação da economia e âncora nominal.
- III- O Tesouro brasileiro durante os anos iniciais do Plano Real se beneficiou da inflação em decorrência de alguns fatores, entre eles: menor indexação dos gastos comparativamente às receitas; do contingenciamento e do atraso de pagamentos pelo governo; e da subestimativa da inflação quando da realização do orçamento público.

Está correto o que se afirma em

- (A) I e III, apenas.
- (B) I, apenas.
- (C) II e III, apenas.
- (D) I, II e III.

### QUESTÃO 38

Considere o modelo IS-LM em economia fechada e no curto prazo para o contexto Keynesiano. Nesse sentido, analise as afirmativas.

- I- A curva IS será relativamente pouco inclinada se a elasticidade da demanda por investimentos em relação aos juros for relativamente alta.
- II- Um aumento nos dispêndios com investimentos autônomos deslocará a curva IS para a direita.
- III- A curva LM terá um deslocamento decrescente para a direita com uma redução da oferta de moeda.
- IV- A curva LM será relativamente muito inclinada se a elasticidade da demanda por moeda em relação aos juros for relativamente alta.

Estão corretas as afirmativas

- (A) I e II, apenas.
- (B) I, III e IV, apenas.
- (C) II e IV, apenas.
- (D) I, II e III, apenas.

### QUESTÃO 39

Atualmente muito se tem discutido acerca do papel da microeconomia como alternativa às explicações de efeitos macroeconômicos. Um dos modelos macroeconômicos que se pautam sob esse contexto é o modelo novo-keynesiano. Assim, é correto afirmar:

- (A) No modelo novo-keynesiano, por meio do modelo incluído-excluído, o desemprego resulta de um salarial nominal fixado abaixo do nível de equilíbrio, e com isso garantindo uma resposta cíclica a mudanças na demanda agregada.
- (B) Além dos fatores que causam a rigidez de variáveis nominais, os novos-keynesianos introduziram a rigidez real, em que se observa, por exemplo, o custo de menu.
- (C) Os novos-keynesianos acreditam que boa parte do desemprego é involuntária, e que os desvios abaixo do produto potencial durante recessões não são socialmente nocivos.
- (D) O pressuposto de que os mercados estão em concorrência perfeita é fundamental para a elaboração dos modelos novo-keynesianos, principalmente para explicar salários e crescimento.

**Instrução: A partir do texto abaixo e tendo em vista o disposto na Lei Complementar nº 101/2000, conhecida como Lei de Responsabilidade Fiscal (LRF), acerca das operações de crédito, responda às questões de 40 a 42.**

“A contratação de operações de crédito por órgãos e entidades do setor público é objeto de inúmeros dispositivos legais, de estirpe constitucional ou não. Referidos dispositivos emanam suas regras, inclusive, para instituições financeiras privadas, como é o caso das Resoluções exaradas pelo Conselho Monetário Nacional (CMN).

Com a preocupação de controlar o endividamento do setor público, a Lei de Responsabilidade Fiscal (LRF) estabeleceu o conceito de operação de crédito, dando ao mesmo um caráter bem mais abrangente que o positivado pelas normas de direito financeiro.



Dadas as inúmeras condicionantes e o longo processo necessário à contratação das operações de crédito, é natural que os gestores públicos e as instituições financeiras busquem alternativas de financiamento mais céleres e menos sujeitas às limitações impostas pela legislação. Porém, nem sempre a engenharia financeira idealizada pelos gestores consegue escapar das amarras estabelecidas pelas normas de direito financeiro e de gestão fiscal.”

(Relatório do Acórdão TCU-Plenário nº 1027/2012, Processo RL 010.610/2011-1, Rel. Min. Valmir Campelo, Data da sessão: 02/05/2012.)

#### **QUESTÃO 40**

Para os efeitos da LRF, **NÃO** se inclui no conceito de operação de crédito:

- (A) Aquisição financiada de bens, recebimento antecipado de valores provenientes da venda a termo de bens e serviços.
- (B) Compromisso financeiro assumido em razão de mútuo, abertura de crédito, emissão e aceite de título.
- (C) Obrigação financeira assumida em virtude de lei, contrato ou convênio.
- (D) Assunção, reconhecimento ou confissão de dívida pelo ente da Federação.

#### **QUESTÃO 41**

Caso o Município de Rondonópolis-MT pretenda realizar uma operação de crédito, deverá comprovar, entre outras, o cumprimento da seguinte condição prevista na LRF:

- (A) Inclusão das operações de crédito por antecipação de receita nas despesas de capital para atendimento da norma constitucional chamada “regra de ouro”.
- (B) Realização de audiência pública para consulta popular acerca da operação pretendida.
- (C) Autorização específica da Câmara Municipal constante de ata de sessão plenária.
- (D) Observância dos limites globais para o montante da dívida consolidada dos Municípios fixados em resolução do Senado Federal.

#### **QUESTÃO 42**

Se a instituição financeira contratar operação de crédito com o Município sem observância das exigências da LRF, a operação será considerada

- (A) anulável, procedendo-se ao seu saneamento no prazo de 30 (trinta) dias, caso possível, sob pena de cancelamento.
- (B) nula, procedendo-se ao seu cancelamento, mediante a devolução do principal e dos juros, excluídos demais encargos financeiros.
- (C) nula, procedendo-se ao seu cancelamento, mediante a devolução do principal, vedado o pagamento de juros e demais encargos financeiros.
- (D) anulável, procedendo-se à imediata devolução do principal, para abertura do processo de saneamento, caso possível.

#### **QUESTÃO 43**

De acordo com as disposições da Lei Orgânica do Município de Rondonópolis/MT, analise as assertivas a respeito do orçamento municipal.

- I- O projeto de lei orçamentária será acompanhado de demonstrativo detalhado do efeito, sobre receitas e despesas correntes, de benefícios de natureza financeira, tributária e creditícia, isenções, anistias e remissões.
- II- A lei orçamentária anual não conterá dispositivo estranho à previsão da receita e à fixação da despesa, não se incluindo na proibição a autorização para a abertura de créditos suplementares e contratação de operações de créditos, ainda que por antecipação de receita.
- III- As emendas individuais ao projeto de lei orçamentária serão aprovadas no limite de 1,2% (um inteiro e dois décimos por cento) da receita corrente líquida prevista no projeto encaminhado pelo Poder Executivo, sendo que a metade desse percentual será destinada a ações e serviços públicos de saúde.
- IV- Os impedimentos de ordem técnica são insuficientes para justificar a falta de execução orçamentária e financeira das programações orçamentárias resultantes de emendas parlamentares.

Estão corretas as assertivas

- (A) I, III e IV, apenas.
- (B) I, II e III, apenas.
- (C) II e IV, apenas.
- (D) I e II, apenas.

**QUESTÃO 44**

Quanto aos estágios de execução da despesa pública previstos na Lei n.º 4.320/1964, que estatui normas gerais de direito financeiro, numere a coluna da direita de acordo com a da esquerda.

- |                 |     |   |
|-----------------|-----|---|
| 1 – Programação | ( ) | É ato emanado de autoridade competente que cria para o Estado obrigação de pagamento pendente ou não de implemento de condição.   |
| 2 – Empenho     | ( ) | Corresponde ao quadro de cotas periódicas da despesa que cada unidade orçamentária fica autorizada a utilizar, aprovado pelo Poder Executivo, imediatamente após a promulgação da Lei Orçamentária Anual e com base nos limites nela fixados. |
| 3 – Liquidação  | ( ) | Consiste no efetivo desembolso do recurso público, que pode ser efetuado, em casos excepcionais, por meio de adiantamento.  |
| 4 – Pagamento   | ( ) | É a verificação do direito adquirido pelo credor tendo por base os títulos e documentos comprobatórios do respectivo crédito.   |

Marque a sequência correta.

- (A) 2, 1, 4, 3
- (B) 1, 2, 3, 4
- (C) 3, 1, 4, 2
- (D) 2, 4, 1, 3

# CONCURSO PÚBLICO

EDITAL Nº. 001/2019-PMR

## FOLHA DE ANOTAÇÃO DO CANDIDATO

Questão	Alternativa
01	
02	
03	
04	
05	
06	
07	
08	
09	
10	
11	
12	
13	
14	
15	
16	
17	
18	
19	
20	
21	
22	

Questão	Alternativa
23	
24	
25	
26	
27	
28	
29	
30	
31	
32	
33	
34	
35	
36	
37	
38	
39	
40	
41	
42	
43	
44	

Esta folha é destinada para uso EXCLUSIVO do candidato.