

ABRA SOMENTE QUANDO AUTORIZADO

Concurso Público
Edital PROAD 74/2014



UFOP
Universidade Federal
de Ouro Preto

ASSISTENTE EM ADMINISTRAÇÃO

Leia **atentamente** as instruções abaixo:

1. Aguarde permissão para iniciar a prova.
2. Identifique-se na parte inferior desta prova. Você será excluído do concurso caso não tenha se identificado. Assine somente no local apropriado.
3. Este caderno contém 60 questões de múltipla escolha, perfazendo um total de 100,0 pontos assim distribuídos:
 - ⇒ Questões de 01 a 40: 1,75 pontos;
 - ⇒ Questões de 41 a 50: 2,0 pontos;
 - ⇒ Questões de 51 a 60: 1,0 ponto.
4. Verifique se o caderno está completo e sem imperfeições gráficas que possam dificultar a leitura. Detectado algum problema, comunique-o, imediatamente, ao fiscal.
5. Você dispõe de, no máximo, quatro horas improrrogáveis para responder a todas as questões e preencher as Folhas de Respostas.
6. Cada questão de múltipla escolha apresenta apenas uma opção de resposta **correta**.
7. O preenchimento das Folhas de Respostas é de sua inteira responsabilidade. Preencha-as cobrindo somente uma opção, sem ultrapassar os limites. Use caneta azul ou preta.

1	<input checked="" type="radio"/>	A	<input type="radio"/>	<input type="radio"/>	<input type="radio"/>
2	<input type="radio"/>	<input type="radio"/>	B	<input type="radio"/>	<input type="radio"/>
3	<input type="radio"/>	<input type="radio"/>	<input type="radio"/>	C	<input type="radio"/>
4	<input type="radio"/>	<input type="radio"/>	<input type="radio"/>	<input type="radio"/>	D


8. Antes de retirar-se definitivamente da sala, devolva ao fiscal a Folha de Respostas.
9. Após o aviso para início das provas, você deverá permanecer por, no mínimo, sessenta minutos no local em que elas são realizadas.

Identificação do Candidato

Nome (em letra de forma)

Nº da Inscrição

Assinatura:



Questões de 01 a 20 É Língua Portuguesa

Leia, com muita atenção, o texto apresentado a seguir, lembrando-se de que foi acrescentada a numeração dos parágrafos com o objetivo de facilitar as respostas às questões.

Machado de Assis adulterado

1 No país do pelo menosq onde é aceitável que crianças vendam balas nas ruas pois isso tem o lado bom de elas não estarem roubando, o desleixo com a educação é cada vez mais proporcional ao comodismo e à falta de preparo e de vontade para enfrentar as dificuldades. A preferência tem sido pela complacência com a baixa qualidade, com a falta de capricho e até com certas desonestidades.

2 Em vez de corrigir, perdoa-se o erro. Aceita-se o tosco e convive-se com o grosseiro, pois isso dá menos trabalho que buscar soluções que poderiam enriquecer o conhecimento, estimular a gentileza, melhorar a convivência social e ajudar a predispor as pessoas às boas práticas cidadãs.

3 Em um país assim, pode-se esperar o absurdo em várias versões. E ele quase sempre ocorre. Apesar disso, não deixa de chocar a iniciativa da escritora de livros infantis Patrícia Secco, que trocou sua missão de educar pela tarefa de produzir facilidades em vez de esforço, contornos e escapes em substituição ao aprendizado. Pior: fez isso com dinheiro público, captado pela lei de incentivos do Ministério da Cultura.

4 No mês que vem, quando a Seleção Brasileira pisar a grama da Arena Itaquerão para inaugurar os jogos da Copa do Mundo, nada menos de 300 mil exemplares de uma versão adulterada do genial conto (novela para alguns) O Alienista, obra de ninguém menos que Machado de Assis, o maior escritor brasileiro, serão gratuitamente distribuídos em todo o país em escolas e bibliotecas.

5 A escritora teve a ideia de traduzirq o texto de 1882, trocando palavras que ela e sua equipe consideram difíceis por outras que seriam mais acessíveis ao leitor atual. Ela afirma não ter visado seu público infantil, mas os jovens e adultos que, embora alfabetizados, não têm interesse pela leitura de autores clássicos simplesmente porque os textos contêm palavras que eles não conhecem.

6 Partiu, então, para uma adaptação que rouba do leitor, especialmente do menos letrado, a oportunidade de, ao se divertir com as loucuras narradas, com a leveza do texto e as finas ironias do Bruxo do Cosme Velho (como o chamava Carlos Drummond de Andrade), a chance de sair da leitura maior do que entrou. Afinal, mesmo nas histórias sem grande complexidade . como é o caso desse conto . , uma das riquezas desse nível de autor é a propriedade da narrativa, a inteligência na escolha das palavras, a elegância nas abordagens.

7 Publicar um Machado de Assis sem essas características é empurrar um faz de conta sobre quem deveria e merece ser alvo de especial atenção: o leitor inexperiente, mas potencialmente apto a avançar, a aprender

e, mais importante, a ampliar sua capacidade de pensar. Preferiram a autora e os gênios do Ministério da Cultura abrir mão da oportunidade de oferecer a ele anotações e até mesmo um pequeno glossário que o ajudasse a transformar escuridão em luz.

Em linha com a infeliz política de nivelamento por baixo, o desaforo de passar Machado de Assis a limpo vai atingir o também clássico e saboroso A pata da gazela, do cearense José de Alencar. Certamente não vão faltar aplausos, afinal, no Brasil de hoje sobram letrados que acham bobagem conhecer a diferença entre ter e possuir, haver e existir, seguir e continuar, para dar só alguns exemplos. É assim que vamos construir um país melhor, mais capaz de alcançar o progresso e a justiça social?

(Estado de Minas, 14 de maio de 2014, p. 8. Opinião.)

Glossário

Cosme Velho: nome de um bairro do Rio de Janeiro em que morou Machado de Assis.

Alienista: médico especialista em doenças mentais (uol.com.br).

Editorial: artigo em que se discute uma questão, apresentando o ponto de vista do periódico, do redator-chefe ou da empresa jornalística (uol.com.br).

01. Foram destacados quatro casos de uso de sinais de pontuação:

- I. No parágrafo 1, aspas simples (**Ípelo menosD**).
- II. No parágrafo 3, dois-pontos (**Pior:**).
- III. No parágrafo 4, parênteses para assinalar **novela para alguns**.
- IV. No parágrafo 6, vírgulas que separam **então**.

Assinale o comentário adequado sobre esses casos de pontuação:

- A) O uso previsível seria de aspas duplas.
 - B) Os dois-pontos indicam enumeração de fatos.
 - C) Os parênteses indicam uma correção.
 - D) As vírgulas destacam um sinônimo de **porém**.
- 02.** %A preferência tem sido pela complacência com a baixa qualidade, com a falta de capricho e até com certas desonestidades.+(parágrafo 1).

Apresentam-se, a seguir, propostas de reescrita da frase, mas a que se apresenta coerente, considerando-se o conteúdo e a forma, é:

- A) Têm havido pessoas que aceitam baixa qualidade, mesmo com falta de capricho e certas desonestidades, por despreparo.
- B) Todos preferem mais aceitar a baixa qualidade do que a falta de capricho e certas desonestidades, por desleixo.
- C) Preferem-se tudo: baixa qualidade, falta de capricho e certas desonestidades, além de outras características.
- D) Tem sido preferível aceitar a baixa qualidade, a falta de capricho e certas desonestidades a combater dificuldades.

03. O leitor deste texto jornalístico pode identificar falta de unanimidade de opinião sobre:

- A) punição de quem aceita o trabalho infantil.
- B) distribuição da obra O Alienista para bibliotecas.
- C) alteração de um texto muito antigo.
- D) edição simplificada de obra de autor de destaque.

04. O parágrafo 7 usa a palavra **gênios** para nomear pessoas que aceitaram essa edição de O Alienista. Uma consulta ao dicionário informa, para gênio: %extraordinária capacidade intelectual, notadamente a que se manifesta em atividades criativas+(houaiss.uol.com.br, acesso em 15/10/14).

O uso da palavra **gênios** constitui:

- A) Ironia . %dizer o contrário daquilo que se está pensando ou sentindo+
- B) Hipérbole . exagero no modo de discutir ou de apresentar um fato.
- C) Metáfora . %resultado de uma comparação mental e abreviada+
- D) Contraste . oposição entre ideias ou entre fatos, para destaque.

05. Eufemismo, um recurso de linguagem, %é o emprego de expressão mais nobre ou menos agressiva, para comunicar alguma coisa áspera, desagradável ou chocante+(Hildebrando André, 1997, p. 475). Um exemplo está no parágrafo 6: chamar de %menos letrado+quem revela dificuldades com a leitura.

Conclui-se, em vista dessa explicação, que o eufemismo é uma forma de:

- A) comparação.
- B) suavização.
- C) contraste.
- D) oposição.

06. %É **assim** que vamos construir um país melhor, mais capaz de alcançar o progresso e a justiça social?+(parágrafo 8)

De acordo com a argumentação que leva à última frase do texto, o **motivo amplo** que justifica o uso de **assim** é:

- A) Deixar crianças expostas a risco, como as que vivem na rua.
- B) Usar mal o texto de um escritor tão importante como Machado de Assis.
- C) Ignorar recursos que podem levar os jovens a pensar, a raciocinar.
- D) Desvalorizar o gosto pela leitura indicando livros muito difíceis.

07. O texto **não** faz referência ao descaso com:

- A) a infância.
- B) a linguagem da literatura infantil.
- C) o estudo da gramática.
- D) a formação do cidadão.

08. Na expressão "Publicar um Machado" (parágrafo 8) o complemento do verbo **publicar** se afasta dos mais previsíveis, como publicar um livro, uma revista, um poema.

A justificativa para o uso de "Publicar um Machado" é:

- A)** Evitar repetir o nome da obra, embora seja muito conhecida.
- B)** Utilizar o nome do autor em lugar do nome da obra.
- C)** Destacar uma obra que é objeto de questionamentos.
- D)** Motivar o leitor para associar o autor a obras que causam polêmicas

09. A argumentação apresentada pelo texto permite identificar, com associação de ações ou de atitudes, uma "culpa esfarrapada", ou seja, um motivo questionável:

- A)** Aceitar que crianças trabalhem na rua/entender que as crianças merecem proteção.
- B)** Escolher textos de leitura mais fácil/divulgar as obras de Machado de Assis.
- C)** Adaptar um texto literário/ajudar pessoas que ainda não podem ler certos textos.
- D)** Preocupar-se com a formação do cidadão/aceitar que se alterem as obras literárias.

10. A alternativa que caracteriza a atuação de escritora mencionada no parágrafo 3 é:

- A)** Estava usando para a obra de Machado de Assis a linguagem da literatura infantojuvenil.
- B)** Estava preocupada com a clareza e com o conhecimento da língua.
- C)** Estava agindo assim, por saber que muitas pessoas não gostam de gramática.
- D)** Estava desconsiderando que é possível levar o leitor à construção do sentido do texto.

11. No mês que vem, quando a Seleção Brasileira pisar a grama da Arena Itaquerão para inaugurar os jogos da Copa do Mundo, nada menos de 300 mil exemplares de uma versão adulterada do genial conto (novela para alguns) O Alienista, obra de ninguém menos que Machado de Assis, o maior escritor brasileiro, serão gratuitamente distribuídos em todo o país em escolas e bibliotecas.+

O comentário adequado, em relação à frase destacada, é:

- A) A oração **que vem** completa o substantivo **mês**. (Qual mês?) O mês do início da Copa do Mundo.
- B) A expressão **o maior escritor brasileiro**, por estar entre vírgulas, confirma qual escritor o texto menciona.
- C) O verbo **pisar** confirma um emprego comum em placas: **Não pise na grama**.
- D) Embora o verbo **distribuir** esteja na voz passiva (**serão distribuídos**), não se indica quem pratica a ação.

12. Consultas a dicionários permitem encontrar estes significados:

- I. Versão: tradução de um texto de uma língua para outra.
- II. Elegância: distinção de porte, de maneiras.
- III. Glossário: vocabulário ou livro em que se explicam palavras de significado obscuro.
- IV. Passar a limpo: tirar uma cópia limpa.

Considerado o texto lido, mantém-se este significado:

- A) **Versão**, de acordo com o parágrafo 4.
- B) **Elegância**, de acordo com o parágrafo 6.
- C) **Glossário**, de acordo com o parágrafo 7.
- D) **Passar a limpo**, de acordo com o parágrafo 8.

13. A escrita e a justificativa apresentada são adequadas em:

- A) **Por que?** . disse ele assustado, ao ver os livros. (Trata-se de pergunta direta.)
- B) Todos quiseram saber **por que** os livros foram distribuídos. (Trata-se de pergunta indireta.)
- C) Eles não gostam de ler **porque** não foram bem orientados. (Trata-se da conjunção, sinônimo de **portanto**.)
- D) Quero conhecer os motivos **porque** não gostam de ler. (Trata-se do uso da preposição **por** e do pronome **que**, ou seja, **pelos quais**.)

14. Apresentam-se propostas de completar a lacuna existente nesta frase:

Mesmo que a ação não seja a melhor, _____.

A que garante coerência com o texto lido é:

- A) destaca-se José de Alencar, autor de A Pata da Gazela.
- B) confirma-se a intenção de tornar mais conhecida uma obra literária.
- C) é preciso tirar das ruas crianças que trabalham e correm sérios riscos.
- D) distribuem-se livros para escolas e bibliotecas.

15. Marque a alternativa em que o verbo destacado entre parênteses admite o singular e o plural, de acordo com o padrão culto da língua.

- A) _____ havido muitas dúvidas quanto a palavras que devem ou não devem ser substituídas. (**ter**)
- B) Frequentemente, 20% da turma _____, na biblioteca, dicionários e gramáticas. (**consultar**)
- C) É preciso que se _____ estratégias que levem os alunos a gostar de ler. (**conseguir**)
- D) _____ situações em que os próprios alunos escolhiam mais de um livro. (**ocorrer**)

16. Considerando-se palavras do parágrafo 1, apenas uma das listadas abaixo não exige complemento:

- A) Ocorre **desleixo**? Com quê?
- B) É **proporcional**? A quê?
- C) Verifica-se **preferência**? Por que procedimento?
- D) É **aceitável**? Que atitude?

17. Este editorial não permite que o leitor identifique:

- A) o fato que motivou a elaboração do texto.
- B) o ponto de vista do redator.
- C) a justificativa dada por outra pessoa.
- D) a consequência para quem se dedica à literatura.

18. Usa-se **até** para indicar limite (no tempo, no espaço e nas ações ou características apresentadas) e inclusão.

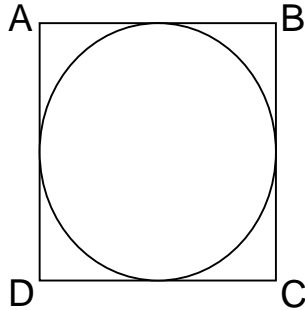
Nesta frase do parágrafo 1, **até** preferência tem sido pela complacência com baixa qualidade, com a falta de capricho e **até** com certas desonestidades; o uso de **até** tem o mesmo valor semântico em:

- A) Trabalharam intensamente de março até dezembro.
- B) Consegui ir a pé de Ouro Preto até Mariana.
- C) Vimos rosas vermelhas e aveludadas, muitos tipos de cravos e até flores anônimas.
- D) Ficaremos na sala até que todos terminem a prova.

- 19.** Mesmo sem uso do acento grave, identificam-se dois casos de crase em:
- A)** O incentivo a leitura pode fazer com que número maior de pessoas dê valor as bibliotecas
 - B)** Por causa do mês de junho, o texto associa o início da Copa do Mundo a distribuição de livros, sem fazer crítica a preços da edição.
 - C)** Opondo-se a simplificação desse texto literário, o editorial faz alusão a características da obra machadiana.
 - D)** Graças as explicações dadas, podemos decidir com referência a uma obra de Machado de Assis.
- 20.** No parágrafo 4, a indicação do número de exemplares distribuídos permite que se entenda o seguinte:
- A)** exatamente 300 mil.
 - B)** aproximadamente 300 mil.
 - C)** contraditoriamente 300 mil.
 - D)** certamente 300 mil.

Questões de 21 a 40 **É Matemática**
Raciocínio Lógico matemático

21. Considere a figura abaixo.



O quadrado ABCD, com uma circunferência tangente aos seus lados, representa um alvo para dardos em um parque de diversões. A probabilidade de um jogador que acertou o alvo não ter acertado o círculo é:

- A) $\frac{1}{2}$.
- B) $\frac{1}{4}$.
- C) maior do que $\frac{1}{4}$ e menor do que $\frac{1}{2}$.
- D) menor do que $\frac{1}{4}$.

22. O Estado de São Paulo representa aproximadamente 22% do colégio eleitoral brasileiro, isto é, 22% dos eleitores do Brasil. Na última eleição presidencial, um candidato a presidente do Brasil obteve cerca de 64% dos votos dos paulistas no segundo turno e, no Brasil, em torno de 48%.

Considere as afirmativas seguintes:

- I. 14,8% dos votos desse candidato provêm do Estado de São Paulo.
- II. 14,8% dos votos dos paulistas foram para esse candidato.
- III. Os votos dos paulistas para esse candidato representam 14,8% dos votos de todos os eleitores brasileiros.
- IV. Os votos dos paulistas para esse candidato correspondem a cerca de 29% dos votos que ele obteve.

Marque a alternativa **correta**.

- A) Apenas as afirmativas I e II são verdadeiras.
- B) Apenas as afirmativas I e IV são verdadeiras.
- C) Apenas as afirmativas II e III são verdadeiras.
- D) Apenas as afirmativas III e IV são verdadeiras.

23. Considere as funções reais dadas por $f(x) = -x^2 + 11x - 10$ e $g(x) = 2x - 17$. A quantidade de números naturais n para os quais $f(n) \geq 0$ e $g(n) < 0$ é:

- A) 7.
- B) 8.
- C) 9.
- D) 10.

24. Uma loja vende uma televisão oferecendo duas formas de pagamento: à vista, com 10% de desconto ou em duas prestações iguais sem desconto, sendo que a primeira deve ser paga no ato da compra. Nessas condições, a taxa de juros embutida no pagamento em duas parcelas é de:

- A) 5%.
- B) 15%.
- C) 20%.
- D) 25%.

25. Os índices de reajuste do salário mínimo em 2012, 2013 e 2014 foram, respectivamente, 15%, 11% e 6,7%, aproximadamente. O valor mais próximo do reajuste acumulado nesses três anos é:

- A) 10,9%.
- B) 32,7%.
- C) 36%.
- D) 110,5%.

26. O número de dígitos do resultado da multiplicação $10^3 \cdot 10^6 \cdot 10^9 \cdot 10^{12} \dots 10^{30}$ é:

- A) 90.
- B) 160.
- C) 162.
- D) 166.

27. Dentre os retângulos de perímetro 20 metros, aquele que possui a menor diagonal terá área, em metros quadrados, igual a:

- A) 10.
- B) 15.
- C) 20.
- D) 25.

28. Numa escola de línguas, estudam 110 alunos, dos quais 58 estudam inglês, 46 estudam francês e 14, outras línguas que não essas duas. O número de estudantes que estudam as duas línguas, inglês e francês, é:

- A) 8.
- B) 52.
- C) 96.
- D) 104.

29. Numa urna em que há 50 bolas numeradas de 1 a 50, escolhe-se ao acaso uma delas. A probabilidade de ser escolhida uma bola numerada com um número que **não** é múltiplo de 5 e também **não** é múltiplo de 7 é:

A) $\frac{49}{50}$.

B) $\frac{1}{5}$.

C) 68%.

D) 17%.

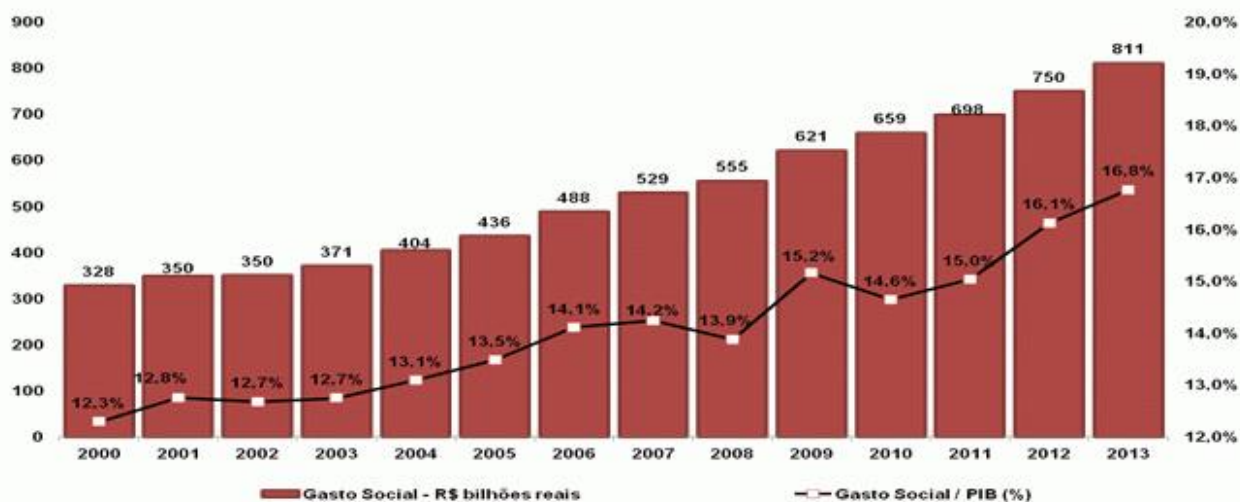
30. Numa fábrica, duas máquinas idênticas produzem 10.000 peças operando 4 horas por dia, durante 6 dias. O número de peças produzidas por três dessas máquinas, operando 3 horas por dia, durante 8 dias, será de:

- A) 5.000.
- B) 10.000.
- C) 15.000.
- D) 20.000.

31. O valor simplificado da expressão $\frac{\left(-\frac{1}{5}\right)^{-2} + (0,333\dots)^2 \cdot 2}{4 \cdot 115^0 + 32 \frac{1}{5}}$ é:

- A) -3.
 - B) -1,21.
 - C) 0,111 ...
 - D) 1.
32. O campeonato brasileiro de futebol é disputado por 20 times que jogam entre si exatamente duas vezes por ano, uma no 1º turno e outra no 2º turno. O número total de jogos durante o campeonato é:
- A) 20.
 - B) 40.
 - C) 190.
 - D) 380.
33. A maquete de um condomínio foi elaborada na escala de 1 : 50, isto é, cada unidade de comprimento corresponde a 50 unidades de comprimento no condomínio. A quadra de futsal tem área 3.200cm^2 e a piscina tem volume 400cm^3 . A área real da quadra e o volume real da piscina são, respectivamente:
- A) 800m^2 e 50.000 litros.
 - B) 80.000cm^2 e 50m^3 .
 - C) 1.600m^2 e 50.000 litros.
 - D) 16.000cm^2 e 5.000cm^3 .

34. O gráfico abaixo apresenta o investimento do governo federal em políticas sociais desde o ano 2000.



Fonte: www.cartamaior.com.br/?/Editoria/Economia - Acesso em 29/10/2014.

De acordo com esse gráfico, considere as seguintes afirmativas:

- I. Os gastos investidos em políticas sociais em 2013 são mais do que o dobro daqueles de 2003.
- II. O PIB de 2013 cresceu cerca de 81% em relação ao PIB de 2000.
- III. O PIB de 2002 é igual ao de 2003.
- IV. A porcentagem do PIB investida em políticas sociais no ano de 2013 cresceu cerca de 31% em relação à porcentagem investida em 2001.

Marque a alternativa **correta**.

- A) Apenas as afirmativas I, II e IV são verdadeiras.
- B) Apenas as afirmativas I, III e IV são verdadeiras.
- C) Apenas as afirmativas II, III e IV são verdadeiras.
- D) Todas as afirmativas são verdadeiras.

35. Duas lâminas de alumínio retangulares, A e B, possuem a mesma altura. O comprimento da lâmina A é o dobro do comprimento de B. Ambas serão coladas separadamente em suas bordas, ao longo de suas respectivas alturas, de modo a formarem dois cilindros C_A e C_B , respectivamente. A razão $\frac{V_A}{V_B}$ entre os volumes dos cilindros é de:

A) $\frac{2}{1}$.

B) $\frac{4}{1}$.

C) $\frac{6}{1}$.

D) $\frac{8}{1}$.

36. Numa urna, há seis bolas de cada cor: branca, preta e amarela. O número mínimo de bolas que deverá ser retirado ao acaso da urna para se ter certeza de que três bolas de cores diferentes terão sido retiradas é:

A) 3.

B) 7.

C) 13.

D) 20.

37. Considere as afirmativas abaixo:

- I. A interseção de dois planos distintos pode ser vazia ou uma reta.
- II. Se duas retas no espaço não se intersectam, então elas são paralelas.
- III. Se uma reta é perpendicular à reta interseção de dois planos, então ela é perpendicular aos dois planos.
- IV. Se uma reta é perpendicular a duas retas concorrentes em um plano, então ela é perpendicular ao plano.

Marque a alternativa **correta**.

A) Apenas as afirmativas I, II e III são verdadeiras.

B) Apenas as afirmativas I e IV são verdadeiras.

C) Apenas as afirmativas II e III são verdadeiras.

D) Apenas as afirmativas III e IV são verdadeiras.

38. Há duas retas paralelas ao eixo x que são tangentes à circunferência de equação $(x + 1)^2 + (y - 3)^2 = 4$. Elas intersectam o eixo y em pontos de ordenadas:

- A) 0 e 2.
- B) 0 e 4.
- C) 1 e 3.
- D) 1 e 5.

39. A sequência $2^x, 2^{2x}, 2^{3x}, 2^{4x}, 2^{5x}, \dots$ é:

- A) uma progressão aritmética de razão x .
- B) uma progressão geométrica de razão 2 .
- C) uma progressão aritmética de razão 1 .
- D) uma progressão geométrica de razão 2^x .

40. O número de divisores positivos do número 600 é:

- A) 3.
- B) 12.
- C) 16.
- D) 24.

Questões de 41 a 50 – Informática

41. Ao utilizar a ferramenta de pesquisa do Google, pode-se limitar o resultado da pesquisa adicionando símbolos e palavras, chamados operadores de pesquisa. Esses são usados para pesquisar uma palavra exata ou um conjunto de palavras exatas.

Para pesquisar a palavra exata **Universidade**, deve-se utilizar:

- A) info: Universidade
- B) link: Universidade
- C) "Universidade"
- D) . Universidade

42. Sabe-se que hardware é a parte física de um computador. Todas as alternativas abaixo fazem parte dela, **exceto**:

- A) Memória RAM.
- B) Processador.
- C) Placa-mãe.
- D) Sistema Operacional.

43. No Microsoft Word em português, é possível salvar um arquivo em alguns tipos de formato, **exceto**:

- A) rtf.
- B) jpg.
- C) xml.
- D) html.

44. Considerando o Sistema Operacional Windows 7, são opções do Painel de Controle, **exceto**:

- A) Vídeo.
- B) Alterar ou remover hardware.
- C) Programas e Recursos.
- D) Mouse.

45. Com relação ao Sistema Operacional Windows e seus componentes, assinale a alternativa **incorreta**.

- A) O Backup permite fazer cópias de segurança de arquivos.
- B) O Scandisk permite verificar e corrigir erros em arquivos e pastas.
- C) O Drivespace reorganiza os arquivos no HD.
- D) O Wordpad é um editor de texto.

46. Analise as afirmativas abaixo:

- I. O conceito de computação em nuvem (em inglês, *cloud computing*) refere-se à utilização da memória e das capacidades de armazenamento e cálculo de computadores e servidores compartilhados e interligados por meio da internet.
- II. Uma rede de dados, assim como os softwares, tem a função de transmitir informações e processá-las.
- III. No Outlook Express, caso se envie uma mensagem com o uso do recurso %Co:+ a mais de um endereço eletrônico, a mensagem encaminhada permitirá a todos os recebedores ver a relação de destinatários.
- IV. Um firewall, quando bem configurado, age como um filtro e deve trabalhar com regras restritivas. Assim, a regra que melhor define seu funcionamento é: %udo o que não é permitido, é proibido!+

Marque a alternativa **correta**.

- A) Apenas as afirmativas I, II e IV são verdadeiras.
- B) Apenas as afirmativas I, III e IV são verdadeiras.
- C) Apenas as afirmativas I e IV são verdadeiras.
- D) Apenas as afirmativas II e IV são verdadeiras.

47. Firewall é o nome dado a um dispositivo físico e/ou lógico que tem por finalidade evitar a invasão e a utilização de uma rede e de seus servidores e estações de trabalho por softwares ou pessoas não autorizadas. A configuração de um Firewall consiste na:

- A) combinação de regras que abrem ou fecham as portas lógicas e nas regras de verificação de protocolos TCP/IP e UDP.
- B) implementação da lista de regras administrativas com as permissões de uso da rede pelos usuários.
- C) instalação de pacotes com atualizações de segurança fornecidas pelo fabricante do sistema operacional dos servidores de rede.
- D) permissão ou no bloqueio do acesso a URLs determinadas pelo gestor de segurança.

48. Considere a planilha abaixo criada no Microsoft Excel em português.

	A	B
1	1	1
2	2	3
3	3	4
4	2	5
5	2,5	7
6	2,5	4,75

Marque a alternativa que contém a fórmula que foi digitada na célula B6 para calcular a média dos valores maiores ou iguais a 3.

- A) =MÉDIA(B1:B5;>=3)
- B) =MÉDIA(B2;B5)
- C) =MÉDIA(B2:B5)
- D) =MÉDIA(B1;B5,>=3)

49. Sobre conceitos de organização e gerenciamento de informações, arquivos, pastas e programas no sistema operacional Windows, assinale a alternativa **correta**.

- A) Não é possível criar uma pasta dentro de outra já existente.
- B) É possível salvar, dentro de uma mesma pasta, arquivos com o mesmo nome.
- C) Não podem ser salvos, em uma mesma pasta, arquivos com extensões diferentes.
- D) Será eliminada pelo sistema, após este ser reiniciado, uma pasta vazia.

50. Um programa ou os dados que ele vai manipular, para serem executados, precisam inicialmente ser carregados na memória.

A afirmação está se referindo a que tipo de memória?

- A) RAM.
- B) ROM.
- C) Virtual.
- D) Cache.

Questões de 51 a 60 É Legislação

Sobre o Regime Jurídico dos Servidores Públicos Cíveis da União, das autarquias e das fundações públicas federais (Lei nº 8.112/90), responda às questões de 51 a 58.

51. Sobre estágio probatório e estabilidade no serviço público federal, analise as afirmativas abaixo.

- I. Durante o estágio probatório, aptidão e capacidade são objetos de avaliação para o desempenho do cargo.
- II. O servidor em estágio probatório não poderá exercer cargos de provimento em comissão ou função de direção, chefia ou assessoramento.
- III. Ao completar três anos de efetivo exercício do cargo, o servidor habilitado em concurso, empossado em cargo de provimento efetivo e aprovado em estágio probatório adquirirá estabilidade.

Assinale a alternativa **correta**.

- A) Apenas as afirmativas I e II são verdadeiras.
- B) Apenas as afirmativas I e III são verdadeiras.
- C) Apenas as afirmativas II e III são verdadeiras.
- D) Todas as afirmativas são verdadeiras.

52. Sobre o provimento de cargos públicos e os institutos a ele relacionados, assinale a alternativa **correta**.

- A) Cargo público é, na estrutura organizacional, o conjunto de atribuições e responsabilidades previstas que devem ser cometidas a um servidor.
- B) O concurso público terá validade de até um ano, podendo ser prorrogado uma única vez, por igual período.
- C) Posse é o efetivo desempenho das atribuições do cargo público ou da função de confiança.
- D) A investidura em cargo público ocorrerá com a posse, em quinze dias contados da publicação do ato de provimento.

53. Sobre direitos e vantagens no serviço público federal, analise as afirmativas a seguir.

- I. A gratificação natalina corresponde a um doze-avos da remuneração a que o servidor fizer jus no mês de dezembro, por mês de exercício no respectivo ano.
- II. O servidor fará jus a trinta dias de férias, que podem ser acumuladas até o máximo de dois períodos, no caso de necessidade de serviço, ressalvadas as hipóteses em que haja legislação específica.
- III. Mediante solicitação, será pago ao servidor, por ocasião das férias, adicional correspondente a um terço da remuneração do período de férias.

Assinale a alternativa **correta**.

- A) Apenas as afirmativas I e II são verdadeiras.
- B) Apenas as afirmativas I e III são verdadeiras.
- C) Apenas as afirmativas II e III são verdadeiras.
- D) Todas as afirmativas são verdadeiras.

54. A respeito das licenças, assinale a alternativa **correta**.

- A) A licença para tratar de interesse particular poderá ser concedida ao servidor ocupante de cargo efetivo que não esteja em estágio probatório, independente de análise de conveniência pela Administração.
- B) A licença por motivo de doença em pessoa da família somente será deferida se a assistência direta do servidor for indispensável e não puder ser prestada simultaneamente com o exercício do cargo ou mediante compensação de horário.
- C) A licença concedida ao servidor durante o período compreendido entre sua escolha em convenção partidária como candidato a cargo eletivo e a véspera do registro da candidatura perante a Justiça é remunerada.
- D) A licença por motivo de afastamento do cônjuge será concedida por prazo determinado e sem remuneração.

55. São penalidades disciplinares, **exceto**:

- A) Advertência.
- B) Suspensão.
- C) Demissão.
- D) Exoneração.

56. Relacione a 2ª coluna de acordo com a 1ª, classificando as licenças listadas abaixo quanto à manutenção da remuneração.

- | | |
|----------------------------|--|
| (1) Licença remunerada | () Licença para tratar de interesse particular |
| (2) Licença não remunerada | () Licença para tratamento da própria saúde |
| | () Licença para capacitação |
| | () Licença por motivo de afastamento do cônjuge |

Assinale a alternativa que contém a sequência **correta**.

- A) 1 . 1 . 2 . 2
- B) 1 . 2 . 1 . 2
- C) 2 . 1 . 1 . 2
- D) 2 . 2 . 1 . 1

57. ‰_____ é o vencimento do cargo efetivo, acrescido das vantagens pecuniárias permanentes estabelecidas em lei.+

O termo que preenche a lacuna acima, estabelecendo o conceito legal de um dos direitos conferidos ao servidor é:

- A) Retribuição
- B) Subsídio
- C) Remuneração
- D) Salário-família

58. Sílvio, servidor de uma instituição federal de ensino, ocupante de cargo efetivo, ainda em estágio probatório, foi eleito vereador da cidade de Ouro Preto.

Pode-se afirmar que:

- A) Sílvio terá que, obrigatoriamente, afastar-se do seu cargo para assumir o mandato eletivo, percebendo apenas o subsídio de vereador.
- B) Sílvio terá que, obrigatoriamente, afastar-se do seu cargo para assumir o mandato eletivo, podendo optar pela remuneração do cargo ou pelo subsídio de vereador.
- C) Sílvio poderá, havendo compatibilidade de horários, desempenhar as atribuições do cargo e do mandato, fazendo jus à remuneração e ao subsídio.
- D) Sílvio não poderá ser investido no mandato de vereador, uma vez que se encontra em estágio probatório.

59. A Lei nº 9.784/99 estabelece normas básicas sobre o processo administrativo no âmbito da Administração Federal direta e indireta, visando, em especial, à proteção dos direitos dos administrados e ao melhor cumprimento dos fins da Administração. Considerando essa lei, relacione a 2ª coluna de acordo com a 1ª, associando cada elemento ao seu conceito legal.

- | | |
|----------------|--|
| (1) Autoridade | () Unidade de atuação dotada de personalidade jurídica |
| (2) Órgão | () Servidor ou agente público dotado de poder de decisão |
| (3) Entidade | () Unidade de atuação integrante da estrutura da Administração direta ou indireta |

Assinale a alternativa que contém a sequência **correta**.

- A) 1 . 2 . 3
- B) 1 . 3 . 2
- C) 2 . 1 . 3
- D) 3 . 1 . 2

60. Tendo em vista o disposto no Regimento Geral da Universidade Federal de Ouro Preto, analise as afirmativas a seguir.

- I. As sessões de órgãos colegiados da UFOP poderão ser convocadas apenas pelo seu Presidente, por escrito.
- II. As sessões dos órgãos colegiados da UFOP instalar-se-ão com a presença da maioria de seus membros e deliberarão pelo voto de metade mais um dos presentes, salvo quando expresso em contrário.
- III. As modificações ao Regimento Geral da UFOP requerem um quórum de maioria absoluta, ou seja, metade mais um da totalidade dos membros e representações do Conselho Universitário.

Assinale a alternativa **correta**.

- A) Apenas as afirmativas I e II são verdadeiras.
- B) Apenas as afirmativas I e III são verdadeiras.
- C) Apenas as afirmativas II e III são verdadeiras.
- D) Todas as afirmativas são verdadeiras.

Concurso Público
Edital PROAD 74/2014



UFOP

Universidade Federal
de Ouro Preto