

LÍNGUA PORTUGUESA

Considere o texto que se segue para resolver as questões de 1 a 10.

Uma educação que nos torna mediócras

Lya Luft (Revista Veja) com adaptações

"Queremos, aceitamos, pão e circo, a Copa, a Olimpíada, a balada, o joguinho, o desconto, o prazo maior para nossas dívidas, o não saber de nada sério: a gente não quer se incomodar. Ou pior: nós temos a sensação de que não adianta mesmo"

Leio com tristeza sobre o quanto países como Coréia do Sul e outros estimulam o ensino básico, conseguem excelência em professores e escolas, ótimas universidades, num crescimento real, aquele no qual tudo se fundamenta: a educação, a informação, a formação de cada um.

Comparados a isso, parecemos treinar para ser mediócras. Como indivíduos, habitantes deste Brasil, estamos conscientes disso, e queremos — ou vivemos sem saber de quase nada? Não vale, para um povo, a desculpa do menino levado que tem a resposta pronta: "Eu não sabia", "Não foi por querer".

Pois, mesmo com a educação — isto é a informação — tão fraquinha e atrasada, temos a imprensa para nos informar. A televisão não traz só telenovelas ou programas de auditório: documentários, reportagens, notícias, nos tornam mais gente: jornais não têm só coluna policial ou fofocas sobre celebridades, mas nos deixam a par e nos integram no que se passa no mundo, no país, na cidade.

Alienação é falta grave: omissão traz burrice, futilidade é um mal. Por omissos votamos errado ou nem votamos, por desinformados não conhecemos os nossos direitos, por fúteis não queremos lucidez, não sabemos da qualidade na escola do filho, da saúde de todo mundo, da segurança em nossas ruas.

O real crescimento do país e o bem da população passam ao largo de nossos interesses. Certa vez escrevi um artigo que deu título a um livro: "Pensar é transgredir". Inevitavelmente me perguntam: "Transgredir o quê?". Transgredir a ordem da mediocridade, o deixa pra lá, o nem quero saber nem me conte, que nos dá a ilusão de sermos livres e leves como na beira do mar, pensamento flutuando, isso é que é vida. Será? Penso que não, porque todos, todos sem exceção, somos prejudicados pelo nosso próprio desinteresse.

Nosso país tem tamanhos problemas que não dá para fingir que está tudo bem, que somos os tais, que somos modelo para os bobos europeus e americanos, que aqui está tudo funcionando bem, e que até crescemos. Na realidade, estamos parados, continuamos burros, doentes, desamparados, ou muito menos burros e doentes e desamparados do que poderíamos estar. Já estivemos em situação pior? Claro que sim.

Já tivemos escravidão, a mortalidade infantil era assustadora, os pobres sem assistência, nas ruas reinava a imundície, não havia atendimento algum aos necessitados (hoje há menos do que deveria, mas existe). Então, de certa forma, muita coisa melhorou. Mas poderíamos estar melhores, só que não parecemos interessados.

Queremos, aceitamos, pão e circo, a Copa, a Olimpíada, a balada, o joguinho, o desconto, o prazo maior para nossas dívidas, o não saber de nada sério: a gente não quer se incomodar. Ou pior: nós temos a sensação de que não adianta mesmo. Mas na verdade temos medo de sair às ruas, nossas casas e edifícios têm porteiro, guarda, alarmes e medo.

Nossas escolas são fraquíssimas, as universidades péssimas, e o propósito parece ser o de que isso ainda piore. Pois, em lugar de estimularmos os professores e melhorarmos imensamente a qualidade de ensino de nossas crianças, baixamos o nível das universidades, forçando por vários recursos a entrada dos mais despreparados, que naturalmente vão sofrer ao cair na realidade. Mas a esses mais sem base, porque fizeram uma escola péssima ou ruim, dizem que terão tutores no curso superior para poder se equilibrar e participar com todos.

Porque nós não lhes demos condições positivas de fazer uma boa escola, para que pudessem chegar ao ensino superior pela própria capacidade, queremos band-aids ineficientes para fingir que está tudo bem. Não se deve baixar o nível em coisa alguma, mas elevar o nível em tudo.

Todos, de qualquer origem, cor, nível cultural e econômico ou ambiente familiar, têm direito à excelência que não lhes oferecemos, num dos maiores enganos da nossa história.

Não precisamos viver sob o melancólico império da mediocridade que parece fácil e inocente, mas trava nossas capacidades, abafa nossa lucidez, e nos deixa tão agradavelmente distraídos.

Fonte: <http://veja.abril.com.br/blog/ricardo-setti/politica-cia/lya-luft-mediocres-distraidos-ok/Acesso em 23/09/2013>.

QUESTÃO 01

Assinale a opção que melhor resume a ideia perpassada pelo título “Uma educação que nos torna mediócras”:

- (a) “Não se deve baixar o nível em coisa alguma, mas elevar o nível em tudo”.
- (b) “Jornais não têm só coluna policial ou fofocas sobre celebridades, mas nos deixam a par e nos integram no que se passa no mundo, no país, na cidade”.
- (c) “Como indivíduos, habitantes deste Brasil, estamos conscientes disso (...)”.
- (d) “Ótimas universidades, num crescimento real, aquele no qual tudo se fundamenta: a educação, a informação, a formação de cada um”.
- (e) “Nossas escolas são fraquíssimas, as universidades péssimas, e o propósito parece ser o de que isso ainda piore”.

QUESTÃO 02

Da leitura do texto, pode-se dizer que a autora:

- (a) Defende políticas de atenção especial para os alunos da educação básica, nas universidades.
- (b) Critica medidas paliativas que pouco alteram a realidade educacional brasileira.
- (c) Discute políticas educacionais e culturais no contexto brasileiro, dando soluções.
- (d) Demonstra sua visão otimista da realidade educacional brasileira.
- (e) Julga, de forma positiva, as ações para a copa, considerando-a como um grande incentivo à cultura, ao esporte e à educação.

QUESTÃO 03

A partir da leitura e considerando as pistas textuais, pode-se inferir que os “sem base”, na visão da autora, são:

- (a) Alunos da educação básica, oriundos de escolas privadas e que pouco têm acesso a um ensino de qualidade.
- (b) Alunos considerados recém-ingressos nas universidades, por meio de ações afirmativas, dentre essas, a criação de cotas e programas governamentais de acesso ao ensino superior.
- (c) Alunos apenas do ensino fundamental que estão no momento de transição para ensino médio.
- (d) Alunos de educação técnica, que por não terem disciplinas do currículo mínimo, apresentam dificuldades a respeito de alguns conteúdos.

- (e) Alunos tanto do ensino médio de escolas privadas, quanto alunos de ensino técnico integrado, que apresentam lacunas em suas formações iniciais.

QUESTÃO 04

Com base nas ideias do texto, marque a opção CORRETA.

- (a) De acordo com a autora, o Brasil tem investido na educação, porém em escalas maiores que outros países como, por exemplo, a Coreia do Sul.
- (b) Para a autora, a imprensa pode nos oferecer informações preciosas, já que não trata apenas de temas fúteis ou prófugos. Isso comprova que a educação também pode ser mediada por programas, documentários advindos das mídias de massa.
- (c) Luft mostra que a educação brasileira não precisa de reformulações em sua estrutura pedagógica.
- (d) Conforme a autora, devemos ficar presos “sob o melancólico império da mediocridade que parece fácil e inocente”, o que implica dizer que devemos lutar por condições melhores não somente para nós, mas para o país.
- (e) Na opinião da autora todos se importam com o crescimento do país.

QUESTÃO 05

Analise as afirmativas abaixo quanto à coesão textual, considerando as marcações feitas nos fragmentos. A seguir assinale a alternativa que contém as afirmações CORRETAS.

I - No fragmento “Comparados a isso, parecemos treinar para ser mediócras” (2º §), há um termo anafórico representado por um pronome demonstrativo.

II – Em “Pois, mesmo com a educação — isto é a informação — tão fraquinha e atrasada”, temos a imprensa para nos informar “(3º§), temos coesão lexical por sinônimos.

III – Em “O real crescimento do país e o bem da população passam ao largo de nossos interesses” (5º§), temos sujeito elíptico.

IV – Em “Penso que não, porque todos, todos sem exceção, somos prejudicados pelo nosso próprio desinteresse” (5º§), temos uma conjunção explicativa.

- (a) Apenas I e II.
- (b) Apenas I e IV.
- (c) Apenas III e IV.
- (d) Apenas I, II e IV.
- (e) Apenas II e IV.

QUESTÃO 06

Leia o excerto abaixo e a seguir assinale a alternativa CORRETA:

“Já tivemos escravidão, a mortalidade infantil era assustadora, os pobres sem assistência, nas ruas reinava a imundície, não havia atendimento algum aos necessitados (hoje há menos do que deveria, mas existe)”.

- (a) O uso do verbo em destaque permite a compreensão de um fato absolutamente certo de ter ocorrido.
- (b) Os termos em destaque, respectivamente, são: substantivo, adjetivo, substantivo feminino, substantivo, verbo e advérbio de tempo.
- (c) Os termos **hoje** e **assustadora** são advérbios de modo.
- (d) O verbo em destaque permite a compreensão de um fato provavelmente ocorrido.
- (e) Os termos **infantil** e **assustadora**, respectivamente, são: adjetivo qualificador e um advérbio de modo.

QUESTÃO 07

O texto de Lia Luft é um artigo de opinião, pois é caracterizado por:

- (a) Linguagem objetiva, com comprovação de alguns fatos.
- (b) Linguagem direta, fatos controversos, marcados, discursivamente, por conjunções adversativas.
- (c) Linguagem objetiva, clareza na exposição das ideias, com argumentação para analisar, avaliar e responder a uma questão controversa.
- (d) Linguagem subjetiva e sujeito enunciativo poético.
- (e) Linguagem direta, sem circularidades e subjetividade, com a qual se busca convencer o outro sobre determinada ideia, influenciando-o e transformando seus valores por meio da argumentação a favor de uma posição e de refutação de possíveis opiniões divergentes.

QUESTÃO 08

Considerando a organização discursiva dos gêneros textuais, pode-se afirmar que em artigos de opinião há o predomínio de:

- (a) Ordenação tipológica predominantemente narrativa, explicativa e argumentativa
- (b) Ordenação tipológica predominantemente descritivo-injuntiva.

- (c) Ordenação tipológica predominantemente expositiva e argumentativa.
- (d) Ordenação tipológica de versificação.
- (e) Ordenação tipológica predominantemente injuntiva.

QUESTÃO 09

No fragmento “Queremos, aceitamos, pão e circo, a Copa, a Olimpíada, a balada, o joguinho, o desconto, o prazo maior para nossas dívidas, o não saber de nada sério: a gente não quer se incomodar” (...). A terminação dos verbos “sabemos”, “aceitamos” e “temos”, evidencia que:

- (a) Não há concordância verbal.
- (b) O sujeito do discurso participa parcialmente das ações verbais.
- (c) Há inclusão do sujeito discursivo nas ações apresentadas.
- (d) Trata-se de um caso de sujeito composto.
- (e) Há respectivamente, sujeito composto e sujeito oculto.

QUESTÃO 10

Considere o trecho seguinte:

“Alienação é falta grave: omissão traz burrice, futilidade é um mal. Por omissos votamos errado ou nem votamos, por desinformados não conhecemos os nossos direitos (...)”.

Sobre o termo em destaque pode-se afirmar corretamente que é:

- (a) Um termo anafórico.
- (b) Um Aposto explicativo, pois está especificando o sujeito da sentença, através de uma explicação.
- (c) Uma Locução verbal.
- (d) Um Predicativo do sujeito.
- (e) Um Complemento adverbial.

LEGISLAÇÃO E FUNDAMENTOS DA ADMINISTRAÇÃO PÚBLICA

QUESTÃO 11

Conforme o artigo 41 da Constituição Federal, o estágio probatório corresponde ao período em que o servidor, nomeado em caráter efetivo, ficará em observação e durante o qual será avaliado o seu desempenho para a confirmação no cargo.

Assinale a alternativa que corresponde ao período de estágio probatório do servidor:

- (a) 08 (oito) meses.
- (b) 12 (doze) meses.
- (c) 04 (quatro) anos.
- (d) 03 (três) anos.
- (e) 01 (um) ano.

QUESTÃO 12

O artigo 37 da Constituição da República Federativa do Brasil preconiza que a administração pública direta e indireta de quaisquer dos Poderes da União, dos Estados, do Distrito Federal e dos Municípios, obedecerá a cinco princípios básicos.

Conforme a disposição constitucional do art. 37, assinale a alternativa que contém tais princípios:

- (a) Legalidade, pessoalidade, moralidade, publicidade e eficiência.
- (b) Legalidade, impessoalidade, moralidade, publicidade e eficiência.
- (c) Legalidade, morosidade, moralidade, publicidade e eficiência.
- (d) Legalidade, impessoalidade, infinidade, publicidade e eficiência.
- (e) Legalidade, impessoalidade, moralidade, publicidade e potencialidade.

QUESTÃO 13

Sobre os princípios administrativos expressos da administração pública, analise as seguintes proposições e, em seguida assinale a alternativa correta:

I - O princípio da eficiência menciona que a administração pública, em toda a sua atividade, preza pelos mandamentos da lei, deles não podendo afastar-se, sob pena de invalidade do ato e responsabilidade de seu autor.

II - O princípio da pessoalidade identifica que a atividade administrativa deve ser destinada a todos os administrados, dirigida a poucos cidadãos, com determinação de um grupo de pessoas elegidas.

III - O princípio da publicidade torna obrigatória a divulgação de atos, contratos e outros instrumentos celebrados pela Administração Pública direta e indireta, para conhecimento, controle e início de seus efeitos.

- (a) Apenas as alternativas I e II estão corretas.

- (b) Apenas as alternativas I e III estão corretas.
- (c) Apenas a alternativa III está correta.
- (d) Apenas a alternativa I está correta.
- (e) Apenas as alternativas II e III estão corretas.

QUESTÃO 14

No que concerne à Administração pública em sentido objetivo, analise as seguintes proposições:

I - A administração pública, em sentido objetivo, apresenta a finalidade de satisfação direta e imediata dos fins do estado.

II - A administração pública, em sentido objetivo, identifica que o seu regime jurídico é de direito público.

III - A administração pública, em sentido objetivo, é uma atividade concreta, no sentido de que põe em execução a vontade do Estado contida na lei.

Sobre tais proposições acima é CORRETO afirmar que:

- (a) Apenas a alternativa I está correta.
- (b) Apenas a alternativa III está correta.
- (c) Apenas as alternativas II e III estão corretas.
- (d) Apenas as alternativas I e III estão corretas.
- (e) As alternativas I, II, e III estão corretas.

QUESTÃO 15

Há um princípio na Administração Pública que afirma que ela está obrigada a policiar, em relação ao mérito e à legalidade, os atos administrativos que pratica. Cabe-lhe, assim, retirar do ordenamento jurídico os atos inconvenientes e inoportunos e os ilegítimos.

Assinale a alternativa que contém a identificação do princípio mencionado:

- (a) Princípio da indisponibilidade.
- (b) Princípio da autotutela.
- (c) Princípio da continuidade.
- (d) Princípio da naturalidade.
- (e) Princípio da publicidade.

QUESTÃO 16

A respeito do controle da administração pública, analise as seguintes proposições e assinale a alternativa correta:

I - O Controle sobre as entidades da Administração Indireta, também chamado de tutela, é um controle externo que só pode, na sua totalidade, ser exercido fora dos limites estabelecidos em lei.

II - O controle administrativo representa o poder de fiscalização e correção que a Administração Pública (em sentido amplo) exerce sobre sua própria atuação, no que diz respeito aos aspectos de legalidade e mérito, por iniciativa própria ou mediante provocação.

III - O Ministério Público, em decorrência das funções que lhe foram atribuídas pelo artigo 129 da constituição, desempenha um importante papel no controle da administração pública.

- (a) Apenas a alternativa II está correta.
- (b) Apenas a alternativa I está correta.
- (c) Apenas as alternativas II e III estão corretas.
- (d) Apenas a alternativa III está correta.
- (e) As alternativas I, II, e III estão corretas.

QUESTÃO 17

Assinale a alternativa INCORRETA sobre os princípios da licitação.

- (a) No princípio da legalidade é impedido o comportamento que não esteja em conformidade com o ordenamento jurídico (constituição, lei, regulamento).
- (b) O princípio da moralidade exige que o agente público tenha uma conduta ética marcada por comportamentos legais e honestos no exercício da atividade administrativa e, por conseguinte, na condução de qualquer licitação.
- (c) Pelo princípio da publicidade, obriga-se à publicação dos principais atos do procedimento da licitação, a exemplo do julgamento e do edital.
- (d) O princípio da impessoalidade torna obrigatória a discriminação entre os participantes da licitação.
- (e) Pelo princípio da probidade administrativa, impede-se a prática de atos ou a seleção de propostas atentatórias da probidade administrativa, ou seja, que não traduzam a melhor satisfação para a Administração Pública.

QUESTÃO 18

Conforme o que dispõe a Lei nº 8.666/93, a inexecução total ou parcial do contrato, dá à Administração a prerrogativa de aplicar sanções de natureza administrativa, sujeitando o contratado, entre outras, à penalidade de:

I - Suspensão temporária de participação em licitação e impedimento de contratar com a Administração, por prazo não superior a dois anos.

II - Declaração de idoneidade para participar de licitação ou contratar com a Administração, vedada a reabilitação.

III - Advertência

Assim, analisando as assertivas acima, identifique a alternativa CORRETA:

- (a) Apenas as alternativas I e III estão corretas.
- (b) Apenas as alternativas I e II estão corretas.
- (c) Apenas as alternativas II e III estão corretas.
- (d) Apenas a alternativa III está correta.
- (e) As alternativas I, II, e III estão corretas.

QUESTÃO 19

Considerando os aspectos do contrato administrativo empregados na Lei nº 8.666/93, podem ser apontadas as seguintes características:

- I - Presença de cláusula exorbitante.**
- II - Presença da Administração Pública como Poder Público.**
- III - Obediência à forma prescrita em lei.**
- IV - Finalidade Pública.**

Após analisar as proposições acima, assinale a alternativa CORRETA.

- (a) Apenas as alternativas I, II e III estão corretas.
- (b) Apenas as alternativas I e II estão corretas.
- (c) Apenas as alternativas I, II e IV estão corretas.
- (d) Apenas as alternativas III e IV estão corretas.
- (e) As alternativas I, II, III e IV estão corretas.

QUESTÃO 20

A respeito do regime jurídico dos servidores públicos federais, assinale a alternativa INCORRETA.

- (a) Segundo a Lei de Servidores Públicos, a investidura em cargo público ocorrerá com a posse.
- (b) A vacância do cargo público não decorrerá de aposentadoria.
- (c) A posse em cargo público dependerá de prévia inspeção médica oficial.
- (d) Nomeação e promoção são formas de provimento de cargo público.
- (e) A vacância do cargo público decorrerá de exoneração ou promoção.

NOÇÕES DE INFORMÁTICA

QUESTÃO 21

A sigla USB significa:

- (a) Unity System Bus.
- (b) Unity System Bios.
- (c) Universal Serial Bus.
- (d) Universal Basic Slot;
- (e) Universal System Bios.

QUESTÃO 22

Assinale a alternativa que contém apenas extensões do Microsoft Word 2007:

- (a) xlsx, docx, rtf
- (b) doc, docx, rtf
- (c) doc, xls, rtf
- (d) docx, xlsx
- (e) xls, xlsx

QUESTÃO 23

No MS Word, o atalho ALT+CTRL+Y:

- (a) Aplica modo itálico.
- (b) Diminui o tamanho da fonte.
- (c) Verifica a ortografia e gramática.
- (d) Vai para o início da página seguinte.
- (e) Refaz última alteração desfeita pelo atalho CTRL+Z.

QUESTÃO 24

Qual fórmula será apresentada se forem processados os seguintes passos: Inserção da fórmula =A\$1+\$B1+\$C\$1 na célula E3, cópia da célula E3 e colagem na célula F6?

- (a) =B\$1+\$B4+\$C\$1
- (b) =B\$4+\$C4+\$D\$4
- (c) =B\$6+\$B4+\$C\$6
- (d) =B\$1+\$C4+\$D\$6
- (e) =B\$6+\$B4+\$C\$1

QUESTÃO 25

No MS Excel, qual o comando que retorna a data e hora atuais?

- (a) =datahora

- (b) =data
- (c) =hora
- (d) =ano
- (e) =agora

QUESTÃO 26

Assinale a alternativa que corresponde à ação executada nos navegadores Internet Explorer e Firefox, ao pressionar, simultaneamente, as teclas "CTRL" e "+":

- (a) Salva a página.
- (b) Abre uma nova aba.
- (c) Abre uma nova página.
- (d) Aumenta a visualização da página.
- (e) Inclui o atual endereço nos favoritos.

QUESTÃO 27

Para agilizar a criação de documentos personalizados no MS Word, utilizando-se os dados de 500 funcionários, disponibilizados em uma planilha Excel, devemos fazer uso de:

- (a) CTRL+C.
- (b) Mala direta.
- (c) Quebra de seção.
- (d) Quebra de página.
- (e) Importação de tabelas.

QUESTÃO 28

No Windows Explorer, ao se tentar renomear um arquivo de extensão .doc que está aberto no MS Word:

- (a) O Windows o renomeia normalmente e mantém salvo com o nome original o arquivo que está aberto.
- (b) O Windows o renomeia normalmente e o arquivo aberto automaticamente muda de nome.
- (c) O Windows o renomeia normalmente e envia o arquivo original para a lixeira.
- (d) O Windows não o renomeia e não exibe mensagem alguma.
- (e) O Windows exibe uma mensagem informando que não é possível renomear o arquivo, pois o mesmo está sendo usado.

QUESTÃO 29

Para imprimir as páginas 2, 3, 6, 7 e 8 de um documento no Windows, dentre as opções abaixo, qual a forma correta de se informar a sequência a ser impressa?

- (a) 2-3, 6-8
- (b) 2 a 3; 6 a 8
- (c) 2 3 6 7 8
- (d) 2:3 ; 6:8
- (e) 2,3 6:8

QUESTÃO 30

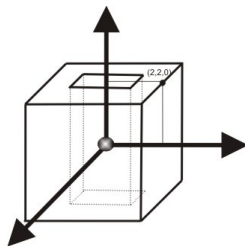
Ao religar um computador que foi abruptamente desligado em função de uma queda de energia:

- (a) É possível recuperar o conteúdo da memória RAM, que estava sendo usado no momento da queda de energia.
- (b) É possível recuperar o conteúdo da memória RAM, que estava sendo usado 05 minutos antes da queda de energia.
- (c) Não é possível recuperar o conteúdo que estava presente na memória RAM antes da queda de energia.
- (d) É possível recuperar o conteúdo da memória RAM, que estava sendo usado 10 minutos antes da queda de energia.
- (e) É possível recuperar o conteúdo da memória RAM que estava sendo usado no momento da queda de energia, desde que o computador seja religado em até duas horas após a queda de energia.

CONHECIMENTOS ESPECÍFICOS

QUESTÃO 31

A figura abaixo mostra um cubo vazado, cujo orifício tem a forma de um prisma de base quadrada de lado $l = 2\text{ cm}$. O Módulo do Campo elétrico no centro deste cubo (interseção de suas diagonais principais), dado que a peça apresenta uma densidade volumétrica de carga $\rho_v = 1,63 \mu\text{C} / \text{m}^3$, é de :

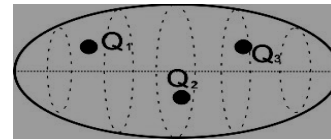


- (a) $-3,26 \text{ V/m}$
- (b) 0 V/m

- (c) 2 V/m
- (d) $3,26 \text{ V/m}$
- (e) 4 V/m

QUESTÃO 32

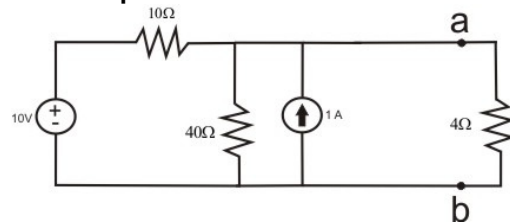
A figura a seguir representa uma elipse de distância focal igual a 20 cm. Dentro dela estão encerradas 3 cargas: $Q_1 = 1,3 \mu\text{C}$, $Q_2 = 2,7 \mu\text{C}$ e $Q_3 = 3 \mu\text{C}$, que antes foram colocadas em contato umas com as outras. Dessa forma, pode-se dizer que o fluxo total que atravessa a superfície da elipse equivale a



- (a) $2 \mu\text{C}$
- (b) $3 \mu\text{C}$
- (c) $4,3 \mu\text{C}$
- (d) $5,7 \mu\text{C}$
- (e) $7 \mu\text{C}$

QUESTÃO 33

Teoremas de circuitos elétricos são utilizados principalmente para simplificar a análise de circuitos complexos. A tensão e a impedância equivalente de Thévenin, para o circuito abaixo, equivalem respectivamente a:



- (a) 12 V e 8Ω
- (b) 16 V e 12Ω
- (c) 12 V e 12Ω
- (d) 16 V e 8Ω
- (e) 16 V e 16Ω

QUESTÃO 34

A lei de Kirchhoff para os nós estabelece que a soma das correntes que entram em um determinado nó é igual a soma das correntes que

saem dele. Se em um determinado nó entrarem três correntes senoidais dadas por $i_1 = 2\sqrt{2}\text{sen}(\omega t)$; $i_2 = 4\sqrt{2}\text{sen}(\omega t + 60^\circ)$; e $i_3 = 3\sqrt{2}\text{sen}(\omega t - 90^\circ)$, a corrente de saída do nó será, aproximadamente, de:

- (a) $4\text{sen}(\omega t - 6,62^\circ)$
- (b) $4\text{sen}(\omega t + 6,62^\circ)$
- (c) $4\sqrt{2}\text{sen}(\omega t + 6,62^\circ)$
- (d) $4\sqrt{2}\text{sen}(\omega t - 6,62^\circ)$
- (e) $9\sqrt{2}\text{sen}(\omega t + 6,62^\circ)$

QUESTÃO 35

De acordo com a Resolução Normativa da ANEEL N° 414, avalie os itens a seguir:

- I – Fator de Demanda é a razão entre a demanda máxima e a carga instalada em uma unidade consumidora em um intervalo de tempo;
- II – Fator de carga é a razão entre a demanda mínima e a carga instalada em uma unidade consumidora em um intervalo de tempo;
- III - Unidades consumidoras com tensão igual ou superior a 2,3 kV pertencem ao grupo A.

Assim, estão CORRETOS:

- (a) Somente o item I
- (b) Somente os itens I e II
- (c) Somente os itens I e III
- (d) Somente os itens II e III
- (e) Os itens I, II e III

QUESTÃO 36

Foi feita uma reportagem recentemente por um programa de TV acerca do desperdício de energia elétrica nos prédios da Esplanada dos Ministérios em Brasília, onde foi constatado que muitas salas continuavam com suas luzes acesas mesmo depois do expediente. Supondo que 25 salas estejam com suas luzes ligadas das 18:00h de um dia até as 8:00h do dia seguinte e que em cada sala totalize uma potência de 400 W para iluminação, a energia em kWh gasta em um mês de 30 (trinta) dias será de:

- (a) 4200
- (b) 5600

- (c) 6000
- (d) 6200
- (e) 6800

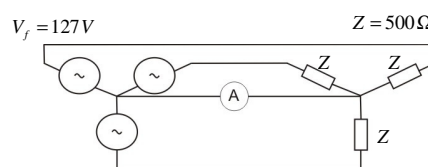
QUESTÃO 37

Em um sistema trifásico simétrico de sequência inversa, sabe-se que $V_c = 240\angle 30^\circ$. Neste caso, as tensões V_a e V_b são respectivamente:

- (a) $240\angle -30^\circ$ e $240\angle 120^\circ$
- (b) $240\angle -90^\circ$ e $240\angle 120^\circ$
- (c) $240\angle -90^\circ$ e $240\angle -120^\circ$
- (d) $240\angle 150^\circ$ e $240\angle -90^\circ$
- (e) $240\angle 150^\circ$ e $240\angle 90^\circ$

QUESTÃO 38

Uma carga trifásica é conectada em estrela a uma fonte trifásica, ambas equilibradas. Um amperímetro A instalado no neutro (conforme a figura abaixo), deve registrar um valor igual a:



- (a) 0 A
- (b) 0.179 A
- (c) 0,254 A
- (d) 0.537 A
- (e) 0.762 A

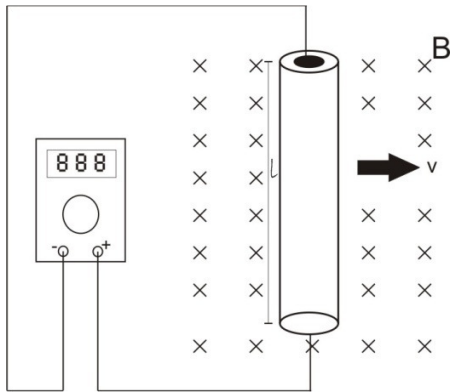
QUESTÃO 39

Com base na NBR 13570 que trata das instalações elétricas em locais de afluência de público, é correto afirmar que:

- (a) Podem ser utilizados condutores de cobre ou de alumínio na instalação das linhas elétricas.
- (b) As instalações devem utilizar os esquemas TN ou TT para aterramento.
- (c) Os quadros de distribuição devem ser abertos de modo a facilitar a manutenção.
- (d) Todas as tomadas devem possuir aterramento exceto aquelas cuja localização seja inviável.
- (e) Nas pistas eletrificadas de parques de diversão podem ser utilizadas tensões de no máximo 1kV.

QUESTÃO 40

A figura abaixo mostra um condutor imerso em um campo magnético de densidade $\vec{B} = 0,7 \vec{a}_B T$ (onde \vec{a}_B é o vetor unitário que designa a direção e o sentido de B, conforme a figura) se movendo conforme o vetor velocidade $\vec{v} = 2 \vec{a}_v m/s^2$. Sabendo-se que o comprimento do fio é igual a 1 metro, a leitura obtida no voltímetro é



- (a) -3,2V
- (b) -1,4 V
- (c) 1,4 V
- (d) 2,1V
- (e) 3,2V

QUESTÃO 41

Levando em consideração aspectos da NBR 13534 avalie os itens a seguir e marque a opção correta:

- I – O esquema de aterramento TT não é admitido em estabelecimentos assistenciais de saúde a jusante do quadro de distribuição principal;
- II – Equipamentos de raio X devem ter um circuito dedicado;
- III – Os transformadores devem ser instalados o mais próximo do local médico ou no seu interior, sendo dispostos em cubículos ou invólucros.

Estão CORRETOS:

- (a) somente I
- (b) somente III
- (c) somente I e II
- (d) somente II e III
- (e) I, II e III

QUESTÃO 42

Um motor de indução trifásico de 5 CV, tensão nominal de 220 V, 4 pólos, 60 Hz, conectado em estrela, apresenta um escorregamento de 3%. A velocidade do campo magnético girante é de:

- (a) 1700 rpm
- (b) 1740 rpm
- (c) 1746 rpm
- (d) 1906 rpm
- (e) 1800 rpm

QUESTÃO 43

No que diz respeito à iluminação de emergência, avalie os itens a seguir:

- I São admitidos como sistemas de iluminação de emergência: conjunto de blocos autônomos, sistema centralizado com baterias, sistema centralizado com grupo motogerador.
- II – O grupo motogerador tem, entre outros elementos principais: indicador de quantidade de combustível, botão de arranque manual, ventilação adequada para funcionamento com carga máxima.
- III – Os pontos de luz não devem ser resplandecentes, seja diretamente ou por iluminação refletida.

Estão CORRETOS:

- (a) somente o item I
- (b) somente o item II
- (c) somente os itens I e II
- (d) somente os itens II e III
- (e) Os itens I, II e III

QUESTÃO 44

Um engenheiro foi contratado para corrigir o fator de potência de uma indústria a qual registrava f.p.=0,62 indutivo. O engenheiro optou por inserir um compensador síncrono superexcitado com dados de placa P= 100 CV, f.p.=0,8 e rendimento igual a 90%. O fator de potência corrigido será

- (a) 0,9 atrasado
- (b) 0,94 atrasado
- (c) 0,96 atrasado
- (d) 0,9 adiantado
- (e) 0,94 adiantado

QUESTÃO 45

Com base na utilização de dispositivos DR, a alternativa INCORRETA é

- (a) O circuito magnético do DR deve envolver todos os condutores vivos dos circuitos protegidos, inclusive o condutor neutro.
(b) O circuito magnético do DR deve envolver o condutor de proteção
(c) O uso do DR não dispensa o condutor de proteção
(d) Nos circuitos que alimentam tomadas localizadas na área externa à edificação deve ser utilizado DR
(e) O DR deve garantir o seccionamento de todos os condutores por ele protegidos.

QUESTÃO 46

Caso ocorra um curto-circuito trifásico na saída de um gerador de 38 MVA e 13,8KV, cuja reatância interna equivale a 0,2 pu, o valor da corrente de curto-circuito é de:

- (a) 7929 A
(b) 7930 A
(c) 7940 A
(d) 7949 A
(e) 7959 A

QUESTÃO 47

De acordo com as instalações elétricas de média tensão, a opção INCORRETA é:

- (a) A carga a considerar para um equipamento de utilização é sua potência nominal absorvida.
(b) São parâmetros da alimentação: valor da corrente de curto-circuito, valor da tensão e valor de frequência.
(c) As tensões nominais em instalações elétricas de média tensão são: 3 kV; 4,16 kV; 6 kV; 13,8 kV; 23,1 kV e 34,5 kV.
(d) Os componentes da instalação devem satisfazer as normas brasileiras que lhes sejam aplicáveis, sendo vedado o uso de outras normas sob quaisquer circunstâncias.
(e) As linhas elétricas dispostas ou marcadas de modo a permitir sua identificação.

QUESTÃO 48

O valor da corrente base de um sistema de potência trifásico em que a tensão e a potência base são $V_b = 69 kV$ e $S_b = 25 MVA$, equivale a:

- (a) 209,2 A
(b) 210,7 A
(c) 212 A
(d) 212,2 A
(e) 215 A

QUESTÃO 49

Com base nos tipos de motores elétricos, julgue os itens a seguir:

- I – Em um motor CC série, a corrente de carga é a mesma corrente de excitação.
II – Em um motor de indução tipo gaiola de esquilo, não existem escovas de contato.
III - Os motores universais operam tanto em corrente contínua quanto em corrente alternada.

Estão CORRETOS:

- (a) somente o item I.
(b) somente o item II.
(c) somente os itens I e II.
(d) somente os itens I e III.
(e) Os itens I, II e III.

QUESTÃO 50

A NR 10 regulamenta as condições mínimas para garantir a segurança de pessoas que trabalham em instalações elétricas e serviços em eletricidade. Com base nesta afirmativa, julgue os itens a seguir:

- I – São medidas de proteção coletiva: a desenergização e o emprego de tensão de segurança.
II – As roupas de trabalho devem contemplar inflamabilidade, condutibilidade e influências eletromagnéticas.
III – É vedado o uso de adornos pessoais no trabalho com instalações elétricas exceto quando permitido pelo engenheiro de segurança do trabalho.

Estão CORRETOS:

- (a) somente o item I
(b) Os itens I e II
(c) Os itens I e III
(d) Os itens II e III
(e) Os itens I, II e III