



**CONCURSO PÚBLICO PARA PROVIMENTO DE VAGAS EM CARGO  
PÚBLICO DA PREFEITURA MUNICIPAL DE SERTANEJA, PARANÁ**

# CADERNO DE PROVA

## ATENDENTE DE CONSULTÓRIO DENTÁRIO

**N.º DE INSCRIÇÃO  
DO(A) CANDIDATO(A)**

--



Domingo, 18 de janeiro de 2015.

1	
2	
3	
4	
5	

6	
7	
8	
9	
10	

11	
12	
13	
14	
15	

16	
17	
18	
19	
20	

21	
22	
23	
24	
25	

26	
27	
28	
29	
30	



## CONCURSO PÚBLICO PARA PROVIMENTO DE VAGAS EM CARGO PÚBLICO DA PREFEITURA MUNICIPAL DE SERTANEJA, PARANÁ

---

### ANTES DE INICIAR A PROVA, LEIA AS INSTRUÇÕES ABAIXO:

1. Aguarde a orientação do aplicador da Uniuv para iniciar a prova.
2. Leia, atentamente, as questões, e atenha-se a elas, pois nenhum esclarecimento a mais poderá ser dado, e o sucesso de um concurso está na compreensão do que é solicitado.
3. Utilize somente caneta esferográfica preta ou azul para assinalar a folha de respostas. Utilize lápis e borracha apenas para suas anotações no caderno de provas.
4. Para assinalar as respostas na folha correspondente basta preencher todo o círculo que contém a letra escolhida da questão pertinente da seguinte forma: ●
5. Será nula a prova, se forem assinaladas todas as questões com uma única alternativa de respostas.
6. Serão nulas as respostas rasuradas ou múltiplas para uma mesma questão.
7. Não se atenha às questões que julgar difíceis, volte a elas, se lhe sobrar tempo.
8. Ao início da prova, o aplicador comunicará o período de tempo concedido para a realização dela.
9. Ao término da prova, entregue TODO O MATERIAL recebido.
10. Preencha claramente os dados na folha de respostas. Assine e marque seu número de inscrição.
11. Não é permitido, em hipótese alguma, o empréstimo de qualquer objeto.
12. Somente poderá ausentar-se da sala da prova, acompanhado do fiscal volante.
13. Permaneça no local da prova pelo prazo mínimo de uma hora, a contar do início da prova.
14. Guarde todo tipo de equipamento de comunicação eletrônico e relógio, durante a execução da prova.
15. Destaque o espaço abaixo para copiar as suas respostas, para posterior conferência, se quiser.
16. O resultado do concurso não será divulgado por telefone.
17. Após a realização das provas, os gabaritos e o conteúdo das provas objetivas serão divulgados, via internet, no site [concursopublico.uniuv.edu.br](http://concursopublico.uniuv.edu.br) a partir das 17h do dia 19 de janeiro de 2015.

Os gabaritos e as provas objetivas estarão disponíveis no site da Uniuv, [concursopublico.uniuv.edu.br](http://concursopublico.uniuv.edu.br), a partir das 17h do dia 19 de janeiro de 2015.



## CONCURSO PÚBLICO PARA PROVIMENTO DE VAGAS EM CARGO PÚBLICO DA PREFEITURA MUNICIPAL DE SERTANEJA, PARANÁ

Leia o texto “O Retrato”, de Adélia Prado, para responder às perguntas de 1 a 7 :

Eu quero a fotografia,  
os olhos cheios d’água sob as lentes;  
caminhando de terno e gravata,  
o braço dado com a filha.  
Eu quero a cada vez olhar e dizer:  
Estava chorando. E chorar.  
Eu quero a dor do homem na festa do casamento,  
seu passo guardado, quando pensou:  
a vida é amarga e doce?  
Eu quero o que ele viu e aceitou corajoso,  
os olhos cheios d’água sob as lentes.

1. O texto “O Retrato” destaca o valor dado pelo eu-lírico a uma fotografia porque \_\_\_\_\_. Assinale a alternativa que completa corretamente essa assertiva:  
A ( ) Mostra a angústia de um pai que sabe que a vida é apenas amarga;  
B ( ) Revela a emoção do pai que leva a filha pelo braço, para o casamento, questionando-se sobre a vida;  
C ( ) Revela a alegria do pai por saber que a vida de família é apenas maravilhosa;  
D ( ) O eu-lírico aceita as prováveis ponderações do pai como sensatas, mas critica-o por ter chorado;  
E ( ) O eu-lírico se emociona e chora ao ver os olhos cheios d’água porque é cruel, e quer vê-lo chorando.
2. O poema “O Retrato” capta detalhes da cena de entrada para o casamento, exceto:  
A ( ) Os olhos cheios d’água;  
B ( ) Caminhando de terno e gravata;  
C ( ) O braço dado com a filha;  
D ( ) O passo guardado;  
E ( ) O rosto alegre da filha, ao lado do pai.
3. “Amargo e doce” são sensações aplicadas à vida. Trata-se de uma figura de linguagem, conhecida como :  
A ( ) Hipérbole;  
B ( ) Personificação;  
C ( ) Antítese;  
D ( ) Gradação;  
E ( ) Perífrase.
4. Nesse poema o eu-lírico usa de \_\_\_\_\_ na apresentação da cena. Assinale a alternativa que completa corretamente essa assertiva:  
A ( ) Subjetividade;  
B ( ) Positivismo;  
C ( ) Pessimismo;  
D ( ) Objetividade;  
E ( ) Otimismo.



## CONCURSO PÚBLICO PARA PROVIMENTO DE VAGAS EM CARGO PÚBLICO DA PREFEITURA MUNICIPAL DE SERTANEJA, PARANÁ

5. Quantos fonemas há na palavra “homem”? Assinale a alternativa que responde corretamente a essa pergunta:
- A ( ) Seis;  
B ( ) Dois;  
C ( ) Três;  
D ( ) Cinco;  
E ( ) Quatro.
6. O recurso de estilo que consiste em repetir parte da estrutura frasal, como ocorre no poema, em “Eu quero...”, quatro vezes, chama-se \_\_\_\_\_. Assinale a alternativa que completa corretamente a lacuna:
- A ( ) Onomatopeia;  
B ( ) Polissíndeto;  
C ( ) Pleonasma;  
D ( ) Paralelismo;  
E ( ) Anacoluto.
7. “Eu quero “o” que ele viu e aceitou corajoso, os olhos cheios d’água sob as lentes”. A palavra destacada “o” na frase acima pertence a que classe gramatical? Assinale a alternativa que responde corretamente à pergunta:
- A ( ) Pronome demonstrativo;  
B ( ) Artigo definido;  
C ( ) Pronome oblíquo;  
D ( ) Pronome indefinido;  
E ( ) Artigo indefinido.
8. No poema “ O Retrato”, os verbos “caminhando e chorando” estão em que forma nominal? Assinale a alternativa que responde corretamente à pergunta:
- A ( ) Infinitivo impessoal;  
B ( ) Infinitivo pessoal;  
C ( ) Gerúndio;  
D ( ) Particípio;  
E ( ) Imperativo afirmativo.
9. Assinale o gênero textual não empregado nos jornais impressos e/ou revistas:
- A ( ) Crônicas;  
B ( ) Anúncios;  
C ( ) Talk show;  
D ( ) Notícias;  
E ( ) Reportagens.
10. Assinale a alternativa em que a pronúncia da palavra estiver incorreta, o que se percebe pela escrita:
- A ( ) Impropriedade;  
B ( ) Nascimento;  
C ( ) Nhoque;  
D ( ) Octogésimo;  
E ( ) Heterogeneizar.

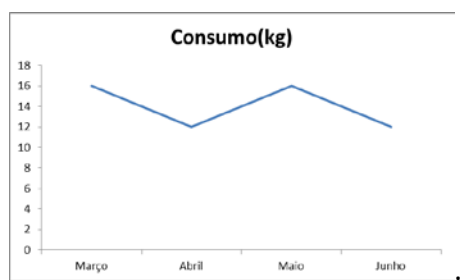
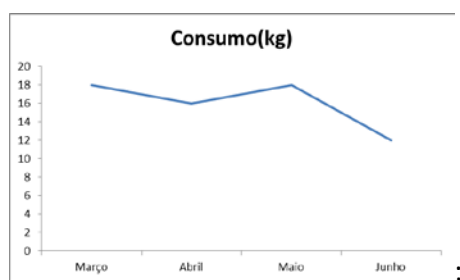
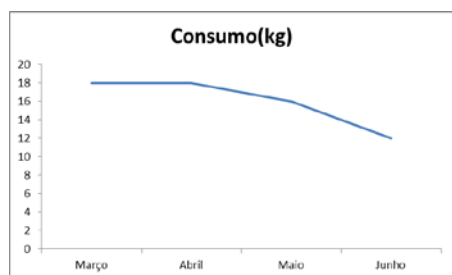
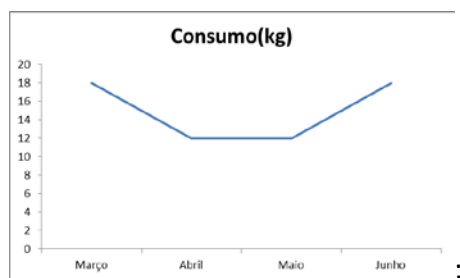
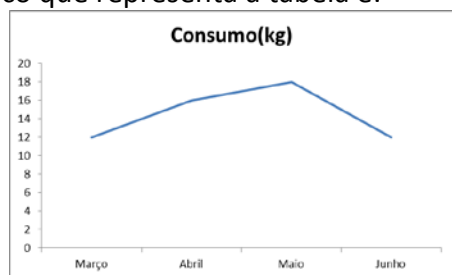


## CONCURSO PÚBLICO PARA PROVIMENTO DE VAGAS EM CARGO PÚBLICO DA PREFEITURA MUNICIPAL DE SERTANEJA, PARANÁ

11. A tabela abaixo apresenta o consumo mensal de arroz dos alunos de uma escola, no primeiro semestre de 2014.

Mês	Consumo (kg)
Março	18
Abril	16
Maió	18
Junho	12

O gráfico que representa a tabela é:





**CONCURSO PÚBLICO PARA PROVIMENTO DE VAGAS EM CARGO PÚBLICO DA PREFEITURA MUNICIPAL DE SERTANEJA, PARANÁ**

12. Um grupo de crianças afirma estar à procura de um “tesouro”. Elas construíram um mapa no qual cada 2cm corresponde a 13 metros na realidade. Sabendo que essas crianças mediram no mapa a distância que se localizavam do referido “tesouro” e encontraram como resultado 10 cm, quantos metros ainda terão de percorrer até alcançá-lo?
- A ( ) 20 metros;  
B ( ) 26 metros;  
C ( ) 32 metros;  
D ( ) 65 metros;  
E ( ) 130 metros.
13. Um operário faz um determinado trabalho em 12h. Quantas horas gastaria outro operário 50% mais eficiente, para fazer o mesmo trabalho?
- A ( ) 12;  
B ( ) 10;  
C ( ) 8;  
D ( ) 6;  
E ( ) 4.
14. Uma mercadoria custava R\$ 7,50; teve um aumento, passando a custar R\$7,95. De quanto por cento foi o aumento sobre o preço antigo?
- A ( ) 8 %;  
B ( ) 7,5 %;  
C ( ) 6 %;  
D ( ) 5 %;  
E ( ) 4,5 %.
15. O valor numérico do polinômio  $P(x) = 3x^4 - x^3 + 4x^2 - x + 5$  para  $x = -2$  é:
- A ( ) 51;  
B ( ) 59 ;  
C ( ) 65;  
D ( ) 79;  
E ( ) 81.
16. Qual a única capital brasileira que é cortada pela linha imaginária do Equador?
- A ( ) São Paulo;  
B ( ) Macapá;  
C ( ) Boa Vista;  
D ( ) Curitiba;  
E ( ) Belém.
17. O que dividia o Muro de Berlim de Berlim?
- A ( ) O lado nazista; do lado capitalista;  
B ( ) O mundo em Norte; e Sul;  
C ( ) O continente Europeu; do Asiático;  
D ( ) O lado oriental, comunista; do ocidental, capitalista;  
E ( ) A Alemanha; da França .
18. Qual o nome dado ao instrumento medidor de força?
- A ( ) Dinamômetro;  
B ( ) Termômetro;  
C ( ) Barômetro;  
D ( ) Bafômetro;  
E ( ) Velocímetro.



## CONCURSO PÚBLICO PARA PROVIMENTO DE VAGAS EM CARGO PÚBLICO DA PREFEITURA MUNICIPAL DE SERTANEJA, PARANÁ

19. Quem foi eleito no dia 15 de Janeiro de 1985, colocando fim ao regime militar?
- A ( ) José Sarney;  
B ( ) João Baptista de Oliveira Figueiredo;  
C ( ) Tancredo de Almeida Neves;  
D ( ) Ernesto Geisel;  
E ( ) Fernando Afonso Collor de Mello.
20. A rotação da terra, que cria os dias e as noites, não é totalmente regular. O que será feito em 2015 para acertar os relógios?
- A ( ) O ajuste de 1 hora a mais;  
B ( ) A atraso de 1 minuto;  
C ( ) O ajuste de 1 minuto a mais;  
D ( ) O atraso de 1 segundo;  
E ( ) O ajuste de 1 segundo a mais.
21. Instrumental odontológico muito utilizado na periodontia, para medir profundidade de sondagem de bolsas periodontais \_\_\_\_\_. Assinale a alternativa que completa corretamente a lacuna:
- A ( ) Sonda exploradora;  
B ( ) Sindesmótomo;  
C ( ) Sonda milimetrada,  
D ( ) Espaçador digital;  
E ( ) Cinzel.
22. Para a proteção do complexo dentino-pulpar, em restaurações profundas de molares, sem exposição pulpar, qual tipo de cimento pode ser usado? Assinale a alternativa que indica a resposta correta à pergunta:
- A ( ) Cimento de fosfato de zinco;  
B ( ) Amálgama;  
C ( ) Cimento de hidróxido de cálcio;  
D ( ) Resina flow;  
E ( ) Limalha de prata.
23. A utilização do flúor para prevenção da cárie dentária é um método comprovadamente eficaz e barato. Seja utilizado pela via sistêmica, mediante ingestão de água de abastecimento fluoretada, ou pela via tópica, por meio de dentifrícios ou bochechos. Na utilização de bochechos semanais, a concentração de flúor utilizada deve ser de \_\_\_\_\_. Assinale a alternativa que completa corretamente a lacuna:
- A ( ) 2%  
B ( ) 1,23%  
C ( ) 0,2%  
D ( ) 0,05%  
E ( ) 5%.
24. O selante é um método preventivo de cárie, que deve ser indicado pelo dentista e pode ser feito \_\_\_\_\_. Assinale a alternativa que completa corretamente a lacuna:
- A ( ) Somente na dentição decídua;  
B ( ) Somente na dentição permanente;  
C ( ) Em cicatrículas e fissuras de pré-molares e molares;  
D ( ) Sem analisar o risco à cárie;  
E ( ) Somente em incisivos.



## CONCURSO PÚBLICO PARA PROVIMENTO DE VAGAS EM CARGO PÚBLICO DA PREFEITURA MUNICIPAL DE SERTANEJA, PARANÁ

25. A identificação dos dentes por número, é uma convenção internacional chamada Notação Dentária Internacional. Com base nessa informação, assinale o número que identifica um dente localizado no arco inferior:
- A ( ) 16  
B ( ) 28  
C ( ) 55  
D ( ) 64  
E ( ) 46.
26. Considerando uma dentição decídua normal e com 20 dentes, qual dente abaixo não pode ser encontrado nesta fase? Assinale a alternativa correta:
- A ( ) Incisivo central;  
B ( ) Incisivo lateral;  
C ( ) Pré- molar;  
D ( ) Canino;  
E ( ) Molar.
27. O tipo de exame realizado para identificação de uma doença da cavidade oral que consiste na retirada de um fragmento ( total ou parcial) e posterior análise histopatológica é chamado \_\_\_\_\_. Assinale a alternativa que indica a resposta que completa corretamente a lacuna:
- A ( ) Hemograma;  
B ( ) Biópsia;  
C ( ) Glicemia;  
D ( ) Tempo de sangramento;  
E ( ) Tempo de coagulação.
28. São doenças que podem apresentar manifestações orais, exceto uma. Assinale a alternativa correta, como exceção:
- A ( ) Tuberculose;  
B ( ) Carcinoma basocelular;  
C ( ) Candidíase;  
D ( ) Sífilis;  
E ( ) AIDS.
29. Qual a especialidade da odontologia que trata de doenças relacionadas ao tecido pulpar? Assinale a alternativa que indica a resposta correta:
- A ( ) Endodontia;  
B ( ) Ortodontia;  
C ( ) Periodontia;  
D ( ) Dentística;  
E ( ) Prótese removível.
30. Para remoção de um molar inferior pode-se utilizar o fórceps de número \_\_\_\_\_. Assinale a alternativa que completa corretamente a lacuna:
- A ( ) 1;  
B ( ) 150;  
C ( ) 151;  
D ( ) 69;  
E ( ) 17.