



CONCURSO PÚBLICO

15. PROVA OBJETIVA

AUXILIAR DE ENFERMAGEM

- ♦ VOCÊ RECEBEU SUA FOLHA DE RESPOSTAS E ESTE CADERNO CONTENDO 50 QUESTÕES OBJETIVAS.
- ♦ PREENCHA COM SEU NOME E NÚMERO DE INSCRIÇÃO OS ESPAÇOS RESERVADOS NA CAPA DESTE CADERNO.
- ♦ LEIA CUIDADOSAMENTE AS QUESTÕES E ESCOLHA A RESPOSTA QUE VOCÊ CONSIDERA CORRETA.
- ♦ RESPONDA A TODAS AS QUESTÕES.
- ♦ MARQUE, NA FOLHA INTERMEDIÁRIA DE RESPOSTAS, LOCALIZADA NO VERSO DESTA PÁGINA, A LETRA CORRESPONDENTE À ALTERNATIVA QUE VOCÊ ESCOLHEU.
- ♦ TRANSCREVA PARA A FOLHA DE RESPOSTAS, COM CANETA DE TINTA AZUL OU PRETA, TODAS AS RESPOSTAS ANOTADAS NA FOLHA INTERMEDIÁRIA DE RESPOSTAS.
- ♦ A DURAÇÃO DA PROVA É DE 3 HORAS.
- ♦ A SAÍDA DO CANDIDATO DA SALA SERÁ PERMITIDA APÓS TRANSCORRIDA A METADE DO TEMPO DE DURAÇÃO DA PROVA.
- ♦ AO SAIR, VOCÊ ENTREGARÁ AO FISCAL A FOLHA DE RESPOSTAS E ESTE CADERNO, PODENDO DESTACAR ESTA CAPA PARA FUTURA CONFERÊNCIA COM O GABARITO A SER DIVULGADO.

AGUARDE A ORDEM DO FISCAL PARA ABRIR ESTE CADERNO DE QUESTÕES.

Nome do candidato _____

Número de inscrição _____

FOLHA INTERMEDIÁRIA DE RESPOSTAS

AUXILIAR DE ENFERMAGEM

QUESTÃO	RESPOSTA				
01	<input type="checkbox"/> A	<input type="checkbox"/> B	<input type="checkbox"/> C	<input type="checkbox"/> D	<input type="checkbox"/> E
02	<input type="checkbox"/> A	<input type="checkbox"/> B	<input type="checkbox"/> C	<input type="checkbox"/> D	<input type="checkbox"/> E
03	<input type="checkbox"/> A	<input type="checkbox"/> B	<input type="checkbox"/> C	<input type="checkbox"/> D	<input type="checkbox"/> E
04	<input type="checkbox"/> A	<input type="checkbox"/> B	<input type="checkbox"/> C	<input type="checkbox"/> D	<input type="checkbox"/> E
05	<input type="checkbox"/> A	<input type="checkbox"/> B	<input type="checkbox"/> C	<input type="checkbox"/> D	<input type="checkbox"/> E

06	<input type="checkbox"/> A	<input type="checkbox"/> B	<input type="checkbox"/> C	<input type="checkbox"/> D	<input type="checkbox"/> E
07	<input type="checkbox"/> A	<input type="checkbox"/> B	<input type="checkbox"/> C	<input type="checkbox"/> D	<input type="checkbox"/> E
08	<input type="checkbox"/> A	<input type="checkbox"/> B	<input type="checkbox"/> C	<input type="checkbox"/> D	<input type="checkbox"/> E
09	<input type="checkbox"/> A	<input type="checkbox"/> B	<input type="checkbox"/> C	<input type="checkbox"/> D	<input type="checkbox"/> E
10	<input type="checkbox"/> A	<input type="checkbox"/> B	<input type="checkbox"/> C	<input type="checkbox"/> D	<input type="checkbox"/> E

11	<input type="checkbox"/> A	<input type="checkbox"/> B	<input type="checkbox"/> C	<input type="checkbox"/> D	<input type="checkbox"/> E
12	<input type="checkbox"/> A	<input type="checkbox"/> B	<input type="checkbox"/> C	<input type="checkbox"/> D	<input type="checkbox"/> E
13	<input type="checkbox"/> A	<input type="checkbox"/> B	<input type="checkbox"/> C	<input type="checkbox"/> D	<input type="checkbox"/> E
14	<input type="checkbox"/> A	<input type="checkbox"/> B	<input type="checkbox"/> C	<input type="checkbox"/> D	<input type="checkbox"/> E
15	<input type="checkbox"/> A	<input type="checkbox"/> B	<input type="checkbox"/> C	<input type="checkbox"/> D	<input type="checkbox"/> E

16	<input type="checkbox"/> A	<input type="checkbox"/> B	<input type="checkbox"/> C	<input type="checkbox"/> D	<input type="checkbox"/> E
17	<input type="checkbox"/> A	<input type="checkbox"/> B	<input type="checkbox"/> C	<input type="checkbox"/> D	<input type="checkbox"/> E
18	<input type="checkbox"/> A	<input type="checkbox"/> B	<input type="checkbox"/> C	<input type="checkbox"/> D	<input type="checkbox"/> E
19	<input type="checkbox"/> A	<input type="checkbox"/> B	<input type="checkbox"/> C	<input type="checkbox"/> D	<input type="checkbox"/> E
20	<input type="checkbox"/> A	<input type="checkbox"/> B	<input type="checkbox"/> C	<input type="checkbox"/> D	<input type="checkbox"/> E

21	<input type="checkbox"/> A	<input type="checkbox"/> B	<input type="checkbox"/> C	<input type="checkbox"/> D	<input type="checkbox"/> E
22	<input type="checkbox"/> A	<input type="checkbox"/> B	<input type="checkbox"/> C	<input type="checkbox"/> D	<input type="checkbox"/> E
23	<input type="checkbox"/> A	<input type="checkbox"/> B	<input type="checkbox"/> C	<input type="checkbox"/> D	<input type="checkbox"/> E
24	<input type="checkbox"/> A	<input type="checkbox"/> B	<input type="checkbox"/> C	<input type="checkbox"/> D	<input type="checkbox"/> E
25	<input type="checkbox"/> A	<input type="checkbox"/> B	<input type="checkbox"/> C	<input type="checkbox"/> D	<input type="checkbox"/> E

QUESTÃO	RESPOSTA				
26	<input type="checkbox"/> A	<input type="checkbox"/> B	<input type="checkbox"/> C	<input type="checkbox"/> D	<input type="checkbox"/> E
27	<input type="checkbox"/> A	<input type="checkbox"/> B	<input type="checkbox"/> C	<input type="checkbox"/> D	<input type="checkbox"/> E
28	<input type="checkbox"/> A	<input type="checkbox"/> B	<input type="checkbox"/> C	<input type="checkbox"/> D	<input type="checkbox"/> E
29	<input type="checkbox"/> A	<input type="checkbox"/> B	<input type="checkbox"/> C	<input type="checkbox"/> D	<input type="checkbox"/> E
30	<input type="checkbox"/> A	<input type="checkbox"/> B	<input type="checkbox"/> C	<input type="checkbox"/> D	<input type="checkbox"/> E

31	<input type="checkbox"/> A	<input type="checkbox"/> B	<input type="checkbox"/> C	<input type="checkbox"/> D	<input type="checkbox"/> E
32	<input type="checkbox"/> A	<input type="checkbox"/> B	<input type="checkbox"/> C	<input type="checkbox"/> D	<input type="checkbox"/> E
33	<input type="checkbox"/> A	<input type="checkbox"/> B	<input type="checkbox"/> C	<input type="checkbox"/> D	<input type="checkbox"/> E
34	<input type="checkbox"/> A	<input type="checkbox"/> B	<input type="checkbox"/> C	<input type="checkbox"/> D	<input type="checkbox"/> E
35	<input type="checkbox"/> A	<input type="checkbox"/> B	<input type="checkbox"/> C	<input type="checkbox"/> D	<input type="checkbox"/> E

36	<input type="checkbox"/> A	<input type="checkbox"/> B	<input type="checkbox"/> C	<input type="checkbox"/> D	<input type="checkbox"/> E
37	<input type="checkbox"/> A	<input type="checkbox"/> B	<input type="checkbox"/> C	<input type="checkbox"/> D	<input type="checkbox"/> E
38	<input type="checkbox"/> A	<input type="checkbox"/> B	<input type="checkbox"/> C	<input type="checkbox"/> D	<input type="checkbox"/> E
39	<input type="checkbox"/> A	<input type="checkbox"/> B	<input type="checkbox"/> C	<input type="checkbox"/> D	<input type="checkbox"/> E
40	<input type="checkbox"/> A	<input type="checkbox"/> B	<input type="checkbox"/> C	<input type="checkbox"/> D	<input type="checkbox"/> E

41	<input type="checkbox"/> A	<input type="checkbox"/> B	<input type="checkbox"/> C	<input type="checkbox"/> D	<input type="checkbox"/> E
42	<input type="checkbox"/> A	<input type="checkbox"/> B	<input type="checkbox"/> C	<input type="checkbox"/> D	<input type="checkbox"/> E
43	<input type="checkbox"/> A	<input type="checkbox"/> B	<input type="checkbox"/> C	<input type="checkbox"/> D	<input type="checkbox"/> E
44	<input type="checkbox"/> A	<input type="checkbox"/> B	<input type="checkbox"/> C	<input type="checkbox"/> D	<input type="checkbox"/> E
45	<input type="checkbox"/> A	<input type="checkbox"/> B	<input type="checkbox"/> C	<input type="checkbox"/> D	<input type="checkbox"/> E

46	<input type="checkbox"/> A	<input type="checkbox"/> B	<input type="checkbox"/> C	<input type="checkbox"/> D	<input type="checkbox"/> E
47	<input type="checkbox"/> A	<input type="checkbox"/> B	<input type="checkbox"/> C	<input type="checkbox"/> D	<input type="checkbox"/> E
48	<input type="checkbox"/> A	<input type="checkbox"/> B	<input type="checkbox"/> C	<input type="checkbox"/> D	<input type="checkbox"/> E
49	<input type="checkbox"/> A	<input type="checkbox"/> B	<input type="checkbox"/> C	<input type="checkbox"/> D	<input type="checkbox"/> E
50	<input type="checkbox"/> A	<input type="checkbox"/> B	<input type="checkbox"/> C	<input type="checkbox"/> D	<input type="checkbox"/> E

LÍNGUA PORTUGUESA

Para responder às questões de números **01** a **10**, leia o texto de Ruy Castro.

Síndrome de Suri

RIO DE JANEIRO – Temo estar perdendo maravilhas, mas nunca vi um filme com Katie Holmes. Sei que é mulher de um ator chamado Tom Cruise, de quem também só assisti a “De Olhos Bem Fechados”, por causa do diretor Stanley Kubrick, e que o casal tem uma filha de 3 anos, Suri, que vive saindo na mídia por usar sapatos de salto alto, tomar vinho tinto e ter seu próprio cartão de crédito.

Holmes e Cruise devem ter suas razões – despreparo, carreirismo ou deslumbramento – para permitir tal precocidade na biografia da filha. Nas reportagens sobre Suri, os ortopedistas alertam para o fato de que saltos altos são incompatíveis com uma estrutura óssea cuja formação, segundo eles, só se completará aos 12 ou 13 anos. Além de serem uma garantia de dores, calos e joanetes para Suri e, na vida adulta, de pernas curtas e dificuldade para caminhar. Esses alertas, pelo visto, caem no vazio.

O problema não se limita a Hollywood ou a filhos de pais famosos. No Brasil, talvez mais que em outros países, há meninas entre 3 e 10 anos com hora marcada no salão para depilar a sobrancelha, aplicar “luzes” no cabelo ou fazer tratamento contra celulite. Toda garota quer se parecer com a mãe, é normal. O problema é quando os fabricantes de cosméticos, sutiãs etc. assumem o controle dessa estética infantil e passam a impô-la às crianças com a convivência das mães.

O humanista americano Neil Postman (1931-2003) alertou para esse problema num grande livro de 1982, “O Desaparecimento da Infância” (há versão brasileira, pela editora Graphia). Todas as previsões de Postman se confirmaram: sem saber, estamos gerando crianças-adultos, que dificilmente chegarão à maturidade.

(Folha de S.Paulo, 14.12.2009)

- 01.** Para analisar o assunto, que denomina de *Síndrome de Suri*, o autor se vale da
- (A) atuação da filha do casal Holmes e Cruise, em geral bem avaliada pela mídia.
 - (B) admiração pelo diretor Stanley Kubrick, que dirigiu Holmes e Cruise.
 - (C) lembrança dos filmes de Holmes, que admira pela competente atuação.
 - (D) exposição, na mídia, da filha do casal de atores Holmes e Cruise.
 - (E) vida profissional de Holmes e Cruise, que eximem a filha da exposição pública.
- 02.** De acordo com o ponto de vista do autor, o comportamento adulto vivido na infância é uma realidade que
- (A) caracteriza os excessos das celebridades.
 - (B) foi criada pela indústria cinematográfica norte-americana.
 - (C) é comum a muitas crianças, filhas de famosos ou não.
 - (D) se mostra saudável para a vida social das crianças.
 - (E) expressa amadurecimento das relações entre pais e filhos.

03. No segundo parágrafo, fica claro que

- (A) os sacrifícios na infância são recompensados com uma vida adulta sem problemas.
- (B) o uso de saltos altos pode comprometer o desenvolvimento sadio de uma criança.
- (C) mulheres que se movem com dificuldade não usaram saltos altos na infância.
- (D) o uso de saltos é uma forma de compensar pernas curtas e dificuldades para caminhar.
- (E) os saltos altos devem ser usados antes da formação da estrutura óssea feminina.

04. Na opinião dos ortopedistas, Suri

- (A) se comporta como um adulto pelo fato de ter pernas curtas e certa dificuldade para caminhar.
- (B) tem um estilo de vida incompatível com dores, calos e joanetes, comuns a garotas de sua idade.
- (C) é uma criança que, apesar de ser filha de famosos, não sofre do problema previsto por Neil Postman.
- (D) comete pequenos deslizos, os quais, contudo, não poderão significar nenhum prejuízo futuro.
- (E) poderá ter pernas curtas e dificuldades para caminhar, por assumir precocemente o comportamento adulto.

05. Na frase – ... *os fabricantes de cosméticos, sutiãs etc. assumem o controle dessa estética infantil e passam a impô-la às crianças com a convivência das mães.* – entende-se que as mães

- (A) não se opõem à ação dos fabricantes.
- (B) questionam a ação dos fabricantes.
- (C) não permitem a exposição das filhas.
- (D) atrapalham a ação dos fabricantes.
- (E) desenvolvem a criticidade das filhas.

06. Assinale a alternativa em que o verbo em destaque está devidamente flexionado.

- (A) Sem que *soubermos*, estamos gerando crianças-adultos, que dificilmente chegarão à maturidade.
- (B) Sem que *sabemos*, estamos gerando crianças-adultos, que dificilmente chegarão à maturidade.
- (C) Sem que *saibamos*, estamos gerando crianças-adultos, que dificilmente chegarão à maturidade.
- (D) Sem que *saberemos*, estamos gerando crianças-adultos, que dificilmente chegarão à maturidade.
- (E) Sem que *sabíamos*, estamos gerando crianças-adultos, que dificilmente chegarão à maturidade.

07. Analise as frases.

- I. *Ambos têm uma filha de três anos.*
- II. *A opinião dos ortopedistas, pelo visto, caem no vazio.*
- III. *No Brasil, existe meninas entre 3 e 10 anos com hora marcada no salão...*

Quanto à concordância verbal, está correto apenas o contido em

- (A) I.
- (B) II.
- (C) III.
- (D) I e III.
- (E) II e III.

08. Observando-se a regência, a frase – *Toda garota quer se parecer com a mãe, é normal.* – está corretamente reescrita em:

- (A) É normal de que toda garota queira se parecer com a mãe.
- (B) É normal que toda garota queira se parecer com a mãe.
- (C) É normal com que toda garota queira se parecer com a mãe.
- (D) É normal a que toda garota queira se parecer com a mãe.
- (E) É normal em que toda garota queira se parecer com a mãe.

09. Assinale a alternativa correta quanto ao uso do acento indicativo da crase.

- (A) Sei que é mulher de um ator chamado Tom Cruise, de quem também só assisti à um filme: “De Olhos Bem Fechados”.
- (B) Os ortopedistas alertam quando os saltos altos não são adequados à uma estrutura óssea em formação.
- (C) Os ortopedistas observam que a estrutura óssea em formação só se completará à partir dos 12 ou 13 anos.
- (D) O problema não se limita às crianças de Hollywood ou àquelas de pais famosos.
- (E) Estamos gerando crianças-adultos, que dificilmente chegarão à viver a maturidade.

10. Em – No Brasil, *talvez* mais que em outros países,... – o advérbio em destaque expressa sentido de

- (A) causa.
- (B) afirmação.
- (C) negação.
- (D) modo.
- (E) dúvida.

MATEMÁTICA

11. Em um jogo de basquete, um dos times, muito mais forte, fez 62 pontos a mais que o seu adversário, que fez apenas a terça parte do total de pontos feitos pelo time vencedor. Nesse jogo, o time derrotado marcou

- (A) 21 pontos.
- (B) 31 pontos.
- (C) 32 pontos.
- (D) 42 pontos.
- (E) 48 pontos.

12. Um eletricitista tem 4 rolos do fio X, com 84 m cada um, 3 rolos do fio Y, com 144 m cada um, e 5 rolos do fio Z, com 60 m cada um. Para fazer as ligações necessárias de uma obra, ele deverá cortar os fios dos 12 rolos em pedaços do mesmo tamanho, sendo esse tamanho o maior possível, de modo que não reste nenhum pedaço de fio nos rolos. Dessa maneira, ele deverá obter um número total de pedaços igual a

- (A) 24.
- (B) 36.
- (C) 49.
- (D) 64.
- (E) 89.

13. Numa loja, Márcio e Cláudio compraram uma unidade cada de um mesmo produto, com o mesmo preço de tabela. Na negociação com o lojista, Márcio conseguiu um desconto de 15% sobre o preço de tabela, e vai pagar R\$ 680,00 num certo prazo. Cláudio, que optou pelo pagamento à vista, conseguiu um desconto maior, e vai pagar R\$ 608,00. O desconto sobre o preço de tabela obtido por Cláudio foi de

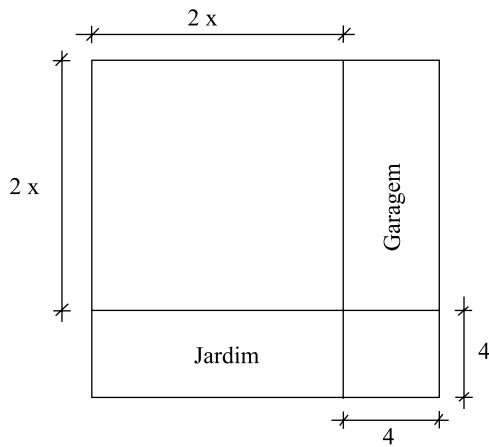
- (A) 18%.
- (B) 21%.
- (C) 22%.
- (D) 24%.
- (E) 25%.

14. Numa obra de um edifício, 2 elevadores de carga transportam lajotas do solo até um determinado andar. Enquanto um deles, menor, leva 40 peças por vez e demora 15 minutos para ir e voltar, o outro, maior, leva 60 peças por vez e demora 21 minutos para ir e voltar. Dessa maneira, pode-se afirmar que, no mesmo tempo que o elevador menor gasta para levar 280 peças, o elevador maior leva

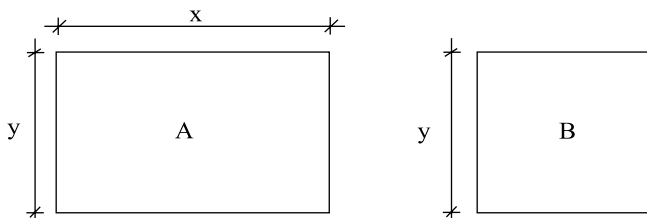
- (A) 270 peças.
- (B) 300 peças.
- (C) 310 peças.
- (D) 320 peças.
- (E) 330 peças.

15. Um capital foi aplicado no sistema de juros simples durante 20 meses, e o montante recebido ao final da aplicação foi igual a $\frac{5}{4}$ do capital inicial. A taxa anual de juros simples dessa aplicação foi
- (A) 15%.
 (B) 18%.
 (C) 20%.
 (D) 22%.
 (E) 25%.

16. Um terreno quadrado, com área total de 196 m^2 , foi dividido em 2 regiões quadradas e 2 regiões retangulares para efeito de construção, como mostra a figura, cujas dimensões estão em metros. A soma das áreas das duas regiões retangulares, destinadas à garagem e ao jardim, é igual a

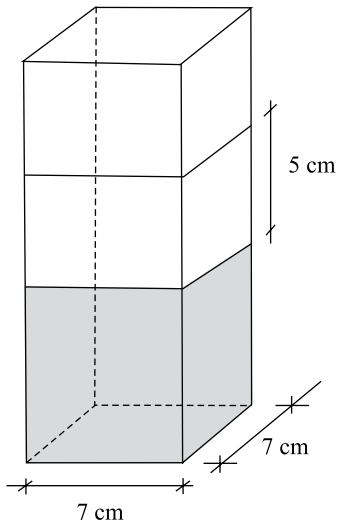


- (A) 40 m^2 .
 (B) 60 m^2 .
 (C) 70 m^2 .
 (D) 80 m^2 .
 (E) 90 m^2 .
17. Os painéis A, retangular, e B, quadrado, mostrados nas figuras, foram confeccionados para uma exposição. Sabe-se que o painel A tem $3,75 \text{ m}^2$ de área, e que a medida do lado y é igual a $\frac{3}{5}$ da medida do lado x . A diferença entre os perímetros dos painéis A e B, nessa ordem, é igual a

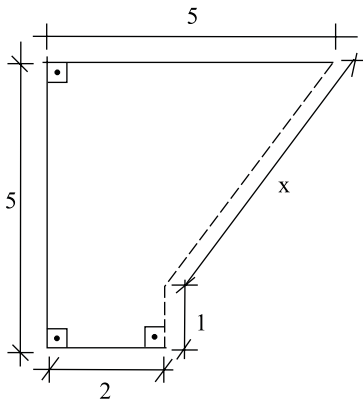


- (A) 1,50 m.
 (B) 1,75 m.
 (C) 2,00 m.
 (D) 2,20 m.
 (E) 2,25 m.

18. Flávio ingeriu uma certa quantidade do suco contido em um recipiente com a forma de um prisma reto, mostrado na figura, e o nível do suco no recipiente baixou 5 cm. A quantidade de suco ingerida por Flávio foi, em mL, igual a

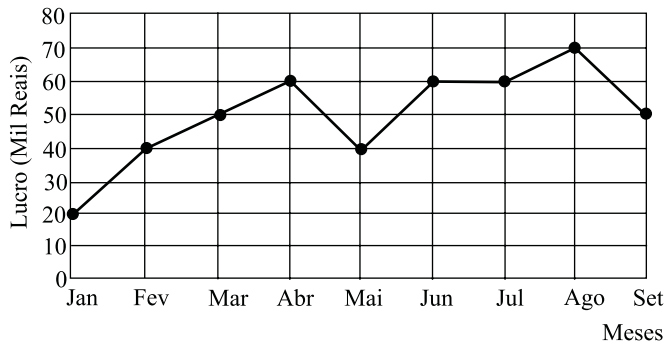


- (A) 185.
 (B) 200
 (C) 210.
 (D) 225.
 (E) 245.
19. Na figura, cujas dimensões estão em metros, a linha pontilhada representa uma grade que foi colocada em dois lados de um canteiro. A extensão total dessa grade é



- (A) 6,00 m.
 (B) 5,80 m.
 (C) 5,75 m.
 (D) 5,50 m.
 (E) 5,00 m.

20. No gráfico está representado o lucro mensal, em milhares de reais, de uma pequena empresa, no período de janeiro a setembro de 2009.



De acordo com os dados do gráfico, é correto afirmar que o lucro

- (A) de abril teve um crescimento de 25% em relação ao do mês anterior.
- (B) médio mensal, no 2.º trimestre, foi igual a 40 mil reais.
- (C) médio mensal, no 3.º trimestre, foi igual a 60 mil reais.
- (D) mensal igual a 50 mil reais ocorreu em apenas um mês.
- (E) mensal igual a 60 mil reais ocorreu em três meses consecutivos.

CONHECIMENTOS BÁSICOS

21. Verificada a prática de ato infracional, a autoridade competente poderá aplicar ao adolescente medidas socioeducativas, dentre as quais
- (A) orientação, apoio e acompanhamento temporários.
 - (B) repreensão por escrito e restituição do objeto danificado.
 - (C) liberdade representada com a finalidade de orientação.
 - (D) advertência, que será aplicada independentemente de prova da materialidade da infração.
 - (E) prestação de serviços comunitários, por período superior a sete meses, junto a entidades assistenciais.
22. São diretrizes da política de atendimento à criança e ao adolescente:
- (A) serviços gerais de atendimento médico e psicossocial às vítimas de crueldade e opressão.
 - (B) políticas e programas de assistência social, em caráter permanente, para todos.
 - (C) criação e manutenção de programas específicos, observada a descentralização político-administrativa.
 - (D) proteção jurídico-social por entidades de defesa dos direitos e deveres.
 - (E) imobilização da opinião pública no sentido da dispensável participação dos diversos segmentos da sociedade.

CONHECIMENTOS ESPECÍFICOS

23. As entidades que desenvolvam programas de abrigo à criança e ao adolescente deverão adotar o seguinte princípio:
- (A) observar os direitos e garantias de que são titulares os adolescentes.
 - (B) desmembramentos de grupos de irmãos em famílias substitutivas.
 - (C) proceder a estudo social e pessoal de cada caso.
 - (D) proceder, sempre que possível, à transferência de crianças e adolescentes abrigados para outras entidades.
 - (E) participação de pessoas da comunidade no processo educativo.
24. São asseguradas ao adolescente, entre outras, as seguintes garantias processuais:
- (A) pleno e formal conhecimento da atribuição de ato infracional, mediante intimação.
 - (B) direito de ser ouvido pessoalmente pela autoridade competente.
 - (C) defesa técnica pelo Conselho Tutelar.
 - (D) igualdade na relação processual, não podendo, no entanto, confrontar-se com vítimas ou testemunhas.
 - (E) semiliberdade assistida durante o curso do processo legal.
25. O direito das crianças e dos adolescentes à proteção especial, previsto na Constituição Federal, abrange, dentre outros aspectos,
- (A) a garantia de direitos previdenciários e trabalhistas.
 - (B) a idade mínima de dezessete anos para admissão ao trabalho.
 - (C) a jornada de trabalho reduzida, perfazendo trinta horas semanais.
 - (D) o estímulo do Poder Público a programas de estágio não remunerado.
 - (E) a admissão incondicionada no mercado de trabalho.

26. Segundo o que está preconizado pelo Ministério da Saúde para o Atendimento Pré-Hospitalar, os socorros de urgência e emergência exigem do indivíduo que atende a vítima ter treinamento, calma, bom senso e criatividade. Isto proporcionará atingir os objetivos básicos dos primeiros socorros, ou seja,
- (A) manter a respiração, a circulação, conter a hemorragia intensa e diminuir a intensidade do estado de choque.
 - (B) diminuir a intensidade do estado de choque, salvar vidas e prevenir sequelas, transportando rapidamente ao hospital.
 - (C) salvar vidas, prevenir sequelas, conservar a vitalidade e resistência às infecções e transportar ao hospital.
 - (D) prevenir sequelas, conservar a vitalidade e resistência às infecções e transportar para o hospital.
 - (E) fazer ventilação, compressão torácica, conservar a vitalidade e transportar rapidamente ao hospital.
27. Um indivíduo foi acidentado ou acometido de mal súbito. Você vê e tenta prestar-lhe algum socorro. Supondo-se ausência de pulso, ausência de movimentos respiratórios e cianose. Imediatamente, segundo o preconizado pelo suporte básico de vida, você toma as seguintes atitudes:
1. chama ajuda e pede ambulância;
 2. coloca a pessoa em decúbito dorsal;
 3. faz respiração artificial;
 4. libera e abre as vias respiratórias;
 5. faz massagem cardíaca.
- Assinale a alternativa cujos números indicam, na ordem crescente de importância, as atitudes que devem ser tomadas.
- (A) 1, 2, 3, 4, 5.
 - (B) 2, 4, 3, 5, 1.
 - (C) 1, 2, 4, 3, 5.
 - (D) 1, 2, 3, 5, 4.
 - (E) 2, 1, 3, 5, 4.

Com relação à vacina da gripe contra o vírus *influenza*, responda às questões de números 28 a 30.

28. Ao ser administrada em adultos, deverá ser aplicada por via
- (A) intramuscular.
 - (B) subcutânea.
 - (C) intradérmica.
 - (D) oral.
 - (E) intravenosa.

29. Em sendo material imunobiológico, deve ser mantida em condições adequadas de refrigeração até o momento em que for administrada. Assim, a temperatura ideal para armazenamento e conservação é entre
- (A) -3°C e $+8^{\circ}\text{C}$.
 - (B) $+2^{\circ}\text{C}$ e $+8^{\circ}\text{C}$.
 - (C) $+3^{\circ}\text{C}$ e $+8^{\circ}\text{C}$.
 - (D) $+2^{\circ}\text{C}$ e -8°C .
 - (E) -2°C e $+8^{\circ}\text{C}$.
30. O volume administrado na vacinação é de
- (A) 0,1 mL.
 - (B) 0,2 mL.
 - (C) 0,3 mL.
 - (D) 0,4 mL.
 - (E) 0,5 mL.
31. Doença controlada no Brasil desde a metade da década de 90 e em vias de erradicação no mundo, sua vacina é elaborada por algumas cepas virais do mesmo agente etiológico, é administrada em crianças no primeiro ano de vida. A doença em questão é
- (A) tuberculose.
 - (B) hepatite.
 - (C) poliomielite.
 - (D) sarampo.
 - (E) dengue.
32. O serviço de enfermagem está diretamente envolvido com o tema biossegurança e, hoje em dia, a preocupação é tão grande que justifica a criação de Comissões de Biossegurança. Essa comissão tem como missão fundamental estabelecer ações de
- (A) atendimento igualitário às necessidades humanas básicas dos pacientes.
 - (B) qualidade de vida a todos os integrantes da comissão de infecção hospitalar.
 - (C) compra e manutenção de todos os equipamentos para evitar riscos de acidente.
 - (D) promoção e prevenção de acidentes antes de ocorrer qualquer evento.
 - (E) combate à poluição auditiva, visual e ambiental no hospital.
33. Na administração de uma injeção subcutânea, deve-se
- (A) após a administração, massagear o local, facilitando a absorção.
 - (B) utilizar um ângulo de 90° para aplicação com agulha 13 x 4,5.
 - (C) fazer antisepsia no local de aplicação e inclinar a agulha 40 x 12.
 - (D) utilizar um ângulo de 90° para aplicação com agulha 40 x 7.
 - (E) utilizar um ângulo de 45° para aplicação com agulha 40 x 12.
34. Em relação à administração de concentrado de hemácias e derivados, é incorreto
- (A) utilizar equipo com filtro especial para leucócitos em indivíduos politransfundidos.
 - (B) utilizar uma via de acesso venoso exclusivo.
 - (C) utilizar solução de soro glicosado para ajudar na infusão quando está muito lenta.
 - (D) utilizar o sangue ou derivado assim que chegar do Banco de Sangue.
 - (E) evitar que sangue e hemoderivados fiquem expostos ao sol.
35. Na verificação da pressão arterial, considera-se hiato auscultatório o
- (A) abafamento total dos sons entre as fases I e II de Korotkoff.
 - (B) desaparecimento do murmúrio entre as fases I e II de Korotkoff.
 - (C) abafamento do murmúrio entre as fases I e II de Korotkoff.
 - (D) desaparecimento dos sons entre as fases I e II de Korotkoff.
 - (E) desaparecimento dos sons das fases I e II de Korotkoff.
36. Considere as afirmativas.
- I. Procedimentos invasivos não trazem riscos de infecção hospitalar, pois os materiais usados são estéreis.
 - II. A cateterização vesical de alívio realizada na sala de recuperação pós-cirúrgica não precisa ser considerada “procedimento invasivo”, já que o tipo de sonda é material semicrítico.
 - III. A condição nutricional do paciente é fator secundário no processo de cicatrização e é desconsiderado quando se utiliza a melhor solução antisséptica no local da ferida.
 - IV. Um artigo chamado crítico é aquele que deve ser utilizado atendendo a princípios de esterilização, sob risco de contaminação.
 - V. O uso de luvas de procedimento na cateterização vesical de alívio no paciente cirúrgico é permitido, pois o ambiente é de baixo risco para contaminação e, além disso, a sonda é material semicrítico.
- Está correto apenas o que se afirma em
- (A) I.
 - (B) IV.
 - (C) I e III.
 - (D) IV e V.
 - (E) I, III e IV.

37. Marque, na segunda coluna, de acordo com a primeira, os tipos de respiração.
1. Eupneia () parada da respiração
 2. Dispneia () respiração lenta
 3. Apneia () respiração normal
 4. Taquipneia () respiração difícil
 5. Bradpneia () respiração acelerada
- A sequência correta, de cima para baixo, é:
- (A) 4, 2, 1, 5 e 3.
 - (B) 1, 5, 3, 4 e 2.
 - (C) 3, 5, 1, 2 e 4.
 - (D) 3, 5, 1, 4 e 2.
 - (E) 2, 4, 3, 1 e 5.
38. Cuidado com feridas é um aspecto muito presente quando pensamos a assistência de enfermagem. A pele pode ser lesada de diversas formas, sendo que cada lesão implica um tipo de dano diferente. No atendimento de primeiros socorros em ferimentos graves, o curativo deve priorizar:
- (A) contenção de hemorragia e proteção contra infecções.
 - (B) aproximação por sutura cirúrgica após lavar com água e sabão.
 - (C) aplicação de produtos cicatrizantes após sutura cirúrgica.
 - (D) transporte do ferido rapidamente, independentemente do tipo de ferida.
 - (E) não realização de nenhum tipo de ação antes de o médico avaliar.
39. As lesões puntiformes que identificam um extravasamento do sangue sob a pele e estão presentes em algumas doenças recebem o nome de
- (A) púrpura.
 - (B) púrpura trombocitopênica idiopática.
 - (C) fragilidade capilar.
 - (D) hematoma.
 - (E) petéquia.
40. É um sinal muito encontrado nos casos de desidratação de crianças menores de 06 meses:
- (A) abdome distendido.
 - (B) fontanela deprimida.
 - (C) edema palpebral.
 - (D) veias ingurgitadas no pescoço.
 - (E) pele pigmentada.
41. A duração da gestação humana, a partir da fertilização, é de
- (A) 36 semanas.
 - (B) 12 meses lunares.
 - (C) 266 dias.
 - (D) 280 dias.
 - (E) 40 semanas.
42. Analise as afirmações a seguir, marcando (V) para as verdadeiras e (F) para as falsas.
- I. () O método mãe-canguru tem o incentivo financeiro do governo federal em virtude de contribuir para a diminuição do tempo de internação e do número de infecção.
 - II. () Qualquer pessoa, desde que autorizada pelos responsáveis, pode estar realizando o método mãe-canguru.
 - III. () O método mãe-canguru inicia-se com o RN (recém-nascido) ainda na UTI (Unidade de Terapia Intensiva) e se estende até o ambiente domiciliar.
 - IV. () O método mãe-canguru proporciona inúmeros benefícios, como contato pele a pele e amamentação em livre demanda, contribuindo diretamente para a manutenção da temperatura e ganho de peso corporal, respectivamente.
 - V. () O método mãe-canguru é indicado para os RN (recém-nascidos) a termo.
- Está correta a sequência:
- (A) V-V-V-V-F.
 - (B) F-F-F-V-F.
 - (C) V-V-V-F-V.
 - (D) V-V-F-V-F.
 - (E) F-F-V-F-V.
43. A mulher que teve dois abortos anteriores e engravidou há um ano, dando a luz a gêmeos na 37.^a semana de gestação, hoje pode ser assim caracterizada:
- (A) secundípara.
 - (B) secundigesta.
 - (C) puérpera.
 - (D) tercigesta.
 - (E) tercípara.
44. O aleitamento materno poderá estar contraindicado em algumas situações presentes no binômio mãe-filho, tais como:
- (A) doença renal crônica, baixo peso e prematuridade exagerada.
 - (B) portadora de HIV, dependência de drogas e presença de fenda palatina.
 - (C) portadora de HIV, tabagista e hiperbilirrubinemia.
 - (D) doença renal crônica, doença diarreica e prematuridade.
 - (E) portadora de HIV, doença diarreica e hiperbilirrubinemia.

45. No Brasil, de acordo com a maioria dos bioeticistas, a recusa na transfusão de sangue por parte da religião Testemunha de Jeová deverá

- (A) ser respeitada pela equipe médica, independentemente da idade do paciente, desde que ele deixe o hospital.
- (B) ser respeitada em caso de pessoas maiores de 21 anos.
- (C) ser realizada em outro país que utilize técnicas que não necessitem de sangue.
- (D) ser respeitada, desde que a pessoa seja maior de idade e tenha autonomia e um familiar próximo que se responsabilize por ela.
- (E) ser autorizada pelo juiz, principalmente em caso de menor, caso os pais não a autorizem.

46. O procedimento técnico sequencial ventilação-compressão torácica na reanimação cardiopulmonar (RCP) em adultos, realizada por duas pessoas, é, respectivamente:

- (A) 2 e 5.
- (B) 2 e 30.
- (C) 1 e 15.
- (D) 1 e 30.
- (E) 2 e 15.

47. Durante a RCP de um adulto, uma criança e um bebê, o esterno deve ser comprimido, respectivamente,

(A)	3,5 a 5,0 cm	2,5 a 3,5 cm	1,5 a 2,5 cm
(B)	1,5 a 2,5 cm	2,0 a 2,5 cm	0,5 a 1,5 cm
(C)	1,5 cm	1,0 cm	0,5 cm
(D)	2,5 cm	2,0 cm	1,5 cm
(E)	3,0 a 4,0 cm	1,0 a 2,0 cm	0,5 a 1,0 cm

48. A posição mais segura na qual deve ser colocada uma vítima inconsciente, por problemas clínicos, é deitada em decúbito

- (A) dorsal, com os pés elevados.
- (B) ventral, com braços estendidos.
- (C) dorsal, com a cabeça e ombros elevados.
- (D) lateral, com os joelhos fletidos.
- (E) semi-sentado ou recostado.

49. Alguns dos sinais e sintomas de ataque cardíaco incluem

- I. sensação vaga de desconforto e dor compressiva torácica;
- II. sensação de peso no tórax, abaixo do esterno;
- III. dor que irradia do tórax para a mandíbula e braços;
- IV. náusea e sudorese.

É correto o que se afirma em

- (A) I e III, apenas.
- (B) II e III, apenas.
- (C) II e IV, apenas.
- (D) I, III e IV, apenas.
- (E) I, II, III e IV.

50. Você lê na prescrição médica que o paciente deverá receber 60 mg de fenobarbital por via oral, duas vezes ao dia, antes do café da manhã e à noite. Sabendo que essa medicação é encontrada na forma de comprimido de 15 mg, o total de comprimidos administrados a cada horário será:

- (A) 2.
- (B) 4.
- (C) 6.
- (D) 8.
- (E) 10.