



PREFEITURA
**SÃO JOSÉ
DO RIO PRETO**

SECRETARIA DE ADMINISTRAÇÃO

CONCURSO PÚBLICO

005. PROVA OBJETIVA

AGENTE FISCAL DE POSTURAS

- ♦ VOCÊ RECEBEU SUA FOLHA DE RESPOSTAS E ESTE CADERNO CONTENDO **60** QUESTÕES OBJETIVAS.
- ♦ CONFIRA SEU NOME E NÚMERO DE INSCRIÇÃO IMPRESSOS NA CAPA DESTE CADERNO.
- ♦ LEIA CUIDADOSAMENTE AS QUESTÕES E ESCOLHA A RESPOSTA QUE VOCÊ CONSIDERA CORRETA.
- ♦ RESPONDA A TODAS AS QUESTÕES.
- ♦ MARQUE, NA FOLHA INTERMEDIÁRIA DE RESPOSTAS, LOCALIZADA NO VERSO DESTA PÁGINA, A LETRA CORRESPONDENTE À ALTERNATIVA QUE VOCÊ ESCOLHEU.
- ♦ TRANSCREVA PARA A FOLHA DE RESPOSTAS, COM CANETA DE TINTA AZUL OU PRETA, TODAS AS RESPOSTAS ANOTADAS NA FOLHA INTERMEDIÁRIA DE RESPOSTAS.
- ♦ A DURAÇÃO DA PROVA É DE **3 HORAS E 30 MINUTOS**.
- ♦ A SAÍDA DO CANDIDATO DA SALA SERÁ PERMITIDA APÓS TRANSCORRIDA A METADE DO TEMPO DE DURAÇÃO DA PROVA.
- ♦ AO SAIR, VOCÊ ENTREGARÁ AO FISCAL A FOLHA DE RESPOSTAS E ESTE CADERNO, PODENDO DESTACAR ESTA CAPA PARA FUTURA CONFERÊNCIA COM O GABARITO A SER DIVULGADO.

AGUARDE A ORDEM DO FISCAL PARA ABRIR ESTE CADERNO DE QUESTÕES.

PCI Concursos



PREFEITURA
**SÃO JOSÉ
DO RIO PRETO**

SECRETARIA DE ADMINISTRAÇÃO

FOLHA INTERMEDIÁRIA DE RESPOSTAS

QUESTÃO	RESPOSTA				
01	<input type="checkbox"/> A	<input type="checkbox"/> B	<input type="checkbox"/> C	<input type="checkbox"/> D	<input type="checkbox"/> E
02	<input type="checkbox"/> A	<input type="checkbox"/> B	<input type="checkbox"/> C	<input type="checkbox"/> D	<input type="checkbox"/> E
03	<input type="checkbox"/> A	<input type="checkbox"/> B	<input type="checkbox"/> C	<input type="checkbox"/> D	<input type="checkbox"/> E
04	<input type="checkbox"/> A	<input type="checkbox"/> B	<input type="checkbox"/> C	<input type="checkbox"/> D	<input type="checkbox"/> E
05	<input type="checkbox"/> A	<input type="checkbox"/> B	<input type="checkbox"/> C	<input type="checkbox"/> D	<input type="checkbox"/> E

QUESTÃO	RESPOSTA				
21	<input type="checkbox"/> A	<input type="checkbox"/> B	<input type="checkbox"/> C	<input type="checkbox"/> D	<input type="checkbox"/> E
22	<input type="checkbox"/> A	<input type="checkbox"/> B	<input type="checkbox"/> C	<input type="checkbox"/> D	<input type="checkbox"/> E
23	<input type="checkbox"/> A	<input type="checkbox"/> B	<input type="checkbox"/> C	<input type="checkbox"/> D	<input type="checkbox"/> E
24	<input type="checkbox"/> A	<input type="checkbox"/> B	<input type="checkbox"/> C	<input type="checkbox"/> D	<input type="checkbox"/> E
25	<input type="checkbox"/> A	<input type="checkbox"/> B	<input type="checkbox"/> C	<input type="checkbox"/> D	<input type="checkbox"/> E

QUESTÃO	RESPOSTA				
41	<input type="checkbox"/> A	<input type="checkbox"/> B	<input type="checkbox"/> C	<input type="checkbox"/> D	<input type="checkbox"/> E
42	<input type="checkbox"/> A	<input type="checkbox"/> B	<input type="checkbox"/> C	<input type="checkbox"/> D	<input type="checkbox"/> E
43	<input type="checkbox"/> A	<input type="checkbox"/> B	<input type="checkbox"/> C	<input type="checkbox"/> D	<input type="checkbox"/> E
44	<input type="checkbox"/> A	<input type="checkbox"/> B	<input type="checkbox"/> C	<input type="checkbox"/> D	<input type="checkbox"/> E
45	<input type="checkbox"/> A	<input type="checkbox"/> B	<input type="checkbox"/> C	<input type="checkbox"/> D	<input type="checkbox"/> E

06	<input type="checkbox"/> A	<input type="checkbox"/> B	<input type="checkbox"/> C	<input type="checkbox"/> D	<input type="checkbox"/> E
07	<input type="checkbox"/> A	<input type="checkbox"/> B	<input type="checkbox"/> C	<input type="checkbox"/> D	<input type="checkbox"/> E
08	<input type="checkbox"/> A	<input type="checkbox"/> B	<input type="checkbox"/> C	<input type="checkbox"/> D	<input type="checkbox"/> E
09	<input type="checkbox"/> A	<input type="checkbox"/> B	<input type="checkbox"/> C	<input type="checkbox"/> D	<input type="checkbox"/> E
10	<input type="checkbox"/> A	<input type="checkbox"/> B	<input type="checkbox"/> C	<input type="checkbox"/> D	<input type="checkbox"/> E

26	<input type="checkbox"/> A	<input type="checkbox"/> B	<input type="checkbox"/> C	<input type="checkbox"/> D	<input type="checkbox"/> E
27	<input type="checkbox"/> A	<input type="checkbox"/> B	<input type="checkbox"/> C	<input type="checkbox"/> D	<input type="checkbox"/> E
28	<input type="checkbox"/> A	<input type="checkbox"/> B	<input type="checkbox"/> C	<input type="checkbox"/> D	<input type="checkbox"/> E
29	<input type="checkbox"/> A	<input type="checkbox"/> B	<input type="checkbox"/> C	<input type="checkbox"/> D	<input type="checkbox"/> E
30	<input type="checkbox"/> A	<input type="checkbox"/> B	<input type="checkbox"/> C	<input type="checkbox"/> D	<input type="checkbox"/> E

46	<input type="checkbox"/> A	<input type="checkbox"/> B	<input type="checkbox"/> C	<input type="checkbox"/> D	<input type="checkbox"/> E
47	<input type="checkbox"/> A	<input type="checkbox"/> B	<input type="checkbox"/> C	<input type="checkbox"/> D	<input type="checkbox"/> E
48	<input type="checkbox"/> A	<input type="checkbox"/> B	<input type="checkbox"/> C	<input type="checkbox"/> D	<input type="checkbox"/> E
49	<input type="checkbox"/> A	<input type="checkbox"/> B	<input type="checkbox"/> C	<input type="checkbox"/> D	<input type="checkbox"/> E
50	<input type="checkbox"/> A	<input type="checkbox"/> B	<input type="checkbox"/> C	<input type="checkbox"/> D	<input type="checkbox"/> E

11	<input type="checkbox"/> A	<input type="checkbox"/> B	<input type="checkbox"/> C	<input type="checkbox"/> D	<input type="checkbox"/> E
12	<input type="checkbox"/> A	<input type="checkbox"/> B	<input type="checkbox"/> C	<input type="checkbox"/> D	<input type="checkbox"/> E
13	<input type="checkbox"/> A	<input type="checkbox"/> B	<input type="checkbox"/> C	<input type="checkbox"/> D	<input type="checkbox"/> E
14	<input type="checkbox"/> A	<input type="checkbox"/> B	<input type="checkbox"/> C	<input type="checkbox"/> D	<input type="checkbox"/> E
15	<input type="checkbox"/> A	<input type="checkbox"/> B	<input type="checkbox"/> C	<input type="checkbox"/> D	<input type="checkbox"/> E

31	<input type="checkbox"/> A	<input type="checkbox"/> B	<input type="checkbox"/> C	<input type="checkbox"/> D	<input type="checkbox"/> E
32	<input type="checkbox"/> A	<input type="checkbox"/> B	<input type="checkbox"/> C	<input type="checkbox"/> D	<input type="checkbox"/> E
33	<input type="checkbox"/> A	<input type="checkbox"/> B	<input type="checkbox"/> C	<input type="checkbox"/> D	<input type="checkbox"/> E
34	<input type="checkbox"/> A	<input type="checkbox"/> B	<input type="checkbox"/> C	<input type="checkbox"/> D	<input type="checkbox"/> E
35	<input type="checkbox"/> A	<input type="checkbox"/> B	<input type="checkbox"/> C	<input type="checkbox"/> D	<input type="checkbox"/> E

51	<input type="checkbox"/> A	<input type="checkbox"/> B	<input type="checkbox"/> C	<input type="checkbox"/> D	<input type="checkbox"/> E
52	<input type="checkbox"/> A	<input type="checkbox"/> B	<input type="checkbox"/> C	<input type="checkbox"/> D	<input type="checkbox"/> E
53	<input type="checkbox"/> A	<input type="checkbox"/> B	<input type="checkbox"/> C	<input type="checkbox"/> D	<input type="checkbox"/> E
54	<input type="checkbox"/> A	<input type="checkbox"/> B	<input type="checkbox"/> C	<input type="checkbox"/> D	<input type="checkbox"/> E
55	<input type="checkbox"/> A	<input type="checkbox"/> B	<input type="checkbox"/> C	<input type="checkbox"/> D	<input type="checkbox"/> E

16	<input type="checkbox"/> A	<input type="checkbox"/> B	<input type="checkbox"/> C	<input type="checkbox"/> D	<input type="checkbox"/> E
17	<input type="checkbox"/> A	<input type="checkbox"/> B	<input type="checkbox"/> C	<input type="checkbox"/> D	<input type="checkbox"/> E
18	<input type="checkbox"/> A	<input type="checkbox"/> B	<input type="checkbox"/> C	<input type="checkbox"/> D	<input type="checkbox"/> E
19	<input type="checkbox"/> A	<input type="checkbox"/> B	<input type="checkbox"/> C	<input type="checkbox"/> D	<input type="checkbox"/> E
20	<input type="checkbox"/> A	<input type="checkbox"/> B	<input type="checkbox"/> C	<input type="checkbox"/> D	<input type="checkbox"/> E

36	<input type="checkbox"/> A	<input type="checkbox"/> B	<input type="checkbox"/> C	<input type="checkbox"/> D	<input type="checkbox"/> E
37	<input type="checkbox"/> A	<input type="checkbox"/> B	<input type="checkbox"/> C	<input type="checkbox"/> D	<input type="checkbox"/> E
38	<input type="checkbox"/> A	<input type="checkbox"/> B	<input type="checkbox"/> C	<input type="checkbox"/> D	<input type="checkbox"/> E
39	<input type="checkbox"/> A	<input type="checkbox"/> B	<input type="checkbox"/> C	<input type="checkbox"/> D	<input type="checkbox"/> E
40	<input type="checkbox"/> A	<input type="checkbox"/> B	<input type="checkbox"/> C	<input type="checkbox"/> D	<input type="checkbox"/> E

56	<input type="checkbox"/> A	<input type="checkbox"/> B	<input type="checkbox"/> C	<input type="checkbox"/> D	<input type="checkbox"/> E
57	<input type="checkbox"/> A	<input type="checkbox"/> B	<input type="checkbox"/> C	<input type="checkbox"/> D	<input type="checkbox"/> E
58	<input type="checkbox"/> A	<input type="checkbox"/> B	<input type="checkbox"/> C	<input type="checkbox"/> D	<input type="checkbox"/> E
59	<input type="checkbox"/> A	<input type="checkbox"/> B	<input type="checkbox"/> C	<input type="checkbox"/> D	<input type="checkbox"/> E
60	<input type="checkbox"/> A	<input type="checkbox"/> B	<input type="checkbox"/> C	<input type="checkbox"/> D	<input type="checkbox"/> E

CONHECIMENTOS GERAIS

LÍNGUA PORTUGUESA

Leia o texto para responder às questões de números **01** a **08**.

Luto na família Silva

A ambulância foi chamada. Veio tinindo. Um homem estava deitado na calçada. Uma poça de sangue. A ambulância voltou vazia. O homem estava morto. O cadáver foi removido para o necrotério. Na seção dos “Fatos Diversos” do *Diário de Pernambuco*, leio o nome do sujeito: João da Silva. Morava na Rua da Alegria. Morreu de hemoptise.

João da Silva – Neste momento em que seu corpo vai baixar à vala comum, nós, seus amigos e seus irmãos, vimos lhe prestar esta homenagem. Nós somos os joões da silva, os populares joões da silva. Moramos em várias casas e em várias cidades. Moramos, principalmente, na rua. Nós pertencemos, como você, à família Silva. Não é uma família ilustre; não temos avós na história. Muitos de nós usamos outros nomes, para disfarce. No fundo, somos os Silva. Quando o Brasil foi colonizado, éramos os degredados. Depois fomos os índios. Depois fomos os negros. Depois fomos os imigrantes, mestiços. Somos os Silva. Algumas pessoas importantes usaram e usam nosso nome. É por engano. Os Silva somos nós. Não temos a mínima importância. Trabalhamos, andamos pelas ruas e morremos. Saímos da vala comum da vida para o mesmo local da morte. Às vezes, por modéstia, não usamos nosso nome de família. Usamos o sobrenome “de Tal”. A família Silva e a família “de Tal” são a mesma família.

João da Silva – Você não possuía sangue-azul. O sangue que saía de sua boca era vermelho – vermelhinho da silva. Sangue de nossa família. Nossa família, João, vai mal em política. Sempre por baixo. Nossa família, entretanto, é que trabalha para as famílias importantes que são sustentadas pela nossa família. Nós auxiliamos várias famílias importantes na América do Norte, na Inglaterra, na França, no Japão. A gente de nossa família trabalha nas plantações de mate, nos postos, nas fazendas, nas usinas, nas praias, nas fábricas, nas minas, nos balcões, no mato, nas cozinhas, em todo lugar onde se trabalha. Nossa família quebra pedra, faz telha de barro, laça bois, levanta prédios, conduz os ônibus, enrola o tapete do circo, enche os porões dos navios, conta o dinheiro dos bancos, faz os jornais, serve no Exército e na Marinha. Nossa família faz tudo.

Apesar disso, João da Silva, temos de enterrar você na vala comum, da miséria e da glória. Porque nossa família um dia há de subir na política...

(Rubem Braga. Adaptado)

- 01.** De acordo com o texto, é correto afirmar que o ponto de vista defendido pelo autor é o
- (A) da concordância de que os trabalhadores não têm nenhuma importância social.
 - (B) da dúvida quanto à equivalência de poder entre a família “de Tal” e a dos Silva.
 - (C) do conceito de que trabalhar direciona o cidadão para a fama.
 - (D) da esperança de que o trabalhador venha a ser reconhecido socialmente.
 - (E) do preconceito contra quem morre na calçada, comprometendo a rotina da cidade.
- 02.** Leia as afirmações.
- I. A expressão **joões da silva**, no texto, significa todos os que, de forma anônima, participaram da história do Brasil.
 - II. As famílias consideradas importantes simbolizam o poder da elite econômica brasileira.
 - III. O autor argumenta que o trabalhador comum é o sustentáculo de outras economias, afora a do Brasil.
- De acordo com o texto, está correto o que se afirma em
- (A) I, apenas.
 - (B) I e II, apenas.
 - (C) I e III, apenas.
 - (D) II e III, apenas.
 - (E) I, II e III.
- 03.** A leitura do texto permite afirmar que o título – *Luto na família Silva* –
- (A) restringe-se a uma determinada e específica família, conforme está comprovado no desenvolvimento do texto.
 - (B) refere-se à publicação feita no Diário de Pernambuco a respeito da morte de um ilustre cidadão daquele estado.
 - (C) é uma metáfora relativa às precárias condições de vida e morte dos cidadãos comuns.
 - (D) anuncia, formalmente, a comoção coletiva, envolvendo altas figuras da elite social, pela morte de João da Silva.
 - (E) relaciona-se ao comunicado jornalístico que registra o pomposo enterro e discurso que mereceu o morto na hora de seu sepultamento.
- 04.** A relação de sentido que se estabelece entre a frase do 1.º parágrafo – Morava na Rua da Alegria – e a sequência do texto é de
- (A) ironia, porque se apresenta como oposição aos fatos narrados.
 - (B) antecipação, uma vez que se coloca como uma possível fase na vida da personagem.
 - (C) reafirmação dos fatos que envolvem a vida de João da Silva.
 - (D) contiguidade, já que o nome da rua é um prolongamento do que a personagem viveu.
 - (E) comparação perfeita entre o que a personagem significa e o que vivenciou.

05. Leia as afirmações.

- I. Na frase – O sangue que saía de sua boca era vermelho – **vermelhinho da silva**. – a expressão destacada é empregada para dar ênfase à cor do sangue.
- II. O texto – *Luto na família Silva* – é uma crônica em que predomina a narração.
- III. Ao final do 3.º parágrafo, na frase – Nossa família faz **tudo**. – a palavra destacada resume especificamente a afirmação anterior –... serve no Exército e na Marinha.

Está correto, apenas, o que se afirma em

- (A) I.
- (B) II.
- (C) III.
- (D) I e II.
- (E) II e III.

06. A expressão que estabelece uma correta relação de significado entre as frases do 1.º parágrafo – A ambulância voltou vazia. O homem estava morto. – é

- (A) já que
- (B) no entanto
- (C) logo que
- (D) assim que
- (E) à proporção que

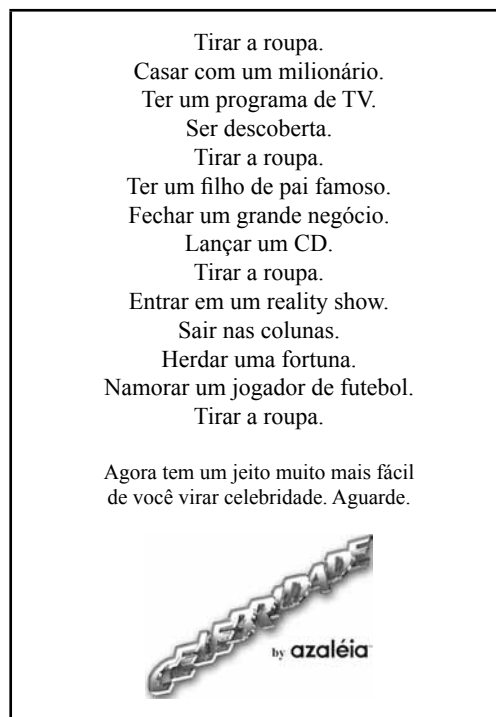
07. Em – **Quando** o Brasil foi colonizado, éramos os degredados. – a palavra destacada introduz a ideia de

- (A) condição.
- (B) consequência.
- (C) temporalidade.
- (D) finalidade.
- (E) proporcionalidade.

08. Na frase – Nossa família, **entretanto**, é que trabalha para os importantes. – a palavra destacada estabelece uma relação de sentido com o que foi afirmado anteriormente de

- (A) adição.
- (B) oposição.
- (C) explicação.
- (D) alternância.
- (E) conclusão.

O texto apresentado a seguir é base para as questões de números 09 e 10.



(Revista Fama, 31.10.2003)

09. Leia as afirmações.

- I. A frase – Ser descoberta. – provoca propositadamente ambiguidade de sentido.
- II. A finalidade predominante desse texto é a de fazer propaganda de um produto comercial.
- III. O sentido produzido pelo texto está calcado no comportamento estereotipado de um perfil de mulher.

Está correto o que se afirma em

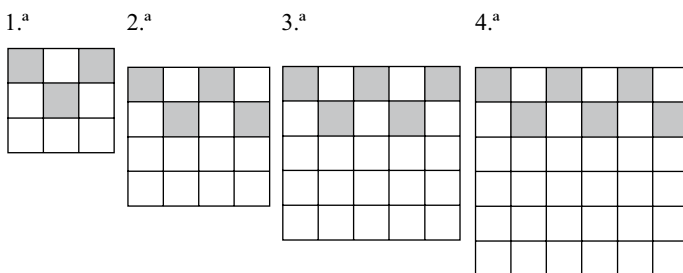
- (A) I e II, apenas.
- (B) I e III, apenas.
- (C) II e III, apenas.
- (D) III, apenas.
- (E) I, II e III.

10. Assinale a alternativa correta.

- (A) Em – Aguarde. – a forma verbal indica uma ação realizada.
- (B) De acordo com a norma culta da língua portuguesa, na frase – Agora tem um jeito mais fácil de você virar celebridade. – o emprego do verbo **ter** é inadequado.
- (C) A frase – Namorar um jogador de futebol. – apresenta um desvio gramatical, pois a única regência do verbo aceita é **namorar com**.
- (D) Nesse texto, o emprego recorrente do ponto final indica ações isoladas que não se relacionam quanto ao sentido.
- (E) Na frase – Agora tem um jeito mais fácil de você virar celebridade. – **Agora** pode ser substituída, sem alteração de sentido, pela expressão **Por outro lado**.

11. Uma pesquisa apontou que todo torcedor do time X é fanático. Existem torcedores do time Y que são fanáticos. Léo torce para o time X e Pietro é fanático. Pode-se, então, afirmar que
- (A) Léo é fanático e o time de Pietro pode não ser X nem Y.
 - (B) Léo também torce para o time Y e o time de Pietro pode não ser X nem Y.
 - (C) Léo é fanático e Pietro torce para o time Y.
 - (D) Léo é fanático e Pietro torce para o time X.
 - (E) Léo também torce para o time Y e Pietro torce para o time X.

12. Cada uma das quatro figuras da sequência a seguir é composta de quadrinhos claros e de quadrinhos escuros.



Admita que a lei de formação das figuras seguintes dessa sequência permaneça a mesma. O número de quadrinhos claros da figura que ocuparia a 40.^a posição na sequência é

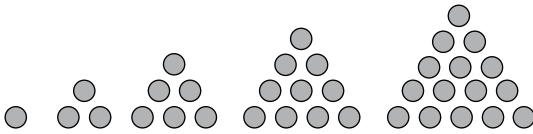
- (A) 1 622.
 - (B) 1 662.
 - (C) 1 722.
 - (D) 1 762.
 - (E) 1 822.
13. Em uma cidade, foi feita uma pesquisa para conhecer o hábito de poupar dos munícipes no ano passado e neste ano. Dos entrevistados sabe-se que
- 500 munícipes declararam que depositarão em caderneta de poupança, apesar de não terem depositado em poupança no ano anterior.
 - 130 munícipes declararam que fizeram poupança no ano anterior, mas não farão este ano.
 - o total dos que farão poupança este ano é 1 850.
 - ao todo 1 700 munícipes declararam que não fizeram poupança no ano anterior.

Foram entrevistados para essa pesquisa

- (A) 3 180 munícipes.
- (B) 3 250 munícipes.
- (C) 3 280 munícipes.
- (D) 3 550 munícipes.
- (E) 3 580 munícipes.

14. Uma pirâmide de base quadrada foi construída para servir de túmulo a um Faraó. Os lados da base medem 300 m e sua altura mede 100 m. Para construir cada parte da pirâmide equivalente a $1\,000\text{ m}^3$, 500 escravos utilizados como mão de obra gastavam, em média, 3 dias. Mantida essa média e a mesma força de trabalho, o tempo necessário para a construção da pirâmide pelos 500 escravos, considerando o ano com 360 dias, foi de
- (A) 2 anos.
 (B) 5 anos.
 (C) 20 anos.
 (D) 25 anos.
 (E) 50 anos.

15. A figura apresenta os cinco primeiros elementos de uma sequência de números chamados números triangulares.



A fórmula que representa a quantidade total de bolinhas (T) necessárias para construir todas as figuras até a n^{a} figura é:

- (A) $T = \frac{n^2 + 2n}{2}$
 (B) $T = n^2 + n$
 (C) $T = n^2 + 2n$
 (D) $T = \frac{n^2 + n}{2}$
 (E) $T = \frac{n^2 + n + 1}{2}$

16. Analise as três sentenças a respeito de números reais.

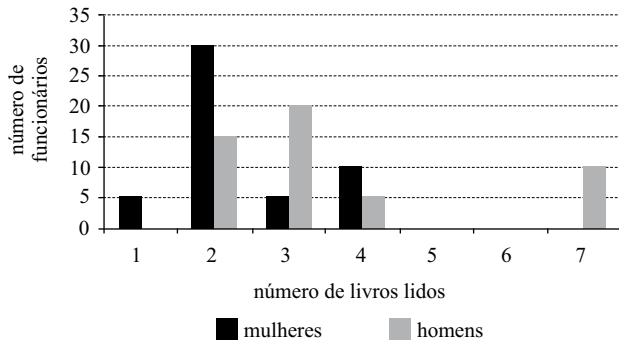
- I. Um número irracional pode ter representação decimal finita.
 II. Todo número racional pode ser expresso por meio de uma fração.
 III. Todos números que têm representação decimal infinita são irracionais.
 IV. A expansão decimal de $\frac{20}{19}$ é infinita e periódica.

Está correto apenas o que se afirma em

- (A) I, II e III.
 (B) II, III e IV.
 (C) I e II.
 (D) III e IV.
 (E) II e IV.

17. O presidente e o vice-presidente são escolhidos dentre os 12 membros do conselho de um clube. Assim, a escolha desses dois cargos pode ser realizada de
- (A) 144 modos diferentes.
 (B) 132 modos diferentes.
 (C) 121 modos diferentes.
 (D) 120 modos diferentes.
 (E) 100 modos diferentes.

18. O gráfico representa a quantidade de livros retirados da biblioteca por funcionários de uma empresa.



A média dos livros retirados pelas mulheres é

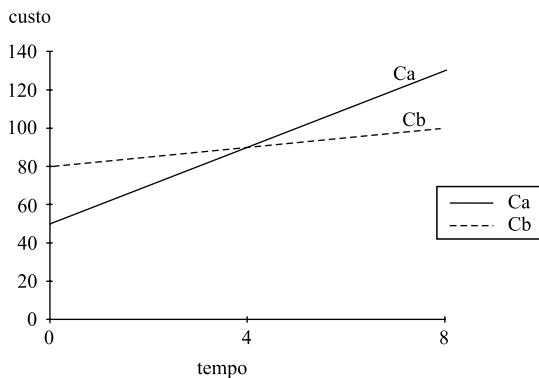
- (A) 1,4.
 (B) 1,5.
 (C) 2,3.
 (D) 2,4.
 (E) 2,5.
19. Analise as afirmativas sobre prismas e pirâmides.

- I. Existe prisma com 33 arestas.
 II. Existe pirâmide com 33 arestas.
 III. Uma pirâmide com 14 arestas tem 8 vértices.
 IV. Um prisma com 17 faces tem 30 vértices.

Pode-se afirmar que estão corretas apenas as afirmações

- (A) I, II e III.
 (B) I, III e IV.
 (C) II e III.
 (D) I e IV.
 (E) III e IV.

20. O gráfico representa o custo de locação de uma quadra de futebol de salão no clube Boleiros de Andaraí, representada por C_a , e o custo de locação de uma quadra de futebol de salão no clube Bolinha de Ouro, representada por C_b , ambas em função do tempo t , expresso em dia.

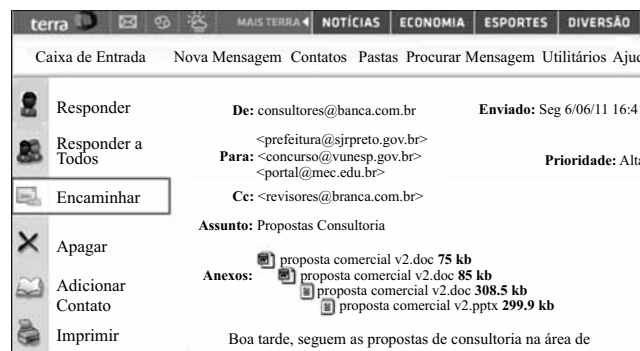


A função que representa o custo de locação da quadra de futebol de salão no clube Boleiros de Andaraí é

- (A) $C_a = 10t + 80$.
- (B) $C_a = 20t + 80$.
- (C) $C_a = 10t + 50$.
- (D) $C_a = 20t + 50$.
- (E) $C_a = 50t + 10$.

R A S C U N H O

Observe o e-mail exibido na figura, recém-recebido por um usuário, e responda às questões de números 21 e 22.



21. Se o usuário clicar em Encaminhar, o webmail abrirá uma nova mensagem,

- (A) sem anexos e texto original, mas preservando os campos Para e Cc.
- (B) com os anexos, preservando o texto original, mas limpando os campos Para e Cc.
- (C) sem anexos, preservando o texto original, mas limpando os campos Para e Cc.
- (D) com os anexos, limpando o texto original, mas preenchendo o campo Para com consultores@banca.com.br.
- (E) sem anexos e texto original, mas preenchendo o campo Para com consultores@banca.com.br e o campo Cc com prefeitura@sjrpreto.gov.br.

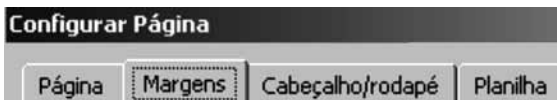
22. Considerando que foi utilizado o MS-Outlook 2003, na sua configuração padrão, para digitar e enviar o e-mail original, assinale a alternativa com a opção correta para anexar os arquivos na mensagem.

- (A) Inserir Item.
- (B) Inserir Arquivo.
- (C) Inserir Arquivos do Office.
- (D) Inserir Apresentações e Documentos.
- (E) Inserir Itens ao E-mail.

23. No MS-Word 2003, na sua configuração padrão, para criar uma lista com os itens dispostos conforme a figura, é necessário entrar na seguinte guia da janela Marcadores e numeração.



- (A) Numerada.
(B) Alfanumérica.
(C) Vários níveis.
(D) Simbólica.
(E) Com marcadores.
24. Para alterar a orientação de página e imprimir as linhas de grade, é necessário usar as respectivas opções encontradas nas guias da janela Configurar Página do MS-Excel 2003, em sua configuração original, apresentadas na figura.



- (A) Margens e Cabeçalho/rodapé.
(B) Cabeçalho/rodapé e Planilha.
(C) Página e Margens.
(D) Página e Cabeçalho/rodapé.
(E) Página e Planilha.

25. Observe o conteúdo das células de uma planilha do MS-Excel 2003, apresentada parcialmente na figura.

	A	B	C
1	CARROS	ESTADO	VALOR
2	FOCUS	SP	R\$ 55.000,00
3	JETTA	SP	R\$ 75.000,00
4	C4	RJ	R\$ 62.000,00
5	JETTA	MG	R\$ 70.000,00
6	CAPTIVA	BA	R\$ 90.000,00
7			

Assinale alternativa com o resultado da seguinte fórmula a ser digitada na célula C7:

=SE(CONT.SE(B2:B6;"SP")>2;SOMASE(A2:A6;"JETTA";C2:C6);MÉDIA(C5:C6)/2*10%)

- (A) R\$ 352.000,00.
(B) R\$ 145.000,00.
(C) R\$ 80.000,00.
(D) R\$ 40.000,00.
(E) R\$ 4.000,00.
26. Para o botão de ação apresentado, o MS-PowerPoint 2003, na sua configuração padrão, sugere o hiperlink para o(a)



- (A) slide mestre.
(B) slide anterior.
(C) página web inicial.
(D) primeiro slide.
(E) próximo slide.

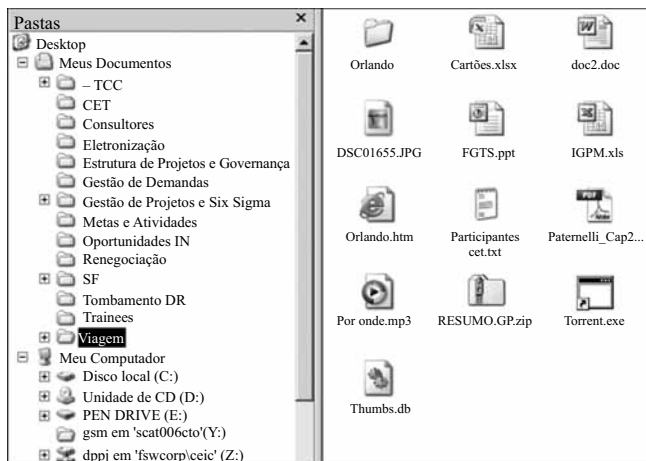
27. A lista de tarefas apresentada parcialmente na figura reflete o momento de utilização de um computador com MS-Windows XP, na sua configuração padrão.



Identifique a alternativa que contém somente aplicativos originais do Windows sendo executados.

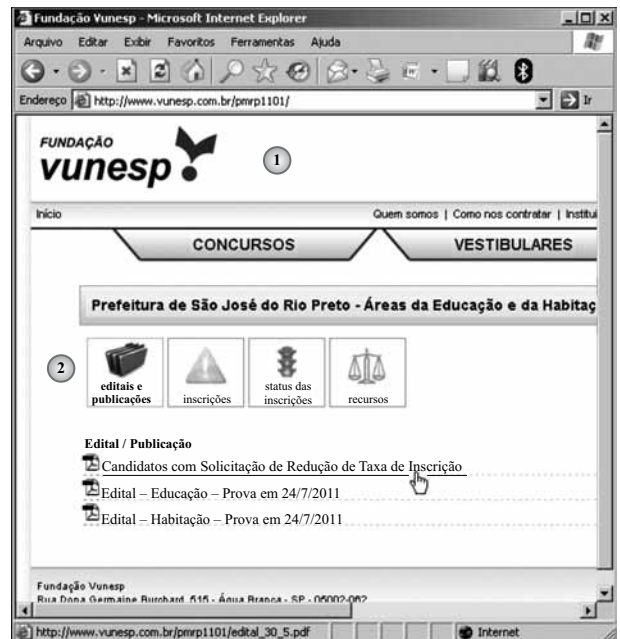
- (A) 2, 4, 5, 6 e 8.
- (B) 1, 3, 7, 8 e 9.
- (C) 4, 5, 7 e 9.
- (D) 2, 3 e 8.
- (E) 6 e 9.

28. Assinale a alternativa correta sobre o Windows Explorer do MS-Windows XP, na sua configuração padrão, exibido parcialmente na figura.



- (A) Na pasta Viagem existe o atalho Orlando.htm.
- (B) Em Meus documentos as pastas _TCC, SF e Trainees possuem subpastas.
- (C) São subpastas de _TCC todas as pastas de CET até Gestão de Demandas, inclusive.
- (D) Ao selecionar e arrastar os arquivos DSC01655.JPG e RESUMO.GP.zip para a unidade de rede dppj em 'fswcorp\ceic' (Z:), tal procedimento fará com que os arquivos sejam copiados e não movidos.
- (E) Ao selecionar e arrastar os arquivos FGTS.ppt e IGPM.xls para o PEN DRIVE (E:), tal procedimento fará com que os arquivos sejam movidos e não copiados.

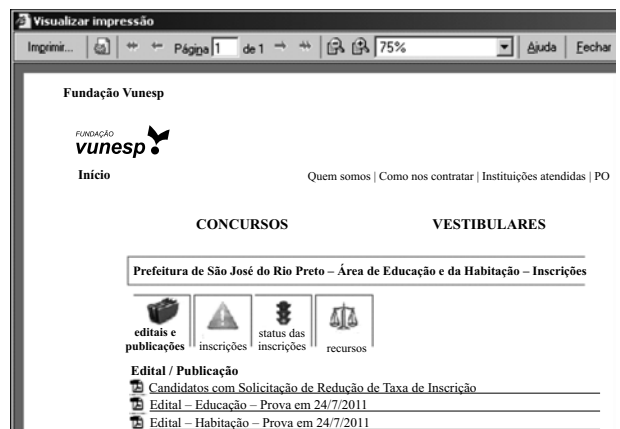
Observando a página Web do concurso da Prefeitura de São José do Rio Preto, responda às questões de números 29 e 30.



29. Assinale a alternativa que contém o URL do link selecionado.

- (A) <http://www.vunesp.com.br/Candidatos>
- (B) <http://www.vunesp.com.br/CandidatoscomSolicitaçãodeReduçãodeTaxadeInscrição>
- (C) http://www.vunesp.com.br/pmrp1101/edital_30_5.pdf
- (D) <http://www.vunesp.com.br/pmrp1101>
- (E) <http://www.vunesp.com.br/>

30. Assumindo que o navegador utilizado é o Internet Explorer 6, assinale a alternativa com o parâmetro utilizado no cabeçalho da página para que a impressão ocorra conforme a figura.



- (A) &w
- (B) &p
- (C) &u
- (D) &b
- (E) &d

CONHECIMENTOS ESPECÍFICOS

DIREITO ADMINISTRATIVO

31. João Pietro, Prefeito Municipal, declara de utilidade pública o imóvel onde reside Bento Ribeiro, seu desafeto político, com a intenção de prejudicá-lo, alegando que pretende desapropriar esse bem para instalar uma casa de saúde no Município, já que os munícipes, há tempos, vêm reivindicando esse benefício para a cidade. Esse ato administrativo do Prefeito, portanto,
- (A) é perfeitamente legal e constitucional, não contendo qualquer vício.
 - (B) é antijurídico por carecer de fundamentação legal.
 - (C) é totalmente ilegal, uma vez que imóveis residenciais não podem ser desapropriados.
 - (D) deverá ser mantido, mesmo que contestado na justiça, já que visa atender ao interesse legítimo dos munícipes.
 - (E) caracteriza um ato eivado pelo desvio de poder.
32. Os atos administrativos punitivos estão, essencialmente, relacionados à seguinte atividade estatal:
- (A) poder de polícia.
 - (B) sentenças judiciais criminais.
 - (C) desapropriação.
 - (D) atividade política.
 - (E) polícia judiciária.
33. Assinale a alternativa correta a respeito da desapropriação.
- (A) Os bens imóveis públicos não podem ser desapropriados.
 - (B) O Poder Legislativo poderá tomar a iniciativa da desapropriação.
 - (C) Após o decreto de desapropriação, esta deverá efetivar-se dentro do prazo de dez anos.
 - (D) O espaço aéreo é insuscetível de desapropriação.
 - (E) A desapropriação não poderá efetivar-se mediante acordo.
34. O instrumento legal que tem por objetivo fazer com que a propriedade urbana cumpra sua função social, visando à ordenação da cidade, é
- (A) o Estatuto da Cidade.
 - (B) a Constituição Federal.
 - (C) o Plano Diretor.
 - (D) a Constituição Estadual.
 - (E) a Lei Orgânica Municipal.

35. No que tange à responsabilidade extracontratual do Estado pelos atos praticados pelos seus agentes contra terceiros, é correto afirmar que
- (A) a imputação dessa responsabilidade exige a comprovação de culpa ou dolo do agente.
 - (B) a responsabilidade do Estado prescinde da comprovação da existência de dano ao particular.
 - (C) não admite excludentes.
 - (D) essa responsabilidade é tida como objetiva.
 - (E) não admite que o Estado ingresse com ação regressiva contra o causador do dano.
36. A improbidade administrativa, a depender do caso concreto, pode acarretar a quem nela incidiu a imposição da seguinte pena:
- (A) suspensão da função pública.
 - (B) suspensão dos direitos políticos por até vinte anos.
 - (C) pagamento de multa civil de até mil vezes o valor do dano.
 - (D) proibição de contratar com o Poder Público pelo prazo de quinze anos.
 - (E) pagamento de multa civil de até cem vezes o valor da remuneração percebida pelo agente.

DIREITO CONSTITUCIONAL

37. Assinale a alternativa que corretamente expressa um direito individual ou coletivo previsto na Constituição Federal.
- (A) Todos têm direito a receber dos órgãos públicos informações de seu interesse particular ou de interesse coletivo geral, que serão prestadas no prazo da lei, que não poderá exceder 30 dias, sob pena de responsabilidade, ressalvadas aquelas cujo sigilo seja imprescindível à segurança e ao interesse públicos.
 - (B) Aos litigantes em processo judicial e aos acusados em geral, com exceção dos processos administrativos, são assegurados o contraditório e a ampla defesa, com os meios e recursos a ela inerentes.
 - (C) Todos podem reunir-se pacificamente, sem armas, em locais abertos ao público, desde que não frustrem outra reunião previamente convocada para o mesmo local, sendo exigido prévio aviso e autorização da autoridade competente.
 - (D) É inviolável a liberdade de consciência e de crença, sendo assegurado o livre exercício dos cultos religiosos e garantida, mediante autorização da autoridade competente, a realização de cultos e suas litúrgias.
 - (E) A casa é asilo inviolável do indivíduo, ninguém nela podendo penetrar sem consentimento do morador, salvo em caso de flagrante delito ou desastre, ou para prestar socorro, ou, durante o dia, por determinação judicial.

38. A qualidade de cidadão é requisito para

- (A) impetrar mandado de segurança para proteger direito líquido e certo, não amparado por *habeas corpus* ou *habeas data*, quando o responsável pela ilegalidade ou abuso de poder for autoridade pública ou agente de pessoa jurídica no exercício de atribuições do Poder Público.
- (B) propor ação popular que vise a anular ato lesivo ao patrimônio público ou de entidade de que o Estado participe, à moralidade administrativa, ao meio ambiente e ao patrimônio histórico e cultural, ficando o autor, salvo comprovada má-fé, isento de custas judiciais e de ônus da sucumbência.
- (C) impetrar mandado de injunção sempre que a falta de norma regulamentadora torne inviável o exercício dos direitos e liberdades constitucionais e das prerrogativas inerentes à nacionalidade, à soberania e à cidadania.
- (D) impetrar *habeas data* para assegurar o conhecimento de informações relativas à pessoa do impetrante, constantes de registros ou bancos de dados de entidades governamentais ou de caráter público.
- (E) impetrar *habeas corpus* para a retificação de dados, quando não se prefira fazê-lo por processo sigiloso, judicial ou administrativo.

39. Compete aos Municípios

- (A) organizar e prestar, diretamente ou sob regime de concessão ou permissão, os serviços públicos de caráter local, incluído o de transporte coletivo, que tem caráter essencial.
- (B) manter, com a cooperação técnica da União e do Estado, programas de ensino fundamental e médio.
- (C) privativamente, legislar sobre proteção à infância e à juventude e integração social da pessoa com deficiência.
- (D) explorar os serviços locais de gás canalizado, na forma da lei.
- (E) concorrentemente, legislar sobre jazidas, minas, outros minerais e metalurgia.

40. Leia as seguintes assertivas.

- I. O total da despesa com a remuneração dos Vereadores não poderá ultrapassar o montante de 10% (dez por cento) da receita do Município.
- II. Os vereadores são invioláveis por suas opiniões, palavras e votos no exercício do mandato e na circunscrição do Município.
- III. A iniciativa popular de projetos de lei de interesse específico do Município, da cidade, ou de bairros, dá-se pela manifestação de, pelo menos, sete por cento do eleitorado.
- IV. É vedada a criação de Tribunais, Conselhos ou órgãos de Contas Municipais.

Está correto somente o contido em

- (A) I e II.
- (B) II e III.
- (C) II e IV.
- (D) III e IV.
- (E) I e IV.

41. Assinale a alternativa que corretamente preenche as lacunas do texto.

Ressalvados os casos especificados na (1), as obras, serviços, compras e alienações serão contratados mediante processo de (2) pública que assegure (3) de condições a todos os concorrentes, com cláusulas que estabeleçam obrigações de pagamento, mantidas as condições efetivas da proposta, nos termos da lei, o qual somente permitirá as exigências de qualificação técnica e (4) indispensáveis à garantia do cumprimento das obrigações.

- (A) (1) constituição; (2) escolha; (3) igualdade; (4) financeira.
- (B) (1) legislação; (2) escolha; (3) paridade; (4) econômica.
- (C) (1) constituição; (2) licitação; (3) paridade; (4) financeira.
- (D) (1) legislação; (2) licitação; (3) igualdade; (4) econômica.
- (E) (1) constituição; (2) escolha; (3) paridade; (4) econômica.

42. Assinale a alternativa correta.

- (A) Extinto o cargo ou declarada sua desnecessidade, o servidor estável ficará em disponibilidade com remuneração integral, até seu adequado aproveitamento em outro cargo.
- (B) Invalidada por sentença judicial a demissão do servidor estável, será ele reintegrado, e o eventual ocupante da vaga, se estável, reconduzido ao cargo de origem, com direito à indenização, aproveitado em outro cargo ou posto em disponibilidade.
- (C) O tempo de contribuição federal, estadual ou municipal não será contado para efeito de aposentadoria, mas o tempo de serviço correspondente será contado para efeito de disponibilidade.
- (D) A lei poderá estabelecer forma de contagem de tempo de contribuição fictício.
- (E) Como condição para a aquisição de estabilidade, é obrigatória a avaliação especial de desempenho por comissão instituída para essa finalidade.

NOÇÕES DE DIREITO PENAL

43. Imagine que um Agente Fiscal, que tem a posse de um veículo oficial em razão de seu cargo, esqueça o veículo aberto e com as chaves no contato. A imprudência do Agente Fiscal possibilita a subtração do veículo por particular. Apura-se que o funcionário público não tinha qualquer prévio ajuste com o particular, tendo esquecido as chaves por culpa. O Agente Fiscal

- (A) comete crime de furto.
- (B) comete crime de concussão.
- (C) comete crime de prevaricação.
- (D) comete crime de peculato culposo.
- (E) não comete crime algum.

44. A reparação do dano depois de sentença irrecorrível, pelo funcionário que comete crime de peculato culposo, nos exatos termos do § 3.º do art. 312 do CP,

- (A) afasta a ilicitude.
- (B) evita a perda do cargo.
- (C) extingue a punibilidade.
- (D) reduz a pena pela metade.
- (E) não tem qualquer efeito.

45. A figura típica do art. 313-A do CP, apresentada sob a rubrica *inserção de dados falsos em sistema de informações*,

- I. também se configura se ocorre a exclusão indevida de dados corretos do sistema informatizado da Administração Pública;
- II. exige o fim específico de obter vantagem indevida para si ou para outrem ou de causar dano;
- III. prevê, cumulativamente, pena de detenção e multa.

Está correto o que se afirma em

- (A) I, apenas.
- (B) II, apenas.
- (C) I e II, apenas.
- (D) I e III, apenas.
- (E) I, II e III.

46. Se o funcionário público exige tributo que deveria saber indevido,

- (A) comete crime de corrupção ativa.
- (B) comete crime de corrupção passiva.
- (C) comete crime de excesso de exação.
- (D) comete crime de peculato mediante erro de outrem.
- (E) não comete crime algum.

47. O funcionário público que, valendo-se dessa qualidade, patrocina interesse privado perante a administração pública comete crime de advocacia administrativa. Com relação a essa figura típica, é correto afirmar que

- (A) não é sujeita, em nenhuma modalidade, à pena de multa.
- (B) não há previsão de punição para a modalidade culposa.
- (C) não há crime se o interesse patrocinado é legítimo.
- (D) não há crime se o patrocínio é indireto.
- (E) é sujeita à pena de reclusão.

48. De acordo com as regras estabelecidas nos parágrafos do art. 323 do CP, o crime de abandono de função está sujeito a pena mais elevada se

- I. do fato resulta prejuízo público;
- II. ocorre em lugar compreendido na faixa de fronteira;
- III. é praticado com intuito de obter lucro para si ou para outrem.

Está correto o que se afirma em

- (A) I, apenas.
- (B) I e II, apenas.
- (C) I e III, apenas.
- (D) II e III, apenas.
- (E) I, II e III.

ADMINISTRAÇÃO

49. A linha da evolução da estratégia continua em busca de uma arquitetura organizacional que permita identificar competências amplas a serem desenhadas; essas arquiteturas são estudos para o futuro. Depois de exaurir o que pode ser analiticamente deduzido sobre a gestão, a instituição precisa _____.

Assinale a alternativa que completa corretamente o texto.

- (A) seguir os caminhos dos concorrentes
- (B) aprender com as experiências
- (C) desenvolver sistemas de controle
- (D) avaliar seus produtos e serviços
- (E) retomar suas políticas anteriores

50. Cada pessoa desempenha um papel (função) no processo decisório. Considere entre as alternativas aquela que identifica quem que, ao exercer o seu papel, oferece conhecimento e informações de suporte à decisão, sugere oportunidades a serem aproveitadas e faz avaliações detalhadas de circunstâncias possíveis.

- (A) Alta direção.
- (B) Equipes de projeto.
- (C) Especialistas.
- (D) Gerentes funcionais.
- (E) Diretores neutros.

51. As necessidades humanas emergem da natureza intrínseca da pessoa e não devem ser confundidas com as consequências de satisfação ou não satisfação das próprias necessidades. Se a motivação nasce das necessidades humanas e não das coisas que satisfazem essas necessidades, uma pessoa
- (A) talvez possa motivar outra.
 (B) pode motivar outra.
 (C) sente-se na obrigação de motivar outra.
 (D) não pode motivar outra.
 (E) consegue motivar multidões.
52. Muitas informações são geradas na organização, por ela própria e pelos seus colaboradores, causando impacto de toda ordem, positiva ou negativamente. Informação não é comunicação. As informações, por si só,
- (A) não conseguem mudar comportamentos e atitudes.
 (B) conseguem mudar comportamentos e atitudes.
 (C) conseguem mudar comportamentos, mas não atitudes.
 (D) conseguem mudar atitudes, mas não comportamentos.
 (E) sempre mudam comportamentos, mas não atitudes.
53. É comum confundir o conceito de eficácia com eficiência. No mundo da gestão, é preciso considerar que existe uma série de diferenças. Sobre esse tema, assinale a alternativa a correta.
- (A) Eficiência é fazer a coisa certa.
 (B) Eficácia é fazer certo a coisa.
 (C) Eficácia é obedecer a especificações, prazo e orçamento.
 (D) Eficiência é desenvolver a coisa fora do prazo, dentro das especificações e orçamento.
 (E) Eficácia é desenvolver e implementar a coisa no prazo, dentro das especificações e orçamento.
54. Estar atento às mudanças e provocá-las ou antecipá-las pode ser um grande diferencial. Nas tecnologias atuais, percebem-se cinco conceitos que conduzem o seu uso. *A rapidez é o atributo necessário para todos os produtos, mas também para os processos, para a comunicação, acesso à informação etc.*
- Entre as alternativas, assinale aquela que denomina e especifica o texto destacado.
- (A) Fragmentação.
 (B) Inversão dos processos de produção e consumo.
 (C) Instantaneidade.
 (D) Ênfase na forma e estilo.
 (E) Hiper-realidade.
55. Considerando que no município de São José do Rio Preto é possível, mediante autorização, o transporte de passageiros em motocicletas de aluguel, conhecidas como moto-táxis, assinale a alternativa correta quanto aos deveres do autorizatário.
- (A) Usar jaleco ou colete na cor laranja, com dístico “moto-táxi” e o número de identificação do alvará na cor preta, padronizado pelo Poder Executivo.
 (B) Obrigar o usuário, em qualquer circunstância, a utilizar capacete aprovado pelo INMETRO na cor amarela, touca higiênica descartável e roupa de chuva.
 (C) Portar, sempre, o alvará expedido pelo Poder Público Municipal, exibindo-o sempre que solicitado pelas autoridades, seus agentes e usuários.
 (D) Em caso de substituição do veículo, portar a autorização anteriormente concedida, comprovando o pagamento do seguro obrigatório.
 (E) Comunicar ao órgão municipal de trânsito competente qualquer alteração de seu endereço, apenas se o fato interferir com a efetiva fiscalização da prestação do serviço.
56. Leia as assertivas.
- I. Constitui ato lesivo à conservação de limpeza urbana afixar publicidade ou propaganda de qualquer natureza em quaisquer equipamentos do mobiliário urbano, mesmo quando de propriedade de pessoas ou entidades direta ou indiretamente favorecidas pela publicidade ou propaganda, exceto as autorizadas pelas Leis e regulamentos vigentes.
- II. Nas feiras livres de artesanato instaladas nas vias e logradouros públicos, os feirantes são obrigados a manter varridas e limpas as áreas de localização de suas barracas e as áreas de circulação adjacentes, inclusive as faixas limitrofes ao alinhamento dos imóveis ou muros divisórios.
- III. Os feirantes deverão manter, individualmente, em suas barracas, em lugar visível e para uso público, sacos plásticos de 100 litros, acondicionados em tambores padronizados na cor laranja, para o recolhimento de detritos, lixo leve e rejeições.
- IV. Todos os estabelecimentos comerciais deverão dispor, internamente e para uso público, de recipientes para o recolhimento de detritos e lixo leve, em quantidade equivalente a dois recipientes para cada 10 m² e instalados em locais visíveis.
- V. É vedado lançar, direta ou indiretamente, nas vias públicas papel picado, confete, serpentina, serragem ou similares, oriundos dos estabelecimentos comerciais em geral.
- Está correto o que se afirma, apenas, em
- (A) I e III.
 (B) II e III.
 (C) IV e V.
 (D) I, II e III.
 (E) I, II e V.

57. No que diz respeito ao Código de Posturas, Lei Complementar n.º 17/92, é(são) permitido(s)
- (A) abertura de fossa séptica nos prédios da cidade providos de rede de abastecimento de água e esgoto.
 - (B) terrenos cobertos de vegetação denominada mato, dentro do perímetro urbano da cidade, desde que devidamente cercados.
 - (C) o transporte de pedra e argila em qualquer veículo, dentro do perímetro urbano, com encerado para a proteção da carga.
 - (D) o escoamento de água servida para a rua, mesmo que esta seja servida com rede de esgoto.
 - (E) queimar no próprio quintal folhas de árvores, ainda que em quantidade que cause moléstia à vizinhança.
58. Para fins de zoneamento urbano, no Município de São José do Rio Preto, assinale a alternativa correta.
- (A) Perímetro urbano é a área loteada que estiver dentro do loteamento urbano do Município.
 - (B) Área rural é a área que estiver cultivada ou com destinação agrícola, mesmo que dentro da expansão urbana.
 - (C) Área de expansão urbana é a área situada dentro do perímetro urbano e ainda não loteada.
 - (D) Área urbana é a linha de contorno que delimita a área urbana e a expansão urbana.
 - (E) Gleba é a parcela de terreno contida em uma quadra e com frente para a via pública.
59. O serviço de táxi é uma permissão da administração pública municipal e constitui serviço de utilidade pública. Considerando essa afirmação, assinale a alternativa correta.
- (A) A permissão autorizada pelo Poder Público implicará a efetiva prestação dos serviços à população por parte do proprietário do veículo de aluguel, podendo contratar um auxiliar, que não necessita de cadastro na municipalidade, por ser de sua inteira responsabilidade.
 - (B) A permissão será de natureza pessoal, a título precário, gratuito e se dará por meio de autorização expedida pela Secretaria Municipal de Trânsito e Transportes – S.M.T.T., consubstanciada no competente alvará.
 - (C) O permissionário poderá possuir mais de um veículo para a atividade específica de táxi e este e seu auxiliar, quando no exercício da atividade, deverão portar o comprovante da permissão e respectiva inscrição no cadastro municipal de condutores autônomos.
 - (D) O permissionário ou auxiliar condenado, com sentença transitado em julgado, por crime de homicídio, roubo, furto, lesão corporal e corrupção de menores, tráfico de entorpecentes ou outro crime hediondo, terá a permissão cassada.
 - (E) Os serviços de táxi serão remunerados mediante tarifas fixadas pelo Poder Público Municipal, no entanto, havendo motivo de força maior, poderá o proprietário, ou seu auxiliar, cobrar valor superior ao determinado, para fins de contribuição de emergência.
60. As feiras livres serão instaladas em vias e logradouros públicos ou em terrenos de propriedade municipal, especialmente destinados para esse fim. Diante dessa afirmação, assinale a alternativa correta.
- (A) Não será permitida a instalação de feiras livres a menos de cinquenta metros de hospitais e estabelecimentos de ensino.
 - (B) As feiras livres somente poderão funcionar de terça-feira a domingo, destinando-se a segunda-feira para o abastecimento dos comerciantes.
 - (C) O Alvará de Licença e Funcionamento da feira somente poderá ser cassado mediante autorização judicial.
 - (D) O feirante poderá, a qualquer tempo, solicitar a baixa de seu Alvará de Licença e Funcionamento, quitando os débitos existentes.
 - (E) O feirante, na montagem da barraca, deverá obedecer ao espaçamento de dois metros de cada lado entre seus confrontantes.

PCI Concursos