



**CETESB**

CONCURSO PÚBLICO

## **010. PROVA OBJETIVA**

### **TÉCNICO ADMINISTRATIVO**

- ◆ Você recebeu sua folha de respostas e este caderno contendo 50 questões objetivas.
- ◆ Confira seu nome e número de inscrição impressos na capa deste caderno e na folha de respostas.
- ◆ Quando for permitido abrir o caderno, verifique se está completo ou se apresenta imperfeições. Caso haja algum problema, informe ao fiscal da sala.
- ◆ Leia cuidadosamente todas as questões e escolha a resposta que você considera correta.
- ◆ Marque, na folha de respostas, com caneta de tinta azul ou preta, a letra correspondente à alternativa que você escolheu.
- ◆ A duração da prova é de 3 horas, já incluído o tempo para o preenchimento da folha de respostas.
- ◆ Só será permitida a saída definitiva da sala e do prédio após transcorridas 2 horas do início da prova.
- ◆ Deverão permanecer em cada uma das salas de prova os 3 últimos candidatos, até que o último deles entregue sua prova, assinando termo respectivo.
- ◆ Ao sair, você entregará ao fiscal a folha de respostas e este caderno, podendo levar apenas o rascunho de gabarito, localizado em sua carteira, para futura conferência.
- ◆ Até que você saia do prédio, todas as proibições e orientações continuam válidas.

**AGUARDE A ORDEM DO FISCAL PARA ABRIR ESTE CADERNO DE QUESTÕES.**



## LÍNGUA PORTUGUESA

Leia o texto para responder às questões de números **01** a **08**.

### *O futuro da medicina*

A revista britânica “The Economist” trouxe uma interessante reportagem sobre o futuro da medicina. De acordo com o periódico, com o envelhecimento da população e o aumento da prevalência das doenças crônicas, vai ser impossível formar tantos médicos quantos seriam necessários pelos padrões do século 20.

A solução, segundo a revista, passa por modificar esses padrões, melhorando a produtividade da saúde. Isso significa que a medicina não poderá mais ser tão centrada na figura do médico, cuja formação é proibitivamente cara.

No Brasil, são seis anos de graduação em regime integral. Depois, são dois anos de residência. Uma especialização pode requerer, pelo menos, dois anos adicionais.

É contraproducente colocar médicos nos quais se investiu tanto para desempenhar tarefas menos complexas para as quais outros profissionais podem ser treinados. É mais do que razoável que enfermeiros realizem partos de baixo risco e que fonoaudiólogos diagnostiquem e tratem distúrbios da fala.

É claro que, de vez em quando, haverá problemas que exigirão a intervenção de um médico, mas, para cada parto que se complica, há centenas ou mesmo milhares de casos que se resolvem sem dificuldade.

Em países onde o descompasso entre a oferta e a demanda é maior, como na Índia, até os momentos menos delicados de cirurgias já estão sendo realizados por outros profissionais.

Os médicos deveriam adaptar-se aos novos tempos e dominar cada vez melhor as tarefas que não podem ser delegadas, em vez de lutar por uma reserva de mercado socialmente custosa e demograficamente insustentável.

(Hélio Schwartzman, [www1.folha.uol.com.br](http://www1.folha.uol.com.br). Adaptado)

**01.** De acordo com a revista britânica “The Economist”, será impossível formar tantos médicos quantos seriam necessários pelos padrões do século 20, porque

- (A) o custo da formação de médicos tende a aumentar em países em desenvolvimento, como Brasil e Índia.
- (B) a qualidade dos atuais cursos de medicina é questionável e os novos médicos não são preparados para exercer suas tarefas com eficácia.
- (C) a população, de um modo geral, está se tornando mais idosa e as doenças crônicas tendem a prevalecer.
- (D) a figura do médico não tem o mesmo prestígio que tinha no passado e o interesse em cursar medicina está cada vez menor.
- (E) os médicos formados hoje se especializam em tratamentos que dão bom retorno financeiro, negligenciando as doenças crônicas, que são mais numerosas.

**02.** As informações apresentadas no terceiro parágrafo servem ao propósito de ilustrar que o tempo de formação de um médico no Brasil é

- (A) curto.
- (B) extenso.
- (C) insuficiente.
- (D) irrelevante.
- (E) diminuto.

**03.** A solução apontada no texto para atender à grande procura por serviços de saúde é

- (A) reduzir o tempo que se gasta com a formação de médicos no geral.
- (B) dar condições a enfermeiros e fonoaudiólogos para adquirirem o diploma de médicos.
- (C) diminuir significativamente os gastos com a formação integral de médicos especialistas.
- (D) designar tarefas menos complexas a outros profissionais da saúde além dos médicos.
- (E) instruir a população para procurar um profissional da saúde apenas em casos de doenças graves.

**04.** Observe o sexto parágrafo.

Em países onde o descompasso entre a oferta e a demanda \_\_\_\_\_ é maior, como na Índia, até os momentos menos delicados de cirurgias já estão sendo realizados por outros profissionais.

Assinale a alternativa que completa a lacuna sem alterar a mensagem do texto original.

- (A) de doenças graves
- (B) de reserva de mercado
- (C) de países em desenvolvimento
- (D) de cirurgias delicadas
- (E) de serviços de saúde

05. Observe a passagem do último parágrafo.

Os médicos deveriam adaptar-se aos novos tempos e dominar cada vez melhor as tarefas que não podem ser delegadas...

Nesse contexto, “as tarefas que não podem ser delegadas” são tarefas

- (A) intransferíveis.
- (B) inadiáveis.
- (C) incorrigíveis.
- (D) injustificáveis.
- (E) irreparáveis.

06. Assinale a alternativa em que a expressão destacada indica circunstância de tempo.

- (A) ... vai ser impossível formar **tantos** médicos quantos seriam necessários pelos padrões do século 20.
- (B) Isso significa que a medicina **não** poderá mais ser tão centrada na figura do médico...
- (C) **Depois**, são dois anos de residência.
- (D) É contraproducente colocar médicos nos quais se investiu tanto para desempenhar tarefas **menos** complexas...
- (E) Em países **onde** o descompasso entre a oferta e a demanda é maior, como na Índia...

07. São sinônimos, no texto, os termos

- (A) impossível (1º. parágrafo) e contraproducente (4º. parágrafo).
- (B) cara (2º. parágrafo) e custosa (último parágrafo).
- (C) formação (2º. parágrafo) e intervenção (5º. parágrafo).
- (D) distúrbios (4º. parágrafo) e cirurgias (6º. parágrafo).
- (E) desempenhar (4º. parágrafo) e lutar (último parágrafo).

08. Considere a frase do quarto parágrafo.

É contraproducente colocar médicos nos quais se investiu tanto para desempenhar tarefas menos **complexas** para as quais outros profissionais podem ser treinados.

Um antônimo para o termo **complexas**, em destaque, é

- (A) complicadas.
- (B) interessantes.
- (C) simples.
- (D) desafiadoras.
- (E) importantes.

09. Leia o cartum de Pancho.



(<http://www.gazetadopovo.com.br>)

Assinale a alternativa cuja expressão completa corretamente a lacuna, sem alterar o sentido da fala do personagem.

Eu, literalmente, vivia na fossa. \_\_\_\_\_ trabalhava em higienização subterrânea.

- (A) Porém
- (B) Porque
- (C) Apesar de que
- (D) Ou
- (E) Contudo

10. Assinale a alternativa em que a concordância das formas verbais destacadas está de acordo com a norma-padrão da língua.

- (A) **Fazem** dez anos que deixei de trabalhar em higienização subterrânea.
- (B) Ainda **existe** muitas pessoas que discriminam os trabalhadores da área de limpeza.
- (C) No trabalho em meio a tanta sujeira, **havia** altos riscos de se contrair alguma doença.
- (D) Eu passava a manhã no subterrâneo: quando **era** sete da manhã, eu já estava fazendo meu serviço.
- (E) As companhias de limpeza, apenas recentemente, **começou** a adotar medidas mais rigorosas para a proteção de seus funcionários.

Leia o texto para responder às questões de números 11 a 16.

### *O ideal de Rubem Braga*

No ranking de autores com mais textos apócrifos na internet, Rubem Braga dificilmente figura entre os primeiros lugares, onde reinam os imbatíveis Clarice Lispector e Luis Fernando Veríssimo. Logo ele, pai da crônica moderna, e o primeiro a, de fato, consagrar-se com esse estilo tão difícil de definir e tão fácil de reconhecer.

Impossível saber como Braga lidaria com as peculiaridades da internet.

O amigo Zuenir Ventura acha que, se vivo nos dias de hoje, ele dificilmente teria se envolvido com a rede (reza a lenda que, quando conheceu a fita K7, Rubem tentou por horas colocar a caixinha inteira dentro do aparelho, até perceber que tinha de abri-la). Ainda assim é curioso observar como uma de suas tantas crônicas tem ares de profecia ao que vemos hoje no universo virtual.

É “Meu ideal seria escrever...”. Publicada em 1967 no livro “A traição dos elegantes”, ela narra como o autor gostaria de criar uma história que, de boca em boca, fosse mudando a vida das pessoas. A essência dessa história seria o humor. E a autoria dela, o que menos importaria.

A disseminação de histórias desta forma espontânea existe desde que o mundo é mundo, é claro. Mas a maneira como Braga descreve seu desejo, de maneira tão bonita quanto trivial, encontra um paralelo muito feliz com a discussão atual sobre a transformação do conceito de autoria – não só na internet, mas muito potencializada por ela. No mundo virtual, o lance é fazer a ideia virar fãisca. O dono dela nem sempre fica em evidência, mostrando que, muitas vezes, a história merece a atenção total. É ela que faz o interlocutor se emocionar, se revoltar ou, simplesmente, dar uma risada no meio de um pesado dia de trabalho.

(Helena Aragão, <http://oglobo.globo.com>. Adaptado)

Apócrifo: obra falsamente atribuída a um autor

11. O comentário entre parênteses no terceiro parágrafo – (reza a lenda que, quando conheceu a fita K7, Rubem tentou por horas colocar a caixinha inteira dentro do aparelho, até perceber que tinha de abri-la) – contribui para reforçar a ideia de que Rubem Braga

- (A) demonstraria grande interesse por novidades da área musical.
- (B) estaria sempre sintonizado com os avanços da eletrônica.
- (C) seria conservador e rejeitaria as mudanças no mundo das artes.
- (D) teria certa dificuldade para se adaptar às inovações tecnológicas.
- (E) receberia com grande naturalidade e destreza as novidades da tecnologia.

12. No terceiro parágrafo, a autora afirma que uma das crônicas de Rubem Braga tem “ares de profecia” para sugerir que a crônica

- (A) relata cenas religiosas, que levam a refletir sobre a natureza do bem e do mal.
- (B) apresenta uma linguagem arcaica, de difícil compreensão.
- (C) expressa uma visão pessimista sobre o futuro do ser humano.
- (D) reproduz um cenário de caos e destruição típico do fim dos tempos.
- (E) pode ser relacionada a uma situação que se observa nos dias de hoje, embora publicada em 1967.

13. Assinale a alternativa em que a frase – A disseminação de histórias desta forma espontânea existe desde que o mundo é mundo... – está reescrita em conformidade com a concordância da norma-padrão.

- (A) Histórias são disseminada desta forma espontânea desde que o mundo é mundo.
- (B) Histórias são disseminadas desta forma espontânea desde que o mundo é mundo.
- (C) É disseminado histórias desta forma espontânea desde que o mundo é mundo.
- (D) É disseminada desta forma espontânea histórias desde que o mundo é mundo.
- (E) São disseminados desta forma espontânea histórias desde que o mundo é mundo.

14. Assinale a alternativa cujo termo em destaque é empregado apenas com sentido figurado.

- (A) No ranking de **autores** com mais textos apócrifos na internet, Rubem Braga dificilmente figura entre os primeiros lugares...
- (B) O **amigo** Zuenir Ventura acha que, se vivo nos dias de hoje, ele dificilmente teria se envolvido com a rede...
- (C) ... reza a lenda que, quando conheceu a fita K7, Rubem tentou por horas colocar a **caixinha** inteira dentro do aparelho...
- (D) Publicada em 1967 no **livro** “A traição das elegantes”, ela narra como o autor gostaria de criar uma história...
- (E) No mundo virtual, o lance é fazer a ideia virar **fãisca**.

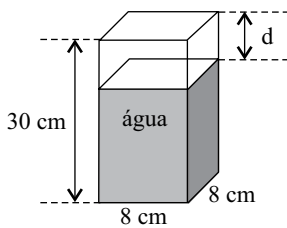
15. De acordo com o texto, tanto para Rubem Braga quanto para o mundo virtual, o mais importante é

- (A) a história.
- (B) a autoria.
- (C) o locutor.
- (D) a exposição.
- (E) o prestígio.

16. Assinale a alternativa em que a frase – É ela que faz o **interlocutor** se emocionar... – está corretamente reescrita, tendo um pronome assumindo as mesmas relações de sentido expressas pela expressão destacada, de acordo com a norma-padrão.
- (A) É ela que emociona-o.  
 (B) É ela que o emociona.  
 (C) É ela que emociona-lhe.  
 (D) É ela que emociona ele.  
 (E) É ela que ele emociona.
17. Assinale a alternativa correta quanto à pontuação.
- (A) Rubem Braga diz, em sua crônica, que gostaria de escrever uma história que chegasse a todas as salas de espera.  
 (B) Ele também desejava que, em homenagem à sua história todos tratassem melhor seus empregados, seus dependentes e seus semelhantes.  
 (C) E esperava ainda, que a história aos poucos, se espalhasse pelo mundo e fosse contada de mil maneiras.  
 (D) O autor gostaria que sua história fosse contada em diversos países, mas que ela guardasse em todas as línguas, a sua frescura, a sua pureza, o seu encanto surpreendente.  
 (E) Rubem Braga ao ser questionado a respeito da origem da história, diria que no dia anterior, tinha ouvido um sujeito que a estava contando.
18. Assinale a alternativa em que o acento indicativo de crase está empregado corretamente.
- (A) O autor gostaria que sua história chegasse à quem estivesse no hospital.  
 (B) O autor gostaria que sua história chegasse à casais em conflito.  
 (C) O autor gostaria que sua história chegasse à alguém em Chicago.  
 (D) O autor gostaria que sua história chegasse à uma cozinheira.  
 (E) O autor gostaria que sua história chegasse à Nigéria.
19. Para comprar figurinhas, uma criança retirou de seu cofrinho a seguinte quantidade de moedas: cinco de R\$ 1,00, cinco de R\$ 0,50, três de R\$ 0,25, sete de R\$ 0,10 e duas de R\$ 0,05. Sabendo-se que cada pacotinho de figurinha custa R\$ 1,25 e que essa criança comprou o máximo possível de pacotinhos, pagando com o maior número de moedas, pode-se concluir que o número de moedas que restaram foi
- (A) 5.  
 (B) 4.  
 (C) 3.  
 (D) 2.  
 (E) 1.
20. Em um pote de balas, a razão entre o número de balas de café e o número de balas de frutas, nessa ordem, é  $\frac{3}{5}$ . Se nesse pote forem colocadas mais 3 balas de café, essa razão passará a ser  $\frac{2}{3}$ . Sabendo-se que nesse pote há somente balas de café e de frutas, então o número final de balas do pote será
- (A) 35.  
 (B) 47.  
 (C) 54.  
 (D) 68.  
 (E) 75.
21. Em uma empresa, 20% dos funcionários possuem apenas o ensino fundamental completo. Dos demais funcionários da empresa, 25% possuem curso técnico e 15% do restante possuem curso superior. Sabendo-se que os funcionários que têm curso superior não fizeram curso técnico, pode-se concluir que, em relação ao número total de funcionários da empresa, o número de funcionários com curso superior representam uma porcentagem de
- (A) 5%.  
 (B) 9%.  
 (C) 13%.  
 (D) 17%.  
 (E) 20%.
22. Pedro colocou R\$ 400,00 em uma aplicação A, a juros simples, com taxa mensal de 0,7%, durante 4 meses, e mais R\$ 800,00 em uma aplicação B, também a juros simples, com taxa mensal de 0,8%, durante 8 meses. Se Pedro tivesse colocado o valor de R\$ 1.200,00 em uma aplicação C, a juros simples, por 8 meses, ele teria recebido o mesmo juro que obteve com os juros das aplicações A e B juntas. A taxa mensal da aplicação C seria
- (A) 0,55%.  
 (B) 0,60%.  
 (C) 0,65%.  
 (D) 0,70%.  
 (E) 0,75%.

23. Uma pessoa foi a uma papelaria e comprou 2 pastas grandes, 3 pastas médias e 1 pasta pequena, pagando, no total, R\$ 21,20. Se tivesse comprado 3 pastas grandes, 2 pastas médias e 1 pasta pequena, teria gastado R\$ 22,80, mas se tivesse comprado 3 pastas de cada tamanho teria gastado R\$ 30,00. A diferença de preço entre a pasta mais cara e a pasta mais barata era
- (A) R\$ 4,80.  
 (B) R\$ 4,50.  
 (C) R\$ 3,20.  
 (D) R\$ 3,00.  
 (E) R\$ 2,80.

24. Em uma jarra de fundo quadrado, medindo 8 cm de lado e 30 cm de altura, foram despejadas 5 canecas, todas contendo 320 mL de água, fazendo com que a jarra não ficasse totalmente cheia, conforme mostra a figura.



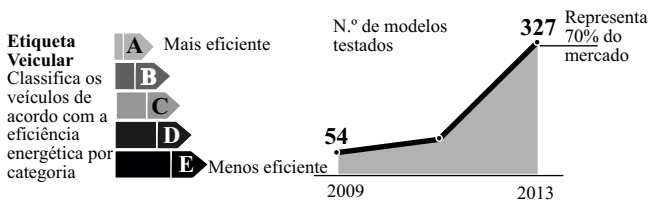
A distância  $d$ , em cm, entre o nível da água na jarra e a borda superior é

- (A) 6.  
 (B) 5.  
 (C) 4.  
 (D) 3.  
 (E) 2.

25. O jornal *Folha de S.Paulo* publicou em 14 de janeiro de 2013, a seguinte informação:

### CARROS EFICIENTES

Maior adesão ao programa do Inmetro dá força à etiqueta



Suponha que em 2009 o número de modelos testados representava 15% do total de modelos de carros existentes no mercado. O número total de modelos de carros existentes de 2009 para 2013 aumentou, aproximadamente,

- (A) 30%.  
 (B) 34%.  
 (C) 37%.  
 (D) 40%.  
 (E) 43%.

26. Jorge foi a uma loja e comprou cinco pares de meia social a R\$ 17,00 o par, três pares de meia esportiva a R\$ 13,00 o par e duas gravatas de mesmo preço. Considerando-se o total de peças compradas, na média, cada peça saiu por R\$ 18,80. Portanto, o preço de uma gravata foi
- (A) R\$ 18,00.  
 (B) R\$ 23,00.  
 (C) R\$ 28,00.  
 (D) R\$ 32,00.  
 (E) R\$ 35,00.

27. Em uma gráfica, 3 máquinas, todas com a mesma capacidade de produção, imprimem juntas 5 000 folhetos em 2 horas. Se for colocada mais uma máquina, com a mesma capacidade de produção das outras, uma encomenda de 8 000 folhetos ficará pronta em
- (A) 1 h e 44 minutos.  
 (B) 1 h e 54 minutos.  
 (C) 2 h e 04 minutos.  
 (D) 2 h e 14 minutos.  
 (E) 2 h e 24 minutos.

28. Em 14 de janeiro de 2013, o jornal *Folha de S.Paulo* publicou a seguinte informação:

### Entre álcool e gasolina, qual é mais vantajoso?

**1 Coeficiente de eficiência**  
 Ao dividir o consumo a álcool pelo consumo a gasolina do modelo, o motorista terá um coeficiente de eficiência.

**2 Álcool x gasolina**  
 No posto, é preciso multiplicar o preço da gasolina pelo coeficiente. Se o resultado for maior que o preço do álcool, é melhor abastecer com álcool.

$$C^a \div C^g = X\% \quad \text{e} \quad g \times X\% = R$$

consumo a álcool    consumo a gasolina    coeficiente (70% é a média comum adotada)    preço da gasolina    coeficiente    resultado

Um motorista sabe que o consumo de álcool de seu veículo é de 6,3 km/L e o de gasolina é de 9 km/L. Ao fazer os cálculos indicados no artigo, obteve como resultado  $R = 1,82$ . Sabendo-se que o preço do litro do álcool é R\$ 1,90, pode-se concluir que o preço do litro da gasolina e a melhor opção de combustível para esse carro são, respectivamente,

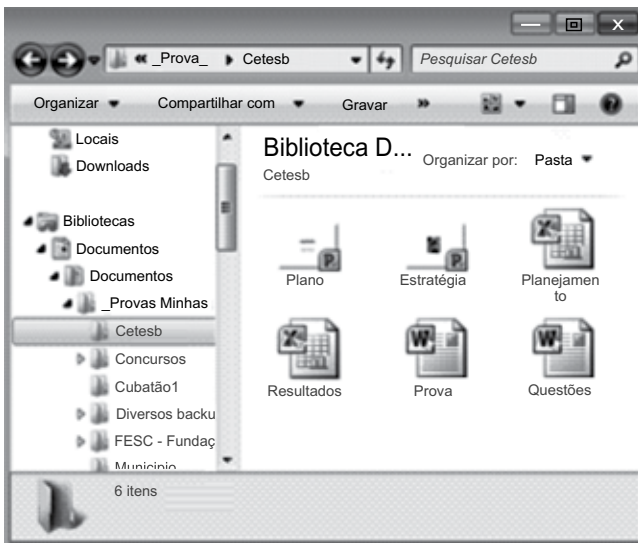
- (A) R\$ 2,80 e álcool.  
 (B) R\$ 2,80 e gasolina.  
 (C) R\$ 2,60 e gasolina.  
 (D) R\$ 2,60 e álcool.  
 (E) R\$ 2,40 e gasolina.

## NOÇÕES DE INFORMÁTICA

29. A principal diferença existente entre a área de transferência do MS-Windows 7 e do MS-Office 2010 é que no primeiro é possível armazenar quantos conteúdos de cada vez?

- (A) 1.
- (B) 6.
- (C) 12.
- (D) 18.
- (E) 24.

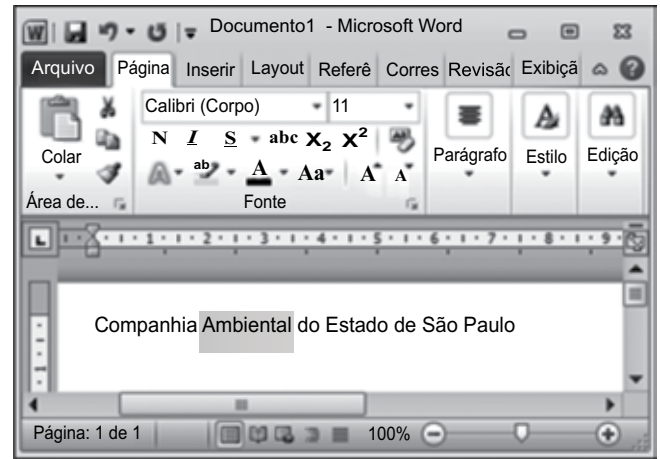
30. Na figura mostrada a seguir, é exibida uma janela do MS-Windows 7, em sua configuração padrão:



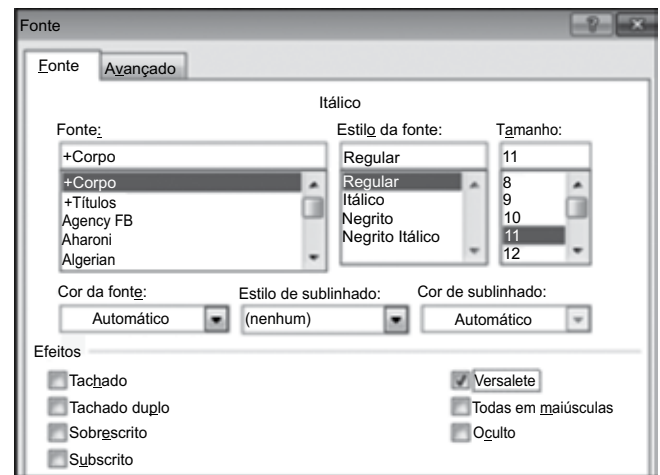
Baseando-se nos arquivos e pastas da janela, assinale a alternativa correta.

- (A) Cetesb é uma pasta que possui seis arquivos, sendo quatro apresentações do MS-PowerPoint 2010.
- (B) Concursos é uma pasta que não possui subpastas.
- (C) Cubatão1 é uma pasta que possui subpastas.
- (D) Ao selecionar o arquivo Prova, pressionar CTRL+C e, em seguida, CTRL+V será criado o arquivo Prova – Cópia.
- (E) Ao selecionar o arquivo Prova, pressionar CTRL+X e, em seguida, CTRL+V será criado o arquivo Prova – Cópia.

31. Um usuário do MS-Word 2010, em sua configuração padrão, digitou o seguinte texto em uma página em branco:



Observe a formatação que será aplicada na palavra selecionada.



Assinale a alternativa que contém o resultado da formatação.

- (A) Ambiental
- (B) *Ambiental*
- (C) AMBIENTAL
- (D) Ambiental
- (E) ~~Ambiental~~








32. Observe o conteúdo das células da planilha do MS-Excel 2010, apresentada parcialmente na figura.

	A	B	C
1	Região	Quantidade	Valor
2	Norte	700	RS 560
3	Sul	900	RS 720
4	Oeste	1000	RS 800
5	Norte	230	RS 184
6	Nordeste	650	RS 520
7	Sul	180	RS 144
8	Nordeste	340	RS 272
9			

Assinale alternativa com o resultado da seguinte fórmula a ser digitada na célula C9:

=SE(A2="Norte";SE(A6="Sul";10^2;B6\*2+100%);SOMA(B4:C5))

- (A) R\$ 100
- (B) R\$ 1.184
- (C) R\$ 2.600
- (D) R\$ 2.214
- (E) R\$ 1.301
33. O MS-PowerPoint 2010, em sua configuração original, sugere a ação *hiperlink para último slide exibido* para o seguinte botão de ação:

- (A) 
- (B) 
- (C) 
- (D) 
- (E) 

34. Considere o correio eletrônico que está sendo digitado no webmail apresentado na figura I e a janela exibida na figura II.



Figura I

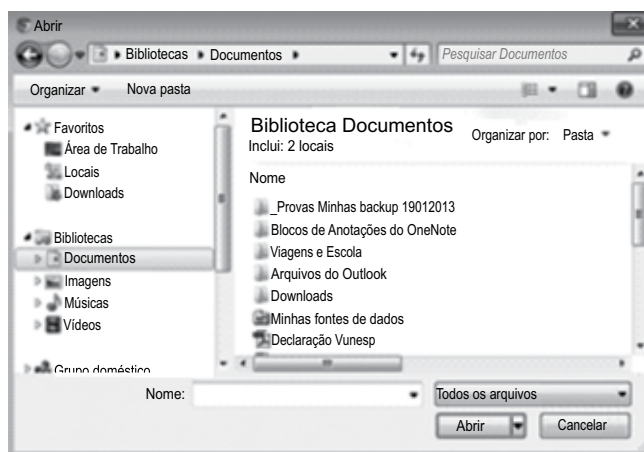



Figura II

Baseando-se na janela da figura II, que apareceu quando o usuário clicou em , assinale a alternativa que contém a ação que o usuário pretende executar no e-mail que está sendo digitado.

- (A) Adicionar destinatários existentes na lista de contatos do computador.
- (B) Adicionar a mensagem na biblioteca Documentos.
- (C) Anexar o rascunho da mensagem que está na biblioteca Documentos.
- (D) Anexar outras mensagens que estão no webmail.
- (E) Anexar arquivos que estão no computador.

## CONHECIMENTOS ESPECÍFICOS

35. Ao imprimir uma página Web acessada com Google Chrome, qual informação dessa página constará no rodapé de impressão?

- (A) Título e data.
- (B) Título e hora.
- (C) Título e número da página.
- (D) URL e número da página.
- (E) URL e data.

36. Se o site possuir um certificado, a cor na barra de endereços do Internet Explorer 9 mostrará o nível de validação desse certificado. Quando o certificado possuir validação normal, ou seja, a comunicação com o site é criptografada, a cor na barra de ferramentas será

- (A) Branca.
- (B) Preta.
- (C) Verde.
- (D) Vermelha.
- (E) Amarela.

37. Uma das preocupações da Segurança da Informação é a definição de políticas eficazes para definição e manutenção de senhas ou passwords.

Dentre as alternativas apresentadas, assinale aquela que contém a senha mais difícil de ser descoberta por pessoas mal intencionadas.

- (A) brunoleal01
- (B) 2013felipe
- (C) 29PeDrO&
- (D) 21012013
- (E) 72tais%

38. Segundo os padrões internacionais de segurança da informação, ISO/IEC 17799:2005, a propriedade básica de segurança responsável por garantir que a autoria de uma transação anteriormente feita não será negada é a

- (A) Integridade.
- (B) Irretratabilidade.
- (C) Autenticidade.
- (D) Disponibilidade.
- (E) Confidencialidade.

39. Em uma planilha do Excel 2010, a partir da sua configuração padrão, está sendo editado um concurso público da Secretaria da Fazenda do Estado de São Paulo, conforme ilustrado na figura.

	A	B	C	D
1	Nome do Candidato	Prova Básica	Prova Específica	Classificado
2	Ana Maria Torres	40	30	NÃO
3	Carlos Eduardo Fonseca	35	60	NÃO
4	Felipe Camargo	55	65	SIM
5	Sergio Champell	70	35	NÃO
6	Xavier Zamboni	15	70	NÃO

O concurso é composto de 2 provas:

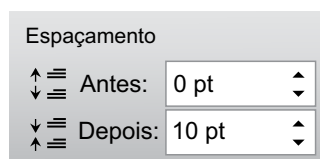
- a prova básica, cuja pontuação é de 0 até 100 pontos;
- a prova específica, cuja pontuação é também de 0 até 100 pontos.

A coluna A contém o nome do candidato do concurso, a coluna B contém a pontuação que o candidato obteve na prova básica, a coluna C contém a pontuação que o candidato obteve na prova específica, a coluna D informa se o candidato está classificado (SIM ou NÃO). Para estar classificado (SIM), é necessário que a pontuação obtida, tanto na prova básica como na prova específica, seja igual ou superior a 50 pontos.

A fórmula a ser aplicada na célula D2, para verificar se o candidato está classificado ou não é:

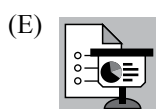
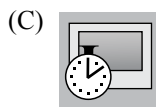
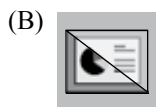
- (A) =SE(B2>=50;SE(C2>=50;"SIM";"NÃO");"NÃO")
- (B) =SE(B2>50;SE(C2>50;"NÃO";"SIM");"NÃO")
- (C) =SE(B2>=50;SE(C2>=50;"SIM";"NÃO");"SIM")
- (D) =SE(B2<50;"NÃO";SE(C2 <> 50;"SIM";"NÃO"))
- (E) =SE(B2 <> 50;"NÃO";SE(C2 < 50;"SIM";"NÃO"))

40. No Word 2010, a partir da sua configuração padrão, em um documento que está sendo editado, a opção mostrada na figura está disponível no guia:



- (A) Página Inicial.
- (B) Inserir.
- (C) Layout da Página.
- (D) Exibição.
- (E) Opções.

41. No Power Point 2010, a partir da sua configuração padrão, no guia Apresentação de Slides, o ícone que ativa a opção “Configurar Apresentação de Slides” é



42. No Internet Explorer, versão 9 da Microsoft, na sua configuração padrão, na janela “Opções da Internet”, o botão que permite excluir o histórico de navegação está contido na aba

- (A) Geral.
- (B) Segurança.
- (C) Privacidade.
- (D) Programas.
- (E) Avançadas.

43. Quanto ao ciclo de vida dos arquivos, pode-se afirmar que o arquivo corrente

- (A) é aquele que fica em armazenamento temporário, aguardando a sua utilização.
- (B) está relacionado aos objetivos imediatos para os quais foi produzido.
- (C) por ter um valor incomensurável, fica custodiado em caráter definitivo.
- (D) não guarda relação com a frequência no uso.
- (E) pode ser chamado também de arquivo de terceira idade ou semiativo.

Para responder as questões de números 44 e 45, leia o que segue.

44. João Nogueira é especialista econômico-financeiro, nível II, na empresa Dias e Dias Ativos, e recebe a título de salário base R\$ 4.400,00, ou seja, R\$ 20,00 por hora. No mês de novembro de 2012, João Nogueira fez jus ao recebimento de 4 horas extras a 100%, além de 6 horas extras a 50%.

Levando-se em consideração apenas as horas extras e o salário base, quanto foi a remuneração devida a João em novembro?

- (A) R\$ 4.800,00.
- (B) R\$ 4.640,00.
- (C) R\$ 4.740,00.
- (D) R\$ 4.700,00.
- (E) R\$ 4.720,00.

45. Assinale a alternativa que contém o valor da contribuição previdenciária (INSS) de João Nogueira enquanto segurado empregado, sem considerar as horas extras.

- (A) R\$ 440,00.
- (B) R\$ 447,00.
- (C) R\$ 474,00.
- (D) R\$ 480,00.
- (E) R\$ 484,00.

46. A exposição escrita de um determinado trabalho, ou de uma experiência ou, ainda, dos resultados de um projeto ou processo denomina-se

- (A) Registro.
- (B) Pauta.
- (C) Relatório.
- (D) Ata.
- (E) Laudo.

## LEI DE ACESSO À INFORMAÇÃO

47. As compras e outros serviços com valores acima de R\$ 8.000,00 até R\$ 80.000,00, em acordo com a Lei n.º 8.666, art. 23, Inciso II, devem ser feitas pelo processo licitatório denominado
- (A) Concorrência.
  - (B) Tomada de preços.
  - (C) Convite.
  - (D) Concurso.
  - (E) Leilão.
48. Os artigos 34, 35, 36 e 37 da Lei n.º 8.666 (licitações), tratam especificamente do registro cadastral. O *caput* do art. 34 diz que “Para os fins desta Lei, os órgãos e entidades da \_\_\_\_\_ que realizem \_\_\_\_\_ licitações manterão registros cadastrais para efeito de \_\_\_\_\_, na forma regulamentar, válidos por, no máximo, \_\_\_\_\_”.
- As lacunas do texto podem ser, correta e respectivamente, preenchidas por:
- (A) Administração Indireta ... frequentemente ... licitação ... um ano
  - (B) Administração Pública ... frequentemente ... habilitação ... um ano
  - (C) Administração Pública ... esporadicamente ... habilitação ... dois anos
  - (D) Administração Direta ... frequentemente ... habilitação ... um ano
  - (E) Administração Pública ... frequentemente ... licitação ... seis meses
49. Para efeitos da Lei n.º 12.527/11 – Lei de Acesso à Informação, considera(m)-se como informação(ões) sigilosa(s)
- (A) aquela relacionada à pessoa natural identificável.
  - (B) os dados processados, que só podem ser utilizados para produção de conhecimento e transmissão em qualquer meio, suporte ou formato.
  - (C) aquela submetida temporariamente à restrição de acesso público em razão de sua imprescindibilidade para a segurança da sociedade e do Estado.
  - (D) aquela de qualidade da informação não modificada, inclusive quanto à origem, trânsito e destino.
  - (E) aquela pertinente à administração do patrimônio público, utilização de recursos públicos, licitação e contratos administrativos.
50. O agente público que destruir ou subtrair, por qualquer meio, documentos concernentes a possíveis violações de direitos humanos
- (A) estará sujeito a pena de, no máximo, multa.
  - (B) estará sujeito a pena de, no mínimo, suspensão e responder por improbidade administrativa.
  - (C) estará sujeito a pena de, no mínimo, advertência, mas não responde por improbidade administrativa.
  - (D) estará sujeito a pena de, no máximo, advertência e cumulada com multa.
  - (E) não responde por improbidade administrativa, pois o ato não se configura como uma conduta ilícita.