



**ACADEMIA DE POLÍCIA**  
**“DR. CORIOLANO NOGUEIRA COBRA”**  
Secretaria de Concursos Públicos



Concurso Público

## **001. PROVA PREAMBULAR**

### **PAPILOSCOPISTA POLICIAL**

- Você recebeu sua folha de respostas e este caderno contendo 80 questões objetivas.
- Confira seu nome e número de inscrição impressos na capa deste caderno e na folha de respostas.
- Quando for permitido abrir o caderno, verifique se está completo ou se apresenta imperfeições. Caso haja algum problema, informe ao fiscal da sala.
- Leia cuidadosamente todas as questões e escolha a resposta que você considera correta.
- Marque, na folha de respostas, com caneta de tinta azul ou preta, a letra correspondente à alternativa que você escolheu.
- A duração da prova é de 4 horas, já incluído o tempo para o preenchimento da folha de respostas.
- Só será permitida a saída definitiva da sala e do prédio após transcorridas 3 horas do início da prova.
- Deverão permanecer em cada uma das salas de prova os 3 últimos candidatos, até que o último deles entregue sua prova, assinando termo respectivo.
- Ao sair, você entregará ao fiscal a folha de respostas e este caderno, podendo levar apenas o rascunho de gabarito, localizado em sua carteira, para futura conferência.
- Até que você saia do prédio, todas as proibições e orientações continuam válidas.

**AGUARDE A ORDEM DO FISCAL PARA ABRIR ESTE CADERNO DE QUESTÕES.**



## LÍNGUA PORTUGUESA

Leia o texto para responder às questões de números **01** a **08**.

### *Mais denso, menos trânsito*

As grandes cidades brasileiras estão congestionadas e em processo de deterioração agudizado pelo crescimento econômico da última década. Existem deficiências evidentes em infraestrutura, mas é importante também considerar o planejamento urbano.

Muitas grandes cidades adotaram uma abordagem de desconcentração, incentivando a criação de diversos centros urbanos, na visão de que isso levaria a uma maior facilidade de deslocamento.

Mas o efeito tem sido o inverso. A criação de diversos centros e o aumento das distâncias multiplicam o número de viagens, dificultando o investimento em transporte coletivo e aumentando a necessidade do transporte individual.

Se olharmos Los Angeles como a região que levou a desconcentração ao extremo, ficam claras as consequências. Numa região rica como a Califórnia, com enorme investimento viário, temos engarrafamentos gigantescos que viraram característica da cidade.

Os modelos urbanos bem-sucedidos são aqueles com elevado adensamento e predominância do transporte coletivo, como mostram Manhattan e Tóquio.

O centro histórico de São Paulo é a região da cidade mais bem servida de transporte coletivo, com infraestrutura de telecomunicação, água, eletricidade etc. Como em outras grandes cidades, essa deveria ser a região mais adensada da metrópole. Mas não é o caso. Temos, hoje, um esvaziamento gradual do centro, com deslocamento das atividades para diversas regiões da cidade.

A visão de adensamento com uso abundante de transporte coletivo precisa ser recuperada. Desse modo, será possível reverter esse processo de uso cada vez mais intenso do transporte individual, fruto não só do novo acesso da população ao automóvel, mas também da necessidade de maior número de viagens em função da distância cada vez maior entre os destinos da população.

(Henrique Meirelles, *Folha de S.Paulo*, 13.01.2013. Adaptado)

**01.** A partir da leitura do primeiro parágrafo, pode-se concluir que a degeneração das grandes cidades brasileiras tem sido acelerada

- (A) pelo crescimento econômico da última década.
- (B) pela ausência de manutenção das grandes rodovias.
- (C) pela falta de investimento por parte de empresas privadas.
- (D) pela inexistência de transporte individual.
- (E) pela concentração de moradores em zonas muito pobres.

**02.** Para o autor, a criação de diversos centros urbanos dificulta o deslocamento, porque

- (A) limita as atividades dos indivíduos a uma única área da cidade.
- (B) obriga os cidadãos a usar o transporte coletivo.
- (C) acarreta uma redução do número de rodovias.
- (D) diminui a necessidade de construção de vias públicas.
- (E) multiplica o número de viagens da população.

**03.** Uma alternativa apontada no texto para a melhoria do trânsito nas grandes cidades, além do adensamento, está em

- (A) ampliar a malha viária no entorno das cidades.
- (B) proibir a circulação de veículos nas regiões centrais.
- (C) investir no transporte coletivo.
- (D) estimular a aquisição de automóveis.
- (E) restringir o horário de circulação de veículos.

**04.** Na opinião do autor, o centro histórico de São Paulo deveria ser a região mais adensada da metrópole, uma vez que é a mais

- (A) populosa e concentra o maior número de empresas.
- (B) rica em termos de infraestrutura e transporte público.
- (C) frequentada por trabalhadores e paulistanos no geral.
- (D) tradicional e considerada polo turístico da cidade.
- (E) carente quanto à oferta de serviços de saneamento.

**05.** As expressões **mais denso** e **menos trânsito**, no título, estabelecem entre si uma relação de

- (A) hipótese e concessão.
- (B) conformidade e negação.
- (C) causa e consequência.
- (D) alternância e explicação.
- (E) comparação e adição.

**06.** Assinale a alternativa em que a frase do primeiro parágrafo – Existem deficiências evidentes em infraestrutura, mas é importante também considerar o planejamento urbano. – está reescrita corretamente e sem alteração da mensagem.

- (A) Embora existam deficiências evidentes em infraestrutura, é importante também considerar o planejamento urbano.
- (B) É importante também considerar o planejamento urbano, portanto existem deficiências evidentes em infraestrutura.
- (C) Existem deficiências evidentes em infraestrutura, pois é importante também considerar o planejamento urbano.
- (D) Na medida em que existem deficiências evidentes em infraestrutura, é importante também considerar o planejamento urbano.
- (E) É importante também considerar o planejamento urbano, tanto que existem deficiências evidentes em infraestrutura.

07. Observe o trecho do último parágrafo.

Desse modo, será possível reverter esse processo de uso cada vez mais intenso do transporte individual, **fruto** não só do novo acesso da população ao automóvel, mas também da necessidade de maior número de viagens em função da distância cada vez maior entre os destinos da população.

A palavra que substitui, sem alteração de sentido, o termo **fruto**, tal como empregado no texto, é

- (A) promotor.
- (B) resultante.
- (C) agravante.
- (D) simbolizador.
- (E) concorrente.

08. Observe a primeira frase do texto.

As grandes cidades brasileiras estão congestionadas e em processo de **deterioração** agudizado pelo crescimento econômico da última década.

Assinale a alternativa que apresenta um antônimo para o termo destacado.

- (A) decadência
- (B) perecimento
- (C) desestabilização
- (D) expansão
- (E) recessão

09. Leia o cartum de Jean Galvão.



(<https://www.facebook.com/jeangalvao.cartunista>)

Considerando a relação entre a fala do personagem e a imagem visual, pode-se concluir que o que o leva a pular a onda é a necessidade de

- (A) demonstrar respeito às religiões.
- (B) realizar um ritual místico.
- (C) divertir-se com os amigos.
- (D) preservar uma tradição familiar.
- (E) esquivar-se da sujeira da água.

Leia o texto para responder às questões de números 10 a 14.

### *Pulseira 'high-tech' ajuda a encontrar criança na praia*

Pulseiras de silicone à prova d'água ligadas a um sistema eletrônico são as novas estratégias disponíveis aos pais para ajudar a localizar filhos perdidos na praia.

Só no período de 21 de dezembro de 2012 a 10 de janeiro de 2013, o litoral paulista somou 323 casos de crianças perdidas, segundo o Corpo de Bombeiros – o que representa um avanço de 41% em relação à temporada de 2011/2012 e de 201% ante a de 2010/2011.

De fabricação chinesa, a nova pulseirinha chega primeiro às areias do Guarujá. A ideia é da ONG Anjos do Verão. O grupo de voluntários instala um código numérico em baixo relevo na pulseira – que pode ser usada por até dois anos – e cadastra no sistema dados da criança, celular e *e-mail* dos pais e de outros familiares.

Se a criança se perder, quem encontrá-la verá na pulseira instruções para que envie uma mensagem eletrônica ao grupo ou acione o código na internet. Assim que o código é digitado, familiares cadastrados recebem automaticamente uma mensagem dizendo que a criança foi encontrada.

O sistema permite ainda cadastrar o nome e o telefone de quem a encontrou e informar um ponto de referência. Um geolocalizador também avisará os pais de onde o código foi acionado.

Segundo o coordenador da Anjos do Verão, Rui Silva, a ideia é instituir uma nova forma de identificação, sem correr o risco de expor dados da criança e da família.

A ONG planeja levar o sistema para além da faixa de areia. “Queremos criar um ponto de encontro eletrônico que sirva não só para as praias, mas também para o pai que leva os filhos ao *shopping*, ao aeroporto ou até à rua 25 de Março”, diz Silva.

(Natália Cancian, *Folha de S.Paulo*, 13.01.2013. Adaptado)

### **Glossário**

*high-tech*: de alta-tecnologia

10. De acordo com o texto, a pulseira eletrônica é distribuída pela ONG Anjos do Verão com a finalidade de

- (A) impedir crianças de se distanciarem dos pais.
- (B) facilitar a localização de crianças perdidas.
- (C) alertar os pais sobre o risco de perder os filhos.
- (D) auxiliar a encontrar vítimas de afogamento nas praias.
- (E) identificar possíveis sequestradores de crianças.

11. Segundo o coordenador da Anjos do Verão, a pulseira eletrônica

- (A) apresenta alta durabilidade, que ultrapassa dois anos de uso contínuo.
- (B) será distribuída gratuitamente aos frequentadores das praias do Guarujá.
- (C) deve ser usada por menores de todas as faixas etárias.
- (D) auxiliou o trabalho dos bombeiros durante os últimos verões.
- (E) oferece maior proteção aos dados da criança e da família.

12. Considerando o conjunto das informações do último parágrafo, com a frase – A ONG planeja levar o sistema para além da faixa de areia. –, a autora quer dizer que a ONG planeja

- (A) expandir o sistema para outras áreas.
- (B) demarcar as fronteiras de uso do sistema.
- (C) levar o sistema para praias de todo o litoral paulista.
- (D) tornar o sistema mais resistente à areia da praia.
- (E) agilizar o acesso ao sistema nas praias.

13. Assinale a alternativa em que a frase do texto se mantém correta após o acréscimo das vírgulas.

- (A) Assim que o código é digitado, familiares cadastrados, recebem automaticamente, uma mensagem dizendo que a criança foi encontrada.
- (B) Um geolocalizador também, avisará, os pais de onde o código foi acionado.
- (C) Se a criança se perder, quem encontrá-la, verá na pulseira instruções para que envie, uma mensagem eletrônica ao grupo ou acione o código na internet.
- (D) O sistema permite, ainda, cadastrar o nome e o telefone de quem a encontrou e informar um ponto de referência.
- (E) De fabricação chinesa, a nova pulseirinha, chega primeiro às, areias do Guarujá.

14. Assinale a alternativa que substitui, corretamente e sem alterar o sentido da frase, a expressão destacada em – **Se a criança se perder**, quem encontrá-la verá na pulseira instruções para que envie uma mensagem eletrônica ao grupo ou acione o código na internet.

- (A) Caso a criança perdeu...
- (B) Caso a criança se perda...
- (C) Caso a criança se perca...
- (D) Caso a criança estivera perdida...
- (E) Caso a criança se havia perdido...

15. Considerando as regras de regência verbal, assinale a alternativa que completa, correta e respectivamente, as lacunas da frase.

A ONG Anjos do Verão colabora \_\_\_\_\_ trabalho do Corpo de Bombeiros, empenhando-se \_\_\_\_\_ encontrar crianças perdidas.

- (A) do ... sobre
- (B) pelo ... de
- (C) no ... ante
- (D) com o ... para
- (E) o ... entre

Leia o texto para responder às questões de números 16 a 19.

*Perdida, só me lembrava do 'índio' do prédio*

“A única coisa que ela sabe é que tem o desenho de um índio na porta do prédio”, dizia o sorveteiro, um pouco confuso, sem saber o que fazer com aquela criança perdida na avenida em frente à praia. Ele tentava convencer duas senhoras a assumir o problema, que, no caso, era eu.

Em silêncio, de cabeça baixa, eu morria de vergonha diante de tamanha proeza – conseguir me perder entre os poucos metros que separavam o edifício onde estava com minha família e a banca de revistas. Tão senhora de mim aos oito anos de idade, nem percebi que segui em direção à praia, quando deveria voltar. E lá fui eu com as duas novas tutoras e o sorveteiro, em busca do tal edifício. Para elas, o jeito era chamar a polícia.

Anda de um lado, pergunta do tal índio pro outro, até que ouço uma voz: “achamos”. Uma prima, quase em prantos, me abraçou e disse: “estávamos desesperados”.

Lá pelos anos 70, sem celular, iPhone, iPad ou outras tantas muletas, a estratégia foi cada integrante da família se dividir e fixar um tempo para voltar à porta do prédio. Estavam todos lá, minha mãe, primos, tia, o sorveteiro, as duas mulheres e eu – ainda muda. Só choro, abraço e, para o meu espanto, nenhuma bronca. E a cara de surpresa quando todos viram que só eu havia reparado no tal índio pintado na porta do prédio.

Talvez nada disso teria acontecido se tivesse uma dessas pulseirinhas de identificação. Mas talvez também não tivesse aprendido que é sempre bom saber como voltar pra casa.

(Denise Chiarato, *Folha de S.Paulo*, 13.01.2013. Adaptado)

16. No texto, a narradora

- (A) conta o episódio de quando se perdeu dos familiares aos oito anos.
- (B) relata sua experiência de encontrar uma criança perdida na rua.
- (C) fala da experiência de ter voltado para casa com a ajuda de um dispositivo eletrônico.
- (D) expõe sua indignação contra pais que perdem seus filhos.
- (E) lembra quando foi severamente repreendida pelos pais por ter se perdido.

17. Assinale a alternativa que completa corretamente a lacuna do texto.

O fato de a menina saber que havia o desenho de um índio na porta do prédio mostrou-se \_\_\_\_\_ para que ela soubesse voltar para casa sozinha.

- (A) indispensável
- (B) inútil
- (C) essencial
- (D) conveniente
- (E) vantajoso

18. Releia o último parágrafo.

Talvez nada disso teria acontecido se tivesse uma dessas pulseirinhas de identificação. Mas talvez também não tivesse aprendido que é sempre bom saber como voltar pra casa.

A autora conclui que a experiência de perder-se pode ser

- (A) divertida.
- (B) traumática.
- (C) letal.
- (D) instrutiva.
- (E) destrutiva.

19. Observe a passagem do penúltimo parágrafo.

**Lá pelos anos 70**, sem celular, iPhone, iPad ou outras tantas muletas, a estratégia foi cada integrante da família se dividir e fixar um tempo para voltar à porta do prédio. **Estavam todos lá**, minha mãe, primos, tia, o sorveteiro, as duas mulheres e eu – ainda muda.

O termo **lá**, nas expressões **Lá pelos anos 70** e **Estavam todos lá**, expressa ideia de

- (A) dúvida e modo, respectivamente.
- (B) tempo, em ambas as ocorrências.
- (C) modo, em ambas as ocorrências.
- (D) lugar e dúvida, respectivamente.
- (E) tempo e lugar, respectivamente.

20. Assinale a alternativa correta quanto à regência dos termos em destaque.

- (A) A menina tinha o **receio** a levar uma bronca por ter se perdido.
- (B) A família toda se organizou para realizar a **procura** à garotinha.
- (C) Ele tentava convencer duas senhoras a assumir a **responsabilidade** pelo problema.
- (D) A menina não tinha **orgulho** sob o fato de ter se perdido de sua família.
- (E) A garota tinha apenas a **lembrança** pelo desenho de um índio na porta do prédio.

21. Assinale a alternativa em que a concordância das formas verbais destacadas se dá em conformidade com a norma-padrão da língua.

- (A) **Haviam** várias hipóteses acerca do que poderia ter acontecido com a criança.
- (B) **Era** duas horas da tarde, quando a criança foi encontrada.
- (C) **Existia** várias maneiras de voltar para casa, mas a criança se perdeu mesmo assim.
- (D) **Chegou**, para ajudar a família, vários amigos e vizinhos.
- (E) **Fazia** horas que a criança tinha saído e os pais já estavam preocupados.

22. Assinale a alternativa em que a frase está reescrita corretamente, em conformidade com a norma-padrão da língua.

Encontram-se na praia, todos os anos, centenas de crianças perdidas da família.

- (A) Têm sido encontradas na praia, todos os anos, centenas de crianças perdidas da família.
- (B) Têm sido encontrados na praia, todos os anos, centenas de crianças perdidas da família.
- (C) Têm sido encontrado na praia, todos os anos, centenas de crianças perdidas da família.
- (D) Tem sido encontrado na praia, todos os anos, centenas de crianças perdidas da família.
- (E) Tem sido encontrada na praia, todos os anos, centenas de crianças perdidas da família.

23. Assinale a alternativa em que o acento indicativo de crase está empregado corretamente.

- (A) O sorveteiro dispôs-se à procurar os pais da garotinha.
- (B) O ideal é que a criança peça ajuda à algum membro da Polícia ou do Corpo de Bombeiros.
- (C) A criança, chorando, não sabia à quem pedir ajuda.
- (D) Logo a menina foi devolvida à mãe, que estava desesperada.
- (E) É aconselhável que a criança saiba chegar à um ponto de referência.

24. Assinale a alternativa em que o pronome destacado está posicionado de acordo com a norma-padrão da língua.

- (A) Ela não lembrava-**se** do caminho de volta.
- (B) A menina tinha distanciado-**se** muito da família.
- (C) O pai alegrou-**se** ao encontrar a filha.
- (D) A garota disse que perdeu-**se** dos pais.
- (E) Ninguém comprometeu-**se** a ajudar a criança.

## NOÇÕES DE DIREITO

### CONSTITUIÇÃO FEDERAL

25. Assinale a alternativa cujo conteúdo se encontra em consonância com o texto expresso da Constituição Federal brasileira.
- (A) A criação de associações e, na forma da lei, a de cooperativas dependem de expressa autorização do poder público, sendo permitida a interferência estatal em seu funcionamento quando necessária para resguardar a segurança da sociedade e do Estado.
  - (B) São inadmissíveis, no processo, as provas obtidas por meios ilícitos, salvo quando expressamente autorizadas pela autoridade policial ou judiciária.
  - (C) Na hipótese de prisão em flagrante ou decorrente de mandado judicial, o preso será obrigatoriamente submetido à identificação criminal, mesmo que identificado civilmente.
  - (D) Ninguém será obrigado a fazer ou deixar de fazer alguma coisa senão em virtude de lei ou de decreto do Poder Executivo.
  - (E) É assegurado a todos o acesso à informação e resguardado o sigilo da fonte, quando necessário ao exercício profissional.
26. A ação judicial, prevista na Constituição Federal, que vise a anular ato lesivo ao patrimônio público ou de entidade de que o Estado participe, à moralidade administrativa, ao meio ambiente e ao patrimônio histórico e cultural, em que o autor, salvo comprovada má-fé, está isento de custas judiciais e do ônus da sucumbência, é a(o):
- (A) ação civil pública.
  - (B) *habeas data*.
  - (C) *habeas corpus*.
  - (D) ação popular.
  - (E) mandado de segurança.
27. Conforme estabelece a Constituição da República, entre outras consequências, os atos de improbidade administrativa importarão, ao responsável,
- (A) o ressarcimento ao Erário.
  - (B) a desapropriação da função pública.
  - (C) o confisco dos bens.
  - (D) a prisão civil.
  - (E) a cassação dos direitos políticos.

28. Considerando o disposto na Constituição Federal, é correto afirmar que o servidor público nomeado para cargo de provimento efetivo em virtude de concurso público adquire estabilidade
- (A) após dois anos contados da sua nomeação para o cargo e mediante a avaliação especial de desempenho por comissão instituída para essa finalidade.
  - (B) após três anos de efetivo exercício no cargo e mediante a avaliação técnica da sua chefia imediata que deverá ser ratificada pelo Secretário de Estado da respectiva Pasta.
  - (C) após dois anos de efetivo exercício no cargo e mediante a avaliação especial de desempenho por comissão instituída para essa finalidade.
  - (D) após três anos contados da sua nomeação para o cargo e mediante a avaliação técnica da sua chefia imediata que deverá ser ratificada pelo Governador do Estado.
  - (E) após três anos de efetivo exercício no cargo e mediante a avaliação especial de desempenho por comissão instituída para essa finalidade.

### DIREITOS HUMANOS

29. “Aprovada em 1948, é o documento base da luta universal contra a opressão e a discriminação, defende a igualdade e a dignidade das pessoas e reconhece que os direitos humanos e as liberdades fundamentais devem ser aplicados a cada cidadão do planeta”.

(www.brasil.gov.br).

Assinale a alternativa que aponta corretamente o nome do documento de direitos humanos de que trata essa conceituação.

- (A) Carta Democrática Interamericana.
  - (B) Declaração Universal dos Direitos Humanos.
  - (C) Convenção Americana de Direitos Humanos de São José da Costa Rica.
  - (D) Carta das Nações Unidas.
  - (E) Declaração dos Direitos do Homem e do Cidadão.
30. “Princípio (...) que se reveste de autoaplicabilidade, não é – enquanto postulado fundamental de nossa ordem político-jurídica – suscetível de regulamentação ou de complementação normativa. Esse princípio – cuja observância vincula, incondicionalmente, todas as manifestações do Poder Público – deve ser considerado, em sua precípua função de obstar discriminações e de extinguir privilégios (...)”
- (STF – MI n. 58-DF – Pleno – Rel. Min. Celso de Mello)
- O excerto de julgado acima reproduzido trata de um princípio intimamente relacionado com os direitos humanos e que é explicitamente protegido em nossa Constituição Federal, denominado expressamente de princípio da
- (A) moralidade.
  - (B) isonomia.
  - (C) legalidade.
  - (D) segurança jurídica.
  - (E) lealdade.

31. O princípio de direito penal, que é uma garantia essencial aos direitos humanos do homem, devendo ser assegurado em um estado democrático de direito, conhecido pela expressão em latim “nullum crimen nulla poena sine lege”, significa que
- (A) nulo o crime e nula pena sob a lei vigente.
  - (B) o crime cometido sob a regência do devido processo legal deve ser anulado.
  - (C) a lei penal não deve retroagir, a não ser para punir o réu.
  - (D) o crime hediondo deve ser punido mesmo sem lei.
  - (E) não há delito e nem pena sem prévia cominação legal.
32. A República Federativa do Brasil constitui-se em Estado Democrático de Direito e tem como fundamento, entre outros,
- (A) os valores sociais do trabalho e da livre iniciativa.
  - (B) a igualdade entre os povos.
  - (C) o partidarismo político.
  - (D) o desenvolvimento nacional.
  - (E) o respeito aos presos.

### DIREITO PENAL

33. Aquele que assume o risco de produzir um resultado criminoso comete crime movido por
- (A) culpa.
  - (B) imprudência.
  - (C) dolo.
  - (D) imperícia.
  - (E) negligência.
34. Imagine que João confunda seu aparelho de telefone celular com o de seu colega Pedro e, descuidadamente, leve para sua casa o aparelho de Pedro. Ao perceber o equívoco, João imediatamente comunica-se com Pedro e informa o ocorrido. No dia seguinte, João devolve o aparelho ao colega sem qualquer dano. Analisando a hipótese narrada, é possível afirmar que João
- (A) cometeu crime de furto, mas não será punido em vista do instituto da desistência voluntária.
  - (B) não cometeu crime algum.
  - (C) cometeu crime de apropriação indébita, mas não será punido em vista do instituto da desistência voluntária.
  - (D) cometeu crime de furto, mas não será punido em vista do instituto do arrependimento eficaz.
  - (E) cometeu crime de apropriação indébita, mas não será punido em vista do instituto do arrependimento eficaz.

35. No que concerne ao crime de receptação, analise as seguintes assertivas:
- I. Não é punível se desconhecido o autor do crime de que proveio a coisa.
  - II. Não é punível se isento de pena o autor do crime de que proveio a coisa.
  - III. A pena para a figura simples dolosa (CP, art. 180, *caput*) é aplicada em dobro caso se trate de bem da União.
- As assertivas estão, respectivamente:
- (A) correta; correta; incorreta.
  - (B) incorreta; correta; incorreta.
  - (C) correta; correta; correta.
  - (D) incorreta; incorreta; incorreta.
  - (E) incorreta; incorreta; correta.
36. O crime de fraude no pagamento por meio de cheque (CP, art. 171, § 2.º, VI) tem expressa previsão de aumento de pena, na razão de um terço, se
- (A) cometido em detrimento de entidade de direito público.
  - (B) cometido por funcionário público.
  - (C) causa qualquer prejuízo à vítima.
  - (D) consumado.
  - (E) causa vultoso prejuízo à vítima.
37. O crime de lesão corporal seguida de morte caracteriza-se quando
- (A) da ação culposa de lesão advém o resultado morte.
  - (B) da conduta resulta morte e as circunstâncias evidenciam que o agente não quis o resultado, nem assumiu o risco de produzi-lo.
  - (C) a vítima ou seu precário estado de saúde contribuem para o resultado morte, que era desejado pelo agente.
  - (D) o agente assumiu o risco de produzir o resultado mais grave, embora não o desejasse.
  - (E) o agente, num primeiro momento, deseja lesionar, mas num segundo momento passa a agir para obter o resultado morte.
38. Aquele que pratica fato típico para *salvar de perigo atual, que não provocou por sua vontade, nem podia de outro modo evitar, direito próprio ou alheio, cujo sacrifício, nas circunstâncias, não era razoável exigir-se*, atuou em
- (A) legítima defesa putativa e, portanto, não cometeu crime.
  - (B) estado de necessidade e, portanto, terá a pena diminuída de 1 (um) a 2 (dois) terços.
  - (C) legítima defesa e, portanto, não cometeu crime.
  - (D) estado de necessidade e, portanto, não cometeu crime.
  - (E) legítima defesa e, portanto, terá a pena diminuída de 1 (um) a 2 (dois) terços.



39. Estabelece o art. 155, § 2.º do CP como requisitos necessários para que, no crime de furto, o juiz aplique somente a pena de multa, ser o criminoso
- (A) confesso e de insignificante valor a coisa subtraída.
  - (B) primário e de pequeno valor a coisa furtada.
  - (C) não reincidente e portador de condições pessoais favoráveis, como domicílio fixo e ocupação lícita.
  - (D) menor de 21 (vinte e um) anos ou maior de 70 (setenta) anos e que proceda à restituição voluntária da coisa subtraída.
  - (E) confesso e que proceda à restituição voluntária da coisa subtraída.
40. Assinale a alternativa que contém o crime que tem expressa causa de aumento de pena se praticado por motivo egoístico.
- (A) Homicídio culposo.
  - (B) Aborto provocado pela gestante ou com seu consentimento.
  - (C) Induzimento, instigação ou auxílio ao suicídio.
  - (D) Aborto provocado por terceiro com consentimento da gestante.
  - (E) Infanticídio.
43. Dispõe o Código de Trânsito Brasileiro que, em caso de acidente com vítima, envolvendo veículo equipado com registrador instantâneo de velocidade e tempo, quem poderá retirar o disco ou unidade armazenadora do registro é o
- (A) perito oficial encarregado do levantamento pericial.
  - (B) delegado de plantão que registrar a ocorrência.
  - (C) o proprietário do veículo ou, se este estiver impossibilitado, o seu representante legal ou alguém por ele autorizado.
  - (D) papiloscopista policial de plantão na Delegacia onde for registrado o acidente de trânsito.
  - (E) policial militar que atender a ocorrência.
44. Praticar ofensas físicas contra funcionários, servidores ou particulares, salvo em legítima defesa, é uma conduta prevista na Lei Orgânica da Polícia Civil do Estado de São Paulo, que prevê, expressamente, em relação a ela, a aplicação da seguinte penalidade:
- (A) multa.
  - (B) repreensão.
  - (C) demissão a bem do serviço público.
  - (D) advertência.
  - (E) demissão.
45. Conforme dispõe a Lei Orgânica da Polícia Civil do Estado de São Paulo, o processo administrativo, como regra geral, será presidido por
- (A) delegado de polícia, que designará como secretário um escrivão de polícia.
  - (B) investigador de polícia chefe, auxiliado por um agente policial.
  - (C) delegado de polícia de classe especial, que nomeará um investigador para atuar como secretário.
  - (D) delegado de polícia titular, auxiliado por um papiloscopista.
  - (E) investigador de polícia, que será auxiliado por um escrivão de polícia.

#### LEGISLAÇÃO

41. Conforme prevê o Código de Trânsito Brasileiro, todo veículo automotor, elétrico, articulado, reboque ou semirreboque, para transitar na via, deverá ser licenciado anualmente pelo órgão executivo de trânsito do Estado, ou do Distrito Federal, onde estiver registrado o veículo. Esta regra, entretanto, não se aplica ao veículo de
- (A) polícia civil.
  - (B) autoridade dos três poderes.
  - (C) coleção.
  - (D) polícia militar.
  - (E) uso bélico.
42. A penalidade de suspensão do direito de dirigir, nos casos previstos no Código de Trânsito Brasileiro, não se tratando de reincidência, será aplicada pelo prazo mínimo de
- (A) sessenta dias até o máximo de cento e oitenta dias.
  - (B) um mês até o máximo de um ano.
  - (C) dois meses até o máximo de um ano.
  - (D) um mês até o máximo de dois anos.
  - (E) um mês até o máximo de dezoito meses.

## NOÇÕES DE CRIMINOLOGIA

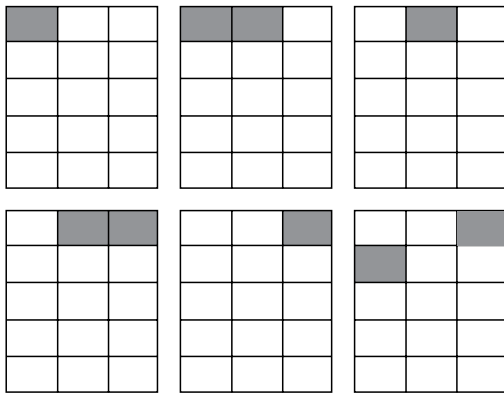
46. Cidadino Gatuno foi preso em flagrante delito pelo crime de roubo. Ao ser levado à Delegacia de Polícia, no momento da tentativa de sua identificação, Gatuno apresentou o seu documento de identidade (R.G.), o qual, no entanto, por ter sido molhado pela chuva, apresentava rasura que dificultava a identificação do preso. Neste caso, com base no que dispõe a Lei n.º 12.037/2009, é correto afirmar que Gatuno
- (A) não poderá ser identificado criminalmente, uma vez que não teve culpa na rasura do seu documento de identidade.
  - (B) deverá ser identificado criminalmente, mas limitado à juntada do processo datiloscópico ao auto de prisão em flagrante.
  - (C) não poderá ser identificado criminalmente, em nenhuma hipótese, uma vez que é um direito seu assegurado pela Constituição Federal.
  - (D) não poderá ser identificado criminalmente.
  - (E) poderá ser identificado criminalmente, desde que não seja possível a sua identificação civil.
47. Belo Narciso foi indiciado em inquérito policial por crime contra os costumes, tendo sido identificado criminalmente. No entanto, a respectiva denúncia não foi aceita e o inquérito foi definitivamente arquivado. Narciso, preocupado com sua imagem perante terceiros, requereu, em seguida, a retirada de sua identificação fotográfica do inquérito policial. Neste caso, considerando o disposto na Lei n.º 12.037/09, é correto afirmar que Narciso
- (A) não tem direito à retirada de sua identificação civil, uma vez que esta se constitui em prova policial, que não pode ser alterada ou suprimida do inquérito policial.
  - (B) deverá ter seu pedido atendido, desde que apresente provas de sua identificação civil.
  - (C) tem direito à retirada da sua identificação criminal do inquérito, mas terá que obter ordem judicial específica nesse sentido.
  - (D) tem direito à retirada da sua identificação do inquérito, pois a presença desta viola o seu direito à imagem, não sendo legal qualquer exigência para que seu pedido seja atendido.
  - (E) não pode ter seu pedido atendido, tendo em vista que o inquérito já foi arquivado, não havendo, portanto, interesse de Narciso em seu pedido.
48. Nos termos do que dispõe a Lei Federal n.º 12.527/2011 (Lei de Acesso à Informação), quando se tratar de acesso à informação contida em documento cuja manipulação possa prejudicar sua integridade,
- (A) o interessado deverá obter decisão judicial que lhe autorize o acesso.
  - (B) o próprio interessado poderá extrair cópia do documento, as suas próprias expensas e sob sua responsabilidade, devendo assinar declaração de que restituirá o documento em perfeitas condições.
  - (C) deverá ser negado o acesso ao interessado.
  - (D) deverá ser oferecida a consulta de cópia, com certificação de que esta confere com o original.
  - (E) o interessado poderá ter acesso direto ao documento que contém a informação, sem qualquer restrição, mas não poderá obter cópia.
49. Contemporaneamente, a criminologia é conceituada como
- (A) uma ciência empírica e social que estuda o criminoso, a pena e o controle social.
  - (B) uma ciência empírica e multidisciplinar que estuda as formas como os crimes são cometidos.
  - (C) uma ciência empírica e interdisciplinar que estuda o crime, o criminoso, a vítima e o controle social.
  - (D) uma ciência jurídica e interdisciplinar que estuda as formas como os crimes são cometidos.
  - (E) uma ciência jurídica e multidisciplinar que estuda o crime, o criminoso, a pena e a vítima.
50. Os métodos científicos utilizados pela criminologia são
- (A) métodos experimental e dedutível, como ciência jurídica que são.
  - (B) métodos psicológico e sociológico, como ciências empírica e exata que são.
  - (C) métodos físico e individual, como ciências social e dedutível que são.
  - (D) métodos físico e biológico, como ciência jurídica que são.
  - (E) métodos biológico e sociológico, como ciências empírica e experimental que são.
51. Este autor foi o criador da chamada “sociologia criminal”. Para ele, a criminalidade derivava de fenômenos antropológicos, físicos e culturais. Trata-se de
- (A) Francesco Carrara.
  - (B) Cesare Lombroso.
  - (C) Rafael Garófalo.
  - (D) Enrico Ferri.
  - (E) Franz von Lizst.

52. Pode-se afirmar que estão entre os princípios fundamentais da escola clássica da criminologia:
- (A) o crime, na escola clássica, é um ente jurídico, não é uma ação, mas sim uma infração; a punibilidade deve ser baseada no livre-arbítrio; adota-se o método e raciocínio lógico-dedutivo.
  - (B) a pena, que é um instrumento de defesa social; a escola clássica, que se utiliza do método indutivo-experimental; os objetos de estudo da ciência penal, que são o crime, o criminoso, a pena e o processo.
  - (C) o crime é visto como um fenômeno social e individual na escola clássica; a pena tem caráter aflitivo, cuja finalidade é a defesa social.
  - (D) o direito penal, que é uma obra humana; a responsabilidade social que decorre do determinismo social; o delito, que é um fenômeno natural e social.
  - (E) a distinção entre imputáveis e imputáveis existente na escola clássica; a responsabilidade moral baseada no determinismo (quem não tiver a capacidade de se levar pelos motivos deverá receber uma medida de segurança).
53. De acordo com a Sociologia Criminal, pode-se citar como exemplo da Teoria de Consenso:
- (A) a Teoria crítica.
  - (B) a Teoria radical.
  - (C) a Teoria das janelas quebradas.
  - (D) a Teoria da associação diferencial.
  - (E) a Teoria do conflito.
54. Uma das mais importantes teorias do conflito; surgiu nos Estados Unidos nos anos de 1960, e seus principais expoentes foram Erving Goffman e Howard Becker. Trata-se da
- (A) Teoria do *labelling approach*.
  - (B) Teoria da subcultura delincente.
  - (C) Teoria da desorganização social.
  - (D) Teoria da anomia.
  - (E) Teoria das zonas concêntricas.
55. De acordo com Benjamim Mendelsohn, as vítimas são classificadas em:
- (A) vítimas primárias, vítimas secundárias e vítimas terciárias.
  - (B) vítimas ideais, vítimas menos culpadas que os criminosos, vítimas tão culpadas quanto os criminosos, vítimas mais culpadas que os criminosos e vítimas como únicas culpadas.
  - (C) vítimas desatentas, vítimas desinformadas, vítimas descuidadas, vítimas inocentes, vítimas provocativas e vítimas participativas.
  - (D) vítimas perfeitas, vítimas participativas, vítimas concorrentes, vítimas imperfeitas e vítimas contumazes.
  - (E) vítimas inocentes, vítimas conscientes e vítimas culpadas.
56. O estudo da vitimologia atual, baseada numa tendência política criminal eficiente, privilegia
- (A) a assistência social ao delincente, bem como um atendimento eficiente do poder público.
  - (B) a assistência psicológica à vítima e tratamento adequado ao delincente, para sua recuperação.
  - (C) uma pena que recupere o delincente, sociabilizando-o, com trabalho e educação.
  - (D) uma punição exemplar para o delincente, de forma que se cumpra a função retributiva da pena.
  - (E) a reparação dos danos e indenização dos prejuízos da vítima.
57. A prevenção criminal secundária é aquela que atua
- (A) na recuperação do recluso, visando a sua socialização por meio do trabalho e estudo, evitando sua reincidência.
  - (B) em setores específicos ou de maior vulnerabilidade da sociedade, por meio de ação policial, programas de apoio e controle das comunicações.
  - (C) na qualidade de vida de um povo, na proteção aos bens patrimoniais e nos direitos individuais e sociais.
  - (D) nos direitos sociais universalmente conhecidos, como educação, moradia e segurança.
  - (E) na reparação do dano causado em razão da delinquência, assistindo o recluso com programas psicológicos e de assistência social.
58. Uma das formas que o Estado Democrático de Direito possui para prevenir o crime é a pena. De acordo com a teoria mista que estuda as penas, estas têm a finalidade de
- (A) punir o delincente de forma proporcional ao mal praticado.
  - (B) trazer mais tranquilidade para a sociedade, uma vez que o criminoso não estará mais nas ruas.
  - (C) retomar a tranquilidade e a paz pública.
  - (D) prevenção geral e prevenção especial.
  - (E) afastar o delincente da sociedade, para evitar novos crimes.

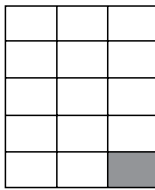
## NOÇÕES DE LÓGICA

59. Em um concurso de dança, só era permitida a inscrição de grupos formados por 1 menino e 2 meninas ou de grupos formados por 4 meninos e 3 meninas. Sabendo-se que 13 meninos se inscreveram para esse concurso, o número mínimo de meninas inscritas nesse concurso foi de
- (A) 11.  
(B) 13.  
(C) 15.  
(D) 17.  
(E) 9.
60. O computador que Ricardo quer comprar é R\$ 125,00 mais caro na loja A do que na loja B. Ao negociar um preço mais baixo, conseguiu, na loja A, um desconto de 20% para compra à vista, enquanto que, na loja B, conseguiu, para compra à vista, um desconto de 10%. Ao fazer as contas, Ricardo verificou que as propostas nas duas lojas resultavam em um mesmo preço final para o computador, no valor de
- (A) R\$ 1.125,00.  
(B) R\$ 1.000,00.  
(C) R\$ 900,00.  
(D) R\$ 1.500,00.  
(E) R\$ 1.250,00.
61. Para pintar um prédio, 7 homens trabalharam por 6 dia. A partir de então, para que o serviço de pintura terminasse mais rapidamente, foram contratados mais 7 homens com a mesma força de trabalho daqueles que já estavam trabalhando. No total, foram necessários 19 dias para completar o serviço de pintura. Se todos os 14 homens estivessem trabalhando juntos desde o primeiro dia de serviço, a pintura do prédio ficaria pronta em
- (A) 12 dias.  
(B) 14 dias.  
(C) 10 dias.  
(D) 16 dias.  
(E) 8 dias.
62. No planeta *Babebibo*, todos os *Bas* são *Bes* e alguns *Bes* são *Bis*. Sabendo-se que nenhum *Be* é *Bo*, é possível concluir que
- (A) alguns *Bis* são *Bos*.  
(B) nenhum *Ba* é *Bo*.  
(C) nenhum *Bi* é *Bo*.  
(D) alguns *Bas* são *Bis*.  
(E) todos os *Bis* são *Bos*.
63. A caminho de Xapuri, um motorista viu uma placa de sinalização que indicava que a distância até a cidade, em quilômetros, era um número de três dígitos, sendo que apenas o dígito do meio era zero. Após 45 minutos, uma outra placa indicava a distância até Xapuri, sendo essa formada pelos dois dígitos diferentes de zero da primeira placa, mas com a ordem invertida. Quarenta e cinco minutos depois, a distância que uma outra placa indicava era formada pelos mesmos dois dígitos da placa anterior. Sabendo-se que velocidade é definida como a razão entre a distância percorrida e o tempo gasto para percorrer essa distância, e assumindo que esse motorista manteve uma mesma velocidade ao longo de todo o trajeto, o tempo gasto, em minutos, para chegar em Xapuri após a passagem pela terceira placa foi
- (A) 18.  
(B) 15.  
(C) 14.  
(D) 17.  
(E) 16.
64. Antonio, Bernardo e Caetano são três amigos. Sempre que uma pergunta é feita a eles, dois falam a verdade e um mente. Ao serem questionados sobre quem era o mais velho, responderam:
- Antonio: Bernardo nasceu primeiro.  
Bernardo: Eu não sou o mais velho.  
Caetano: Antonio é o mais velho.
- O nome de quem mentiu ao responder essa pergunta e o nome do mais velho dos amigos são, respectivamente,
- (A) Bernardo e Bernardo.  
(B) Bernardo e Caetano.  
(C) Antonio e Antonio.  
(D) Caetano e Caetano.  
(E) Antonio e Bernardo.

65. A figura seguinte apresenta os seis primeiros elementos de uma sequência:



Sendo a figura seguinte o último elemento dessa sequência, o total de elementos da sequência é



- (A) 29.  
 (B) 31.  
 (C) 32.  
 (D) 30.  
 (E) 28.
66. Para sair do fundo de um buraco de 1510 centímetros de profundidade, uma minhoca consegue subir 111 cm a cada 5 minutos. A cada 15 minutos, a minhoca precisa parar por um minuto para descansar, porém, durante o descanso, a minhoca escorrega e desce 11 cm. O tempo, em minutos, que a minhoca levará para sair do buraco é
- (A) 64.  
 (B) 59.  
 (C) 79.  
 (D) 74.  
 (E) 69.

67. Gabriel e Giovane são dois irmãos gêmeos que têm o hábito de escolher a mesma cor para os pares de meia que vão calçar. Assim, por exemplo, se um deles, em certo dia, usa meias pretas, o outro também usa meias pretas nesse dia. Eles guardam suas meias em um mesmo saco que está sempre desorganizado, de modo que as meias estão misturadas e não estão arrumadas em pares de mesma cor. Um certo dia, o saco tinha um total de 12 meias marrons, 16 meias pretas e 30 meias brancas. Nesse dia, para decidir qual cor usariam, começaram a tirar uma meia por vez do saco até que fossem tiradas quatro meias da mesma cor. O número máximo de retiradas que eles farão do saco até conseguirem as meias desejadas será

- (A) 16.  
 (B) 10.  
 (C) 8.  
 (D) 4.  
 (E) 12.

68. Um programa de computador inicia com uma tela preta e um ponto branco nessa tela. Após 3 segundos, esse ponto branco tem sua cor trocada para vermelho e um novo ponto branco é exibido em algum lugar da tela que esteja preto. O programa continua de maneira que:

- a cada segundo, para cada ponto vermelho, um novo ponto branco é exibido na tela;
- cada ponto branco, após 3 segundos de exibição, torna-se vermelho e origina um novo ponto branco, em alguma região preta da tela.

Nessas condições, após 15 segundos do início do programa, o número de pontos brancos e vermelhos exibidos na tela é

- (A) 174.  
 (B) 159.  
 (C) 144.  
 (D) 189.  
 (E) 129.

## NOÇÕES DE INFORMÁTICA

69. Considere os itens a seguir:

- I. Clock do processador
- II. Memória RAM
- III. Espaço livre no disco rígido

Com relação aos itens apresentados, assinale a alternativa que contém os requisitos mínimos necessários do computador para se instalar e executar o MS-Windows 7, versão 64 bits.


- (A) I. 1GHz; II. 2GB; III. 20GB.
- (B) I. 3GHz; II. 1GB; III. 16GB.
- (C) I. 2GHz; II. 2GB; III. 36GB.
- (D) I. 2GHz; II. 1GB; III. 24GB.
- (E) I. 1GHz; II. 1GB; III. 16GB.

70. No MS-Windows 7, quando se pressiona a tecla PrtScr ou similar, exemplos: PrtScrn, PrtSc, PrtScn, PrintScreen, Prt/Sysreq, entre outros, uma imagem da tela é copiada para a \_\_\_\_\_ . Isso se chama captura de tela.

Assinale a alternativa que preenche corretamente a lacuna do texto.

- (A) Área de trabalho
- (B) Biblioteca Imagens
- (C) Área de transferência
- (D) Biblioteca Downloads
- (E) Biblioteca Documentos

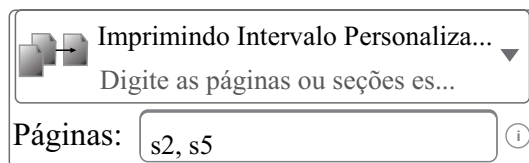
71. Na figura a seguir, é exibida uma janela do MS-Windows 7, na sua configuração original:



Com base nos objetos exibidos na janela e considerando que um dos objetos está selecionado, pode-se afirmar que

- (A) Provas é uma pasta que possui arquivos.
- (B) Agente e Escrivão são arquivos do WordPad.
- (C) Aulas é um arquivo que contém gráficos e documentos.
- (D) ao pressionar CTRL+X e, em seguida, CTRL+V, será criado o objeto Concursos – Cópia.
- (E) ao pressionar CTRL+X e, em seguida, CTRL+V, o objeto será mantido com o mesmo nome, mesmo após a exibição de uma janela de aviso.


72. Observe, na figura a seguir, os parâmetros de impressão de um documento do MS-Word 2010, na sua configuração padrão.



Assinale a alternativa que contém o que será impresso.

- (A) Seção 2 e seção 5.
- (B) Seção 2 até seção 5.
- (C) Seção 2 ou seção 5.
- (D) Páginas 2, 3, 4 e 5.
- (E) Páginas 2 e 5.

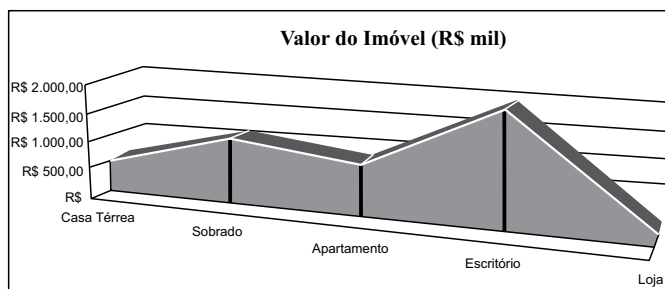
73. Assinale a alternativa que contém o tipo de quebra indicado



pelo ícone, encontrado no menu Layout da Página do MS-Word 2010.

- (A) Próxima Página.
- (B) Página.
- (C) Quebra Automática de Texto.
- (D) Coluna.
- (E) Contínuo.

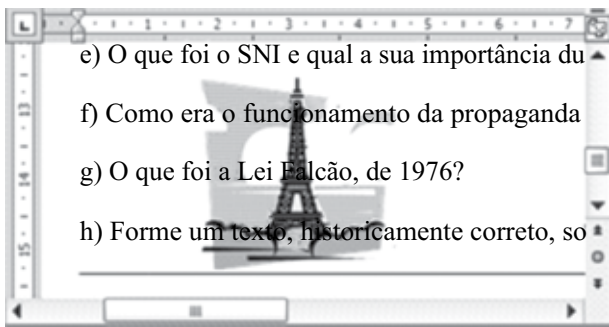
74. Observe o gráfico construído no MS-Excel 2010.








Com relação ao gráfico, assinale a alternativa correta.

- (A) O valor do imóvel está no eixo de categoria.
- (B) Os tipos de imóvel estão no eixo de categoria.
- (C) Trata-se de um gráfico de superfície.
- (D) Nesse tipo de gráfico, a entrada de legenda considera o cabeçalho do eixo de categoria.
- (E) Os rótulos estão visíveis.

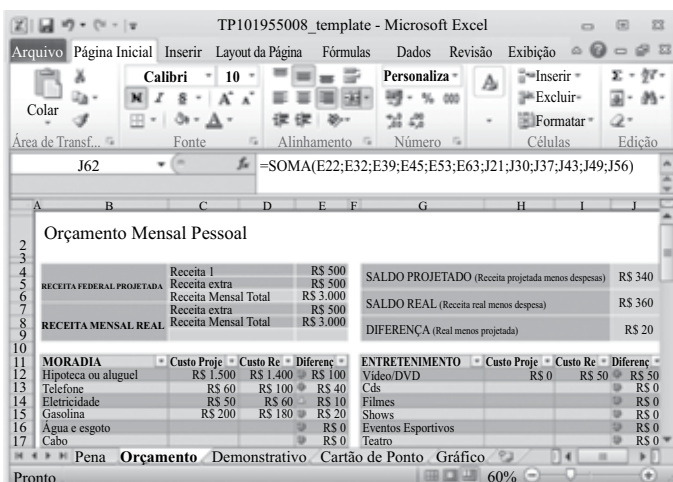
75. Observe o documento do MS-Word 2010, apresentado parcialmente na figura a seguir.



A figura foi disposta no texto da seguinte forma:

- (A) 
- (B) 
- (C) 
- (D) 
- (E) 

76. Observe a tela do MS-Excel 2010, apresentada na figura a seguir.



Assinale a alternativa que contém a quantidade de planilhas existentes na pasta de trabalho e o modo de exibição da planilha Orçamento, respectivamente.

- (A) 1 e Normal.  
(B) 4 e Layout da Página.  
(C) 5 e Visualização de Quebra de Página.  
(D) 4 e Normal.  
(E) 5 e Layout da Página.

77. Considere a planilha do MS-Excel 2010, apresentada na figura a seguir.

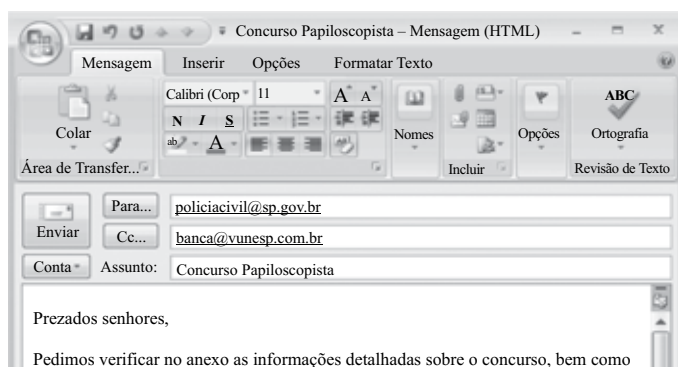
A	B	C	D	E	F	G
1	<b>Controlador de Pressão Sanguínea</b>					
2	Nome _____					
3	Pressão sanguínea do alvo*					
4		Sístole	Diastólico			
5		120	80			
6	Ligar para o médico se acima					
7		Sístole	Diastólico			
8	Número de telefone do médico _____					
9	* Padrão do National Institutes of Health					
10				Frequência		
11				Cardíaca		
12						
13	Data	Hora	Sístole	Distólico	Frequência	Emergência
14	1/11/06	De Manhã	129	79	72	Não
15	1/11/06	À Noite	133	80	75	Não
16	2/11/06	De Manhã	142	86	70	Pronto Socorro
17	2/11/06	À Noite	141	84	68	Pronto Socorro
18	3/11/06	De Manhã	137	84	70	Pronto Socorro
19	3/11/06	À Noite	139	83	72	Pronto Socorro
20	4/11/06	De Manhã	140	85	78	Pronto Socorro
21	4/11/06	À Noite	138	85	69	Pronto Socorro
22	5/11/06	De Manhã	135	79	75	Não
23	5/11/06	À Noite	136	81	72	Pronto Socorro
24	6/11/06	De Manhã	137	83	69	Pronto Socorro
25	6/11/06	À Noite	138	85	66	Pronto Socorro
26	7/11/06	De Manhã	135	80	67	Não
27	7/11/06	À Noite	142	85	72	Pronto Socorro
28						


Na coluna Emergência, aparecerá o texto Pronto Socorro quando os indicadores Sístole e Diastólico forem superiores a 120 e 80, respectivamente.

Assinale a alternativa com a fórmula aplicada na célula G16 e que atende aos requisitos descritos.

- (A) =SE(OU(D16<=120;E16>=80);"Pronto Socorro";"Não")  
(B) =SE(OU(D16>120;E16>80);"Não";"Pronto Socorro")  
(C) =SE(OU(D16<120;E16>80);"Não";"Pronto Socorro")  
(D) =SE(E(D16>=120;E16>80);"Não";"Pronto Socorro")  
(E) =SE(E(D16>120;E16>80);"Pronto Socorro";"Não")

78. Observe o correio eletrônico do MS-Outlook, parcialmente ilustrado na figura a seguir.



Ao clicar no ícone , encontrado no grupo Incluir da barra de ferramentas, o usuário pretende

- (A) anexar outro e-mail que se encontra na Caixa de Entrada.  
(B) anexar documento que se encontra na biblioteca Documentos do computador.  
(C) verificar a ortografia e gramática do texto.  
(D) salvar a mensagem na pasta Rascunhos.  
(E) adicionar destinatários copiados existentes na lista de contatos do usuário.

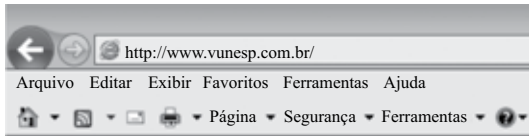
79. Observe o URL a seguir.

`http://www.vunesp.com.br/PCSP1206/status.html`

Assinale a alternativa que identifica corretamente um componente do URL, conforme as normas descritas na RFC 1738.

- (A) Caminho: `http://`
- (B) Servidor: `status.html`
- (C) Recurso: `www.vunesp.com.br`
- (D) Caminho: `/PCSP1206/status.html`
- (E) Protocolo: `//www`

80. Observe a figura, que mostra parte do Internet Explorer 9.



O bloqueador de pop-ups encontra-se em

- (A) Página.
- (B) Exibir.
- (C) Ferramentas.
- (D) Segurança.
- (E) Arquivo.