



CÂMARA MUNICIPAL DE SOROCABA

CONCURSO PÚBLICO

005. PROVA OBJETIVA

OFICIAL LEGISLATIVO

- ◆ Você recebeu sua folha de respostas e este caderno contendo 50 questões objetivas.
- ◆ Confira seu nome e número de inscrição impressos na capa deste caderno e na folha de respostas.
- ◆ Quando for permitido abrir o caderno, verifique se está completo ou se apresenta imperfeições. Caso haja algum problema, informe ao fiscal da sala.
- ◆ Leia cuidadosamente todas as questões e escolha a resposta que você considera correta.
- ◆ Marque, na folha de respostas, com caneta de tinta azul ou preta, a letra correspondente à alternativa que você escolheu.
- ◆ A duração da prova é de 3 horas, já incluído o tempo para o preenchimento da folha de respostas.
- ◆ Só será permitida a saída definitiva da sala e do prédio após transcorridos 75% do tempo de duração da prova.
- ◆ Ao sair, você entregará ao fiscal a folha de respostas e este caderno, podendo levar apenas o rascunho de gabarito, localizado em sua carteira, para futura conferência.
- ◆ Até que você saia do prédio, todas as proibições e orientações continuam válidas.

AGUARDE A ORDEM DO FISCAL PARA ABRIR ESTE CADERNO DE QUESTÕES.

CONHECIMENTOS GERAIS

LÍNGUA PORTUGUESA

Leia o texto para responder às questões de números **01** a **06**.

Felicidade não se compra?

Aconteceu de verdade, nos Estados Unidos – a Coca-Cola instalou uma daquelas máquinas que vendem refrigerante no refeitório de uma escola. Mas a máquina era especial. Quando os estudantes inseriam o dinheiro, não saía lá de dentro apenas uma garrafinha, mas várias. Com tantas Cocas na mão, os estudantes acabavam oferecendo aos colegas os refrigerantes a mais. Porém, a coisa não parou por aí. Um funcionário escondido dentro da máquina começou a passar pela fenda caixas de pizza, flores, balões, enfim, uma infinidade de agrados, para espanto e alegria da garotada.

Com essa iniciativa esquisita, a empresa quis reforçar a ideia de que, mais que comercializar produtos, sua missão é espalhar felicidade. Não foi à toa que ela batizou suas máquinas de “fábricas de felicidade”. Não precisamos perder tempo discutindo se os produtos da multinacional americana podem, de fato, trazer felicidade, se são saudáveis ou nutritivos. Afinal, a questão aqui não se relaciona ao bem-estar do corpo e sim à busca do prazer, que hoje parece orientar boa parte de nossas escolhas. A verdade é que, de um jeito ou de outro, a felicidade agora pode ser encontrada em toda parte, pelo menos no que diz respeito à comunicação das marcas. A Best Buy, líder na venda de eletroeletrônicos nos Estados Unidos, também usou uma estratégia semelhante em suas campanhas de publicidade. Seu *slogan* é: “Você mais feliz”.

Essa guinada das empresas, que pararam de alardear a qualidade superior de seus produtos e passaram a vender felicidade, tem estreita relação com a mudança dos consumidores, hoje mais preocupados com os benefícios que as marcas trazem a suas vidas do que com o desempenho dos objetos que adquirem. Em outras palavras, mais que deixar limpas as roupas da família, uma nova lavadora economiza o tempo da dona de casa, o que se traduz em mais felicidade.

O diretor Frank Capra assinou, nos anos 40, uma verdadeira obra-prima, que em português ganhou o nome de “A Felicidade Não se Compra”. Hoje provavelmente esse título do filme não faria o menor sentido, porque o que as empresas oferecem é justamente a ilusão de felicidade, embutida nos produtos que vendem.

(Luiz Alberto Marinho, *Vida Simples*, 05.2010, <http://zip.net/bplQ7v>, 17.12.2013. Adaptado)

- 01.** O autor relata uma iniciativa da Coca-Cola para
- (A) vender pizza, flores e balões, além de refrigerantes.
 - (B) mostrar que comercializa produtos de qualidade.
 - (C) vincular sua marca à noção de felicidade.
 - (D) ressaltar o valor nutritivo de seu produto.
 - (E) alertar sobre os riscos do consumismo exagerado.

- 02.** A partir da leitura do texto, é correto concluir que os consumidores, hoje, ao adquirirem um produto, preocupam-se com
- (A) as vantagens que a posse desse produto pode trazer a suas vidas.
 - (B) a qualidade e, conseqüentemente, a durabilidade desse produto.
 - (C) a eficiência com que esse produto desempenha suas funções.
 - (D) as facilidades de pagamento oferecidas na comercialização desse produto.
 - (E) a superioridade desse produto em comparação com os de outras marcas.

- 03.** Considere a passagem do segundo parágrafo:

Não precisamos perder tempo discutindo se os produtos da multinacional americana podem, de fato, trazer felicidade, se são saudáveis ou nutritivos.

Assinale a alternativa que apresenta uma expressão que substitui, corretamente, o trecho destacado, por ter sentido semelhante.

- (A) É relevante analisar.
 - (B) É imprudente desconsiderar.
 - (C) É conveniente averiguar.
 - (D) É desnecessário debater.
 - (E) É desaconselhável ignorar.
- 04.** Releia a passagem do segundo parágrafo, considerando a possibilidade de se acrescentar uma expressão após o termo **semelhante**, em destaque:


A Best Buy, líder na venda de eletroeletrônicos nos Estados Unidos, também usou uma estratégia **semelhante** _____ em suas campanhas de publicidade...

A expressão que serve de complemento ao termo **semelhante**, preenchendo corretamente a lacuna, preservando as relações de sentido estabelecidas no texto original, e em conformidade com a norma-padrão da língua portuguesa, é:

- (A) como a Coca-Cola
 - (B) com a Coca-Cola
 - (C) pela Coca-Cola
 - (D) a Coca-Cola
 - (E) à da Coca-Cola
- 05.** Ao usar a expressão “ilusão de felicidade”, no último parágrafo, o autor sugere que a felicidade que as empresas oferecem junto com seus produtos é
- (A) duradoura.
 - (B) efetiva.
 - (C) estável.
 - (D) falsa.
 - (E) viável.

06. Após a alteração da pontuação, a frase que permanece correta, de acordo com a norma-padrão da língua portuguesa, é:
- (A) Com tantas Cocas na mão, os estudantes – acabavam oferecendo aos colegas – os refrigerantes a mais. (1.º parágrafo)
- (B) A verdade é que, de um jeito ou de outro – a felicidade agora pode ser encontrada em toda parte – pelo menos no que diz respeito à comunicação das marcas. (2.º parágrafo)
- (C) A Best Buy – líder na venda de eletroeletrônicos nos Estados Unidos – também usou uma estratégia semelhante em suas campanhas de publicidade. (2.º parágrafo)
- (D) Em outras palavras, mais que deixar limpas as roupas da família – uma nova lavadora economiza – o tempo da dona de casa, o que se traduz em mais felicidade. (3.º parágrafo)
- (E) Hoje provavelmente esse título do filme não faria – o menor sentido – porque o que as empresas oferecem é justamente a ilusão de felicidade, embutida nos produtos que vendem. (último parágrafo)

Leia a tira para responder às questões de números 07 e 08.



(Hagar, Chris Browne, Folha de S.Paulo, 10.11.2013, <http://zip.net/bnlQmB>, 17.12.2013. Adaptado)

07. Com o comentário do segundo quadrinho – ... mesmo que precise usar lentes de aumento. –, o personagem sugere que
- (A) o melhor das pessoas se torna mais fácil de se perceber ao longo do tempo.
- (B) as pessoas, de um modo geral, tendem a alardear o que elas têm de melhor.
- (C) ver o melhor das pessoas é um hábito que nasce de modo instintivo e involuntário.
- (D) pode ser necessário um certo esforço para que se veja o que as pessoas têm de melhor.
- (E) não se deve perder tempo tentando ver o melhor das pessoas, pois isso é impossível.
08. No primeiro quadrinho, a expressão **à medida que** veicula a ideia de
- (A) concessão.
- (B) finalidade.
- (C) contradição.
- (D) dúvida.
- (E) proporção.

Leia o texto para responder às questões de números 09 a 15.

Matusalém*

Não sei como, não sei quando, não sei por quê, fui incluída, à minha revelia, em um *site* de relacionamentos. Faz dias que meu *e-mail* é invadido por desconhecidos interessados em estabelecer contato comigo.

Na primeira vez que dei com a mensagem na tela, corri para as letras miúdas, a fim de cancelar a inscrição. Procedi como indicado, mas apareceu uma mensagem exigindo a senha. Eu não tinha a menor ideia do número da senha, eu não me lembro de ter cadastrado uma senha. Jamais, em hipótese alguma, eu me engajaria em um *site* de relacionamentos. Sou sociofóbica, nasci em meados do século passado e suspeito da massa de anônimos que povoam o ciberespaço.

Cliquei em “Esqueceu sua senha?”, e esperei pela nova, a ser enviada. Demorou, demorou, e nunca chegou. Escrevi para a entidade fantasma – cuja central de atendimento deve ser no México, na Rússia ou em Porto Rico –, exigindo a retirada do meu nome de circulação. Não há números de telefones disponíveis, nem qualquer ser humano que dê atenção ao meu trauma. A cada contato, o cérebro eletrônico me lê como usuária assídua e redobra a seleção de contatos. Quem controla esse abuso? É o Procon?

Parei no *e-mail*. Eu amo *e-mail*. Você escreve quando pode e recebe quando é conveniente. É uma troca pessoal e intransferível, serve de documento e ainda obriga o cidadão a escrever alguma língua direito, com sujeito, verbo e predicado.

Usei o Twitter uma vez e saí batido, impressionada com o número de estranhos que passaram a me tratar como íntima. Não achei prudente a exposição.

A internet foi, e é, o estopim das manifestações de massa que explodiram mundo afora. Como sou antiga e uso meu computador como máquina de escrever e correio, só soube do acontecido depois que aconteceu. Meu filho de 13, não, esse estava informado sobre tudo.

Peco pelo conservadorismo, leio jornal impresso e me informo pela televisão. Ainda assim, ignorante, solitária e ultrapassada, troco toda a consciência pela glória da minha privacidade. Não nasci para o Facebook, o Instagram e o LinkedIn. Estacionei no caráter enciclopédico, epistolar*, matusalênico* das novas tecnologias.

(Fernanda Torres, *Veja Rio*, 15.07.2013, <http://zip.net/bjlQrh>, 17.12.2013. Adaptado)

* *Matusalém*: patriarca da Bíblia que teria morrido com 969 anos

* *epistolar*: relativo a cartas

* *matusalênico*: velho, antigo

09. Nos três primeiros parágrafos do texto, a autora conta que
- (A) arrependeu-se de ter se inscrito voluntariamente em um *site* de relacionamentos, do qual não conseguiu se livrar.
- (B) teve dificuldades para cancelar seu cadastro em um *site* de relacionamentos, no qual havia se inscrito por engano.
- (C) tinha a intenção de estabelecer contato com desconhecidos, quando se tornou usuária de um *site* de relacionamentos.
- (D) se esqueceu da senha que havia escolhido para fazer o cadastro em um *site* de relacionamentos e, por isso, não pôde cancelar sua inscrição.
- (E) tentou desvencilhar-se de um *site* de relacionamentos em que havia sido inscrita sem ser consultada, mas não obteve sucesso.

10. Considere a seguinte passagem do terceiro parágrafo:

Escrevi para a entidade fantasma – cuja central de atendimento deve ser no México, na Rússia ou em Porto Rico –, exigindo a retirada do meu nome de circulação.

Nessa passagem, a autora

- (A) revela que não sabe precisar onde se localiza a central de atendimento da entidade responsável pelo *site* de relacionamentos.
- (B) mostra que obteve informações confiáveis a respeito da localização das centrais de atendimento do *site* de relacionamentos.
- (C) sugere que o *site* de relacionamentos tem uma grande infraestrutura, pois possui filiais em várias partes do mundo.
- (D) demonstra ter ciência do fato de que o *site* de relacionamentos deve ser restrito a usuários mexicanos, russos e porto-riquenhos.
- (E) sinaliza que o mau atendimento recebido por parte do *site* de relacionamentos decorre do fato de que este tem mais de uma central de atendimento.

11. Uma passagem do texto que explica o porquê de a autora não querer participar de *sites* de relacionamentos é:

- (A) Procedi como indicado, mas apareceu uma mensagem exigindo a senha. (segundo parágrafo)
- (B) Sou sociofóbica, nasci em meados do século passado e suspeito da massa de anônimos que povoam o ciberespaço. (segundo parágrafo)
- (C) Cliquei em “Esqueceu sua senha?”, e esperei pela nova, a ser enviada. (terceiro parágrafo)
- (D) A cada contato, o cérebro eletrônico me lê como usuária assídua e redobra a seleção de contatos. (terceiro parágrafo)
- (E) A internet foi, e é, o estopim das manifestações de massa que explodiram mundo afora. (sexto parágrafo)

12. A autora afirma preferir o *e-mail*, por tratar-se de uma forma de comunicação

- (A) particular.
- (B) anônima.
- (C) inovadora.
- (D) massificada.
- (E) displicente.

13. Na passagem do penúltimo parágrafo – A internet foi, e é, o estopim das manifestações de massa que explodiram mundo afora. –, o termo **estopim** contribui para apresentar a internet como o meio usado para

- (A) atenuar as manifestações de massa.
- (B) provocar as manifestações de massa.
- (C) reprimir as manifestações de massa.
- (D) desabonar as manifestações de massa.
- (E) rememorar as manifestações de massa.

14. Ao concluir o texto com a frase – Estacionei no caráter enciclopédico, epistolar, maturalênico das novas tecnologias. – a autora reforça

- (A) sua admiração pela interatividade promovida pelas novas tecnologias.
- (B) sua satisfação em obter as informações de maneira rápida por meio da internet.
- (C) seu comportamento conservador ao fazer uso das novas tecnologias.
- (D) seu fascínio diante do fato de que a internet tornou as pessoas mais conscientes.
- (E) sua frustração por não saber usar as novas tecnologias para informar-se e comunicar-se.

15. Considerando as regras de concordância da norma-padrão da língua portuguesa, a frase que se mantém correta após a substituição da forma destacada pela forma entre parênteses está em:

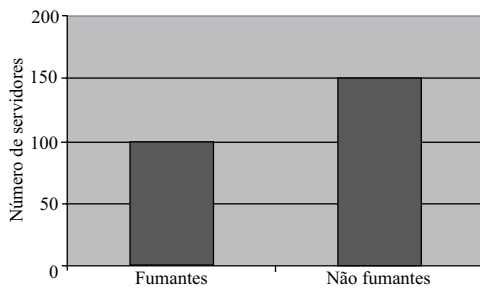
- (A) **Faz** dias que meu *e-mail* é invadido por desconhecidos interessados em estabelecer contato comigo. (Fazem)
- (B) Sou sociofóbica, nasci em meados do século passado e suspeito da massa de anônimos que **povoam** o ciberespaço. (povoa)
- (C) Não há números de telefones **disponíveis**, nem qualquer ser humano que dê atenção ao meu trauma. (disponível)
- (D) Quem **controla** esse abuso? (controlam)
- (E) É uma troca pessoal e intransferível, serve de documento e ainda obriga o cidadão a **escrever** alguma língua direito, com sujeito, verbo e predicado. (escreverem)

16. Uma pesquisa identificou que um mesmo produto era comercializado nas lojas A, B, C, D e E pelos seguintes preços:

Loja	Preço
A	R\$ 93,00
B	R\$ 91,50
C	R\$ 89,80
D	R\$ 90,00
E	R\$ 92,50

Sendo assim, pode-se afirmar corretamente que o preço médio desses produtos, considerando-se apenas essas lojas, é

- (A) R\$ 91,24.
 (B) R\$ 91,36.
 (C) R\$ 91,45.
 (D) R\$ 91,57.
 (E) R\$ 91,68.
17. O gráfico apresenta informações sobre os números de servidores fumantes e não fumantes na Câmara Municipal de certa cidade.



Com base nas informações do gráfico, e sabendo-se que todos os servidores estão contemplados nele, conclui-se corretamente que, na Câmara Municipal dessa cidade, a razão entre o número de fumantes e o número total de servidores, nessa ordem, corresponde a

- (A) 0,35.
 (B) 0,4.
 (C) 0,5.
 (D) 0,6.
 (E) 0,65.
18. Um empréstimo foi efetuado para ser pago, em uma só vez, dois meses após a sua realização, à taxa de juros simples de 4% ao mês. Se os juros desse empréstimo correspondem a R\$ 100,00, então é verdade que o capital emprestado foi de
- (A) R\$ 750,00.
 (B) R\$ 1.000,00.
 (C) R\$ 1.250,00.
 (D) R\$ 1.500,00.
 (E) R\$ 1.750,00.

19. A cada 2 horas e meia, um boletim informativo é publicado na internet por uma agência A. Outra agência de informações, B, publica seu boletim informativo na internet a cada 90 minutos, ao passo que uma agência C publica seu boletim informativo de 3 em 3 horas, também na internet. Sabendo-se que exatamente às 8 horas da manhã de um determinado dia essas 3 agências de informações publicaram seus boletins na internet ao mesmo tempo, e considerando que desse horário em diante, naquele dia, não houve atrasos nas publicações dessas agências, é correto afirmar que esses boletins foram novamente publicados ao mesmo tempo, nesse mesmo dia, às

- (A) 19 horas.
- (B) 20 horas.
- (C) 21 horas.
- (D) 22 horas.
- (E) 23 horas.

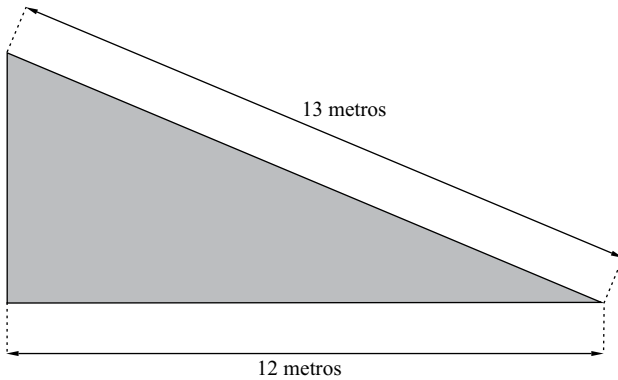
20. A respeito de cinco amigos, sabe-se que Larissa é mais velha que Dimas, que Márcio é mais novo que Anderson e mais velho que Rosana, e que Dimas é mais velho que Anderson. Sendo assim, pode-se afirmar corretamente que a segunda maior idade nesse grupo é a de

- (A) Anderson.
- (B) Rosana.
- (C) Márcio.
- (D) Larissa.
- (E) Dimas.

21. De um reservatório de água totalmente cheio, três quartos do volume total foram utilizados em um determinado dia, um quinto do que havia restado foi utilizado no dia seguinte, e os 320 litros de água restantes foram utilizados no terceiro dia. Se nesses três dias não houve desperdício de água e, tampouco, reabastecimento, então é verdade que o volume total desse reservatório, em metros cúbicos, equivalia a

- (A) 1,6.
- (B) 6,4.
- (C) 16.
- (D) 64.
- (E) 120.

22. A figura representa a vista superior de um jardim que será construído no andar térreo de um Shopping Center. Esse jardim tem a forma de um triângulo retângulo, com hipotenusa medindo 13 metros e um dos catetos medindo 12 metros.



Com base nas informações apresentadas, pode-se afirmar corretamente que a área triangular, em metros quadrados, correspondente ao jardim, será de

- (A) 60.
 (B) 50.
 (C) 40.
 (D) 30.
 (E) 20.
23. Carlos e Ana são dois vendedores de uma loja. Em um determinado dia, Carlos vendeu apenas 30 unidades de um produto A e 20 unidades de um produto B, totalizando R\$ 2.260,00 em vendas, e Ana vendeu apenas 25 unidades do produto A e 40 unidades do produto B, totalizando R\$ 3.050,00 em vendas. Um cliente que tenha levado apenas uma unidade de cada um desses produtos, nesse dia, pagou, no total,
- (A) R\$ 90,00.
 (B) R\$ 91,00.
 (C) R\$ 92,00.
 (D) R\$ 93,00.
 (E) R\$ 94,00.
24. Um comerciante vendeu um quinto da quantidade de determinado produto com lucro de 10% sobre o preço de custo e o restante dessa quantidade com lucro de 5% sobre o preço de custo. Dessa forma, pode-se afirmar corretamente que esse comerciante teve um lucro total, sobre o preço de custo desse produto, de
- (A) 6%.
 (B) 6,5%.
 (C) 7%.
 (D) 7,5%.
 (E) 8%.

25. Considere a seguinte tabela:

	Hoje	Próximo ano (previsão)
Número de funcionários	25	?
Carga horária diária (em horas)	8	6
Média de atendimentos diários (em unidades)	100	120

Com base nas informações apresentadas, e considerando-se as mesmas condições e ritmo de trabalho de hoje, o número mínimo de funcionários que deverão ser contratados no próximo ano para atender à previsão que consta da tabela é

- (A) 6.
 (B) 9.
 (C) 12.
 (D) 15.
 (E) 18.

ATUALIDADES

26. Um relatório elaborado por investigadores da Organização das Nações Unidas (ONU) e publicado nesta quarta-feira, 11.09.13, destaca que o governo cometeu “crimes contra a humanidade” e que a oposição cometeu “crimes de guerra”.

Ainda de acordo com o relatório da ONU, “as forças governamentais continuaram com os ataques de grande magnitude contra a população civil, cometendo assassinatos, torturas, violações e sequestros, considerados como crimes contra a humanidade”.

Já as “forças antigovernamentais cometeram crimes de guerra, assassinatos, execuções sumárias e sequestros”, segundo a instituição.

(<http://opiniaoenoticia.com.br/internacional/relatorio-da-onu-fala-em-crimes-contra-a-humanidade>. Adaptado)

O texto refere-se aos problemas que ocorreram ao longo de 2013

- (A) no Egito.
 (B) no Iêmen.
 (C) na Síria.
 (D) no Líbano.
 (E) na Líbia.

27. Chanceler do Irã vê “chance real” de acordo com os Estados Unidos

O ministro das Relações Exteriores do Irã disse ontem, 29.09.13, que há uma “chance real” de acordo com os EUA. Para isso, segundo o ministro, os EUA devem estar preparados para acabar com as sanções e reconhecer os direitos de Teerã.

(<http://www.estadao.com.br/noticias/impreso,chanceler-do-ira-ve-chance-real-de-acordo-com-os-estados-unidos,1080350,0.htm>. Adaptado)

O principal entrave às relações entre Estados Unidos e Irã é

- (A) a presença norte-americana nos países do Golfo.
- (B) o embargo econômico estadunidense ao Iraque.
- (C) a política iraniana contrária às multinacionais do petróleo.
- (D) a manutenção das tropas norte-americanas no Afeganistão.
- (E) o programa nuclear iraniano, considerado perigoso pelos Estados Unidos.

28. O presidente dos Estados Unidos, Barack Obama, encontrou-se com líderes republicanos e democratas no Congresso nesta quarta-feira, 02.10.13, para tentar romper um impasse que paralisou amplos setores do governo federal, mas não houve uma solução.

(<http://ultimosegundo.ig.com.br/mundo/2013-10-02/obama-e-congresso-seguem-em-impasse-sobre-paralisacao-do-governo.html>. Adaptado)

O problema enfrentado por Obama foi motivado pela dificuldade de os congressistas

- (A) entrarem em acordo sobre o orçamento do governo.
- (B) aprovarem a nova lei que legaliza os imigrantes latinos.
- (C) aceitarem a liberalização da venda de maconha para uso recreativo.
- (D) concordarem com a retomada das relações diplomáticas com Cuba.
- (E) permitirem o envio de tropas estadunidenses ao norte da África.

29. O primeiro leilão deste tipo gerou intensos protestos no Rio de Janeiro. Manifestantes contrários à concessão da exploração a empresas estrangeiras entraram em confronto nesta segunda, 21.10.2013, com as forças policiais que fazem a segurança do hotel onde será realizado o procedimento.

(<http://g1.globo.com/economia/noticia/2013/10/decisao-judicial-ainda-pode-anular-efeitos-do-leilao.html>. Adaptado)

A notícia refere-se ao leilão

- (A) dos aeroportos de Cumbica e Viracopos.
- (B) do petróleo encontrado no pré-sal.
- (C) das rodovias que escoam a soja até os portos.
- (D) das hidrovias localizadas na Amazônia.
- (E) dos portos de exportação de minérios.

30. No decorrer do segundo semestre de 2013, artistas de expressão nacional como Caetano Veloso, Gilberto Gil e Chico Buarque estiveram no centro de um debate muito comentado pela mídia. Trata-se de

- (A) internacionalização das principais gravadoras brasileiras.
- (B) redução dos direitos autorais das composições musicais.
- (C) liberação de *downloads* gratuitos de músicas disponíveis na internet.
- (D) polêmica sobre a publicação de biografias não autorizadas.
- (E) proibição de órgãos estatais contratarem artistas para propagandas.

31. Em outubro de 2013, o até então desconhecido Instituto Royal, em São Roque (SP), foi alvo de discussões acaloradas, invasões e várias reportagens da mídia porque uma de suas principais atividades era

- (A) produzir armas e equipamentos bélicos de grande potência.
- (B) realizar, clandestinamente, abortos em mulheres pobres.
- (C) manter confinadas pessoas com doenças psiquiátricas.
- (D) abrigar, em condições precárias, usuários de drogas.
- (E) desenvolver pesquisas científicas com o uso de animais.

32. Em tom de brincadeira, o ex-presidente disse que o fardão é “um pouco incômodo”. Ele disse sentir constrangimento em ser candidato à Academia na condição de ex-presidente. “Não queria que confundissem meu *status* de presidente com minha qualidade de intelectual. Agora já passou tanto tempo, todo mundo sabe que não tenho e não quero ter poder, que estou em outra.”(setembro de 2013)

(<http://www.estadao.com.br/noticias/nacional,imortal-fala-em-reinventar-democracia,1073349,0.htm>. Adaptado)

O texto apresentado mostra uma situação ocorrida na Academia Brasileira de Letras quando um ex-presidente tornou-se “imortal”. Trata-se de

- (A) José Sarney.
- (B) Almino Afonso.
- (C) Fernando Henrique Cardoso.
- (D) Fernando Collor de Mello.
- (E) Michel Temer.

33. Em entrevista por *e-mail*, Edward Snowden (norte-americano atualmente foragido na Rússia) disse que “nunca vai trocar informações por asilo”, mas afirma que, se o governo oferecer, vem morar no Brasil. (dezembro de 2013)

(<http://g1.globo.com/fantastico/noticia/2013/12/edward-snowden-fala-com-exclusividade-para-o-fantastico.html>. Adaptado)

Snowden ficou conhecido no Brasil por

- (A) denunciar o esquema de espionagem dos Estados Unidos ao governo brasileiro.
- (B) ser membro da ONG Greenpeace e exigir o fim das obras da usina Belo Monte.
- (C) defender a demarcação de terras indígenas, ação sabotada por latifundiários.
- (D) evidenciar as manobras de membros do Mercosul contra as exportações brasileiras.
- (E) delatar os principais fornecedores de armas para os morros do Rio de Janeiro.
34. O Tribunal Superior Eleitoral (TSE) rejeitou a criação do partido da ex-senadora Marina Silva. Por seis votos a um, a maioria dos ministros entendeu que o pretendente não conseguiu atingir o número suficiente de assinaturas. Com a decisão, o partido não poderá disputar as eleições de 2014.

(<http://epoca.globo.com/tempo/noticia/2013/10/tse-bnao-aprovab-novo-partido-de-marina-silva.html>. Adaptado)

O novo partido teria a designação de

- (A) Pros.
- (B) Solidariedade.
- (C) Partido Democrático.
- (D) Rede Sustentabilidade.
- (E) Aliança Sustentável.
35. O governo já havia sinalizado que a recomposição [do tributo] seria apenas parcial em janeiro. O temor é que uma elevação nos preços, com as novas alíquotas, poderia acentuar a tendência de desaceleração nas vendas.

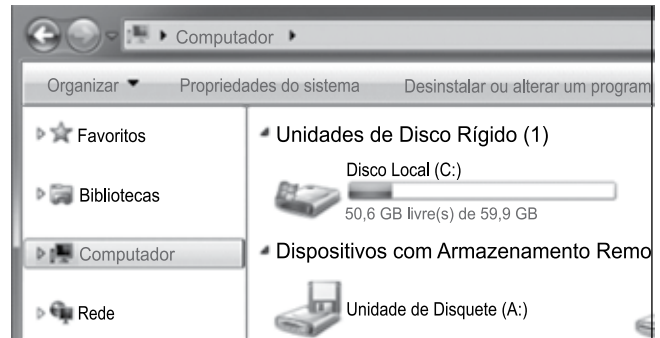
Neste ano de 2013, o setor caminha para fechar o ano com a primeira queda nas vendas desde 2003. O volume acumulado até novembro é 0,8% inferior ao registrado em 2012.

(<http://www1.folha.uol.com.br/mercado/2013/12/1389773-aumento-impactara-vendas.shtml>)

A notícia refere-se ao aumento do

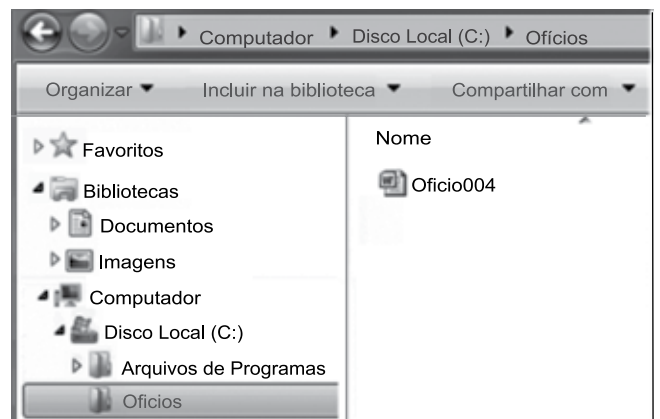
- (A) IPI dos eletroeletrônicos.
- (B) IPI dos automóveis.
- (C) ICMS de eletrodomésticos da “linha branca”.
- (D) ICMS de móveis e utensílios.
- (E) ISS de veículos automotores.

36. A figura a seguir, extraída do MS-Windows 7, em sua configuração padrão, apresenta parte do conteúdo do item Computador, que pertence à árvore de diretórios do Windows Explorer.



De acordo com as informações apresentadas, o disco rígido local do computador tem

- (A) 59,9 GB de espaço utilizado.
- (B) 59,9 GB de espaço livre.
- (C) 9,3 GB de espaço utilizado.
- (D) 9,3 GB de espaço livre.
- (E) 50,6 GB de espaço utilizado.
37. A figura a seguir apresenta parte do Windows Explorer, do Windows 7, em sua configuração padrão.



Assinale a alternativa que descreve o que acontece quando um usuário posiciona o *mouse* sobre o item “Enviar para” e depois clica na opção Documentos, do menu de contexto do arquivo “Ofício004”.

Considere que todas as permissões de leitura e de escrita vigentes são suficientes para a ação.

- (A) O arquivo na pasta de origem é apagado e uma cópia é enviada para a pasta Documentos.
- (B) Uma cópia do arquivo é enviada para a pasta Documentos, mantendo o arquivo na pasta de origem.
- (C) Um atalho do arquivo é enviado para a pasta Documentos.
- (D) Um atalho do arquivo é criado na pasta de origem.
- (E) Uma cópia do arquivo é criada na pasta de origem.

38. Observe as figuras a seguir, extraídas do MS-Excel 2010, em sua configuração padrão. Elas apresentam a célula A2, em dois momentos: **antes** e **depois** da aplicação de um recurso de formatação, que torna todo o seu conteúdo visível, exibindo-o em várias linhas e ajustando-o à largura da coluna.

	A	B
1	Processos	Iniciado
2	Projeto de Lei An	Sim
3		
4		

antes

	A	B
1	Processos	Iniciado
2	Projeto de Lei Ambiental 005	Sim
3		
4		

depois

Assinale a alternativa que contém o nome do recurso utili-



zado na célula A2, que é representado pelo botão e pertence ao grupo “Alinhamento”, da guia “Início”.

- (A) Alinhar no Meio.
 (B) Centralizar.
 (C) Aumentar Recuo.
 (D) Orientação.
 (E) Quebrar Texto Automaticamente.
39. No MS-Excel 2010, em sua configuração padrão, para colorir o plano de fundo das células selecionadas, o usuário pode utilizar o recurso:
- (A) Cor de Preenchimento.
 (B) Cor da Fonte.
 (C) Fonte.
 (D) Cor da Linha.
 (E) Estilo da Linha.
40. No MS-Word 2010, em sua configuração padrão, o recurso _____ permite alternar as páginas entre os *layouts* Retrato e Paisagem. Esse recurso é representado

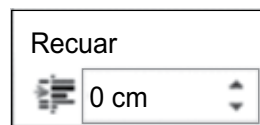


pelo ícone, e pode ser acessado no grupo “Configurar Página”, da guia “Layout da Página”.

Assinale a alternativa que preenche adequadamente a lacuna do enunciado.

- (A) Margens
 (B) Orientação
 (C) Tamanho
 (D) Colunas
 (E) Quebras

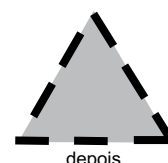
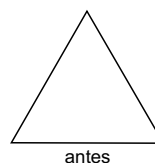
41. Observe a figura a seguir, parte do grupo Parágrafo, da guia “Layout da Página”, do MS-Word 2010, em sua configuração padrão.



Assinale a alternativa que indica, corretamente, qual efeito de formatação está associado ao recurso apresentado na figura.

- (A) Mover o lado direito do parágrafo em um determinado valor.
 (B) Alinhar o texto à direita.
 (C) Mover o lado esquerdo do parágrafo em um determinado valor.
 (D) Alinhar o texto à esquerda.
 (E) Alterar espaçamento entre as linhas do texto.

Considere a figura a seguir, extraída do MS-Power Point 2010, em sua configuração padrão, para a resolução das questões de números 42 e 43. Ela apresenta uma forma, do tipo triângulo, em dois momentos: **antes** e **depois** da aplicação de recursos encontrados no grupo “Estilos de Forma”. Esse grupo pertence à guia “Formatar”, que aparece dentro da guia “Ferramentas de Desenho” quando uma forma é selecionada.



42. Assinale a alternativa que contém o nome do recurso utilizado, entre os dois momentos da figura, para colorir o interior do triângulo.
- (A) Editar Forma.
 (B) Efeitos da Forma.
 (C) Opções de Brilho.
 (D) Opções de 3D.
 (E) Preenchimento da Forma.
43. Assinale a alternativa que contém as opções do recurso “Contorno da Forma”, que foram modificadas, entre os dois momentos da figura.
- (A) Reflexo e Espessura.
 (B) Reflexo e Traços.
 (C) Sombra e Traços.
 (D) Espessura e Traços.
 (E) Reflexo e Sombra.

44. No Internet Explorer 8, em sua configuração padrão, para testar se o item de uma página é ou não _____, o usuário pode posicionar o *mouse* sobre o item, sem clicar.

A resposta será positiva, se o ponteiro do *mouse* mudar para uma mão com um dedo apontado.

Assinale a alternativa que preenche adequadamente a lacuna do enunciado.

- (A) uma página favorita
- (B) um texto sem link
- (C) uma imagem sem link
- (D) um link
- (E) um item do histórico

45. No MS-Outlook 2010, em sua configuração padrão, o termo _____ é utilizado para designar o arquivo enviado junto com a mensagem.

Assinale a alternativa que preenche adequadamente a lacuna do texto.

- (A) Anexo
- (B) Arroba
- (C) Ccc
- (D) Cco
- (E) Protocolo

LEGISLAÇÃO

46. Ao Presidente da Câmara dos Vereadores de Sorocaba, nos termos do Regimento Interno (Resolução n.º 322/2007), caberá, dentre outras atribuições,

- (A) anotar o tempo e o número de vezes que o orador ocupar a Tribuna.
- (B) fiscalizar a redação das atas, proceder a sua leitura e lavrar as das sessões secretas.
- (C) ler, nas oportunidades determinadas, as proposições sujeitas à deliberação da Câmara.
- (D) promulgar e publicar as Resoluções e Decretos Legislativos.
- (E) editar decretos, com eficácia imediata.

47. Sobre a ordem interna e o poder de polícia exercido no âmbito da Câmara dos Vereadores de Sorocaba, é correto afirmar que o Regimento Interno (Resolução n.º 322/2007) prevê que

- (A) os cidadãos poderão externar sinal de aplauso ou reprovação ao que se passar em Plenário, podendo conversar em Plenário ou nas demais dependências.
- (B) para assegurar a ordem dos trabalhos, o Presidente não poderá suspender ou encerrar a sessão, nem fazer evacuar o recinto destinado ao público ou retirar determinada pessoa do recinto da Câmara.
- (C) o exercício do poder de polícia no prédio da Câmara e de suas dependências compete privativamente à Mesa, sob a direção do Presidente, sem qualquer intervenção de outra autoridade.
- (D) se algum Vereador cometer algum excesso que deva ser reprimido, a Mesa conhecerá do fato e o relatará, em reunião pública, devendo a Câmara deliberar a respeito, impondo, se for o caso, pena de prisão.
- (E) o policiamento das dependências da Câmara será realizado por funcionários especialmente designados, dentre servidores requisitados, exclusivamente, à Guarda Municipal de Sorocaba.

48. Considerando o disposto no Regimento Interno (Resolução n.º 322/2007), a proposta destinada a regular assuntos de economia interna da Câmara, como a destituição de componente da Mesa ou da organização dos serviços administrativos, deverá ser objeto de projeto de

- (A) lei ordinária.
- (B) decreto legislativo.
- (C) emenda à lei orgânica.
- (D) lei complementar.
- (E) resolução.

49. No que tange à Lei Orgânica do Município de Sorocaba, é correto afirmar que fica garantido a todo e qualquer servidor ou empregado público municipal o recebimento de

- (A) licença-prêmio.
- (B) adicional de insalubridade.
- (C) gratificação por local de exercício.
- (D) gratificação extraordinária por superávit fiscal.
- (E) adicional de periculosidade.

50. A Lei Orgânica do Município de Sorocaba poderá ser emendada mediante proposta

- (A) do Governador do Estado.
- (B) de iniciativa popular.
- (C) de 2/3 (dois terços) dos Vereadores.
- (D) da Assembleia Legislativa do Estado.
- (E) de qualquer conselho municipal.

