



CÂMARA MUNICIPAL DE JABOTICABAL

ESTADO DE SÃO PAULO

CONCURSO PÚBLICO

002. PROVA OBJETIVA

ASSISTENTE ADMINISTRATIVO NA ÁREA DE CONTROLE DE PROCESSOS ASSISTENTE DE ADMINISTRAÇÃO

- ◆ Você recebeu sua folha de respostas e este caderno contendo 50 questões objetivas.
- ◆ Confira seus dados impressos na capa deste caderno e na folha de respostas.
- ◆ Quando for permitido abrir o caderno, verifique se está completo ou se apresenta imperfeições. Caso haja algum problema, informe ao fiscal da sala.
- ◆ Leia cuidadosamente todas as questões e escolha a resposta que você considera correta.
- ◆ Marque, na folha de respostas, com caneta de tinta azul ou preta, a letra correspondente à alternativa que você escolheu.
- ◆ A duração da prova é de 3 horas, já incluído o tempo para o preenchimento da folha de respostas.
- ◆ Só será permitida a saída definitiva da sala e do prédio após transcorridos 75% do tempo de duração da prova.
- ◆ Ao sair, você entregará ao fiscal a folha de respostas e este caderno, podendo levar apenas o rascunho de gabarito, localizado em sua carteira, para futura conferência.
- ◆ Até que você saia do prédio, todas as proibições e orientações continuam válidas.

AGUARDE A ORDEM DO FISCAL PARA ABRIR ESTE CADERNO DE QUESTÕES.

Nome do candidato _____

Prédio _____

Sala _____

Carteira _____

Inscrição _____

CONHECIMENTOS GERAIS

LÍNGUA PORTUGUESA

Leia o texto para responder às questões de números **01** a **11**.

Esqueça os livros de autoajuda. A grande sensação do mercado editorial no momento é *O jardim secreto: livro de colorir e caça ao tesouro antiestresse*, da britânica Johanna Basford. O sucesso por aqui acompanha os números registrados em outros países: na Amazon, *O jardim secreto* é o mais vendido na categoria livros.

Diferentemente dos livros infantis, os de adultos têm padrões mais complexos, com temas que variam de jardins a mandalas. Para explicar o sucesso que eles fazem, há uma tese que, por enquanto, parece ser a mais aceita: a de que eles funcionam como uma espécie de “detox”, uma válvula de escape para rotinas estressantes. Ao se concentrarem em colorir direito e em escolher as cores, as pessoas, de fato, parecem esquecer os problemas do dia.

Além disso, o sentimento de orgulho ou satisfação por completar a pintura e observar como ficou bonita é também outra explicação possível, já que os livros ativam o circuito de recompensa do cérebro, o sistema responsável pela sensação de prazer. Se estimulado, ele libera dopamina, um neurotransmissor que provoca o sentimento de bem-estar. Quando se trabalha com cores, o resultado é ainda melhor, porque elas podem provocar diversas sensações, como calor, frio e tranquilidade.

Embora causem uma sensação de prazer e bem-estar, os livros não podem ser encarados como terapia, **conforme** explicam os arteterapeutas Ana Carmen Nogueira e Alexandre Almeida. “Na arteterapia, há um assunto específico a ser trabalhado e usamos diferentes linguagens, como pintura ou desenho, para que a pessoa possa se expressar. Os livros de colorir não são terapia, mas são relaxantes porque ajudam a proporcionar um momento de pura concentração”, afirmam. Ou seja, os livros podem até funcionar como um analgésico para situações de estresse, mas não têm nenhum poder milagroso para curar problemas como depressão e ansiedade.

(Galileu, maio de 2015. Adaptado)

01. Comparados aos livros infantis, os livros de adultos

- (A) levam o leitor a uma interação com a realidade circundante.
- (B) desenvolvem a criticidade por causa da riqueza de temas.
- (C) apresentam diversidade temática e são mais bem elaborados.
- (D) retomam os mesmos temas abordados nos livros para crianças.
- (E) atingem um público culto, daí o interesse das editoras.

02. A tese presente no texto que explica o sucesso dos livros para colorir pode ser resumida em:

- (A) Quanto mais se pintar, mais se conhecerão os matizes das cores.
- (B) A dedicação aos livros para colorir pode amenizar o estresse cotidiano.
- (C) Os livros para colorir funcionam como um detox: pintar para emagrecer.
- (D) Os livros para colorir não chegam a atenuar os problemas do dia a dia.
- (E) A concentração na escolha das cores traz desconforto às pessoas.

03. De acordo com o texto, completar uma pintura de um livro para colorir é capaz de

- (A) curar algumas doenças crônicas.
- (B) confundir as emoções do pintor.
- (C) comprometer os circuitos do cérebro.
- (D) provocar o prazer da realização.
- (E) gerar um rebaixamento na autoestima.

04. Assinale a alternativa que apresenta a ordem dos fatos, de acordo com o terceiro parágrafo do texto.

- (A) Pintura completa, escolha das cores, sensação de bem-estar.
- (B) Escolha das cores, momento de concentração, sensação de relaxamento.
- (C) Sentimento de orgulho, aumento de satisfação, pintura completa.
- (D) Pintura completa, liberação de dopamina, sentimento de bem-estar.
- (E) Ativação do cérebro, escolha das cores, pintura completa.

05. Segundo os arteterapeutas, os livros de colorir

- (A) despertam sensações físicas, o que aumenta o volume de vendas.
- (B) funcionam como analgésicos e chegam a curar doenças mentais.
- (C) trabalham com linguagens diversas e melhoram a expressão do autor.
- (D) despertam os estímulos visuais atrapalhando o funcionamento cerebral.
- (E) podem ser antiestressantes, mas não têm poder terapêutico.

06. Assinale a alternativa correta quanto à colocação do pronome “se” e à concordância dos verbos.
- (A) Quando se concentram em colorir direito e em escolher as cores, as pessoas esquecem os problemas do dia.
 - (B) Quando concentram-se em colorir direito e em escolher as cores, as pessoas esquece os problemas do dia.
 - (C) Quando se concentra em colorir direito e em escolher as cores, as pessoas esquecem os problemas do dia.
 - (D) Quando concentram-se em colorir direito e em escolher as cores, as pessoas esquecem os problemas do dia.
 - (E) Quando se concentra em colorir direito e em escolher as cores, as pessoas esquece os problemas do dia.
07. Em – ... há uma tese que, por enquanto, parece ser a mais **aceita**: – a palavra em destaque pode ser corretamente substituída, sem alteração de sentido, por
- (A) descartável.
 - (B) secundária.
 - (C) plausível.
 - (D) preterida.
 - (E) impraticável.
08. Alterando-se a frase – Os livros funcionam como uma espécie de “detox”, uma válvula de escape para rotinas estressantes. –, obtém-se versão correta, quanto ao uso ou não do acento indicativo da crase, em:
- (A) Os livros assemelham-se à uma espécie de “detox”, uma fuga as rotinas estressantes.
 - (B) Os livros assemelham-se a uma espécie de “detox”, uma fuga às rotinas estressantes.
 - (C) Os livros assemelham-se à uma espécie de “detox”, uma fuga às rotinas estressantes.
 - (D) Os livros assemelham-se à uma espécie de “detox”, uma fuga nas rotinas estressantes.
 - (E) Os livros assemelham-se a uma espécie de “detox”, uma fuga à rotinas estressantes.
09. As conjunções em destaque no último parágrafo do texto são, correta e respectivamente substituídas, sem alteração de sentido, por
- (A) Se bem que ... assim
 - (B) Por mais que ... já que
 - (C) Ainda que ... segundo
 - (D) Contanto que ... pois
 - (E) Caso ... portanto
10. Os termos em destaque estão corretos, quanto ao emprego do modo verbal e da regência nominal, respectivamente, em:
- (A) Ainda que **atuam** como analgésicos em situações de estresse, os livros não estão **aptos a** cura de depressão e ansiedade.
 - (B) Ainda que **atuem** como analgésicos em situações de estresse, os livros não estão **aptos na** cura de depressão e ansiedade.
 - (C) Ainda que **atuem** como analgésicos em situações de estresse, os livros não estão **aptos da** cura de depressão e ansiedade.
 - (D) Ainda que **atuam** como analgésicos em situações de estresse, os livros não estão **aptos em** cura de depressão e ansiedade.
 - (E) Ainda que **atuem** como analgésicos em situações de estresse, os livros não estão **aptos à** cura de depressão e ansiedade.
11. Assinale a alternativa correta quanto ao uso da vírgula.
- (A) Ana Carmen e Alexandre Almeida arteterapeutas, afirmam, que os livros de colorir são analgésicos mas não curam, depressão.
 - (B) Ana Carmen e Alexandre Almeida arteterapeutas afirmam que os livros, de colorir, são analgésicos, mas não curam, depressão.
 - (C) Ana Carmen e Alexandre Almeida, arteterapeutas, afirmam, que os livros de colorir são, analgésicos, mas não curam depressão.
 - (D) Ana Carmen e Alexandre Almeida, arteterapeutas, afirmam que os livros de colorir são analgésicos, mas não curam depressão.
 - (E) Ana Carmen e Alexandre Almeida, arteterapeutas afirmam que os livros, de colorir, são analgésicos, mas não curam depressão.

Leia o texto que acompanha a figura para responder às questões de números 12 a 14.



Mandala: objeto ritualístico usado como ponto focal para a meditação, é um diagrama composto de formas geométricas concêntricas, encontrado em templos budistas, em catedrais católicas e nas pinturas rupestres de cerca de mil anos antes de Cristo. Os mandalas estão representados nos rituais de cura dos indígenas, no símbolo chinês Yin-Yang e fazem parte da cultura humana há milênios. De acordo com a teoria de Carl Gustav Jung, o mandala representa a luta pela unidade total do eu.

(Dicionário Houaiss de língua portuguesa. Adaptado)

12. De acordo com o texto, pode-se afirmar que os mandalas são

- (A) componentes das celebrações religiosas em todos os tempos.
- (B) desaconselhados nas consagrações da religião católica.
- (C) elementos decorativos, desprovidos de simbologia.
- (D) objetos ultrapassados, desvalorizados na atualidade.
- (E) formas usadas em rituais, proibidas na modernidade.

13. Assinale a alternativa correta, de acordo com a modalidade-padrão da língua.

- (A) Faz milênios que os mandalas compõe a cultura humana.
- (B) Fazem milênios que os mandalas compunha a cultura humana.
- (C) Fazem milênios que os mandalas compõe a cultura humana.
- (D) Fazem milênios que os mandalas compõem a cultura humana.
- (E) Faz milênios que os mandalas compõem a cultura humana.

14. Em – De acordo com a teoria de Carl Gustav Jung, o mandala representa a luta pela unidade total do eu. – a palavra “luta” está empregada em sentido figurado, o que se observa também em:

- (A) A mulher é uma vencedora: empreendeu árdua luta para vencer a timidez.
- (B) No reino animal, as fêmeas empreendem luta feroz contra o predador na defesa dos filhotes.
- (C) A luta com sangue de uma nação contra outra sempre significará uma perda para a humanidade.
- (D) Na luta entre facções rivais, é comum o uso de armas potentes e devastadoras.
- (E) Em algumas regiões do mundo, o genocídio, luta armada entre irmãos, é uma barbárie.

15. Leia a tirinha.



(www.google.com.br)

A partir da leitura da tirinha, conclui-se que as pessoas

- (A) ficam inteligentes, quando leem os livros de autoajuda.
- (B) devem empreender esforço pessoal para mudar a vida.
- (C) enriquecem rapidamente depois de ler livros de autoajuda.
- (D) pensam mais nos outros e se esquecem delas mesmas.
- (E) leem uma única página e se desinteressam pelas outras.

16.

04/03/2015 17h38 - Atualizado em 04/03/2015 21h29

Mistura de etanol na gasolina sobe para 27% a partir de 16 de março

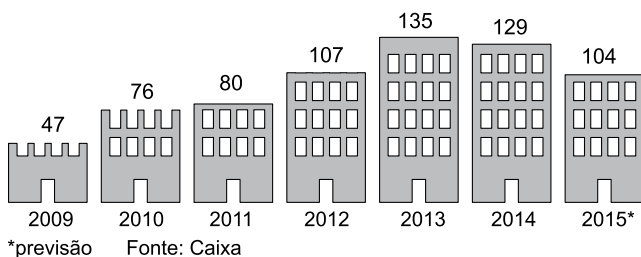
Informação é do ministro de Minas e Energia, Eduardo Braga. Hoje, percentual de etanol na gasolina está em 25%.

(<http://g1.globo.com/economia/noticia/2015/03/mistura-de-etanol-na-gasolina-sobe-para-27-partir-de-16-de-marco.html>)

Segundo a notícia, do início do mês de março de 2015, o teor de etanol na gasolina passou a ser de 27% no lugar dos 25% usados até então. Isso significa dizer que cada litro de gasolina passou a ser composto por

- (A) 2 mililitros de etanol a mais.
- (B) 2 mililitros de etanol a menos.
- (C) 20 mililitros de etanol a mais.
- (D) 20 mililitros de etanol a menos.
- (E) 200 mililitros de etanol a mais.

17. No final do mês de maio desse ano, a Caixa Econômica Federal estimou que, em 2015, haverá uma redução de R\$ 25 bilhões de reais no valor destinado a financiar casas próprias em relação ao ano anterior. O histórico dos empréstimos nos últimos anos está ilustrado no quadro a seguir.



(<http://portal.oficinadeclipping.com.br/LerPDF.aspx?id=5K+r2131Mk1WChVIRG4OIXIJLcON5T/MEBBI1NNB719AtA7NGrh5XA==>. Adaptado)

Em relação ao crédito destinado ao financiamento da casa própria em 2013, último ano de aumento, o valor previsto para 2015 implica em uma redução de, aproximadamente,

- (A) 23%
- (B) 26%
- (C) 29%
- (D) 32%
- (E) 35%

18. Um funcionário que recebe um salário bruto de R\$ 3.000,00 tem descontado sobre esse valor 11% para pagamento da previdência (INSS) e 15% para pagamento do imposto de renda. Sendo assim, e desconsiderando outros eventuais descontos, esse funcionário irá receber

- (A) R\$ 2.220,00.
- (B) R\$ 2.410,00.
- (C) R\$ 2.550,00.
- (D) R\$ 2.670,00.
- (E) R\$ 2.974,00.







19. No início de janeiro de 2015, Antônio começou a trabalhar no setor de informática de uma empresa. Para acessar o computador nesse setor, é preciso digitar uma senha, que deve ser alterada no primeiro dia de cada mês. Para criar exatamente as doze senhas que serão necessárias ao longo desse ano, Antônio usou o seguinte raciocínio:

- I. Vou usar meu mês de aniversário, JULHO, como palavra-chave;
- II. As senhas serão anagramas dessa palavra, ou seja, vou utilizar as letras que compõem a palavra JULHO em diferentes ordens;
- III. Não vou usar duas consoantes lado a lado nas senhas.

Para ordenar as possíveis senhas, colocou-as na ordem do dicionário. Com isso, sua primeira senha, usada no mês de janeiro, foi HOJUL, sua segunda senha, usada no mês de fevereiro, foi HOLUJ, e assim sucessivamente. A senha utilizada no mês de seu aniversário foi:

- (A) LOJUH
- (B) LUJOH
- (C) JULHO
- (D) JULOH
- (E) JUHOL

20. Nas olimpíadas de 2012, o quadro geral de medalhas foi o seguinte:

País	Ouro	Prata	Bronze	Total
1º  Estados Unidos	46	29	29	104
2º  China	38	27	23	88
3º  Reino Unido	29	17	19	65
4º  Rússia	24	26	32	82
5º  Coreia do Sul	13	8	7	28
22º  Brasil	3	5	9	17

(Fonte: <http://olimpiadas.uol.com.br/quadro-de-medalhas/>)

Considerando apenas as medalhas de ouro, o número médio de medalhas obtidas pelos cinco primeiros países supera o número conquistado pelo Brasil em

- (A) 56 medalhas.
- (B) 43 medalhas.
- (C) 30 medalhas.
- (D) 27 medalhas.
- (E) 17 medalhas.

21. Uma empresa pretende dar um novo benefício aos seus funcionários e, para tanto, fez um levantamento para descobrir a preferência dos funcionários por faixa etária. Os dados do levantamento foram:

Idade/Benefício	Vale alimentação	Plano de Saúde	Total
Menos de 30 anos	513	R	788
De 30 a 50 anos	S	206	394
Mais de 50 anos	24	Z	Y
Total	T	625	X

Sabendo que cada funcionário escolheu apenas uma dentre as duas opções de benefício, pode-se afirmar que, em relação aos funcionários com mais de 50 anos, a fração que representa aqueles que votaram pelo plano de saúde é

- (A) $\frac{2}{3}$
- (B) $\frac{3}{4}$
- (C) $\frac{4}{5}$
- (D) $\frac{5}{6}$
- (E) $\frac{6}{7}$

22. No início de junho de 2015, o preço do ouro estava em torno de R\$ 3.720,00 a onça troy (oz). A onça troy é uma unidade de medida de massa relativa a metais preciosos e equivale a aproximadamente 31 g. Sendo assim, é correto afirmar que o preço de 1 kg de ouro, no início de junho de 2015, estava em torno de

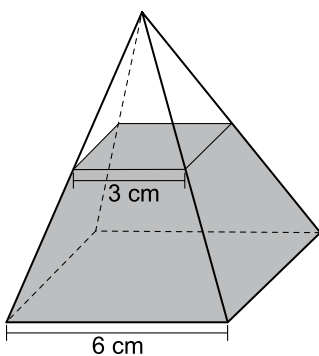
- (A) R\$ 115.000,00.
- (B) R\$ 120.000,00.
- (C) R\$ 125.000,00.
- (D) R\$ 130.000,00.
- (E) R\$ 135.000,00.

23. O salário de um vendedor no mês de agosto foi de R\$ 4.000,00. Sabendo que, desse valor, R\$ 800,00 refere-se ao seu salário fixo mensal, R\$ 400,00 é de auxílio alimentação, e que o restante corresponde à sua comissão, que é de 3% do valor total das vendas do mês anterior, é correto concluir que o valor total das vendas do mês anterior ficou entre

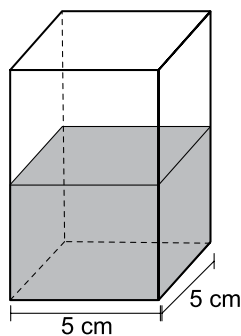
- (A) R\$ 75.000,00 e R\$ 80.000,00.
- (B) R\$ 80.000,00 e R\$ 85.000,00.
- (C) R\$ 85.000,00 e R\$ 90.000,00.
- (D) R\$ 90.000,00 e R\$ 95.000,00.
- (E) R\$ 95.000,00 e R\$ 100.000,00.

24. Os dois sólidos a seguir, ambos com 6 cm de altura, contêm água até a metade de suas alturas.

Pirâmide reta
de base quadrada



Prisma reto
de base quadrada



Assim, pode-se afirmar que a razão entre o volume de água e o volume total do sólido será de

- (A) 3 : 4 na pirâmide e 1 : 4 no paralelepípedo.
- (B) 3 : 4 na pirâmide e 1 : 2 no paralelepípedo.
- (C) 7 : 8 na pirâmide e 1 : 4 no paralelepípedo.
- (D) 7 : 8 na pirâmide e 1 : 2 no paralelepípedo.
- (E) 1 : 2 na pirâmide e 1 : 2 no paralelepípedo.

25. A microempresa BONS NEGÓCIOS trabalha atualmente em um escritório retangular de 5 metros por 6 metros. Devido ao aumento na demanda de trabalho, tornou-se necessária a aquisição de um novo espaço com, no mínimo, o triplo da área do escritório atual. Ao analisar a página de classificados do jornal da cidade, o dono da empresa encontrou os seguintes anúncios de salas retangulares:

Anúncio 1	Anúncio 2	Anúncio 3	Anúncio 4	Anúncio 5
Sala Comercial medindo 10 m x 12 m, localizada na Rua das Hortências, nº 100.	Sala Comercial medindo 8 m x 12 m, localizada na Rua das Violetas, nº 95.	Sala Comercial medindo 8 m x 10 m, localizada na Rua das Rosas, nº 350.	Sala Comercial medindo 8 m x 8 m, localizada na Rua do Sol, nº 1510.	Sala Comercial medindo 6 m x 15 m, localizada na Rua do Lago, nº 50.




Dos cinco anúncios, atendem às necessidades da empresa apenas

- (A) 1, 2 e 3.
- (B) 1, 2 e 5.
- (C) 2, 3 e 4.
- (D) 2, 4 e 5.
- (E) 3, 4 e 5.

26. Em um concurso, o número de mulheres inscritas foi muito superior ao de homens. Considerando o total de mulheres e homens inscritos, se mais 15 mulheres se inscrevessem no concurso, o número de mulheres seria o triplo do número de homens. Em contrapartida, seriam necessários outros 656 homens inscritos para que o total de homens inscritos fosse igual a metade do total de mulheres inscritas. Sendo assim, é correto concluir que o número de mulheres que se inscreveram no concurso foi de

- (A) 3711.
- (B) 3843.
- (C) 3966.
- (D) 4122.
- (E) 4230.

27. Jonas trabalha em um escritório e precisa fazer uma nova compra de materiais. Para tanto, fez um levantamento das compras realizadas na semana, conforme detalhado abaixo.

Descrição dos produtos	Valor da compra
 2 resmas de papel sulfite + 2 caixas de correspondência	R\$ 138,00
 3 resmas de papel sulfite	R\$ 42,00
 2 resmas de papel sulfite + 1 furador de papel + 2 caixas de correspondência	R\$ 150,00

De acordo com essas informações, pode-se afirmar que, se Jonas comprar 1 resma de papel sulfite, 1 furador de papel e 1 caixa de correspondência, irá gastar

- (A) R\$ 81,00.
 (B) R\$ 83,00.
 (C) R\$ 85,00.
 (D) R\$ 87,00.
 (E) R\$ 89,00.
28. Assim que recebe seu salário, Eliana faz a seguinte divisão do dinheiro:

- $\frac{1}{5}$ do valor é aplicado na poupança;
- $\frac{1}{10}$ do valor é utilizado para pagar uma viagem realizada;
- O restante é destinado às despesas da família ao longo do mês.

A fração do salário que representa a quantia utilizada nas despesas familiares ao longo do mês é

- (A) $\frac{13}{15}$
 (B) $\frac{10}{15}$
 (C) $\frac{7}{10}$
 (D) $\frac{3}{10}$
 (E) $\frac{2}{5}$

29. Maurício viaja a Brasília a cada 6 dias, sempre no mesmo voo. Ele notou que um certo passageiro sempre o acompanha nessa viagem um voo sim e um voo não. Curioso, ele resolveu conversar com esse passageiro sobre essa regularidade e acabou descobrindo que isso se devia ao fato de que ele viajava a Brasília naquele voo a cada

- (A) 3 dias.
- (B) 4 dias.
- (C) 5 dias.
- (D) 7 dias.
- (E) 8 dias.

30. O gráfico a seguir mostra uma comparação da arrecadação do Imposto Predial e Territorial Urbano (IPTU), entre a prefeitura de Jaboticabal e a arrecadação média de um grupo de dez municípios do estado de São Paulo de características semelhantes. O gráfico também destaca o percentual de aumento na arrecadação média desse grupo de ano para ano.



	Jaboticabal	Média do grupo	
2010	R\$ 10.500	R\$ 13.000	
2011	R\$ 11.700	R\$ 14.300	[+10%]
2012	R\$ 12.400	R\$ 15.730	[+10%]
2013	R\$ 14.200	R\$ 17.303	[+10%]

* valores em milhares de reais

(www.meumunicipio.org.br. Adaptado)

A partir dos valores apresentados, é correto afirmar que o percentual de aumento anual na arrecadação de IPTU da prefeitura de Jaboticabal foi superior a média do grupo dos dez municípios

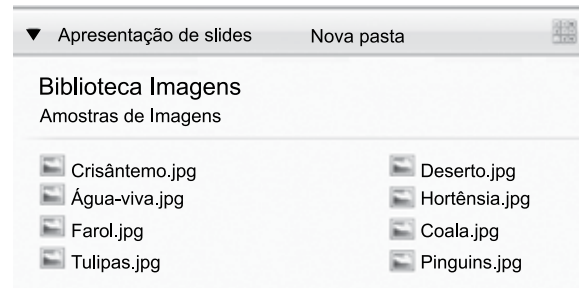
- (A) apenas em 2011.
- (B) apenas em 2011 e 2012.
- (C) apenas em 2011 e 2013.
- (D) apenas em 2012 e 2013.
- (E) em 2011, 2012 e 2013.

LEGISLAÇÃO

- 31.** Nos termos da Lei Orgânica do Município de Jaboticabal, cabe à Câmara Municipal, com a sanção do Prefeito, legislar sobre as matérias de competência do Município, dentre outras, no que se refere
- (A) à elaboração do Regimento Interno.
 - (B) à mudança temporária de sede da Câmara Municipal.
 - (C) à concessão de direito real de uso de bens municipais.
 - (D) ao processo e ao julgamento dos Vereadores, na forma da Lei Orgânica.
 - (E) à autorização de referendo e à convocação de plebiscito.
- 32.** Em caso de impedimento do Prefeito e do Vice-Prefeito e enquanto o Presidente da Câmara Municipal, que é o substituto legal, não assumir o cargo, responderão pelo expediente da Prefeitura, sucessivamente, o
- (A) Vereador mais antigo e o Secretário Municipal de Finanças.
 - (B) Secretário dos Negócios Jurídicos, o Secretário de Governo Municipal ou um dos Diretores de Departamento com funções equivalentes.
 - (C) Vereador com o maior número de votos, o Secretário de Governo Municipal ou um dos Diretores de Departamento com funções equivalentes.
 - (D) Secretário Municipal de Finanças, o Secretário de Governo ou o Vereador de maior idade.
 - (E) Governador ou o Presidente da Assembleia Legislativa do Estado a qual pertence o Município.
- 33.** São considerados servidores públicos municipais, para todos os efeitos da Lei Orgânica do Município de Jaboticabal, os que exercerem
- (A) cargos essencialmente na Administração Direta.
 - (B) funções prioritárias na Administração Direta.
 - (C) cargos e empregos de chefia nas autarquias e fundações públicas municipais.
 - (D) cargos, empregos e funções da Administração Direta, autarquia e fundações públicas municipais.
 - (E) funções comissionadas da Administração Indireta e da Câmara Municipal.
- 34.** Conforme o Regimento Interno da Câmara Municipal de Jaboticabal, a proposição que tem por fim regular toda matéria de competência deliberativa da Câmara, sujeita à sanção do Prefeito, é denominada de
- (A) emenda à Lei Orgânica.
 - (B) Medida Provisória.
 - (C) Projeto de Resolução.
 - (D) Projeto de Decreto Legislativo.
 - (E) Projeto de Lei.
- 35.** Se o Vereador cometer, no recinto da Câmara, excesso que deva ser reprimido, o Presidente conhecerá do fato e, conforme a sua gravidade, tomará a seguinte providência:
- (A) advertência em Plenário.
 - (B) suspensão por 30 (trinta) dias.
 - (C) suspensão da palavra por duas horas.
 - (D) multa de 30% (trinta por cento) sobre os rendimentos.
 - (E) cassação imediata do mandato, por falta de decoro parlamentar.
- 36.** Prescreve o Regimento Interno da Câmara Municipal de Jaboticabal que os membros das Comissões Permanentes serão nomeados pelo
- (A) Prefeito.
 - (B) Presidente da Câmara, por indicação dos Líderes da Bancada.
 - (C) Líder da Bancada, por indicação do Presidente da Câmara.
 - (D) Presidente da Câmara, por indicação do Prefeito.
 - (E) Representante do Partido com o maior número de Vereadores eleitos.
- 37.** Pelas regras do Estatuto dos Servidores Públicos do Município de Jaboticabal, o servidor estável poderá perder o cargo,
- (A) por deliberação da autoridade superior competente.
 - (B) quando se ausentar do serviço por até dez dias, injustificadamente.
 - (C) por incompatibilidade com as tarefas que executa.
 - (D) mediante processo administrativo disciplinar, assegurada a ampla defesa.
 - (E) mediante procedimento sumário baseado na verdade sabida.

38. A Lei nº 3.736/2008 – Estatuto dos Servidores Públicos do Município de Jaboticabal, em relação ao provimento dos cargos públicos, determina que
- (A) o provimento dos cargos públicos far-se-á mediante ato da autoridade competente de cada Poder e do dirigente superior de autarquia ou de fundação pública.
- (B) é uma das formas de provimento de cargo público o reaproveitamento.
- (C) a investidura em cargo público ocorre com o efetivo exercício das funções do cargo.
- (D) os requisitos exigidos para a investidura no cargo deverão ser comprovados no momento em que se der o exercício.
- (E) para as pessoas portadoras de deficiência, serão reservadas, no máximo, 3% (três por cento) das vagas oferecidas, nas condições a serem estabelecidas no edital do concurso.
39. Nos termos do que prescreve a Lei nº 3.736/2008 – Estatuto dos Servidores Públicos do Município de Jaboticabal, assinale a alternativa correta.
- (A) Sem qualquer prejuízo, poderá o servidor ausentar-se do serviço por 1 (um) dia, em cada 12 (doze) meses, para doação de sangue.
- (B) Não poderá ser adotado o sistema de compensação de horários, mesmo que haja necessidade extrema de serviços.
- (C) O servidor terá direito a até 6 (seis) faltas abonadas durante o ano, não podendo ultrapassar 1 (uma) por mês.
- (D) O servidor terá direito a 24 (vinte e quatro) dias úteis de férias, quando houver faltado ao serviço, injustificadamente, por 15 (quinze) dias durante o período de 12 (doze) meses de exercício.
- (E) Ao ocupante exclusivamente de cargo em comissão, poderá ser concedida licença para concorrer a cargo eletivo.
40. O conjunto de atribuições que a Mesa Diretora da Câmara Municipal de Jaboticabal confere, individualmente, a determinado funcionário para execução em caráter transitório, de acordo com as disposições da Lei nº 4.677/15, corresponde à definição de
- (A) funcionário.
- (B) empregado.
- (C) delegação de competência.
- (D) emprego público.
- (E) função pública.

Para responder às questões de números 41 e 42, observe a Biblioteca Imagens a seguir, extraída do MS-Windows 7, em sua configuração padrão, na qual o usuário pode ver a extensão dos arquivos.

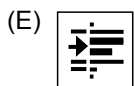
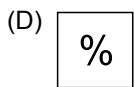
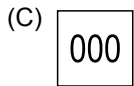
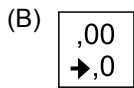
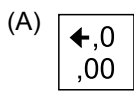


41. O modo de exibição utilizado na Biblioteca Imagens apresentada na figura é o
- (A) Lado a Lado.
- (B) Conteúdo.
- (C) Ícones Médios.
- (D) Ícones Pequenos.
- (E) Detalhes.
42. Assinale a alternativa que contém, na ordem correta, os dois atalhos de teclado que, mediante as confirmações necessárias, permitem ao usuário:
1. selecionar todos os arquivos e, depois.
 2. apagá-los definitivamente, sem enviá-los para Lixeira.
- (A) Ctrl+S e Ctrl+Del
- (B) Ctrl+A e Ctrl+Del
- (C) Ctrl+X e Ctrl+Del
- (D) Ctrl+A e Shift+Del
- (E) Ctrl+X e Shift+Del

Observe a figura a seguir para responder às questões de números 43 e 44. Ela apresenta parte de uma planilha extraída do MS-Excel 2010 em sua configuração padrão.

	A	B	C
1	Nome	Cargo	Pontuação
2	Paola Destro	Agente	12,34
3	Pedro Silva	Assistente	34,12
4	Carlos Amarante	Assistente	20,00
5	Daniela Cunha	Agente	30,98
6			24,36

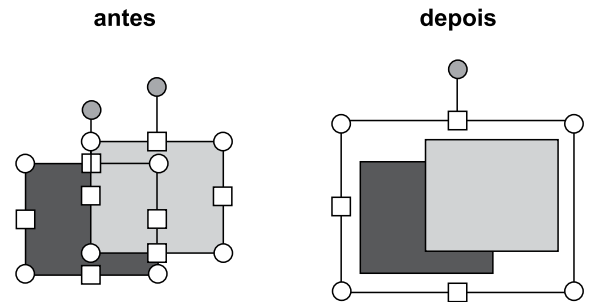
43. Para exibir um valor menos preciso na célula C6, exibindo menos casas decimais, o usuário pode utilizar a funcionalidade “Diminuir Casas Decimais” do grupo Número, da guia Página Inicial, representada pelo botão:



44. A fórmula que, quando inserida na célula C6, resulta no mesmo valor apresentado atualmente nessa célula é

- (A) =MÉDIA(A1:B5)
- (B) =MÉDIA(A1:C1)
- (C) =MÉDIA(A1:C2)
- (D) =MÉDIA(C2:C1)
- (E) =MÉDIA(C2:C5)

Para responder às questões de números 45 e 46, considere as duas formas a seguir, extraídas do MS-PowerPoint 2010 em sua configuração padrão em dois momentos, **antes** e **depois** da utilização de um recurso do grupo Organizar, da guia Formatar, que é exibida quando uma ou mais formas são selecionadas.



45. Assinale a alternativa que contém o nome e o efeito associados ao recurso utilizado entre os dois momentos das figuras.

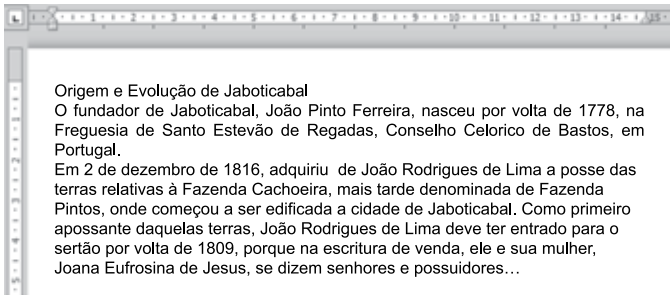
- (A) Alinhar – alinha a borda de todos os objetos selecionados.
- (B) Desagrupar – separa um conjunto de objetos agrupados para que se tornem novamente objetos individuais.
- (C) Agrupar – agrupa os objetos de modo que sejam tratados como um único objeto.
- (D) Avançar – traz o objeto selecionado a frente para que menos objetos fiquem à frente dele.
- (E) Recuar – envia o objeto selecionado para trás para que ele fique oculto atrás dos objetos à frente dele.

46. Para desfazer a ação que produziu o efeito observado entre os dois momentos das figuras, antes e depois, o usuário pode utilizar o atalho de teclado

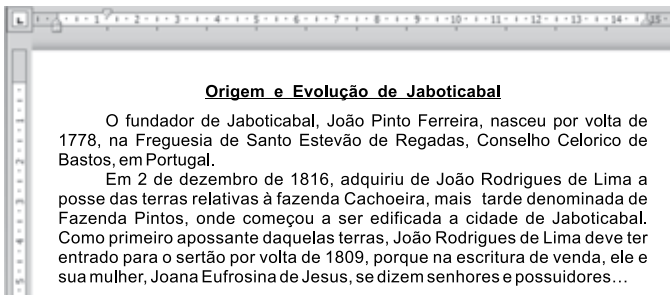
- (A) Ctrl+A
- (B) Ctrl+D
- (C) Ctrl+R
- (D) Ctrl+U
- (E) Ctrl+Z

Utilize as imagens a seguir para responder às questões de números 47 e 48. Elas apresentam parte de um documento do MS-Word 2010 em dois momentos: **antes** e **depois** da aplicação de recursos de formatação da guia Página Inicial, em sua configuração padrão.

antes



depois



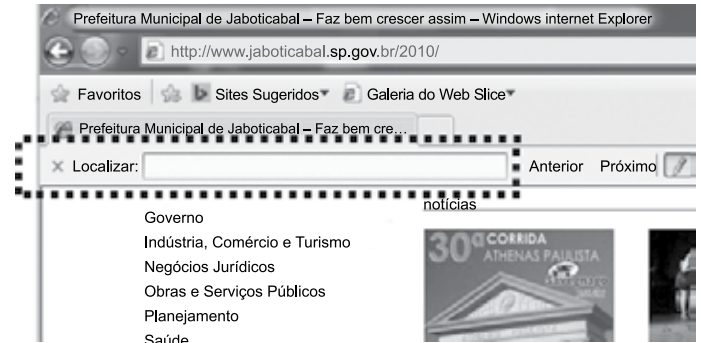
47. Os nomes dos recursos de formatação aplicados ao título "Origem e Evolução de Jaboticabal", entre os dois momentos das imagens, são

- (A) Tachado, Justificar e Negrito.
- (B) Subscrito, Tachado e Sublinhado.
- (C) Sublinhado, Centralizar e Negrito.
- (D) Negrito, Tachado e Centralizar.
- (E) Alinhar Texto à Direita, Justificar e Negrito.

48. Assinale a alternativa que contém uma das formatações de parágrafos aplicadas no parágrafo inteiro: "O fundador de Jaboticabal,..." entre os dois momentos das imagens. Para realizar essa formatação, o usuário pode selecionar o parágrafo e clicar na opção "Parágrafo..." do menu de contexto do parágrafo.

- (A) Alinhamento centralizado.
- (B) Recuo à esquerda de 1,25 cm.
- (C) Recuo especial na Primeira linha de 1,25 cm.
- (D) Recuo à direita de 1,25 cm.
- (E) Alinhamento à direita.

49. No Internet Explorer 8, em sua configuração padrão em português, o usuário pode utilizar o atalho de teclado _____ para acessar a ferramenta "Localizar", destacada na figura a seguir.



Assinale a alternativa que preenche corretamente a lacuna do enunciado.

- (A) Ctrl+C
- (B) Ctrl+F
- (C) Ctrl+L
- (D) Ctrl+S
- (E) Ctrl+P

50. No MS-Outlook 2010, em sua configuração padrão, na tela de edição das mensagens, ao ativar o botão "Baixa Prioridade", do grupo Marcas, da guia Mensagem, o usuário estará:

- (A) sinalizando para o destinatário que a mensagem é de baixa prioridade.
- (B) marcando a mensagem como a última a ser enviada pelo remetente, sempre.
- (C) destinando, necessariamente, a mensagem para a pasta Lixo Eletrônico do destinatário.
- (D) destinando, necessariamente, a mensagem para a pasta Lixo Eletrônico do remetente.
- (E) marcando a mensagem como a última a ser recebida pelo destinatário, sempre.

