



PREFEITURA DA ESTÂNCIA HIDROMINERAL DE POÁ

ESTADO DE SÃO PAULO

Concurso Público

013. PROVA OBJETIVA

Técnico de Contabilidade

- ◆ Você recebeu sua folha de respostas e este caderno contendo 50 questões objetivas.
- ◆ Confira seus dados impressos na capa deste caderno e na folha de respostas.
- ◆ Quando for permitido abrir o caderno, verifique se está completo ou se apresenta imperfeições. Caso haja algum problema, informe ao fiscal da sala.
- ◆ Leia cuidadosamente todas as questões e escolha a resposta que você considera correta.
- ◆ Marque, na folha de respostas, com caneta de tinta azul ou preta, a letra correspondente à alternativa que você escolheu.
- ◆ A duração da prova é de 3 horas, já incluído o tempo para o preenchimento da folha de respostas.
- ◆ Só será permitida a saída definitiva da sala e do prédio após transcorridos 75% do tempo de duração da prova.
- ◆ Ao sair, você entregará ao fiscal a folha de respostas e este caderno, podendo levar apenas o rascunho de gabarito, localizado em sua carteira, para futura conferência.
- ◆ Até que você saia do prédio, todas as proibições e orientações continuam válidas.

AGUARDE A ORDEM DO FISCAL PARA ABRIR ESTE CADERNO DE QUESTÕES.

Nome do candidato _____

Prédio _____

Sala _____

Carteira _____

Inscrição _____

CONHECIMENTOS GERAIS

LÍNGUA PORTUGUESA

Leia o texto para responder às questões de números **01** a **05**.

Entro no restaurante, sento-me, consulto o cardápio. E então reparo que alguns dos presentes, nas mesas em volta, não comem. Fotografam. O prato está pronto, e eles, antes de usarem os talheres, tiram foto da refeição com os celulares – de todos os ângulos, como se tivessem uma Gisele Bündchen na frente.

Por momentos, penso que o problema é médico: pessoas com primeiros sintomas de demência que gostam de registrar o que comeram ao almoço para não repetirem ao jantar.

Depois sou informado de que não: é moda fotografar os pratos e enviá-los para as redes sociais. Se os “amigos” sabem onde estamos e o que fazemos 24 horas por dia, é inevitável saberem também o que comemos. Desconfio até de que existem competições gastronômicas em que os pratos são usados como exibição de classe. Se as férias em família já servem para isso – esqui na Suíça, praia em Bali – por que não o almoço ou o jantar?

Mas o pasmo não termina com os fotógrafos. Continua com os enólogos amadores que tomaram conta do espaço público. No mesmo restaurante, os clientes giram os copos, cheiram, conferem a cor. Depois provam, fecham os olhos e invariavelmente convidam o empregado a servir o vinho. Quando foi que o mundo distribuiu diplomas de enologia pelo pessoal? E por que motivo eu não fui convidado?

(João Pereira Coutinho, In vino veritas. *Folha de S.Paulo*, 21.07.2015. Adaptado)

01. É correto afirmar que o autor

- (A) mostra-se incomodado por ter de compartilhar espaço no restaurante com pessoas fotografando a comida.
- (B) recusa-se a conviver com provadores de vinho amadores que frequentam espaços públicos.
- (C) ironiza os hábitos de divulgar em redes sociais até o que se come e de agir como especialista em vinhos.
- (D) declara sua simpatia para com a nova moda de as pessoas ostentarem a classe a que pertencem.
- (E) não confia em competições gastronômicas, as quais considera ostentação de ingredientes caros.

02. A expressão destacada na frase – O prato está pronto, e eles, antes de usarem os talheres, tiram foto da refeição **com os celulares** – expressa, no contexto, circunstância com o sentido de

- (A) instrumento.
- (B) companhia.
- (C) lugar.
- (D) finalidade.
- (E) comparação.

03. Observe as expressões destacadas nas frases – ... gostam de registrar o que comeram ao almoço **para** não repetirem ao jantar. – e – **Mas** o pasmo não termina com os fotógrafos.

É correto substituí-las, sem prejuízo de sentido, respectivamente, por:

- (A) enquanto / entretanto
- (B) se / portanto
- (C) apesar de / logo
- (D) assim que / contanto que
- (E) a fim de / porém

04. Assinale a alternativa em que as frases – ... penso que o problema é médico – e – Desconfio até de que existem competições gastronômicas... – estão reescritas de acordo com a norma-padrão quanto à colocação do pronome destacado e à concordância verbal.

- (A) ... penso que **se** tratava de problemas médicos / Desconfio até de que houve competições gastronômicas...
- (B) ... penso que tratava-**se** de problemas médicos / Desconfio até de que houveram competições gastronômicas...
- (C) ... penso que **se** tratavam de problemas médicos / Desconfio até de que houveram competições gastronômicas...
- (D) ... penso que tratava-**se** de problemas médicos / Desconfio até de que houve competições gastronômicas...
- (E) ... penso que tratavam-**se** de problemas médicos / Desconfio até de que houveram competições gastronômicas...

05. Substituindo-se **Se** por **Caso** e **estamos** por **vamos** no trecho – **Se** os “amigos” sabem onde **estamos**... –, obtém-se redação de acordo com a norma-padrão de conjugação e regência dos verbos, em:

- (A) Caso os “amigos” saibam aonde vamos...
- (B) Caso os “amigos” sabem aonde vamos...
- (C) Caso os “amigos” saibam onde vamos...
- (D) Caso os “amigos” sabiam onde vamos...
- (E) Caso os “amigos” saberem aonde vamos...

Leia o texto para responder às questões de números 06 a 08.

Minha avó gostava de festa. Minha mãe gosta de festa. Eu gosto de festa.

Quando penso em dar uma festa, meu coração se anima. Muitas vezes, no meio da lista de convidados e acepipes, tenho vontade de desistir diante da trabalhadeira da empreitada.

Respiro, me lembro das últimas festas que dei, penso na minha avó e na minha mãe em seus mistos de alegria e tensão, e acabo seguindo em frente.

Há que comemorar, há que manter os bolos, as velas, os brindes.

Há que passar adiante o “Parabéns pra Você”, mesmo que no meio da canção tudo pareça engraçado e sem sentido. Vale a pena. Nunca me arrependi de dar uma festa. No mínimo, fico feliz de ver meus vários afetos misturados em minha casa, conversando entre si, se juntando em tranças que retornam ao novelo do meu coração.

Não sei direito o porquê, mas tenho especial prazer em ver o namorado da filha da minha amiga em papo animado com a minha sogra, por exemplo. Improváveis misturas humanas a partir de mim. Foi assim que meu pai fez amizade com a mãe do segundo marido de minha mãe.

Tuta era uma senhora sacudida. Sempre de salto alto, se maquiava muito, punha flores no cabelo, fazia discursos, cantava e tocava piano.

Tinha passado a maior parte da vida longe da família e foi resgatada por minha mãe, que, inconformada e antes tarde do que nunca, decidiu presentear seu marido com o reencontro emocionado com a mãe desgarrada. Tuta passou, então, a frequentar as festas da família.

Conviveu com o filho, a nova nora e os parentes que pouco conhecia durante algum tempo, até que Fernando se foi. Viúva, minha mãe herdou de seu amado a mãe excêntrica, que continuou a fazer seus discursos, a tocar e a cantar nas festas lá de casa até seus 98.

Um tempo depois da morte de Fernando, meu pai voltou a frequentar as festas. Também afeito à cantoria, se juntou a Tuta nas canções e até declamavam poesias. Em uma festa de aniversário que ela promoveu em seu pequeno apartamento na Tijuca, minha mãe deu de cara com uma cena curiosa: os dois sozinhos na sala. Tuta ao piano e meu pai já exibindo pela janela sua linda voz de tenor. Numa manobra do destino, meu pai virou grande amigo da mãe do segundo marido de minha mãe.

A vida faz um bom crochê. As festas ajudam. Há que celebrar.

(Denise Fraga, Há que celebrar. <http://www1.folha.uol.com.br/colunas>. Acesso em: 24.07.2015. Adaptado)

06. A maneira como a autora descreve as festas que promove revela nela um sentimento de

- (A) indisposição, principalmente porque dá muito trabalho preparar tudo sozinha.
- (B) intolerância, diante de convidados que gostam de cantoria e discursos sem fim.
- (C) nostalgia, acordando lembranças boas de reuniões com pessoas amadas.
- (D) tristeza, porque a família já não se reúne mais como costumava fazer antigamente.
- (E) insatisfação, especialmente com a presença de estranhos, que querem misturar-se à família.

07. Os adjetivos destacados nas expressões – mãe **excêntrica** – e – mãe **desgarrada** – significam, no contexto, respectivamente,

- (A) extraordinária e acanhada.
- (B) assanhada e desnaturada.
- (C) estourada e inconsequente.
- (D) extravagante e afastada.
- (E) esquisita e desrespeitosa.

08. Assinale a alternativa que preenche, respectivamente, as lacunas da frase a seguir, de acordo com a norma-padrão de emprego do sinal indicativo de crase.

Meu pai voltou a comparecer _____ festas e conheceu Tuta, unindo-se _____ ela nas cantorias.

- (A) as ... à
- (B) às ... a
- (C) às ... à
- (D) à ... a
- (E) a ... à

09. A pontuação da frase está de acordo com a norma-padrão em:

- (A) Informo, a Vossa Senhoria que: todos os documentos foram extraviados.
- (B) Os funcionários perguntam, se o plantão vai ser mantido.
- (C) Aconteceram dois incidentes: o furto da impressora e a invasão da lanchonete.
- (D) A investigação revelou irregularidades, principalmente no uso, das verbas.
- (E) Fuzarco Bronca funcionário do setor responsável, pelo transporte, demitiu-se.

10. Leia a tira.



(Charles M Schulz, Snoopy – Feliz dia dos namorados!)

É correto afirmar que a reação da garota aos comentários do menino indica que ela

- (A) tem um ponto de vista nada coerente com sua postura de acomodação.
- (B) revela sua falta de disposição para a aquisição de conhecimentos.
- (C) censura o uso de recursos tecnológicos, que não devem substituir a aprendizagem.
- (D) se submete às condições impostas pela escola, que a obriga a estudar.
- (E) expressa seu receio de não saber nada, num futuro muito próximo.

MATEMÁTICA

11. Para recobrir o piso de uma casa, foram compradas 1000 lajotas, todas iguais, porém 5% delas estavam com algum defeito e não puderam ser usadas. Das lajotas sem defeitos, $\frac{2}{5}$ foram utilizadas na primeira etapa do serviço e, $\frac{5}{6}$ das lajotas restantes foram utilizadas na segunda etapa. O número de lajotas sem defeitos que restaram após as duas primeiras etapas da obra foi
- (A) 85.
 - (B) 90.
 - (C) 95.
 - (D) 100.
 - (E) 105.
12. Em uma obra, onde trabalham determinado número de operários, 12% deles faltaram na 2ª feira. Dos demais operários, 2 passaram mal e foram embora mais cedo, permanecendo na obra 20 operários até o final do dia. Em relação ao número total de operários que trabalham nessa obra, o número de operários que permaneceram até o final do dia, representa uma porcentagem de
- (A) 60%
 - (B) 65%
 - (C) 70%
 - (D) 75%
 - (E) 80%
13. Um restaurante especializado em massas comprou determinada quantidade de macarrão fresco e utilizou 200 g desse macarrão no preparo de cada prato. Se esse restaurante utilizasse 160 g no preparo de cada prato, poderia, com a mesma quantidade de macarrão comprada, ter preparado 5 pratos a mais. A quantidade de macarrão comprada, em quilogramas, foi
- (A) 6.
 - (B) 5.
 - (C) 4.
 - (D) 3.
 - (E) 2.

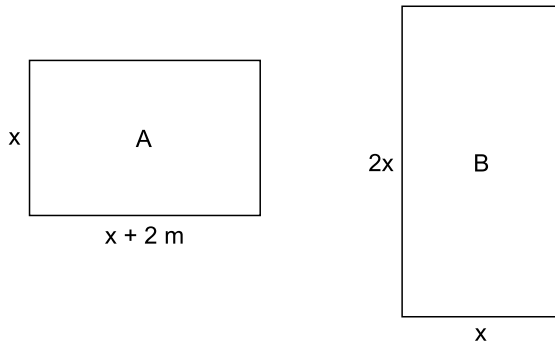
14. Uma pessoa comprou várias garrafas de diferentes sabores de suco de frutas. A tabela mostra o sabor do suco, a respectiva quantidade de garrafas e o preço unitário da garrafa.

SUCO	QUANTIDADE	PREÇO UNITÁRIO
maracujá	4	R\$ 6,65
uva	3	R\$ 5,80
caju	5	?

Considerando-se o número total de garrafas compradas, o preço de uma garrafa de suco foi, em média, R\$ 5,00. O preço de uma garrafa de suco de caju é

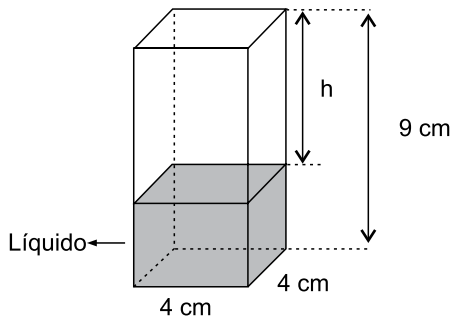
- (A) R\$ 4,00.
(B) R\$ 3,80.
(C) R\$ 3,50.
(D) R\$ 3,20.
(E) R\$ 3,00.
15. Um capital aplicado a juro simples com taxa de 8,4% ao ano, durante 5 meses, rendeu um juro de R\$ 28,00. O valor que deveria ser acrescentado inicialmente a esse capital para que o juro obtido, nesse mesmo período de tempo e com a mesma taxa anual, fosse de R\$ 31,50, é de
- (A) R\$ 100,00.
(B) R\$ 200,00.
(C) R\$ 300,00.
(D) R\$ 400,00.
(E) R\$ 500,00.
16. Em determinada área, foram plantadas três tipos diferentes de árvores: A, B e C; totalizando 108 árvores. O número de árvores do tipo A é igual à média aritmética entre o número de árvores dos tipos B e C; e o número de árvores do tipo B é igual a $\frac{5}{7}$ do número de árvores do tipo C. O número de árvores do tipo B é
- (A) 25.
(B) 30.
(C) 36.
(D) 42.
(E) 45.

17. Duas salas, A e B, ambas retangulares, tem dimensões em metros, conforme mostram as figuras.



Sabendo que o perímetro da sala B é numericamente igual à área da sala A, é correto afirmar que o perímetro da sala A, em metros, é

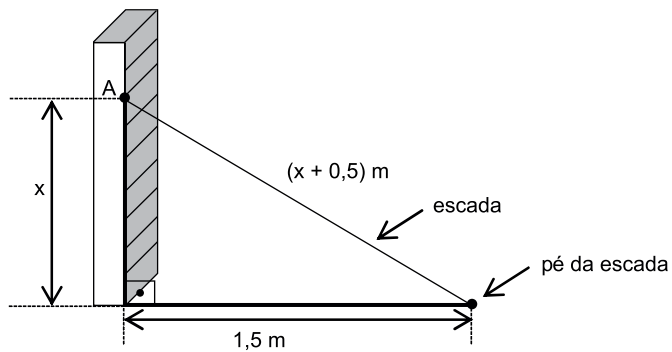
- (A) 14.
(B) 16.
(C) 18.
(D) 20.
(E) 22.
18. Em um prisma reto de base quadrada com 4 cm de aresta e 9 cm de altura, foram colocados 100 cm^3 de líquido, conforme mostra a figura.



A altura h , em cm, é

- (A) 2,25.
(B) 2,75.
(C) 3,50.
(D) 3,85.
(E) 4,15.

19. Uma escada foi apoiada no ponto A de uma estante, de modo que seu pé encontra-se a 1,5 m da estante, conforme mostra a figura.



O comprimento, em metros, dessa escada, é

- (A) 2,50.
(B) 2,75.
(C) 3,00.
(D) 3,25.
(E) 3,50.
20. Para adubar certa quantia de terra, um agricultor misturou 2 tipos diferentes de fertilizantes, na seguinte proporção: 300 g do fertilizante A, para 450 g do fertilizante B. Ao preparar 3 kg dessa mistura (fertilizante A + fertilizante B), a quantia utilizada do fertilizante A, em kg, foi
- (A) 1,6.
(B) 1,5.
(C) 1,4.
(D) 1,3.
(E) 1,2.

ATUALIDADES

21. O Senado aprovou, nesta quarta-feira (01.07), o texto base do projeto que estende os efeitos da chamada PEC da Bengala para todos os servidores públicos da União, estados e municípios, assim como aconteceu com os ministros do Supremo Tribunal Federal (STF).

(*Estadão*, disponível em: <http://goo.gl/MWloV3>, 01.07.2015. Adaptado)

Essa proposta de emenda à Constituição

- (A) garante a renovação mais rápida dos quadros do funcionalismo público.
- (B) iguala homens e mulheres na concessão de pensão por morte do cônjuge.
- (C) estipula a reserva de um terço das vagas dos concursos públicos a idosos.
- (D) estabelece a idade de 75 anos para a aposentadoria compulsória dos servidores públicos.
- (E) eleva os gastos públicos com o pagamento de convênios médicos ao funcionalismo.

22. A presidente Dilma Rousseff afirmou que, durante sua gestão à frente do Mercosul, entre dezembro de 2014 e julho deste ano, trabalhou para “acelerar trâmites” a fim de possibilitar a “entrada tranquila” do país no bloco econômico. A adesão ainda não foi oficializada e aguarda aprovação dos parlamentos dos países permanentes do bloco.

(G1, disponível em: <http://goo.gl/wQlsHM>, 17.07.2015. Adaptado)

O novo membro pleno do Mercosul do qual trata a notícia é

- (A) a Bolívia.
- (B) o Chile.
- (C) o Equador.
- (D) o Peru.
- (E) a Venezuela.

23. EUA e Cuba formalizaram, no dia 20 de julho de 2015, o reatamento de relações diplomáticas, pondo fim a mais de 50 anos de hostilidade. A medida que simbolizou a reaproximação desses países foi

- (A) o fim do embargo comercial norte-americano.
- (B) a reabertura das embaixadas nos dois países.
- (C) a devolução da base de Guantánamo a Cuba.
- (D) a libertação de todos os presos políticos cubanos.
- (E) a delegação conjunta nos Jogos Pan-Americanos.

24. Depois de cinco meses de negociações, Atenas e seus credores europeus alcançaram, em 13 de julho, um acordo que prevê um novo plano de resgate para o país, mas em troca de duras reformas. O Parlamento grego adotou um segundo pacote de reformas reclamadas pelos credores da Grécia como passo prévio ao terceiro resgate.

(*Exame*, disponível em: <http://goo.gl/931rjs>, 23.07.2015. Adaptado)

Entre as “duras reformas” a realizar, é correto citar

- (A) o aumento do deficit público.
- (B) a fundação de novas empresas estatais.
- (C) a extinção do sistema de justiça civil.
- (D) a diminuição na arrecadação de impostos.
- (E) a mudança no sistema de aposentadorias.

25. Sinais de desaceleração da economia chinesa intensificaram o clima entre os investidores nesta segunda-feira (27.07), derrubando as Bolsas globais e pressionando a cotação do dólar para cima. É a maior cotação nominal desde março de 2003.

(*Folha de S.Paulo*, disponível em: <http://goo.gl/VpcA8R>, 28.07.2015. Adaptado)

Além dos problemas mundiais que afetam o Brasil, essa desvalorização do real em relação ao dólar esteve ligada, internamente,

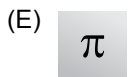



- (A) ao pagamento total da dívida pública.
- (B) à queda brusca da taxa básica de juros.
- (C) à dificuldade de importação de commodities.
- (D) à divulgação dos prejuízos do Banco Central.
- (E) ao anúncio de redução da meta do superávit primário.

26. O ícone exibido a seguir, foi retirado do MS-Windows 7, em sua configuração padrão.



O nome do aplicativo ao qual o ícone se refere é

- (A) Painel de Controle.
 - (B) Lixeira.
 - (C) Desfragmentador.
 - (D) Volume de Tinta.
 - (E) Limpeza de Disco.
27. O ícone cuja função é mostrar marcas de parágrafo e outros símbolos de formatação ocultos, no MS-Word 2010, em sua configuração padrão, é o representado em:



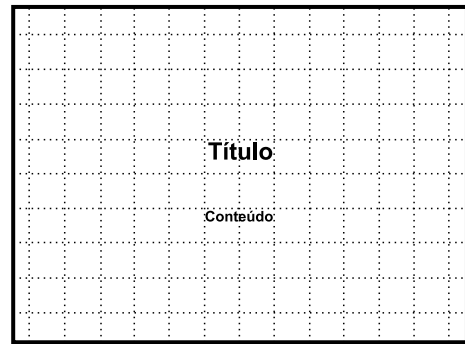
28. Observe a planilha a seguir sendo editada por meio do MS-Excel 2010, em sua configuração padrão.

	A	B	C	D	E
1	1	2	3	4	5
2					

Assinale a alternativa que contém o valor exibido na célula A2 após esta ser preenchida com a fórmula =MAIOR(A1:D1;4)

- (A) 1
- (B) 2
- (C) 3
- (D) 4
- (E) 5

29. Observe a imagem a seguir, retirada do MS-PowerPoint 2010, em sua configuração padrão.



O pontilhado da imagem é exibido ao clicar em um recurso da guia Exibição. O nome deste recurso é

- (A) Formas.
 - (B) Guias.
 - (C) Slide Mestre.
 - (D) Régua.
 - (E) Linhas de Grade.
30. Um recurso de grande utilidade que todo usuário deve conhecer é o envio de arquivos por meio de correio eletrônico. Assinale a alternativa que indica o nome dado ao arquivo enviado por email.
- (A) Rascunho.
 - (B) Assinatura.
 - (C) Anexo.
 - (D) Link.
 - (E) Objeto.

CONHECIMENTOS ESPECÍFICOS

31. O Valor Presente define que os ativos são mantidos pelo valor presente, descontado do fluxo futuro de entrada líquida de caixa que se espera que seja gerado pelo item no curso normal das operações da Entidade.

Ante o exposto, o Valor Presente refere-se à variação do princípio contábil

- (A) da Prudência.
- (B) da Competência.
- (C) da Oportunidade.
- (D) da Entidade.
- (E) do Registro pelo valor original.

32. Os ativos são mantidos pelos valores em caixa ou equivalentes de caixa, os quais poderiam ser obtidos pela venda em uma forma ordenada. Os passivos são mantidos pelos valores em caixa e equivalentes de caixa não descontados, que se espera que sejam pagos para liquidar as correspondentes obrigações no curso normal das operações da Entidade.

De acordo com os Princípios de Contabilidade, o texto remete

- (A) ao custo corrente.
- (B) à essência sobre a forma.
- (C) ao valor realizável.
- (D) ao valor justo.
- (E) à prudência.

33. As receitas provenientes da realização de recursos financeiros oriundos de constituição de dívidas; as provenientes da conversão, em espécie, de bens e direitos; os recursos recebidos de outras pessoas de direito público ou privado, destinados a atender despesas classificáveis em Despesas de Capital; e, ainda, o *superavit* do Orçamento Corrente são chamados de

- (A) Capital.
- (B) Operacional.
- (C) Financeiras.
- (D) Correntes.
- (E) Primária.

34. A Lei nº 4.320/64, em seu artigo 60, determina que é vedada a realização da despesa sem

- (A) apresentação de três cotações públicas.
- (B) autorização legislativa.
- (C) ordem de pagamento autorizada.
- (D) prévio empenho.
- (E) fundos necessários.

35. O artigo da 4ª da Lei de Responsabilidade Fiscal determina que a LDO (Lei das Diretrizes Orçamentárias) atenderá a Constituição Federal, bem como irá dispor sobre critérios e formas de limitação de empenho, nas hipóteses previstas na mesma lei e também sobre

- (A) equilíbrio orçamentário e extraorçamentário.
- (B) equilíbrio entre receitas e despesas.
- (C) orçamento público.
- (D) orçamento base zero.
- (E) restrição orçamentária.

36. O reconhecimento da VPA (variação patrimonial aumentativa) deve ser feito antes da ocorrência da arrecadação orçamentária, cujo fato gerador do Imposto sobre a Propriedade Predial e Territorial Urbana (IPTU) ocorre no dia 1º de janeiro de cada ano. Nesse caso, o reconhecimento do direito e da VPA deve ser feito no momento do fato gerador e não no momento da arrecadação, que ocorrerá futuramente. Portanto, sua contabilização será:

- (A) D 1.1.2.1.x.xx.xx Créditos Tributários a Receber (P)
C 4.1.1.2.x.xx.xx Impostos Sobre Patrimônio e a Renda
- (B) D 1.1.1.1.x.xx.xx Caixa e Equivalentes de Caixa em Moeda Nacional (F)
C 2.2.9.1.x.xx.xx Variação Patrimonial Aumentativa Diferida (P)
- (C) D 6.2.1.1.x.xx.xx Receita a Realizar
C 6.2.1.2.x.xx.xx Receita Realizada
- (D) D 7.2.1.1.x.xx.xx Controle da Disponibilidade de Recursos
C 8.2.1.1.1.x.xx.xx Disponibilidade por Destinação de Recursos (DDR)
- (E) D 1.1.1.1.x.xx.xx Caixa e Equivalentes de Caixa em Moeda Nacional (F)
C 6.2.1.2.x.xx.xx Receita Realizada

37. A Lei Federal nº 4.320/64 determina que o registro contábil da receita e da despesa será efetuado de acordo com as especificações constantes

- (A) nas normas internacionais de contabilidade.
- (B) na aplicação dos princípios de contabilidade geralmente aceitos.
- (C) na Lei de Responsabilidade Fiscal.
- (D) na execução orçamentária.
- (E) na Lei do Orçamento e dos créditos adicionais.

38. Conforme prevê a Lei nº 4.320/64, referente à elaboração da Lei do Orçamento, o Poder Legislativo considerará como proposta a Lei de Orçamento vigente, se não receber a proposta orçamentária

- (A) no exercício fiscal determinado pela legislação.
- (B) do exercício financeiro alinhada com o ano civil.
- (C) no prazo fixado nas Constituições ou nas Leis Orgânicas dos Municípios.
- (D) no prazo estipulado pela Lei das Diretrizes Orçamentárias.
- (E) no prazo estipulado pelo senado federal.

39. Observados o limite da dotação e o comportamento da execução orçamentária, as cotas

- (A) trimestrais poderão ser alteradas durante o exercício, somente com autorização do poder executivo.
- (B) trimestrais poderão ser alteradas durante o exercício, somente com autorização do poder legislativo.
- (C) semestrais poderão ser alteradas durante o exercício.
- (D) trimestrais poderão ser alteradas durante o exercício.
- (E) semestrais não poderão ser alteradas durante o exercício.

Considere a Lei nº 4.320/64 para responder às questões de números 40 a 44.

40. O Balanço Patrimonial demonstrará

- (A) Ativo Financeiro e Permanente; Passivo Financeiro e Permanente; Saldo Patrimonial e as Contas de Compensação.
- (B) Ativo, Passivo, Patrimônio Líquido e as Contas de Compensação.
- (C) Ativo Circulante e Não Circulante; Passivo Circulante e Não Circulante; Saldo Patrimonial e as Contas de Compensação.
- (D) Ativo Circulante e Não Circulante; Passivo Circulante e Não Circulante; Situação Líquida e as Contas de Compensação.
- (E) Ativo Circulante e Não Circulante; Passivo Circulante e Não Circulante; Situação Líquida.

41. De acordo com a referida lei, fica estabelecido que a avaliação dos elementos patrimoniais corresponderá às seguintes normas:

- (A) os débitos e créditos, os bens móveis e imóveis, pelo valor presente ou pelo custo de produção ou de construção; e os bens de estoque, pelo preço médio ponderado das compras.
- (B) os débitos e créditos, bem como os títulos de renda, pelo seu valor nominal, feita a conversão, quando em moeda estrangeira, à taxa de câmbio vigente na data do balanço; os bens móveis e imóveis, pelo valor de aquisição ou pelo custo de produção ou de construção; e os bens de almoxarifado, pelo preço médio ponderado das compras.
- (C) os débitos e créditos, bem como os títulos da dívida, os bens imóveis, pelo valor presente ou pelo valor de mercado; e os bens de estoque, pelo valor de mercado.
- (D) os débitos de Caixa, os valores em espécie, assim como os débitos e créditos, quando em moeda estrangeira, deverão figurar em moeda forte ao lado das correspondentes importâncias em moeda nacional.
- (E) as entradas devedores de Caixa, assim como os débitos e créditos, quando em moeda estrangeira, convergem ao mesmo montante em moeda nacional, inclusive as reavaliações dos bens móveis e imóveis, pelo valor presente líquido.

42. Irá demonstrar a receita e a despesa orçamentárias bem como os recebimentos e os pagamentos de natureza extra-orçamentária, conjugados com os saldos em espécie provenientes do exercício anterior e os que se transferem para o exercício seguinte.

O texto trata do

- (A) Fluxo de Caixa.
- (B) Relatório de Metas Fiscais.
- (C) Orçamento.
- (D) Demonstrativo de Resultado do Exercício.
- (E) Balanço Financeiro.

43. O Balanço Orçamentário de uma determinada Prefeitura Municipal apontou as Receitas da seguinte forma:

PREVISÃO	EXECUÇÃO
Receitas Correntes: 219	Receitas Correntes: 245
Receitas de Capital: 22	Receitas de Capital: 25

Diante das informações da tabela, é correto afirmar que houve

- (A) arrecadação acima do orçado.
- (B) resultado positivo de arrecadação.
- (C) excesso de arrecadação no exercício.
- (D) *superavit* primário.
- (E) *superavit* de arrecadação.

44. A peça contábil que evidencia as alterações verificadas no patrimônio, resultantes ou independentes da execução orçamentária, e indicará o resultado patrimonial do exercício é
- (A) o Balanço Patrimonial.
 (B) o Balanço Financeiro.
 (C) a Demonstração das Variações do Fluxo de Caixa.
 (D) a Demonstração das Variações Patrimoniais.
 (E) o Balanço Orçamentário.
45. A Lei que estabelece normas gerais sobre licitações e contratos administrativos pertinentes a obras, serviços, inclusive de publicidade, compras, alienações e locações no âmbito dos Poderes da União, dos Estados, do Distrito Federal e dos Municípios, estabelece que, para a habilitação nas licitações, exigir-se-á dos interessados, exclusivamente, além da proibição de trabalho noturno, perigoso ou insalubre a menores de dezoito anos e de qualquer trabalho a menores de dezesseis anos, salvo na condição de aprendiz, a partir de quatorze anos, documentação relativa a:
- (A) certidão negativa da Receita Federal do Brasil, certidão de falência e concordata, balanço patrimonial e demonstração do resultado do exercício.
 (B) habilitação jurídica, qualificação técnica, qualificação econômico-financeira e regularidade fiscal e trabalhista.
 (C) certidão negativa da Receita Federal do Brasil, certidão de falência e concordata, regularidade trabalhista e demonstrações financeiras.
 (D) qualificação técnica e proposta financeira.
 (E) qualificação técnica, proposta financeira e regularizada fiscal.
46. O controle interno deve ser exercido em todos os níveis da entidade do setor público, compreendendo a preservação do patrimônio público, o controle da execução das ações que integram os programas e a observância às leis, aos regulamentos e às diretrizes estabelecidas. Dessa forma, o controle interno é classificado nas seguintes categorias:
- (A) operacional, contábil e normativo.
 (B) sistemático e estratégico.
 (C) sistemático e operacional.
 (D) operacional e estratégico.
 (E) operacional, normativo e estratégico.
47. A Resolução do CFC que determina normas de controle interno para o setor público estabelece que a identificação dos eventos ou das condições que podem afetar a qualidade da informação contábil será feita
- (A) pelo evento interno.
 (B) pela auditoria interna.
 (C) pelo mapeamento de riscos.
 (D) pelo controle extracontábil.
 (E) pelos eventos subsequentes.
48. A empresa comercial Móveis Modernos e Legais Ltda., cujo objeto social é a compra e venda de móveis para residências e escritórios, em determinado mês, para atender sua demanda de mercado, adquiriu 45 mesas e 270 cadeiras, dentro do estado, para revenda nas seguintes condições:
- Valor dos móveis: R\$ 250.000,00.
 Condições comerciais e de pagamento:
- A empresa vendedora concede um desconto financeiro de 4% do total da compra para os clientes que aceitarem pagar 50% à vista.
 - A compra será paga 50% à vista e 50% em 45 dias.
 - A empresa não se utiliza dos créditos do Pis e da Cofins.
 - A alíquota de ICMS, tanto para a compra quanto para a venda, é 18%.
- Assinale a alternativa que apresenta a contabilização correta.
- (A) Débito: Estoque 205.000,00
 Débito: ICMS a Compensar 45.000,00
 Crédito: Fornecedores 250.000,00
- (B) Débito: Estoque 205.000,00
 Débito: ICMS a Compensar 45.000,00
 Crédito: Bancos c/ Movimento 120.000,00
 Crédito: Fornecedores 120.000,00
 Crédito: Descontos Recebidos 10.000,00
- (C) Débito: Estoque 205.000,00
 Débito: ICMS a Compensar 45.000,00
 Crédito: Fornecedores 125.000,00
 Crédito: Bancos c/ Movimento 125.000,00
- (D) Débito: Estoque 250.000,00
 Crédito: Fornecedores 120.000,00
 Crédito: Bancos c/ Movimento 120.000,00
 Crédito: Descontos Recebidos 10.000,00
- (E) Débito: Estoque 196.800,00
 Débito: ICMS a Compensar 43.200,00
 Crédito: Fornecedores 120.000,00
 Crédito: Bancos c/ Movimento 120.000,00
 Crédito: Descontos Recebidos 10.000,00

49. Uma determinada empresa prestadora de serviços localizada na região do Alto do Tietê, tributada pelo lucro real e enquadrada no regime de não cumulatividade do Pis e da Cofins, obteve as seguintes receitas no mês de janeiro:

RECEITA	VENCIMENTO	RECEBIMENTO
150.000,00	15/01	15/01
175.000,00	23/01	20/01
125.000,00	27/01	31/01

As retenções sobre o faturamento de Pis, Cofins, CSLL e IRRF, desse mês de janeiro, correspondem, correta e respectivamente, a

- (A) 2.925,00; 32.200,00; 4.500,00; 6.750,00.
(B) 2.112,50; 9.750,00; 4.320,00; 4.875,00.
(C) 7.425,00; 32.200,00; 4.500,00; 6.750,00.
(D) 2.925,00; 13.500,00; 4.500,00; 6.750,00.
(E) 1.787,50; 8.250,00; 2.750,00; 4.125,00.
50. De acordo com o artigo 145 da Constituição Federal, a União, os Estados, o Distrito Federal e os Municípios poderão instituir os seguintes tributos: impostos; taxas; e contribuição de melhorias, que, por sua vez, será decorrente de
- (A) serviços públicos específicos.
(B) caráter pessoal e serão graduados segundo a capacidade econômica do contribuinte.
(C) caráter pessoal, respeitados os direitos individuais e patrimoniais nos termos da lei.
(D) atividades administrativas plenamente vinculadas.
(E) obras públicas.

