



CÂMARA MUNICIPAL DE MARÍLIA

ESTADO DE SÃO PAULO

CONCURSO PÚBLICO

010. PROVA OBJETIVA

CONTADOR

CÓD. 010

- ◆ Você recebeu sua folha de respostas e este caderno contendo 60 questões objetivas.
- ◆ Confira seus dados impressos na capa deste caderno e na folha de respostas.
- ◆ Quando for permitido abrir o caderno, verifique se está completo ou se apresenta imperfeições. Caso haja algum problema, informe ao fiscal da sala.
- ◆ Leia cuidadosamente todas as questões e escolha a resposta que você considera correta.
- ◆ Marque, na folha de respostas, com caneta de tinta azul ou preta, a letra correspondente à alternativa que você escolheu.
- ◆ A duração da prova é de 3 horas e 30 minutos, já incluído o tempo para o preenchimento da folha de respostas.
- ◆ Só será permitida a saída definitiva da sala e do prédio após transcorridos 75% do tempo de duração da prova.
- ◆ Ao sair, você entregará ao fiscal a folha de respostas e este caderno, podendo levar apenas o rascunho de gabarito, localizado em sua carteira, para futura conferência.
- ◆ Até que você saia do prédio, todas as proibições e orientações continuam válidas.

AGUARDE A ORDEM DO FISCAL PARA ABRIR ESTE CADERNO DE QUESTÕES.

Nome do candidato _____

Prédio _____

Sala _____

Carteira _____

Inscrição _____

CONHECIMENTOS GERAIS

LÍNGUA PORTUGUESA

01. Leia a charge.



(Gazeta do Povo, 13.01.2016. Adaptado)

Para que a resposta da personagem faça sentido, a lacuna na pergunta de seu interlocutor deve ser preenchida com

- (A) caminham
- (B) parece estar
- (C) vão
- (D) têm corrido
- (E) acredita estar

Leia o texto para responder às questões de números 02 a 10.

Uma noite no mar Cáspio

Na semana passada, uma aluna da Sorbonne foi encarregada de fazer um estudo sobre a literatura latino-americana, mal informada de tudo, inclusive sobre a América Latina. Veio entrevistar algumas pessoas e, não sei por que, pediu-me que a recebesse para uma conversa que pudesse explicar o Brasil com apenas um título que serviria de roteiro para o trabalho que deveria apresentar.

Já me pediram coisas extravagantes, recusei algumas, aceitei outras. Aleguei minha incompetência para titular qualquer coisa.

Mas não quis decepcionar a moça. Pensando na atual crise política, sugeri “Garruchas e punhais” – era o nome da briga entre os meninos da rua Cabuçu contra os meninos da rua Lins de Vasconcelos. Morei nas duas e era considerado um espião a soldo de uma ou de outra. O que no fundo era verdade, considerava idiotas os dois lados.

A moça riu mas não gostou. Todos os países têm garruchas e punhais. Dei outra sugestão: “O mosteiro de tijolos de feltro”. Ela não gostou – nem eu. Parti então para uma terceira via, por sinal, a mais estúpida. Pensou um pouco, inicialmente recusou. Olhou bem para mim e aprovou: “Uma noite no mar Cáspio”. Para meu espanto, ela aceitou.

Acredito que os professores da Sorbonne também gostarão. E eu nem sei onde fica o mar Cáspio, embora também não saiba onde fica o Brasil.

(Carlos Heitor Cony. *Folha de S.Paulo*, 26.01.2016. Adaptado)

02. Com as passagens do texto “mal informada de tudo” (1º parágrafo) e “Mas não quis decepcionar a moça.” (3º parágrafo), o narrador mostra-se

- (A) hostil, embora a aluna da Sorbonne não evidenciasse entusiasmo pelo assunto do trabalho a ser realizado.
- (B) apreensivo, pois a aluna da Sorbonne não demonstrava interesse no assunto do trabalho a ser realizado.
- (C) receptivo, ainda que a aluna da Sorbonne não dominasse o assunto do trabalho a ser realizado.
- (D) indiferente, tanto que a aluna da Sorbonne não manifestou conhecimento do assunto do trabalho a ser realizado.
- (E) confuso, à medida que a aluna da Sorbonne dava indícios de desconhecer o assunto do trabalho a ser realizado.

03. A frase – Morei nas duas e era considerado um espião a soldo de uma ou de outra. O que no fundo era verdade, considerava idiotas os dois lados. – (3º parágrafo) indica que o narrador, em suas brincadeiras de criança,

- (A) acreditava que a rivalidade entre as duas ruas era algo sem propósito.
- (B) orgulhava-se por ser espião nas duas ruas, principalmente pelo pagamento.
- (C) pagava aos meninos de ambas as ruas para não se envolver em suas brigas.
- (D) atendia os pedidos dos amigos, pois se considerava o melhor espião do lugar.
- (E) encantava-se com a richa entre as ruas, por isso defendia a mais forte.

04. Quando a aluna da Sorbonne aceita o título “Uma noite no mar Cáspio” para seu estudo sobre a literatura latino-americana, o narrador espanta-se, porque se trata de uma sugestão que ele considera

- (A) muito poética, provavelmente por adequar-se ao tema do objeto desse estudo, o que contraria a ideia de que a aluna desconhecesse o assunto.
- (B) bastante adequada, provavelmente acatada pela aluna de forma reticente devido à sua falta de conhecimento do objeto desse estudo.
- (C) muito estúpida, provavelmente por ser óbvia em relação ao objeto desse estudo, o que revela a falta de criatividade de ambos para sintetizar o assunto.
- (D) pouco inteligente, provavelmente por não estar relacionada ao objeto desse estudo, o que acaba por comprovar a falta de conhecimento da aluna.
- (E) pouco consistente, provavelmente pelo fato de que ele, sem assumir, ignorava, da mesma forma que a aluna, o objeto desse estudo.

05. Observe as passagens do texto:

- **Aleguei** minha incompetência para titular qualquer coisa. (2º parágrafo);
- **Parti** então para uma terceira via, por sinal, a mais estúpida. (4º parágrafo);
- Pensou um pouco, inicialmente **recusou**. (4º parágrafo).

No contexto em que estão empregados, os termos em destaque significam, respectivamente:

- (A) Justifiquei, Optei e acedeu.
- (B) Retorqui, Divergi e opôs-se.
- (C) Objetei, Conclui e obstou.
- (D) Retruqueei, Indiquei e furtou-se.
- (E) Citei, Passei e enjeitou.

06. A relação de sentido estabelecida entre as orações no trecho do segundo parágrafo – ... recusei algumas, aceitei outras. – também está presente em:

- (A) Veio entrevistar algumas pessoas e, não sei por que, pediu-me...
- (B) ... que serviria de roteiro para o trabalho que deveria apresentar.
- (C) Pensando na atual crise política, sugeri “Garruchas e punhais”...
- (D) A moça riu mas não gostou.
- (E) Ela não gostou – nem eu.

07. _____ uma aluna da Sorbonne que a recebesse para uma conversa que pudesse explicar o Brasil com apenas um título que _____ de roteiro para o trabalho que deveria apresentar. Já me pediram coisas extravagantes, recusei algumas, aceitei outras. Mas não _____.

Em conformidade com a norma-padrão, as lacunas da frase devem ser preenchidas, respectivamente, com:

- (A) Pediu-me ... serviria-lhe ... lhe quis decepcionar
- (B) Me pediu ... servir-lhe-ia ... quis decepcioná-la
- (C) Pediu-me ... lhe serviria ... a quis decepcionar
- (D) Me pediu ... o serviria ... quis decepcionar-lhe
- (E) Pediu-me ... serviria-o ... quis decepcioná-la

08. Na passagem do primeiro parágrafo – ... que pudesse explicar o Brasil **com** apenas um título que... –, a preposição “com” forma uma expressão cujo sentido indica

- (A) lugar.
- (B) modo.
- (C) conformidade.
- (D) instrumento.
- (E) causa.

09. Assinale a alternativa em que os verbos destacados, flexionados em conformidade com a norma-padrão, mantêm a mesma relação de tempo e modo que os destacados em: E eu nem **sei** onde fica o mar Cáspio, embora também não **saiba** onde fica o Brasil.

- (A) E eu nem me ative à localização do mar Cáspio, embora também não me atenho à localização do Brasil.
- (B) E eu nem guardei a localização do mar Cáspio, embora também não guarde a localização do Brasil.
- (C) E eu nem conheço a localização do mar Cáspio, embora também não conheço a localização do Brasil.
- (D) E eu nem vi a localização do mar Cáspio, embora também não vejo a localização do Brasil.
- (E) E eu nem disponho da localização do mar Cáspio, embora também não disponha da localização do Brasil.

10. Comecei _____ conversar com a aluna e entendi que caberia a mim escolher o título de seu estudo. Perguntei _____ ela o que achava de “Garruchas e punhais”. Não gostou. Então, dei outra sugestão _____ moça: “O mosteiro de tijolos de feltro”.

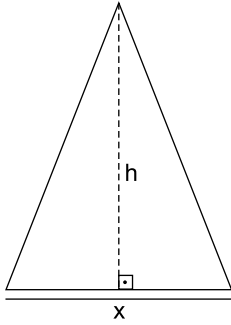
De acordo com a norma-padrão, as lacunas da frase devem ser preenchidas, respectivamente, com:

- (A) a ... a ... àquela
- (B) à ... a ... àquela
- (C) a ... à ... aquela
- (D) à ... à ... aquela
- (E) a ... à ... àquela

11. Para se classificar para a segunda fase de certo concurso, um candidato deveria acertar, no mínimo, $\frac{3}{4}$ das questões da prova objetiva da primeira fase. Arnaldo, que fez a prova, deu respostas erradas para $\frac{3}{8}$ das questões. Constatou, então, que, se tivesse acertado 5 questões a mais do que efetivamente acertou, teria obtido o número de acertos mínimo para se classificar para a fase seguinte. O número de questões que Arnaldo acertou, nessa prova, foi igual a
- (A) 12.
(B) 15.
(C) 18.
(D) 20.
(E) 25.
12. Walter e Xavier emprestaram, juntos, um total de R\$ 8.000,00 para seu amigo Tadeu, sem cobrança de juros, sendo que a quantia emprestada por Xavier foi R\$ 1.600,00 maior que a de Walter. Valendo-se de seu 13º salário, Tadeu fez um pagamento de valor igual a R\$ 6.500,00, sendo essa quantia dividida entre Walter e Xavier de forma diretamente proporcional aos respectivos valores emprestados. Para que o valor emprestado por Xavier seja totalmente quitado, ainda faltam
- (A) R\$ 600,00.
(B) R\$ 700,00.
(C) R\$ 800,00.
(D) R\$ 900,00.
(E) R\$ 1.000,00.
13. Berenice verificou que os preços de venda da lata do refrigerante R eram iguais nos mercados A e B. Mas, no mercado A, havia a seguinte promoção para esse produto: “Leve quatro e pague três”. Já, no mercado B, a promoção para o mesmo produto era: “Leve cinco e pague quatro”. Berenice calculou, corretamente, o desconto porcentual dado no preço unitário de venda desse produto em cada promoção e decidiu, pela maior economia, que compraria no mercado
- (A) A, que estava dando um desconto de 20%.
(B) B, que estava dando um desconto de 25%.
(C) A ou no B, visto que os descontos dados eram iguais.
(D) A, que estava dando um desconto de 25%.
(E) B, que estava dando um desconto de 30%.

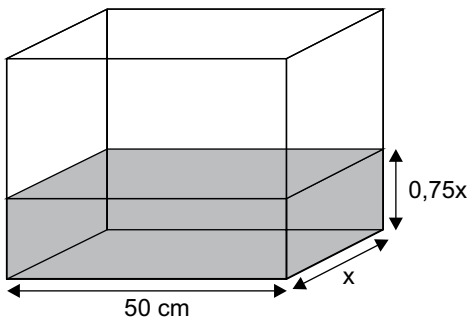
14. Em uma indústria, 5 máquinas iguais, de mesmo rendimento, produzem n unidades de certo produto em 9 horas de funcionamento ininterrupto. Se a empresa passar a operar com somente 4 dessas máquinas, o tempo de funcionamento necessário para produzir n unidades desse mesmo produto será de
- (A) 12h e 10min.
 - (B) 11h e 25min.
 - (C) 11h e 15min.
 - (D) 10h e 50min.
 - (E) 10h e 25min.
15. Uma equipe de certa modalidade esportiva tem 16 atletas. Um deles se contundiu gravemente, precisando ficar muito tempo em recuperação, e foi substituído por outro atleta de 19 anos. Com a substituição, a média aritmética das idades dos atletas desse time diminuiu $\frac{1}{2}$ ano.
- Nessas condições, é correto afirmar que a idade do atleta que se contundiu é
- (A) 27 anos.
 - (B) 25 anos.
 - (C) 24 anos.
 - (D) 22 anos.
 - (E) 20 anos.
16. O número de funcionários que deveriam assistir à projeção de um audiovisual corporativo era 80% maior que o número de assentos disponíveis no auditório da empresa. Decidiu-se, então, dividir esses funcionários em dois grupos de igual número e fazer duas sessões. Sabendo-se que todos os funcionários assistiram à apresentação e que, em cada sessão, restaram 5 assentos vazios, é correto afirmar que o número de assentos disponíveis nesse auditório era igual a
- (A) 50.
 - (B) 55.
 - (C) 60.
 - (D) 75.
 - (E) 80.

17. Considere um número natural x , que é 20 unidades menor que o seu quadrado, e suponha que esse número x corresponda à medida, em centímetros, da base de um triângulo, cuja área é de 20 cm^2 .



Nessas condições, é correto afirmar que a medida da altura desse triângulo, indicada por h na figura é, em centímetros, igual a

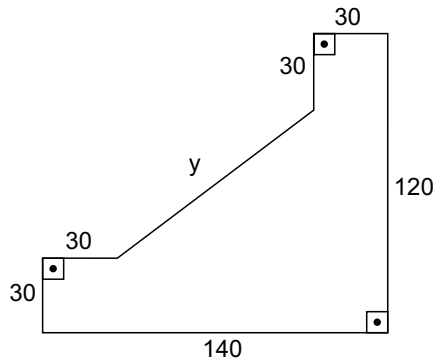
- (A) 5.
(B) 6.
(C) 8.
(D) 9.
(E) 10.
18. Um recipiente com formato de paralelepípedo reto-retângulo contém 15000 cm^3 de água, que atingiu um nível de altura, em centímetros, igual a $0,75x$, conforme mostra a figura.



Nessas condições, é correto afirmar que a medida em centímetros da largura desse recipiente, indicada por x na figura, é igual a

- (A) 18.
(B) 20.
(C) 24.
(D) 25.
(E) 30.

19. Na figura a seguir, com dimensões indicadas em metros, está representada uma pista para caminhadas existente em um parque.



Uma pessoa que der 5 voltas completas nessa pista terá percorrido uma distância, em quilômetros, igual a

- (A) 1,9.
(B) 2,4.
(C) 2,6.
(D) 2,8.
(E) 3,1.
20. O valor de um prêmio de loteria foi totalmente dividido entre Camilo e Sávio na razão de 9 para 8, nessa ordem. Sabendo-se que Camilo recebeu R\$ 20.000,00 a mais que Sávio, é correto afirmar que o valor total desse prêmio foi igual a
- (A) R\$ 180.000,00.
(B) R\$ 220.000,00.
(C) R\$ 260.000,00.
(D) R\$ 320.000,00.
(E) R\$ 340.000,00.

LEGISLAÇÃO

21. De acordo com o Código de Ética dos Servidores Municipais de Marília, está correto afirmar que

- (A) é vedado ao servidor público municipal, comunicar imediatamente a seus superiores todo e qualquer ato ou fato contrário ao interesse público, exigindo providências cabíveis.
- (B) a responsabilidade civil será apurada quando o ato cometido for doloso e que resulte em dano aos princípios morais da Administração Pública.
- (C) tratando-se de dano causado a terceiros, responderá o servidor, perante a Fazenda Pública, em ação disciplinar.
- (D) caracteriza-se especialmente a responsabilidade do servidor, dentre outras, pela falta ou inexatidão das necessárias averbações nas notas de despacho, guias e outros documentos da receita, ou que tenham com eles relação.
- (E) se no curso do processo administrativo disciplinar, o acusado interferir no desenvolvimento dos trabalhos, a Comissão deverá afastá-lo de suas funções, com prejuízo da remuneração, pelo prazo necessário ao encerramento do processo.

22. De acordo com a Lei Orgânica do Município de Marília, dependerá do voto favorável de dois terços dos membros da Câmara, votação qualificada, a aprovação ou alteração da seguinte deliberação:

- (A) Estatuto dos Funcionários Públicos.
- (B) Rejeição de veto.
- (C) Código de Obras ou de Edificações.
- (D) obtenção de empréstimo de banco público.
- (E) realização de sessão secreta.

23. No que tange às disposições da Lei Orgânica do Município de Marília, assinale a alternativa correta.

- (A) O dever do Município com a educação será efetivado mediante a garantia de ensino fundamental e médio obrigatórios, com duração de quatorze anos, iniciando-se aos sete anos de idade.
- (B) O ensino oficial, no Município de Marília, será gratuito em todos os graus e atuará, prioritariamente, no ensino pré-escolar e supletivo.
- (C) Ao Município de Marília compete suplementar, quando necessário, a legislação federal e a estadual, dispondo sobre a cultura.
- (D) Poderá ser criado um fundo de Previdência dos Vereadores, Prefeito e Vice-Prefeito, com recursos públicos.
- (E) As desapropriações de imóveis urbanos, no Município de Marília, serão feitas com prévio pagamento em títulos públicos.

24. Conforme disposições contidas no Regimento Interno da Câmara Municipal de Marília, pode-se afirmar corretamente que

- (A) cada Vereador poderá falar sobre a ata, somente duas vezes para pedir sua verificação ou impugná-la.
- (B) as sessões camarárias serão gravadas em vídeo ou em DVD pela TV Câmara e arquivadas no setor competente, juntamente com o resumo sucinto dos assuntos.
- (C) nas sessões ordinárias, os representantes da imprensa, do rádio e da televisão, não terão lugares reservados, devendo ocupar o mesmo espaço para o público.
- (D) o expediente, parte da sessão ordinária, terá a duração de quatro horas, prorrogáveis por mais uma hora se necessário.
- (E) cada Vereador poderá fazer uso da palavra durante quarenta minutos, para versar sobre qualquer assunto, concluindo com pedido de requerimento.

25. Os projetos de resolução disporão sobre matérias de interesse interno da Câmara e os projetos de decreto legislativo sobre os demais casos de sua competência privativa. Conforme as disposições do Regimento Interno da Câmara Municipal de Marília, constitui matéria de projeto de decreto legislativo

- (A) a destituição dos membros da Mesa da Câmara.
- (B) os assuntos de economia geral da Câmara.
- (C) a aprovação ou rejeição das contas do Prefeito e da Mesa da Câmara.
- (D) a organização, criação e extinção dos cargos de serviços da Câmara.
- (E) a fixação e aumento de remuneração, extinção ou concessão de vantagens.

26. Print Screen é uma tecla que permite fazer captura em forma de imagem da tela do computador. Pode aparecer nos teclados como Print, PrtScr, entre outras formas. No MS-Windows 7, em sua configuração padrão, ao se utilizar o atalho _____, será feita a captura apenas da tela da janela ativa.

Assinale a alternativa que preenche corretamente a lacuna.

- (A) CTRL + Print Screen
- (B) F2 + Print Screen
- (C) Home + Print Screen
- (D) End + Print Screen
- (E) ALT + Print Screen

27. No MS-Word 2010, em sua configuração padrão, o recurso que permite inserir texto fantasma atrás do conteúdo da página, usado geralmente para indicar um tratamento especial ao documento, como urgente ou confidencial, por exemplo, é chamado de

- (A) Marca D'água.
- (B) Caixa de Texto.
- (C) WordArt.
- (D) SmartArt.
- (E) Indicador.

28. Observe a planilha exibida a seguir, sendo editada por meio do MS-Excel 2010, em sua configuração padrão.

	A	B	C
1	10	40	
2	20	50	
3	30	60	

Assinale a alternativa que contém o valor que será exibido na célula C1, após esta ser preenchida com a fórmula =SE(SOMA(A2:B2)>70;MENOR(A1:A3;1);MAIOR(A1:B2;2))

- (A) 10
- (B) 20
- (C) 40
- (D) 50
- (E) 60

29. A imagem a seguir, retirada do MS-PowerPoint 2010, em sua configuração original, permite visualizar o Modo de Exibição selecionado.



Assinale a alternativa que apresenta o nome do Modo de Exibição selecionado conforme a imagem exibida.

- (A) Modo de Exibição de Leitura.
- (B) Apresentação de Slides.
- (C) Classificação de Slides.
- (D) Normal.
- (E) Rascunho.

30. Para facilitar e tornar mais rápida a navegação em algum site específico que seja muito acessado, pode-se escolher a página inicial exibida ao se abrir o navegador da internet. No Internet Explorer 11, em sua configuração padrão, é possível alterar a página inicial a ser exibida. Para isso, deve-se clicar no botão Ferramentas, escolher Opções da Internet e, na janela que se abre, escolher a guia Geral e fazer a alteração necessária na seção

- (A) Histórico.
- (B) Home page.
- (C) Iniciar.
- (D) Privacidade.
- (E) Segurança.

CONHECIMENTOS ESPECÍFICOS

31. Os registros contábeis devem ser escriturados com tempestividade e integridade por ocasião das ocorrências transacionais de uma entidade. Pode-se afirmar que isso é uma característica clara do princípio contábil

- (A) da observância.
- (B) do custo histórico como base de valor.
- (C) da prudência.
- (D) da competência.
- (E) da oportunidade.

32. Assinale a alternativa correta, relacionada às formalidades do registro contábil.

- (A) Uniformidade – os registros e as informações contábeis devem possibilitar a análise da situação patrimonial de entidades do setor público ao longo do tempo e estaticamente, bem como a identificação de semelhanças e diferenças dessa situação patrimonial com a de outras entidades.
- (B) Representatividade – os registros contábeis e as informações apresentadas devem conter todos os aspectos, por mínimos que sejam, devido à complexidade de interpretação.
- (C) Integridade – os registros contábeis devem ser realizados e as informações devem ser apresentadas de modo a não privilegiar interesses específicos e particulares de agentes e/ou entidades.
- (D) Objetividade – o registro deve representar a realidade dos fenômenos patrimoniais em função de critérios técnicos contábeis preestabelecidos em normas ou com base em procedimentos adequados, sem que incidam preferências individuais que provoquem distorções na informação produzida.
- (E) Confiabilidade – os registros contábeis realizados e as informações apresentadas devem representar fielmente o fenômeno contábil que lhes deu origem.

33. Considerando os conceitos contábeis de ativos e passivos, diante das normas de contabilidade brasileiras, assinale a alternativa que apresenta uma conceituação correta.

- (A) No caso de reavaliação de bens de ativo fixo de investida adquirida com ágio, a reserva de reavaliação deve ser registrada em contrapartida ao resultado.
- (B) A indenização de terceiros por itens do ativo imobilizado que tenham sido desvalorizados, perdidos ou abandonados deve ser reconhecida no patrimônio líquido quando a indenização se tornar recebível.
- (C) Ganhos ou perdas decorrentes da baixa de um item do ativo imobilizado devem ser reconhecidos no resultado quando o item é baixado (a menos que a NBC TG 06 – Operações de Arrendamento Mercantil exija de outra forma em operação de venda e *leaseback*). Os ganhos devem ser classificados como receita de venda.
- (D) A mensuração dos estoques de produtos industrializados (produto acabado) deve ser pelo valor de custo ou de realização, dos dois o maior.
- (E) Pelo método da equivalência patrimonial, o investimento em coligada, em empreendimento controlado em conjunto e em controlada (neste caso, no balanço individual) deve ser inicialmente reconhecido pelo custo, e o seu valor contábil será aumentado ou diminuído pelo reconhecimento da participação do investidor nos lucros ou prejuízos do período, gerados pela investida após a aquisição.

34. Uma indústria de acessórios para autos, que fabrica quatro tipos de produtos (A, B, C, D), apresentou as seguintes informações, fornecidas pela área de custos, a respeito da produção desses produtos:

Mão de obra e materiais diretos aplicados nos produtos:

Informações sobre os produtos				
	A	B	C	D
MOD	R\$ 20,00	R\$ 30,00	R\$ 40,00	R\$ 50,00
MD	R\$ 40,00	R\$ 60,00	R\$ 60,00	R\$ 80,00
Unid. Produzidas	100	200	300	200

Sabe-se ainda que os gastos gerais de fabricação – GGF totalizaram, no mês, R\$ 19.000,00, e o critério estabelecido para a sua distribuição foi pela MOD.

Considerando isso, calcule os custos totais e unitários, respectivamente, dos produtos A e C.

- (A) R\$ 7.266,67 e R\$ 109,00; R\$ 32.333,33 e R\$ 125,33.
- (B) R\$ 21.800,00 e R\$ 109,00; R\$ 37.600,00 e R\$ 161,67.
- (C) R\$ 7.266,67 e R\$ 72,67; R\$ 37.600,00 e R\$ 125,33.
- (D) R\$ 37.600,00 e R\$ 125,33; R\$ 7.266,67 e R\$ 109,00.
- (E) R\$ 22.360,00 e R\$ 72,67; R\$ 33.800,00 e R\$ 125,60.

35. No caso de uma empresa industrial que não mantenha uma escrituração de seus custos integrada e coordenada com o restante de sua escrituração contábil, os produtos acabados constantes dos estoques dessa indústria deverão ser avaliados

- (A) em setenta por cento do maior preço de venda no período de apuração.
- (B) a uma vez e meia o maior custo das matérias-primas.
- (C) pelo valor de mercado, tomando-se por base o menor valor apresentado.
- (D) por uma margem de contribuição de, no mínimo, 1,2, tomando-se por base as principais matérias-primas para sua produção.
- (E) pela média ponderada dos custos de produção do período de apuração.

36. A necessidade de evidenciar com qualidade os fenômenos patrimoniais e a busca por um tratamento contábil padronizado dos atos e fatos administrativos no âmbito do setor público tornou imprescindível a _____ com abrangência nacional, que apresenta(m) uma metodologia, estrutura, regras, conceitos e funcionalidades que possibilitam a obtenção de dados que atendam aos diversos usuários da informação contábil.

Assinale a alternativa que preenche corretamente a lacuna.

- (A) elaboração de um plano de contas
- (B) implementação de um sistema integrado
- (C) divulgação dos balanços públicos
- (D) utilização dos princípios contábeis que norteiam as contas públicas
- (E) implementação de um controle financeiro e orçamentário

37. O benefício econômico futuro incorporado a um ativo é o seu potencial em contribuir, direta ou indiretamente, para _____ para a entidade. Tal potencial pode ser produtivo, quando o recurso for parte integrante das atividades _____ da entidade. Pode também ter a forma de conversibilidade em caixa ou equivalentes de caixa ou pode ainda ser capaz de reduzir as saídas de caixa, como no caso de processo industrial alternativo que reduza os custos de produção.

Assinale a alternativa que preenche, correta e respectivamente, as lacunas.

- (A) a geração de lucro operacional ... financeiras
- (B) a geração de valor adicionado ... econômicas
- (C) a criação de valor adicionado ... operacionais
- (D) o fluxo de caixa ou equivalentes de caixa ... operacionais
- (E) o fluxo de caixa direto ... financeiras

38. Numa transação comercial, especificamente de serviços, na assinatura do contrato entre as partes – prestador e tomador dos serviços –, ficou acordado em cláusula contratual um pagamento inicial pela Contratante à Contratada equivalente a 50% do valor total do contrato, com a emissão da nota fiscal suportando esse valor. Não há incidência de impostos no exemplo hipotético. Diante disso, e considerando que os serviços não foram iniciados, a contabilização da operação em contrapartida da rubrica de disponibilidades, na Contratada, dar-se-á em:

- (A) Receita a realizar – Resultado.
- (B) Adiantamento a fornecedor – Passivo circulante ou não circulante.
- (C) Receita de exercício futuro – Passivo não exigível.
- (D) Receita a apropriar – Passivo circulante ou não circulante.
- (E) Receita de venda de serviços – Resultado.

Com base nas informações descritas a seguir, acerca da aquisição de um ativo fixo para a empresa Faço Tudo S.A., responda às questões de números **39** e **40**.

- Bem adquirido: equipamento de corte de aço a laser.
- Custo de aquisição do bem: R\$ 1.500.000,00;
- Impostos: ICMS (dentro do Estado) recuperável é de 18% do valor do bem;
- PIS e COFINS: não há incidência;
- Frete e seguro por conta do comprador: 5% do valor do bem;
- Mão de obra interna do comprador para colocar a máquina em funcionamento: R\$ 24.500,00;
- A vida útil calculada para o bem foi de 20 anos (utilizar apenas uma casa após a vírgula, para cálculo da depreciação);
- O valor residual do bem: 10% do valor bruto do equipamento;
- Data da entrada em operação da máquina: 25 de janeiro de 2015.

39. O valor do bem a ser contabilizado por ocasião da compra é

- (A) R\$ 1.234.500.
- (B) R\$ 1.289.200.
- (C) R\$ 1.310.100.
- (D) R\$ 1.329.500.
- (E) R\$ 1.339.300.

40. Calcule o valor do encargo de depreciação pelo método linear, a ser reconhecido no resultado do exercício em 31 de dezembro de 2015.

- (A) R\$ 52.045,30.
- (B) R\$ 54.060,42.
- (C) R\$ 54.160,44.
- (D) R\$ 55.101,20.
- (E) R\$ 55.200,50.

Com base nas informações do balancete em 31 de dezembro de 2015, apresentado a seguir, realize o encerramento das contas do resultado para o fechamento do balanço (note que não há distribuição de lucros) e responda às questões de números 41 e 42.

Balancete em 31/12/2015	
Conta contábil	Reais
Ativo intangível	20.000,00
Outras despesas operacionais	19.000,00
Estoques	30.000,00
Títulos a receber LP	7.000,00
Impostos sobre vendas	90.000,00
Receitas de vendas	(350.000,00)
Fornecedores	(8.000,00)
Aplicações financeiras	34.000,00
Despesas administrativas e gerais	44.000,00
Financiamentos LP	(15.000,00)
Impostos a recolher	(12.000,00)
Bancos	4.000,00
Provisão para contingências trabalhistas	(8.000,00)
Devoluções de vendas	15.000,00
Caixa	1.000,00
Imobilizado	72.000,00
Depósitos judiciais	2.000,00
Ajuste de avaliação	(24.000,00)
CPV	120.000,00
Salários a pagar	(12.000,00)
Despesas de vendas	30.000,00
Lucros a distribuir	(13.500,00)
Despesas com Imposto de Renda e contribuição social sobre o lucro líquido	18.500,00
Contas a receber	50.000,00
Investimentos	15.000,00
Capital	(100.000,00)
Financiamentos	(4.000,00)
Receitas financeiras	(25.000,00)

41. Assinale a alternativa que apresenta, respectivamente, os totais do Ativo não circulante e do Patrimônio líquido.

- (A) R\$ 116.000,00; R\$ 110.000,00.
- (B) R\$ 123.000,00; R\$ 176.000,00.
- (C) R\$ 176.000,00; R\$ 214.500,00.
- (D) R\$ 123.000,00; R\$ 200.000,00.
- (E) R\$ 116.000,00; R\$ 176.000,00.

42. O valor do Lucro bruto é

- (A) R\$ 105.000,00.
- (B) R\$ 125.000,00.
- (C) R\$ 185.000,00.
- (D) R\$ 195.000,00.
- (E) R\$ 215.000,00.

Uma determinada empresa apresentou, em 31 de dezembro de 2015, as seguintes informações contábeis extraídas do balancete de verificação naquela data:

- Capital circulante líquido – R\$ 15.000,00;
- Passivo circulante – (R\$ 80.000,00);
- Ativo total – R\$ 180.000,00;
- Patrimônio líquido – (R\$ 70.000,00);
- Disponibilidades – R\$ 9.000,00;
- Estoques – R\$ 12.000,00;
- Imobilizado – R\$ 50.000,00;
- Lucro líquido – (R\$ 15.000,00);
- Ativo total do ano anterior – R\$ 160.000,00;
- Vendas – (R\$ 185.000,00).

Com base nessas informações, responda às questões de números 43 a 45. Para responder às questões, considere apenas duas casas após a vírgula, bem como a regra de arredondamento dos valores ou índices.

43. Assinale a alternativa que apresenta o índice de liquidez imediata, em Reais.

- (A) 0,09.
- (B) 0,10.
- (C) 0,11.
- (D) 0,13.
- (E) 0,14.

44. Assinale a alternativa que apresenta o índice de liquidez seca, em Reais

- (A) 1,04.
- (B) 1,06.
- (C) 1,09.
- (D) 1,11.
- (E) 1,13.

45. A alternativa que apresenta corretamente o giro do ativo é
- (A) 0,89.
 - (B) 0,90.
 - (C) 0,98.
 - (D) 1,09.
 - (E) 1,12.

46. Conforme Regulamento do Imposto de Renda – RIR – Decreto 3.000/00, assinale a alternativa correta.

- (A) As pessoas jurídicas, de acordo com o RIR, poderão optar pela inscrição no Sistema Integrado de Pagamento de Impostos e Contribuições das Microempresas e Empresas de Pequeno Porte – SIMPLES, sujeitando-se ao pagamento trimestral simplificado dos impostos e contribuições federais, entre os quais o imposto de renda devido pelas pessoas jurídicas.
- (B) A incidência do imposto na fonte relativa aos rendimentos e ganhos líquidos auferidos em aplicações de renda fixa ou variável e aos ganhos de capital não será definitiva, uma vez que constará sua atualização com o imposto anual devido, na declaração de ajuste anual do imposto de renda.
- (C) O imposto de renda das pessoas jurídicas, e das sociedades civis em geral, exceto das sociedades equiparadas e cooperativas, em relação aos resultados obtidos nas operações ou atividades estranhas à sua finalidade, será devido à medida que os lucros sejam apurados.
- (D) O imposto será determinado com base no lucro real, presumido ou arbitrado. Nos casos de incorporação, fusão ou cisão, a apuração da base de cálculo e do imposto devido será efetuada na data da apuração anual do imposto, ao final do exercício em que ocorrer a incorporação, fusão e cisão.
- (E) Considera-se receita bruta, conforme disposto no RIR, o produto da venda de bens e serviços nas operações de conta própria, o preço dos serviços prestados e o resultado nas operações em conta alheia, não incluídas as vendas canceladas e os descontos incondicionais concedidos.

Para responder às questões de números 47 e 48, utilize as informações seguintes, sobre o fechamento contábil da empresa Industrial Lucra Tudo Ltda., que está enquadrada na sistemática do Lucro Real, na hipótese do cálculo, numa base anual, em 31 de dezembro de 2015, do Imposto de Renda – IR e da Contribuição Social sobre o Lucro Líquido – CSLL.

- Lucro antes do IR e da CSLL – R\$ 500.000,00;
- Exclusões temporárias – R\$ 45.000,00;
- Provisão contábil para garantia – R\$ 13.100,00;
- Provisão contábil para ajuste de estoques obsoletos – R\$ 7.400,00;
- Provisão de férias – R\$ 45.000,00;
- Provisão contábil para contingência trabalhista – R\$ 9.500,00;
- Resultado credor de equivalência patrimonial – R\$ 40.000,00.

47. Assinale a alternativa que apresenta o valor do Imposto de Renda e do adicional do Imposto de Renda em 31 de dezembro de 2015 da empresa.

- (A) R\$ 74.300,00.
- (B) R\$ 85.750,00.
- (C) R\$ 87.250,00.
- (D) R\$ 101.340,00.
- (E) R\$ 111.250,00.

48. Assinale a alternativa que apresenta o valor da Contribuição Social sobre o Lucro Líquido em 31 de dezembro de 2015 da empresa.

- (A) R\$ 38.550,00.
- (B) R\$ 40.050,00.
- (C) R\$ 40.071,00.
- (D) R\$ 43.050,00.
- (E) R\$ 45.000,00.

49. Dos princípios orçamentários abordados pelas leis que tratam do orçamento público, há um princípio que determina que a LOA de cada ente federado deverá conter todas as receitas e despesas de todos os poderes, órgãos, entidades, fundos e fundações instituídas e mantidas pelo Poder Público. Trata-se do princípio

- (A) da exclusividade.
- (B) da legalidade.
- (C) da universalidade.
- (D) da transparência.
- (E) do orçamento bruto.

50. Compreende o ambiente de controle; mapeamento e avaliação de riscos; procedimentos de controle; informação e comunicação; e monitoramento. O texto trata
- (A) dos procedimentos de auditoria.
 - (B) da estrutura de controle interno.
 - (C) da gestão de risco.
 - (D) da auditoria interna.
 - (E) do ambiente de controle.
51. De acordo com a Lei de Responsabilidade Fiscal (LC 101/2000), a apuração da receita corrente líquida dar-se-á
- (A) somando-se as receitas arrecadadas no mês em referência e nos onze anteriores, excluídas as duplicidades.
 - (B) somando-se as receitas líquidas das devoluções, no mês corrente, bem como as previstas nos próximos 11 meses, excluídas as não orçamentárias.
 - (C) pelo somatório das receitas tributárias arrecadadas no mês em referência, somando-se as dos meses anteriores desde o início do ano, bem como as arrecadadas até o final do exercício.
 - (D) pelo somatório das receitas tributárias, de contribuições e patrimoniais, bem como as transferências de capital, do ano corrente.
 - (E) pelo cálculo dos valores recebidos e dos valores pagos em decorrência da arrecadação tributária e de capital em decorrência da lei do orçamento.
52. De acordo com a LDO, a despesa com pessoal da administração direta e indireta cumprirá o disposto na LC 101/2000, que estabelece, como limite de despesa com pessoal para o município, 60% da
- (A) receita orçamentária.
 - (B) arrecadação de contribuições dos segurados.
 - (C) receita tributária bruta.
 - (D) receita para custeamento de pessoal.
 - (E) receita corrente líquida.
53. Trata-se de disponibilidades de recursos financeiros que ingressam durante o exercício orçamentário. É um instrumento por meio do qual se viabiliza a execução das políticas públicas, além de atender às necessidades públicas e demandas da sociedade. Pode-se entender, pela leitura do texto, que este trata
- (A) da disponibilidade de caixa público.
 - (B) das fontes de financiamento público.
 - (C) da receita orçamentária.
 - (D) do excesso de arrecadação.
 - (E) do fluxo financeiro orçamentário.
54. De acordo com a LC 101/2000, art. 22, o cumprimento do limite de despesa com pessoal, estabelecido também por essa Lei, será verificado
- (A) mensalmente.
 - (B) ao final de cada trimestre.
 - (C) ao final de cada quadrimestre.
 - (D) semestralmente.
 - (E) ao final do exercício corrente.
55. A dívida pública, segundo as definições constantes da Lei de Responsabilidade Fiscal – LC 101/2000, representada por títulos emitidos pela União, inclusive os do Banco Central do Brasil, Estados e Municípios, refere-se
- (A) à dívida pública mobiliária.
 - (B) à dívida imobiliária.
 - (C) ao refinanciamento com garantia.
 - (D) à operação de arrendamento financeiro.
 - (E) ao mútuo financeiro.
56. De quais disponibilidades de caixa é vedada sua aplicação em títulos da dívida pública estadual e municipal, em ações e outros papéis relativos às empresas controladas pelo respectivo ente da Federação, bem como empréstimos de qualquer natureza, conforme trata o capítulo VIII – da Gestão Patrimonial, da LC 101/2000?
- (A) Dos regimes de previdência social, geral e próprio dos servidores públicos.
 - (B) Das sobras de caixa por empenhos não executados no exercício corrente (restos a pagar).
 - (C) Das operações de crédito contratuais.
 - (D) Das operações de mútuos financeiros.
 - (E) Das receitas extraorçamentárias previdenciárias e imobiliárias.
57. A Lei que institui a modalidade de licitação denominada pregão, para aquisição de bens e serviços comuns, determina, no artigo 6º, que as propostas apresentadas pelas partes interessadas em fornecer bem ou serviços terão validade, caso não haja outro prazo estipulado em edital, de
- (A) 30 dias.
 - (B) 45 dias.
 - (C) 60 dias.
 - (D) 90 dias.
 - (E) 120 dias.

- 58.** Os créditos e valores realizáveis independentemente de autorização orçamentária e os valores numerários estão classificados, de acordo com a Lei nº 4.320/64, no
- (A) balanço orçamentário.
 - (B) balanço patrimonial.
 - (C) balanço financeiro.
 - (D) demonstrativo de mutações patrimoniais.
 - (E) demonstrativo dos ativos de capital e de transferência.
- 59.** Com base nos preceitos da Contabilidade Pública, assinale a alternativa correta.
- (A) Os registros contábeis, bem como as variações patrimoniais, de acordo com a Lei nº 4.320/64, submetem-se aos princípios contábeis geralmente aceitos, em particular aqueles específicos e análogos às atividades empresariais.
 - (B) A Lei nº 4.320/64 estabeleceu importantes regras para propiciar o controle das finanças públicas, bem como a construção de uma administração financeira e contábil sólida no País, tendo como principal instrumento o orçamento público.
 - (C) Cabe à contabilidade pública e a seus demonstrativos financeiros fornecer meios para o monitoramento e o controle de recursos públicos, objetivando assim evitar o desvio no uso desses recursos.
 - (D) A edição da Lei nº 4.320/64 foi um importante avanço na área das finanças públicas, estabelecendo para toda a Federação, direta ou indiretamente, limites de dívida consolidada, garantias, operações de crédito, restos a pagar e despesas de pessoal, dentre outros, com o intuito de propiciar o equilíbrio das finanças públicas e instituir instrumentos de transparência da gestão fiscal.
 - (E) O plano de contas editado pela Lei nº 4.320/64 possibilitou a padronização do registro contábil dos bens públicos e dos demonstrativos a eles associados.
- 60.** De acordo com a Lei Complementar nº 101/2000, anistia, remissão, subsídio, crédito presumido, concessão de isenção em caráter não geral, alteração de alíquota ou modificação de base de cálculo que implique redução discriminada de tributos ou contribuições, e outros benefícios que correspondam a tratamento diferenciado, estão compreendidos como
- (A) débito fiscal.
 - (B) suspensão de débitos fiscais.
 - (C) benefício fiscal.
 - (D) privilégio fiscal permanente.
 - (E) renúncia da receita.

