

IPSMI

INSTITUTO DE PREVIDÊNCIA DOS SERVIDORES MUNICIPAIS DE ITAQUAQUECETUBA
ESTADO DE SÃO PAULO

CONCURSO PÚBLICO

005. PROVA OBJETIVA

MOTORISTA

- ◆ Você recebeu sua folha de respostas e este caderno contendo 50 questões objetivas.
- ◆ Confira seus dados impressos na capa deste caderno e na folha de respostas.
- ◆ Quando for permitido abrir o caderno, verifique se está completo ou se apresenta imperfeições. Caso haja algum problema, informe ao fiscal da sala.
- ◆ Leia cuidadosamente todas as questões e escolha a resposta que você considera correta.
- ◆ Marque, na folha de respostas, com caneta de tinta azul ou preta, a letra correspondente à alternativa que você escolheu.
- ◆ A duração da prova é de 3 horas, já incluído o tempo para o preenchimento da folha de respostas.
- ◆ Só será permitida a saída definitiva da sala e do prédio após transcorridos 75% do tempo de duração da prova.
- ◆ Ao sair, você entregará ao fiscal a folha de respostas e este caderno, podendo levar apenas o rascunho de gabarito, localizado em sua carteira, para futura conferência.
- ◆ Até que você saia do prédio, todas as proibições e orientações continuam válidas.

AGUARDE A ORDEM DO FISCAL PARA ABRIR ESTE CADERNO DE QUESTÕES.

Nome do candidato

Prédio

Sala

Carteira

Inscrição

CONHECIMENTOS GERAIS

LÍNGUA PORTUGUESA

Leia o texto a seguir para responder às questões de números 01 a 05.

A velhice, de acordo com o pensamento de alguns, é uma fase de recolhimento, anulação e privações. Pode ser uma longa espera para o inevitável, um tempo de sossego e meditação forçada. Felizmente, nem todos pensam assim. Desde a antiguidade, sábios e espirituosos pensam até o contrário.

Se observarmos a vida dos idosos atualmente, podemos facilmente perceber que o que pensam os sábios está mais próximo da realidade dos fatos de hoje. Com o aumento da qualidade e da expectativa de vida das populações e com as mudanças de mentalidade em relação ao modo de viver, a velhice agora pode ser sinônimo de vida ativa, saudável e feliz, em toda a sua plenitude. O idoso pode então ser visto como alguém que, depois de uma parcela do tempo de vida empregada ao trabalho e à dedicação à família, desfruta uma etapa de lazer, interação social, aprendizagem despreocupada, busca de conhecimento interior e felicidade despreendida.

É claro e evidente que todos esses benefícios só poderão ser conquistados se a velhice for acompanhada, necessariamente, de boa saúde e lucidez. E o segredo de uma velhice saudável, todos nós sabemos, é baseado em uma regra simples, de três recomendações: alimentação equilibrada, prática de atividades físicas compatíveis e períodos de repouso restauradores.

Prolongar essa etapa importante da vida tem uma receita mais simples ainda: atividade e felicidade. E, para manter a lucidez, devemos ocupar a mente com atividades nobres.

A vida moderna e o apoio institucional e social ao idoso transformaram a velhice em um período possível de vida ativa, em que podemos manter o nosso corpo fortalecido e saudável e continuar desfrutando os melhores prazeres da vida. Esses benefícios juntos nos permitem manter afastada a trágica ideia da morte próxima.

(Maria Terezinha Santellano.

Disponível em: <http://www.portalterceiridade.org.br>. Adaptado)

01. De acordo com informações do primeiro e segundo parágrafos, a autora

- (A) defende a velhice como um momento de clausura e de introspecção.
- (B) acredita que a velhice é um período que deve ser dedicado à espera da morte.
- (C) apoia a ideia de que a velhice pode ser uma fase de vida ativa.
- (D) explica por que os sábios enxergam a velhice como um tempo de apatia.
- (E) conclui que a velhice é tempo de dedicação ao trabalho e à família.

02. Segundo informações do texto,

- (A) apesar de toda modernidade e desenvolvimento, viver bem é incompatível com a velhice.
- (B) a expectativa de vida aumentou, mas isso não interferiu no modo de viver das pessoas idosas.
- (C) o prolongamento da vida depende do trabalho exercido pela pessoa enquanto jovem.
- (D) saúde e lucidez são condições essenciais para que a velhice seja um período prazeroso.
- (E) nada é capaz de distanciar o idoso da preocupação com a morte próxima.

03. No trecho do quinto parágrafo – A vida moderna e o apoio institucional e social ao idoso **transformaram** a velhice... –, o termo destacado expressa uma ação

- (A) presente habitual.
- (B) futura hipotética.
- (C) futura pontual.
- (D) passada durativa.
- (E) passada pontual.

04. No trecho do segundo parágrafo, – Se observarmos a vida dos idosos **atualmente**... –, o termo destacado indica uma circunstância de tempo, assim como o termo destacado em:

- (A) ... podemos **facilmente** perceber que o que pensam os sábios... (2º parágrafo)
- (B) ... a velhice **agora** pode ser sinônimo de vida ativa... (2º parágrafo)
- (C) ... se a velhice for acompanhada, **necessariamente**, de boa saúde e lucidez. (3º parágrafo)
- (D) ... esses benefícios **só** poderão ser conquistados se a velhice... (3º parágrafo)
- (E) ... essa etapa importante da vida possui uma receita **mais** simples ainda... (4º parágrafo)

Leia a charge para responder à questão.



(Ziraldo. *Ensaio sobre a Velhice*.

Disponível em: <http://rede.novaescolaclub.org.br>. Acesso em 28.01.2016)

05. O primeiro texto desta prova e a charge de Ziraldo dialogam ao conceberem a velhice como uma fase

- (A) dedicada à espera da morte próxima.
- (B) insuportável por causa da falta de saúde.
- (C) marcada pelas preocupações com a família.
- (D) em que é possível viver momentos felizes.
- (E) marcada, principalmente, por desafios e conquistas.

Leia o trecho a seguir para responder às questões de números 06 e 07.

Cuidado

O sedentarismo está entre os principais fatores de risco que ameaçam _____ saúde. No entanto, é preciso ter cuidado ao começar _____ praticar atividades físicas.

“Exercícios sem orientação profissional ou visando resultado a qualquer custo, normalmente, levam _____ sobrecarga de peso e podem provocar lesões nos ombros, nos joelhos e na lombar”, diz Helder Montenegro, diretor do Instituto de Tratamento da Coluna Vertebral.

(Especialista aconselha quem quer deixar o sedentarismo. www.estadao.com.br, 08.01.16. Adaptado)

06. Assinale a alternativa que preenche, correta e respectivamente, as lacunas do texto.

- (A) a ...a ... à
- (B) à ...à ... à
- (C) a ...à ... a
- (D) à ...à ... a
- (E) à ...a ... à

07. Assinale a alternativa que reescreve o trecho destacado do texto, de acordo com a norma-padrão da língua portuguesa, mantendo seu sentido original.

- (A) O sedentarismo é uma das principais causas de risco à saúde, assim é preciso cautela ao começar a prática de exercícios.
- (B) O sedentarismo é uma das principais causas de risco à saúde, contudo é preciso cautela ao começar a prática de exercícios.
- (C) Conforme o sedentarismo seja uma das principais causas de risco à saúde, é preciso cautela ao começar a prática de exercícios.
- (D) O sedentarismo é uma das principais causas de risco à saúde, para isso é preciso cautela ao começar a prática de exercícios.
- (E) Se o sedentarismo fosse uma das principais causas de risco à saúde, seria preciso cautela ao começar a prática de exercícios.

Leia o texto a seguir para responder às questões de números 08 a 10.

Fiz um regime árduo durante um ano e perdi 23 quilos. Sem operação. Descobri o sabor de salmão ao vapor. Peixe grelhado sem aquela deliciosa crosta de farinha. Feijoada, eliminei. Acarajé, nem pensar. Enfim, boa parte das delícias da culinária nacional saiu de meu cardápio. Francesa também. Americana? Nem por decreto, embora tenha delírios pensando num *cheeseburger*. Coxinhas, empadinhas e pastéis, só em momentos especiais.

Pois é. Fiz o regime com dedicação absoluta. Pulei do número 58/60 para o 52 e, glorioso, refiz meu guarda-roupa. Meu rosto emagrece fácil. Alguns homens emagrecem e ficam com cara de buldogue. Eu não. Fico mais próximo de uma imagem tradicional do Drácula, magro, de rosto comprido e olhos ávidos. Não por sangue, mas por qualquer pacotinho de batatas fritas. Existe algo melhor que batatas fritas?

Se emagreço primeiro o rosto, engordo a barriga. A barriga masculina é teimosa. Todos sofrem disso. Barriguinha de tanque, só para jovens. Ou para os que comparecem à academia como beatas na igreja. A barriga não só teima, mas é perigosa. A partir de 100 centímetros, induz à chamada síndrome metabólica. Ou seja, à diabetes, problemas cardíacos, gordura no fígado. Um rol de doenças. Em todo o meu processo de emagrecimento, a barriga permaneceu, ai de mim! Não semelhante à de um Buda, como antes. Mas ficou.

Quando o regime foi considerado vitorioso, aos poucos voltei aos carboidratos. A uma delícia aqui, outra ali. Adivinhem o que cresceu primeiro? Ela, a barriga. Para todo homem é assim. Barriga das boas aproveita a primeira oportunidade para se expandir. Fui comprar um paletó, adivinhem? O 54 serve apertadinho. O 56 cai melhor, mas folga nos ombros. O cinto que comprei, em comemoração, não fecha mais. Voltei aos antigos.

Não há parte do corpo mais teimosa para o homem que a barriga. Posso fazer esteira duas horas. Basta comer um *cheeseburger*, e a barriga vence! É insistente. Tanto que muita gente já diz que a barriguinha em um homem é charmosa. Criou-se um padrão estético a favor de barrigudo! É uma luta inglória. Um homem depois dos 30 passa a vida lutando contra a barriga. Mais dia, menos dia, a vitória sempre será dela.

(Walcyr Carrasco. *Barriga teimosa*.

Disponível em: <http://epoca.globo.com>. Adaptado)

08. De acordo com o primeiro parágrafo do texto, é correto afirmar que o autor

- (A) optou pela culinária francesa em vez da americana, já que esta é mais gordurosa, enquanto aquela é mais leve.
- (B) preferiu se alimentar apenas de *cheeseburger*, coxinhas, empadinhas e pastéis, deixando as comidas mais leves para os momentos especiais.
- (C) deixou de comer feijoada, acarajé e outras comidas típicas brasileiras e internacionais para conseguir emagrecer sem precisar se submeter a uma cirurgia.
- (D) deixou de consumir comidas típicas americanas sem dificuldades, pois, além de não serem saudáveis, não agradam seu paladar.
- (E) preferiu o sabor de peixe grelhado sem crosta de farinha ao de salmão ao vapor, durante sua dieta.

09. Considere os seguintes trechos:

Pulei do número 58/60 para o 52 e, **glorioso**, refiz meu guarda-roupa.

... magro, de rosto comprido e olhos **ávidos**. Não por sangue...

Os termos destacados podem ser, no contexto em que estão empregados, correta e respectivamente, substituídos por

- (A) ansioso e célebres.
- (B) concentrado e sedentos.
- (C) honrado e negros.
- (D) perplexo e desejosos.
- (E) vitorioso e ansiosos.

10. No trecho do terceiro parágrafo do texto – Todos sofrem **disso**. –, o termo destacado refere-se ao fato de os homens

- (A) não resistirem a um pacotinho de batatas fritas.
- (B) ficarem com cara de buldogue ao emagrecerem.
- (C) terem dificuldade para perder a barriga.
- (D) frequentarem a academia em busca da barriga de tanquinho.
- (E) ao emagrecerem, ficarem com rostos compridos.

11. Uma indústria recebeu um pedido para produzir 2400 embalagens. No primeiro dia, produziu $\frac{3}{16}$ do número total

de embalagens do pedido e, no segundo dia, produziu 100 embalagens a mais do que no dia anterior. Em relação ao número total de embalagens desse pedido, a fração que representa as embalagens que ainda não foram produzidas é

(A) $\frac{11}{12}$

(B) $\frac{7}{12}$

(C) $\frac{5}{12}$

(D) $\frac{11}{48}$

(E) $\frac{13}{48}$

12. Em uma papelaria, há uma caixa com 80 lápis pretos e 55 lápis vermelhos. Para facilitar as vendas, foram feitos pacotinhos, todos com o mesmo número de lápis e na maior quantidade possível, de modo que cada pacotinho contenha lápis de uma só cor. Sabendo que não restou nenhum lápis na caixa e que cada pacotinho de lápis preto custa R\$ 5,00 e cada pacotinho de lápis vermelho custa R\$ 6,00, então o valor a ser arrecadado com a venda de todos os pacotinhos será

(A) R\$ 146,00.

(B) R\$ 148,00.

(C) R\$ 150,00.

(D) R\$ 152,00.

(E) R\$ 154,00.

13. No arquivo de um escritório, a razão entre o número de gavetas vazias e o número de gavetas contendo documentos era $\frac{3}{7}$. Após duas gavetas vazias serem ocupadas com documentos, a razão entre o número de gavetas vazias e o número de gavetas contendo documentos passou a ser $\frac{1}{3}$. O número total de gavetas vazias que restou no arquivo foi

(A) 15.

(B) 13.

(C) 10.

(D) 8.

(E) 5.

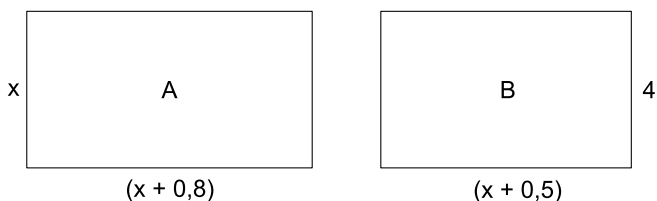
14. Uma empresa destinou uma verba para ser utilizada pelo setor administrativo. Desse valor, 60% foi utilizado na compra de móveis e 45% do valor restante foi utilizado na compra de materiais diversos, restando ainda R\$ 770,00. O valor total da verba destinada ao setor administrativo foi
- (A) R\$ 4.600,00.
(B) R\$ 4.200,00.
(C) R\$ 4.000,00.
(D) R\$ 3.800,00.
(E) R\$ 3.500,00.
15. Para organizar o estoque de uma fábrica, 8 funcionários, todos trabalhando com a mesma produtividade, demoram 10 dias, trabalhando 6 horas por dia. O número de funcionários, com a mesma produtividade dos demais, que precisam ser contratados a mais para que esse estoque fique organizado em 6 dias, com todos eles trabalhando 8 horas por dia, é
- (A) 5.
(B) 4.
(C) 3.
(D) 2.
(E) 1.
16. A tabela a seguir mostra os sabores de sorvetes do tipo picolé comprados por uma pessoa, a quantidade comprada e o respectivo preço unitário.

| SABOR | QUANTIDADE | PREÇO UNITÁRIO |
|-----------|------------|----------------|
| Frutas | 8 | R\$ 2,30 |
| Chocolate | 5 | R\$ 3,20 |
| iogurte | 3 | x |

Considerando-se o número total de picolés comprados, na média, cada picolé saiu por R\$ 3,05. O preço unitário do picolé de iogurte é

- (A) R\$ 4,90.
(B) R\$ 4,80.
(C) R\$ 4,50.
(D) R\$ 4,30.
(E) R\$ 4,10.

17. Um capital de R\$ 2.000,00 foi colocado em uma aplicação A, a juros simples, com taxa de 0,70% ao mês. Se esse mesmo capital fosse aplicado a juro simples, com taxa de 0,75% ao mês, por 2 meses a mais do que o tempo da aplicação A, renderia R\$ 37,00 a mais de juros do que o juros da aplicação A. O número de meses da aplicação A foi
- (A) 7.
(B) 6.
(C) 5.
(D) 4.
(E) 3.
18. Uma pessoa possui determinada quantia em dinheiro para comprar um produto. Se ela comprar 400 g desse produto sobrarão R\$ 4,00, mas para comprar 700 g ficarão faltando R\$ 2,00. O número de gramas desse produto que essa pessoa poderá comprar utilizando o total de dinheiro que possui é
- (A) 450.
(B) 500.
(C) 550.
(D) 600.
(E) 650.
19. Em uma padaria, o preço de dois doces é igual ao preço de três cafés. Sabendo que o preço de um salgado é R\$ 0,50 menor que o preço de um doce e R\$ 1,00 mais caro que o preço de um café, então o preço de um salgado, mais um doce e um café, juntos, é
- (A) R\$ 10,50.
(B) R\$ 11,00.
(C) R\$ 11,50.
(D) R\$ 12,00.
(E) R\$ 12,50.
20. Duas salas, A e B, ambas retangulares, têm dimensões, em metros, conforme mostram as figuras.



figuras fora de escala

Sabendo que as duas salas têm o mesmo perímetro, o perímetro da sala A, em metros, é

- (A) 8,2.
(B) 10,4.
(C) 12,6.
(D) 14,8.
(E) 16,4.

ATUALIDADES

21. A Arábia Saudita executou neste sábado (2 de janeiro) 47 acusados de pertencer a facções terroristas e de planejar ataques contra o país. Entre os mortos, está o proeminente clérigo xiita dissidente Nimr Baqir al Nimr. Nimr, 56, foi sentenciado à morte por desobedecer as autoridades, instigar a violência sectária e ajudar células terroristas. O clérigo, muito crítico da dinastia sunita Al Saud, liderou em fevereiro de 2011 protestos oposicionistas na parte leste do país, onde está concentrada a minoria xiita saudita.

(Folha de S.Paulo, 2 jan.16.

Disponível em: <<http://goo.gl/IJ7PgX>> Adaptado)

Um dos desdobramentos da execução do clérigo xiita pela Arábia Saudita foi

- (A) a transformação da Arábia Saudita em alvo do terrorismo praticado pelo Estado Islâmico.
- (B) o rompimento das relações diplomáticas entre a Arábia Saudita e o Irã.
- (C) a aproximação da Arábia Saudita com os EUA, devido às afinidades geopolíticas.
- (D) a conciliação entre o governo sírio, crítico da religião xiita, e os sauditas.
- (E) a explosão de um conflito direto entre os sauditas, sunitas, e os iraquianos, xiitas.

22. No dia 1º de fevereiro, os cidadãos do país iniciarão a escolha dos candidatos que vão disputar a presidência em novembro. Dois dos principais personagens da disputa, um de cada partido, vêm de fora do perfil tradicional dos políticos: o polêmico bilionário que lidera a corrida de um lado, e o senador “socialista” que cresce nas pesquisas de outro. Na prática, os dois extremos mobilizam a nação.

(O Globo, 24 jan.16. Disponível em: <<http://goo.gl/czwelu>> Adaptado)

A reportagem trata do cenário eleitoral

- (A) na Alemanha.
- (B) na França.
- (C) na Venezuela.
- (D) nos EUA.
- (E) na Argentina.

23. Preso na operação que investiga desvio de dinheiro público destinado a merendas escolares, o ex-presidente da Coaf (Cooperativa Orgânica Agrícola Familiar) Cássio Izique Chebabi fechou acordo de delação premiada com o Ministério Público de São Paulo. Segundo a polícia, a cooperativa pagava propina a funcionários de prefeituras e chefes políticos em troca de contratos de fornecimento de merenda escolar. O superfaturamento chegava a 30% dos contratos, e atingiu ao menos 22 municípios paulistas.

(Folha de S.Paulo, 26 jan.16.

Disponível em: <<http://goo.gl/8kjYO9>> Adaptado)

O nome da operação a que se refere o trecho é

- (A) Catilinárias.
- (B) Vidas Secas.
- (C) Alba Branca.
- (D) Zelotes.
- (E) Lava Jato.

24. A juíza da 35ª Vara Criminal do Rio de Janeiro condenou, pelo menos, oito policiais militares no julgamento do caso do ajudante de pedreiro Amarildo de Souza. Amarildo desapareceu no dia 14 de julho de 2013, após ser levado por PMs para a sede da UPP (Unidade de Polícia Pacificadora), localizada no Alto da Rocinha, comunidade da zona sul do Rio de Janeiro. Os PMs suspeitavam que o ajudante de pedreiro sabia onde os traficantes locais escondiam armas e drogas.

(UOL, 31 jan.16. Disponível em: <<http://goo.gl/DtWSSs>> Adaptado)

Os policiais foram condenados por

- (A) homicídio doloso triplamente qualificado.
- (B) homicídio com motivo fútil e meio cruel.
- (C) formação de quadrilha e homicídio culposo.
- (D) tortura seguida de morte e ocultação de cadáver.
- (E) assassinato de incapaz com motivo torpe.

25. Ministério Público denuncia Neymar

Não é só na Espanha que Neymar está passando por momentos complicados fora do campo. O craque do Barcelona também está sendo investigado no Brasil. O camisa 10 da seleção brasileira foi denunciado pelo Ministério Público Federal. A Justiça ainda irá analisar o pedido para saber se o jogador vai virar réu.

(iG, 29 jan.16. Disponível em: <<http://goo.gl/dVqVUU>> Adaptado)

O jogador foi denunciado

- (A) pelos crimes de sonegação fiscal e falsidade ideológica, relacionados ao dinheiro recebido pelas empresas do atacante durante as negociações que o levaram para atuar na Espanha.
- (B) pelo crime de evasão de divisas, por ter remetido ilegalmente dinheiro ao exterior, hoje abrigado em paraísos fiscais em que não existe cobrança de Imposto de Renda.
- (C) pelo crime de lavagem de dinheiro, por ter utilizado a sua empresa ligada à publicidade para lavar os recursos obtidos ilegalmente com o pagamento dos direitos de imagem no Santos.
- (D) pelo crime de ocultação de patrimônio, por não ter declarado algumas propriedades à Receita Federal com o objetivo de não pagar impostos sobre o valor de transferência dos bens.
- (E) pelo crime financeiro de operação de câmbio não autorizada, devido à transferência ilegal de recursos do Brasil para a Espanha depois que o jogador foi contratado pelo Barcelona.

NOÇÕES DE INFORMÁTICA

26. Sabendo-se que o computador tem o MS-Windows 7 instalado, em sua configuração original, mas não possui o Microsoft Office e nem o OpenOffice, assinale a alternativa que contém o gerenciador de arquivos, editor de imagens, gerador e editor básico de textos e o menu em que estes programas se encontram, respectivamente.

- (A) Internet Explorer, PhotoShop, Bloco de Notas, Acessórios.
- (B) Internet Explorer, CorelDraw!, Word, Programas Padrão.
- (C) Windows Explorer, PaintBrush, Word, Painel de Controle.
- (D) Windows Explorer, Paint, Writer, Programas Padrão.
- (E) Windows Explorer, Paint, WordPad, Acessórios.

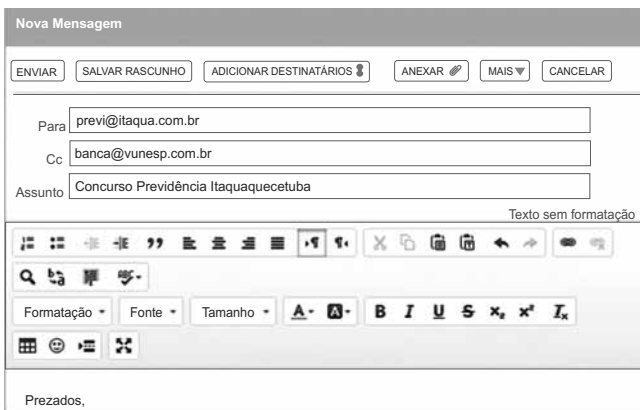
27. Analise a planilha do MS-Excel 2010, na sua configuração padrão, exibida parcialmente na figura, e assinale a alternativa que contém o modo de exibição escolhido pelo usuário.

| | A | B | C | D | E | F |
|----|---|-------------------|------|-----------|---------|---|
| 1 | | Móveis | Qtde | Valor | Deconto | |
| 2 | | Sofá | 10 | R\$ 900 | | |
| 3 | | Mesa de Jantar | 6 | R\$ 500 | | |
| 4 | | Cadeira | 6 | R\$ 750 | | |
| 5 | | Mesa de Centro | 6 | R\$ 400 | | |
| 6 | | Rack | 6 | R\$ 600 | | |
| 7 | | Aparador | 7 | R\$ 300 | | |
| 8 | | | | | | |
| 9 | | Produto | Qtde | Valor | Frete | |
| 10 | | Chocolate | 5 | R\$ 90,00 | | |
| 11 | | Balas de Gelatina | 1 | R\$ 50,00 | | |
| 12 | | Bolinhos de Chuva | 1,5 | R\$ 75,00 | | |
| 13 | | Broas | 0,5 | R\$ 40,00 | | |
| 14 | | Torta de Limão | 0,5 | R\$ 60,00 | | |
| 15 | | Biscoitos | 1,5 | R\$ 30,00 | | |
| 16 | | | | | | |
| 17 | | | Cód | Frete | | |
| 18 | | | 200 | R\$ 15,00 | | |

- (A) Layout da Página.
- (B) Normal.
- (C) Visualização de Quebra de Página.
- (D) Tela Inteira.
- (E) Layout de Leitura.

28. As transições de slides do MS-PowerPoint 2010, na sua configuração padrão, são os efeitos de animação que ocorrem no modo
- (A) Normal.
 - (B) Classificação de Slides.
 - (C) de Leitura.
 - (D) Apresentação de Slides.
 - (E) Slide Mestre.

29. O usuário está redigindo uma mensagem de correio eletrônico utilizando um webmail, e pretende anexar um objeto encontrado na pasta Itaquaquetuba, conforme exibido nas figuras a seguir:



Assinale a alternativa que contém o nome do objeto que pode ser anexado pelo usuário.

- (A) Documentos 1.
- (B) Edital 3.
- (C) Edital 2.
- (D) Vídeo 1.
- (E) Imagens 1.

30. Observe o e-mail criado automaticamente no MS-Outlook 2010 pelo Internet Explorer 11, na sua configuração padrão, enquanto o usuário visitava a página da Fundação Vunesp.



Para criar o e-mail apresentado parcialmente na figura, no Internet Explorer, o usuário acessou o menu Arquivo, opção Enviar e clicou em


- (A) Importar e exportar...
- (B) Anexo por Email...
- (C) Link por Email...
- (D) URL por Email...
- (E) Página por Email...

CONHECIMENTOS ESPECÍFICOS

31. De acordo com o artigo 29 do Código de Trânsito Brasileiro, quando veículos transitando por fluxos que se cruzem, se aproximarem de local não sinalizado, no caso de apenas um fluxo ser proveniente de rodovia, terá preferência de passagem aquele que estiver
- (A) saindo de uma pista oblíqua.
 - (B) circulando em uma confluência a esquerda.
 - (C) circulando por ela.
 - (D) saindo de uma bifurcação.
 - (E) entrando na rodovia.
32. De acordo com o artigo 33 do CTB, nas interseções e suas proximidades, o condutor não poderá
- (A) reduzir a velocidade.
 - (B) estacionar à direita da via.
 - (C) efetuar embarque de passageiros.
 - (D) realizar descarga de veículo.
 - (E) efetuar ultrapassagem.
33. Onde não existir sinalização de velocidade permitida, em uma via urbana caracterizada como coletora, a velocidade máxima não poderá ser superior à
- (A) 40 km/h.
 - (B) 35 km/h.
 - (C) 30 km/h.
 - (D) 25 km/h.
 - (E) 20 km/h.
34. Sempre que for necessária a imobilização temporária de um veículo no leito viário, em situação de emergência, deverá ser providenciada a imediata sinalização de advertência, na forma estabelecida pelo
- (A) DETRAN.
 - (B) CENTRAN.
 - (C) CONTRAN.
 - (D) CIRETRAN.
 - (E) ABDTRAN.


Analise as placas de sinalização e responda de acordo com o Código de Trânsito Brasileiro.

35. A placa de sinalização a seguir quando instalada na via pública informa que o condutor encontrará



- (A) um cruzamento à esquerda.
- (B) uma via lateral à esquerda.
- (C) um entroncamento à esquerda.
- (D) uma saída obrigatória à esquerda.
- (E) uma pista única à esquerda.


36. Analise a sinalização.



Ela informa a presença de

- (A) curva acentuada à direita.
- (B) curva sinuosa à direita.
- (C) curva à direita.
- (D) curva em "S" à direita.
- (E) curva acentuada em "S" à direita.

37. A finalidade da placa de advertência a seguir é informar que um condutor encontrará a sua frente uma



- (A) via com acostamento.
- (B) passagem de nível.
- (C) ponte móvel.
- (D) pista estreita.
- (E) ponte estreita.

38. Para a expedição do Certificado de Registro de Veículo, o órgão executivo de trânsito consultará o cadastro do

- (A) DEPVAT.
- (B) INMETRO.
- (C) IPEM.
- (D) RENAVAL.
- (E) DENIT.

39. Transportar crianças em veículo automotor sem observância das normas de segurança especiais estabelecidas pelo CTB é considerada uma infração

- (A) levíssima.
- (B) leve.
- (C) média.
- (D) grave.
- (E) gravíssima.

40. Será considerada uma infração média de acordo com o CTB:

- (A) dirigir sem atenção ou sem os cuidados indispensáveis à segurança.
- (B) deixar de parar o veículo antes de transpor linha férrea.
- (C) deixar o condutor ou passageiro de usar o cinto de segurança.
- (D) desobedecer às ordens emanadas da autoridade competente de trânsito ou de seus agentes.
- (E) atirar do veículo ou abandonar na via objetos ou substâncias.

41. Fazer uso do fecho de luz alta dos faróis em vias providas de iluminação pública, de acordo com o CTB, é considerada uma

- (A) falta de cortesia.
- (B) falha no trânsito.
- (C) infração gravíssima.
- (D) infração leve.
- (E) infração grave.

42. De acordo com o artigo 261, a penalidade de suspensão do direito de dirigir será aplicada, nos casos previstos pelo CTB, pelo prazo mínimo de um mês até o máximo de

- (A) um ano.
- (B) dois anos.
- (C) três anos.
- (D) quatro anos.
- (E) cinco anos

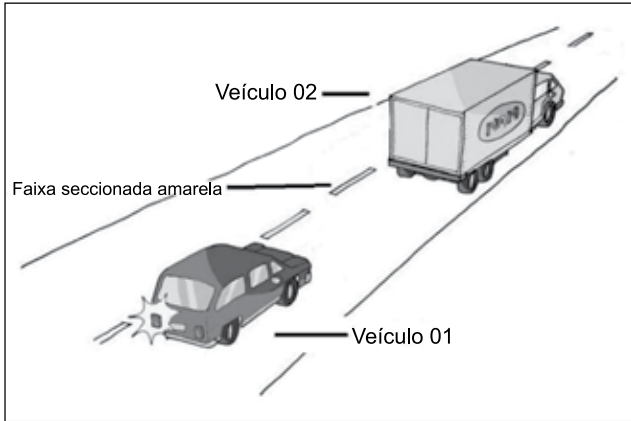
43. O veículo apreendido em decorrência de penalidade aplicada será recolhido ao depósito e nele permanecerá sob custódia e responsabilidade do órgão ou entidade apreendedora, com ônus para o seu proprietário, conforme critério a ser estabelecido pelo CONTRAN, pelo prazo de até

- (A) trinta dias.
- (B) sessenta dias.
- (C) noventa dias.
- (D) cento e vinte dias.
- (E) cento e cinquenta dias.

44. Não sendo imediata a identificação do condutor no ato da infração, o proprietário para não ser considerado responsável pela penalidade deverá apresentar o condutor no prazo máximo de

- (A) trinta e cinco dias.
- (B) trinta dias.
- (C) vinte e cinco dias.
- (D) vinte dias.
- (E) quinze dias.

45. Analise a figura.



A sinalização horizontal é classificada de acordo com sua função, e a que está indicada como seccionada, na figura, e é amarela

- (A) adverte de uma via de mão única.
 - (B) autoriza uma ultrapassagem.
 - (C) regulamenta pista de mão única.
 - (D) regulamenta uma pista dupla.
 - (E) adverte sobre o término de uma pista dupla.
46. Durante uma viagem um condutor percebeu que o motor perdeu a força, não desempenhava bem nas acelerações. Nesse caso, uma das possíveis causas poderá ser
- (A) coroa e pião quebrados.
 - (B) eixo cardã ou cruzeta solta ou trincada.
 - (C) cabos de velas e velas com fuga de corrente.
 - (D) homocinética ou pivô com muita folga.
 - (E) sistema planetário e satélites sem lubrificação.
47. A figura mostra um equipamento de um veículo automotor que tem a função de manter carga suficiente para alimentar o circuito elétrico, que é conhecido como



- (A) distribuidor.
- (B) alternador.
- (C) bomba hidráulica.
- (D) ventoinha.
- (E) motor de arranque.

48. A figura mostra uma bomba d'água. Caso ela venha a perder a pressão, poderá ocasionar



- (A) excesso de carga na ignição.
 - (B) travamento do diferencial.
 - (C) corte de corrente no distribuidor.
 - (D) aquecimento do motor.
 - (E) corte na alimentação de combustível.
49. Para reduzir o perigo da aquaplanagem em dia de chuva forte um condutor deverá
- (A) aumentar a velocidade antes das poças d'água.
 - (B) reduzir a velocidade e passar com veículo engrenado.
 - (C) trocar para marcha mais alta e acelerar bem o motor.
 - (D) aumentar a velocidade quando estiver na poça d'água.
 - (E) manter a velocidade e passar em ponto neutro.
50. Em Direção Defensiva, o tempo de reação para evitar colisão com o veículo da frente depende, exclusivamente,
- (A) do motor do veículo.
 - (B) da suspensão.
 - (C) do pneu.
 - (D) do motorista.
 - (E) da barra estabilizadora.

