



## PREFEITURA MUNICIPAL DE ALUMÍNIO

ESTADO DE SÃO PAULO

CONCURSO PÚBLICO

### 006. PROVA OBJETIVA

#### AGENTE DE CONTROLE DE VETOR

- ◆ Você recebeu sua folha de respostas e este caderno contendo 40 questões objetivas.
- ◆ Confira seus dados impressos na capa deste caderno e na folha de respostas.
- ◆ Quando for permitido abrir o caderno, verifique se está completo ou se apresenta imperfeições. Caso haja algum problema, informe ao fiscal da sala.
- ◆ Leia cuidadosamente todas as questões e escolha a resposta que você considera correta.
- ◆ Marque, na folha de respostas, com caneta de tinta azul ou preta, a letra correspondente à alternativa que você escolheu.
- ◆ A duração da prova é de 3 horas, já incluído o tempo para o preenchimento da folha de respostas.
- ◆ Só será permitida a saída definitiva da sala e do prédio após transcorridos 75% do tempo de duração da prova.
- ◆ Deverão permanecer em cada uma das salas de prova os 3 últimos candidatos, até que o último deles entregue sua prova, assinando termo respectivo.
- ◆ Ao sair, você entregará ao fiscal a folha de respostas e este caderno, podendo levar apenas o rascunho de gabarito, localizado em sua carteira, para futura conferência.
- ◆ Até que você saia do prédio, todas as proibições e orientações continuam válidas.

**AGUARDE A ORDEM DO FISCAL PARA ABRIR ESTE CADERNO DE QUESTÕES.**

Nome do candidato \_\_\_\_\_

RG \_\_\_\_\_

Inscrição \_\_\_\_\_

Prédio \_\_\_\_\_

Sala \_\_\_\_\_

Carteira \_\_\_\_\_



## CONHECIMENTOS GERAIS

### LÍNGUA PORTUGUESA

Leia a tirinha para responder às questões de números 01 e 02.



(Calvin-62.gif 09.05.2016)

01. A partir da leitura da tirinha, é correto afirmar que

- (A) Calvin se decepcionou com a professora porque ela só valorizou a capa de seu trabalho.
- (B) o amigo Tigre não se conformou com a avaliação feita pela professora no trabalho de Calvin e a considerou injusta.
- (C) os pais de Calvin leram o comentário feito pela professora em seu trabalho e discordaram dela.
- (D) Calvin pretende dar um destino incomum ao seu trabalho e para isso quer a ajuda de seu amigo Tigre.
- (E) Calvin pede a seu amigo Tigre para executar uma tarefa proposta pela professora, relacionada ao seu trabalho.

02. O termo **se**, no último quadrinho, estabelece, entre as orações, sentido de

- (A) comparação.
- (B) condição.
- (C) conclusão.
- (D) explicação.
- (E) causa.

Leia a letra de música a seguir para responder às questões de números 03 a 06.

### O meu guri

Quando, seu moço, nasceu meu rebento  
Não era o momento dele rebentar  
Já foi nascendo com cara de fome  
E eu não tinha nem nome pra lhe dar  
[...]

E na sua meninice ele um dia me disse  
Que chegava lá  
[...]  
Olha aí, ai o meu guri, olha aí

Chega suado e veloz do batente  
E traz sempre um presente pra me encabular  
Tanta corrente de ouro, seu moço  
Que haja pescoço pra enfiar  
Me trouxe uma bolsa já com tudo dentro  
Chave, caderneta, terço e patuá  
Um lenço e uma penca de documentos  
Pra finalmente eu me identificar, olha aí  
[...]

Chega no morro com o carregamento  
Pulseira, cimento, relógio, pneu, gravador  
Rezo até ele chegar cá no alto  
Essa onda de assaltos tá um horror  
[...]

De repente acordo, olho pro lado  
E o danado já foi trabalhar, olha aí

Chega estampado, manchete, retrato  
Com venda nos olhos, legenda e as iniciais  
[...]

Desde o começo, eu não disse, seu moço  
Ele disse que chegava lá

(Chico Buarque/1981. Excertos)

03. Nos versos – “E na sua meninice ele um dia me disse  
**Que chegava lá**” –

a frase em destaque permite a seguinte afirmação relacionada ao guri:

- (A) Pretendia trabalhar bastante para, no futuro, ser um comerciante valorizado.
- (B) Queria conseguir uma vida melhor, não importando a maneira como alcançar os resultados.
- (C) Pretendia comprar de presente para a mãe uma casa bem no alto do morro.
- (D) Subia o morro com dificuldade quando ainda era pequeno e chegava sempre cansado e suado.
- (E) Desejava ser um artista, queria que fizessem uma matéria sobre sua vida nas revistas.

04. O texto retrata

- (A) o crescimento do filho e sua transformação em um grande empresário de joias.
- (B) a vida de luta que uma mãe enfrenta para que seu filho estude e tenha uma profissão digna.
- (C) o trabalho da mãe e do filho, que consistia em identificar as pessoas que subiam o morro.
- (D) o trabalho que o guri prestava junto às pessoas do morro, com a preocupação de combater os assaltos.
- (E) a vida cotidiana de certa pessoa carente, com filho menor que pratica delitos e é procurado pela polícia.

05. Leia os versos:

Chega suado e veloz **do** batente  
E traz sempre um presente pra me encabular  
Tanta corrente **de** ouro, seu moço

Os termos em destaque estabelecem, entre as palavras, correta e respectivamente, relação de

- (A) procedência e matéria.
- (B) matéria e posse.
- (C) posse e matéria.
- (D) procedência e posse.
- (E) lugar e instrumento.

06. Leia os versos seguintes.

E traz **sempre** um presente pra me encabular  
Chega **no morro** com o carregamento

As expressões em destaque expressam, correta e respectivamente, sentido de

- (A) intensidade e tempo.
- (B) afirmação e inclusão.
- (C) tempo e lugar.
- (D) modo e tempo.
- (E) afirmação e modo.

Leia o texto para responder às questões de números 07 a 10.

Na China, 10 de setembro é Dia do Professor. A comemoração celebra a contribuição dos educadores para a sociedade chinesa e costumava ser o momento de estudantes expressarem sua gratidão com cartões e flores. Mais recentemente, porém, a data ganhou novos contornos e tornou-se comum os pais comprarem presentes extravagantes para os mestres de seus filhos, como iPads, cosméticos de luxo, bolsas de design e vale-compras opulentos.

Esses itens raramente refletem a gratidão dos alunos. Contrariamente, fazem parte da grande competição que se tornou a educação na China. E ser o preferido do professor é uma das facetas desses jogos.

Alguns pais com carteiras recheadas acreditam que um bom presente pode ajudar os filhos a terem sucesso escolar – o que pode ser caracterizado como propina. Essas gratificações perpetuam a desigualdade: nem todos podem dar presentes desse porte. Em 2012, o presidente Xi Jinping condenou essa prática nas escolas e recriminou outras atitudes como a realização de banquetes, a fabricação de tortas da lua (típico doce chinês) em ouro maciço.

Há alguns dias, o ministro da Educação proibiu as gratificações extravagantes em todas as instituições educacionais do país.

(O Estado de S.Paulo, 14 de setembro de 2014. Adaptado)

07. De acordo com o texto, é correto afirmar que

- (A) o presidente Xi Jinping apoiou a atitude de serem ofertados presentes caros aos professores como forma de reconhecimento.
- (B) o presidente Xi Jinping solidarizou-se com os professores, permitindo que os alunos dessem as gratificações que quisessem.
- (C) o presidente Xi Jinping incentivou os pais a homenagearem os professores com doces típicos chineses e banquetes.
- (D) o ministro da Educação proibiu os pais de presentear os professores com artigos caros.
- (E) o ministro da Educação proibiu a competição desigual entre ricos e pobres, em jogos chineses tradicionais.

08. Na passagem – ... tornou-se comum os pais comprarem presentes extravagantes para os mestres de seus filhos, como iPads, cosméticos de luxo, bolsas de design e vale-compras **opulentos**. – o termo em destaque tem o sentido contrário (antônimo) em:

- (A) pobres.
- (B) abastados.
- (C) luxuosos.
- (D) fartos.
- (E) premiados.

09. Assinale a alternativa em que há termos empregados com sentido figurado.

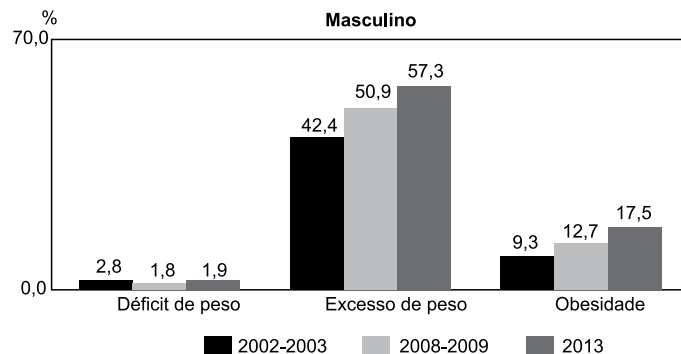
- (A) Na China, 10 de setembro é Dia do Professor. (1º parágrafo)
- (B) ... costumava ser o momento de estudantes expressarem sua gratidão com cartões e flores. (1º parágrafo)
- (C) ... tornou-se comum os pais comprarem presentes extravagantes para os mestres de seus filhos... (1º parágrafo)
- (D) Em 2012, o presidente Xi Jinping condenou essa prática nas escolas... (3º parágrafo)
- (E) Alguns pais com carteiras recheadas acreditam que um bom presente pode ajudar os filhos... (3º parágrafo)

10. A prática, nas escolas, de os pais darem presentes caros \_\_\_\_\_ professores \_\_\_\_\_ \_\_\_\_\_ desigualdade e \_\_\_\_\_ como propina.

De acordo com a norma-padrão, as lacunas do texto devem ser preenchidas, respectivamente, com:

- (A) à ... propiciam ... à ... são vistos
- (B) à ... propicia ... à ... é visto
- (C) a ... propicia ... a ... é vista
- (D) a ... propiciam ... à ... são vistas
- (E) à ... propiciam ... a ... é vista

11. O gráfico a seguir indica a prevalência de déficit de peso, excesso de peso e obesidade na população masculina brasileira de 20 anos ou mais de idade, nos períodos de 2002-2003, 2008-2009 e 2013.



(Fonte: IBGE, Diretoria de Pesquisas, Coordenação de Trabalho e Rendimento, Pesquisa de Orçamentos Familiares 2002-2003/2008-2009 e Pesquisa Nacional de Saúde 2013)

É correto concluir que entre homens de 20 anos ou mais de idade, no período de 2002 a 2013, houve, em relação aos percentuais disponibilizados no gráfico, um

- (A) acréscimo de 17,5 pontos percentuais em relação à obesidade.
- (B) decréscimo de 42,4 pontos percentuais em relação ao excesso de peso.
- (C) decréscimo de 1,1 ponto percentual em relação ao déficit de peso.
- (D) acréscimo de 8,2 pontos percentuais em relação ao excesso de peso.
- (E) acréscimo de 14,9 pontos percentuais em relação ao excesso de peso.

12. Em 2013, segundo as informações do Instituto Brasileiro de Geografia e Estatística – IBGE, 12,9% da população do Brasil disseram já ter tido dengue alguma vez na vida. Considerando que a população brasileira, nesse ano, era estimada em 200 000 000 de habitantes, é correto afirmar que o número de pessoas que já tiveram dengue é, aproximadamente,

- (A) 25,8 milhões.
- (B) 20,6 milhões.
- (C) 18,6 milhões.
- (D) 960 mil.
- (E) 900 mil.

13. Ana pagou R\$ 24,00 na compra de 400 mililitros de um determinado tipo de iogurte. O preço de 1,25 litro desse iogurte é
- (A) R\$ 52,75.  
 (B) R\$ 60,00.  
 (C) R\$ 67,50.  
 (D) R\$ 72,25.  
 (E) R\$ 75,00.

14. Ao participarem de uma pesquisa, todos os funcionários de uma indústria informaram a região onde nasceram e o nível de escolaridade. Todos eles tinham pelo menos o Ensino Fundamental completo. É importante destacar que os concluintes do Ensino Superior foram computados apenas na linha referente ao Ensino Superior, apesar de terem concluído os ensinos fundamental e médio. Da mesma forma, os concluintes do Ensino Médio foram contabilizados apenas na linha correspondente a esse nível. Assim, foram contabilizados na linha correspondente ao Ensino Fundamental, apenas os que concluíram esse nível de ensino.

	Região Norte	Região Nordeste	Região Centro-Oeste	Região Sudeste	Região Sul
Ensino Fundamental	15	30	10	70	15
Ensino Médio	13	30	7	50	10
Ensino Superior	2	15	5	40	8

É correto concluir que, dentre o total de funcionários, a porcentagem dos que nasceram na região Sudeste e concluíram o Ensino Superior é igual a

- (A) 7,5%.  
 (B) 12,5%.  
 (C) 25%.  
 (D) 37,5%.  
 (E) 40%.
15. Um funcionário saiu da empresa às 11h 43min para almoçar e depois ir ao banco. Ele só retornou ao trabalho às 14h 31min. Entretanto, o prazo estipulado pelo seu supervisor para o intervalo havia sido de 1h 50min. Assim, esse funcionário atrasou-se em
- (A) 46 min.  
 (B) 58 min.  
 (C) 1h 02 min.  
 (D) 1h 12 min.  
 (E) 2h 38 min.

16. Um recipiente tem capacidade de 102 000 litros e contém água até  $\frac{3}{4}$  dessa capacidade. Para limpar a água, um produto químico em pó deverá ser lançado à razão de um pacote para cada 750 litros de água. Deverão ser usados, no total,
- (A) 12 pacotes.  
(B) 75 pacotes.  
(C) 90 pacotes.  
(D) 102 pacotes.  
(E) 240 pacotes.
17. A escala de um mapa é de 1:750 000. Isso significa que, se a distância entre dois pontos nesse mapa for de 1 unidade de medida, essa distância corresponde, na realidade, a um total de 750 000 dessas unidades. Ana mediu a distância entre duas cidades nesse mapa com uma régua graduada e obteve a medida de 15 cm. Com base nessas informações, é correto ela concluir que a distância, em linha reta, entre essas duas cidades, é de
- (A) 175,0 km.  
(B) 125,5 km.  
(C) 112,5 km.  
(D) 75,0 km.  
(E) 50,0 km.
18. Ao colocar 20 litros de gasolina no tanque de seu carro, Beatriz observou que o marcador, que antes indicava  $\frac{1}{3}$  do tanque, passou a indicar  $\frac{3}{4}$  do tanque. Desse modo, conclui-se que a capacidade total do tanque do carro de Beatriz é de
- (A) 48 litros.  
(B) 50 litros.  
(C) 55 litros.  
(D) 56 litros.  
(E) 60 litros.

19. André e Diego são irmãos e estão juntando dinheiro para comprarem um videogame. João pretende guardar R\$ 20,00 por mês, e Diego R\$ 30,00. André e Diego têm, hoje, R\$ 360,00 e R\$ 280,00, respectivamente. Se nenhum deles gastar o dinheiro que estão guardando, é correto concluir que ambos terão a mesma importância após

- (A) 24 meses.
- (B) 12 meses.
- (C) 10 meses.
- (D) 8 meses.
- (E) 6 meses.

20. Uma livraria vendeu 4 décimos de um estoque de 750 livros iguais. Havendo uma redução na procura por esses livros, foi anunciado um desconto de R\$ 10,00 no valor de cada livro. Com esse desconto, todos os livros restantes do estoque foram vendidos. O total arrecadado com a venda do estoque inteiro foi de R\$ 33.000,00. Assim, conclui-se que o preço sem desconto, cobrado por cada livro, era de

- (A) R\$ 60,00.
- (B) R\$ 58,50.
- (C) R\$ 50,00.
- (D) R\$ 45,50.
- (E) R\$ 40,00.

## R A S C U N H O

## ATUALIDADES

21. A agência que regula o setor de saneamento e de energia no estado de São Paulo, a Arsesp, autorizou a Sabesp a cancelar a concessão do bônus para quem economiza água, e a aplicação da multa para os que aumentaram o consumo. A medida valerá a partir das leituras a serem realizadas em maio.

(G1, 1 abr.16. Disponível em: <<http://goo.gl/pg8GGI>> Adaptado)

Entre as razões apontadas para os cancelamentos, está

- (A) a disponibilidade de água no Cantareira, acima de 70% do volume útil, o que possibilita o abastecimento até a próxima temporada de chuva.
- (B) a reorganização da distribuição de água em São Paulo, que já não utiliza mais o Cantareira e busca a maior parte da sua água na represa Guarapiranga.
- (C) a previsão de um inverno excepcionalmente chuvoso, diferentemente do que costuma ocorrer, o que garante água o suficiente para o abastecimento humano até 2018.
- (D) a maior previsibilidade sobre as condições dos financeiros, o que teria levado à resolução da questão da água no estado de São Paulo.
- (E) o aumento da inadimplência entre os consumidores que receberam multa da empresa, o que levou ao questionamento da eficácia desse instrumento.

22. O Ministério da Saúde anunciou que vai permitir a antecipação da vacinação contra a gripe H1N1 para os estados interessados em começar a imunizar grupos considerados de risco antes da campanha nacional, que terá início em 30 de abril. O surto atípico de gripe H1N1 está lotando os pronto-socorros dos hospitais da capital e do interior de São Paulo, estado em que a vacinação na rede pública começará ainda antes. A situação é completamente incomum.

(Veja, 29 mar.16. Disponível em: <<http://goo.gl/Npb3KA>> Adaptado)

Trata-se de um surto atípico, pois

- (A) a maior parte da população brasileira já recebeu doses da vacina em anos anteriores, o que deveria evitar o contágio e a disseminação do vírus.
- (B) a influenza é uma doença de inverno, e o auge da infecção pelo vírus costuma ocorrer no mês de junho, quando a temperatura começa a baixar.
- (C) a gripe costuma aparecer apenas nas épocas de fortes chuvas e não na época da seca, o que deveria dificultar a transmissão do vírus.
- (D) o vírus que causa a gripe H1N1 já foi considerado extinto pelo governo brasileiro, e a doença estava no rol de doenças erradicadas do território nacional.
- (E) não existia na literatura médica comprovação de que o vírus poderia sofrer mutação e se disseminar em um intervalo menor que um ano em relação ao surto anterior.



23. O Brasil teve 1326 casos de microcefalia ou lesões no sistema nervoso notificados entre outubro de 2015 e o dia 7 de maio, segundo relatório do Ministério da Saúde divulgado nesta quarta-feira (11 de maio). Até a semana passada, eram registrados 1271 casos.

(UOL, 11 mai.16. Disponível em: <http://goo.gl/LZJLwg> Adaptado)

O surto de crianças nascidas com problemas neurológicos tem sido atribuído à epidemia de

- (A) febre chikungunya, doença transmitida pelo ar.
- (B) HPV, doença sexualmente transmissível.
- (C) zika, vírus transmitido pelo mosquito Aedes aegypti.
- (D) dengue, bactéria que tem o mosquito barbeiro como vetor.
- (E) cólera, bactéria que se multiplica no intestino humano.

24. A agência de refugiados da Organização das Nações Unidas (ONU) disse que as propostas para devolver refugiados em massa da União Europeia para a Turquia violariam seu direito de proteção, garantido pelas leis europeia e internacional. O diretor regional europeu do Alto Comissariado das Nações Unidas para os Refugiados (Acnur) disse que o compromisso da Europa de reassentar 20 mil refugiados ao longo de dois anos, de forma voluntária, continua “muito devagar”. “A expulsão coletiva de estrangeiros é proibida, segundo a Convenção Europeia de Direitos Humanos”, afirmou o diretor a jornalistas em Genebra.

(UOL, 8 mar.16. Disponível em: <http://goo.gl/gcLEq6> Adaptado)

Os refugiados que chegam à Europa são, em sua maioria, de origem

- (A) afegã.
- (B) egípcia.
- (C) libanesa.
- (D) palestina.
- (E) síria.

25. Após as desistências ocorridas na primeira semana de maio, Donald Trump se tornou o último pré-candidato do Partido Republicano e praticamente assegurou sua nomeação para concorrer à presidência em novembro.

(G1, 7 mai.16. Disponível em: <http://goo.gl/zMhoLp> Adaptado)

O texto trata do cenário eleitoral

- (A) nos EUA.
- (B) na Argentina.
- (C) na Inglaterra.
- (D) no Chile.
- (E) na Austrália.

26. Considere uma planilha do MS-Excel 2010, a partir da sua configuração padrão, conforme ilustra a figura.

	A	B	C	D
1	1	6	8	4
2	3	3	6	3
3	4	2	4	5
4	5	1	2	8
5				

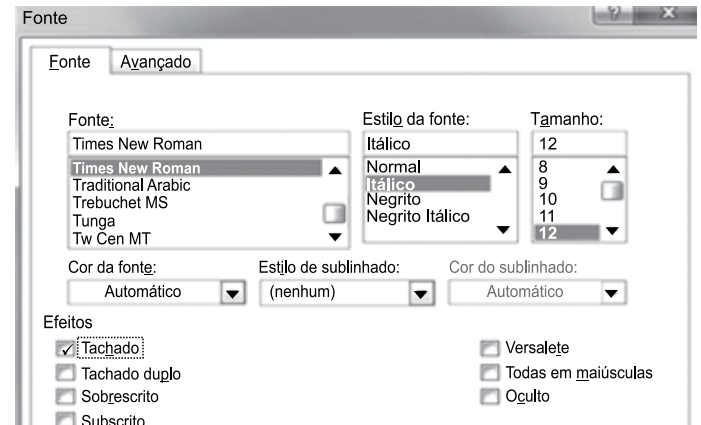
Assinale a alternativa que contém o resultado da fórmula = B2 \* C3 / SOMA(A4:B4) quando esta for aplicada na célula D5.

- (A) 2
- (B) 3
- (C) 4
- (D) 5
- (E) 6

27. Em um documento que está sendo editado no MS-Word 2010, a partir da sua configuração padrão, na frase inteira contida na figura:

**A raposa é ligeira.**

foram aplicadas as seguintes formatações, conforme ilustra a figura.



Assinale a alternativa que contém, corretamente, o resultado final obtido.

- (A) *A raposa é ligeira.*
- (B) ~~A raposa é ligeira.~~
- (C) ~~A raposa é ligeira.~~
- (D) ~~A raposa é ligeira.~~
- (E) A raposa é ligeira.

28. Os ícones apresentados nas alternativas foram retirados do MS-PowerPoint 2010, em sua configuração original. Assinale a alternativa que contém os ícones do grupo Texto do menu Inserir, e que permitem inserir uma Caixa de texto e um Número do Slide, respectivamente, em um slide que está sendo editado.



29. No MS-Windows 7, a partir da sua configuração padrão, existem várias teclas de atalho para facilitar as tarefas.

Teclas de Atalho	Tarefas Executadas
I – Ctrl + C	K – Desfazer uma ação.
II – Ctrl + X	L – Copiar o item selecionado.
III – Ctrl + V	M – Recortar o item selecionado.
IV – Ctrl + Z	N – Colar o item selecionado.

Assinale a alternativa que faz a correlação correta entre as teclas de atalho e as tarefas executadas.

(A) I – L, II – K, III – N, IV – M.

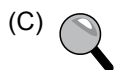
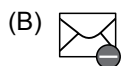

(B) I – M, II – K, III – N, IV – L.

(C) I – N, II – M, III – L, IV – K.

(D) I – K, II – L, III – M, IV – N.

(E) I – L, II – M, III – N, IV – K.

30. No Outlook 2010, a partir da sua configuração padrão, o ícone que permite anexar um arquivo de imagem tipo PNG, em um e-mail que está sendo preparado, é:



## CONHECIMENTOS ESPECÍFICOS

31. O meio ambiente e o modo de vida (moradia, alimentação, lazer, trabalho, etc.) têm grande influência na saúde da população. Alguns agravos à saúde estão relacionados a determinados processos, tais como:

(A) respiração de ar poluído e ingestão de água potável.

(B) cumprimento do calendário vacinal e combate aos vetores transmissores de doenças.

(C) convívio com vetores transmissores de doenças e não lavar as mãos antes das refeições.

(D) uso de preservativo durante as relações sexuais e ingestão de alimentos com prazo de validade vencido.

(E) realização de pré-natal e ingestão de alimentos orgânicos.

32. Para que ocorra a transformação das condições de saúde de uma comunidade é indispensável que a equipe de saúde conheça o território para entender a complexa realidade em que a comunidade está inserida e, a partir daí, realize ações

(A) que envolvam a promoção da saúde e prevenção de doenças, realizadas concomitantemente e dentro do contexto local.

(B) de promoção da saúde para a população infantil e de prevenção, que devem ser direcionadas para os adolescentes e adultos jovens.

(C) isoladas e descontextualizadas que atinjam o indivíduo doente, devolvendo-lhe a saúde.

(D) curativas de forma pontual, à medida que surgem novos casos de doenças.

(E) de promoção da saúde e prevenção de doenças exclusivamente para os indivíduos alfabetizados da comunidade.

33. O Sistema Único de Saúde (SUS) está organizado de acordo com algumas diretrizes, entre elas, a

(A) solidariedade, que preconiza atendimento prioritário para a população carente.

(B) participação da comunidade, que deve colaborar nas atividades de limpeza das unidades de saúde.

(C) equidade, que amplia os serviços de atenção terciária (reabilitação).

(D) descentralização, com direção única em cada esfera de governo.

(E) universalidade, em que cada indivíduo é atendido de acordo com suas peculiaridades.

34. A Lei nº 8.142/90 trata do controle social na gestão do Sistema Único de Saúde (SUS), que ocorre com a participação popular na conquista e garantia dos direitos à saúde, participando das reuniões
- (A) da Comunidade Terapêutica Municipal e do Conselho de Saúde.
  - (B) dos Conselhos de Escola e do Conselho Tutelar.
  - (C) dos hospitais e do Conselho Regional de Medicina.
  - (D) do Conselho de Saúde e da Comunidade Terapêutica Municipal.
  - (E) do Conselho de Saúde e da Conferência Nacional de Saúde.
35. A verificação do estado de saúde de uma comunidade se faz por meio da observação da frequência de eventos como as mortes (mortalidade) e as doenças (morbidade), ou diante de agravos como crianças com baixo peso ao nascer, número de acidentes de trânsito, etc. Esses dados constituem
- (A) a Pirâmide etária.
  - (B) os Indicadores de Saúde.
  - (C) o Índice de Desenvolvimento Humano.
  - (D) o Serviço de Verificação de Óbitos.
  - (E) o Processo saúde-doença.
36. Onde não existem água tratada, esgoto e coleta de lixo, doenças que são endêmicas podem ser eliminadas a partir da concretização de políticas públicas com investimento em:
- (A) construção de habitações populares na periferia dos municípios.
  - (B) locais de diversão para a população, como parques e museus, para promover atividades culturais.
  - (C) infra-estrutura, como ciclovias bem sinalizadas nas cidades.
  - (D) programa do governo municipal, para aquisição de caixas d'água para serem distribuídas à população.
  - (E) saneamento básico e educação em saúde, acarretando mudanças de atitudes e hábitos pela população.
37. Em seu trabalho, o Agente Comunitário de Saúde (ACS) acompanha a saúde das pessoas e famílias. Durante a visita às gestantes, o ACS verifica
- (A) se estão comparecendo ao pré-natal, se apresentam algum sintoma fora do habitual.
  - (B) o sexo da criança e se as vacinas estão em dia.
  - (C) a pressão arterial da gestante, que deve ser medida semanalmente.
  - (D) o aumento de peso da gestante e do bebê, e se estão dentro do padrão para a idade gestacional.
  - (E) o desenvolvimento fetal por meio da avaliação dos exames de ultrassonografia.
38. Um dos fatores decisivos para a diminuição do número de casos das doenças transmitidas pelo *Aedes aegypti* (dengue, zika, chikungunya, febre amarela urbana), é:
- (A) pulverizar inseticida nos córregos e bueiros, semanalmente.
  - (B) distribuir filtro solar para a população.
  - (C) reduzir o número de recipientes que podem acumular água.
  - (D) vacinar a população contra todas as doenças.
  - (E) treinar o Agente de Controle de Vetores para tratar os doentes.
39. O Estatuto da Criança e do Adolescente (ECA) dispõe sobre a proteção integral à criança e ao adolescente, proibindo
- (A) trabalho insalubre e noturno a menores de quatorze anos de idade, exceto com autorização dos pais ou responsáveis.
  - (B) qualquer trabalho a menores de dezesseis anos de idade.
  - (C) o trabalho de crianças com até 10 anos e a partir dessa idade, podendo trabalhar na condição de jovem aprendiz.
  - (D) qualquer trabalho a menor de quatorze anos de idade, salvo na condição de aprendiz.
  - (E) o trabalho de menores de doze anos em olarias e carvoarias, sendo permitido, no entanto, se autorizado pelos pais.
40. O envelhecimento da população brasileira foi um dos fatores que levou o governo a criar políticas sociais a fim de preparar a sociedade para essa realidade, destacando-se o Estatuto do Idoso, que
- (A) garante direitos à faixa da população acima de 70 anos.
  - (B) garante aposentadoria especial para as mulheres acima de 65 anos.
  - (C) sendo uma lei federal, é de abrangência nacional.
  - (D) oferece atendimento prioritário nos hospitais públicos no Estado de São Paulo.
  - (E) sendo uma lei municipal, é válida para pessoas acima de 55 anos.

