



PREFEITURA MUNICIPAL DE ALUMÍNIO

ESTADO DE SÃO PAULO

CONCURSO PÚBLICO

013. PROVA OBJETIVA

AGENTE DE SEGURANÇA PATRIMONIAL

- ◆ Você recebeu sua folha de respostas e este caderno contendo 50 questões objetivas.
- ◆ Confira seus dados impressos na capa deste caderno e na folha de respostas.
- ◆ Quando for permitido abrir o caderno, verifique se está completo ou se apresenta imperfeições. Caso haja algum problema, informe ao fiscal da sala.
- ◆ Leia cuidadosamente todas as questões e escolha a resposta que você considera correta.
- ◆ Marque, na folha de respostas, com caneta de tinta azul ou preta, a letra correspondente à alternativa que você escolheu.
- ◆ A duração da prova é de 3 horas, já incluído o tempo para o preenchimento da folha de respostas.
- ◆ Só será permitida a saída definitiva da sala e do prédio após transcorridos 75% do tempo de duração da prova.
- ◆ Deverão permanecer em cada uma das salas de prova os 3 últimos candidatos, até que o último deles entregue sua prova, assinando termo respectivo.
- ◆ Ao sair, você entregará ao fiscal a folha de respostas e este caderno, podendo levar apenas o rascunho de gabarito, localizado em sua carteira, para futura conferência.
- ◆ Até que você saia do prédio, todas as proibições e orientações continuam válidas.

AGUARDE A ORDEM DO FISCAL PARA ABRIR ESTE CADERNO DE QUESTÕES.

Nome do candidato _____

RG _____

Inscrição _____

Prédio _____

Sala _____

Carteira _____

CONHECIMENTOS GERAIS

LÍNGUA PORTUGUESA

Leia o texto para responder às questões de números **01** a **05**.

Tecnologia

Para começar, ele nos olha na cara. Não é como a máquina de escrever, que a gente olha de cima, com superioridade. Com ele é olho no olho ou tela no olho. Ele nos desafia. Parece estar dizendo: vamos lá, seu desprezível pré-eletrônico, mostre o que você sabe fazer. A máquina de escrever faz tudo que você manda, mesmo que seja a tapa. Com o computador é diferente. Você faz tudo que ele manda. Ou precisa fazer tudo ao modo dele, senão ele não aceita. Simplesmente ignora você. Mas se apenas ignorasse ainda seria suportável. Ele responde. Repreende. Corrige. [...]

Outra coisa: ele é mais inteligente. Esse negócio de que qualquer máquina só é tão inteligente quanto quem a usa não vale com ele. Está subentendido, nas suas relações com o computador, que você jamais aproveitará metade das coisas que ele tem para oferecer. Que ele só desenvolverá todo o seu potencial quando outro igual a ele o estiver programando. A máquina de escrever podia ter recursos que você nunca usaria, mas não tinha a mesma empáfia, o mesmo ar de quem só aguentava você. Ele sabe muito mais coisa e não tem nenhum pudor em dizer que sabe. [...]

Dito isto, é preciso dizer também que quem provou pela primeira vez suas letrinhas dificilmente voltará à máquina de escrever sem a sensação de que está desembarcando de uma Mercedes e voltando à carroça. Está certo, jamais teremos com ele a mesma confortável cumplicidade que tínhamos com a velha máquina. É outro tipo de relacionamento, mais formal e exigente. Mas é fascinante.

(Luís Fernando Veríssimo. Disponível em http://pensador.uol.com.br/contos_de_luis_fernando_verissimo. Adaptado)

01. A leitura do texto indica que o autor

- (A) elogia a tecnologia atual, as vantagens do uso do computador em comparação com as antigas máquinas de escrever.
- (B) tem saudades do tempo em que usava máquinas para escrever seus textos, porque eram mais confortáveis.
- (C) sente-se gratificado ao usar o computador, que o corrige quando erra e lhe impõe sua vontade.
- (D) critica quem teima em usar máquinas de escrever, consideradas verdadeiras carroças em comparação com o computador.
- (E) usa o computador porque é obrigado, mas, se pudesse, ainda usaria uma máquina para escrever seus textos.

02. No primeiro parágrafo do texto – A máquina de escrever faz tudo que você manda, mesmo que seja a tapa. –, a expressão destacada quer dizer

- (A) com sabedoria.
- (B) sem necessidade.
- (C) por decisão.
- (D) à força.
- (E) com confiança.

03. No final do texto – É outro tipo de relacionamento, mais formal e exigente. **Mas** é fascinante. –, em relação à oração anterior, o emprego da conjunção **mas** expressa uma

- (A) adição.
- (B) contradição.
- (C) conclusão.
- (D) condição.
- (E) explicação.

04. Assinale a alternativa em que há sentido figurado.

- (A) Para começar, ele nos olha na cara. (1º parágrafo)
- (B) Não é como a máquina de escrever, que a gente olha de cima, com superioridade. (1º parágrafo)
- (C) Que ele só desenvolverá todo o seu potencial quando outro igual a ele o estiver programando. (2º parágrafo)
- (D) A máquina de escrever podia ter recursos que você nunca usaria... (2º parágrafo)
- (E) É outro tipo de relacionamento, mais formal e exigente. (3º parágrafo)

05. Considere o trecho do texto:

Simplesmente ignora você. Mas se apenas ignorasse ainda seria suportável.

Outro modo de reescrever e pontuar corretamente esse trecho, mantendo o sentido, é:

- (A) Simplesmente ignora você, mas, se apenas ignorasse, ainda seria suportável.
- (B) Simplesmente, ignora, você: mas se apenas ignorasse, ainda seria suportável!
- (C) Simplesmente! Ignora, você, mas se, apenas, ignorasse, ainda, seria suportável?
- (D) Simplesmente... ignora você, mas, se, apenas, ignorasse? Ainda seria suportável?
- (E) Simplesmente, ignora, você mas, se apenas ignorasse ainda, seria suportável.

Leia o texto para responder às questões de números **06** e **07**.

Os conselhos dos 'superleitores' para ler mais rápido

Agatha Christie lia 200 livros por ano, enquanto o fundador do Facebook, Mark Zuckerberg, termina um a cada duas semanas. O ex-presidente dos Estados Unidos Theodore Roosevelt lia um livro por dia e até dois ou três, se tinha uma noite mais tranquila. Mas como as pessoas em geral podem conseguir fazer isso? [...]

A jornalista e "treinadora" literária Glynis Kozma aconselha os leitores a tirarem alguns minutos de cada um dos seus compromissos para ler.

"Em vez de pensar que o que você precisa é sentar-se e ler durante uma hora, tente utilizar pequenas quantidades de tempo", diz.

(Hannah Sander. BBC News. Disponível em www.bbc.com/portuguese/noticias/2016/01/160116_superleitores_hs_cc. 17.01.2016. Adaptado)

06. De acordo com o texto, entende-se que

- (A) o leitor ideal é aquele que lê bons livros todo dia.
- (B) o bom leitor consegue ler mais de um livro por noite.
- (C) a insônia é o principal estimulante da rapidez de leitura.
- (D) é preciso sossego para ler mais de um bom livro por noite.
- (E) quem dedica pequenos intervalos do dia à leitura lê mais.

07. No contexto da frase – O ex-presidente dos Estados Unidos Theodore Roosevelt lia um livro por dia e **até** dois ou três, se tinha uma noite mais tranquila. –, a palavra **até** indica

- (A) exclusão.
- (B) inclusão.
- (C) conclusão.
- (D) retificação.
- (E) situação.

08. A internet, os smartphones e os jogos interativos _____ para a qualidade de vida da população, porém _____ risco de dependência se algumas dessas ferramentas _____ utilizadas de forma incontralada.

Assinale a alternativa que preenche, correta e respectivamente, as lacunas do texto acima.

- (A) contribui ... traz ... é
- (B) contribuem ... traz ... é
- (C) contribuem ... trazem ... são
- (D) contribui ... trazem ... são
- (E) contribuem ... traz ... são

Leia o texto para responder às questões de números **09** e **10**.

*Shakespeare será lembrado na Flip nos
400 anos de sua morte*

No dia 23 de abril, completaram-se 400 anos da morte de William Shakespeare. A data foi lembrada ao redor do mundo por pesquisadores e leitores. Mas o British Council quer mais – e, com uma série de atividades artísticas e educativas, pretende mostrar que o bardo continua vivo e atual e apresentá-lo às novas gerações.

Trata-se do projeto Shakespeare Lives, que pretende atingir meio bilhão de pessoas no mundo e terá dois momentos especiais no Brasil. Durante a Festa Literária Internacional de Paraty, de 29/6 a 3/7, uma casa será montada no centro histórico para lembrar o autor. Ainda não foram confirmados debates na programação oficial. Fora isso, ele será celebrado no British House, no Rio, durante a Olimpíada.

(Maria Fernanda Rodrigues. *O Estado de S.Paulo*, 26.03.2016. Adaptado)

09. De acordo com o texto, entende-se que Shakespeare foi um

- (A) esportista.
- (B) pesquisador.
- (C) cantor.
- (D) educador.
- (E) escritor.

10. Considere o primeiro parágrafo do texto:

"No dia 23 de abril, completaram-se 400 anos da morte de William Shakespeare. A data foi lembrada ao redor do mundo por pesquisadores e leitores. Mas o British Council quer mais – e, com uma série de atividades artísticas e educativas, pretende mostrar que **o bardo** continua vivo e atual e apresentá-**lo** às novas gerações.

Na sequência do texto, **o bardo** e **lo** substituem, correta e respectivamente,

- (A) William Shakespeare e o bardo.
- (B) William Shakespeare e British Council.
- (C) British Council e vivo.
- (D) William Shakespeare e mundo.
- (E) mundo e o bardo.

11. Assinale a alternativa que apresenta a correta colocação pronominal.

- (A) Me desculpe, professor, mas o exemplo que deu-nos não é adequado.
- (B) Manifestarei-me, meu amigo, apenas se eu não concordar com suas palavras.
- (C) Nunca vi-o tão calmo em uma situação tão complicada.
- (D) Naquela ocasião, pareceu-lhe que o melhor era manter-se calado.
- (E) Sempre que desejo-o, eu visito-o em sua casa em São Paulo.

12. Leia o texto.

O governo russo vai instalar um telescópio em território brasileiro para monitorar _____ crescente ameaça do lixo espacial.

A ideia é que o telescópio trabalhe todos os dias _____ houver visibilidade, monitorando objetos que estejam em órbita da Terra. Com isso, será possível criar uma base de dados com a localização e trajetória de detritos que podem causar danos _____ superfície da Terra, em caso de reentrada atmosférica.

(Salvador Nogueira. Rússia vai instalar telescópio no Brasil para monitorar lixo espacial. *Folha de S.Paulo*. 30.03.2016. Adaptado)

Assinale a alternativa que preenche, correta e respectivamente, as lacunas do texto, de acordo com as normas de regência verbal e nominal e de emprego de crase.

- (A) à ... que ... à
- (B) a ... que ... a
- (C) a ... em que ... à
- (D) à ... em que ... a
- (E) a ... que ... à

13. Leia a charge.



(Duke. Disponível em <https://www.portalotempo/photos>. Acesso em 24.04.2016.)

Sem alteração do sentido, a forma verbal **fantasio**, na fala do menino, pode ser substituída por

- (A) acredito.
- (B) busco.
- (C) entendo.
- (D) reflito.
- (E) imagino.

Leia o poema para responder às questões de números 14 e 15.

Quem Ama Inventa

Quem ama inventa as coisas a que ama...
Talvez chegaste quando eu te sonhava.
Então de súbito acendeu-se a chama!
Era a brasa dormida que acordava...
E era um revoó sobre a ruínia,
No ar atônito bimbahavam sinos,
Tangidos por uns anjos peregrinos
Cujo dom é fazer ressurreições...
Um ritmo divino? Oh! Simplesmente
O palpar de nossos corações
Batendo juntos e festivamente,
Ou sozinhos, num ritmo tristonho...
Ó! meu pobre, meu grande amor distante,
Nem sabes tu o bem que faz à gente
Haver sonhado... e ter vivido o sonho!

(Mário Quintana. Disponível em http://pensador.uol.com.br/poesias_de_mario_quintana.)

14. Nesse poema, o sentimento do amor é expresso como

- (A) exagerado, pois incomoda o eu-lírico.
- (B) sereno, já que demonstra passividade em relação à amada.
- (C) agressivo, pois domina o ser amado.
- (D) platônico, produto da imaginação do eu-lírico.
- (E) passageiro, pois produz rancor no poeta.

15. Assinale a alternativa em que há sentido figurado.

- (A) Quem ama inventa as coisas a que ama...
- (B) Então de súbito acendeu-se a chama!
- (C) O palpar de nossos corações
- (D) ... meu grande amor distante
- (E) Nem sabes tu o bem que faz à gente

16. Em uma reunião familiar, para cada 3 homens presentes, havia 5 mulheres. Se nessa reunião havia um total de 48 pessoas, a quantidade de mulheres excedia a de homens em
- (A) 2.
 - (B) 8.
 - (C) 9.
 - (D) 12.
 - (E) 15.
17. A diferença de preço entre dois modelos de televisão é igual a R\$ 130,00. Caso seja oferecido um desconto de 6,5% no preço da mais cara, os dois modelos passam a custar o mesmo. O preço da televisão mais cara, sem o desconto, é igual a
- (A) R\$ 1.900,00.
 - (B) R\$ 2.000,00.
 - (C) R\$ 2.150,00.
 - (D) R\$ 2.220,00.
 - (E) R\$ 2.260,00.
18. Em uma cooperativa, 4 trabalhadores, trabalhando por 6 horas em um mesmo ritmo, conseguem separar e preparar 24 000 latas de alumínio para reciclagem. Para que 30 000 latas sejam preparadas em 5 horas, o número de trabalhadores necessários, com a mesma capacidade de produção dos anteriores, é igual a
- (A) 5.
 - (B) 6.
 - (C) 8.
 - (D) 9.
 - (E) 10.
19. Daniel recebe uma certa quantia de dinheiro de sua mãe a cada 2 dias, outra quantia de seu pai a cada 3 dias e outra de sua tia todos os domingos. Em primeiro de maio, domingo, ele recebeu quantias dessas três pessoas. O próximo dia em que receberá dinheiro dessas três pessoas será um domingo, dia
- (A) 15 de maio.
 - (B) 29 de maio.
 - (C) 12 de junho.
 - (D) 19 de junho.
 - (E) 3 de julho.

20. As quantidades de resmas de papel utilizadas por três faculdades de uma instituição de ensino, no mês de maio, estão registradas na tabela seguinte.

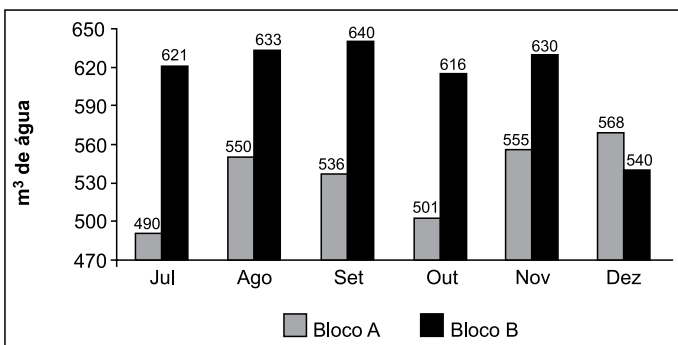
FACULDADE	RESMAS UTILIZADAS
Engenharia	17
Direito	45
Odontologia	9

Considerando-se essas três faculdades mais a Faculdade de Educação, a média de resmas utilizadas por faculdade foi 25. No mês de maio, o número de resmas utilizadas pela Faculdade de Educação supera o número de resmas utilizadas pela Faculdade de Engenharia em

- (A) 12.
(B) 14.
(C) 16.
(D) 18.
(E) 20.
21. A multa por atraso de um tributo é de 0,3% por dia, cobrada no sistema de juro simples. Esse tributo tinha vencimento em 3 de março de 2016 e só foi pago no dia 5 de abril de 2016. Se o valor original desse tributo era R\$ 3.000,00, o valor pago, incluindo a multa, foi de
- (A) R\$ 3.297,00.
(B) R\$ 3.333,00.
(C) R\$ 3.400,00.
(D) R\$ 3.501,00.
(E) R\$ 3.666,00.
22. Júlia trabalha dando aulas particulares de matemática. O valor da aula marcada com antecedência é a metade do valor da aula marcada para o mesmo dia. No mês de maio, Júlia recebeu R\$ 9.360,00 pelas aulas particulares, sendo que 18 aulas foram marcadas com antecedência e 27 aulas foram marcadas para o mesmo dia. O valor recebido por Júlia, nesse mês, referente às aulas marcadas com antecedência, foi
- (A) R\$ 2.100,00.
(B) R\$ 2.180,00.
(C) R\$ 2.220,00.
(D) R\$ 2.260,00.
(E) R\$ 2.340,00.

23. Um retângulo tem um lado medindo x e outro lado medindo $2x$. Um segundo retângulo tem um lado medindo x , como no retângulo anterior, e outro lado medindo 5. Finalmente, um terceiro retângulo tem lados medindo 1 e 3. As medidas desses três retângulos estão expressas em centímetros e a soma de suas áreas é igual a 55 cm^2 . O perímetro, em cm, do retângulo de maior área é igual a
- (A) 20.
 (B) 22.
 (C) 24.
 (D) 26.
 (E) 28.
24. Paulo tem apenas dois tipos de salgados para vender em sua loja: um custando R\$ 3,50 cada e outro custando R\$ 4,00 cada. Em determinado dia, o número de salgados vendidos do valor mais caro foi o triplo do número de salgados vendidos do valor mais barato. Se, nesse dia, Paulo arrecadou com a venda de salgados R\$ 651,00, o número total de salgados vendidos foi
- (A) 184.
 (B) 180.
 (C) 176.
 (D) 172.
 (E) 168.

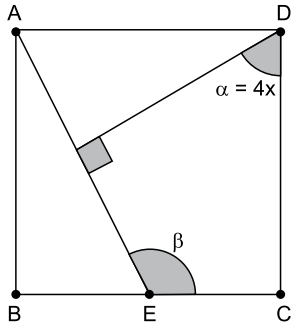
25. O consumo de água em dois prédios de um mesmo condomínio, no segundo semestre de 2015, está registrado no gráfico seguinte.



No semestre considerado, em relação ao consumo de água do bloco A, o consumo de água do bloco B é maior em

- (A) 15%.
 (B) 20%.
 (C) 25%.
 (D) 30%.
 (E) 35%.

26. No quadrado ABCD da figura, o segmento AE tem a extremidade E sobre o lado BC.



Se a diferença entre os ângulos α e β é igual a 60° , o valor de x é igual a

- (A) 9° .
 - (B) 10° .
 - (C) 12° .
 - (D) 14° .
 - (E) 15° .
27. Se todo o conteúdo de 12 caixas de suco de 180 mL for despejado em uma jarra de formato cilíndrico, com raio interno da base igual a 6 cm e altura igual a 21 cm, o suco irá atingir uma altura, em cm, igual a
- Dados:** $\pi = 3$; $1 \text{ mL} = 1 \text{ cm}^3$
- (A) 15.
 - (B) 16.
 - (C) 18.
 - (D) 20.
 - (E) 21.
28. A quantidade de números inteiros compreendidos entre $\sqrt{27 + \sqrt{73}}$ e $\sqrt{73 + \sqrt{27}}$ é
- (A) 0.
 - (B) 1.
 - (C) 2.
 - (D) 3.
 - (E) 4.

29. Para um dia de palestras e minicursos, foram reunidos em um clube 36 colaboradores de uma empresa, 45 de outra e 63 de uma terceira. Foi decidido que os colaboradores seriam divididos em um menor número possível de grupos, garantindo que cada grupo só tivesse pessoas de uma mesma empresa e também que todos os grupos tivessem o mesmo número de participantes. Dessa maneira, o número de grupos formados foi

- (A) 18.
- (B) 16.
- (C) 12.
- (D) 8.
- (E) 6.

30. Mariana, Rafaela e Pedro ficaram responsáveis por catalogar os 407 livros da biblioteca da escola. Mariana trabalhou por 6 horas, e Rafaela, que catalogou 146 livros, trabalhou 15 minutos a mais do que Pedro. Sabendo-se que eles catalogam cada livro em um mesmo tempo, a diferença entre os números de livros catalogados por Rafaela e por Mariana é

- (A) 22.
- (B) 24.
- (C) 26.
- (D) 28.
- (E) 30.

R A S C U N H O

ATUALIDADES

31. Em visita a Cuba (em março de 2016), o presidente Obama declarou que “após cinco décadas de relação difícil, Cuba e Estados Unidos têm ainda sérias diferenças, que precisam de muitas conversas francas e sinceras. Os dois países têm meio século de trabalhos conjuntos para colocar em dia.”

(<http://goo.gl/DRe8XG>. Adaptado)

Uma dessas diferenças apontadas por Obama se refere à deficiência de Cuba em relação

- (A) à pequena preocupação quanto ao meio ambiente.
- (B) às atividades comerciais do país com a Rússia.
- (C) às leis que dificultam o acolhimento de refugiados.
- (D) ao sistema de saúde público que exclui idosos carentes.
- (E) às questões que envolvem os direitos humanos.

32. Desde que assumiu o poder em dezembro do ano passado, depois de uma vitória apertada, o presidente vem sendo alvo de protestos praticamente diários contra seu governo por conta de medidas, consideradas ‘antidemocráticas’ e ‘neoliberais’, que vem adotando. Em pouco mais de dois meses, ele já tentou mudar a Lei de Meios, demitiu milhares de servidores públicos, aumentou em 400% a conta de energia e agora lança um pacote de medidas repressivas com o intuito de acabar com os protestos de rua semanais.

(<http://goo.gl/eu4onR>. Adaptado)

A notícia publicada em fevereiro de 2016, refere-se a qual país vizinho do Brasil?

- (A) Uruguai.
- (B) Peru.
- (C) Venezuela.
- (D) Paraguai.
- (E) Argentina.

33. Durante o mês de abril, a Anatel (Agência Nacional de Telecomunicações) esteve presente nos noticiários porque
- (A) proibiu, por tempo indeterminado, que as operadoras de telefonia imponham limites à navegação da internet banda larga de seus clientes.
 - (B) permitiu que pequenas afiliadas de redes de televisão de São Paulo e do Rio de Janeiro possam ter programação local.
 - (C) autorizou que detentores de cargos públicos eletivos mantenham rádios em cidades com mais de cem mil habitantes.
 - (D) passou a controlar o número de telefones fixos e celulares disponíveis para uso de pequenas e médias empresas.
 - (E) impediu que as atuais operadoras ofereçam aos clientes pacotes de serviços combo que incluam TV a cabo, celular, o aplicativo WhatsApp e Internet.

34. O Produto Interno Bruto (PIB) brasileiro registrou queda de 3,8% em 2015, informou na manhã desta quinta-feira (03/03) o Instituto Brasileiro de Geografia e Estatística (IBGE). A tendência de queda em 2016 continua.

(<http://goo.gl/QeZPIQ>. Adaptado)

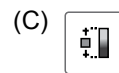

Segundo economistas, uma das consequências dessa queda é

- (A) a redução das exportações de *commodities*, como a soja.
 - (B) o aumento dos gastos do governo com saúde e educação.
 - (C) o desaquecimento da economia com a diminuição dos empregos.
 - (D) o crescimento na concessão de crédito aos consumidores.
 - (E) o maior controle sobre a alta dos preços e dos salários.
35. Lideranças dos povos Pataxó e Tupinambá do extremo sul da Bahia fizeram um protesto hoje (24/02) na Praça dos Três Poderes, em Brasília.
- (<http://goo.gl/61o8Xj>. Adaptado)
- O protesto ocorreu para chamar a atenção para problemas ligados à
- (A) redução das vagas para indígenas nas universidades.
 - (B) necessidade de aumentar o valor do Bolsa-Família para os indígenas.
 - (C) falta de recursos destinados aos cultivos agrícolas de tribos nordestinas.
 - (D) demarcação de terras indígenas em várias áreas do Brasil.
 - (E) proibição do corte de árvores no interior da Amazônia.

36. Um usuário que precise organizar arquivos e pastas de diferentes tipos, por meio do MS-Windows 7, em sua configuração original, pode fazer uso de um aplicativo acessório padrão cuja principal finalidade é justamente a de organizar arquivos e pastas.

Assinale a alternativa que contém o aplicativo acessório descrito no enunciado.

- (A) Notas Autoadesivas.
 - (B) Bloco de Notas.
 - (C) Windows Explorer.
 - (D) WordPad.
 - (E) Internet Explorer.
37. Geralmente, documentos oficiais seguem padrões de formato, com estilos, margens e outros recursos pré-determinados. Assinale a alternativa que contém o ícone do MS-Word 2010, em sua configuração padrão, referente ao trabalho com margens das páginas dos documentos.



38. A planilha a seguir está sendo editada por meio do MS-Excel 2010, em sua configuração padrão.

	A	B	C	D
1	2	5	3	
2	3	6	2	
3	4	1	6	

Assinale a alternativa que contém o valor que será exibido na célula D1, após esta ser preenchida com a fórmula =MAIOR(A1:C3;3)

- (A) 2
- (B) 3
- (C) 4
- (D) 5
- (E) 6
39. As formatações mais comuns aplicadas em apresentações de slides por meio do MS-PowerPoint 2010, em sua configuração padrão, são as formatações relativas a Fonte e Parágrafo.
- Assinale a alternativa que contém o nome da guia em que os grupos Fonte e Parágrafo estão localizados.
- (A) Inserir.
- (B) Página Inicial.
- (C) Revisão.
- (D) Exibição.
- (E) Design.
40. O campo de e-mail, por padrão, usado para adicionar outros destinatários em cópia, de modo que todos eles possam ver os demais endereços de e-mail é o
- (A) Anexo.
- (B) Remetente.
- (C) Assunto.
- (D) Cco.
- (E) Cc.

CONHECIMENTOS ESPECÍFICOS

41. Assinale a alternativa que apresenta uma atribuição do Agente de Segurança Patrimonial em posto fixo.
- (A) Buscar sempre o confronto para inibir a ação criminosa.
- (B) Permitir a aglomeração de pessoas, aumentando a segurança do Agente de Segurança.
- (C) Nunca trabalhar uniformizado.
- (D) Afastar-se periodicamente, visando ter uma visão ampla do posto fixo.
- (E) Ser o mais breve possível, caso necessite dar informações.
42. É(são) considerado(s) ponto estratégico de segurança:
- (A) Pontos elevados que permitem ampla visão.
- (B) Acessos de pessoas não controlados.
- (C) Ausência de medidas de segurança.
- (D) Ausência de clausura.
- (E) Desempenho do Agente de Segurança.
43. Para garantir a segurança das instalações e de todos que estejam envolvidos, no controle do acesso de pessoas, o Agente de Segurança Patrimonial deve seguir, entre outros, o seguinte procedimento:
- (A) Fazer a inspeção visual, porém evitar a análise das características das pessoas, pois, desta forma, irá constrangê-las.
- (B) Fazer a abordagem à distância.
- (C) Avaliar as pessoas pelas aparências.
- (D) Identificar as pessoas desconhecidas, exceto quando acompanhadas de pessoas conhecidas.
- (E) Exigir, como documentação de identificação, apenas o RG.

44. Com relação ao controle de entrada e saída de veículos em estacionamento de repartições públicas, é correto afirmar que
- (A) é conveniente que, caso seja autorizado o acesso, o veículo adentre apenas com o condutor, e que os demais ocupantes desembarquem e acessem a repartição pela entrada de pedestres.
 - (B) jamais se deve ligar para a empresa dos ocupantes do veículo, visando evitar constrangimentos desnecessários.
 - (C) é necessário evitar a instalação de clausura, pois prejudica consideravelmente a segurança do Agente Patrimonial.
 - (D) todas as pessoas deverão ser revistas, sendo que, persistindo a suspeita, serão obrigadas, após serem conduzidas a locais reservados, a despir-se para revista minuciosa.
 - (E) não se deve fazer inspeção visual do veículo, visando evitar constrangimento do motorista e dos passageiros.
45. Sobre as relações humanas no trabalho dos Agentes Patrimoniais, é correto afirmar que
- (A) não influenciam na produtividade do trabalho.
 - (B) a dedicação ao trabalho é importante, porém a empatia é prejudicial.
 - (C) não estão estritamente ligadas apenas às relações entre as pessoas.
 - (D) são importantes apenas nas empresas de grande porte.
 - (E) se espera que o Agente sempre demonstre um comportamento defensivo.
46. No tocante à segurança física de instalações, é correto afirmar que
- (A) a identificação pessoal e a abordagem à distância são, entre outras, medidas estáticas de segurança.
 - (B) as portas giratórias detectoras de metais e as catracas eletrônicas são, entre outras, medidas estáticas de segurança.
 - (C) abordagem à distância e circuito fechado de TV são, entre outras, medidas dinâmicas de segurança.
 - (D) as barreiras perimetrais e o circuito fechado de TV são, entre outras, medidas dinâmicas de segurança.
 - (E) sinalização entre os integrantes da equipe de segurança em casos de pessoas em atitude suspeita e contato telefônico com empresas fornecedoras e prestadoras de serviços para confirmar dados de funcionários são, entre outras, medidas estáticas de segurança.
47. O artigo 5º, inciso LXI da Constituição Federal determina que ninguém será preso senão em flagrante delito ou por ordem escrita e fundamentada
- (A) de autoridade policial competente, salvo nos casos de transgressão militar ou crime propriamente militar, definidos em lei.
 - (B) do Delegado de Polícia ou do Juiz competente.
 - (C) do Ministério Público competente, salvo nos casos de transgressão militar ou crime propriamente militar, definidos em lei.
 - (D) de autoridade judiciária competente, salvo nos casos de transgressão militar ou crime propriamente militar, definidos em lei.
 - (E) das autoridades policiais Civis, Militares e Federal, salvo nos casos de transgressão militar ou crime propriamente militar, definidos em lei.
48. Nos termos do artigo 37 da Constituição Federal, a administração pública direta e indireta de qualquer dos Poderes da União, dos Estados, do Distrito Federal e dos Municípios obedecerá, entre outros, aos seguintes princípios:
- (A) legalidade e pessoalidade.
 - (B) publicidade e investidura.
 - (C) economia processual e publicidade.
 - (D) eficiência e economia processual.
 - (E) moralidade e eficiência.
49. São símbolos da República Federativa do Brasil:
- (A) o Senado Nacional e a Câmara dos Deputados.
 - (B) o Presidente e o Vice-Presidente da República.
 - (C) as Forças Armadas e a Polícia Federal.
 - (D) a bandeira, o hino, as armas e o selo nacionais.
 - (E) o idioma oficial, a bandeira, o hino e o selo nacionais.
50. Comburente é
- (A) o elemento sólido que alimenta o fogo.
 - (B) o elemento pelo qual o fogo se propaga.
 - (C) o oxigênio encontrado no ar que respiramos.
 - (D) a água utilizada para apagar o fogo.
 - (E) o elemento líquido que alimenta o fogo.

