



PREFEITURA MUNICIPAL DE ALUMÍNIO

ESTADO DE SÃO PAULO

CONCURSO PÚBLICO

023. PROVA OBJETIVA

TÉCNICO DE ENFERMAGEM

- ◆ Você recebeu sua folha de respostas e este caderno contendo 50 questões objetivas.
- ◆ Confira seus dados impressos na capa deste caderno e na folha de respostas.
- ◆ Quando for permitido abrir o caderno, verifique se está completo ou se apresenta imperfeições. Caso haja algum problema, informe ao fiscal da sala.
- ◆ Leia cuidadosamente todas as questões e escolha a resposta que você considera correta.
- ◆ Marque, na folha de respostas, com caneta de tinta azul ou preta, a letra correspondente à alternativa que você escolheu.
- ◆ A duração da prova é de 3 horas, já incluído o tempo para o preenchimento da folha de respostas.
- ◆ Só será permitida a saída definitiva da sala e do prédio após transcorridos 75% do tempo de duração da prova.
- ◆ Deverão permanecer em cada uma das salas de prova os 3 últimos candidatos, até que o último deles entregue sua prova, assinando termo respectivo.
- ◆ Ao sair, você entregará ao fiscal a folha de respostas e este caderno, podendo levar apenas o rascunho de gabarito, localizado em sua carteira, para futura conferência.
- ◆ Até que você saia do prédio, todas as proibições e orientações continuam válidas.

AGUARDE A ORDEM DO FISCAL PARA ABRIR ESTE CADERNO DE QUESTÕES.

Nome do candidato _____

RG _____

Inscrição _____

Prédio _____

Sala _____

Carteira _____

CONHECIMENTOS GERAIS

LÍNGUA PORTUGUESA

Lições da Educação Infantil

De uns 15 anos para cá, passamos a ter boas escolas de educação infantil. Antes disso, já tínhamos algumas que respeitavam a primeira infância, ouviam as crianças, reconheciam sua potência de aprendizagem no ato de brincar.

Esse número passou a se multiplicar devido a experiências em escolas pelo mundo. Por isso, hoje, já é possível encontrar uma escola para crianças com menos de seis anos em que o currículo não seja apenas um elenco de conteúdos, em que o ato de brincar seja a principal atividade para a criança, em que não haja uma **profusão** de brinquedos prontos e em que haja professores com formação contínua e em serviço. Escolas desse tipo ainda são minoria, mas já é uma boa notícia saber que elas existem.

Nessas escolas, as crianças aprendem a se concentrar porque a brincadeira exige isso e porque elas participam ativamente da escolha da brincadeira, seja em grupo, seja pessoalmente. Aprendem também a fazer perguntas e a pesquisar para buscar respostas, a exercitar sua criatividade, a colocar a mão na massa em tudo. Atenção: na massa e não, necessariamente, na massinha.

Os alunos aprendem, também, a conviver: os professores aproveitam todas as ocasiões para dar oportunidades de a criança aprender a ver e a considerar o seu par, a esperar a sua vez, a simbolizar em palavras o que sente e pensa, a viver em grupo e a **ser solidária**.

É uma pena que as escolas de ensino fundamental e médio não tenham humildade para olhar com atenção para as de educação infantil e aprender com elas. Há uma hierarquia escolar espantosa, caro leitor: as escolas de graduação pensam que praticam um ensino "superior"; as de ensino médio se consideram mais especializadas no conhecimento sistematizado do que a escola de ensino fundamental; e todas pensam que a de educação infantil não exige conhecimento científico.

As escolas de ensino fundamental e médio precisam se inspirar nas de educação infantil e não deixar o aluno ser totalmente passivo em sua aprendizagem: ele precisa, para se motivar, fazer algumas escolhas.

O aluno que participa não se distrai com tanta facilidade. E é bom lembrar que uma das maiores queixas em relação aos alunos é exatamente a falta de atenção, de foco e de concentração.

Precisam também reconhecer que aprende mais quem pratica o que deve aprender. Como eu já disse: mão na massa! Ninguém merece ficar horas em aulas expositivas ou arremedos de trabalho em grupo.

O que as famílias têm a ver com isso? Tudo! Quando a sociedade questionar verdadeiramente a organização escolar atual, certamente teremos mudanças. Mas, até agora, vemos mais conformismo e adesão do que questionamentos, não é verdade?

(Rosely Sayão, Folha de S.Paulo, 05 de maio de 2015. Adaptado)

Leia o texto para responder às questões de números **01** a **09**.

- 01.** A opinião da autora a respeito das escolas de ensino fundamental e médio é que elas
- (A) se preocupam em ensinar os alunos a terem humildade para aprender com os alunos do ensino superior.
 - (B) respeitam a posição hierárquica das escolas de graduação, que possuem comprovado conhecimento científico e aprendem com as escolas de educação infantil.
 - (C) consideram que as escolas de educação infantil, para serem mais eficientes, precisam transmitir mais conteúdos e praticar menos brincadeiras.
 - (D) têm o que aprender com as boas escolas de educação infantil quanto à não passividade do aluno na aprendizagem.
 - (E) são mais modestas e especializadas no conhecimento sistematizado do que as escolas de ensino infantil e procuram imitá-las.
- 02.** De acordo com o texto, uma boa escola de educação infantil é aquela que
- (A) relega para segundo plano o ato de brincar como atividade formadora da criança e prioriza os conteúdos.
 - (B) se preocupa, antes de mais nada, com um currículo formado de variados conteúdos importantes para a formação do aluno.
 - (C) ouve a criança e considera a primeira infância de grande importância para a aprendizagem.
 - (D) reconhece que, na primeira infância, a potência de aprendizagem ainda é muito pequena.
 - (E) valoriza brinquedos comprados para poupar o tempo dos professores que fazem cursos de formação contínua.

03. Leia o trecho a seguir.

Aprendem também a fazer perguntas e a pesquisar para buscar respostas, a exercitar sua criatividade, **a colocar a mão na massa em tudo. Atenção: na massa e não, necessariamente, na massinha.** (3º parágrafo)

Nesse trecho, em especial nas frases em destaque, a autora defende a ideia de que

- (A) as brincadeiras com materiais sem forma têm a finalidade de entreter as crianças, a fim de ocupar o tempo ocioso.
- (B) o trabalho de dar formas às massinhas tem a finalidade de apressar a aprendizagem das crianças por meio da participação em grupo.
- (C) as atividades manuais com qualquer tipo de massa devem ser incentivadas principalmente a crianças com mais de seis anos.
- (D) o aproveitamento de qualquer material serve para despertar o sentimento artístico na criança de qualquer idade.
- (E) a participação da criança como protagonista em todas as atividades constitui aspecto fundamental para a aprendizagem.

04. No último parágrafo do texto, a ideia defendida pela autora é a de que

- (A) a sociedade, em geral, tem-se manifestado contrária à organização escolar atual e apresentado inúmeros questionamentos.
- (B) para que a organização escolar atual sofra modificações desejáveis, ela deve ser motivo de questionamentos por parte das famílias.
- (C) nas discussões das famílias está o caminho para que a organização escolar atual seja preservada.
- (D) as famílias têm manifestado seu descontentamento com a organização escolar e proposto algumas mudanças radicais.
- (E) a organização escolar atual tem sido fartamente questionada pelas famílias, embora nada tenham a ver com a situação.

05. As expressões em negrito – **profusão** e **ser solidária** – nos 2º e 4º parágrafos do texto, podem ser substituídas, respectivamente, sem alteração de sentido, por

- (A) abundância e dar apoio a alguém.
- (B) diminuição e permanecer solitária.
- (C) exuberância e demonstrar coragem.
- (D) fartura e cultivar a amizade.
- (E) riqueza e alimentar a animosidade.

06. Assinale a alternativa em que o trecho – ... uma das maiores queixas em relação aos alunos é exatamente a falta de atenção ... –, ao ser reescrito, tem o acento indicativo de crase empregado de acordo com a norma-padrão.

- (A) ... uma das maiores queixas relacionadas à alunos é exatamente a falta de atenção...
- (B) ... uma das maiores queixas em relação aos alunos refere-se exatamente à falta de atenção...
- (C) ... uma das maiores queixas dos alunos é exatamente à falta de atenção...
- (D) ... à falta de atenção é considerada exatamente uma das maiores queixas em relação aos alunos...
- (E) ... considera-se à falta de atenção exatamente uma das maiores queixas em relação aos alunos...

07. No trecho – ... elas participam **ativamente** da escolha da brincadeira, seja em grupo, seja **pessoalmente**. –, os termos destacados expressam, respectivamente, sentido de

- (A) afirmação e modo.
- (B) intensidade e afirmação.
- (C) afirmação e afirmação.
- (D) modo e modo.
- (E) modo e dúvida.

08. Assinale a alternativa cuja frase possui expressão empregada em sentido figurado.

- (A) Esse número passou a se multiplicar devido a experiências em escolas pelo mundo. (2º parágrafo)
- (B) ... em que não haja uma profusão de brinquedos prontos... (2º parágrafo)
- (C) ... a considerar o seu par, a esperar a sua vez, a simbolizar em palavras o que sente e pensa, a viver em grupo e a ser solidária. (4º parágrafo)
- (D) ... e não deixar o aluno ser totalmente passivo em sua aprendizagem: ele precisa, para se motivar, fazer algumas escolhas. (6º parágrafo)
- (E) Precisam também reconhecer que aprende mais quem pratica o que deve aprender. Como eu já disse: mão na massa! (8º parágrafo)

09. Nas frases reescritas, as concordâncias nominal e/ou verbal e a pontuação estão corretas, de acordo com a norma-padrão, na alternativa:

- (A) A maioria das escolas de ensino infantil não demonstra respeito pela primeira infância, porém já são encontradas as que valorizam essa fase.
- (B) Haviam algumas escolas de educação infantil que respeitava a primeira infância cuja potência de aprendizagem, era reconhecida.
- (C) É uma boa notícia saber que já existe escolas que respeitam a primeira infância e em que as crianças, bem motivada exercitam a criatividade.
- (D) O país já tem bastante professores com formação contínua, o que são desejáveis para que hajam desenvolvimento e qualidade na educação.
- (E) Embora fizessem 15 anos que não se via boas escolas de educação infantil encontra-se algumas que respeitam, os anos iniciais de vida.

10. Leia o poema.

Ensino

Minha mãe achava estudo
A coisa mais fina do mundo.
Não é.
A coisa mais fina do mundo é o sentimento.
Aquele dia de noite, o pai fazendo serão,
Ela falou comigo:
“Coitado, até essa hora no serviço pesado”.
Arrumou pão e café, deixou tacho no fogo com água quente.
Não me falou em amor.
Essa palavra de luxo.

(Adélia Prado, Poesia reunida. São Paulo: Siciliano, 1991)

Assinale a alternativa que traz a ideia central do poema.

- (A) No ato de cozinhar está evidente a submissão da mulher ao marido.
- (B) A percepção de que o estudo está acima do amor.
- (C) A importância do amor traduzido em gestos simples do cotidiano.
- (D) O costume de pessoas simples de tomar café com pão.
- (E) A vida difícil do homem em trabalhos pesados até altas horas.

11. Um lojista comprou x caixas de parafusos. Do total comprado, ele enviou $\frac{1}{4}$ para a filial A, $\frac{1}{3}$ para a filial B, e as

75 caixas restantes para a matriz. Se cada caixa tem 5 dúzias de parafusos, então o número de parafusos enviados para a filial A foi igual a

- (A) 2500.
- (B) 2700.
- (C) 2800.
- (D) 3400.
- (E) 3600.

12. Um funcionário de uma marcenaria decidiu separar o material recebido em pilhas, e foi colocando, alternadamente, placas de MDF de 3 espessuras diferentes, 15 mm, 18 mm e 20 mm, em 3 pilhas distintas, sendo que cada pilha deveria conter somente placas com a mesma espessura. No primeiro momento em que as três pilhas ficaram com alturas iguais, a pilha da placa de menor espessura tinha um número de placas igual a

- (A) 8.
- (B) 9.
- (C) 10.
- (D) 12.
- (E) 15.

13. Em uma loja, uma placa promocional colocada na bancada de camisetas informava:

*“Compre 4 peças e pague apenas 3.
A peça de menor preço sai de graça.”*

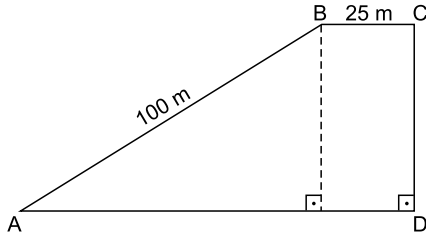
Mariana aproveitou a promoção e comprou 4 camisetas, cujos preços originais eram, respectivamente, R\$ 60,00, R\$ 75,00, R\$ 48,00 e R\$ 57,00. Para Mariana, essa promoção correspondeu a um desconto, no valor total da compra, de

- (A) 20%.
- (B) 25%.
- (C) 36%.
- (D) 40%.
- (E) 48%.

14. As idades de Alfredo, Bernardo e Cesar, juntas, somam 88 anos. Sabe-se que Bernardo tem 14 anos a menos que Alfredo, e que Cesar tem 10 anos a menos que Bernardo. Desse modo, é correto afirmar que a idade, em anos, de Alfredo é igual a

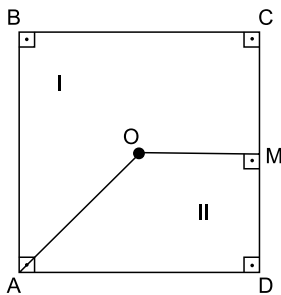
- (A) 24.
- (B) 28.
- (C) 30.
- (D) 38.
- (E) 42.

15. Na praça representada na figura, a soma das medidas dos lados \overline{AB} e \overline{BC} tem 20 m a mais que a medida do lado \overline{AD} .



Nessas condições, é correto afirmar que a medida, em metros, do lado \overline{CD} é igual a

- (A) 80.
 - (B) 75.
 - (C) 70.
 - (D) 60.
 - (E) 55.
16. Um terreno quadrado ABCD, de área igual a 400 m^2 , foi dividido em duas regiões, I e II, conforme mostra a figura.



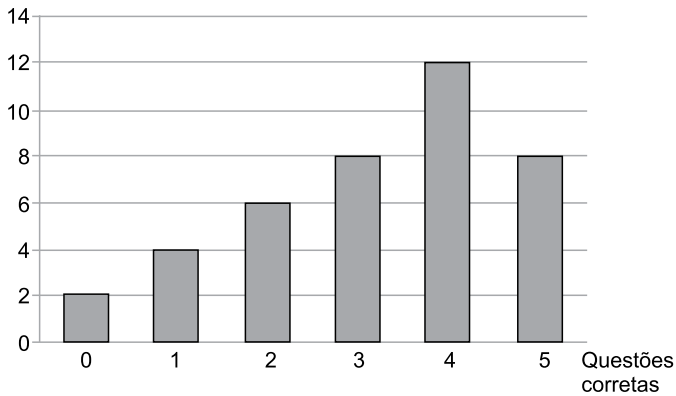
Sabendo-se que os pontos O e M indicam exatamente o centro do terreno e o ponto médio do lado \overline{CD} , respectivamente, é correto afirmar que a diferença entre as áreas das regiões I e II, em m^2 , é igual a

- (A) 75.
 - (B) 100.
 - (C) 125.
 - (D) 150.
 - (E) 175.
17. Em uma indústria, 8 máquinas iguais, funcionando durante 10 horas por dia, produzem um lote de certa peça automotiva em 6 dias. Doze das mesmas máquinas, funcionando com a mesma produtividade durante 8 horas por dia, podem produzir um lote idêntico, da mesma peça, em um número de dias igual a

- (A) 7.
- (B) 6.
- (C) 5.
- (D) 4.
- (E) 3.

18. O gráfico mostra a distribuição das questões respondidas corretamente pelos alunos de certa classe na prova de Matemática com 5 questões.

Quantidade de provas



A média aritmética do número de questões corretas por prova foi

- (A) 2,8.
(B) 3.
(C) 3,2.
(D) 3,5.
(E) 4.
19. Em uma papelaria, uma caneta P é R\$ 3,00 mais cara que uma caneta Q. Se fosse dado um desconto de 25% no preço da caneta P, este ficaria igual ao preço da caneta Q. Nessas condições, é correto afirmar que o preço da caneta Q, nessa papelaria, é
- (A) R\$ 8,00.
(B) R\$ 9,00.
(C) R\$ 10,00.
(D) R\$ 11,00.
(E) R\$ 12,00.
20. Uma caixa de forma cúbica fica totalmente cheia quando colocamos ordenadamente dentro dela 64 peças iguais, todas de forma cúbica, com aresta de 5 cm. Desse modo, é correto afirmar que a aresta interna dessa caixa mede, em centímetros,
- (A) 20.
(B) 25.
(C) 30.
(D) 35.
(E) 40.

ATUALIDADES

21. O presidente venceu as eleições com a promessa de conseguir a “pobreza zero” no país. Mas desde que chegou ao Governo, há 1,4 milhão de pobres a mais, devido à inflação galopante e aos ajustes que estão sendo realizados pelo Executivo, principalmente os aumentos das tarifas de gás, eletricidade e transporte, que aprovou para diminuir os subsídios e reduzir o déficit fiscal. Com essas medidas duras está começando a se romper o idílio entre o presidente e a população e muitos exigem que ele tome medidas sociais para compensar.

(http://brasil.elpais.com/brasil/2016/04/16/internacional/1460817339_983857.html. Adaptado)

O fato relatado na notícia ocorreu

- (A) no Uruguai.
- (B) na Argentina.
- (C) na Bolívia.
- (D) na Venezuela.
- (E) na Colômbia.

22. Os Estados Unidos e a Rússia defendem o projeto de uma nova Constituição para o país, anunciou na noite desta quinta-feira (24/03), em Moscou, o secretário de Estado americano, John Kerry, após mais de 4 horas de conversações com o presidente russo, Vladimir Putin. “Estamos de acordo sobre o fato de que é preciso um calendário e um projeto de Constituição até agosto”, declarou Kerry, que disse, ainda, que ele e o presidente Putin acertaram que tentarão influir para que o regime do país e os rebeldes acelerem as negociações para uma transição política, destinada a pôr um fim à guerra civil.

(<http://glo.bo/1ZxXxdN>. Adaptado)

Os esforços dos EUA e da Rússia destinam-se

- (A) ao Afeganistão.
- (B) à Arábia Saudita.
- (C) ao Egito.
- (D) ao Líbano.
- (E) à Síria.

23. Entrou em vigor no início de fevereiro, a Lei nº13.185, que delibera que as instituições de ensino, clubes e agremiações recreativas promovam medidas de conscientização, prevenção e combate a todos os tipos de violência, com destaque às práticas recorrentes de intimidação sistemática ou constrangimento físico e psicológico, sejam elas cometidas por alunos, professores ou outros profissionais da comunidade escolar.

(<http://radios.ebc.com.br/reporter-rio/edicao/2016-02/>. Adaptado)

O novo texto aprovado recebeu o nome de

- (A) Lei do bullying.
- (B) Código comportamental da infância.
- (C) Lei dos médios.
- (D) Estatuto dos direitos dos jovens brasileiros.
- (E) Regimento disciplinar do ciber espaço.

24. Em 31 de março, o Banco Central (BC) divulgou uma notícia animadora, informando que

- (A) as automobilísticas vão aumentar em mais de 50% a produção de veículos.
- (B) o dólar voltará a ser vendido a dois reais até o final do ano.
- (C) a inflação deverá apresentar ligeira queda ao longo do ano de 2016.
- (D) o Brasil deixará de importar petróleo dos Estados Unidos.
- (E) as taxas de juros deverão voltar ao patamar de 5% até outubro.

25. Embora muitos partidos de oposição criticassem e tentassem impedir a viagem, em abril, a presidente Dilma viajou a Nova York para participar, na sede da ONU,

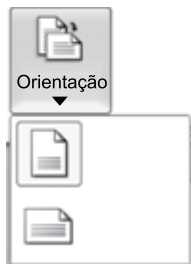
- (A) da assinatura de empréstimos destinados a financiar obras de infraestrutura no Brasil.
- (B) da abertura das negociações entre o Mercosul e os blocos econômicos norte-americanos.
- (C) de atos de solidariedade aos refugiados do Oriente Médio e da África, em dificuldades.
- (D) da cerimônia de assinatura do acordo do clima, elaborado durante a COP 21, em Paris.
- (E) da defesa da Petrobras, que tem sofrido ameaça de interdição por bancos internacionais.

26. O MS-Windows 7, em sua configuração padrão, possui atalhos de teclado que agilizam ações como copiar, recortar e colar.

Assinale a alternativa que correlaciona corretamente uma ação descrita no enunciado com o atalho de teclado correspondente.

- (A) recortar: Ctrl+X
- (B) copiar: Ctrl+V
- (C) colar: Ctrl+C
- (D) copiar: Ctrl+X
- (E) recortar: Ctrl+V

27. A imagem a seguir foi retirada do MS-Word 2010, em sua configuração padrão.



Assinale a alternativa que contém a Orientação da Página selecionada no momento, de acordo com a imagem exibida.

- (A) Letter.
- (B) A4.
- (C) A3.
- (D) Paisagem.
- (E) Retrato.

28. A imagem a seguir mostra uma planilha sendo editada por meio do MS-Excel 2010, em sua configuração padrão.

	A	B	C
1	3	6	1
2	3	6	5
3	7	2	3
4			

Assinale a alternativa que contém o valor que será exibido na célula A4, após esta ser preenchida com a fórmula =MÉDIA(A1:C3)

- (A) 2
- (B) 3
- (C) 4
- (D) 5
- (E) 6

29. O ícone do MS-PowerPoint 2010, em sua configuração padrão, que permite inserir o número do slide é

- (A)
- (B)
- (C)
- (D)
- (E)

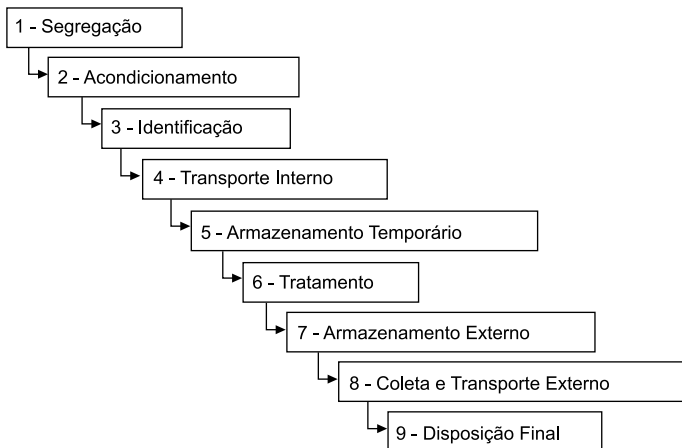
30. Assinale a alternativa que contém um padrão válido de uma URL para a consulta de uma página na internet por meio de um navegador de internet.

- (A) <https://nomedosite.com.www>
- (B) <ftp://nomedosite.com.br>
- (C) <stmp://nomedosite.com.br>
- (D) <http://www.nomedosite.com.br>
- (E) <smtp://nomedosite.com.br.www>

CONHECIMENTOS ESPECÍFICOS

31. Naquele dia havia muita gente na unidade porque a cidade vivia um surto de dengue. A enfermeira delegou ao técnico de enfermagem, que já vinha executando os testes rápidos de dengue, que também passasse a comunicar os resultados aos pacientes e, sempre que o resultado fosse positivo, os encaminhasse ao atendimento médico imediatamente. De acordo com o Código de Ética dos Profissionais de Enfermagem, o técnico de enfermagem
- (A) deve acatar a delegação porque é seu dever participar da assistência à saúde das pessoas.
 - (B) deve acatar porque, mesmo não sendo sua atribuição, a delegação de comunicar resultado não é complexa.
 - (C) deve acatar porque é sua atribuição reconhecer e descrever sintomas dos pacientes.
 - (D) deve recusar porque a delegação envolve tomada de decisão diagnóstica que é privativa do enfermeiro.
 - (E) deve recusar porque os usuários não aceitarão sua decisão de triagem para a consulta médica.

32. O técnico de enfermagem, como integrante da equipe de saúde, participa dos programas executados por ela.



O programa cujas etapas estão representadas na figura corresponde ao

- (A) Programa de previsão e compra de materiais e insumos.
- (B) Programa de processamento e esterilização de materiais.
- (C) Programa de gerenciamento de resíduos de serviços de saúde.
- (D) Programa de gerenciamento de recursos materiais em saúde.
- (E) Programa de gerenciamento e dispensação de medicamentos.

33. Graduandos de enfermagem e de medicina participam da programação de saúde como parte de sua formação acadêmica e o técnico de enfermagem interage com eles porque

- (A) faz parte das atribuições do técnico de enfermagem ministrar aulas sobre as técnicas de enfermagem.
- (B) compete ao técnico de enfermagem, como integrante da equipe, participar dos programas de educação continuada.
- (C) na ausência de preceptores, o substituto natural nos programas de educação continuada é o técnico de enfermagem.
- (D) os acadêmicos de enfermagem devem realizar grande número de atividades de baixa complexidade em seu programa de treinamento, aliviando a carga de trabalho do técnico de enfermagem.
- (E) sendo pessoas ainda em formação, os acadêmicos cometem muitos erros e necessitam da supervisão constante do técnico de enfermagem.

34. Uma paciente de 56 anos recebeu o diagnóstico de *diabetes mellitus* do tipo 2 e vai fazer uso de metformina 1000 mg/dia em duas tomadas, após o jejum e após o jantar. Entre as orientações relativas à terapêutica medicamentosa a paciente deverá ser alertada para a possibilidade de ocorrência de

- (A) retenção de líquidos manifestos pelo edema de MMII.
- (B) hipoglicemia repentina com lipotimia.
- (C) desconforto abdominal e diarreia.
- (D) anemia e perda de peso ponderal.
- (E) hiperglicemia, náuseas de vômitos.

35. Um paciente de 8 anos tem uma prescrição de hidrocortisona intramuscular (IM), 25 mg, a cada 24 horas, por 3 dias. Na unidade há disponível um frasco-ampola de hidrocortisona de pó liofilizada de 100 mg para aplicação por via IM e ampolas de 2 mL de água bidestilada para reconstituição. Para atender corretamente a prescrição, o técnico de enfermagem deverá reconstituir o conteúdo do frasco-ampola em:

- (A) 1 mL de água destilada e aplicar 0,5 mL por via IM.
- (B) 2 mL de água destilada e aplicar 0,5 mL por via IM.
- (C) 1 mL de água destilada e aplicar 1 mL por via IM.
- (D) 2 mL de água destilada e aplicar 1 mL por via IM.
- (E) 2 mL de água destilada e aplicar 2 mL por via IM.

36. Durante a coleta de material para exames laboratoriais o técnico de enfermagem percebeu que seu colega destacava a ponta da luva de procedimento do dedo indicador direito após a escolha do local da punção e da antissepsia local. Em seguida, repousava o dedo desprotegido sobre a pele do paciente para conduzir o local de inserção da agulha. Na função de supervisão do trabalho de enfermagem em grau auxiliar ele deve alertar o colega sobre o erro relativo à
- (A) técnica – sequência incorreta do procedimento.
 - (B) infecção – contaminação de local previamente submetido à antissepsia.
 - (C) infecção – autocontaminação decorrente do contato direto com a pele do paciente.
 - (D) administração – desperdício de luvas que poderiam ser utilizadas em mais de um procedimento.
 - (E) técnica – o correto seria descalçar a luva inteira.
37. No grupo educativo de mães de bebês de 03 a 06 meses o técnico de enfermagem auxilia na verificação de dados antropométricos. Ele percebe que uma das crianças com 04 meses e meio, nascida a termo, não segura o brinquedo que ela oferece para distrair enquanto faz o procedimento. Em se tratando de atraso no desenvolvimento, ele poderá observar outros parâmetros de desenvolvimento esperados para esta idade, entre eles:
- (A) vira sozinho a cabeça na direção de uma voz ou som de objeto sonoro.
 - (B) transfere voluntariamente objetos de uma mão para a outra.
 - (C) desloca-se sozinho, engatinhando.
 - (D) duplica sons de sílabas (ma-ma, pa-pa).
 - (E) abana conscientemente a cabeça para dizer sim.
38. O soro caseiro utilizado para reidratação oral representou um enorme avanço no controle e recuperação de crianças com risco de desidratação e nos quadros leves a moderados desse agravo. A administração do soro de reidratação oral, entretanto, requer alguns cuidados, entre os quais:
- (A) deve ser oferecido preferentemente gelado para reduzir os vômitos.
 - (B) se a criança o rejeitar, pode ser diluído em outro líquido para melhorar o sabor.
 - (C) o aumento da frequência e volume das evacuações na fase de reposição é esperada.
 - (D) durante a reidratação oral a ocorrência de sono profundo é sinal de melhora da criança.
 - (E) a validade do soro de reidratação oral diluído é de 5 horas. Após esse tempo deve ser desprezado.
39. No grupo de adolescentes da escola de ensino fundamental de seu bairro um dos participantes se mostrou preocupado com a segurança do preservativo masculino para evitar problemas futuros. O técnico de enfermagem deverá lhe explicar que esse é um método seguro, desde que tomados alguns cuidados no seu uso. A esse respeito, está correto afirmar que
- (A) se o preservativo estiver úmido dentro da embalagem poderá ser utilizado com segurança mesmo que o prazo de validade esteja vencido.
 - (B) o momento adequado para a colocação do preservativo de forma segura é antes da ereção, com o pênis relaxado.
 - (C) o momento adequado para a retirada do preservativo de forma segura é após o término da relação e da ereção, sempre com o pênis relaxado.
 - (D) o preservativo deve ser colocado quando o pênis estiver ereto e a ponta deve ser apertada para sair o ar.
 - (E) o preservativo poderá ser reutilizado pela mesma pessoa, desde que devidamente lavado com sabão antisséptico apropriado.
40. Uma paciente de 63 anos recebeu o diagnóstico de *diabetes mellitus* e lhe foi prescrito o uso de insulina. Entre as orientações que o técnico de enfermagem fará estão aquelas referentes ao transporte, conservação e cuidados com a insulina. Sobre esses aspectos assinale a orientação correta.
- (A) A insulina deverá ser retirada da geladeira entre 15 a 30 minutos antes da aplicação, para prevenir dor e risco de irritação no local de aplicação.
 - (B) O local mais indicado para guarda da insulina e dispositivos de aplicação é o congelador interno da geladeira ou as prateleiras mais altas do refrigerador.
 - (C) Para conservação da insulina no refrigerador doméstico ela deve permanecer acondicionada na caixa térmica utilizada para o transporte, visando a proteção de contaminação pelos alimentos.
 - (D) Para o transporte da insulina da unidade de saúde até o domicílio deve ser acondicionada em embalagem térmica, diretamente sobre o gelo para garantir a manutenção das temperaturas baixas.
 - (E) A insulina suporta temperaturas de até 30 graus sem perda de sua eficácia, devendo ser conservada em temperatura ambiente, onde sua durabilidade é maior.

41. A gestação mesmo que seja de baixo risco é uma condição em que a mulher está sob risco de infecções que podem interferir no desenvolvimento do feto. Uma dessas infecções é representada pela Influenza A H1N1, cuja prevenção é recomendada mediante aplicação de vacina. O esquema vacinal para gestantes com o objetivo de prevenir esse tipo de gripe é:
- (A) três doses com intervalo de 30 dias entre elas, a partir da 27ª semana de gravidez.
 - (B) duas doses com intervalo de 60 dias, iniciando a partir do 5º mês de gestação.
 - (C) duas doses, sendo a primeira no primeiro trimestre e a segunda no puerpério.
 - (D) dose única até a 12ª semana de gravidez.
 - (E) dose única em qualquer idade gestacional no período que antecede a sazonalidade da doença.
42. No período gestacional o corpo da mulher passa por diversas alterações incluindo as fisiológicas. Um dos reflexos dessas mudanças é o aparecimento de edema, que assume importância clínica e constitui sinal de alerta se
- (A) surge em resposta a elevações bruscas de temperatura ambiente.
 - (B) surge após caminhadas intensas ou longos períodos em pé.
 - (C) ocorre após o uso de calçados fechados.
 - (D) tem início súbito, na presença de hipertensão.
 - (E) desaparece ao repouso com elevação de MMII.
43. Uma mulher teve o resultado da sorologia VDRL reagente no momento do parto de sua segunda filha. Ela fez apenas uma consulta de pré-natal na ocasião da confirmação da gravidez e não retornou para as consultas seguintes. Também não colheu os exames solicitados na ocasião. Considerando que ela seja portadora de sífilis ativa, é correto afirmar que
- (A) a recém-nascida, mesmo assintomática no momento do parto, poderá apresentar sinais e sintomas de sífilis congênita tardiamente.
 - (B) a mulher não precisará mais ser tratada porque os danos que pudessem atingir o feto já ocorreram e são irreversíveis.
 - (C) somente a mãe deve ser notificada à vigilância epidemiológica, pois a sífilis do recém-nascido é secundária à doença da mãe.
 - (D) a sífilis da mulher e da recém-nascida constituem síndromes de evolução benigna, com regressão espontânea em até cinco anos.
 - (E) a amamentação está contraindicada definitivamente, pois o *Treponema pallidum*, causador da sífilis é transmitido pelo leite materno, mesmo quando não há lesões sífilíticas nas mamas.
44. Na visita domiciliar a uma idosa de 88 anos a técnica de enfermagem percebeu que havia mais comprimidos do medicamento matinal do que esperado para o dia do mês, embora ela negasse ter problemas de memória ou irregularidade no tratamento. A perda da autonomia para manipular medicamentos, para controlar finanças, entre outras, compõe o conjunto das atividades
- (A) de comunicação interpessoal.
 - (B) relacionadas ao risco de depressão.
 - (C) de avaliação unidimensional.
 - (D) básicas da vida diária.
 - (E) instrumentais da vida diária.
45. Paciente do sexo feminino, 25 anos, vai iniciar hoje o tratamento de tuberculose pulmonar bacilífera. Ela deve ser orientada sobre a duração do tratamento regular que é:
- (A) primeira de 2 meses e a segunda de 6 meses.
 - (B) primeira de 2 meses e a segunda de 2 meses.
 - (C) primeira de 2 meses e a segunda de 4 meses.
 - (D) primeira de 4 meses e a segunda de 6 meses.
 - (E) primeira de 3 meses e a segunda de 3 meses.
46. Paciente do sexo masculino, 62 anos, portador de DPOC com duas internações por problemas respiratórios nos últimos 12 meses. Ele pertence ao grupo de pessoas prioritárias para receber as vacinas:
- (A) pneumocócica 23 valente e influenza.
 - (B) pneumocócica 10 valente e haemophilus B.
 - (C) haemophilus B e meningite A e C.
 - (D) haemophilus B e influenza.
 - (E) influenza e antitetânica.
47. Paciente do sexo masculino, 38 anos de idade, deu entrada no serviço de saúde com sintomas de infarto do miocárdio. Nos primeiros 30 minutos de atendimento, denominado tempo porta agulha, serão colhidas amostras para exames laboratoriais e administrado um conjunto de medicações estabelecidas no protocolo para esse tipo de atendimento que devem estar disponíveis no carro de emergência. Deste conjunto de medicações, a que é destinada ao controle da dor é:
- (A) ácido acetilsalicílico – AAS.
 - (B) morfina.
 - (C) adrenalina.
 - (D) nitrato.
 - (E) potássio.

- 48.** Um paciente adulto comparece ao serviço de saúde para colher amostra de sangue para exames de rotina. Durante a inspeção do local para punção o técnico de enfermagem percebe que o paciente apresenta sinais e sintomas de espasmo brônquico. Além de interromper o procedimento em curso e solicitar ajuda do enfermeiro, que cuidados de emergência o técnico de enfermagem deve adotar?
- (A) Oferecer água em abundância e pedir ao paciente que fique calmo.
 - (B) Colher as amostras de sangue acrescentando uma para o caso do médico solicitar novos exames.
 - (C) Deitar o paciente em decúbito dorsal com MMII ligeiramente elevados em relação a cabeça. Instalar cateter de oxigênio iniciando com fluxo de 15 L/minuto.
 - (D) Solicitar ao paciente que fique de pé, caminhe e erga os braços para favorecer os movimentos respiratórios.
 - (E) Manter o paciente sentado para favorecer a expansão pulmonar, oferecer cateter de oxigênio iniciando com fluxo de 3 L/minuto.
- 49.** As Unidades Básicas de Saúde – UBS realizam campanhas de vacinação em diferentes momentos do ano, necessitando prover as salas de vacina com imunobiológicos suficientes para o atendimento da demanda. O fluxo e a periodicidade de abastecimento das salas de vacina com imunobiológicos deverá levar em conta
- (A) o número mínimo de pessoas a ser vacinada em toda a campanha.
 - (B) o número de vacinadores disponíveis para atuar.
 - (C) a duração da campanha em dias.
 - (D) a capacidade de armazenamento nos refrigeradores da UBS.
 - (E) a existência de gerador de energia local.
- 50.** A resolução RDC nº 15, de 15 de março de 2012, dispõe sobre requisitos de boas práticas para o processamento de produtos para a saúde, entre elas:
- (A) dispensa os trabalhadores do centro de materiais e esterilização de usar vestimentas específicas e equipamentos de proteção individual.
 - (B) permite o uso de embalagens de papel kraft, papel toalha, papel manilha, papel jornal para embalar materiais não críticos.
 - (C) na falta de seladora, permite a selagem de embalagens de papel grau cirúrgico com fita adesiva termossensível.
 - (D) se houver a terceirização do processamento dos produtos para saúde a empresa contratada passa a responder com exclusividade pela qualidade do processo de esterilização.
 - (E) o enxágue dos produtos para saúde deve ser realizado com água que atenda aos padrões de potabilidade definidos em normatização específica.

