

## PREFEITURA MUNICIPAL DE PRESIDENTE PRUDENTE

ESTADO DE SÃO PAULO

CONCURSO PÚBLICO

### 016. PROVA OBJETIVA

#### AGENTE DE SEGURANÇA PÚBLICA E OPERADOR DE TRÂNSITO

- ◆ Você recebeu sua folha de respostas e este caderno contendo 50 questões objetivas.
- ◆ Confira seus dados impressos na capa deste caderno e na folha de respostas.
- ◆ Quando for permitido abrir o caderno, verifique se está completo ou se apresenta imperfeições. Caso haja algum problema, informe ao fiscal da sala.
- ◆ Leia cuidadosamente todas as questões e escolha a resposta que você considera correta.
- ◆ Marque, na folha de respostas, com caneta de tinta azul ou preta, a letra correspondente à alternativa que você escolheu.
- ◆ A duração da prova é de 3 horas, já incluído o tempo para o preenchimento da folha de respostas.
- ◆ Só será permitida a saída definitiva da sala e do prédio após transcorridos 75% do tempo de duração da prova.
- ◆ Ao sair, você entregará ao fiscal a folha de respostas e este caderno, podendo levar apenas o rascunho de gabarito, localizado em sua carteira, para futura conferência.
- ◆ Até que você saia do prédio, todas as proibições e orientações continuam válidas.

AGUARDE A ORDEM DO FISCAL PARA ABRIR ESTE CADERNO DE QUESTÕES.

Nome do candidato \_\_\_\_\_

Prédio \_\_\_\_\_

Sala \_\_\_\_\_

Carteira \_\_\_\_\_

Inscrição \_\_\_\_\_



## CONHECIMENTOS GERAIS

### LÍNGUA PORTUGUESA

Leia o poema para responder às questões de números 01 a 05.

#### *Também já fui brasileiro*

Eu também já fui brasileiro  
moreno como vocês.  
Ponteei viola, guiei forde  
e aprendi na mesa dos bares  
que o nacionalismo é uma virtude.  
Mas há uma hora em que os bares se fecham  
e todas as virtudes se negam.  
Eu também já fui poeta.  
Bastava olhar para mulher,  
pensava logo nas estrelas  
e outros substantivos celestes.  
Mas eram tantas, o céu tamanho,  
minha poesia perturbou-se.  
Eu também já tive meu ritmo.  
Fazia isso, dizia aquilo.  
E meus amigos me queriam,  
meus inimigos me odiavam.  
Eu irônico deslizava  
satisfeito de ter meu ritmo.  
Mas acabei confundindo tudo.  
Hoje não deslizo mais não,  
não sou irônico mais não,  
não tenho ritmo mais não.

(Carlos Drummond de Andrade)

01. No poema *Também já fui brasileiro*, o poeta encontra-se

- (A) feliz por ter conquistado muitas mulheres.
- (B) satisfeito por ter feito piadas.
- (C) conformado por ter tido bons amigos.
- (D) decepcionado por ter perdido suas convicções.
- (E) revoltado por ter provocado inimigos.

02. No verso – *minha poesia perturbou-se* –, o verbo destacado pode ser substituído, sem alteração de sentido, por

- (A) desorientou-se.
- (B) manifestou-se.
- (C) inspirou-se.
- (D) indagou-se.
- (E) estabilizou-se.

03. Ao se substituir no trecho – satisfeito de ter **meu ritmo** – a expressão destacada por um pronome, a reescrita correta, de acordo com a norma-padrão da língua portuguesa, é

- (A) satisfeito de lhe ter.
- (B) satisfeito de ter-no.
- (C) satisfeito de ter-lhe.
- (D) satisfeito de tê-lo.
- (E) satisfeito de ter-o.

04. Assinale a alternativa em que a pontuação foi empregada corretamente, de acordo com a norma-padrão da língua portuguesa.

- (A) Eu também já fui brasileiro, já fui moreno, já ponteei viola, e já aprendi que o nacionalismo, é uma virtude.
- (B) Eu também já fui brasileiro, moreno como vocês, e ponteei viola.
- (C) Eu aprendi, na mesa dos bares que o nacionalismo é uma virtude.
- (D) Eu vi que os brasileiros, são morenos como vocês.
- (E) Eu também já fui brasileiro, moreno e, tocador.

05. Nos versos – Hoje **não** deslizo mais **não**, **não** sou irônico mais **não**, **não** tenho ritmo mais **não**. –, a repetição do termo destacado

- (A) anula a negação.
- (B) torna o verso irônico.
- (C) reforça a negação.
- (D) causa ambiguidade.
- (E) elimina a ambiguidade.

Leia a tirinha para responder às questões de números 06 a 10.



(www.willtirando.com.br)

06. A dúvida do aluno – Quem a chuva forte derrubou? – é causada porque

- (A) as palavras “aranha” e “parede” nomeiam, respectivamente, o animal e o objeto.
- (B) o “a”, em – a derrubou –, pode retomar tanto “aranha” quanto “parede”.
- (C) a expressão “Dona aranha” é usada em situações formais.
- (D) a parede foi mencionada no primeiro quadrinho.
- (E) “forte” refere-se à “chuva”.

07. A reação da professora, no último quadrinho da tirinha, demonstra que ela

- (A) não estava prestando atenção na letra da música.
- (B) percebeu que o aluno não estava cantando.
- (C) ficou inconformada com a falta de respeito do aluno.
- (D) tem vergonha de responder à questão colocada pelo aluno.
- (E) teve a mesma dúvida que o aluno.

08. Assinale a alternativa correta quanto à norma-padrão de concordância verbal e nominal.

- (A) A chuva forte e o vento derrubaram a aranha.
- (B) As chuvas forte e o vento atingiu a aranha.
- (C) A chuva forte e os ventos chegou à tarde.
- (D) As chuvas fortes molhou a parede.
- (E) Os ventos forte derrubaram a aranha.

09. De acordo com a norma culta da língua portuguesa, a alternativa correta quanto à regência verbal e nominal é

- (A) As crianças sentiram medo na aranha.
- (B) A professora precisava de responder a questão proposta.
- (C) O aluno tinha necessidade de sanar sua dúvida.
- (D) Os alunos questionaram a professora sob a música.
- (E) O vento destruiu com a parede.

10. Assinale a alternativa em que o acento indicativo de crase foi empregado corretamente.

- (A) As aranhas são capazes de percorrer às paredes.
- (B) A professora sentiu-se envergonhada diante às alunas.
- (C) As paredes são resistentes às chuvas.
- (D) As férias escolares começam à partir de julho.
- (E) As tempestades são reações à danos causados pelo homem.

11. O restaurante Coma Bem tem dois tipos de serviço: Kilo e Free, em que cobra de seus clientes R\$ 39,90 por Kg de comida ou, então, o cliente pode optar por pagar R\$ 14,99 e se servir à vontade uma única vez.

Kilo – R\$ 39,90/Kg  
Free – R\$ 14,99/1 vez à vontade

Lucas, Tales e Felipe foram almoçar nesse restaurante, e o peso da refeição de cada um deles foi, respectivamente, 432 g, 348 g e 464 g. Sendo assim, a opção mais vantajosa para cada um é, respectivamente,

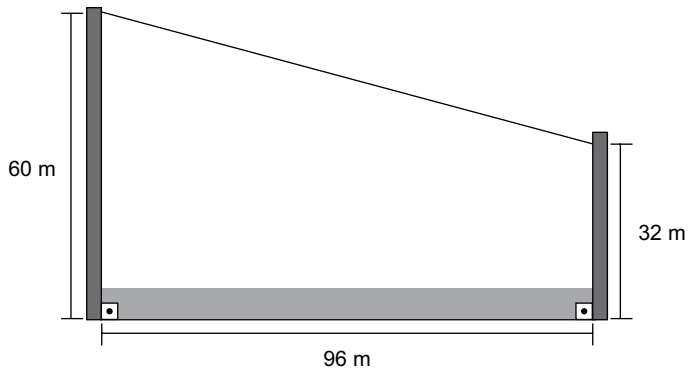
- (A) Kilo, Free, Kilo.  
(B) Kilo, Kilo, Kilo.  
(C) Kilo, Kilo, Free.  
(D) Free, Kilo, Free.  
(E) Free, Free, Free.
12. O quadro a seguir apresenta um resumo do fluxo de caixa de uma pequena empresa.

FLUXO DE CAIXA	
Detalhamento	Dezembro de 2015
<b>Recebimento</b>	
Lote 1	+ R\$ 18.250,00
Lote 2	+ R\$ 28.700,00
<b>Custos</b>	
Despesas	– R\$ 2.250,00
Funcionários	– R\$ 22.300,00
Impostos	– R\$ 3.400,00
Pagamento mercadorias	– R\$ 7.250,00

Por meio desse quadro, é possível afirmar que a empresa obteve um lucro entre

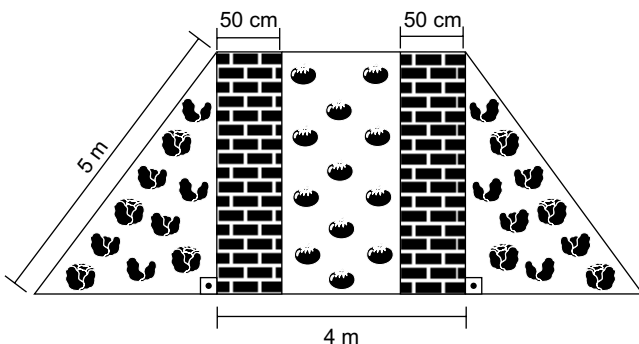
- (A) R\$ 12.500,00 e R\$ 13.000,00.  
(B) R\$ 12.000,00 e R\$ 12.500,00.  
(C) R\$ 11.500,00 e R\$ 12.000,00.  
(D) R\$ 11.000,00 e R\$ 11.500,00.  
(E) R\$ 10.500,00 e R\$ 11.000,00.

13. Carlos gosta de esportes radicais e, para comemorar seu aniversário, decidiu descer uma tirolesa. Ao chegar no local em que faria a descida, observou um esquema que demonstrava a altura da tirolesa.



Ele percebeu que poderia calcular a extensão do cabo de aço utilizado e, dessa forma, descobrir a distância que iria percorrer ao descer pela tirolesa. Considerando as dimensões apresentadas na imagem, é possível afirmar que a extensão do cabo de aço, em metros, é de

- (A) 192.
  - (B) 188.
  - (C) 137.
  - (D) 124.
  - (E) 100.
14. Giovana separou uma área de seu quintal para fazer uma horta, de modo que a parte central tem a forma de um quadrado com dois corredores para movimentação e o restante destinado à plantação de tomates, enquanto que as áreas laterais são triângulos idênticos, destinados à plantação de temperos. A ilustração a seguir mostra um esboço do projeto.



As áreas destinadas à plantação de tomates e de temperos são, respectivamente,

- (A)  $12 \text{ m}^2$  e  $12 \text{ m}^2$ .
- (B)  $12 \text{ m}^2$  e  $20 \text{ m}^2$ .
- (C)  $16 \text{ m}^2$  e  $12 \text{ m}^2$ .
- (D)  $16 \text{ m}^2$  e  $16 \text{ m}^2$ .
- (E)  $16 \text{ m}^2$  e  $20 \text{ m}^2$ .

15. Marcos vai aplicar uma mistura para controle de pragas em seu canteiro de flores de formato retangular com 4 por 8 metros. Para preparar a mistura a ser pulverizada, observou as orientações presentes no rótulo a seguir.

**Modo de usar:** Aplicar por pulverização na dose de 10 mL do produto por  $m^2$  em zonas urbanas e rurais. Diluir em água.

Sabendo que a recomendação é de que a aplicação se repita 4 vezes e que o produto é vendido em frascos de 100 mL, 250 mL ou 1 L, pode-se afirmar que, a fim de buscar o mínimo de sobras do produto após todas as aplicações, Marcos deve comprar

- (A) 1 frasco de 1 L.
- (B) 2 frascos de 250 mL.
- (C) 1 frasco de 100 mL e 1 frasco de 250 mL.
- (D) 1 frasco de 1 L e 2 frascos de 250 mL.
- (E) 1 frasco de 1 L, 1 frasco de 250 mL e 1 frasco de 100 mL.
16. Dados dois números **a** e **b** menores do que 30, sendo que o MDC ( $a, b$ ) = 2, enquanto que o MMC ( $a, b$ ) = 56, é correto afirmar que **a + b** é igual a
- (A) 13.
- (B) 18.
- (C) 22.
- (D) 32.
- (E) 58.
17. Fábio é taxista e está planejando sua empreitada de 2016. Ele pretende trabalhar 300 períodos no ano, sendo que o período poderá ser diurno ou noturno. No período diurno, seu lucro, em média, é de R\$ 120,00, enquanto que, no período noturno, em média, é de R\$ 160,00. Seu objetivo ao longo do ano é lucrar R\$ 40.800,00 e, para alcançá-lo, supondo que os valores irão se manter, será necessário que a razão entre o número de períodos diurnos e noturnos seja igual a

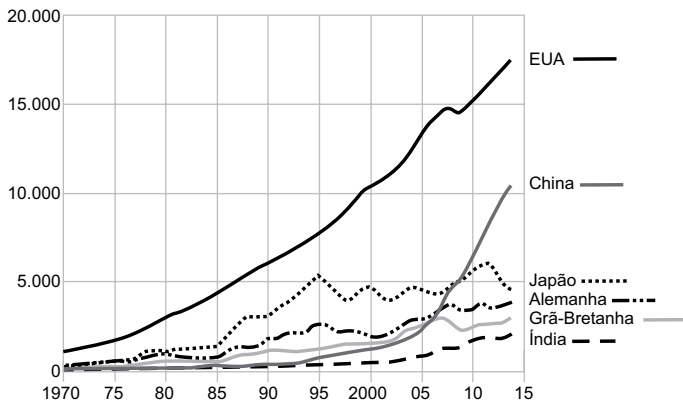
- (A)  $\frac{1}{4}$
- (B)  $\frac{3}{2}$
- (C)  $\frac{2}{5}$
- (D)  $\frac{4}{3}$
- (E)  $\frac{5}{5}$

18. Ronaldo trabalha em uma linha de produção e, a cada 20 minutos, produz, em média, 32 peças. Considerando-se que sua jornada de trabalho é de 8 horas e que, durante a jornada, é obrigatório que ele faça 3 pausas de 10 minutos, então pode-se afirmar que, por jornada, Ronaldo produz, em média,
- (A) 1280 peças.  
 (B) 1210 peças.  
 (C) 989 peças.  
 (D) 768 peças.  
 (E) 720 peças.

19. O gráfico a seguir mostra a evolução do PIB de seis países, no período de 1970 a 2014.

*PIB em valores atuais em dólar, 1970-2014*

Em bilhões de dólares



Fonte: Banco Mundial

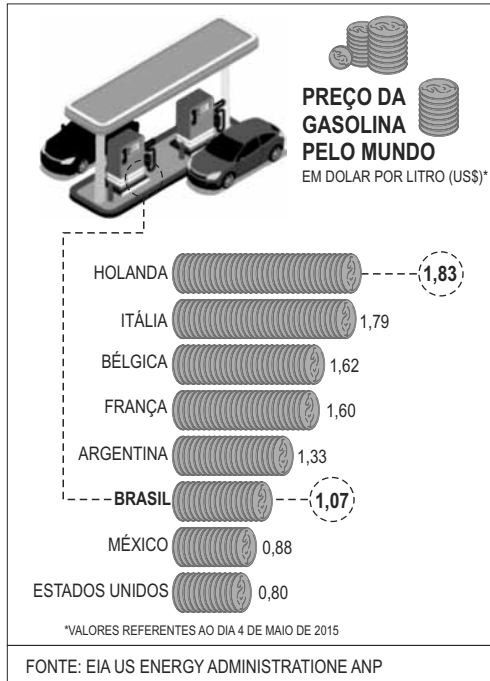
(www.bbc.com)

Ao analisar os dados dos países apresentados no gráfico, é correto afirmar que

- (A) o PIB dos EUA, além de ser o maior, apresentou um crescimento anual constante.  
 (B) em 2014, o PIB do Japão e o da Alemanha somados foi maior que o PIB da China.  
 (C) até o ano de 2010, os emergentes, Índia e China, tinham os menores PIB.  
 (D) o PIB da China foi o que mais cresceu entre 2005 e 2014.  
 (E) o Japão teve seu maior PIB registrado no ano de 1995.



20. O infográfico a seguir faz um comparativo do preço do litro da gasolina, em dólar, em alguns países, em maio de 2015.



(<http://www.brasil.gov.br>)

Poucos meses depois, tanto o preço da gasolina quanto o preço do dólar aumentaram. Em 09 de outubro, por exemplo, o dólar valia R\$ 3,75, e o litro da gasolina estava sendo vendido, em média, no Brasil, segundo a ANP, a R\$ 3,55. Em comparação ao infográfico anterior, o Brasil de outubro estaria entre

- (A) o México e os Estados Unidos.
- (B) o Brasil de maio e o México.
- (C) o Brasil de maio e a Argentina.
- (D) a Argentina e a França.
- (E) a França e a Bélgica.

## ATUALIDADES

21. O país terá um inédito segundo turno em 22 de novembro, entre o governista Daniel Scioli e o candidato opositor Mauricio Macri (Mudemos). O desempenho de Macri foi recebido com surpresa, já que o opositor mantinha uma desvantagem de quase dez pontos percentuais para Scioli nas pesquisas. O candidato governista lembrou o que considera avanços do kirchnerismo: a política de direitos humanos, a estatização da YPF e a priorização dos interesses dos trabalhadores.

(Folha de S.Paulo, 26.10.15.  
Disponível em <http://goo.gl/jvzVje>. Adaptado)

A notícia trata das eleições que aconteceram, em novembro de 2015,

- (A) no Peru.
- (B) na Venezuela.
- (C) na Argentina.
- (D) no Chile.
- (E) na Colômbia.

22. Leia o texto.

### *Barragem se rompe, e enxurrada de lama destrói distrito de Mariana*

O rompimento da barragem causou uma enxurrada de lama que inundou várias casas no distrito de Bento Rodrigues, em Mariana, na Região Central de Minas Gerais, na tarde desta quinta-feira (5 de novembro). O Corpo de Bombeiros de Ouro Preto, que tem equipes no local, confirmou uma morte e 15 desaparecidos até o momento.

(G1, 05.11.2015. Disponível em <http://goo.gl/1RsuWS>. Adaptado)

A barragem que se rompeu estava ligada

- (A) a uma represa de usina hidrelétrica da região.
- (B) à água represada para fins de abastecimento humano.
- (C) ao despejo de dejetos da região metropolitana de Belo Horizonte.
- (D) à atividade mineradora e aos rejeitos da mineração.
- (E) ao refino de aço, que consome grandes quantidades de água.

23. Ataques terroristas em Paris deixam dezenas de mortos

Explosões ocorreram próximo ao *Stade de France*, em Paris, na noite de sexta (13 de novembro), durante um jogo entre as seleções da França e da Alemanha. Além disso, três tiroteios simultâneos – entre eles um ataque à casa de show Bataclan – deixaram 112 mortos, segundo a prefeitura de Paris. Dezenas de pessoas ficaram feridas em outros pontos da cidade, segundo a polícia parisiense.

(G1, 13.11.15. Disponível em <http://goo.gl/z0Jcih>. Adaptado)

Uma das primeiras reações da França após os ataques terroristas foi

- (A) o fechamento de mesquitas existentes na periferia de Paris.
- (B) a cassação dos direitos civis dos imigrantes de origem muçulmana.
- (C) a expulsão dos refugiados sírios recém-chegados à França.
- (D) a declaração de guerra à Síria, ao Iraque e ao Afeganistão.
- (E) o bombardeio aos territórios controlados pelo Estado Islâmico na Síria.

24. Pais de alunos, estudantes e professores da rede estadual de ensino de São Paulo fizeram hoje (20 de outubro) uma manifestação contra o fechamento de escolas e o aumento de alunos em sala de aula. Eles se reuniram em frente ao prédio da Secretaria Estadual da Educação, na praça da República, centro da capital paulista, e saíram em caminhada até a praça da Sé.

(EBC, 20.10.15. Disponível em <http://goo.gl/zM5V7z>. Adaptado)

De acordo com a Secretaria Estadual da Educação, uma das justificativas para o fechamento de escolas é

- (A) a economia de gastos e investimentos que o governo precisa fazer.
- (B) a necessidade de manter alunos da mesma idade estudando juntos.
- (C) o reduzido número de professores na rede estadual à disposição da secretaria.
- (D) a queda vertiginosa do número de alunos da rede estadual nos últimos cinco anos.
- (E) a aposta em centros culturais e esportivos que reduzam a necessidade de escolas.

25. Leia as notícias a seguir.

A empreiteira informou em nota, nesta quinta-feira (10 de dezembro), que o executivo, neto do fundador da empresa, deixou o cargo de presidente. Ele está preso desde o dia 19 de junho de 2015, quando a Polícia Federal deflagrou a 19ª fase da Operação Lava Jato.

(G1, 10.12.15. Disponível em <http://goo.gl/wMQTTS>. Adaptado)

O banco informou, nesta quarta-feira (02 de dezembro) que o executivo, preso desde a semana passada, deixou o controle da instituição financeira em uma operação de permuta com os outros sete principais sócios do banco de investimentos. No domingo, o banco já havia anunciado a saída do executivo da presidência da instituição.

(Veja, 02.12.15. Disponível em <http://goo.gl/l3GFSv>. Adaptado)

As duas notícias referem-se, respectivamente, aos executivos da empreiteira

- (A) Odebrecht e do banco BTG Pactual.
- (B) Camargo Correa e do banco Bradesco.
- (C) Queiroz Galvão e do banco Itaú.
- (D) Andrade Gutierrez e do banco Fator.
- (E) Engevix e do banco Mercantil.

#### NOÇÕES DE INFORMÁTICA

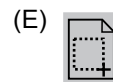

26. Ao utilizar um computador com MS-Windows 7, instalado na sua configuração padrão, um usuário deletou (utilizando somente a tecla del ou delete) por engano os seguintes arquivos:

Educador.xlsx da Área de Trabalho;  
Segurança.txt da pasta Downloads;  
Questões.html do Disco removível (G:);  
Agente.docx da biblioteca Documentos;  
Farmácia.pptx da unidade de Rede.

Ao recorrer à Lixeira para recuperar os arquivos apagados indevidamente, o usuário encontrou apenas o(s) seguinte(s) arquivo(s):

- (A) Farmácia.pptx.
- (B) Farmácia.pptx e Questões.html.
- (C) Questões.html e Farmácia.pptx.
- (D) Segurança.txt, Questões.html e Agente.docx.
- (E) Educador.xlsx, Segurança.txt e Agente.docx.

27. No MS-Word 2010, em sua configuração original, para imprimir somente a página atual do documento, é necessário que seja utilizada a seguinte opção do grupo Configurações da janela Imprimir, guia Arquivo:




28. Um usuário digitou os seguintes dados numa planilha do MS-Excel 2010:

	A
1	9
2	5
3	6
4	14
5	34
6	45
7	7
8	6
9	

O resultado da fórmula =CONT.SE(A1:A8;">6") a ser inserida na célula A9 será

- (A) 5
- (B) 8
- (C) 109
- (D) 114
- (E) 126

29. Observe os efeitos de animação do MS-PowerPoint 2010, em sua configuração original, apresentados parcialmente na figura seguinte.



Os efeitos apresentados são efeitos de

- (A) Entrada.
  - (B) Verbos de Ação OLE.
  - (C) Ênfase.
  - (D) Saída.
  - (E) Trajetória de Animação.
30. Para restringir os resultados de pesquisas utilizando o Google, é possível utilizar comandos na página de pesquisa. Para buscar determinada palavra nos links das páginas alvo da pesquisa, é necessário utilizar o comando
- (A) allintext:
  - (B) allinanchor:
  - (C) intext:
  - (D) allintitle:
  - (E) allinurl:

## CONHECIMENTOS ESPECÍFICOS

31. Conforme o artigo 2º do Código de Trânsito Brasileiro – CTB, são vias terrestres urbanas e rurais, que terão seu uso regulamentado pelo órgão ou entidade com circunscrição sobre elas, de acordo com as peculiaridades locais e as circunstâncias especiais, as ruas, as avenidas, os logradouros, as passagens, as estradas,
- (A) os entroncamentos e as rodovias.
  - (B) os entroncamentos e as autovias.
  - (C) os caminhos e as rodovias.
  - (D) os caminhos e as servidões.
  - (E) os entroncamentos e as servidões.
32. O CTB estabelece no seu artigo 7º quais os órgãos e entidades que compõem o Sistema Nacional de Trânsito – SNT. Assinale a alternativa que contém os dois órgãos ou entidades da esfera municipal de Governo, considerando também os artigos 16 e 24.
- (A) Executivo e JARI.
  - (B) Normativo e JARI.
  - (C) Consultivo e CETRAN.
  - (D) Normativo e CETRAN.
  - (E) Executivo e CETRAN.
33. Assinale a alternativa que apresenta um conceito, ou definição, contido no Anexo I do CTB.
- (A) Leito carroçável.
  - (B) Carro de passeio.
  - (C) Refúgio.
  - (D) Carro de praça.
  - (E) Quebra-molas.

34. Assinale a alternativa que completa corretamente a lacuna do artigo 95, § 4º do CTB:

Art. 95. Nenhuma obra ou evento que possa perturbar ou interromper a livre circulação de veículos e pedestres, ou colocar em risco sua segurança, será iniciada sem permissão prévia do órgão ou entidade de trânsito com circunscrição sobre a via.

...

§ 4º Ao \_\_\_\_\_ responsável pela inobservância de qualquer das normas previstas neste e nos arts. 93 e 94, a autoridade de trânsito aplicará multa diária na base de cinquenta por cento do dia de vencimento ou remuneração devida enquanto permanecer a irregularidade.

- (A) técnico  
(B) gerente  
(C) empreendedor  
(D) servidor público  
(E) organizador
35. De acordo com o artigo 33 do Código de Trânsito Brasileiro – CTB, nas interseções e suas proximidades, o condutor não poderá efetuar
- (A) carga e descarga.  
(B) imobilização temporária.  
(C) embarque e desembarque.  
(D) ultrapassagem.  
(E) retorno.
36. Assinale a alternativa que completa, correta e respectivamente, as lacunas do texto do Manual Brasileiro de Fiscalização de Trânsito – MBFT, estabelecido pela Resolução do CONTRAN nº 371/2014 na parte com redação ajustada pela Resolução nº 497/2014:

Art. 2º O item 4, Agente da Autoridade de Trânsito, do MBFT – Volume I, passa a vigorar com a seguinte redação:

4. AGENTE DA AUTORIDADE DE TRÂNSITO: O agente da autoridade de trânsito competente para lavrar o auto de infração de trânsito (AIT) poderá ser servidor civil, estatutário ou celetista ou, ainda, policial militar designado pela autoridade de trânsito com circunscrição sobre a via no âmbito de sua competência. Para que possa exercer suas atribuições como agente da autoridade de trânsito, o servidor ou policial militar deverá ser credenciado, estar devidamente \_\_\_\_\_, conforme padrão da instituição, e no regular exercício de suas funções. O \_\_\_\_\_ utilizado na fiscalização de trânsito deverá estar caracterizado.

- (A) uniformizado ... veículo  
(B) uniformizado ... instrumento  
(C) cadastrado ... veículo  
(D) certificado ... instrumento  
(E) certificado ... veículo

37. “O agente de trânsito, ao constatar o cometimento da infração, lavrará o respectivo auto e aplicará as medidas administrativas cabíveis. É vedada a lavratura de AIT por terceiros (...).”

Sobre esse trecho, é correto afirmar que

- (A) é uma instrução que só pode ser encontrada em normas internas de procedimentos dos órgãos de trânsito.  
(B) é parte do Manual Brasileiro de Fiscalização de Trânsito, estabelecido pela Resolução do CONTRAN nº 371/2010 e com redação ajustada pela Resolução 497/2014.  
(C) fazia parte do CTB, mas foi revogado.  
(D) integra os procedimentos operacionais estabelecidos para o Estado de São Paulo pelo Conselho Estadual de Trânsito CETRAN-SP.  
(E) é uma recomendação de óbvio bom senso, mas que não está em nenhuma norma de procedimento ou manual que regula a rotina de trabalho do Agente de Trânsito.
38. Com relação ao artigo 269, inciso X do CTB, o “recolhimento de animais que se encontrem soltos nas vias e na faixa de domínio das vias de circulação, restituindo-os aos seus proprietários, após o pagamento de multas e encargos devidos”
- (A) é uma das penalidades previstas no artigo.  
(B) integra o conjunto de ações judiciais do órgão de trânsito.  
(C) complementa a definição do conceito de trânsito no artigo, estabelecendo a forma de uso das vias públicas por animais conduzidos ou não.  
(D) integra o conjunto de obrigações dos condutores profissionais.  
(E) é uma das medidas administrativas previstas no artigo.
39. Assinale a alternativa correta sobre a “Advertência por Escrito” à infração de trânsito, conforme previsto no artigo 267 do CTB e tratado na Resolução nº 404/2012 do CONTRAN.
- (A) Sua aplicação só cabe às infrações médias.  
(B) Só pode ser aplicada mediante recurso e após aplicada a multa.  
(C) Sempre deve preceder a renovação da licença para conduzir.  
(D) Só pode ser aplicada antes e alternativamente à multa.  
(E) Sua aplicação só cabe às infrações leves.

40. Diversas prefeituras, na operação de seus estacionamentos regulamentados rotativos pagos, usualmente batizados de “zona azul”, preveem que, se o responsável pelo veículo flagrado sem o cartão, ticket ou bilhete, até certo horário depois da infração, pagar uma “taxa de regularização”, a infração cometida de estacionamento em desacordo com a regulamentação como tal prevista no CTB não é apenada. Tal procedimento é
- (A) irregular, pois foi estabelecido em Resolução do CONTRAN que foi revogada, pois confronta disposição expressa do CTB diante da constatação de uma infração de trânsito.
- (B) regular, porque o CTB prevê tal procedimento exclusivamente para este tipo de infração de trânsito.
- (C) irregular, pois, mesmo que previsto no CTB, o Poder Judiciário considerou o procedimento inconstitucional e o revogou.
- (D) regular, porque o CTB prevê tal procedimento para esta e outras infrações relacionadas ao pagamento de taxas ou preços públicos.
- (E) irregular, pois confronta disposição expressa do CTB diante da constatação de uma infração de trânsito.
41. Como o artigo 47 § único do CTB considera “carga e descarga”?
- (A) Parada.
- (B) Estacionamento.
- (C) Imobilização temporária.
- (D) Imobilização prolongada.
- (E) Estacionamento ou parada conforme a duração.
42. Leia os textos a seguir.
- “O condutor e os passageiros não deverão abrir a porta do veículo, deixá-la aberta ou descer do veículo sem antes se certificarem de que isso não constitui perigo para eles e para outros usuários da via.”
- “O embarque e o desembarque devem ocorrer sempre do lado da calçada, exceto para o condutor.”
- Sobre os textos, assinale a alternativa correta.
- (A) Ambos constam do CTB.
- (B) Ambos constam de Resoluções do CONTRAN.
- (C) Um consta do CTB, e outro não.
- (D) Um consta do CTB, e outro de Resolução do CONTRAN.
- (E) Nenhum consta do CTB.
43. Considerando que o artigo 61 do CTB estabelece a velocidade máxima permitida de 30 km/h para vias locais não sinalizadas, o fato de uma via local ter sido regulamentada com placas R19 de 50 km/h
- (A) é irregular, porque a sinalização não pode estabelecer qualquer velocidade superior à máxima da regra geral.
- (B) é irregular, porque a sinalização não pode estabelecer velocidade 20% superior à máxima da regra geral.
- (C) só poderá ser regularizado se no local passar a operar radar fixo devidamente sinalizado, com sinalização vertical de advertência.
- (D) é regular somente se houve homologação expressa do Conselho Estadual de Trânsito.
- (E) é regular, pois a sinalização prevalece sobre a regra geral, que se aplica somente a locais não sinalizados.
44. De acordo com o artigo 214 do CTB, deixar de dar preferência de passagem a pedestre e a veículo não motorizado que se encontre na faixa a ele destinada; que não haja concluído a travessia, mesmo que ocorra sinal verde para o veículo; portadores de deficiência física, crianças, idosos e gestantes é uma infração de natureza
- (A) Leve.
- (B) Média.
- (C) Grave.
- (D) Gravíssima.
- (E) Gravíssima agravada.
45. O sinal vertical
- 
- (A) não existe no Brasil.
- (B) é de regulamentação.
- (C) é de advertência.
- (D) é de indicação.
- (E) é de orientação.
46. Fazer ou deixar que se faça reparo de veículo em via pública, salvo em casos de impedimento absoluto e em que o veículo esteja devidamente sinalizado, é
- (A) uma conduta que só pode ser regulamentada na legislação municipal.
- (B) uma infração de trânsito como prevista no CTB.
- (C) uma infração de trânsito acrescentada ao CTB por Resolução do CONTRAN.
- (D) somente uma conduta de risco, não vedada pelo CTB.
- (E) obrigação do condutor para desobstrução imediata da via.

47. De acordo com o artigo 181 do CTB, é uma infração de natureza leve estacionar o veículo afastado da guia da calçada (meio-fio) de
- (A) cinquenta centímetros a um metro e vinte centímetros.
  - (B) quarenta centímetros a um metro.
  - (C) cinquenta centímetros a um metro e meio.
  - (D) quarenta centímetros a um metro e meio.
  - (E) cinquenta centímetros a um metro.
48. Assinale a alternativa correta quanto a como o CTB considera o estacionamento e a parada na contramão de direção.
- (A) O estacionamento é tipificado como infração de trânsito, e a parada não.
  - (B) Ambos são tipificados como infrações de trânsito.
  - (C) O estacionamento não é tipificado como infração de trânsito, já a parada é tipificada como tal.
  - (D) Nenhum deles é tipificado como infração de trânsito.
  - (E) O estacionamento é tipificado como infração somente nas vias de sentido único, e a parada é tipificada como infração somente nas vias de sentido duplo de circulação.
49. Assinale a alternativa que completa corretamente a lacuna do artigo 207 do CTB.
- “Art. 207. Executar operação de conversão \_\_\_\_\_ em locais proibidos pela sinalização:  
Infração – grave;  
Penalidade – multa.”
- (A) à direita ou à esquerda
  - (B) à direita ou ao centro
  - (C) ao centro e à esquerda
  - (D) à esquerda e à frente
  - (E) à esquerda e à frente
50. Segundo o Anexo I do CTB, o “movimento executado pelo condutor para alterar a posição em que o veículo está no momento em relação à via” é a definição de
- (A) transposição.
  - (B) ultrapassagem.
  - (C) manobra.
  - (D) baliza.
  - (E) conversão.

