

PREFEITURA MUNICIPAL DE PRESIDENTE PRUDENTE
ESTADO DE SÃO PAULO

CONCURSO PÚBLICO

032. PROVA OBJETIVA

ASSISTENTE DE CRIAÇÃO E REDAÇÃO

- ◆ Você recebeu sua folha de respostas e este caderno contendo 60 questões objetivas.
- ◆ Confira seus dados impressos na capa deste caderno e na folha de respostas.
- ◆ Quando for permitido abrir o caderno, verifique se está completo ou se apresenta imperfeições. Caso haja algum problema, informe ao fiscal da sala.
- ◆ Leia cuidadosamente todas as questões e escolha a resposta que você considera correta.
- ◆ Marque, na folha de respostas, com caneta de tinta azul ou preta, a letra correspondente à alternativa que você escolheu.
- ◆ A duração da prova é de 3 horas e 30 minutos, já incluído o tempo para o preenchimento da folha de respostas.
- ◆ Só será permitida a saída definitiva da sala e do prédio após transcorridos 75% do tempo de duração da prova.
- ◆ Ao sair, você entregará ao fiscal a folha de respostas e este caderno, podendo levar apenas o rascunho de gabarito, localizado em sua carteira, para futura conferência.
- ◆ Até que você saia do prédio, todas as proibições e orientações continuam válidas.

AGUARDE A ORDEM DO FISCAL PARA ABRIR ESTE CADERNO DE QUESTÕES.

Nome do candidato _____

Prédio _____

Sala _____

Carteira _____

Inscrição _____

CONHECIMENTOS GERAIS

LÍNGUA PORTUGUESA

Leia o texto para responder às questões de números **01** a **03**.

A conspiração dos imbecis

O Castelo Sforzesco, em Milão, preserva tesouros da arte italiana, como a Pietà Rondanini, de Michelangelo. Um dos sóbrios edifícios residenciais em frente ao castelo abriga outro tesouro italiano: Umberto Eco, filósofo, crítico literário e romancista traduzido em mais de quarenta idiomas. O autor de *O Nome da Rosa*, romance ambientado na Idade Média que vendeu mais de 30 milhões de exemplares, lançou neste ano *Número Zero* – que chega ao Brasil nesta semana, pela Record –, um retrato crítico do jornalismo subordinado a interesses políticos. Na casa milanese, onde conserva uma biblioteca de 30 000 livros (há outros 20 000 em sua residência em Urbino), Eco, 83 anos, recebeu VEJA para falar de jornalismo, internet, conspirações e, claro, literatura.

VEJA: Foi um estrondo a sua declaração, em uma cerimônia na Universidade de Torino, de que a internet dá voz a uma multidão de imbecis. O que o senhor achou da dimensão que o assunto tomou?

ECO: As pessoas fizeram um grande estardalhaço por eu ter dito que multidões de imbecis têm agora como divulgar suas opiniões. Ora, veja bem, num mundo com mais de 7 bilhões de pessoas, você não concordaria que há muitos imbecis? Não estou falando ofensivamente quanto ao caráter das pessoas. O sujeito pode ser um excelente funcionário ou pai de família, mas ser um completo imbecil em diversos assuntos. Com a internet e as redes sociais, o imbecil passa a opinar a respeito de temas que não entende.

VEJA: Mas a internet tem seu valor, não?

ECO: A internet é como Funes, o memorioso, o personagem de Jorge Luis Borges: lembra tudo, não esquece nada. É preciso filtrar, distinguir. Sempre digo que a primeira disciplina a ser ministrada nas escolas deveria ser sobre como usar a internet: como analisar informações. O problema é que nem mesmo os professores estão preparados para isso. Foi nesse sentido que defendi recentemente que os jornais, em vez de se tornar vítimas da internet, repetindo o que circula na rede, deveriam dedicar espaço para a análise das informações que circulam nos sites, mostrando aos leitores o que é sério, o que é fraude.

(Eduardo Wolf. Disponível em <http://veja.abril.com.br>. Acesso em 07.07.2015. Adaptado)

- 01.** O trecho inicial, que antecede a conversa entre VEJA e Eco, tem a função de
- (A) apresentar Umberto Eco como um relevante pensador contemporâneo, que opina sobre o papel do jornalismo e da internet.
 - (B) desqualificar o filósofo italiano, Umberto Eco, que, sem ser jornalista, opina sobre o jornalismo e a internet.
 - (C) lembrar ao leitor da entrevista os nomes de dois livros entre os milhares já escritos pelo italiano, Umberto Eco.
 - (D) comparar Umberto Eco, filósofo, crítico literário e romancista, ao renomado compatriota Michelangelo.
 - (E) demonstrar a importância de Umberto Eco para os italianos, por morar em frente ao Castelo Sforzesco, em Milão.
- 02.** O título do texto tem seu sentido fundamentado na frase:
- (A) Um dos sóbrios edifícios residenciais em frente ao castelo abriga outro tesouro italiano: Umberto Eco.
 - (B) Não estou falando ofensivamente quanto ao caráter das pessoas.
 - (C) Com a internet e as redes sociais, o imbecil passa a opinar a respeito de temas que não entende.
 - (D) Sempre digo que a primeira disciplina a ser ministrada nas escolas deveria ser sobre como usar a internet...
 - (E) ... os jornais, em vez de se tornar vítimas da internet, repetindo o que circula na rede, deveriam dedicar espaço para a análise das informações...
- 03.** No trecho – A internet é **como** Funes, o memorioso, o personagem de Jorge Luis Borges: lembra tudo, não esquece nada. – o sentido expresso pela conjunção destacada é de
- (A) explicação.
 - (B) comparação.
 - (C) retificação.
 - (D) contraste.
 - (E) finalidade.

Leia o texto para responder às questões de números **04 a 07**.

Se o olho não vê o bolso não sente

O ser humano é um animal cooperativo por natureza. Mas em todas as sociedades a desigualdade corre solta. Alguns acabam mais ricos que outros. Faz séculos que os cientistas tentam descobrir os comportamentos que provocam a desigualdade. Uma nova rota de investigação consiste em usar jogos cuidadosamente desenhados para observar o comportamento do ser humano durante sua interação social. Em um novo experimento, os cientistas demonstraram que o simples fato de um indivíduo observar a desigualdade existente no grupo induz comportamentos que aumentam a desigualdade. [...]

A conclusão é que nosso comportamento provoca a desigualdade mesmo quando as pessoas partem de uma situação de total igualdade. Mas, quando a desigualdade já existe, ela tende a aumentar rapidamente quando podemos nos comparar com os demais. Em suma, inveja e exibicionismo provocam comportamentos que aumentam a desigualdade entre os homens. Como diria minha avó: grande novidade.

(Fernando Reinach. **O Estado de S. Paulo**. *Metrópole*, 24.10.2015. Adaptado)

04. Em relação às investigações sobre desigualdade relatadas no texto, a frase final – Como diria minha avó: grande novidade. – expressa

- (A) repreensão.
- (B) surpresa.
- (C) retificação.
- (D) euforia.
- (E) descaso.

05. Leia a frase:

Em suma, inveja e exibicionismo provocam comportamentos que aumentam a desigualdade entre os homens.

Sem alteração do sentido da frase, a expressão destacada pode ser substituída por:

- (A) Em síntese.
- (B) Ao contrário.
- (C) Por exemplo.
- (D) Com certeza.
- (E) Sem problema.

06. No título do texto – Se o olho não vê o bolso não **sente** –, o verbo destacado tem o mesmo sentido que na frase:

- (A) Telefonei-lhe para dizer que **sentia** muito, mas não iria ao cinema com ele.
- (B) Quando jovens, **sentimos** que nossa vida é infinita...
- (C) Durante muito tempo, **sentiremos** os efeitos provocados pela crise econômica.
- (D) O místico me disse que **sentia** a presença dos espíritos a sua volta.
- (E) O rapaz **sentiu** que devia apressar-se para não chegar atrasado à reunião.

07. Leia o trecho:

Em um novo experimento, os cientistas demonstraram que o simples fato de um indivíduo observar a desigualdade existente no grupo induz a comportamentos que aumentam a **desigualdade**.

Assinale a alternativa que reescreve, corretamente, a expressão destacada de acordo com a norma-padrão de emprego e de colocação pronominal.

- (A) Em um novo experimento, os cientistas demonstraram que o simples fato de um indivíduo observar a desigualdade existente no grupo induz comportamentos que aumentam-na.
- (B) Em um novo experimento, os cientistas demonstraram que o simples fato de um indivíduo observar a desigualdade existente no grupo induz comportamentos que aumentam-lhe.
- (C) Em um novo experimento, os cientistas demonstraram que o simples fato de um indivíduo observar a desigualdade existente no grupo induz comportamentos que lhe aumentam.
- (D) Em um novo experimento, os cientistas demonstraram que o simples fato de um indivíduo observar a desigualdade existente no grupo induz comportamentos que a aumentam.
- (E) Em um novo experimento, os cientistas demonstraram que o simples fato de um indivíduo observar a desigualdade existente no grupo induz comportamentos que aumentam-la.

Leia o texto para responder às questões de números **08 a 10**.

O papel da tecnologia

Há muitas e muitas décadas – para não dizer séculos –, a humanidade tenta decifrar o impacto do avanço tecnológico em nossa vida. A razão é clara: as novas tecnologias são, a um tempo, motivo de alegria e tristeza, dependendo do ângulo por que se olhe. Por um lado, o avanço das técnicas torna ultrapassadas inúmeras empresas e uma multidão de trabalhadores. Por outro lado, – e que ninguém duvide disso –, é a força primeira que faz o mundo andar. [...]

A tecnologia também cria novos desafios e causa mudanças comportamentais que provocam discussão. Desde o domínio do fogo e das primeiras ferramentas de pedra, as conquistas humanas apresentam a característica de modificar nossos hábitos – nem todos para melhor. Mas são inegáveis os avanços proporcionados pela evolução técnica.

(Carta de **Exame**. São Paulo: Editora Abril. ed. 1092, 24.06.2015. Adaptado)

08. Leia a frase:

A razão é clara: as novas tecnologias são, a um tempo, motivo de alegria e tristeza, dependendo do ângulo por que se olhe.

Assinale a alternativa em que, alterando-se a ordem das palavras, a frase está pontuada corretamente, com preservação do sentido original do texto.

- (A) A razão é clara: a um tempo as novas tecnologias são, dependendo do ângulo por que se olhe motivo de alegria e tristeza.
- (B) As novas tecnologias – a razão é clara – dependendo do ângulo por que se olhe a um tempo, são motivo de alegria e tristeza.
- (C) Dependendo do ângulo por que se olhe as novas tecnologias, a um tempo são motivo de alegria e tristeza: a razão é clara.
- (D) A razão é clara: as novas tecnologias, dependendo do ângulo por que se olhe, são, a um tempo, motivo de alegria e tristeza.
- (E) A um tempo a razão é clara; dependendo do ângulo por que se olhe, as novas tecnologias são motivo de alegria e tristeza.

09. Observe o trecho:

Há muitas e muitas décadas – para não dizer séculos –, a humanidade **tenta** decifrar o impacto do avanço tecnológico em nossa vida.

Assinale a alternativa em que a substituição das formas verbais destacadas por outras, no pretérito, mantém a concordância e o sentido da frase corretos.

- (A) Fazia – queriam.
- (B) Fizeram – aguardava.
- (C) Fazem – pretenderam.
- (D) Fazia – procurava.
- (E) Faz – buscara.

10. Assinale a alternativa em que a expressão destacada expressa uma advertência do autor.

- (A) **Há muitas e muitas décadas** – para não dizer séculos –, a humanidade tenta decifrar o impacto do avanço tecnológico em nossa vida.
- (B) Por outro lado, – **e que ninguém duvide disso** –, é a força primeira que faz o mundo andar.
- (C) A razão é clara: as novas tecnologias são, **a um tempo**, motivo de alegria e tristeza, dependendo do ângulo por que se olhe.
- (D) **Por um lado**, o avanço das técnicas torna ultrapassadas inúmeras empresas e uma multidão de trabalhadores.
- (E) **Desde o domínio do fogo e das primeiras ferramentas de pedra**, as conquistas humanas apresentam a característica de modificar nossos hábitos.

11. Bruno está praticando para uma prova de triatlo e treina natação de 3 em 3 dias, ciclismo de 6 em 6 dias e corrida de 4 em 4 dias. No dia 21 de outubro de 2015, Bruno praticou as três modalidades e desse dia até o dia 23 de fevereiro de 2016, o número de dias em que ele terá treinado, no mesmo dia, as três modalidades será igual a

- (A) 10.
- (B) 11.
- (C) 12.
- (D) 13.
- (E) 14.

12. Em uma loja de calçados, para cada 12 pares de sapatos vendidos, são vendidos 19 pares de tênis. No mês de dezembro, foram vendidos 161 pares de sapatos a menos do que pares de tênis, logo, nesse mês, o total de pares de sapatos e tênis vendidos foi igual a

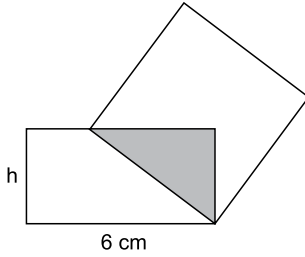
- (A) 399.
- (B) 561.
- (C) 713.
- (D) 925.
- (E) 1 127.

13. Tiago comprou dois carros usados para reparar e vender. Ele conseguiu vender cada um dos carros por R\$ 12.600,00, sendo que, em relação ao valor pago na compra, um deles foi vendido por um preço 12% maior e o outro foi vendido por um preço 10% menor. Em relação ao valor gasto na compra desses dois carros, Tiago obteve, com a venda deles, um

- (A) lucro de R\$ 252,00.
- (B) lucro de R\$ 126,00.
- (C) lucro de R\$ 63,00.
- (D) prejuízo de R\$ 50,00.
- (E) prejuízo de R\$ 126,00.

14. Uma adega possui 78 garrafas de vinho de três marcas diferentes. O número de garrafas de vinho das marcas A e B juntas é 18 a mais do que o número de garrafas da marca C. O número de garrafas da marca C é 20% maior do que o número de garrafas da marca B. A diferença entre o número de garrafas das marcas C e A é igual a
- (A) 7.
 - (B) 8.
 - (C) 9.
 - (D) 10.
 - (E) 11.
15. Ricardo gastou um terço de sua mesada logo no dia em que a recebeu e no segundo dia gastou mais um quarto do valor da mesada. No terceiro dia Ricardo gastou um terço do dinheiro que ainda restava, ficando com R\$ 20,00 do total recebido. No segundo dia, Ricardo gastou um valor que supera o valor gasto no terceiro dia em
- (A) R\$ 5,00.
 - (B) R\$ 6,00.
 - (C) R\$ 8,00.
 - (D) R\$ 9,00.
 - (E) R\$ 12,00.
16. Doze amigos planejam passar 5 dias em um acampamento e calcularam que deveriam levar, ao todo, 80 kg de alimento para serem consumidos uniformemente pelo grupo. Após receber mais dois integrantes, o grupo decidiu que ficariam 9 dias acampando. Considerando que todas as pessoas do grupo comerão a mesma quantidade de alimento por dia prevista, inicialmente, a quantidade de alimento, em kg, que será necessária é igual a
- (A) 156.
 - (B) 160.
 - (C) 164.
 - (D) 168.
 - (E) 172.
17. A média aritmética das massas de uma família de 7 pessoas é 10 kg a mais do que a média das massas das 5 crianças da família. Sendo a soma das massas do pai e da mãe igual a 90% da soma das massas das 5 crianças, a média das massas, em kg, dessas 7 pessoas é igual a
- (A) 36.
 - (B) 38.
 - (C) 40.
 - (D) 42.
 - (E) 44.

18. Um quadrado tem um vértice em comum com um retângulo e outro vértice pertencendo a um dos lados desse retângulo, conforme mostra a figura, que não está em escala.



Esses dois polígonos determinam um triângulo cuja área é igual a 24% da área do quadrado. Esse retângulo tem lados de medida h e 6 cm, e sua área mede 3 vezes a área do triângulo determinado. De acordo com essas condições, o maior valor possível que pode assumir h , em cm, é igual a

- (A) 2
 (B) 3
 (C) $\frac{7}{2}$
 (D) 4
 (E) $\frac{16}{3}$
19. Dois reservatórios de água têm formato de paralelepípedo. Um tem por base interna um quadrado de 2 m de lado, e o outro tem por base interna a forma de um retângulo de medidas 1,5 m por 2 m. No domingo passado, ambos armazenavam 12 000 L de água e, no dia seguinte, foram retirados de cada um deles 3 000 L de água, fazendo com que a diferença de altura da coluna de água entre esses reservatórios, em cm, ficasse igual a
- (A) 75.
 (B) 90.
 (C) 105.
 (D) 120.
 (E) 135.
20. Para a festa de confraternização de fim de ano uma empresa separou uma certa quantia para ser distribuída igualmente entre todos os colaboradores presentes à festa. Se os 4 colaboradores que não participaram tivessem ido à festa, cada colaborador teria recebido R\$ 20,00 a menos; por outro lado, se, do total de colaboradores, 13 deixassem de participar, cada colaborador presente à festa teria recebido R\$ 60,00 a mais. O valor destinado pela empresa para essa festa foi de
- (A) R\$ 10.560,00.
 (B) R\$ 11.040,00.
 (C) R\$ 11.520,00.
 (D) R\$ 12.000,00.
 (E) R\$ 12.480,00.

21. Peronismo busca soluções e culpados após revés nas eleições da Argentina

O peronismo tenta se reorganizar na Argentina após o baque da eleição de domingo (25 de outubro).

(Folha de S. Paulo, 30.10.2015. Disponível em: <<http://goo.gl/yszKVs>>. Adaptado)

O revés ocorrido no 1º turno da eleição argentina está relacionado

- (A) à derrota do peronismo nas eleições gerais, levando à perda da presidência da República e dos principais governos estaduais para os partidos de oposição.
- (B) ao péssimo desempenho eleitoral de Cristina Kirchner, candidata à reeleição, que não passou para o segundo turno e veio a público assumir a sua derrota.
- (C) à perda da maioria peronista no Congresso, o que obrigará os peronistas a negociarem politicamente com os partidos de oposição.
- (D) ao desempenho do candidato governista a presidente, Daniel Scioli, que teve menos votos que o esperado, provocando um inédito segundo turno.
- (E) à diminuição da votação peronista nos principais ramos do partido, principalmente os bairros ricos das grandes cidades e as áreas rurais do interior.

22. Complicações neurológicas reforçam ligação entre zika vírus e microcefalia

Pacientes infectados mostraram complicações neurológicas, aponta estudo.

(G1, 18.11.2015. Disponível em: <<http://goo.gl/haAk5s>>. Adaptado)

Estudos como esse vieram à tona depois que

- (A) houve um grande aumento de casos de microcefalia no Nordeste, possivelmente associados ao surto recente de zika vírus.
- (B) o surto de zika vírus espalhou-se pelo Brasil, transformando a microcefalia em epidemia nacional.
- (C) os casos de dengue aumentaram muito, apesar da extinção do *aedes aegypti*, mosquito transmissor do zika vírus.
- (D) os casos de microcefalia foram relacionados à dengue e à *chicungunya*, transmitidas pelo *aedes*.
- (E) gestantes que não usam repelente, mais expostas a insetos, sofreram com maior incidência de dengue, zika vírus e microcefalia.

23. Mulheres protestam contra projeto de lei em São Paulo

Milhares de manifestantes protestaram nesta sexta-feira (30 de outubro) em São Paulo. A maior parte das pessoas presentes era mulheres, algumas carregando seus filhos.

(G1, 30.10.2015. Disponível em: <<http://goo.gl/6lUByK>>. Adaptado)

Muitas mulheres saíram às ruas para protestar contra o projeto de lei que

- (A) proíbe o aborto, mesmo em caso de estupro ou risco à vida da gestante.
- (B) tipifica o aborto como crime sem direito ao pagamento de fiança ou *habeas corpus*.
- (C) prevê pena de prisão para quem induzir, instigar ou auxiliar a gestante a abortar.
- (D) proíbe a comercialização de medicamentos como a chamada “pílula do dia seguinte”.
- (E) criminaliza o aborto de fetos em todas as condições, mesmo no caso de anencéfalos.

24. O Comitê de Política Monetária (Copom) do Banco Central se reuniu nesta quarta-feira (21 de outubro) e decidiu manter novamente os juros em 14,25% ao ano. A decisão foi unânime e sem viés, sinalizando que o BC não vai alterar a taxa até a próxima reunião em dezembro. Em setembro, na reunião anterior do Comitê, os juros já haviam ficado estáveis.

(G1, 21.10.2015. Disponível em: <<http://goo.gl/85sUWK>>. Adaptado)

Foi determinante para a decisão do Copom

- (A) os primeiros sinais de recuperação da economia, o que levou o Banco Central a evitar a redução dos juros.
- (B) o cenário de recessão da economia brasileira, mas com a inflação ainda fortemente pressionada.
- (C) a redução da pressão inflacionária ao longo do semestre, o que favoreceu a decisão de não aumentar os juros.
- (D) a pressão indevida pela queda dos juros exercida pelo Congresso, o que levou o Copom a adotar uma política conservadora.
- (E) a elevação do grau de confiabilidade da economia brasileira pelas agências de risco, reforçando a atual política econômica.

25. País vai participar nas negociações sobre o conflito na Síria

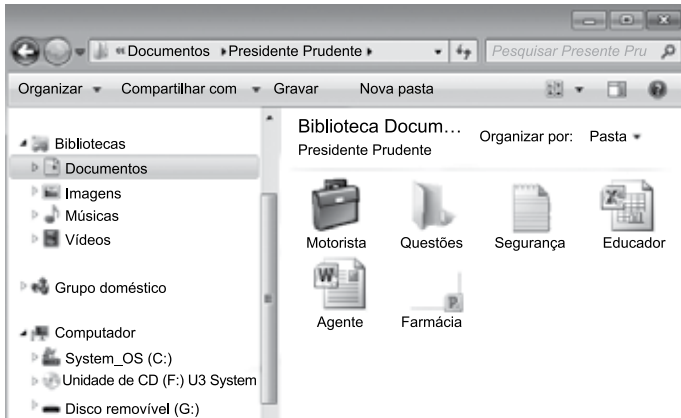
O país, principal aliado do regime sírio no Oriente Médio, vai participar pela primeira vez na sexta-feira (30 de outubro), em Viena, nas negociações internacionais sobre o conflito sírio, uma grande virada diplomática desejada por Moscou.

(UOL, 28.10.2015. Disponível em: <<http://goo.gl/84VPnE>>. Adaptado)

O país a que se refere a notícia é

- (A) o Iraque.
- (B) a Arábia Saudita.
- (C) a Turquia.
- (D) o Líbano.
- (E) o Irã.

26. Considere o conteúdo da pasta Presidente Prudente apresentada na figura, sabendo-se que se trata de um computador com MS-Windows 7, instalado em sua configuração original.



Se o usuário arrastar a planilha eletrônica Agente, que se encontra no pen drive (disco removível (G:)), para a pasta Presidente Prudente, a planilha

- (A) não será movida ou copiada, pois já existe na pasta destino um arquivo com o mesmo nome.
- (B) será copiada e renomeada para Agente (2).
- (C) será movida e renomeada para Agente (2).
- (D) será movida com seu nome original.
- (E) será copiada com seu nome original.

27. No MS-Excel 2010, em sua configuração original, para imprimir todas as planilhas da pasta de trabalho é necessário que seja utilizada a seguinte opção do grupo Configurações da janela Imprimir, guia Arquivo:

- (A)
- (B)
- (C)
- (D)
- (E)

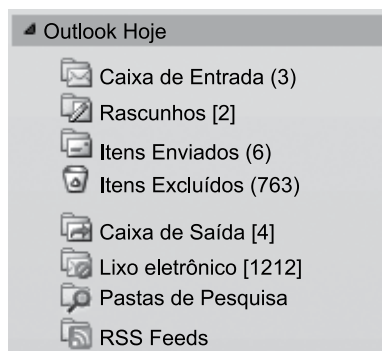
28. Observe a figura com um sumário de um trabalho de conclusão de curso redigido no MS-Word 2010, na sua configuração padrão.

SUMÁRIO	
1 INTRODUÇÃO	14
2 PROCESSO DE ESTRATÉGIA	20
3 MUDANÇA ESTRATÉGICA	35
3.1 A PESQUISA SOBRE MUDANÇA DE ESTRATÉGIA	38
3.2 OS PLANOS ESTRATÉGICOS	65
4 MODELOS DE IMPLEMENTAÇÃO	68
4.1 ESTRATÉGIA	73
4.1.1 Análise ambiental	75
4.1.2 Tipos de estratégia	78
4.2 IMPLEMENTAÇÃO	86
5 APRESENTAÇÃO DO CASO NO SETOR TÊXTIL	93
5.1 DESCRIÇÃO DO SETOR TÊXTIL	94
5.2 APRESENTAÇÃO DA EMPRESA	95
5.2.1 Contextos interno e externo	97
5.2.2 Processos	99
5.2.2.1 Planejamento estratégico	100
5.2.2.2 Monitoramento e controle	102
5.2.2.3 Pessoas	103
5.2.2.3.1 Representantes comerciais	103
5.2.2.3.2 Equipe interna	104
6 CONCLUSÃO	106
REFERÊNCIAS	112
APÊNDICE A – Modelo de implementação	115

Assinale a alternativa que contém o(s) capítulo(s) e/ou subcapítulo(s) que será(ão) impresso(s) em sua totalidade, sabendo-se que o usuário informou os seguintes parâmetros no intervalo de páginas para impressão: 45, 83-92, 109.

- (A) 3.1
- (B) 4.2
- (C) 5.1 e 5.2
- (D) 4.2; 5; 5.1 e 5.2
- (E) 3.1; 4.1.2; 4.2; 5 e 6

29. Observe o painel de navegação de um importante gerenciador de correio eletrônico, apresentado na figura a seguir.



Assinale a alternativa que contém, respectivamente, a quantidade de e-mails recebidos, mas ainda não lidos, e e-mails redigidos, mas que ainda não foram enviados, pois o computador encontra-se sem acesso à Internet.

- (A) 3; 4.
(B) 3; 6.
(C) 2; 6.
(D) 6; 4.
(E) 4; 3.
30. No Google, para restringir os resultados muito abrangentes, é possível utilizar um ou mais filtros na página de pesquisa. No caso de imagens, é possível utilizar o seguinte filtro de proporção:
- (A) Maior que 1024 x 768.
(B) Clip art.
(C) Panorâmica.
(D) Animação.
(E) Ícone.

CONHECIMENTOS ESPECÍFICOS

31. Um influente filósofo contemporâneo, morto em 1937, pregava que “tudo o que se publica é constantemente influenciado por uma ideia: servir a classe dominante, o que se traduz sem dúvida num fato: combater a classe trabalhadora”. E arremata afirmando que existem “casos em que o jornal burguês ou cala, ou deturpa, ou falsifica para enganar, iludir e manter na ignorância o público trabalhador”.

O autor dessas afirmações é

- (A) Edgard Morin.
(B) Maxwell McCombs.
(C) Antonio Gramsci.
(D) Maurice Merleau-Ponty.
(E) Dominique Wolton.

32. Para pesquisadores comprometidos com estudos sobre a técnica de comunicação, o intercâmbio informativo tem como ato simbólico básico o comunicado do que vimos, ouvimos ou sentimos. E esses comunicados atêm-se a duas regras: primeiro, são passíveis de comunicação; segundo, excluem, na medida do possível,

- (A) inferências e julgamentos.
(B) dúvidas e inferências.
(C) certezas e julgamentos.
(D) dúvidas e julgamentos.
(E) certezas e inferências.

33. Segundo Nelson Traquina, “para a teoria _____, os jornalistas vivem sob a tirania do fator tempo. O seu desafio cotidiano é ter de elaborar um produto final (notícia, jornal, telejornal, etc.). Todos os dias ou todas as semanas, é impensável a hipótese de o apresentador do telejornal, por exemplo, dizer “hoje não há notícias” ou “temos hoje um programa mais curto porque não havia notícias suficientes”. O trabalho jornalístico é uma atividade prática e cotidiana, orientada para cumprir as horas de fechamento”.

A expressão que completa corretamente a lacuna do texto é:

- (A) interacionista
(B) estruturalista
(C) construcionista
(D) organizacional
(E) institucional

34. Há uma corrente entre os profissionais de comunicação que defende ser necessária à empresa uma política de comunicação que unifique as mensagens dos vários departamentos em um só corpo para que a percepção da empresa tenha uma identidade, a sua imagem seja única e para que se mantenha a sua reputação junto ao público. Essa atividade de comunicação complexa, estratégica e multidisciplinar é chamada de comunicação
- (A) institucional.
 - (B) empresarial.
 - (C) cooperativa.
 - (D) corporativa.
 - (E) organizacional.
35. Para os pesquisadores de comunicação nas organizações, existem quatro níveis de análise dos problemas da comunicação. O nível correspondente ao que se passa dentro do indivíduo enquanto ele adquire, processa e consome as informações é chamado de nível
- (A) interpessoal.
 - (B) intrapessoal.
 - (C) suprapessoal.
 - (D) organizacional.
 - (E) tecnológico.
36. Na comunicação, a _____ está relacionada com o grau de desorganização da mensagem, assim, quanto mais desorganizada for a mensagem, mais _____ é. No entanto, a _____ pode ter uma utilização positiva na comunicação, pois uma mensagem extremamente ordenada é também uma mensagem previsível e, portanto, _____.
- As expressões que completam, correta e respectivamente, o texto dado são:
- (A) redundância ... redundante ... redundância ... entrópica
 - (B) entropia ... efetiva ... entropia ... efetiva
 - (C) entropia ... entrópica ... entropia ... redundante
 - (D) compreensão ... incompreensível ... incompreensibilidade ... redundante
 - (E) redundância ... incompreensível ... redundância ... compreensível
37. Assinale a alternativa correta que indica o trecho que pertence a um editorial.
- (A) O Grêmio Prudente nem precisou entrar em campo diante do Assisense, no domingo, para saber que não tinha mais chances de lutar pelo acesso à série A-3. A partida terminou em 0 a 0. A vitória do Olímpia no sábado, por 3 a 1 contra o Taboão da Serra, eliminou de vez as chances gremista. (*O Imparcial*)
 - (B) A pesquisa realizada em seis supermercados da cidade durante os dias 2 e 3 de março constatou uma inflação em relação ao mês anterior de 1,83%. Ou seja, o consumidor que gastava R\$ 455,50 para compra de uma cesta básica, hoje gasta, em média, R\$ 463,82. Em relação ao mês anterior, os produtos que mais apresentam altas foram a cebola, com alta de 22,42%, e os ovos brancos (dúzia), com aumento de 21,70%. (*Jornal Prudencia*)
 - (C) O calçadão da Rua Tenente Nicolau Maffei, no centro de Presidente Prudente, ganhou novas lixeiras subterrâneas. A instalação é feita pela Prudenco (Companhia Prudentina de Desenvolvimento), assim como ocorreu no Parque do Povo. O trabalho iniciou na semana passada, na Rua Felício Tarabai, e já foi concluído na Rua Doutor José Foz. Os locais receberam os contêineres que serão usados para descarte de resíduos pelos comerciantes e transeuntes do centro. (*O Imparcial*)
 - (D) Um adolescente de 15 anos, que participou de um assalto no dia 9 de outubro, no Jardim Bongiovani, em Presidente Prudente, onde um advogado de 67 anos levou um tiro na cabeça, foi apreendido pela Polícia Militar (PM). Segundo o Capitão Ives Minosso, da Força Tática da PM, o menor tentou fugir ao avistar os militares que realizavam patrulhamento no Jardim Morada do Sol. (*G1*)
 - (E) Na manchete de hoje *O Imparcial* noticiou que a contratação de funcionários temporários para o final do ano, na área central de Presidente Prudente, deverá sofrer uma queda de 16%. Para muitos, o dado não é tão alarmante, já que significa que apenas uma parcela da população será privada de um “emprego temporário”. No entanto, ao contextualizar essa informação, nota-se que esse fato é apenas um sintoma de uma patologia bem mais difícil de ser tratada do que aparenta. (*O Imparcial*)

38. Algumas construções sintáticas, mesmo não sendo erradas ou ilógicas, desviam o leitor da informação que pretendem transmitir por lhe chamarem a atenção para associações jocosas ou inconvenientes. No radialismo, a oralidade torna construções desse tipo proibidas e, invariavelmente, são vetadas pelos editores.
- Assinale a alternativa que aponte a chamada que poderia ir ao ar por não cometer semelhante deslize.
- (A) Procissão de São Cristóvão teve emoção e devoção
 - (B) Corinthians perde campeonato no último jogo
 - (C) Governo confisca gado em fazenda de Mato Grosso
 - (D) Campanha “Dente de Leite” de Prudente não tem cliente
 - (E) Neymar marca gol de bicicleta e Barça vence
39. Assinale a alternativa que aponte o título que valoriza o “quem”.
- (A) Pesquisador acredita em revolução na produção de alimentos
 - (B) Morre aos 74 anos o professor José do Carmo Battistuzzo
 - (C) Pesquisa ajuda na ampliação do rebanho de búfalos de Prudente
 - (D) Produção orgânica de hortaliças é certificada em Prudente
 - (E) Atividades extensivas resultam em benefícios ao Projeto Guri
40. Ao analisar um vídeo que iria ao ar na televisão do município, um secretário solicitou que a empresa produtora fizesse um *audio dubbing* na cena em que ele fala dos projetos de sua pasta. Para atender ao secretário, a produtora
- (A) criará um efeito digital em que o plano posterior empurrará o anterior para fora do quadro.
 - (B) retirará algumas palavras que não constam do texto original, mas ditas pelo secretário durante a gravação.
 - (C) apagará as áreas escuras que se formaram na imagem.
 - (D) fará a regravação do áudio sem mexer na imagem gravada.
 - (E) criará um efeito digital que faz com que a imagem plana se enrole, formando um tubo.
41. Um frigorífico recém-instalado no município de Prudente encaminhou às emissoras de rádio e televisão, aos jornais e portais da região, uma caixa que acondicionava um *press release*, um *pen drive* contendo músicas sertanejas e uma embalagem plástica contendo amostras dos produtos embutidos produzidos pelo frigorífico para degustação. Esse tipo de contato com a imprensa é chamado de
- (A) jabá.
 - (B) *press kit*.
 - (C) *release* de lançamento.
 - (D) *press information*.
 - (E) jabaculé.
42. Ao discutir a essência do Jornalismo, Chaparro (Pragmática do Jornalismo) afirma que “sendo o jornalismo um processo social de ações conscientes, controladas ou controláveis, esse processo só se concretiza se os fazeres jornalísticos (envolvendo o uso de técnicas para a produção de uma expressão estética) forem cognitivamente controlados por
- (A) valores morais”.
 - (B) razões econômicas”.
 - (C) intenções com raízes éticas”.
 - (D) princípios editoriais”.
 - (E) fundamentos sociais”.
43. Para fotografar detalhes de um objeto, a objetiva mais adequada é a
- (A) teleobjetiva.
 - (B) grande angular.
 - (C) olho de peixe.
 - (D) zoom.
 - (E) macro.

44. A Câmara dos Deputados concluiu, no dia 20 de outubro de 2015, a votação de um projeto de lei que regulamenta o direito de resposta para quem se sentir ofendido por reportagem jornalística publicada ou exibida nos meios de comunicação.
- De autoria do senador Roberto Requião (PMDB-PR), o projeto prevê o direito de resposta se o conteúdo da reportagem atentar, “ainda que por equívoco de informação, contra a honra, a intimidade, a reputação, o conceito, o nome, a marca ou a imagem de pessoa física
- (A) ou maior inimputável ou menor de idade”.
- (B) e cidadãos que exercem mandato eletivo”.
- (C) e funcionários públicos no exercício de sua função”.
- (D) ou jurídica identificada ou passível de identificação”.
- (E) ou jurídica em dia com suas obrigações fiscais”.
45. De acordo com o Código de Ética da Propaganda “os esforços de pais, educadores, autoridades e da comunidade devem encontrar na publicidade fator coadjuvante na formação de cidadãos responsáveis e consumidores conscientes”. À vista dessa recomendação, os anúncios
- (A) devem abster-se de desmerecer valores sociais positivos, tais como, dentre outros, amizade, urbanidade, honestidade, justiça, generosidade e respeito às pessoas, aos animais e ao meio ambiente.
- (B) não podem, em nenhuma hipótese, empregar crianças e adolescentes como modelos para vocalizar apelo direto, recomendação ou sugestão de uso ou consumo.
- (C) que usem da técnica jornalística para veicular mensagens publicitárias devem ser identificados como tal.
- (D) não devem impingir o consumo de produtos ensinando as crianças a criarem formas de constranger famílias para que o comprem.
- (E) que se referirem aos direitos da infância e do adolescente devem compor o quadro de personagens com representantes das três principais etnias que formam a população brasileira.
46. Assinale a alternativa que aponte a composição que usa tipos gráficos da família romana.
- (A) Presidente Prudente é a Capital da Alta Sorocabana
- (B) Presidente Prudente é a Capital da Alta Sorocabana
- (C) *Presidente Prudente é a Capital da Alta Sorocabana*
- (D) **Presidente Prudente é a Capital da Alta Sorocabana**
- (E) Presidente Prudente é a Capital da Alta Sorocabana
47. Há um tipo de impressão muito utilizado para produzir embalagens porque tem custo baixo para grandes tiragens e se adapta a suportes irregulares, tridimensionais e flexíveis como celofane, folhas metálicas, plásticos e vidros. Esse processo chama-se
- (A) rotogravura.
- (B) serigrafia.
- (C) linografia.
- (D) planografia.
- (E) flexografia.
48. Na construção de uma apresentação de Power Point, é recomendável que
- (A) o comprimento de onda das cores usadas tenha pouca diferença.
- (B) a tipologia empregada nos textos pertença à família Bodoni.
- (C) os textos sejam curtos e claros.
- (D) as imagens só sejam usadas quando forem indispensáveis para a compreensão.
- (E) sejam usados muitos níveis para tornar a apresentação mais dinâmica.
49. Segundo o *site* Terra, um jornal americano noticiou que um cidadão do Condado de York, preocupado com a inexpressividade de seu nome, decidiu mudá-lo. O requerente, Tyler Gold, considerando a indiferença que seu nome causava, resolveu pedir ao juiz da Corte Distrital que fosse registrado como “Tyrannosaurus Rex”. Foi atendido pelo magistrado.
- Notícias como essa são chamadas de
- (A) barriga.
- (B) chapéu.
- (C) calháu.
- (D) nota pé.
- (E) *fait divers*.

50. O Assessor de Imprensa da Prefeitura analisou a proposta do novo site da instituição e não aprovou a arquitetura do projeto. Por arquitetura, deve-se entender
- (A) os *grids* visuais contidos nas áreas das páginas virtuais criadas para as diversas editorias do portal da Prefeitura.
 - (B) a construção concebida com o propósito primordial de ordenar e organizar o espaço para determinada finalidade e visando à determinada intenção.
 - (C) a criação de regras editoriais para a redação das matérias jornalísticas e dos atos oficiais da Prefeitura.
 - (D) a determinação das imagens que identificarão cada uma das seções do portal com a finalidade de criar telas agradáveis de serem contempladas.
 - (E) os nomes das seções em que se divide o portal de forma a criar nos consulentes elementos que facilitem a correta identificação dos temas e assuntos.
51. “O jornalista D. A. foi condenado, em abril de 2015, a 2 meses e 20 dias de prisão acusado de _____ contra o prefeito de Mossoró (RN). Em texto publicado no Portal NoAr, D. A. compara o prefeito ao protagonista da ficção *O Bem Amado*, Odorico Paraguaçu. A pena foi convertida em multa de R\$ 3.900.”
- (<http://www.abraji.org.br>)
- O crime contra a honra que completa a lacuna dessa matéria é:
- (A) calúnia
 - (B) falso-testemunho
 - (C) injúria
 - (D) perjúrio
 - (E) difamação
52. De acordo com a legislação, que se refere aos direitos autorais, “são obras intelectuais protegidas as criações do espírito, expressas por qualquer meio ou fixadas em qualquer suporte, tangível ou intangível, conhecido ou que se invente no futuro, tais como
- (A) as conferências, as alocuções, os sermões e outras obras da mesma natureza”.
 - (B) os esquemas, os planos ou regras para realizar os atos mentais, jogos ou negócios”.
 - (C) os textos de tratados ou convenções, as leis, os decretos, os regulamentos, as decisões judiciais e os demais atos oficiais”.
 - (D) as ideias, os procedimentos normativos, os sistemas, os métodos, os projetos ou conceitos matemáticos”.
 - (E) o aproveitamento industrial ou comercial das ideias contidas nas obras”.
53. Profissionais brasileiros, inspirados em Pierre Zémor, defendem que faz parte das finalidades da Comunicação Pública
- (A) proteger as instituições políticas para preservar o equilíbrio social.
 - (B) contribuir para que os projetos institucionais sejam absorvidos pelos interlocutores.
 - (C) auxiliar o cidadão a integrar-se às entidades criadas para manter o equilíbrio político da nação.
 - (D) ouvir as demandas, as expectativas, as interrogações e o debate público.
 - (E) impedir que as mudanças políticas se transformem em risco para as instituições públicas.
54. De acordo com a Constituição Federal de 1988 (Cap. V), é correto afirmar que
- (A) o prazo da concessão ou permissão de serviços de radiodifusão será de quinze anos para as emissoras de rádio e televisão.
 - (B) a propaganda comercial de tabaco, bebidas alcoólicas, agrotóxicos, medicamentos e terapias estará sujeita a restrições do Conselho de Autorregulamentação Publicitária e conterà, sempre que necessário, advertência sobre os malefícios decorrentes de seu uso.
 - (C) a propriedade de empresa jornalística e de radiodifusão sonora e de sons e imagens é privativa de brasileiros natos.
 - (D) a não renovação da concessão ou permissão de serviços de radiodifusão dependerá de aprovação de, no mínimo, dois quintos do Congresso Nacional, em votação nominal.
 - (E) a produção e a programação das emissoras de rádio e televisão têm como meta principal a nacionalização da produção cultural, artística e jornalística.
55. A Abracom (Associação Brasileira das agências de Comunicação) editou um Caderno de Comunicação Organizacional intitulado “Como entender a Comunicação Interna”. Essa publicação cita entre os veículos impressos uma “publicação com conteúdo específico e dirigido que, de maneira sucinta, informa sobre os acontecimentos recentes da empresa de interesse do público-alvo”.
- Essas características correspondem ao seguinte projeto editorial:
- (A) boletim.
 - (B) jornal mural.
 - (C) revista.
 - (D) jornal.
 - (E) *newsletter*.

56. Cada emissora de televisão pretende transmitir ao telespectador um estilo próprio de apresentar a notícia. Entretanto, todas as notícias têm alguns princípios básicos comuns para a redação de um telejornal. Entre esses princípios, é correto afirmar que na construção das notícias procuram-se usar
- (A) frases longas.
 - (B) chavões de domínio público.
 - (C) sentenças objetivas, simples e precisas.
 - (D) orações subordinadas para melhorar o nexos.
 - (E) verbos na voz passiva.
57. Considere o seguinte trecho de uma lauda de telejornal:
- A REGIÃO SUL SOFRE COM TEMPESTADES E VENTOS DE MAIS DE CEM QUILOMETROS POR HORA//
- NO SUDESTE, O DIA VIRA NOITE NA MAIOR CIDADE DO PAÍS//
- INTERIOR DE MINAS GERAIS PERDE SAFRA POR FALTA DE CHUVA//
- MANIFESTANTES INCENDEIAM DELEGACIA DE POLÍCIA EM SÃO PAULO//
- NO CONFRONTO ENTRE POLICIAIS E MANIFESTANTES, DEZ SÃO HOSPITALIZADOS//
- NA ELEIÇÃO PARA A FIFA, RONALDO FENÔMENO APARECE COMO SALVADOR DA ENTIDADE//
- CORINTHIANS PERDE TRÊS JOGOS SEGUIDOS E É SUPERADO PELO ATLÉTICO MINEIRO//
- AGORA NO//
- Essas frases, lidas na abertura do telejornal, correspondem às matérias mais importantes da edição. Elas fazem parte
- (A) da divisão dos seguimentos.
 - (B) das manchetes das editorias.
 - (C) da escalada.
 - (D) da pauta.
 - (E) das matérias comentadas.
58. Em 2012, Carlos Brickmann escreveu um artigo para o “Observatório da Imprensa” afirmando que “se algum jornalista utiliza uma *inside information* para proveito pessoal, pode tê-la obtido até com o Dalai Lama, que isso não o absolve. Se recebe uma informação que leve a uma boa matéria, pode tê-la obtido até com criminosos desprezíveis, que isso não estará errado”. *Inside information* é uma
- (A) declaração de fonte sigilosa.
 - (B) informação sigilosa.
 - (C) informação obtida de fonte confiável, mas não checada.
 - (D) notícia que só ouve um lado da questão.
 - (E) notícia incluída à última hora em um telejornal.
59. Ao comentar um dos preceitos mais importantes da redação jornalística, o Manual da Redação da *Folha de S. Paulo* afirma que o profissional precisa incorporar uma dinâmica ao texto para torná-lo “no dia a dia sintético, ágil, interessante, aprofundado e abrangente em reduzido espaço. É importante partir do princípio de que o leitor pode não conhecer, necessariamente, fatos que precederam a notícia que se divulga”. Para que a matéria consiga esse nível, ela deve trazer perspectiva histórica recente dos acontecimentos, isto é, o tema precisa
- (A) ter suíte.
 - (B) ter um tratamento didático.
 - (C) evitar declarações *em off*.
 - (D) ser contextualizado.
 - (E) originar-se de uma cozinha.
60. Para imprimir um relatório de gestão, o prefeito de Presidente Prudente solicitou que a publicação tivesse a qualidade de uma revista de alto padrão, com textos elaborados de forma concisa e precisa, com fotos de boa qualidade e impressão em papel com boa opacidade, brilho e alta alvura. Na descrição do produto para licitação, a assessoria de imprensa vai solicitar que a publicação tenha como suporte de impressão o papel
- (A) offset.
 - (B) couchê.
 - (C) bufon.
 - (D) linha d’água.
 - (E) apergaminhado.

