

PREFEITURA MUNICIPAL DE PRESIDENTE PRUDENTE

ESTADO DE SÃO PAULO

CONCURSO PÚBLICO

034. PROVA OBJETIVA

ENFERMEIRO

- ◆ Você recebeu sua folha de respostas e este caderno contendo 60 questões objetivas.
- ◆ Confira seus dados impressos na capa deste caderno e na folha de respostas.
- ◆ Quando for permitido abrir o caderno, verifique se está completo ou se apresenta imperfeições. Caso haja algum problema, informe ao fiscal da sala.
- ◆ Leia cuidadosamente todas as questões e escolha a resposta que você considera correta.
- ◆ Marque, na folha de respostas, com caneta de tinta azul ou preta, a letra correspondente à alternativa que você escolheu.
- ◆ A duração da prova é de 3 horas e 30 minutos, já incluído o tempo para o preenchimento da folha de respostas.
- ◆ Só será permitida a saída definitiva da sala e do prédio após transcorridos 75% do tempo de duração da prova.
- ◆ Ao sair, você entregará ao fiscal a folha de respostas e este caderno, podendo levar apenas o rascunho de gabarito, localizado em sua carteira, para futura conferência.
- ◆ Até que você saia do prédio, todas as proibições e orientações continuam válidas.

AGUARDE A ORDEM DO FISCAL PARA ABRIR ESTE CADERNO DE QUESTÕES.

Nome do candidato _____

Prédio _____

Sala _____

Carteira _____

Inscrição _____

CONHECIMENTOS GERAIS

LÍNGUA PORTUGUESA

Leia o texto para responder às questões de números **01** a **03**.

A conspiração dos imbecis

O Castelo Sforzesco, em Milão, preserva tesouros da arte italiana, como a Pietà Rondanini, de Michelangelo. Um dos sóbrios edifícios residenciais em frente ao castelo abriga outro tesouro italiano: Umberto Eco, filósofo, crítico literário e romancista traduzido em mais de quarenta idiomas. O autor de *O Nome da Rosa*, romance ambientado na Idade Média que vendeu mais de 30 milhões de exemplares, lançou neste ano *Número Zero* – que chega ao Brasil nesta semana, pela Record –, um retrato crítico do jornalismo subordinado a interesses políticos. Na casa milanese, onde conserva uma biblioteca de 30 000 livros (há outros 20 000 em sua residência em Urbino), Eco, 83 anos, recebeu VEJA para falar de jornalismo, internet, conspirações e, claro, literatura.

VEJA: Foi um estrondo a sua declaração, em uma cerimônia na Universidade de Torino, de que a internet dá voz a uma multidão de imbecis. O que o senhor achou da dimensão que o assunto tomou?

ECO: As pessoas fizeram um grande estardalhaço por eu ter dito que multidões de imbecis têm agora como divulgar suas opiniões. Ora, veja bem, num mundo com mais de 7 bilhões de pessoas, você não concordaria que há muitos imbecis? Não estou falando ofensivamente quanto ao caráter das pessoas. O sujeito pode ser um excelente funcionário ou pai de família, mas ser um completo imbecil em diversos assuntos. Com a internet e as redes sociais, o imbecil passa a opinar a respeito de temas que não entende.

VEJA: Mas a internet tem seu valor, não?

ECO: A internet é como Funes, o memorioso, o personagem de Jorge Luis Borges: lembra tudo, não esquece nada. É preciso filtrar, distinguir. Sempre digo que a primeira disciplina a ser ministrada nas escolas deveria ser sobre como usar a internet: como analisar informações. O problema é que nem mesmo os professores estão preparados para isso. Foi nesse sentido que defendi recentemente que os jornais, em vez de se tornar vítimas da internet, repetindo o que circula na rede, deveriam dedicar espaço para a análise das informações que circulam nos sites, mostrando aos leitores o que é sério, o que é fraude.

(Eduardo Wolf. Disponível em <http://veja.abril.com.br>. Acesso em 07.07.2015. Adaptado)

- 01.** O trecho inicial, que antecede a conversa entre VEJA e Eco, tem a função de
- (A) apresentar Umberto Eco como um relevante pensador contemporâneo, que opina sobre o papel do jornalismo e da internet.
 - (B) desqualificar o filósofo italiano, Umberto Eco, que, sem ser jornalista, opina sobre o jornalismo e a internet.
 - (C) lembrar ao leitor da entrevista os nomes de dois livros entre os milhares já escritos pelo italiano, Umberto Eco.
 - (D) comparar Umberto Eco, filósofo, crítico literário e romancista, ao renomado compatriota Michelangelo.
 - (E) demonstrar a importância de Umberto Eco para os italianos, por morar em frente ao Castelo Sforzesco, em Milão.
- 02.** O título do texto tem seu sentido fundamentado na frase:
- (A) Um dos sóbrios edifícios residenciais em frente ao castelo abriga outro tesouro italiano: Umberto Eco.
 - (B) Não estou falando ofensivamente quanto ao caráter das pessoas.
 - (C) Com a internet e as redes sociais, o imbecil passa a opinar a respeito de temas que não entende.
 - (D) Sempre digo que a primeira disciplina a ser ministrada nas escolas deveria ser sobre como usar a internet...
 - (E) ... os jornais, em vez de se tornar vítimas da internet, repetindo o que circula na rede, deveriam dedicar espaço para a análise das informações...
- 03.** No trecho – A internet é **como** Funes, o memorioso, o personagem de Jorge Luis Borges: lembra tudo, não esquece nada. – o sentido expresso pela conjunção destacada é de
- (A) explicação.
 - (B) comparação.
 - (C) retificação.
 - (D) contraste.
 - (E) finalidade.

Leia o texto para responder às questões de números **04 a 07**.

Se o olho não vê o bolso não sente

O ser humano é um animal cooperativo por natureza. Mas em todas as sociedades a desigualdade corre solta. Alguns acabam mais ricos que outros. Faz séculos que os cientistas tentam descobrir os comportamentos que provocam a desigualdade. Uma nova rota de investigação consiste em usar jogos cuidadosamente desenhados para observar o comportamento do ser humano durante sua interação social. Em um novo experimento, os cientistas demonstraram que o simples fato de um indivíduo observar a desigualdade existente no grupo induz comportamentos que aumentam a desigualdade. [...]

A conclusão é que nosso comportamento provoca a desigualdade mesmo quando as pessoas partem de uma situação de total igualdade. Mas, quando a desigualdade já existe, ela tende a aumentar rapidamente quando podemos nos comparar com os demais. Em suma, inveja e exibicionismo provocam comportamentos que aumentam a desigualdade entre os homens. Como diria minha avó: grande novidade.

(Fernando Reinach. **O Estado de S. Paulo**. *Metrópole*, 24.10.2015. Adaptado)

04. Em relação às investigações sobre desigualdade relatadas no texto, a frase final – Como diria minha avó: grande novidade. – expressa

- (A) repreensão.
- (B) surpresa.
- (C) retificação.
- (D) euforia.
- (E) descaso.

05. Leia a frase:

Em suma, inveja e exibicionismo provocam comportamentos que aumentam a desigualdade entre os homens.

Sem alteração do sentido da frase, a expressão destacada pode ser substituída por:

- (A) Em síntese.
- (B) Ao contrário.
- (C) Por exemplo.
- (D) Com certeza.
- (E) Sem problema.

06. No título do texto – Se o olho não vê o bolso não **sente** –, o verbo destacado tem o mesmo sentido que na frase:

- (A) Telefonei-lhe para dizer que **sentia** muito, mas não iria ao cinema com ele.
- (B) Quando jovens, **sentimos** que nossa vida é infinita...
- (C) Durante muito tempo, **sentiremos** os efeitos provocados pela crise econômica.
- (D) O místico me disse que **sentia** a presença dos espíritos a sua volta.
- (E) O rapaz **sentiu** que devia apressar-se para não chegar atrasado à reunião.

07. Leia o trecho:

Em um novo experimento, os cientistas demonstraram que o simples fato de um indivíduo observar a desigualdade existente no grupo induz a comportamentos que aumentam a **desigualdade**.

Assinale a alternativa que reescreve, corretamente, a expressão destacada de acordo com a norma-padrão de emprego e de colocação pronominal.

- (A) Em um novo experimento, os cientistas demonstraram que o simples fato de um indivíduo observar a desigualdade existente no grupo induz comportamentos que aumentam-na.
- (B) Em um novo experimento, os cientistas demonstraram que o simples fato de um indivíduo observar a desigualdade existente no grupo induz comportamentos que aumentam-lhe.
- (C) Em um novo experimento, os cientistas demonstraram que o simples fato de um indivíduo observar a desigualdade existente no grupo induz comportamentos que lhe aumentam.
- (D) Em um novo experimento, os cientistas demonstraram que o simples fato de um indivíduo observar a desigualdade existente no grupo induz comportamentos que a aumentam.
- (E) Em um novo experimento, os cientistas demonstraram que o simples fato de um indivíduo observar a desigualdade existente no grupo induz comportamentos que aumentam-la.

Leia o texto para responder às questões de números **08 a 10**.

O papel da tecnologia

Há muitas e muitas décadas – para não dizer séculos –, a humanidade tenta decifrar o impacto do avanço tecnológico em nossa vida. A razão é clara: as novas tecnologias são, a um tempo, motivo de alegria e tristeza, dependendo do ângulo por que se olhe. Por um lado, o avanço das técnicas torna ultrapassadas inúmeras empresas e uma multidão de trabalhadores. Por outro lado, – e que ninguém duvide disso –, é a força primeira que faz o mundo andar. [...]

A tecnologia também cria novos desafios e causa mudanças comportamentais que provocam discussão. Desde o domínio do fogo e das primeiras ferramentas de pedra, as conquistas humanas apresentam a característica de modificar nossos hábitos – nem todos para melhor. Mas são inegáveis os avanços proporcionados pela evolução técnica.

(Carta de **Exame**. São Paulo: Editora Abril. ed. 1092, 24.06.2015. Adaptado)

08. Leia a frase:

A razão é clara: as novas tecnologias são, a um tempo, motivo de alegria e tristeza, dependendo do ângulo por que se olhe.

Assinale a alternativa em que, alterando-se a ordem das palavras, a frase está pontuada corretamente, com preservação do sentido original do texto.

- (A) A razão é clara: a um tempo as novas tecnologias são, dependendo do ângulo por que se olhe motivo de alegria e tristeza.
- (B) As novas tecnologias – a razão é clara – dependendo do ângulo por que se olhe a um tempo, são motivo de alegria e tristeza.
- (C) Dependendo do ângulo por que se olhe as novas tecnologias, a um tempo são motivo de alegria e tristeza: a razão é clara.
- (D) A razão é clara: as novas tecnologias, dependendo do ângulo por que se olhe, são, a um tempo, motivo de alegria e tristeza.
- (E) A um tempo a razão é clara; dependendo do ângulo por que se olhe, as novas tecnologias são motivo de alegria e tristeza.

09. Observe o trecho:

Há muitas e muitas décadas – para não dizer séculos –, a humanidade **tenta** decifrar o impacto do avanço tecnológico em nossa vida.

Assinale a alternativa em que a substituição das formas verbais destacadas por outras, no pretérito, mantém a concordância e o sentido da frase corretos.

- (A) Fazia – queriam.
- (B) Fizeram – aguardava.
- (C) Fazem – pretenderam.
- (D) Fazia – procurava.
- (E) Faz – buscara.

10. Assinale a alternativa em que a expressão destacada expressa uma advertência do autor.

- (A) **Há muitas e muitas décadas** – para não dizer séculos –, a humanidade tenta decifrar o impacto do avanço tecnológico em nossa vida.
- (B) Por outro lado, – **e que ninguém duvide disso** –, é a força primeira que faz o mundo andar.
- (C) A razão é clara: as novas tecnologias são, **a um tempo**, motivo de alegria e tristeza, dependendo do ângulo por que se olhe.
- (D) **Por um lado**, o avanço das técnicas torna ultrapassadas inúmeras empresas e uma multidão de trabalhadores.
- (E) **Desde o domínio do fogo e das primeiras ferramentas de pedra**, as conquistas humanas apresentam a característica de modificar nossos hábitos.

11. Bruno está praticando para uma prova de triatlo e treina natação de 3 em 3 dias, ciclismo de 6 em 6 dias e corrida de 4 em 4 dias. No dia 21 de outubro de 2015, Bruno praticou as três modalidades e desse dia até o dia 23 de fevereiro de 2016, o número de dias em que ele terá treinado, no mesmo dia, as três modalidades será igual a

- (A) 10.
- (B) 11.
- (C) 12.
- (D) 13.
- (E) 14.

12. Em uma loja de calçados, para cada 12 pares de sapatos vendidos, são vendidos 19 pares de tênis. No mês de dezembro, foram vendidos 161 pares de sapatos a menos do que pares de tênis, logo, nesse mês, o total de pares de sapatos e tênis vendidos foi igual a

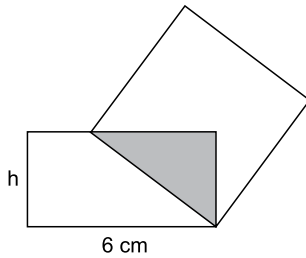
- (A) 399.
- (B) 561.
- (C) 713.
- (D) 925.
- (E) 1 127.

13. Tiago comprou dois carros usados para reparar e vender. Ele conseguiu vender cada um dos carros por R\$ 12.600,00, sendo que, em relação ao valor pago na compra, um deles foi vendido por um preço 12% maior e o outro foi vendido por um preço 10% menor. Em relação ao valor gasto na compra desses dois carros, Tiago obteve, com a venda deles, um

- (A) lucro de R\$ 252,00.
- (B) lucro de R\$ 126,00.
- (C) lucro de R\$ 63,00.
- (D) prejuízo de R\$ 50,00.
- (E) prejuízo de R\$ 126,00.

14. Uma adega possui 78 garrafas de vinho de três marcas diferentes. O número de garrafas de vinho das marcas A e B juntas é 18 a mais do que o número de garrafas da marca C. O número de garrafas da marca C é 20% maior do que o número de garrafas da marca B. A diferença entre o número de garrafas das marcas C e A é igual a
- (A) 7.
 - (B) 8.
 - (C) 9.
 - (D) 10.
 - (E) 11.
15. Ricardo gastou um terço de sua mesada logo no dia em que a recebeu e no segundo dia gastou mais um quarto do valor da mesada. No terceiro dia Ricardo gastou um terço do dinheiro que ainda restava, ficando com R\$ 20,00 do total recebido. No segundo dia, Ricardo gastou um valor que supera o valor gasto no terceiro dia em
- (A) R\$ 5,00.
 - (B) R\$ 6,00.
 - (C) R\$ 8,00.
 - (D) R\$ 9,00.
 - (E) R\$ 12,00.
16. Doze amigos planejam passar 5 dias em um acampamento e calcularam que deveriam levar, ao todo, 80 kg de alimento para serem consumidos uniformemente pelo grupo. Após receber mais dois integrantes, o grupo decidiu que ficariam 9 dias acampando. Considerando que todas as pessoas do grupo comerão a mesma quantidade de alimento por dia prevista, inicialmente, a quantidade de alimento, em kg, que será necessária é igual a
- (A) 156.
 - (B) 160.
 - (C) 164.
 - (D) 168.
 - (E) 172.
17. A média aritmética das massas de uma família de 7 pessoas é 10 kg a mais do que a média das massas das 5 crianças da família. Sendo a soma das massas do pai e da mãe igual a 90% da soma das massas das 5 crianças, a média das massas, em kg, dessas 7 pessoas é igual a
- (A) 36.
 - (B) 38.
 - (C) 40.
 - (D) 42.
 - (E) 44.

18. Um quadrado tem um vértice em comum com um retângulo e outro vértice pertencendo a um dos lados desse retângulo, conforme mostra a figura, que não está em escala.



Esses dois polígonos determinam um triângulo cuja área é igual a 24% da área do quadrado. Esse retângulo tem lados de medida h e 6 cm, e sua área mede 3 vezes a área do triângulo determinado. De acordo com essas condições, o maior valor possível que pode assumir h, em cm, é igual a

- (A) 2
 (B) 3
 (C) $\frac{7}{2}$
 (D) 4
 (E) $\frac{16}{3}$
19. Dois reservatórios de água têm formato de paralelepípedo. Um tem por base interna um quadrado de 2 m de lado, e o outro tem por base interna a forma de um retângulo de medidas 1,5 m por 2 m. No domingo passado, ambos armazenavam 12 000 L de água e, no dia seguinte, foram retirados de cada um deles 3 000 L de água, fazendo com que a diferença de altura da coluna de água entre esses reservatórios, em cm, ficasse igual a
- (A) 75.
 (B) 90.
 (C) 105.
 (D) 120.
 (E) 135.
20. Para a festa de confraternização de fim de ano uma empresa separou uma certa quantia para ser distribuída igualmente entre todos os colaboradores presentes à festa. Se os 4 colaboradores que não participaram tivessem ido à festa, cada colaborador teria recebido R\$ 20,00 a menos; por outro lado, se, do total de colaboradores, 13 deixassem de participar, cada colaborador presente à festa teria recebido R\$ 60,00 a mais. O valor destinado pela empresa para essa festa foi de
- (A) R\$ 10.560,00.
 (B) R\$ 11.040,00.
 (C) R\$ 11.520,00.
 (D) R\$ 12.000,00.
 (E) R\$ 12.480,00.

21. Peronismo busca soluções e culpados após revés nas eleições da Argentina

O peronismo tenta se reorganizar na Argentina após o baque da eleição de domingo (25 de outubro).

(Folha de S. Paulo, 30.10.2015. Disponível em: <<http://goo.gl/yszKVs>>. Adaptado)

O revés ocorrido no 1º turno da eleição argentina está relacionado

- (A) à derrota do peronismo nas eleições gerais, levando à perda da presidência da República e dos principais governos estaduais para os partidos de oposição.
- (B) ao péssimo desempenho eleitoral de Cristina Kirchner, candidata à reeleição, que não passou para o segundo turno e veio a público assumir a sua derrota.
- (C) à perda da maioria peronista no Congresso, o que obrigará os peronistas a negociarem politicamente com os partidos de oposição.
- (D) ao desempenho do candidato governista a presidente, Daniel Scioli, que teve menos votos que o esperado, provocando um inédito segundo turno.
- (E) à diminuição da votação peronista nos principais ramos do partido, principalmente os bairros ricos das grandes cidades e as áreas rurais do interior.

22. Complicações neurológicas reforçam ligação entre zika vírus e microcefalia

Pacientes infectados mostraram complicações neurológicas, aponta estudo.

(G1, 18.11.2015. Disponível em: <<http://goo.gl/haAk5s>>. Adaptado)

Estudos como esse vieram à tona depois que

- (A) houve um grande aumento de casos de microcefalia no Nordeste, possivelmente associados ao surto recente de zika vírus.
- (B) o surto de zika vírus espalhou-se pelo Brasil, transformando a microcefalia em epidemia nacional.
- (C) os casos de dengue aumentaram muito, apesar da extinção do *aedes aegypti*, mosquito transmissor do zika vírus.
- (D) os casos de microcefalia foram relacionados à dengue e à *chicungunya*, transmitidas pelo *aedes*.
- (E) gestantes que não usam repelente, mais expostas a insetos, sofreram com maior incidência de dengue, zika vírus e microcefalia.

23. Mulheres protestam contra projeto de lei em São Paulo

Milhares de manifestantes protestaram nesta sexta-feira (30 de outubro) em São Paulo. A maior parte das pessoas presentes era mulheres, algumas carregando seus filhos.

(G1, 30.10.2015. Disponível em: <<http://goo.gl/6lUByK>>. Adaptado)

Muitas mulheres saíram às ruas para protestar contra o projeto de lei que

- (A) proíbe o aborto, mesmo em caso de estupro ou risco à vida da gestante.
- (B) tipifica o aborto como crime sem direito ao pagamento de fiança ou *habeas corpus*.
- (C) prevê pena de prisão para quem induzir, instigar ou auxiliar a gestante a abortar.
- (D) proíbe a comercialização de medicamentos como a chamada “pílula do dia seguinte”.
- (E) criminaliza o aborto de fetos em todas as condições, mesmo no caso de anencéfalos.

24. O Comitê de Política Monetária (Copom) do Banco Central se reuniu nesta quarta-feira (21 de outubro) e decidiu manter novamente os juros em 14,25% ao ano. A decisão foi unânime e sem viés, sinalizando que o BC não vai alterar a taxa até a próxima reunião em dezembro. Em setembro, na reunião anterior do Comitê, os juros já haviam ficado estáveis.

(G1, 21.10.2015. Disponível em: <<http://goo.gl/85sUWK>>. Adaptado)

Foi determinante para a decisão do Copom

- (A) os primeiros sinais de recuperação da economia, o que levou o Banco Central a evitar a redução dos juros.
- (B) o cenário de recessão da economia brasileira, mas com a inflação ainda fortemente pressionada.
- (C) a redução da pressão inflacionária ao longo do semestre, o que favoreceu a decisão de não aumentar os juros.
- (D) a pressão indevida pela queda dos juros exercida pelo Congresso, o que levou o Copom a adotar uma política conservadora.
- (E) a elevação do grau de confiabilidade da economia brasileira pelas agências de risco, reforçando a atual política econômica.

25. País vai participar nas negociações sobre o conflito na Síria

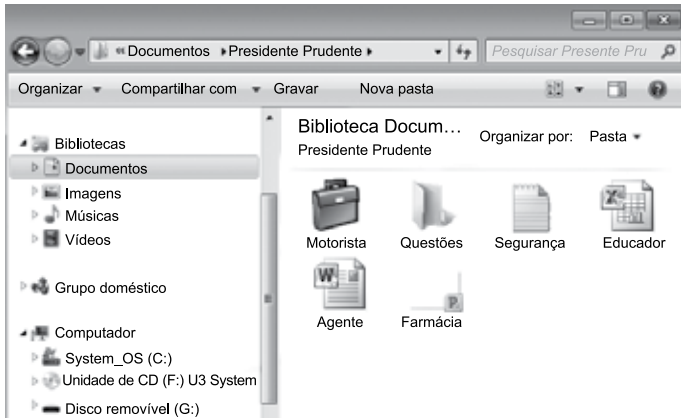
O país, principal aliado do regime sírio no Oriente Médio, vai participar pela primeira vez na sexta-feira (30 de outubro), em Viena, nas negociações internacionais sobre o conflito sírio, uma grande virada diplomática desejada por Moscou.

(UOL, 28.10.2015. Disponível em: <<http://goo.gl/84VPnE>>. Adaptado)

O país a que se refere a notícia é

- (A) o Iraque.
- (B) a Arábia Saudita.
- (C) a Turquia.
- (D) o Líbano.
- (E) o Irã.

26. Considere o conteúdo da pasta Presidente Prudente apresentada na figura, sabendo-se que se trata de um computador com MS-Windows 7, instalado em sua configuração original.



Se o usuário arrastar a planilha eletrônica Agente, que se encontra no pen drive (disco removível (G:)), para a pasta Presidente Prudente, a planilha

- (A) não será movida ou copiada, pois já existe na pasta destino um arquivo com o mesmo nome.
- (B) será copiada e renomeada para Agente (2).
- (C) será movida e renomeada para Agente (2).
- (D) será movida com seu nome original.
- (E) será copiada com seu nome original.

27. No MS-Excel 2010, em sua configuração original, para imprimir todas as planilhas da pasta de trabalho é necessário que seja utilizada a seguinte opção do grupo Configurações da janela Imprimir, guia Arquivo:

- (A)
- (B)
- (C)
- (D)
- (E)

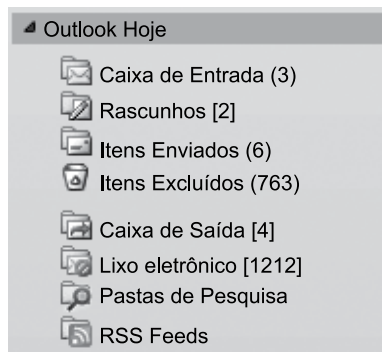
28. Observe a figura com um sumário de um trabalho de conclusão de curso redigido no MS-Word 2010, na sua configuração padrão.

SUMÁRIO	
1 INTRODUÇÃO	14
2 PROCESSO DE ESTRATÉGIA	20
3 MUDANÇA ESTRATÉGICA	35
3.1 A PESQUISA SOBRE MUDANÇA DE ESTRATÉGIA	38
3.2 OS PLANOS ESTRATÉGICOS	65
4 MODELOS DE IMPLEMENTAÇÃO	68
4.1 ESTRATÉGIA	73
4.1.1 Análise ambiental	75
4.1.2 Tipos de estratégia	78
4.2 IMPLEMENTAÇÃO	86
5 APRESENTAÇÃO DO CASO NO SETOR TÊXTIL	93
5.1 DESCRIÇÃO DO SETOR TÊXTIL	94
5.2 APRESENTAÇÃO DA EMPRESA	95
5.2.1 Contextos interno e externo	97
5.2.2 Processos	99
5.2.2.1 Planejamento estratégico	100
5.2.2.2 Monitoramento e controle	102
5.2.2.3 Pessoas	103
5.2.2.3.1 Representantes comerciais	103
5.2.2.3.2 Equipe interna	104
6 CONCLUSÃO	106
REFERÊNCIAS	112
APÊNDICE A – Modelo de implementação	115

Assinale a alternativa que contém o(s) capítulo(s) e/ou subcapítulo(s) que será(ão) impresso(s) em sua totalidade, sabendo-se que o usuário informou os seguintes parâmetros no intervalo de páginas para impressão: 45, 83-92, 109.

- (A) 3.1
- (B) 4.2
- (C) 5.1 e 5.2
- (D) 4.2; 5; 5.1 e 5.2
- (E) 3.1; 4.1.2; 4.2; 5 e 6

29. Observe o painel de navegação de um importante gerenciador de correio eletrônico, apresentado na figura a seguir.



Assinale a alternativa que contém, respectivamente, a quantidade de e-mails recebidos, mas ainda não lidos, e e-mails redigidos, mas que ainda não foram enviados, pois o computador encontra-se sem acesso à Internet.

- (A) 3; 4.
(B) 3; 6.
(C) 2; 6.
(D) 6; 4.
(E) 4; 3.
30. No Google, para restringir os resultados muito abrangentes, é possível utilizar um ou mais filtros na página de pesquisa. No caso de imagens, é possível utilizar o seguinte filtro de proporção:

- (A) Maior que 1024 x 768.
(B) Clip art.
(C) Panorâmica.
(D) Animação.
(E) Ícone.

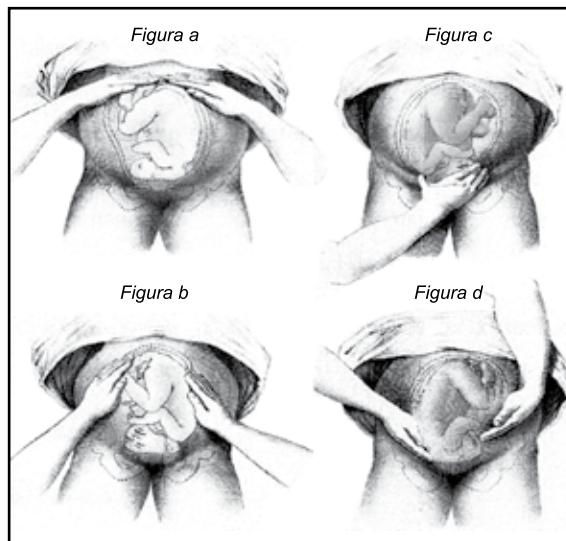
CONHECIMENTOS ESPECÍFICOS

31. Para maior qualidade de atendimento em situações de PCR (parada cardiorrespiratória), a atual diretriz apresentada no Guidelines, 2015, orienta que a boa frequência de compressão torácica (FCT) e o tanto de afundamento do tórax (AT), quando atender uma vítima adulta, deverá ser, respectivamente:

- (A) FCT=80-100; AT=não superior a 6 cm.
(B) FCT=100-120; AT=5, não superando 6 cm.
(C) FCT=100-130; AT=no máximo 5 cm.
(D) FCT=100-150; AT=mais que 6 cm.
(E) FCT=100-120; AT=5 cm.

Analise o texto e a figura para responder às questões de números 32 e 33.

A enfermeira generalista treinada para trabalhar com gestantes na unidade de saúde com Estratégia Saúde da Família (ESF) pode, perfeitamente, atender e acompanhar gestantes de baixo risco. Assim, saber que útero é o órgão que mais cresce e apresenta modificações anatômicas para abrigar o feto torna-se fundamental. A técnica da mensuração obstétrica é usada para estimar esse crescimento mensal do útero na gravidez normal.



32. Quando a enfermeira avalia o crescimento do útero, de forma indireta e externa, palpando-o e medindo-o por fora do abdome da gestante, deverá encontrar valores estimados e medidos em centímetros para crescimento mensal e ao nono mês, respectivamente:

- (A) 1; 26.
(B) 2; 28.
(C) 3; 30.
(D) 4; 36.
(E) 5; 48.

33. O que se observa no movimento da figura “c” e “d”, respectivamente, é:
- (A) verificação de pequenas partes e dorso fetal.
 - (B) verificação do fundo uterino e baixo ventre.
 - (C) manobra de Leopold e exploração de escavas.
 - (D) identificação de sinal de Bandl-Frommel e verificação de dorso fetal.
 - (E) manobra de Pinard e rechaço fetal.
34. Ao preparar e administrar um medicamento, a enfermeira deve ter em mente quais são as finalidades terapêuticas para o paciente. Assim, quando for administrar drogas do tipo nitroglicerina sublingual e agentes bloqueadores beta-adrenérgicos usados para pacientes com problemas coronarianos, deve saber que
- (A) relaxam as artérias do coração, favorecendo redução de dor.
 - (B) bloqueiam a distensão miocárdica.
 - (C) provocam elevação de pressão arterial e venosa.
 - (D) restabelecem a pressão negativa intratorácica.
 - (E) restringem o enchimento das cavidades cardíacas.

Analise a situação a seguir para responder às questões de números 35 e 36.

Durante a consulta de Enfermagem feita na unidade de saúde, a enfermeira obteve a informação de que a paciente Maria, 60 anos, apresentava perda urinária por tosse ou espirro. A informação foi devidamente registrada como um problema de Enfermagem, sendo registrada no relatório como uma incontinência urinária. No planejamento do cuidado à profissional, fez menção sobre ensinar exercícios de fortalecimento da região perineal da paciente.

35. O tipo de problema apresentado pela senhora Maria é identificado como incontinência de
- (A) retenção.
 - (B) esforço.
 - (C) urgência.
 - (D) emergência.
 - (E) reflexa.
36. A ação educativa proposta pela enfermeira é conhecida como exercício de
- (A) Kegel.
 - (B) Pinard.
 - (C) Briquet.
 - (D) Leopold.
 - (E) Delascio.

37. A enfermeira orienta a equipe do hospital sobre o que é uma cama fechada. Essa denominação diz respeito a leito hospitalar
- (A) em desuso temporário.
 - (B) ocupado por paciente que deambula.
 - (C) ocupado por paciente que não deambula.
 - (D) desocupada, em aguardo de paciente admitido.
 - (E) desocupada, em espera de paciente operado.
38. As ações de saúde que consistem na construção da autonomia das pessoas, na detecção de indivíduos em risco de excesso de cuidado e/ou de prevenção, e servem para protegê-los de intervenções profissionais inapropriadas, oferecendo alternativas eticamente aceitáveis, pertencem ao nível de prevenção
- (A) primária.
 - (B) secundária.
 - (C) terciária.
 - (D) quaternária.
 - (E) quinternária.

Analise o caso a seguir para responder às questões de números 39 a 43.

Após tempo superior a um ano, retornou à consulta de Enfermagem o paciente MAC, 70 anos, casado, aposentado, portador de *diabetes mellitus* há mais ou menos dez anos. No momento da consulta não apresentou queixas. Faz uso de insulina NPH10 U pela manhã e insulina regular conforme glicemia. Ele mesmo realiza aplicação da insulina. Referindo-se a sua dieta, deixou claro que está comendo de maneira errônea, com ingesta de arroz e macarrão diariamente e algumas vezes doces. Toma um litro de líquidos ao dia. Dorme bem algumas vezes, mas refere insônia quando se irrita com a filha e mulher com quem convive. Apresenta poliúria e constipação, chegando a ficar 5 ou 6 dias sem evacuar, não faz exercício ou qualquer outra atividade física regular. Diz gostar de ver TV. No exame físico: PA=180 x 100 mmHg, T=36 °C, P=70 bpm, R=20 rpm, a glicemia capilar estava 350 mg/dL. Couro cabeludo sem anormalidades. Pele e mucosas hipocoradas e hipo-hidratadas. A região ao redor do umbigo apresenta-se irritada e é o local de preferência dele para administrar insulina diária. Deficiência visual para perto, em uso de óculos. Audição, olfato e paladar sem anormalidades. MMSS com descamação em toda a extensão. MMII normais, unhas dos pés sujas e mal cortadas. Mostrou-se ansioso, com a dificuldade de apreensão das informações recebidas. Mal estado higiênico geral.

39. Está correto priorizar, no plano de cuidados de enfermagem, o uso de
- (A) insulina, a pressão arterial, a alimentação, a hidratação e a glicemia capilar.
 - (B) insulina, a pressão arterial, a alimentação, a pele e as mucosas hipocoradas.
 - (C) insulina, a pressão arterial, a alimentação, a diminuição da acuidade visual.
 - (D) insulina, as unhas dos pés sujas e mal cortadas, e a acuidade visual.
 - (E) insulina, as unhas dos pés sujas e mal cortadas, e as mucosas hipocoradas.

40. Observe a tabela e faça correlação dos problemas com os diagnósticos de Enfermagem (NANDA, 2015).

Problemas de Enfermagem	Diagnóstico de Enfermagem
I - Poliúria	A - Controle ineficaz do regime terapêutico
II - Dificuldade de reter informações	B - Déficit no volume de líquidos
III - Alimentação rica em carboidratos	C - Alteração na eliminação urinária
IV - Glicemia elevada	D - Manutenção da saúde alterada
V - Pele e mucosas hipocoradas e hipo-hidratadas	E - Alteração na nutrição: risco para mais do que o corpo necessita

- (A) V-A; III-B; II-C; IV-D; I-E
- (B) II-A; V-B; I-C; IV-D; III-E
- (C) III-A; II-B; I-C; IV-D; V-E
- (D) IV-A; V-B; I-C; II-D; III-E
- (E) V-A; IV-B; III-C; II-D; I-E

41. Quando a enfermeira conversa com o senhor MAC para comentar sobre a irregularidade de seu comparecimento nas consultas e explicar que o comparecimento regular propicia melhor retenção de informações importantes sobre a sua doença crônica, essa ação está relacionada ao seguinte diagnóstico de Enfermagem:

- (A) síndrome do déficit do autocuidado.
- (B) déficit de atividade de recreação.
- (C) controle ineficaz de saúde.
- (D) déficit no autocuidado: banho e/ou higiene.
- (E) alteração sensorial perceptiva.

42. O senhor MAC é portador do *Diabetes Mellitus*, pois segundo as atuais Diretrizes da Sociedade Brasileira que estuda a doença, considera-se anormal a glicemia de jejum que seja igual ou maior ao valor, em mg/dL, de:

- (A) 70.
- (B) 80.
- (C) 96.
- (D) 116.
- (E) 126.

43. Caso o senhor MAC necessite receber 10 unidades de insulina regular e você disponha apenas de frascos de insulina regular 100 unidades e seringa de insulina de 80 unidades, será necessário aspirar _____ unidades na seringa.

Assinale a alternativa que completa, corretamente, a lacuna do texto.

- (A) 4
- (B) 6
- (C) 8
- (D) 10
- (E) 12

44. O Código de Ética dos Profissionais de Enfermagem é um documento vital e de grande importância para as práticas profissionais, assim, o enfermeiro deverá informar para toda sua equipe que ele contém

- (A) responsabilidades da equipe que visam à fiscalização do exercício profissional.
- (B) critérios que permitem controlar cada profissional em relação a sua vontade.
- (C) mecanismos de controle dos profissionais para evitar que, caso cometam erros, não sofram sanções.
- (D) novos conceitos que possam garantir um diferencial profissional que atenda o mercado.
- (E) condutas, atitudes e comportamentos pertinentes aos profissionais de Enfermagem, considerando seus direitos e deveres.

45. Frente ao preconizado pela Sociedade Brasileira de Cardiologia, os valores atuais de pressão arterial para adultos em situação de Hipertensão Arterial Sistêmica (HAS) é, em mmHg:

- (A) 120 X 80.
- (B) 140-159 X 90-99.
- (C) 160-179 X 90-99.
- (D) 120-139 X 85-89.
- (E) 160-180 X 109-110.

46. O EGB (*Streptococo Agalactiae*) contamina o recém-nascido por via de transmissão vertical, sendo, então, a maior contaminação pela via
- (A) linfática.
 - (B) sanguínea.
 - (C) vaginal.
 - (D) placentária.
 - (E) coriônica.
47. Paciente com suspeita de meningite necessita ser encaminhado para Ressonância Magnética. Em se tratando de uma doença infectocontagiosa, para o adequado transporte do paciente deverá ser observado o seguinte:
- (A) o funcionário que encaminha o paciente deve utilizar máscara cirúrgica, e o paciente não.
 - (B) o funcionário que encaminha e o paciente deverão usar a máscara cirúrgica.
 - (C) apenas o paciente deverá usar a máscara cirúrgica.
 - (D) a Ressonância desse paciente deverá ser a última a ser feita, para que o paciente não tenha mais contato com ninguém.
 - (E) o paciente deverá usar a máscara p24, própria para a meningite.
48. Para cuidados de limpeza, higiene e esterilização de materiais em Centrais de Materiais e Esterilização, é correto afirmar:
- (A) a esterilização em autoclave a vapor está indicada para matérias termossensíveis.
 - (B) os endoscópios, colonoscópios e inaladores e circuitos respiratórios são exemplos de artigos semicríticos.
 - (C) esterilização por plasma e peróxido de hidrogênio é um método de esterilização física.
 - (D) os artigos críticos dispensam passar pelo processo de limpeza e higienização.
 - (E) tanto os materiais críticos como os semicríticos deverão ser processados em autoclave.
49. Medicamento prescrito: 2000000UI de penicilina cristalina EV 4/4h, diluída em 8 mL de soro fisiológico 0,9%. Temos frasco ampola 5000000UI. Quantos mL devem ser aspirados?
- (A) 2,0 mL.
 - (B) 2,5 mL.
 - (C) 3,0 mL.
 - (D) 3,2 mL.
 - (E) 4,0 mL.
50. Para que o enfermeiro promova uma adequada assistência à saúde da criança será necessário que ele reconheça e relacione as fases do desenvolvimento com o crescimento delas. Tomando como características que a criança já conta e inventa histórias, brinca em grupo, veste-se sem ajuda, salta sobre um pé, copia um desenho circular, conhece nome e sobrenome, estima-se que esteja com a idade, em anos, entre
- (A) 1 e 2.
 - (B) 2 e 3.
 - (C) 3 e 4.
 - (D) 4 e 5.
 - (E) 5 e 6.
51. Na assistência de Enfermagem de um paciente com dreno de tórax, devido a pneumotórax, o principal cuidado está relacionado a
- (A) manter a ponta distal do dreno sob o selo d'água.
 - (B) manter o paciente em decúbito dorsal.
 - (C) colocar o frasco coletor no mesmo nível do tórax.
 - (D) colocar o paciente deitado do lado esquerdo.
 - (E) aspirar vias aéreas superiores.
52. A fórmula de Parkland é a mais utilizada para o cálculo de volume de líquido a ser infundido em um paciente queimado, com o objetivo da reanimação hídrica.
- Considerando que a fórmula é 4 mL/kg/\% da superfície corpórea queimada (SCQ), uma vítima que precisou receber 8 litros de ringer nas primeiras 24 horas e que pesava 50 kg tinha, de (SCQ):
- (A) 16%.
 - (B) 25%.
 - (C) 35%.
 - (D) 40%.
 - (E) 52%.

- 53.** O enfermeiro percebeu que o Sr. João de Melo, 70 anos, apresentava dificuldade para respirar, sua frequência respiratória era 38 rpm, a saturação periférica de oxigênio, de 80% e a FC = 138 bpm. Estava muito apreensivo. Considerando os dados apresentados, os possíveis diagnósticos de enfermagem, segundo NANDA (2015-2017), são:
- (A) risco de queda, síndrome do desuso, risco para troca de gases prejudicada.
 - (B) ventilação espontânea prejudicada; risco de queda; ansiedade e troca de gases prejudicada.
 - (C) risco de pneumotórax.
 - (D) taquicardia; risco de troca de gases prejudicada; risco de queda.
 - (E) ventilação prejudicada; risco de infecção.
- 54.** Após realização de tatuagem, Maria, de 30 anos, apresentou celulite em MID, com os seguintes sinais e sintomas: área de edema em MID, calor em panturrilha D, iniciou com antibioticoterapia 1 dia antes do dia da internação. Apresentou 3 picos febris nas últimas 12 horas, já tomou dipirona 1 g há poucos minutos, agora está com 37 °C.
- Em relação ao caso, a conduta de Enfermagem ideal é:
- (A) antecipar a dipirona prescrita.
 - (B) fazer compressa morna com álcool fundamentalmente em região inguinal.
 - (C) repetir medida de temperatura a cada 1 hora; observar excesso de roupa.
 - (D) levar para o banho frio imediatamente.
 - (E) chamar o médico, para troca de antibiótico.
- 55.** O enfermeiro que estiver diante de paciente com sinais e sintomas de possível fratura de ossos precisa agir rapidamente, pois em situações especiais, há risco de morte. Identifique a fratura óssea que pode causar grande perda sanguínea, com risco de provocar choque e morte quando não for rapidamente identificada.
- (A) Úmero.
 - (B) Pelve.
 - (C) Escápula.
 - (D) Fíbula.
 - (E) Tíbia.
- 56.** A queimadura por choque elétrico acontece quando a corrente elétrica percorre o corpo da vítima.
- É correto afirmar que a corrente elétrica vai fazer o caminho de _____ para o de _____ resistência e, muitas vezes, segue _____.
- Assinale a alternativa que completa, corretamente, as lacunas.
- (A) maior ... menor ... os ossos.
 - (B) menor ... maior ... a pele e as cartilagens.
 - (C) maior ... menor ... a pele e os ossos.
 - (D) menor ... maior ... as cartilagens e os ossos.
 - (E) menor ... maior ... os nervos e os vasos sanguíneos.
- 57.** Dentre os principais diagnósticos de Enfermagem, segundo NANDA, 2015, apresentados pelos pacientes no pós-operatório de cirurgia cardíaca, encontram-se:
- (A) integridade tissular prejudicada; sangramento; risco de choque; risco de constipação; risco de suicídio por depressão; instabilidade social.
 - (B) risco de infecção; risco de glicemia instável devido ao estresse.
 - (C) integridade tissular prejudicada; débito cardíaco diminuído; proteção ineficaz; risco de perfusão tissular ineficaz renal; dor aguda; risco de glicemia instável.
 - (D) perfusão tissular ineficaz cardiopulmonar.
 - (E) risco de função cardiovascular prejudicada.
- 58.** Processo que ocorre quando o indivíduo sofre invasão e colonização de seus tecidos por um microrganismo, provocando sinais e sintomas de dor, calor e rubor chama-se
- (A) contaminação.
 - (B) inflamação.
 - (C) deteriorização tecidual.
 - (D) opsonização.
 - (E) infecção.

59. Na sífilis terciária, o tratamento para adulto é a penicilina benzatina 7200000UI, distribuídas em várias etapas e intervalos de tempo, respectivamente:
- (A) 7200000UI em 3 etapas, com dose de 2400000UI em cada etapa e com intervalo de 1 semana cada uma.
 - (B) 7200000UI em 3 etapas, com dose de 2400000UI em cada etapa e com intervalo de 15 dias cada uma.
 - (C) 7200000UI em 2 etapas, com dose de 3600000UI em cada etapa e com intervalo de 15 dias. Dividir a dose 1800000 em cada glúteo.
 - (D) 7200000UI em 3 etapas, com dose de 2400000UI em cada etapa e com intervalo de 1 mês cada uma.
 - (E) 7200000UI em 2 etapas, com dose de 3600000UI em cada etapa e com intervalo de 1 mês cada uma. Dividir a dose 1800000 em cada glúteo.
60. É correto afirmar que o transplante de medula óssea, quando a célula é da própria pessoa, refere-se ao tipo
- (A) alogênico.
 - (B) alogênico não aparentado.
 - (C) autólogo lavado.
 - (D) haplo idêntico.
 - (E) autólogo.

PCI Concursos