



PREFEITURA MUNICIPAL DE SERTÃOZINHO

ESTADO DE SÃO PAULO

CONCURSO PÚBLICO

004. PROVA OBJETIVA

CUIDADOR SOCIAL

- ◆ Você recebeu sua folha de respostas e este caderno contendo 50 questões objetivas.
- ◆ Confira seus dados impressos na capa deste caderno e na folha de respostas.
- ◆ Quando for permitido abrir o caderno, verifique se está completo ou se apresenta imperfeições. Caso haja algum problema, informe ao fiscal da sala.
- ◆ Leia cuidadosamente todas as questões e escolha a resposta que você considera correta.
- ◆ Marque, na folha de respostas, com caneta de tinta azul ou preta, a letra correspondente à alternativa que você escolheu.
- ◆ A duração da prova é de 3 horas, já incluído o tempo para o preenchimento da folha de respostas.
- ◆ Só será permitida a saída definitiva da sala e do prédio após transcorridos 75% do tempo de duração da prova.
- ◆ Ao sair, você entregará ao fiscal a folha de respostas e este caderno, podendo levar apenas o rascunho de gabarito, localizado em sua carteira, para futura conferência.
- ◆ Até que você saia do prédio, todas as proibições e orientações continuam válidas.

AGUARDE A ORDEM DO FISCAL PARA ABRIR ESTE CADERNO DE QUESTÕES.

Nome do candidato _____

Prédio _____

Sala _____

Carteira _____

Inscrição _____

CONHECIMENTOS GERAIS

LÍNGUA PORTUGUESA

Leia o texto para responder às questões de números **01 a 05**.

Bitucas jogadas no chão em SP enchem um apartamento por dia

Ao final de cada dia, o paulistano descarta 34 milhões de bitucas de cigarro nas ruas. Pequena e dispersa por todo canto, ela parece não incomodar, mas os restos equivalentes ao consumo de 1,7 milhão de maços de cigarro dariam para encher um apartamento de 70 metros quadrados. O cálculo é da organização social “Rede Papel Bituca”.

Para lidar com o problema, empresas e órgãos públicos de São Paulo têm inserido, de forma tímida, nos seus espaços, as chamadas “bituqueiras” – equipamento que acondiciona o resíduo. E, na capital paulista – onde regiões com grande circulação de pessoas, ambientes com alto nível de estresse ou que concentram bares são as mais infestadas pelas bitucas –, um projeto de lei tramita desde o ano passado com proposta que prevê multa de até R\$ 100 para o “sujão” flagrado.

O treinador de corretores de imóveis, R. Silva, 33, trabalha em uma dessas regiões. Quatro vezes ao dia, ele repete o mesmo ritual: sai do ambiente de trabalho para fumar. Quando o cigarro chega ao fim, o destino é um só: a rua. “Sempre joga a bituca na vala. Nunca na calçada, porque a chuva vem e leva”, diz.

Silva diz que **dessa forma** “diminui o dano” devido à falta de um lugar adequado na região para dar um fim à bituca.

“A bituca em contato com a água libera substâncias tóxicas e também acaba entupindo a rede pluvial da cidade. Além de, visualmente, fomentar uma paisagem de degradação”, afirma Rafael Rodrigues, 31, gestor da Rede Papel Bituca. As pontas de cigarro também provocam incêndios. Em 2013, o Corpo de Bombeiros conteve 530 ocorrências do tipo apenas na capital.

Segundo Cleide Sousa, doutora em psicologia ambiental da UnB (Universidade de Brasília), bitucas de cigarro são o resíduo “mais descartado em todo o mundo”.

Para a pesquisadora, o ato mostra “falta de informação” e representa uma “atitude egoísta”. “Quem joga uma bituca no chão não faz uma autocrítica em relação ao próprio comportamento e sempre joga a responsabilidade para o poder público. Mas há uma responsabilidade individual nesse processo que nunca é levada em consideração”, explica a especialista.

(Diego Maia. In: <http://goo.gl/nJnbb>. Adaptado)

- 01.** De acordo com a leitura do texto, é correto afirmar que
- (A) a organização Rede Papel Bituca constatou que em várias metrópoles, como São Paulo, há o consumo de 1,7 milhão de maços de cigarro por dia.
 - (B) a prefeitura e algumas empresas espalharam maçicamente bituqueiras pelas ruas da cidade, mas a medida não surtiu o resultado esperado.
 - (C) o treinador de corretores de imóveis informou-se adequadamente sobre o destino correto a ser dado às pontas de cigarro, por isso as joga nos bueiros.
 - (D) a pesquisadora da UnB assegura que os fumantes têm ciência de que os órgãos públicos não são os únicos que devem agir para solucionar o problema das bitucas.
 - (E) as pontas de cigarro descartadas negligentemente sujam as ruas, degradando o espaço público e potencializando a ocorrência de incêndios.
- 02.** No quarto parágrafo, a expressão **dessa forma** refere-se ao fato de R. Silva
- (A) exercer o ritual de fumar quatro vezes ao dia.
 - (B) evitar usar as bituqueiras disponíveis nas calçadas.
 - (C) estar proibido de fumar em seu ambiente de trabalho.
 - (D) precaver-se contra a multa de cem reais.
 - (E) optar por jogar bitucas na vala e não na calçada.
- 03.** Assinale a alternativa que apresenta corretamente, entre parênteses, a circunstância adverbial expressa pelo trecho em destaque.
- (A) Pequena e dispersa **por todo canto**, ela parece não incomodar (afirmação)
 - (B) empresas e órgãos públicos de São Paulo têm inserido, **de forma tímida**, nos seus espaços, as chamadas “bituqueiras” (modo)
 - (C) Além de, **visualmente**, fomentar uma paisagem de degradação (intensidade)
 - (D) bitucas de cigarro são o resíduo **mais descartado em todo o mundo** (modo)
 - (E) uma responsabilidade individual nesse processo que **nunca** é levada em consideração (intensidade)

04. Considere a frase.

Em contato com a água, a bituca libera **substâncias tóxicas** e também acaba entupindo **a rede pluvial da cidade**.

As expressões destacadas estão corretamente substituídas pelos pronomes em:

- (A) libera-as ... entupindo-a
- (B) libera-as ... entupindo-lhe
- (C) libera-as ... entupindo-na
- (D) libera-lhes ... entupindo-a
- (E) libera-lhes ... entupindo-lhe

05. De acordo com a norma-padrão da língua portuguesa, a concordância verbal e nominal está correta em:

- (A) Ao final de cada dia, existe 34 milhões de bitucas de cigarro espalhadas pelas ruas paulistanas.
- (B) Regiões com bares e grande circulação de indivíduos é a que mais acumula bitucas pelas calçadas.
- (C) As pessoas que jogam pontas de cigarro no chão não fazem uma crítica a si mesmas e põem a culpa no poder público.
- (D) Os restos de 1,7 milhão de maços de cigarro preencheria um apartamento de 70 metros quadrados.
- (E) No ano de 2013, houve na capital paulista 530 ocorrências de incêndio que foi contida pelo Corpo de Bombeiros.

Leia o texto para responder às questões de números 06 a 09.

Mais que ouvir

A comunicação é, sem dúvida, um dos grandes entraves na sociedade e no mundo corporativo. A questão nem é tanto a comunicação verbal, o falar, mas, sim, o escutar, por isso venho observando o quanto a paciência e a tolerância com o processo de escuta, importantíssimo para que haja efetivamente a troca de informações, parecem estar reduzidas.

Nada me tira da cabeça que os índices de violência do país refletem, de certo modo, a falta de escuta dos governantes e dos gestores sobre as carências e as insatisfações da população.

As pessoas não se sentem ouvidas, então berram por meio dos atos de violência. Querem a atenção dos demais mas ficam frustradas, pois se sentem ignoradas ou marginalizadas.

No mundo do trabalho também. Entre as maiores queixas dos profissionais está a falta de reconhecimento dos colegas, e é possível incluir nesse pacote a falta de escuta.

Será que estamos atarefados demais para olhar o outro? Será que o contato virtual nos rouba o real? Será que nos acostumamos com estatísticas e números e ficamos menos disponíveis para perceber o outro?

Lembro que escutar é diferente de ouvir. Se você não tem problemas no aparelho auditivo, você ouve. Mas escutar implica estar atento ao que o outro está dizendo e compreendê-lo: não só com palavras, mas também com gestos, postura, expressão facial e tom de voz.

A escuta é uma exigência para as relações sociais, mas está em baixa.

Fazer esse exercício implica olhar e observar cuidadosamente seu interlocutor, compreender o que ele diz e os sentimentos envolvidos, sem julgamentos. É ficar atento também para a fluidez do discurso e as vacilações, pois todos esses detalhes podem revelar o que as palavras não conseguem dizer.

Quando a pessoa sente que é escutada, dá mais abertura para a mudança de atitudes e passa a agir de forma menos melindrada e mais flexível.

(Adriana Gomes. *Folha de S. Paulo*, 11.05.2014. Adaptado)

06. Pelas informações do texto, é correto afirmar que

- (A) as principais queixas dos profissionais estão associadas à convivência com colegas que não têm competência técnica e, além disso, não são bons ouvintes.
- (B) a intolerância para escutar o outro é consequência do estresse, do vício da conectividade e da predominância da comunicação escrita.
- (C) o conceito de escutar difere do conceito de ouvir, pois escutar é essencialmente assimilar o vocabulário empregado pelo interlocutor.
- (D) a atitude de escutar alguém inclui interessar-se pela fala e pela postura do interlocutor, a fim de perceber o que as palavras não expressam.
- (E) a autora exime-se de atribuir a políticos e gestores parte da responsabilidade pela violência que ocorre no país.

07. No último parágrafo, segundo a autora, a pessoa que se sente escutada passa a agir de forma

- (A) menos desconfiada e mais implacável.
- (B) menos insegura e menos complacente.
- (C) menos suscetível e menos intransigente.
- (D) mais introvertida e mais indulgente.
- (E) mais vulnerável e menos agressiva.

08. Considere as frases.

Será que estamos atarefados demais para dar atenção _____ pessoas?

Será que o contato virtual nos conduz _____ uma distância do mundo real?

Será que nos acostumamos aos números e não nos dispomos _____ perceber o outro?

As frases reescritas com base no quinto parágrafo devem ser preenchidas, de acordo com a norma-padrão da língua portuguesa, por:

- (A) às – a – a
- (B) às – à – à
- (C) às – a – à
- (D) as – à – à
- (E) as – a – a

09. Assinale a alternativa em que o trecho reescrito a partir do sexto parágrafo mantém o sentido do texto e está de acordo com a norma-padrão da língua portuguesa.

- (A) Desde que você não teria problemas no aparelho auditivo, você ouve. Porque escutar implica estar atento ao que o outro diz.
- (B) A menos que você não tem problemas no aparelho auditivo, você ouve. Entretanto escutar implica estar atento ao que o outro diz.
- (C) A não ser que você não tinha problemas no aparelho auditivo, você ouve. Contudo escutar implica estar atento ao que o outro diz.
- (D) Contanto que você não tenha problemas no aparelho auditivo, você ouve. Porém escutar implica estar atento ao que o outro diz.
- (E) Salvo se você não tivesse problemas no aparelho auditivo, você ouve. Já que escutar implica estar atento ao que o outro diz.

10. Leia a tirinha.



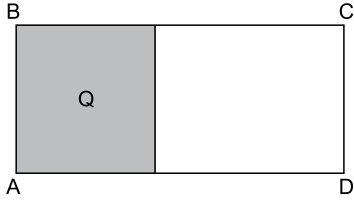
(Bob Thaves. <http://2.bp.blogspot.com>)

A frase – Esse já está viajando! – foi empregada pela personagem em sentido

- (A) próprio, indicando que o cliente está interessado em fazer, pela primeira vez, uma viagem de navio.
- (B) próprio, indicando que o cliente crê na possibilidade de viajar de navio com a quantia de que dispõe.
- (C) figurado, indicando que o cliente deseja fazer uma viagem internacional, embora não queira gastar muito.
- (D) figurado, indicando que o cliente não está a par dos valores que são cobrados para um turista fazer um cruzeiro.
- (E) figurado, indicando que o cliente recorreu a essa agência por ela ser especializada em viagens marítimas.

11. Em uma classe de educação infantil, a razão entre o número de meninos e o de meninas é de 2 para 3, e a razão entre o número de meninas e o de professoras é de 7 para 1. Se a classe tem 3 professoras, então o número total de alunos dessa classe é igual a
- (A) 34.
(B) 35.
(C) 38.
(D) 40.
(E) 41.
12. Em um processo seletivo, uma prova foi aplicada para um grupo de n candidatos, dos quais 10 obtiveram nota máxima. Desse grupo, sabe-se que 20 candidatos são homens, que 20% dos homens obtiveram nota máxima e que 80% das mulheres não obtiveram nota máxima. Desse modo, é correto afirmar que n é igual a
- (A) 30.
(B) 34.
(C) 40.
(D) 46.
(E) 50.
13. Para a decoração de pacotes natalinos serão usados três rolos de fitas. Esses rolos, medindo 420 cm, 600 cm e 720 cm, serão divididos em pedaços iguais e do maior comprimento possível. Sabendo que não deverá restar nenhum pedaço de fita nos rolos, é correto afirmar que o número total de pedaços obtidos será igual a
- (A) 18.
(B) 23.
(C) 26.
(D) 29.
(E) 34.
14. Segundo a Pesquisa de Informações Básicas Municipais, do IBGE (*In:O Estado de S. Paulo – 15.12.2015*), em 2014 só $\frac{1}{10}$ dos municípios brasileiros tinha ao menos uma sala de cinema. Sabendo que o número de municípios que não tinham nenhuma sala de cinema é 5 013, é correto afirmar que o total de municípios no Brasil é
- (A) 4 512.
(B) 5 514.
(C) 5 570.
(D) 5 750.
(E) 6 020.

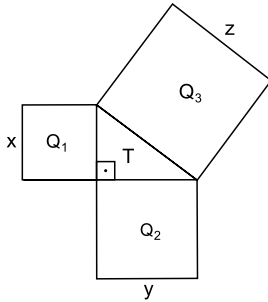
15. A região cinza indicada por Q na figura tem formato quadrado e área de 256 m^2 , que corresponde a $\frac{2}{5}$ da área do terreno retangular ABCD.



Nesse caso, é correto afirmar que o perímetro do terreno ABCD, em metros, é igual a

- (A) 184.
(B) 156.
(C) 128.
(D) 112.
(E) 106.
16. Considere uma sequência de três números naturais pares e consecutivos, cuja soma é igual a 66. Nesse caso, o produto do primeiro pelo terceiro número dessa sequência será igual a
- (A) 480.
(B) 492.
(C) 504.
(D) 516.
(E) 528.
17. Um reservatório para a captação de água pluvial tem a forma de um paralelepípedo reto retângulo de 3 m de comprimento e 2 m de largura. Uma precipitação possibilitou a captação de $3,6 \text{ m}^3$ de água nesse reservatório, inicialmente vazio, e preencheu 48% de sua capacidade total. Desse modo, é correto afirmar que a medida da altura desse reservatório é, em metros, igual a
- (A) 1,20.
(B) 1,25.
(C) 1,30.
(D) 1,45.
(E) 1,50.

18. Um jardim é formado por três canteiros quadrados, Q_1 , Q_2 e Q_3 , de lados iguais a x , y e z , e por uma região gramada T , no formato de um triângulo retângulo, conforme mostrado na figura.



Se a soma das áreas dos três canteiros quadrados é igual a 50 m^2 , então a medida z do lado do canteiro Q_3 é, em metros, igual a

- (A) 3.
(B) 4.
(C) 5.
(D) 6.
(E) 8.
19. Em um carro estavam um casal e seus três filhos pequenos, Lucas, Davi e Rodrigo, sendo a média aritmética das massas dessas cinco pessoas igual a 36 kg. Lucas e Davi foram deixados na escola, e a média aritmética das massas das pessoas restantes no carro passou a ser de 47 kg. Sabendo que a massa de Lucas é 3 kg maior que a de Davi, é correto afirmar que a massa de Lucas, em quilogramas, é igual a
- (A) 14.
(B) 15,5.
(C) 18.
(D) 19,5.
(E) 21.
20. Lílian efetuou um saque em um caixa eletrônico e recebeu somente notas de R\$ 20,00 e R\$ 50,00, sendo o número de notas de R\$ 20,00 igual ao triplo do número de notas de R\$ 50,00. Em seguida, efetuou um segundo saque, e recebeu mais 4 notas. Se o número total de notas recebidas nesses dois saques foi 24, então o valor total do primeiro saque foi
- (A) R\$ 550,00.
(B) R\$ 520,00.
(C) R\$ 500,00.
(D) R\$ 480,00.
(E) R\$ 450,00.

21. Leia a reportagem de O Globo em 06.09.2015.

De acordo com números divulgados pelo Alto Comissariado das Nações Unidas para Refugiados (Acnur), durante o ano de 2015, milhares de pessoas fugiram de seu lugar de origem e se dirigiram para a Europa. Um país europeu, em especial, destacou-se porque recebeu o maior número de pedidos de asilo, após o aval de sua dirigente Angela Merkel.

(<http://glo.bo/1hMUJc3>. Adaptado)

O país citado na reportagem é

- (A) o Reino Unido.
- (B) a Alemanha.
- (C) a Espanha.
- (D) a França.
- (E) Portugal.

22. Após a aprovação no último sábado (12.12.2015), durante a 21ª Conferência das Nações Unidas sobre Mudanças Climáticas (COP21), em Paris, de um novo acordo global para combater os efeitos das mudanças climáticas, os 188 países-membros da Convenção do Clima da ONU que já apresentaram suas metas voluntárias terão agora o desafio de implementá-las até 2020, quando passa a vigorar o novo acordo.

(<http://goo.gl/mH4RIh>. Adaptado)

Uma das principais metas propostas pela COP21 é

- (A) a redução das emissões de gases de efeito estufa para retardar o aquecimento global.
- (B) o reflorestamento das áreas devastadas na América do Norte e na Europa.
- (C) a ocupação dos litorais com a despoluição dos mares e oceanos.
- (D) a conservação dos recursos naturais das regiões polares e montanhosas.
- (E) a proteção aos solos agrícolas dos países pobres da África e da Ásia.

23. Ao longo do segundo semestre de 2015, na economia brasileira houve

- (A) o crescimento de 1,5 a 2% do PIB (Produto Interno Bruto).
- (B) o aumento da inflação acima do teto da meta de 6,5% estabelecida pelo governo.
- (C) a ampliação das atividades industriais nas metrópoles do Sul e Sudeste.
- (D) a diminuição das exportações de produtos agrícolas, como a soja.
- (E) a desvalorização do dólar para valores inferiores aos praticados em 2014.

24. Depois de registrar recorde de mortes por dengue no ano, o país acaba de alcançar em 2015 também o maior número de casos notificados da doença desde 1990, quando as estatísticas começaram a ser monitoradas. Segundo o mais recente boletim epidemiológico de dengue do Ministério da Saúde, foram 1.463.776 casos prováveis da doença registrados de 4 de janeiro até 26 de setembro no Brasil. O recorde anterior, de 2013, era de 1.452.489 pessoas infectadas.

De acordo com o boletim, a alta de registros de dengue foi puxada pela região _____, que concentra 64% dos casos.

(<http://goo.gl/cx2Lr8>. Adaptado)

A região citada no texto da notícia é

- (A) a Sudeste.
- (B) a Norte.
- (C) a Sul.
- (D) a Centro-Oeste.
- (E) a Nordeste.

25. A gente teve um evento trágico. A Samarco também está envolvida e estamos muito solidários e muito sofridos com tudo que aconteceu. Não acho que seja o caso de desculpa, acho que é o caso de verificar claramente o que aconteceu.

Kleber Terra, diretor de operações e infraestrutura da Samarco, em entrevista em 17.11.2015.

(<http://veja.abril.com.br/> Adaptado)

A Samarco passou a ser nacionalmente conhecida a partir de novembro de 2015. Sobre a Samarco, é correto afirmar que

- (A) pertence a um grupo chinês que se instalou em Minas Gerais para extrair ferro com equipamentos obsoletos que provocaram desabamento da mina em exploração.
- (B) é subsidiária da Petrobras e, devido aos desvios de recursos, teve sua barragem de resíduos oleosos rompida, gerando mortes e prejuízos econômicos e ambientais.
- (C) constrói usinas hidrelétricas e, uma delas, em Minas Gerais, teve a barragem destruída, provocando inundação e destruição de casas, plantações e impactos ambientais.
- (D) é uma empresa mineradora, com 50% das ações controladas pela Vale e responsável por uma enchente de lama que provocou mortes e fortes problemas ambientais.
- (E) explora carvão em Minas Gerais, é estatal, e será acionada pelo Ministério Público para reparar os prejuízos causados pelo rompimento de seu depósito de enxofre carbonífero.

26. Um usuário acessa a Lixeira do MS-Windows 7, em sua configuração padrão e escolhe restaurar um arquivo chamado texto.txt. No local de origem do arquivo texto.txt já existe outro arquivo de mesmo nome.

O que ocorre ao escolher restaurar o arquivo conforme a descrição do enunciado?

- (A) O arquivo no local de origem será substituído pelo arquivo restaurado da lixeira.
- (B) Aparecerá uma mensagem dizendo que não é possível restaurar por já existir outro arquivo de mesmo nome no local de origem.
- (C) O conteúdo do arquivo da Lixeira será mesclado com o conteúdo do arquivo no local de origem.
- (D) Não é possível restaurar arquivos da Lixeira se já existirem novos arquivos com o mesmo nome no local de origem.
- (E) Uma caixa de diálogo será aberta, solicitando uma ação do usuário, para confirmar a substituição do arquivo no local de origem.

27. No MS-Word 2010, em sua configuração padrão, “Centralizar” e “Sublinhado” são formatações aplicadas, respectivamente, a

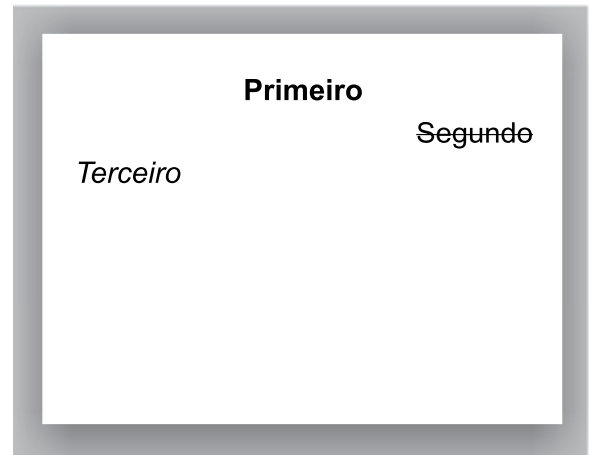
- (A) Parágrafo e Fonte.
- (B) Fonte e Parágrafo.
- (C) Seção e Página.
- (D) Página e Parágrafo.
- (E) Seção e Parágrafo.

28. Por meio do MS-Excel 2010, em sua configuração padrão, um usuário atribui à célula E3 a fórmula =SOMA(B2:C2;A1:C1;A3)

Assinale a alternativa que contém o número de células que serão somadas na fórmula descrita no enunciado.

- (A) 9
- (B) 8
- (C) 7
- (D) 6
- (E) 5

29. A imagem mostra um slide sendo editado por meio do MS-PowerPoint 2010, em sua configuração padrão.



Assinale a alternativa que correlaciona corretamente as palavras contidas no slide exibido, com a respectiva formatação de Fonte aplicada.

- (A) Primeiro – negrito; Segundo – alinhado à esquerda.
- (B) Terceiro – itálico; Segundo – tachado.
- (C) Terceiro – alinhado à esquerda; Segundo – sublinhado.
- (D) Primeiro – centralizado; Terceiro – alinhado à direita.
- (E) Segundo – centralizado; Terceiro – alinhado à esquerda.

30. Um usuário do MS-Outlook 2010, em sua configuração padrão, ao receber um e-mail institucional, com 3 endereços de e-mail no campo Cc e 2 arquivos anexados, decide enviar o e-mail recebido para outro colega de trabalho.

Ao clicar na opção encaminhar, os arquivos anexados no e-mail recebido

- (A) serão automaticamente excluídos do e-mail recebido.
- (B) não serão anexados automaticamente ao novo e-mail.
- (C) serão anexados automaticamente ao novo e-mail.
- (D) serão salvos automaticamente numa pasta escolhida pelo usuário.
- (E) serão automaticamente excluídos do e-mail recebido e anexados ao novo e-mail.

CONHECIMENTOS ESPECÍFICOS

31. Considera-se ato infracional a conduta descrita como crime ou contravenção penal praticada pela criança ou pelo adolescente. O artigo 104 do Estatuto da Criança e do Adolescente (ECA) define que são penalmente inimputáveis os menores de dezoito anos e que, para os efeitos desta lei, deve ser considerada a idade do adolescente
- (A) proporcionalmente ao seu desenvolvimento físico.
 - (B) respeitado o laudo médico que a define.
 - (C) à data do fato.
 - (D) associada ao grau de escolaridade.
 - (E) observado parecer judicial a esse respeito.
32. Aplicadas pelo Conselho Tutelar ou pela autoridade judiciária, as medidas de proteção têm por objetivos o restabelecimento e a garantia do pleno exercício do direito da criança e do adolescente. Conforme previsto no artigo 99 do ECA, é correto afirmar que as medidas específicas de proteção poderão ser aplicadas
- (A) imediatamente.
 - (B) em caráter permanente.
 - (C) a médio prazo.
 - (D) em nível provisório.
 - (E) isolada ou cumulativamente.
33. O ECA garante em lei o direito à profissionalização e à proteção ao trabalho do adolescente e, em seu artigo 60, estabelece que, salvo na condição de aprendiz, é proibido qualquer trabalho a menores de
- (A) 12 anos.
 - (B) 14 anos.
 - (C) 15 anos.
 - (D) 16 anos.
 - (E) 18 anos.
34. O Conselho Tutelar é um serviço público relevante, um órgão permanente, autônomo, não jurisdicional, encarregado pela sociedade de zelar pelos direitos da criança e do adolescente, com atribuições definidas em lei. Faz parte das atribuições do Conselho Tutelar atender e aconselhar os pais ou responsável, aplicando as medidas a eles pertinentes. Conforme estabelece o ECA no artigo 129, IV, uma das medidas aplicáveis aos pais ou responsável é:
- (A) encaminhamento a cursos ou programas de orientação.
 - (B) notificação de descumprimento de suas deliberações.
 - (C) encaminhamento mediante termo de responsabilidade.
 - (D) regularização do registro civil.
 - (E) aplicação de medida de internação.
35. De acordo com a Lei nº 11.340/06, no artigo 5º (I, II, III), a violência doméstica e familiar contra a mulher é qualquer ação ou omissão baseada no gênero, que lhe cause morte, lesão, sofrimento físico, sexual ou psicológico e dano moral ou patrimonial ocorrida no âmbito da unidade doméstica, da família e
- (A) no contexto do trabalho.
 - (B) em locais públicos.
 - (C) em qualquer espaço privado.
 - (D) em qualquer relação íntima de afeto.
 - (E) no cotidiano da escola.
36. A Lei Maria da Penha determina que, no atendimento à mulher em situação de violência doméstica e familiar, a autoridade policial deverá, entre outras providências, comunicar de imediato a ocorrência ao Ministério Público e ao Poder Judiciário. Recebido o expediente com o pedido da ofendida, caberá ao Juiz decidir sobre as medidas a serem tomadas. Conforme estabelece a referida lei, o afastamento do agressor do lar, domicílio ou local de convivência com a ofendida é uma medida
- (A) impositiva de responsabilidade.
 - (B) preventiva de segurança.
 - (C) protetiva de urgência.
 - (D) específica de proteção.
 - (E) cautelar de emergência.
37. A promulgação da Lei Maria da Penha é uma conquista da sociedade brasileira que propõe uma nova perspectiva de vida para a mulher em situação de violência. Conforme estabelece o artigo 8º da citada lei, a política pública que visa coibir a violência doméstica e familiar contra a mulher far-se-á por meio de um conjunto articulado de ações da União, dos Estados, do Distrito Federal e dos Municípios e de
- (A) ações não governamentais.
 - (B) projetos específicos.
 - (C) iniciativas locais.
 - (D) propostas setoriais.
 - (E) intervenções pontuais.
38. A Lei Federal nº 10.741/03 reconhece o idoso como pessoa humana e sujeito de direitos civis, políticos, individuais e sociais. Conforme estabelece o artigo 10º, § 2º dessa Lei, a inviolabilidade da integridade física, psíquica e moral, abrangendo a preservação da imagem, da identidade, da autonomia, de valores, ideias e crenças, dos espaços e dos objetos pessoais, são garantias do direito
- (A) à vida.
 - (B) ao respeito.
 - (C) à educação.
 - (D) à liberdade.
 - (E) ao bem-estar.

- 39.** A Lei assegura às pessoas idosas o direito de serem atendidas antes de qualquer outra; essa previsão legal aplica-se aos mais diversos locais, de natureza pública ou privada, como hospitais, clínicas, supermercados, cinemas, teatros, dentre tantos outros. Esse direito está previsto no artigo 3º (parágrafo único) do Estatuto do Idoso como garantia de
- (A) emergência.
 - (B) privilégio.
 - (C) urgência.
 - (D) prioridade.
 - (E) solidariedade.
- 40.** Ao idoso, com 65 anos ou mais, consideradas determinadas condições para sua subsistência, é assegurado o recebimento de um salário-mínimo mensal, por meio do Benefício de Prestação Continuada. Essa medida atende inclusive ao artigo 14 do Estatuto do Idoso, reiterando que se o idoso ou seus familiares não possuírem condições econômicas de prover o seu sustento, impõe-se ao Poder Público esse provimento, no âmbito
- (A) do judiciário.
 - (B) da assistência social.
 - (C) do sistema de saúde.
 - (D) da defensoria pública.
 - (E) da iniciativa privada.
- 41.** Proclamada em 1948 e adotada pelos países do mundo, a Declaração Universal dos Direitos Humanos é base para formulação de Constituições e Leis nacionais e internacionais. Conforme artigo 12 da Declaração, todo o homem tem direito à proteção da lei contra interferências ou ataques. Esse direito é assim definido: Ninguém será sujeito a interferências na sua vida privada, na sua família, no seu lar ou na sua correspondência, nem a ataques à sua honra e
- (A) interesses.
 - (B) atitudes.
 - (C) crença.
 - (D) valores.
 - (E) reputação.
- 42.** De acordo com a Declaração Universal dos Direitos Humanos, em seu artigo 16, os homens e mulheres de maior idade, sem qualquer restrição de raça, nacionalidade ou religião, têm o direito de contrair matrimônio e fundar uma família. Gozam de iguais direitos em relação ao casamento, sua duração e sua dissolução. Ainda no mesmo artigo, declara que o casamento não será válido senão com o livre consentimento
- (A) dos nubentes.
 - (B) dos pais ou responsáveis.
 - (C) do Juiz de Paz.
 - (D) de um dos membros.
 - (E) da autoridade civil.
- 43.** A Declaração Universal dos Direitos das Crianças, proclamada pela Assembleia Geral da Organização das Nações Unidas – ONU, em 1959, tem como base e fundamento os direitos à liberdade, a estudar, a brincar e ao convívio social das crianças, estabelecidos em dez princípios. O fundamento principal do documento está na ideia de que a criança deve desfrutar todos os direitos enunciados na Declaração. Estes direitos serão outorgados
- (A) a crianças de países subdesenvolvidos.
 - (B) às crianças pobres.
 - (C) à crianças de nações sem Estatuto próprio.
 - (D) a todas as crianças.
 - (E) à crianças de países que a adotam.
- 44.** Discriminações e “bullying” são temas bastante presentes na sociedade atual. No entanto, desde 1959, a Declaração Universal dos Direitos das Crianças ressalta a necessidade de a criança ser protegida contra as práticas que possam fomentar a discriminação racial, religiosa, ou de qualquer outra índole. É o princípio X da Declaração que estabelece que a criança deve ser educada dentro de um espírito de compreensão, tolerância, amizade entre os povos, paz e fraternidade universais e com plena consciência de que deve consagrar suas energias e aptidões
- (A) na valorização de si mesmo.
 - (B) para seu fortalecimento emocional.
 - (C) na busca de soluções para a questão.
 - (D) de modo a evitar a criação de traumas.
 - (E) ao serviço de seus semelhantes.

- 45.** Para minimizar risco de contaminação microbiológica, um frango assado deve ser armazenado em
- (A) geladeira.
 - (B) micro-ondas.
 - (C) fogão.
 - (D) armário.
 - (E) forno combinado.
- 46.** Um pavê de coco pode ser mantido refrigerado por no máximo
- (A) 10 dias.
 - (B) 7 dias.
 - (C) 5 dias.
 - (D) 4 dias.
 - (E) 3 dias.
- 47.** Para a adequada lavagem de mãos, deve-se utilizar sabonete
- (A) em barra com aroma suave.
 - (B) líquido esfoliante com aroma floral.
 - (C) líquido sem cheiro.
 - (D) em barra de cor branca.
 - (E) em pedra antisséptico.
- 48.** Aventais plásticos devem ser utilizados durante
- (A) o preparo de carne assada.
 - (B) a fritura de batata palha.
 - (C) a retirada de bolo do forno.
 - (D) a lavagem da cozinha.
 - (E) a colocação dos talheres na mesa.
- 49.** Os ingredientes básicos utilizados no preparo de mingau de aveia são
- (A) farinha de trigo, aveia e açúcar.
 - (B) leite, aveia e açúcar.
 - (C) ovos, aveia e fermento em pó.
 - (D) leite, aveia e amido de milho.
 - (E) ovos, aveia e leite.
- 50.** Um presunto com prazo de validade vencido deverá ser
- (A) congelado no freezer.
 - (B) utilizado no preparo de omelete.
 - (C) jogado fora.
 - (D) lavado e reaproveitado.
 - (E) cozido em micro-ondas.

