



PREFEITURA MUNICIPAL DE SUZANO

ESTADO DE SÃO PAULO

CONCURSO PÚBLICO

020. PROVA OBJETIVA

ESPECIALISTA EM DESENVOLVIMENTO E GESTÃO URBANA

- ◆ Você recebeu sua folha de respostas e este caderno contendo 60 questões objetivas.
- ◆ Confira seus dados impressos na capa deste caderno e na folha de respostas.
- ◆ Quando for permitido abrir o caderno, verifique se está completo ou se apresenta imperfeições. Caso haja algum problema, informe ao fiscal da sala.
- ◆ Leia cuidadosamente todas as questões e escolha a resposta que você considera correta.
- ◆ Marque, na folha de respostas, com caneta de tinta azul ou preta, a letra correspondente à alternativa que você escolheu.
- ◆ A duração da prova é de 3 horas e 30 minutos, já incluído o tempo para o preenchimento da folha de respostas.
- ◆ Só será permitida a saída definitiva da sala e do prédio após transcorridos 75% do tempo de duração da prova.
- ◆ Deverão permanecer em cada uma das salas de prova os 3 últimos candidatos, até que o último deles entregue sua prova, assinando termo respectivo.
- ◆ Ao sair, você entregará ao fiscal a folha de respostas e este caderno, podendo levar apenas o rascunho de gabarito, localizado em sua carteira, para futura conferência.
- ◆ Até que você saia do prédio, todas as proibições e orientações continuam válidas.

AGUARDE A ORDEM DO FISCAL PARA ABRIR ESTE CADERNO DE QUESTÕES.

Nome do candidato _____

Prédio _____

Sala _____

Carteira _____

Inscrição _____

CONHECIMENTOS GERAIS

LÍNGUA PORTUGUESA

01. Leia a tira, para responder à questão.



(Bill Watterson, *Tiras do Calvin*. Disponível em: <www.aprendizdeescritor.com.br>. Acesso em: 27 jan 2016)

Sabendo-se que a frase citada por Calvin é atribuída a Karl Marx, é correto afirmar que o efeito de sentido da tira está na ideia de que

- (A) a televisão faz apologia de drogas, tais como o ópio, à população, independentemente dos protestos da religião.
- (B) as drogas ainda não eram consumidas pela população mundial quando a frase citada foi escrita.
- (C) a televisão é o que exerce ação hipnótica sobre as faculdades intelectuais das pessoas.
- (D) a religião sinalizava o perigo da televisão, embora Marx não tivesse afirmado isso.
- (E) o ópio entorpece o povo, impedindo-o de apreciar o que há de bom atualmente na televisão.

Leia o texto, para responder às questões de números 02 a 08.

Mesmo os pouco observadores devem ter notado um novo aparelho na temporada de férias. Tecnologia de ponta? Só no sentido mais estritamente literal.

Neste ano, o “pau de selfie”, monopé que permite tirar autorretratos, conquistou o mercado dos viajantes. Não deixará de surpreender que em pleno 2015 o homem tenha redescoberto a utilidade tecnológica de um bastão.

Na pré-história, o homem vagou pelos bosques apoiando-se nele; milhares de anos depois, a moda volta, de forma distorcida: o instrumento que servia para conectar o homem com o que estava sob seus pés – a terra – e o apoiava, literalmente, para abrir passo pelo mundo se converteu em uma ligação com o mundo superior. Se eu não me vejo, como sei que existo? Esse novo cajado nos permite uma perspectiva aérea da existência.

O filósofo alemão Peter Sloterdijk explica que aquilo que nós entendemos por tecnologia é uma tentativa de substituir os sistemas imunológicos implícitos por sistemas imunológicos explícitos.

Em nossa época, os sistemas de defesa que criamos procuram nos isolar de um exterior que se nega a ceder à tendência individualista da sociedade. Por isso andamos de um lugar a outro sem renunciar nunca a nosso mundo: nos transformamos em uma sociedade de caranguejos-eremitas, carregando no lombo nossas casas. Sentados entre centenas de passageiros, nos protegemos, com nossos fones de ouvidos, celulares e vídeos, do encontro com o exterior. Agora, o “pau de selfie” nos permite tirar fotos sem a incômoda necessidade de interagir com estranhos. Nos transformamos em seres autossuficientes e, em decorrência disso, necessariamente antissociais.

A máxima ironia do mundo globalizado é a crescente insularidade do indivíduo. Como o exterior é impessoal, nos embrenhamos no interior; como a comunidade nos debilita, a individualidade se torna preponderante; é assim que a casa familiar dá lugar ao apartamento individual – e a autogamia moderna surge.

O fenômeno do “selfie” responde a essa condição insular e por isso se arraigou como a manifestação estética da revolução digital. O isolamento do indivíduo é tal que, liberto do voyeurismo*, teve de conceber um autovoyeurismo: nos tornamos paparazzi* de nós mesmos. O “selfie” procura esconder nossa natureza isolada e solitária sob o verniz da felicidade e do gozo.

(Emilio Lezama, *Paparazzi de nós mesmos*. *Folha de S.Paulo*, 30-08-2015. Adaptado)

***Voyeurismo**: forma de curiosidade mórbida com relação ao que é privativo, privado ou íntimo.

***Paparazzi**: fotógrafos que perseguem celebridades, para bater fotos indiscretas.

02. Na passagem – Tecnologia de ponta? Só no sentido mais estritamente literal. –, o autor faz referência ao sentido literal


- (A) para destacar a criatividade do novo objeto da temporada, especialmente pela sofisticação de seu emprego.
- (B) como ironia para expor a simplicidade da concepção do “pau de selfie”, por associação com a forma e o uso do objeto.
- (C) como reverência às modernas tecnologias de informática, destacando a relevância do “pau de selfie”.
- (D) como forma de identificar-se aos usuários das tecnologias digitais que são moda nas temporadas de férias.
- (E) para expor um ponto de vista favorável à utilidade do objeto nas mais variadas situações de uso.

03. Com a frase – Se eu não me vejo, como sei que existo? – o autor destaca, em tom irônico,
- (A) a irracionalidade dos meios digitais que levam o sujeito a enxergar-se como parte indissociável do grupo a que pertence.
 - (B) o gosto da autocontemplação como forma de anular o indivíduo, lançando-o na massa dos viciados em tecnologias.
 - (C) o sentimento de participação do sujeito, alcançado graças à globalização, que unifica interesses e gostos.
 - (D) o individualismo decorrente da adoção de mídias que favorecem o descolamento do sujeito do meio que o cerca.
 - (E) a presença de novos valores, que substituem a supremacia da razão pela demanda de objetos de satisfação da coletividade.
04. Assinale a alternativa em que existe, nesta ordem, um par de termos antônimos, como em **implícitos e explícitos** (I), e um par de termos sinônimos, como em **preponderante e dominante** (II).
- (A) ceder e resistir (I) / debilita e esmorece (II).
 - (B) isolamento e comunidade (I) / insularidade e insatisfação (II).
 - (C) incômoda e maçante (I) / liberto e cativo (II).
 - (D) conectar e desligar (I) / carreando e acareando (II).
 - (E) estritamente e contritamente (I) / suficiência e abastança (II).
05. Assinale a alternativa cujos verbos estão corretamente conjugados e cujos pronomes estão colocados na frase de acordo com a norma-padrão.
- (A) Talvez transformemos-nos em uma sociedade de caranguejos-eremitas, que carrea no lombo as casas.
 - (B) Provavelmente com isso nos mantêssemos protegidos do encontro com o exterior.
 - (C) Se eu nunca me vir, como saberei que outros me verão e intervirão, se necessário?
 - (D) ...como a comunidade debilitará-nos, até a individualidade se desfará.
 - (E) Nos tornaremos seres autossuficientes se nos dispormos ao isolamento?
06. A alternativa que se caracteriza pelo emprego das palavras destacadas em sentido figurado é:
- (A) Neste ano, o “**pau de selfie**”, **monopé** que permite tirar autorretratos, conquistou o mercado dos viajantes.
 - (B) Agora, o “pau de selfie” nos permite tirar fotos sem a **incômoda** necessidade de interagir com **estranhos**.
 - (C) Por isso **andamos** de um lugar a outro sem renunciar nunca a nosso **mundo**...
 - (D) Mesmo os pouco **observadores** devem ter notado um novo aparelho na **temporada** de férias.
 - (E) ... nos transformamos em uma **sociedade de caranguejos-eremitas**, carreando no lombo nossas casas.
07. Na passagem – O isolamento do indivíduo é tal que, liberto do voyeurismo, **teve de conceber um autovoyeurismo**... – o trecho destacado expressa, em relação ao que o antecede, a ideia de
- (A) finalidade.
 - (B) restrição.
 - (C) explicação.
 - (D) consequência.
 - (E) modo.
08. Assinale a alternativa que reescreve trecho da passagem a seguir sem prejuízo de sentido e com pontuação de acordo com a norma-padrão.
- Como o exterior é impessoal, nos embrenhamos no interior; como a comunidade nos debilita, a individualidade se torna preponderante; é assim que a casa familiar dá lugar ao apartamento individual – e a autogamia moderna surge.
- (A) Embrenhamo-nos no interior porque o exterior é impessoal, e a individualidade se torna preponderante visto que a comunidade nos debilita.
 - (B) A autogamia moderna surge, portanto, a casa familiar dá lugar, ao apartamento.
 - (C) Dado que nos embrenhamos no interior, o exterior é impessoal e a comunidade nos debilita, pois a individualidade, se torna preponderante.
 - (D) É assim que a casa familiar dá lugar ao apartamento individual, contanto, que a autogamia moderna surja.
 - (E) O exterior é impessoal embora nos embrenhemos no interior. A individualidade se torna preponderante apesar, de a comunidade, nos debilitar.

09. Assinale a alternativa que apresenta concordância nominal e verbal de acordo com a norma-padrão.

- (A) Já recebi bastante apelidos pejorativos, como “go-leiro de pebolim” e outros que o recato me impedem de mencionar.
- (B) Em alguns desses tantos cadastros que se faz no comércio, a atendente me disse que era preciso co-locar anexo uma foto recente.
- (C) Foi preciso pedir emprestado ao colega as requisi-ções de compras, pois ali não se encontravam ne-nhuma delas.
- (D) Entendi que bastavam eles fazerem o depósito até meio-dia e meio, para que não houvesse problemas.
- (E) É necessário paciência para ouvir o que mais de um reclamante tem a dizer acerca do atraso no atendi-mento.

10. Leia a tira, para responder à questão.



(Bill Watterson, Tiras do Calvin. Disponível em: <www1.folhaol.com.br>. Acesso em: 26 jan 2016)

A alternativa que preenche, correta e respectivamente, as lacunas do texto é:

- (A) Porque ... do que ... manter ... a
- (B) Por que ... a ... mantiver ... em
- (C) Por que ... à ... mantivesse ... em
- (D) Porque ... do que ... mantinha ... a
- (E) Por que ... à ... manter ... em

11. Do valor total de uma multa recebida após uma fiscaliza-ção tributária, uma empresa pagou $\frac{2}{5}$ e teve, anistiados,

$\frac{2}{5}$ do valor que restou. Se a empresa ainda deve pagar

R\$ 8.100,00 para quitar essa multa, então o valor original da multa recebida era

- (A) R\$ 18.100,00.
- (B) R\$ 20.400,00.
- (C) R\$ 22.500,00.
- (D) R\$ 26.300,00.
- (E) R\$ 30.200,00.

12. A caminhada diária de Denis dura exatamente n minutos. Sabe-se que na caminhada de sábado, ele percorreu, em média, 1,2 km a cada 12 minutos, e que, na caminhada de domingo, ele percorreu, em média, 1,35 km a cada 15 minutos. Desse modo, é correto afirmar que a distân-cia percorrida por Denis no domingo correspondeu, da distância percorrida no sábado, a:

- (A) $\frac{5}{4}$
- (B) $\frac{7}{6}$
- (C) $\frac{12}{13}$
- (D) $\frac{9}{10}$
- (E) $\frac{3}{4}$

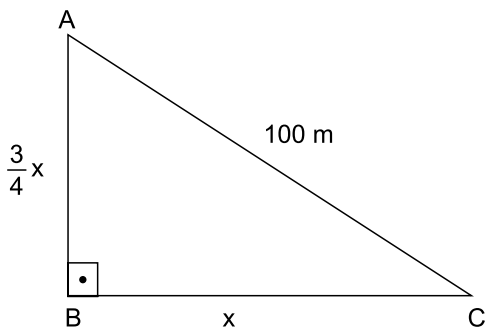
13. Em um município, há dois novos polos industriais, A e B, com 72 e 54 empresas, respectivamente. Para efeito de fiscalização, essas empresas deverão ser totalmente divi-didas em grupos. Todos os grupos deverão ter o mesmo número de empresas, sendo esse número o maior possí-vel, de modo que cada grupo tenha empresas de um só polo e que não reste nenhuma fora de um grupo. Nessas condições, o número de grupos formados será

- (A) 3.
- (B) 5.
- (C) 6.
- (D) 7.
- (E) 9.

14. Sabe-se que na confecção Sigma, em certo período, a razão do número de peças vendidas da linha feminina para o número de peças vendidas da linha masculina foi de 5 para 3, e que os preços médios unitários de venda das peças femininas e das peças masculinas foram, respectivamente, R\$ 68,00 e R\$ 60,00. Nessas condições, é correto afirmar que o preço médio unitário de todas as peças vendidas (masculinas e femininas), nesse período, foi
- (A) R\$ 66,00.
 - (B) R\$ 65,75.
 - (C) R\$ 65,00.
 - (D) R\$ 64,50.
 - (E) R\$ 64,00.
15. Verificando-se as movimentações ocorridas em uma conta corrente empresarial em um determinado período, constatou-se que o resultado da soma de todos os valores creditados e debitados tinha sido igual a 900 mil reais, e que o valor total creditado tinha superado o valor total debitado em 150 mil reais. A relação entre os valores totais creditados (C) e debitados (D), nesse período, é representada corretamente pela seguinte expressão:
- (A) $D = 0,75 C$.
 - (B) $D = 0,90 C$.
 - (C) $C = 1,15 D$.
 - (D) $C = 1,25 D$.
 - (E) $C = 1,40 D$.
16. Um número natural x , cujo quadrado menos dois terços deste quadrado resulta 12, indica a medida do lado de uma medalha esportiva, de formato quadrado. Nessas condições, o comprimento total do cordão preso à medalha, que corresponde a $12x$, é igual, em centímetros, a
- (A) 78.
 - (B) 72.
 - (C) 70.
 - (D) 66.
 - (E) 60.

17. Rafael comprou um imóvel por um determinado valor, e gastou uma quantia correspondente a 20% desse valor na reforma dele. Posteriormente, ele vendeu esse imóvel por R\$ 360.000,00, obtendo um lucro correspondente a 50% dos valores da compra e da reforma, somados. Nesse caso, é correto afirmar que o valor gasto por Rafael, na reforma desse imóvel, foi igual a
- (A) R\$ 48.000,00.
(B) R\$ 40.000,00.
(C) R\$ 36.000,00.
(D) R\$ 30.000,00.
(E) R\$ 28.000,00.

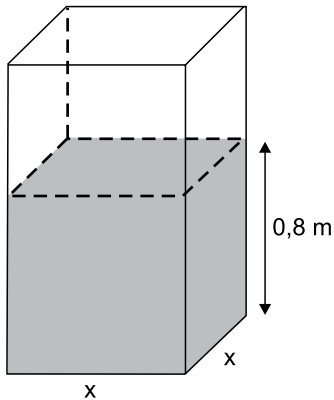
18. Em uma praça com a forma de um triângulo retângulo, a medida do lado \overline{AB} é igual a $\frac{3}{4}$ da medida do lado \overline{BC} , e o lado \overline{AC} mede 100 metros, conforme mostra a figura.



Nessas condições, é correto afirmar que a área dessa praça é igual, em m^2 , a

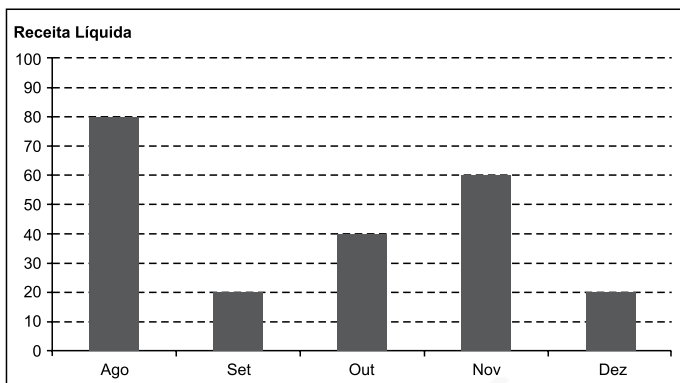
- (A) 2 400.
(B) 2 800.
(C) 3 200.
(D) 3 600.
(E) 4 800.

19. Uma torneira, com vazão constante de $0,02 \text{ m}^3$ por minuto, foi acionada para encher um reservatório com formato de um prisma reto retângulo de base quadrada e paredes de espessura desprezível, inicialmente vazio. Em 1 h 30 min, a altura do nível da água no reservatório atingiu $0,8 \text{ m}$, conforme mostra a figura.



O perímetro da base desse reservatório é igual, em metros, a

- (A) 6,0.
 (B) 5,6.
 (C) 5,2.
 (D) 4,8.
 (E) 4,4.
20. O gráfico mostra a Receita Líquida (RL) mensal, em milhões de reais, de certa empresa nos últimos cinco meses de 2015.



Sabe-se que, nesse período, o Lucro Líquido (LL) médio mensal foi de $6,6$ milhões de reais. O índice que mostra corretamente a relação $\frac{LL_{total}}{RL_{total}}$, no período considerado, é de

- (A) 0,185.
 (B) 0,18.
 (C) 0,17.
 (D) 0,165.
 (E) 0,15.

ATUALIDADES

21. Governo anuncia medidas adicionais para alcançar o reequilíbrio fiscal e melhorar as contas para 2016.

(blog do Planalto. <http://goo.gl/CXeIzP>, 14.09.2015)

Foram propostas para a diminuição de despesas e o aumento da arrecadação, respectivamente,

- (A) o adiamento do reajuste dos salários dos servidores públicos federais e a recriação da CPMF com alíquota de 0,2%.
 - (B) a interrupção do programa *Minha Casa Minha Vida* e a cobrança de imposto de renda para quem ganha mais de um salário mínimo nacional.
 - (C) o corte dos abonos aos salários dos servidores federais dos três poderes e uma nova tabela para a Previdência Social.
 - (D) a suspensão de concursos públicos nos níveis municipal, estadual e federal e a ampliação dos benefícios tributários concedidos às empresas.
 - (E) o fim do Programa de Aceleração do Crescimento e a criação de imposto sobre as grandes fortunas e os lucros bancários.
22. Entre muitos aplausos e lágrimas, ministros de 195 países aprovaram na noite de sábado (12.12) o "Acordo de Paris", primeiro marco jurídico universal de luta contra o aquecimento global. O documento histórico da 21ª Conferência do Clima (COP 21) das Nações Unidas terá caráter "legalmente vinculante", e define, pela primeira vez, um acordo válido para todas as nações.

(Estadão. <http://goo.gl/9UJspC>, 15.12.2015)

Esse acordo prevê que

- (A) os países do G5 financiarão sozinhos projetos de adaptação dos efeitos do aquecimento global nos países mais pobres.
- (B) as metas globais de redução da emissão de gases de efeito estufa sejam efetivadas, na ordem de 5% a cada ano até 2030.
- (C) os países desenvolvidos poderão manter os níveis industriais de emissão; os demais ficarão nos níveis pré-industriais.
- (D) os mecanismos de sanção econômica sejam aplicados a países que não respeitarem as metas de emissão definidas em Paris.
- (E) os países deverão organizar estratégias para limitar, a menos de 2 °C, o aumento da temperatura média global.

23. O país anunciou nesta quarta-feira (06.01), em sua emissora de televisão estatal, que realizou seu primeiro teste com uma bomba nuclear de hidrogênio, pouco depois que um terremoto de magnitude 5,1 foi detectado no nordeste do país como consequência da detonação atômica. Este seria o primeiro teste realizado com uma arma termonuclear, cuja detonação é muito mais poderosa que a dos dispositivos atômicos utilizados em seus três experimentos anteriores.

(Terra. <http://goo.gl/8ybpvD>. 06.01.2016. Adaptado)

O Conselho de Segurança da ONU condenou fortemente, em reunião neste domingo (07.02), o lançamento de um foguete pelo país. Acredita-se que possa ter sido um teste de um míssil balístico intercontinental.

(G1. <http://goo.gl/s2b8HI>, 07.02.2016. Adaptado)

As notícias referem-se

- (A) à China.
 - (B) à Coreia do Norte.
 - (C) à Índia.
 - (D) ao Irã.
 - (E) ao Paquistão.
24. A Petrobras voltou ao nível de 1999 no mercado de ações. Os papéis preferenciais da companhia despencaram 7% nesta segunda-feira (18.01), para R\$ 4,80. Ajustado pela inflação, o valor é o menor desde agosto de 1999. Sem considerar a inflação, as ações atingiram o menor patamar desde novembro de 2003.

(Folha-Uol. <http://goo.gl/mhy2DR>, 19.01.2016)

Essa situação da Petrobras é explicada

- (A) pelas indenizações pagas pela empresa aos Estados Unidos, pela baixa cambial e pela explosão de plataformas na bacia de Campos.
- (B) pela alta cotação internacional do petróleo, pela mudança na presidência da empresa e pela recessão do país.
- (C) pela volta do Irã como fornecedor ao mercado mundial, pela megacapitalização da empresa e pela valorização do real.
- (D) pela queda do preço do petróleo, pela corrupção revelada na Operação Lava Jato e pelo endividamento da empresa.
- (E) pela concorrência da Venezuela, pelo fracasso da extração do pré-sal na bacia de Santos e pelo fim dos investimentos na empresa.

25. Julian Assange afirmou, nesta sexta-feira (05.02), falando na embaixada do Equador em Londres, que o Reino Unido e a Suécia devem aplicar a decisão do comitê legal da ONU.


“Corresponde agora aos Estados da Suécia e do Reino Unido em seu conjunto implementar o veredicto”, afirmou à imprensa por videoconferência junto a sua equipe de advogados.

(G1. <http://goo.gl/6Rfpx>, 05.02.2016. Adaptado)

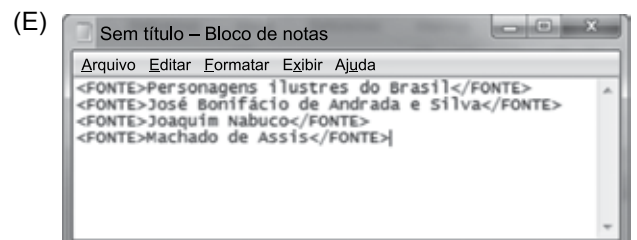
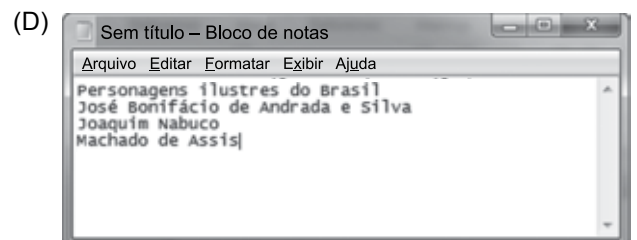
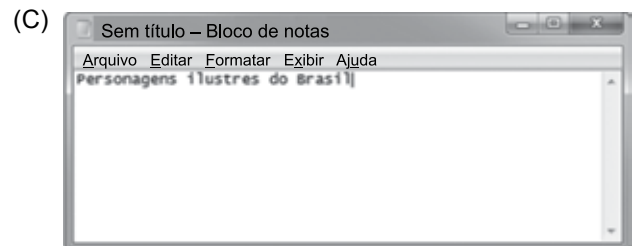
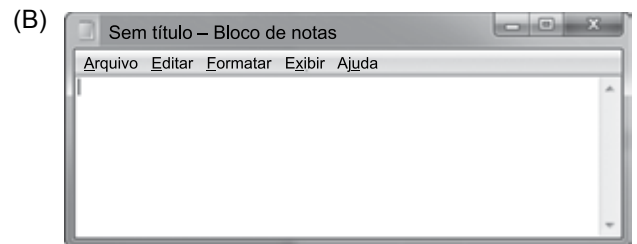
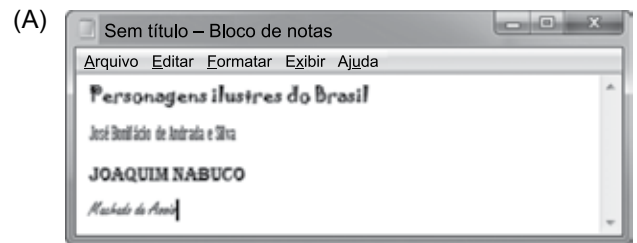
O comitê da ONU

- (A) concluiu que a Suécia e o Reino Unido prejudicaram os negócios de Assange no Equador, ao analisar documentos diplomáticos divulgados pelo site *WikiLeaks*.
- (B) afirmou que Assange foi vítima de perseguição política na Suécia, seu país natal, ao revelar que o governo do país fazia o monitoramento de telefones e dados da internet.
- (C) considerou que Assange foi detido arbitrariamente pelo Reino Unido, que autorizou sua extradição, e pela Suécia, onde ele é investigado por crimes sexuais.
- (D) determinou o pagamento de uma indenização por danos materiais a Assange, por concluir que o Reino Unido impediu que ele continuasse a trabalhar no país como jornalista.
- (E) aprovou a viagem de Assange aos Estados Unidos, onde ele será testemunha no processo contra empresários do Reino Unido e da Suécia acusados de corrupção na Fifa.

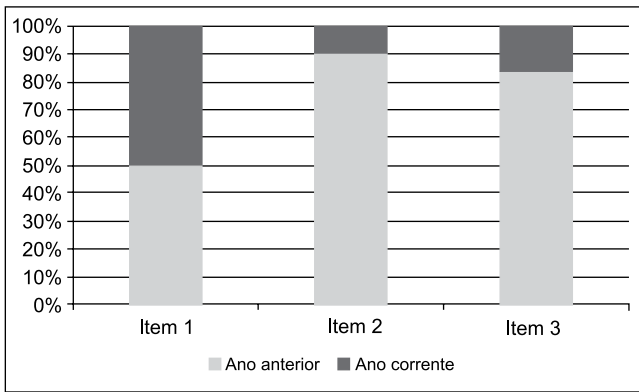
26. Um usuário editou um documento no Microsoft Word 2010, em sua configuração padrão, utilizando-se de diferentes fontes de letra e pressionando ENTER ao final de cada linha, conforme imagem a seguir.



Se o usuário selecionar todas as quatro linhas, pressionar CTRL+C, abrir o bloco de notas do Windows 7, em sua configuração original, e pressionar CTRL+V, o resultado será o seguinte:



27. Assinale a alternativa que apresenta o nome correto do gráfico a seguir, criado no Microsoft Excel 2010, em sua configuração padrão.



- (A) Barras empilhadas
- (B) Área
- (C) Colunas 100% empilhadas
- (D) Dispersão XY
- (E) Superfície

28. No Microsoft Word 2010, em sua configuração padrão, um documento com as margens superior e inferior contendo 2,5 cm, e esquerda e direita com 3 cm, tem a aparência a seguir:



Se um usuário configurar as margens como superior com 15 cm, inferior 2,5 cm, esquerda 10 cm e direita 3 cm, a aparência será da seguinte forma:

- (A)
- (B)
- (C)
- (D)
- (E)

29. Tem-se a planilha a seguir criada no Microsoft Excel 2010, em sua configuração original.

	A	B	C	D
1	1	1	1	
2	1	1	1	
3	1	1	1	
4				
5	9			
6				

Assinale a alternativa que apresenta a fórmula correta que foi aplicada na célula A5 para gerar o resultado 9.

- (A) =CONT.SE(A1:C3;">1")
- (B) =MÁXIMO(A1:C3)
- (C) =SOMASE(A1:C3)
- (D) =MÍNIMO(A1:C3)
- (E) =CONTAR(A1:C3)

30. Um usuário abriu o navegador de Internet Microsoft Internet Explorer 11, em sua configuração original, e acessou o site Google na única aba existente. Depois, na mesma aba, acessou o site da Vunesp. Clicou no link *Quem somos*, que carrega uma página HTML de informações da Vunesp, mantendo a tecla CTRL pressionada e depois clicou no botão *Voltar* do navegador. Assinale a alternativa que apresenta o resultado correto desta última ação.

- (A) O navegador retornou para a página principal do site da Vunesp.
- (B) O navegador retornou para a página do Google.
- (C) O navegador foi encerrado.
- (D) Não aconteceu nada, pois o botão *Voltar* estava inativo.
- (E) O navegador abriu a aba *Quem somos*.

CONHECIMENTOS ESPECÍFICOS

- 31.** Assinale a alternativa que apresenta o Princípio do Direito Ambiental que consta na Constituição Federal de 1988.
- (A) Princípio da intervenção privada obrigatória na ação do estado em nome da defesa ao meio ambiente.
 - (B) Princípio da supremacia da função econômica com relação à função social da propriedade.
 - (C) Princípio da indisponibilidade do interesse público na proteção do meio ambiente.
 - (D) Princípio da preservação de ganhos em função das degradações sociais.
 - (E) Princípio da cooperação internacional em matéria ambiental, salvo prejuízos econômicos.
- 32.** Segundo o art. 225, parágrafo 3º, da Constituição Federal de 1988, as atividades e condutas lesivas ao meio ambiente sujeitarão os infratores, pessoas físicas ou jurídicas,
- (A) às sanções penais e administrativas, sem obrigação de reparar os danos causados.
 - (B) às multas estabelecidas pelo código ambiental, sem obrigação de reparar os danos causados.
 - (C) às sanções penais e administrativas ou à reparação dos danos causados.
 - (D) às sanções penais e administrativas, independentemente da obrigação de reparar os danos causados.
 - (E) sempre às sanções penais e às administrativas, quando comprovadas a intenção de causar danos.
- 33.** O Princípio da Prevenção de Danos e Degradações Ambientais decorre da constatação de que as agressões ao meio ambiente são, em regra,
- (A) de fácil reparação ambiental, mas de difícil reparação social.
 - (B) de difícil ou impossível reparação.
 - (C) de difícil fiscalização.
 - (D) de custos econômicos muito elevados para um país em desenvolvimento.
 - (E) compensadas pelas atividades econômicas.
- 34.** É correto afirmar que os danos causados ao Meio Ambiente estão sujeitos a
- (A) Responsabilidade Administrativa: resultado de prática de infração de pessoa física às normas de pessoa jurídica, necessariamente de direito privado, sendo, neste caso, a pessoa física a única penalizada.
 - (B) Responsabilidade Administrativa: resultado de prática de infração de pessoa física às normas de pessoa jurídica de direito público ou privado, sendo, neste caso, a pessoa jurídica a única penalizada.
 - (C) Responsabilidade Administrativa: resultado de prática de infração a normas administrativas sobre o meio ambiente, sujeitando os infratores a sofrer punições que podem ampliar os limites de sua competência.
 - (D) Responsabilidade Civil: resultado de prática de infração atribuindo ao poluidor e ao predador a responsabilidade de indenizar ou reparar os danos causados ao meio ambiente e a terceiros por sua atividade nociva, independentemente de culpa.
 - (E) Responsabilidade Civil: resultado de prática de infração atribuindo ao poluidor e ao predador a responsabilidade de indenizar ou reparar os danos causados ao meio ambiente e a terceiros por sua atividade nociva, salvo os casos em que se prove a ausência de intenção criminal.
- 35.** Segundo o artigo 30 da Constituição de 1988, compete ao município promover, no que couber, adequado ordenamento territorial, mediante planejamento e controle do uso, do parcelamento e da ocupação do solo urbano. O estabelecimento dessa prerrogativa de agir sobre o ordenamento territorial implica, por exemplo, que
- (A) o Município seja o único ente federativo que pode legislar sobre o território urbano.
 - (B) o Estado tenha a prerrogativa de legislar sobre o território urbano, mas o município pode atuar também neste campo.
 - (C) as normas, estabelecidas pelo Estado, somente tenham efeito sobre a regulamentação do solo urbano caso o Município não trabalhe sobre a matéria.
 - (D) o Estado deva estabelecer normas específicas de modo a controlar as legislações municipais, normalmente fragilizadas pela competência de vereadores mal formados.
 - (E) o Estado, ao legislar sobre questões de ordenamento territorial urbano, procure estabelecer normativas em forma de diretrizes gerais, sob pena de tornarem inócua a competência municipal.

36. De acordo com a Lei nº 6.938/81, entende-se por meio ambiente
- (A) todas as águas interiores ou costeiras, superficiais ou subterrâneas, o ar e o solo.
 - (B) os recursos hídricos, a atmosfera, o solo, o subsolo, a flora e a fauna, sem exclusão do ser humano.
 - (C) o conjunto de condições, leis, influências e interações de ordem física, química e biológica, que permite, abriga e rege a vida em todas as suas formas.
 - (D) a interação de fatores físicos, químicos e biológicos que condicionam a existência de seres vivos e de recursos naturais e culturais.
 - (E) o espaço onde se desenvolvem as atividades humanas e a vida dos animais e vegetais.
37. Assinale alternativa correta referente às etapas do licenciamento ambiental para empreendimentos de grande impacto.
- (A) LP – Licença Prévia: é fornecida após a instalação do empreendimento e se transforma em Licença de Operação depois de verificada as condições reais da operação.
 - (B) LO – Licença de Obra: refere-se à permissão de início das obras do empreendimento após a aprovação dos respectivos estudos de viabilidade ambiental.
 - (C) LO – Licença de Operação: é concedida concomitantemente com a LI – Licença de Instalação – de forma a não acarretar prejuízos econômicos para o empreendedor.
 - (D) LI – Licença de Instalação: é concedida após a aprovação dos Estudos de Impacto Ambiental, cabendo ao órgão emissor da licença estabelecer condicionantes.
 - (E) LI – Licença de Instalação: refere-se à instalação de equipamentos de monitoramento para o desenvolvimento dos estudos de viabilidade ambiental do empreendimento.
38. A Constituição do Estado de São Paulo estabelece como características suficientes para o estabelecimento de região metropolitana o agrupamento de Municípios limítrofes que assumam destacada expressão nacional, em razão de
- (A) elevada densidade demográfica, significativa conurbação e de funções urbanas e regionais com alto grau de diversidade, especialização e integração socioeconômica.
 - (B) elevada densidade demográfica, moderada conurbação e de funções urbanas e regionais com tendências a diversidade, especialização e desintegração socioeconômica.
 - (C) significativa conurbação e de funções urbanas e regionais com tendências a especialização e integração socioeconômica.
 - (D) interação funcional de natureza físico-territorial, econômico-social e administrativa, exigindo planejamento setorial.
 - (E) interação funcional de natureza físico-territorial, econômico-social e administrativa, exigindo planejamento integrado.
39. Segundo a Lei Complementar nº 760/94 do Estado de São Paulo, em cada unidade regional funcionará um Conselho de Desenvolvimento, de caráter normativo e _____, composto por _____ de cada Município que a integra e por representantes _____ nos campos funcionais de interesse comum.
- Assinale a alternativa que preenche, correta e respectivamente, as lacunas do texto.
- (A) consultivo ... 1 (um) representante ... do Estado
 - (B) consultivo ... 1 (um) representante ... da Federação
 - (C) consultivo ... 2 (dois) representantes ... da Federação
 - (D) deliberativo ... 3 (três) representantes ... do Estado
 - (E) deliberativo ... 1 (um) representante ... do Estado
40. De acordo com a Lei Complementar nº 760/94 do Estado de São Paulo, o Conselho de Desenvolvimento tem como atribuição, dentre outras,
- (A) especificar os serviços públicos de interesse comum do Estado e dos Municípios na unidade regional.
 - (B) aprovar planos e projetos, compatibilizando-os com os objetivos dos Municípios.
 - (C) aprovar os termos de referência e o subsequente plano territorial elaborado por cada município que o integra.
 - (D) apreciar planos, programas e projetos, públicos ou privados, relativos à realização de obras, empreendimentos e atividades que tenham impacto ambiental de qualquer abrangência.
 - (E) integrar, aprovar e encaminhar, em tempo útil, propostas municipais relativas ao plano plurianual, à lei de diretrizes orçamentárias e à lei orçamentária anual.

- 41.** Constitui(em) recursos do Fundo de Desenvolvimento da Região Metropolitana de São Paulo
- (A) 1,5% das transferências da União, destinadas à execução de planos, programas e projetos de interesse dos municípios que a integram.
 - (B) empréstimos de pessoas jurídicas de direito privado, sendo vedados os produtos das operações de crédito e rendas provenientes da aplicação de seus recursos.
 - (C) receitas resultantes de aplicação de porcentagem a ser estabelecida por regulamentação específica sobre multas ambientais aplicadas por município que a integra.
 - (D) recursos decorrentes do rateio de custos referentes à execução de serviços e obras, considerados de interesse comum.
 - (E) doações de pessoas físicas ou jurídicas, públicas ou privadas, nacionais, estrangeiras ou multinacionais mediante contrapartida de isenção de análise ambiental de empreendimento específico.
- 42.** Segundo o artigo 182, parágrafo segundo, da Constituição de 1988, a propriedade urbana cumpre sua função social quando atende às exigências fundamentais
- (A) de equidade social expressas na Lei Orgânica do Município.
 - (B) de sustentabilidade expressas no Plano Ambiental.
 - (C) de ordenação da cidade expressas no Plano Diretor.
 - (D) de ordenação da cidade expressas na Lei de Zoneamento.
 - (E) de ordenação da cidade expressas no Estatuto da Cidade.
- 43.** O Estatuto da Cidade (Lei nº 10.257) torna obrigatório o desenvolvimento do Plano Diretor para uma quantidade maior de municípios se comparado à Constituição de 1988; isso ocorre porque o estatuto passa a exigí-lo também para cidades
- (A) sem plano de saneamento ambiental.
 - (B) sem Plano de Habitação de Interesse Social.
 - (C) sem Fundo de Desenvolvimento.
 - (D) com mais de vinte mil habitantes enquanto a constituição determinava apenas para cidades com vinte e cinco mil habitantes.
 - (E) inseridas na área de influência de empreendimentos com significativo impacto ambiental de âmbito regional.
- 44.** A Constituição de 1988 e a legislação federal vigente definem a obrigatoriedade do desenvolvimento dos Planos Diretores Municipais para municípios
- (A) que contêm, em sua área urbana, imóveis de interesse histórico.
 - (B) integrantes de área especial de interesse turístico.
 - (C) que pretendam desenvolver planos de acesso às rodovias e ferrovias federais.
 - (D) que estejam inseridos em microregiões estaduais.
 - (E) nos quais o prefeito pretende concorrer à reeleição.
- 45.** É correto afirmar que o
- (A) direito de propriedade determina a função social da propriedade.
 - (B) direito de uso do solo urbano é indissociável ao direito de propriedade.
 - (C) direito de propriedade é indissociável da sua função social.
 - (D) princípio da função social, isto é, o entendimento que o direito de propriedade não poderá ser exercido contra o interesse social ou coletivo surgiu pela primeira vez na Constituição de 1988.
 - (E) direito de uso do solo urbano é outorgado no momento da compra de uma propriedade urbana.
- 46.** É correto afirmar que os critérios que determinam o cumprimento da função social de uma propriedade urbana
- (A) varia conforme o estabelecido no Plano Diretor de cada município.
 - (B) varia conforme o estabelecido na lei orgânica de cada Estado da federação.
 - (C) varia conforme o estabelecido na lei orgânica de cada Município.
 - (D) está estabelecido no Estatuto da Cidade.
 - (E) está estabelecido na Constituição de 1988.
- 47.** O Estatuto da Cidade foi criado para
- (A) regulamentar os usos das áreas urbanas nas cidades até 20000 habitantes.
 - (B) regulamentar os instrumentos urbanísticos previstos na Constituição de 1988.
 - (C) regulamentar as prerrogativas das instâncias federativas.
 - (D) estabelecer a obrigatoriedade do desenvolvimento do Plano Diretor para todos os municípios brasileiros.
 - (E) estabelecer a obrigatoriedade do desenvolvimento do Plano de Saneamento para todos os municípios.

48. Segundo a legislação, áreas urbanas com mais de _____, ocupadas por população _____ para sua moradia, por _____, ininterruptamente e sem oposição, onde não for possível identificar os terrenos ocupados por cada possuidor, são susceptíveis de serem usucapidas coletivamente, desde que os possuidores não sejam _____ de outro imóvel urbano ou rural.

Assinale a alternativa que preenche, correta e respectivamente, as lacunas do texto.

- (A) 250 m² ... de baixa renda ... 5 anos ... proprietários
- (B) 250 m² ... com renda familiar menor que 1 salário mínimo ... 10 anos ... proprietários
- (C) 500 m² ... de baixa renda ... 20 anos ... proprietários
- (D) 1000 m² ... com renda familiar menor que 1 salário mínimo ... 5 anos ... ocupantes
- (E) 1000 m² ... de baixa renda ... 7 anos ... ocupantes

49. Caso uma propriedade urbana não cumpra sua função social, ela pode vir a ser

- (A) ocupada por população de baixa renda sem que o proprietário tenha direito a contestar.
- (B) requerida pelo poder público municipal sem que o proprietário tenha direito de ser indenizado.
- (C) desapropriada pelo poder público, sem direito de indenização ao proprietário, 5 anos após a devida notificação.
- (D) objeto de aplicação do IPTU progressivo no tempo que aumenta o referido imposto progressivamente por 5 anos.
- (E) objeto de aplicação do direito de preempção que confere o direito de uso do imóvel pelo poder público municipal ou a empreendedor que adquira a licença de uso na prefeitura.

50. A Concessão de Uso Especial é um instrumento urbanístico que visa estabelecer

- (A) concessões nas leis de uso e ocupação aprovadas nas instâncias municipais.
- (B) concessões de uso e ocupação do solo estabelecidos por uma operação urbana.
- (C) concessões de uso e ocupação do solo em áreas de interesse ambiental.
- (D) a regularização fundiária de áreas públicas e privadas.
- (E) a regularização fundiária de áreas públicas.

51. O Parcelamento, Edificação ou Utilização Compulsórios, quando aplicado, é de caráter

- (A) obrigatório, quando não cumpre sua função social.
- (B) obrigatório, quando o imóvel não atinge o coeficiente máximo estabelecido pela legislação local.
- (C) obrigatório no caso de áreas públicas ocupadas por população de baixa renda.
- (D) facultativo no caso de áreas privadas ocupadas por população de baixa renda.
- (E) facultativo no caso de áreas públicas de interesse ambiental.

52. O Consórcio Imobiliário, previsto no Estatuto da Cidade, tem por finalidade

- (A) fazer com que mutuários façam compulsoriamente uma poupança antes de adquirirem a casa própria.
- (B) ser um Instrumento de cooperação entre o poder público e a iniciativa privada para fins de urbanização.
- (C) ser um Instrumento de cooperação entre a população de baixa renda na realização de mutirões para a construção da casa própria.
- (D) promover empregos do setor da construção civil ao possibilitar a aquisição da casa própria por meio de consórcio.
- (E) promover a sinergia entre as empresas da construção civil de modo a formar grandes conglomerados que tenham a capacidade de diminuir os custos da casa própria.

53. O Direito de Preempção, instrumento urbanístico regulamentado pelo Estatuto da Cidade, tem como objetivo conceder

- (A) ao proprietário ou concessionário o direito à exploração do subsolo em área rural.
- (B) exclusivamente ao proprietário o direito à exploração do subsolo em área urbana.
- (C) o direito de preferência em adquirir o imóvel à Administração Pública.
- (D) o direito de preferência à Administração Pública nos processos de reintegração de posse.
- (E) o direito de preferência ao proprietário no momento de optar por parcelar ou edificar o solo urbano que não está cumprindo a função social.

54. O instrumento urbanístico, regulamentado pelo Estatuto da Cidade, denominado Outorga Onerosa do Direito de Construir
- outorga ao proprietário o direito de construir em áreas de interesse ambiental.
 - outorga ao proprietário o direito de construir utilizando coeficiente de aproveitamento que poderá variar entre os coeficientes de aproveitamento básico e máximo, mediante pagamento de taxa.
 - outorga ao proprietário o direito de construir além do coeficiente de aproveitamento máximo permitido mediante pagamento de taxa, sendo o limite estabelecido caso a caso.
 - obriga o proprietário a pagar taxas para construir de forma que a municipalidade consiga recuperar a mais valia do solo.
 - obriga o proprietário a construir e cobra taxas até a propriedade passar a cumprir a sua função social.
55. A Operação Urbana Consorciada, instrumento urbanístico previsto no Estatuto da Cidade, tem como objetivo promover
- a mobilidade urbana entre cidades.
 - o desenvolvimento urbano na área delimitada pelo instrumento urbanístico.
 - o interesse privado em áreas onde o solo urbano é público.
 - a criação de ZEIS – Zonas Especiais de Interesse Social – localizadas nos diferentes bairros.
 - o desenvolvimento econômico das empresas inseridas no perímetro da operação.
56. Em uma área central de uma cidade brasileira, existe um patrimônio arquitetônico privado formado por casarios históricos que a prefeitura e sua população desejam preservar. O valor do solo urbano e a possibilidade do adensamento construtivo permitido pela legislação local pressiona a transformação da área e a consecutiva demolição dos casarios históricos não tombados. Qual instrumento urbanístico se mostra pertinente para incentivar os proprietários a não demolir os imóveis?
- Usucapião urbano.
 - IPTU progressivo no tempo.
 - Outorga Onerosa do Direito de Construir.
 - Transferência do Direito de Construir.
 - Parcelamento e Edificação Compulsória.
57. O Estatuto da Cidade determina que o Estudo de Impacto de Vizinhança deve incluir na análise, no mínimo: I – adensamento populacional; II – equipamentos urbanos e comunitários; III – uso e ocupação do solo; IV – valorização imobiliária;
- V – geração de tráfego e demanda por transporte público; VI – ventilação e iluminação; VII – paisagem urbana e patrimônio natural e cultural.
 - V – geração de tráfego e demanda por transporte público; VI – iluminação e drenagem; VII – paisagem urbana e rural.
 - V – geração de tráfego e demanda por transporte público; VI – ventilação e iluminação; VII – reuso dos recursos hídricos.
 - V – Habitação de Interesse Social; VI – saneamento básico; VII – reuso dos recursos hídricos.
 - V – Habitação de Interesse Social; VI – saneamento básico; VII – paisagem urbana e rural.
58. É correto afirmar que as Zonas Especiais de Interesse Social para fins de moradia devem ser adotadas **somente** em áreas:
- públicas onde o poder público pode intervir.
 - privadas que não estão cumprindo a sua função social.
 - desocupadas e de interesse ambiental.
 - onde ocorreram ocupações irregulares.
 - inseridas dentro do perímetro urbano.
59. “Instrumento urbanístico que autoriza, por meio de licitação, o vencedor do certame a executar obras de urbanização, obtendo remuneração mediante a exploração dos terrenos e edificações destinados ao uso privado. O vencedor do certame também se responsabiliza pelo pagamento de qualquer indenização ou desapropriação necessárias para a execução de um plano urbanístico autorizado pelo poder público.”
- A que instrumento urbanístico se refere essa descrição.
- Parceria público-privada.
 - Consórcio Imobiliário.
 - Concessão Urbanística.
 - Operação Consorciada.
 - Direito de Preempção.
60. Nos casos críticos de poluição que necessitam de promover realocação de Indústrias, a Lei nº 6.803/80 prevê que as zonas destinadas à instalação de indústrias serão classificadas em três categorias de zonas de uso:
- não industrial; industrial; e diversificado.
 - químico-industrial; mecânico-industrial; e agroindustrial.
 - agroindustrial; industrial da tecnologia da informação; e diversificado.
 - industrial pesado; industrial leve; e industrial não poluente.
 - estritamente industrial; predominantemente industrial; e diversificado.

PCI Concursos