



CONCURSO PÚBLICO

001. PROVA OBJETIVA

AGENTE PREVIDENCIÁRIO

- ◆ Você recebeu sua folha de respostas e este caderno contendo 50 questões objetivas.
- ◆ Confira seus dados impressos na capa deste caderno e na folha de respostas.
- ◆ Quando for permitido abrir o caderno, verifique se está completo ou se apresenta imperfeições. Caso haja algum problema, informe ao fiscal da sala.
- ◆ Leia cuidadosamente todas as questões e escolha a resposta que você considera correta.
- ◆ Marque, na folha de respostas, com caneta de tinta azul ou preta, a letra correspondente à alternativa que você escolheu.
- ◆ A duração da prova é de 3 horas, já incluído o tempo para o preenchimento da folha de respostas.
- ◆ Só será permitida a saída definitiva da sala e do prédio após transcorridos 75% do tempo de duração da prova.
- ◆ Ao sair, você entregará ao fiscal a folha de respostas e este caderno, podendo levar apenas o rascunho de gabarito, localizado em sua carteira, para futura conferência.
- ◆ Até que você saia do prédio, todas as proibições e orientações continuam válidas.

AGUARDE A ORDEM DO FISCAL PARA ABRIR ESTE CADERNO DE QUESTÕES.

Nome do candidato _____

RG _____ Inscrição _____ Prédio _____ Sala _____ Carteira _____

CONHECIMENTOS GERAIS

LÍNGUA PORTUGUESA

Leia o texto para responder às questões de números **01** a **06**.

Cresce preocupação de investidores com sustentabilidade

Pesquisa da consultoria Ernst & Young mostra que cada vez mais os investidores consideram dados socioambientais e de governança antes de decidir pôr dinheiro em uma empresa.

No ano passado, 68% disseram que essas informações têm papel **fundamental** na escolha do destino final dos recursos. É **uma evolução** em relação a 2015, quando 52% afirmavam atentar para essas questões.

A consultoria ouviu 320 investidores ao redor do mundo, sendo um terço deles com mais de US\$ 10 bilhões em ativos sob gestão.

No Brasil, uma das tentativas de estabelecer **parâmetros** sobre esses dados para o mercado financeiro vem do Índice de Sustentabilidade da Bolsa. Os dados comparam o desempenho de empresas sob aspectos como eficiência econômica, equilíbrio ambiental, justiça social e governança corporativa. Desde que foi lançado, esse Índice já acumula valorização de 154,6%.

Para H. Bueno, da EY, escândalos ambientais e sociais recentes – e as consequências desses casos sobre as ações das empresas – fazem com que a sustentabilidade ganhe mais espaço dentro das corporações.

O estudo cita o episódio envolvendo uma grande fabricante de veículos, que usava um software para **manipular** testes de verificação das emissões de gases poluentes pelos veículos da montadora.

Nos dias seguintes às denúncias, as ações da empresa chegaram a desvalorizar 42,2%.

O mercado e os consumidores cobram **idoneidade** das companhias. “O consumidor tem uma reação imediata em parar de consumir o produto de empresas que estão envolvidas em corrupção e em algum tipo de manipulação. A sustentabilidade é um caminho sem volta. As empresas precisam transitar por esse caminho, senão vão ser penalizadas no mercado consumidor ou na capacidade de receber investimentos”, afirma Bueno.

(Danielle Brant. *Folha de S.Paulo*, 07.08.2017. Adaptado)

01. Assinale a afirmação correta a respeito do texto.

- (A) Os dados da consultoria comprovam que não houve alteração no número de investidores que dão importância a questões socioambientais.
- (B) Os consumidores não deveriam, mas têm se comportado com total indiferença perante as ações ilícitas de empresas associadas à corrupção.
- (C) O Índice de Sustentabilidade da Bolsa acumulou valorização de mais de 150% graças aos empresários estrangeiros que têm aplicado dinheiro no Brasil.
- (D) A consultoria restringiu sua pesquisa aos pequenos investidores, pois são eles que movimentam o mercado consumidor brasileiro.
- (E) A queda significativa do valor das ações comercializadas na Bolsa é um dos prejuízos para empresas ligadas a práticas desonestas.

02. De acordo com as ideias do quarto parágrafo, os dados do Índice de Sustentabilidade da Bolsa estão baseados

- (A) no montante financeiro que as companhias podem investir em ações de alto risco.
- (B) nas pesquisas realizadas por empresas internacionais de consultoria.
- (C) na avaliação das empresas quanto a quesitos como seriedade administrativa.
- (D) nos investidores que possuem mais de 10 bilhões disponíveis para empréstimos.
- (E) no aumento da exportação de produtos brasileiros para diferentes continentes.

03. Assinale a alternativa em que a expressão entre parênteses pode substituir, sem alteração de sentido, a expressão destacada no trecho selecionado do texto.

- (A) ... essas informações têm papel **fundamental** na escolha do destino final dos recursos. (irrelevante)
- (B) É **uma evolução** em relação a 2015, quando 52% afirmavam atentar para essas questões. (uma suposição)
- (C) No Brasil, uma das tentativas de estabelecer **parâmetros** sobre esses dados para o mercado... (critérios)
- (D) ... que usava um software para **manipular** testes de verificação das emissões de gases... (antecipar)
- (E) O mercado e os consumidores cobram **idoneidade** das companhias. (produtividade)

04. Assinale a alternativa em que a frase está redigida em conformidade com as ideias do texto.

- (A) A credibilidade de uma empresa fica comprometida quando escândalos socioambientais são descobertos, por isso a preocupação com a sustentabilidade vem sendo muito valorizada.
- (B) A credibilidade de uma empresa fica comprometida caso escândalos socioambientais sejam descobertos, embora a preocupação com a sustentabilidade não venha sendo muito valorizada.
- (C) A credibilidade de uma empresa fica comprometida mesmo que escândalos socioambientais sejam descobertos, porém a preocupação com a sustentabilidade vem sendo muito valorizada.
- (D) A credibilidade de uma empresa fica comprometida antes que escândalos socioambientais sejam descobertos, entretanto a preocupação com a sustentabilidade vem sendo muito valorizada.
- (E) A credibilidade de uma empresa fica comprometida enquanto escândalos socioambientais são descobertos, todavia a preocupação com a sustentabilidade não vem sendo muito valorizada.

05. Considere a frase.

O consumidor costuma imediatamente _____ adquirir produtos de empresas que _____ corrupção ou algum tipo de manipulação.

De acordo com a norma-padrão da língua portuguesa, as lacunas da frase devem ser preenchidas, respectivamente, por:

- (A) se recusar de ... estão implicadas em
- (B) se eximir de ... têm elo à
- (C) se abster com ... têm vínculos em
- (D) se negar a ... estão comprometidas com
- (E) se furtar com ... têm ligação à

06. Assinale a alternativa correta quanto à concordância verbal e nominal prevista pela norma-padrão.

- (A) Os testes para verificar se a emissão de gases poluentes eram adequadas foram falsificados pela montadora.
- (B) A sustentabilidade é essencial para corporações que desejam estar alinhadas com as expectativas dos consumidores.
- (C) Os investidores, antes de aplicar seu dinheiro nas empresas, analisa se elas seguem padrões administrativo corretos.
- (D) Eficiência econômica, justiça social e governança corporativa são valores, hoje em dia, muito prestigiado pela sociedade.
- (E) A honestidade e a eficiência na gestão administrativa têm sido imprescindível para os consumidores conscientes dos seus direitos.

Leia o texto para responder às questões de números 07 a 13.

A idade das palavras

Já cansei de ver gente madura falando gíria para parecer jovem. O trágico é que, em geral, a **gíria** é velha, daí que é terrível ver uma senhora madura e **plastificada** dizendo “Eu sou prafrentex!”.

Esse termo foi usado nos anos 60 para dizer que uma jovem aceitava comportamentos mais ousados, tipo viajar no fim de semana para a praia com um grupo de amigos, o máximo de liberdade imaginável até então.

Mas agora é passado... Assim como as variações para falar de homem bonito. Houve época em que era “pão”, agora se usa gato, se não estou atrasado... Volta e meia noto alguém exclamar à passagem de um homem atlético: “Ai, que pão!”.

Esse é o mal das gírias. Marcam a juventude de cada um. O tempo passa, mas fica difícil mudar o modo de falar.

Lembro o sucesso de “boko moko”, **criado** por uma marca de refrigerante para rotular de cafona quem não tomava a tal bebida. Caiu na boca do povo. Cafona vale? Ou devo dizer “out”, como na década de 90?

Reconheço, tenho saudade de certos termos. Lembro-me das conversas com os amigos nos anos 70, quando fiz faculdade e era frequente ouvir “tou numas com ela”, equivalente, guardadas algumas proporções, ao “ficar” de hoje em dia.

Que adolescente aceitaria hoje ir a um “**mingau dançante**”? Vão para a balada, para a “night”. Aliás, a maioria foge de mingau e de qualquer delícia que engorde!

Muita gente **odeia** gíria e a considera um dialeto capaz de estralhar a língua. Elas esquecem que, no seu tempo, também a usavam.

Não é fácil acompanhar sua evolução e, às vezes, me confundo: não sei se ainda se fala “hype” para indicar algo que no passado foi “in”. Ou que alguém é “fashion”, para dizer que está “nos trinques”, como nos anos 80.

A verdade é: não há botox ou plástica que resista. Gíria velha denuncia a idade mais do que as rugas!

(Walcyr Carrasco. <http://vejasp.abril.com.br/cidades/a-idade-das-palavras/> Adaptado)

07. De acordo com o texto, é correto afirmar que

- (A) há mulheres que, na década de 90, surpreenderam a sociedade com atitudes ousadas como viajar sem a companhia dos pais.
- (B) há pessoas que jamais utilizaram gírias, pois consideram que essas palavras tornam a linguagem incompreensível.
- (C) há mulheres que usam frequentemente gírias com o objetivo de aparentar menos idade, uma estratégia que surte os efeitos pretendidos.
- (D) há pessoas que, como o autor, se confundem ao empregar gírias, já que são expressões que mudam conforme a época.
- (E) há jovens que achariam divertido empregar, no bate-papo com amigos, expressões como “mingau dançante” ou “tou numas com ela”.

08. Assinale a afirmação correta com relação à expressão destacada no trecho do texto.

- (A) Em – O trágico é que, em geral, a **gíria** é velha... – está empregada em sentido próprio, significando palavra de uso formal.
- (B) Em – uma senhora madura e **plastificada** – está empregada em sentido figurado, significando que essa mulher já se submeteu à cirurgia plástica.
- (C) Em – ... **criado** por uma marca de refrigerante... – está empregada em sentido figurado, significando que a bebida foi sucesso de vendas.
- (D) Em – Que adolescente aceitaria hoje ir a um “**mingau dançante**”? – está empregada em sentido próprio, significando festas específicas para jovens.
- (E) Em – Muita gente **odeia** gíria... – está empregada em sentido figurado, significando que há indivíduos que recriminam esse tipo de vocabulário.

09. A frase que apresenta ideia coerente com o significado das gírias citadas no texto está na alternativa:

- (A) Ele é um pão, pois é um homem que possui muito dinheiro.
- (B) Ela é prafrentex, pois trabalha desde os 18 anos.
- (C) Ele está numas com ela, pois vão se casar em breve.
- (D) Ele é um boko moko, pois segue as novas tendências.
- (E) Ela anda nos trinques, pois está sempre bem vestida.

10. Assinale a alternativa em que o sinal de pontuação indicado tem como característica permitir que a ideia exposta pelo autor possa ser complementada pelo pensamento do leitor.

- (A) Reticências em – *agora se usa gato, se não estou atrasado...* (3º parágrafo)
- (B) Ponto simples em – *Reconheço, tenho saudade de certos termos.* (6º parágrafo)
- (C) Aspas em – *Vão para a balada, para a “night”.* (7º parágrafo)
- (D) Ponto de exclamação em – *foge de mingau e de qualquer delícia que engorde!* (7º parágrafo)
- (E) Dois-pontos em – *A verdade é: não há botox ou plástica que resista.* (10º parágrafo)

11. De acordo com a concordância verbal estabelecida pela norma-padrão, está correta a alternativa:

- (A) Para o autor, não existe cirurgias e aplicação de botox que esconda a idade quando se emprega gírias ultrapassadas na comunicação.
- (B) Para o autor, não existe cirurgias e aplicação de botox que escondam a idade quando se empregam gírias ultrapassadas na comunicação.
- (C) Para o autor, não existem cirurgias e aplicação de botox que escondam a idade quando se empregam gírias ultrapassadas na comunicação.
- (D) Para o autor, não existem cirurgias e aplicação de botox que esconda a idade quando se emprega gírias ultrapassadas na comunicação.
- (E) Para o autor, não existem cirurgias e aplicação de botox que escondam a idade quando se emprega gírias ultrapassadas na comunicação.

12. O termo “boko moko” foi criado para rotular **as pessoas** de cafona porque não tomavam **a tal bebida**.

Os pronomes que substituem corretamente as expressões destacadas e estão adequadamente colocados na frase encontram-se na alternativa:

- (A) O termo “boko moko” foi criado para rotulá-las de cafona porque não tomavam-na.
- (B) O termo “boko moko” foi criado para rotulá-las de cafona porque não a tomavam.
- (C) O termo “boko moko” foi criado para as rotular de cafona porque não lhe tomavam.
- (D) O termo “boko moko” foi criado para rotular-lhes de cafona porque não tomavam-na.
- (E) O termo “boko moko” foi criado para lhes rotular de cafona porque não a tomavam.

13. Leia as frases:

O máximo de liberdade possível, _____ que se acreditava na época, era uma jovem solteira viajar com amigos.

Para o autor, os alimentos calóricos, _____ quais os adolescentes fogem, são uma delícia.

As lacunas das frases devem ser preenchidas, correta e respectivamente, pelas preposições:

- (A) a ... dos
- (B) a ... com os
- (C) de ... aos
- (D) em ... dos
- (E) em aos

Considere a charge para responder às questões de números 14 e 15.

Depois que comecei a tuitar,
não consigo mais escrever relatórios
com mais de 140 caracteres.



mandrade

(Folha de S. Paulo, 20.09.2010. Adaptado)

14. Assinale a alternativa em que a frase baseada na charge está correta quanto ao emprego do sinal indicativo de crase.

- (A) Refletindo sobre o uso do Twitter, o rapaz faz menção **à** dificuldade para redigir os relatórios detalhados pedidos **à** ele pela gerência.
- (B) Refletindo sobre o uso do Twitter, o rapaz cita **à** dificuldade para redigir os relatórios detalhados pedidos **a** ele pela gerência.
- (C) Refletindo sobre o uso do Twitter, o rapaz faz alusão **a** dificuldade para redigir os relatórios detalhados pedidos **a** ele pela gerência.
- (D) Refletindo sobre o uso do Twitter, o rapaz se refere **à** dificuldade para redigir os relatórios detalhados pedidos **a** ele pela gerência.
- (E) Refletindo sobre o uso do Twitter, o rapaz admite **a** dificuldade para redigir os relatórios detalhados pedidos **à** ele pela gerência.

15. Leia a frase reelaborada a partir da fala da personagem.

Depois que comecei a tuitar **diariamente**, não consigo mais escrever os relatórios **com perfeição**.

As expressões destacadas apresentam, respectivamente, as circunstâncias de:

- (A) tempo e de modo.
- (B) tempo e de intensidade.
- (C) modo e de afirmação.
- (D) modo e de intensidade.
- (E) afirmação e de modo.

MATEMÁTICA

16. Em setembro, o salário líquido de Juliano correspondeu a $\frac{4}{5}$ do seu salário bruto. Sabe-se que ele destinou $\frac{2}{5}$ do salário líquido recebido nesse mês para pagamento do aluguel, e que poupou $\frac{2}{5}$ do que restou. Se Juliano ficou, ainda, com R\$ 1.620,00 para outros gastos, então o seu salário bruto do mês de setembro foi igual a

- (A) R\$ 6.330,00.
- (B) R\$ 5.625,00.
- (C) R\$ 5.550,00.
- (D) R\$ 5.125,00.
- (E) R\$ 4.500,00.

17. Para a elaboração de um cronograma, que será fixado em um painel, uma folha retangular de cartolina deverá ser totalmente dividida em quadrados iguais, todos de mesmo tamanho, de modo que o quadriculado preencha totalmente a área da folha. Sabendo-se que a folha tem 1,3 m de comprimento e 0,9 m de largura, e que os quadrados deverão ter a maior área possível, é correto afirmar que o número de quadrados obtidos será igual a

- (A) 22.
- (B) 60.
- (C) 85.
- (D) 100.
- (E) 117.

18. A tabela, onde alguns valores estão substituídos por letras, mostra os valores, em milhares de reais, que eram devidos por uma empresa a cada um dos três fornecedores relacionados, e os respectivos valores que foram pagos a cada um deles.

Fornecedor	A	B	C
Valor pago	22,5	x	37,5
Valor devido	y	40	z

Sabe-se que os valores pagos foram diretamente proporcionais a cada valor devido, na razão de 3 para 4. Nessas condições, é correto afirmar que o valor total devido a esses três fornecedores era, antes dos pagamentos efetuados, igual a

- (A) R\$ 90.000,00.
- (B) R\$ 96.500,00.
- (C) R\$ 108.000,00.
- (D) R\$ 112.500,00.
- (E) R\$ 120.000,00.

19. Em uma loja, dois fogões semelhantes, das marcas B e C, tinham preços unitários iguais a P e Q, respectivamente. Sabe-se que houve um aumento de 20% no preço P, obtendo-se um novo preço P_1 que ultrapassou Q em R\$ 200,00. Em seguida, houve um desconto de 10% sobre o preço Q, e o novo preço obtido, Q_1 , ficou igual a P. Nessas condições, é correto afirmar que o preço P era, em reais, igual a
- (A) R\$ 3.000,00.
 - (B) R\$ 2.750,00.
 - (C) R\$ 2.500,00.
 - (D) R\$ 2.250,00.
 - (E) R\$ 2.000,00.

20. Uma empresa utiliza máquinas iguais, de mesmo rendimento, para produzir um único tipo de peça. O número de máquinas utilizadas e o número de horas diárias de funcionamento ininterrupto, que é o mesmo para todas as máquinas utilizadas, são determinados em função da quantidade de peças e do prazo de entrega de cada lote. A tabela mostra dados referentes à produção dos lotes I e II.

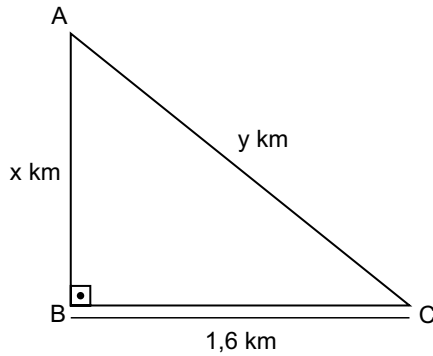
	Lote I	Lote II
Nº de máquinas utilizadas	10	12
Nº de horas diárias de funcionamento	x	x
Nº de peças produzidas	90 000	63 000
Prazo (nº de dias necessários)	60	y

Nessas condições, é correto afirmar que as 63 000 peças do Lote II foram produzidas em um número de dias igual a

- (A) 50.
- (B) 48.
- (C) 42.
- (D) 35.
- (E) 33.

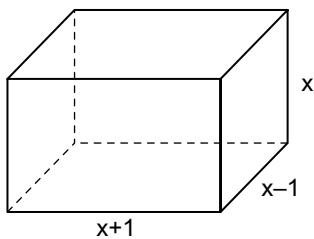
21. Para uma recepção, Letícia comprou 30 garrafas de vinho, sendo n garrafas iguais do vinho Z e $1,5n$ garrafas iguais do vinho W. Sabe-se que o preço unitário do vinho Z superou o preço unitário do vinho W em R\$ 20,00, e que o preço médio das 30 unidades compradas foi igual a R\$ 68,00. Desse modo, é correto afirmar que cada garrafa do vinho Z custou
- (A) R\$ 100,00.
(B) R\$ 90,00.
(C) R\$ 80,00.
(D) R\$ 70,00.
(E) R\$ 60,00.
22. Dois capitais distintos, C1 e C2, sendo C2 maior que C1, foram aplicados por prazos iguais, a uma mesma taxa de juros simples e geraram, ao final da aplicação, montantes iguais a $\frac{9}{8}$ dos respectivos capitais iniciais. Se a diferença entre os valores recebidos de juros pelas duas aplicações foi igual a R\$ 500,00, então $C2 - C1$ é igual a
- (A) R\$ 3.000,00.
(B) R\$ 4.000,00.
(C) R\$ 5.000,00.
(D) R\$ 6.000,00.
(E) R\$ 8.000,00
23. Um recipiente e seu conteúdo têm, juntos, x gramas de massa. Se retirarmos exatamente a metade do conteúdo do recipiente, a massa do recipiente e a do conteúdo restante, juntas, passa a ser de $0,7x$ gramas. Se a massa do recipiente vazio é 140 gramas, então o valor representado por x é igual a
- (A) 350.
(B) 325.
(C) 315.
(D) 275.
(E) 250.

24. Para pulverizar certo defensivo, de modo a criar uma barreira contra pragas, uma máquina agrícola percorreu todo o perímetro de uma região rural, de área igual a $0,96 \text{ km}^2$, que está representada pelo triângulo retângulo ABC, mostrado na figura.



Sabe-se que a máquina manteve velocidade constante durante todo o processo, e que não houve nenhuma interrupção no percurso. Nessas condições, se a máquina gastou 18 minutos para ir do ponto A até o ponto B, então o tempo total gasto para percorrer todo o perímetro dessa região triangular foi de

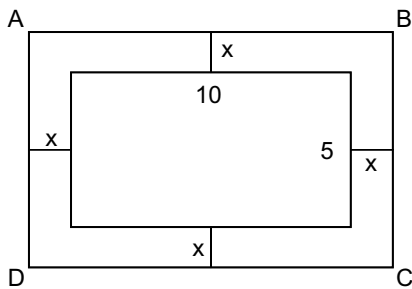
- (A) 58 min.
 (B) 1h 06min.
 (C) 1h 12min.
 (D) 1h 16min.
 (E) 1h 18min.
25. A figura mostra um bloco retangular reto, cujas medidas das arestas estão indicadas em centímetros.



Se a soma das medidas de todas as arestas é igual a 96 cm, então o volume desse bloco é, em cm^3 , igual a

- (A) 504.
 (B) 512.
 (C) 564.
 (D) 616.
 (E) 720.

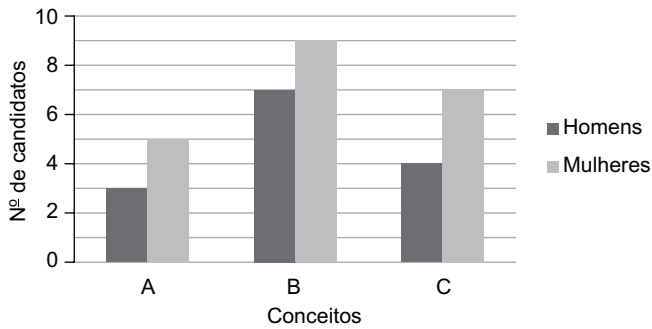
26. Em um jardim, um canteiro retangular, cujos lados medem 10 m e 5 m, é totalmente rodeado por uma região gramada de largura constante, indicada por x na figura.



Se a área da região gramada é igual a 76 m^2 , então a medida indicada por x é, em metros, igual a

- (A) 1.
 (B) 1,5.
 (C) 2.
 (D) 2,5.
 (E) 3.
27. Dois recipientes, A e B, totalmente cheios, continham, juntos, 508 mililitros de certo líquido. Foram utilizados $\frac{4}{5}$ do líquido contido em A e $\frac{5}{6}$ do líquido contido em B, e a quantidade de líquido restante nos dois recipientes, juntos, ficou igual a 92 mililitros. Desse modo, é correto afirmar que a capacidade total, em litros, do recipiente A é igual a
- (A) 0,22.
 (B) 0,28.
 (C) 0,36.
 (D) 0,48.
 (E) 0,54.

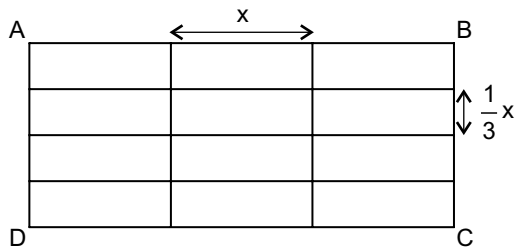
28. Em uma prova de um processo seletivo, os candidatos podiam obter apenas um de três conceitos possíveis, A, B ou C. O gráfico mostra a distribuição desses conceitos entre os homens e as mulheres que realizaram essa prova.



Em relação aos candidatos que fizeram essa prova, é correto afirmar, de acordo com os dados do gráfico, que o número

- (A) de mulheres corresponde a 70% do número total de candidatos.
 (B) de homens corresponde a 50% do número total de candidatos.
 (C) de mulheres é 70% maior que o de homens.
 (D) de homens é 50% menor que o de mulheres.
 (E) de homens que obtiveram o conceito B corresponde a 20% do número total de candidatos.

29. Um painel ABCD, de formato retangular, foi totalmente dividido em 12 retângulos congruentes, cujas medidas dos lados, em centímetros, são iguais a x e $\frac{1}{3}x$, conforme mostra a figura.



Se a área do painel ABCD é igual a $1,44 \text{ m}^2$, então o seu perímetro é, em metros, igual a

- (A) 4,4.
 (B) 4,8.
 (C) 5,0.
 (D) 5,2.
 (E) 6,2

30. Mário e Nílson têm quantias diferentes, em dinheiro.

Sabe-se que $\frac{2}{5}$ da quantia de Mário corresponde a $\frac{1}{3}$ da quantia de Nílson. Desse modo, é correto afirmar que a quantia total de Mário corresponde, da quantia total de Nílson, a

- (A) $\frac{8}{9}$
 (B) $\frac{5}{6}$
 (C) $\frac{2}{3}$
 (D) $\frac{5}{8}$
 (E) $\frac{3}{5}$

R A S C U N H O

LEGISLAÇÃO

31. O servidor que, a serviço, afastar-se da sede, em caráter eventual ou transitório, para outro ponto do território nacional ou para o exterior, fará jus a passagens e valor destinado a indenizar as parcelas de despesas com pousada, alimentação e locomoção urbana. Esse valor é denominado:
- (A) compensação.
 - (B) adiantamento.
 - (C) indenização.
 - (D) diária.
 - (E) reembolso.
32. Servidor do Instituto de Previdência Social dos Servidores Municipais de Barueri está analisando processo que considera possuir grau de dificuldade maior do que aqueles que costumeiramente examina. Como era sexta-feira e ele não havia conseguido terminar o trabalho de análise, e seu chefe imediato havia lhe solicitado uma resposta até a segunda-feira seguinte, a fim de apresentar o resultado no prazo assinalado, o servidor levou o processo para sua casa. Na segunda-feira, o servidor traz a resposta necessária e completa, mas só então informa a seu superior que havia retirado o processo, sem sua anuência, na sexta-feira anterior. Considerando o previsto no Estatuto dos Servidores Públicos do Município de Barueri, o servidor
- (A) está sujeito à penalidade disciplinar de advertência.
 - (B) está sujeito à penalidade disciplinar de suspensão.
 - (C) está sujeito à penalidade de destituição de função gratificada.
 - (D) está sujeito à penalidade de destituição de cargo em comissão.
 - (E) não está sujeito a nenhuma penalidade, pois agiu com diligência na execução de seu trabalho.
33. No mês de setembro de 2017, determinado servidor do Instituto de Previdência Social dos Servidores Municipais de Barueri trabalhou, em todos os 20 (vinte) dias úteis do mês, 1 (uma) hora além de sua jornada regular diária. Além disso, no mesmo mês, o servidor trabalhou 6 (seis) horas no feriado de 7 de setembro e mais 6 (seis) horas no sábado, dia 16 de setembro. Considerando o previsto na Lei Complementar Municipal nº 372/16, o servidor
- (A) tem direito a receber 32 (trinta e duas) horas extras no pagamento mensal seguinte, sendo as horas prestadas em dias úteis calculadas multiplicando-se o valor da hora normal por 1,5 e as horas de final de semana e feriado, por 2.
 - (B) pode solicitar que o quantitativo correspondente a 1/3 (um terço) das horas trabalhadas em excesso à jornada padrão seja convertido em pecúnia, o que poderá ser deferido a critério da Administração.
 - (C) tem direito a que sejam registradas 32 (trinta e duas) horas compensadas, que poderão ser utilizadas na compensação de atrasos ou saídas antecipadas, podendo ser compensadas, no máximo, 8 (oito) horas em um único dia.
 - (D) pode solicitar que as horas extraordinárias trabalhadas, que totalizam 54 (cinquenta e quatro), sejam tidas como banco de horas, a serem utilizadas como dias de descanso, que não poderão exceder a 3 (três) dias consecutivos.
 - (E) tem direito a que sejam registradas 54 (cinquenta e quatro) horas compensadas, ficando a critério do servidor utilizar tais horas para descanso ou convertê-las, integralmente, em pecúnia.
34. O Sistema de Avaliação de Desempenho previsto na Lei Complementar Municipal nº 372/16
- (A) tem como finalidade aprimorar os métodos de gestão, valorizar o servidor e melhorar a eficiência do serviço público, sendo as avaliações desse Sistema realizadas por órgão escolhido por Decreto do Prefeito Municipal.
 - (B) prevê que serão avaliados, pela chefia cujo vínculo seja de maior tempo, no decorrer do período avaliado, os servidores que tenham, no mínimo, 12 (doze) meses de trabalho consecutivos no IPRESB.
 - (C) constitui-se em um processo semestral e sistemático de aferição do desempenho do servidor, utilizado para fins de programação de ações de capacitação e qualificação e como critério para a Evolução Funcional.
 - (D) dispõe que obterá a estabilidade funcional o servidor público em período de experiência que obtiver pontuação final mínima de 60 (sessenta) pontos, calculada a partir da média das 2 (duas) avaliações especiais de desempenho realizadas durante o período de experiência.
 - (E) é composto pela Avaliação Especial de Desempenho, utilizada para fins de aquisição da estabilidade no serviço público, e pela Avaliação Periódica de Desempenho, utilizada anualmente para fins de Evolução Funcional.

35. Servidor do Instituto de Previdência Social dos Servidores Municipais de Barueri discorda do resultado de sua Avaliação de Desempenho, arguindo erro na pontuação que lhe foi atribuída no quesito “assiduidade e pontualidade”, pois não registra faltas ou atrasos nos últimos 12 (doze) meses. Neste caso, o Servidor deverá recorrer
- (A) ao Grupo Ocupacional, que poderá convocar servidores para prestar, como testemunha ou não, informações ou participação opinativa, sem direito a voto, a fim de coletar elementos para formar sua convicção sobre o recurso.
- (B) à Comissão de Gestão Ocupacional, que deverá utilizar-se de todas as informações existentes sobre o servidor avaliado, como prontuários, documentos, colhendo, se necessário, depoimentos complementares, para fins de exame do recurso.
- (C) à Comissão de Gestão de Carreiras, que poderá realizar diligências junto às unidades organizacionais às quais esteja vinculado o avaliado, solicitando, se necessário, a revisão das informações, a fim de corrigir erros ou omissões.
- (D) ao Grupo Vencimental, que poderá analisar todas as informações disponíveis sobre o servidor, e convocar, se necessário, testemunhas para prestarem informações, no intuito de se obterem os elementos necessários ao julgamento do recurso.
- (E) à Comissão de Gestão de Pessoal, que poderá refazer, caso entenda necessário, todo o processo de Avaliação de Desempenho e Qualificação, não ficando restrita à questão de assiduidade e pontualidade suscitada pelo servidor.

NOÇÕES DE INFORMÁTICA

36. No MS-Excel 2010, a partir da sua configuração padrão, foi criada uma planilha para controle de mensalidades de alunos, conforme ilustra a figura seguinte. A coluna A contém o nome do aluno, a coluna B, a série que cursa, a coluna C, o sexo, a coluna D, o endereço, a coluna E, a cidade em que o aluno mora, e a coluna F, o valor da mensalidade que o aluno paga para estudar.

	A	B	C	D	E	F
1	NOME	Série	Sexo	Endereço	CIDADE	Valor da Mensalidade
2	ALEX DOS SANTOS	1º MÉDIO	M	Rua Gama Lobo, 345	São Paulo	R\$ 900,00
3	BERENICE OLIVEIRA	2º MÉDIO	F	Rua de Cima, 10	Guarulhos	R\$ 950,00
4	CLAUDIA SILVA	3º MÉDIO	F	Av. Guia, 12	São Paulo	R\$ 1.000,00
5	CLAUDIO TAVA	9A	M	Rua da Canção, 76	Guarulhos	R\$ 890,00
6	DANIEL PALHA	8B	M	Av. Francisco, 15	São Paulo	R\$ 750,00
7	FLAVIA COELHO	7C	F	Rua Paula, 67	São Paulo	R\$ 600,00
8	FELIPE BARATA	1º MÉDIO	M	Rua Pelotas, 31	Guarulhos	R\$ 900,00
9	GISELE CANDIDO	1º MÉDIO	F	Rua Kaka, 56	São Paulo	R\$ 900,00
10	HELENO ANDAR	3º MÉDIO	M	Rua Paz, 30	São Paulo	R\$ 1.000,00
11	MARIA ADELIA	8B	F	Av. Pedro II, 654	São Paulo	R\$ 750,00
12	MARIO CARVALHO	1º MÉDIO	M	Av. Sumaré, 123	Guarulhos	R\$ 900,00
13	OLINTO PINTO	3º MÉDIO	M	Rua Pari, 90	São Paulo	R\$ 1.000,00
14						
15	Total de Alunos do Ensino Médio de São Paulo	5				
16	Total das Mensalidades dos Alunos do Sexo “M” do Ensino Médio	R\$ 4.700,00				


Assinale a alternativa que contém a fórmula aplicada na célula B15, para calcular o Total de Alunos do Ensino Médio de São Paulo, bem como a fórmula aplicada na célula B16, para calcular o Total das Mensalidades dos Alunos do Sexo “M” do Ensino Médio, respectivamente:

- (A) =CONT.SES(E2;13;"MÉDIO";E2;E13;"São Paulo")
=SOMASES(F2:F13;B2:B13;"MÉDIO";C2:C13;"M")
- (B) =CONT.SES(B2:B13;"*MÉDIO*";E2;E13;"São Paulo")
=SOMASES(F2:F13;B2:B13;"*MÉDIO*";C2:C13;"M")
- (C) =CONT.SE(B2:B13;"MÉDIO";E2;E13;"São Paulo")
=SOMASE(F2:F13;B2:B13;"MÉDIO";C2:C13;"M")
- (D) =CONT.SE(B2;B13;"MÉDIO";E2;E13;"São Paulo")
=SOMASE(F2:F13;B2;B13;"MÉDIO";C2:C13;"M")
- (E) =SOMA.SE(B2:B13;"MÉDIO";E2;E13;"São Paulo")
=TOTALSE(F2:F13;B2:B13;"*MÉDIO*";C2:C13;"M")

37. Em um documento que está sendo editado no MS-Word 2010, a partir da sua configuração padrão, o seguinte texto foi selecionado conforme ilustra a figura I.


A partir da Janela de Diálogo “Tabulação”, assinale a alternativa correta que contém as opções utilizadas para produzir o texto, conforme ilustra a figura II.

FIGURA I

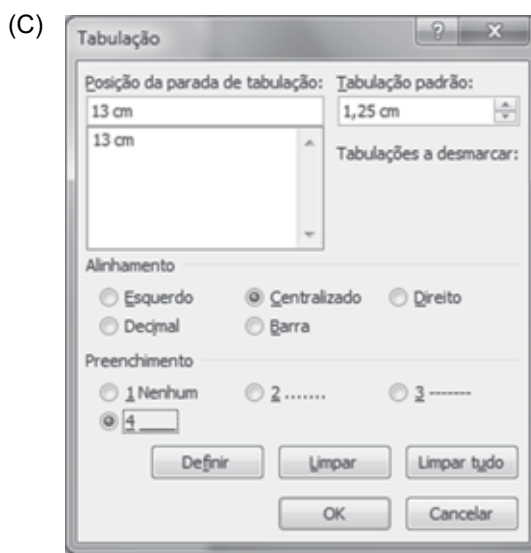
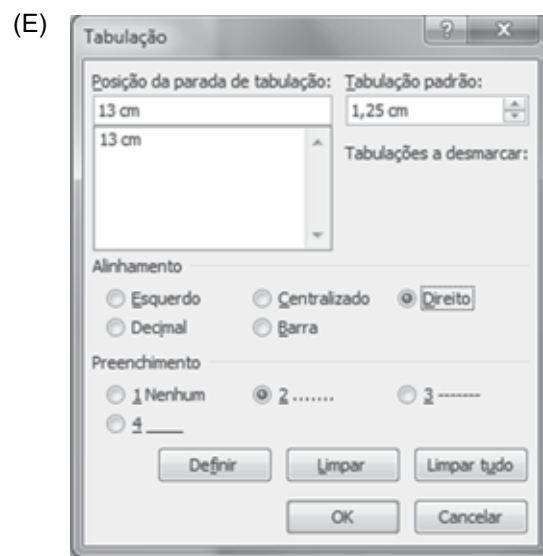
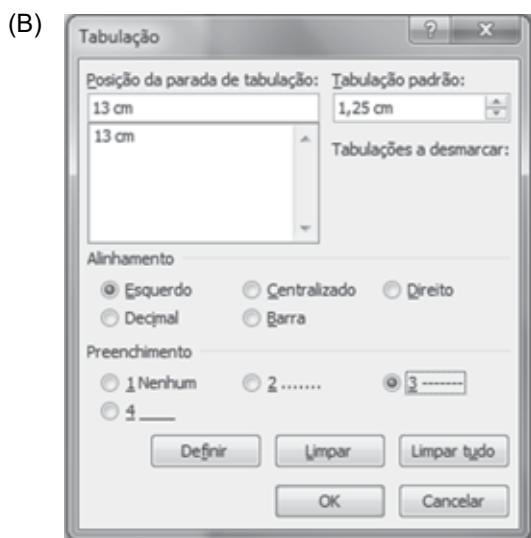
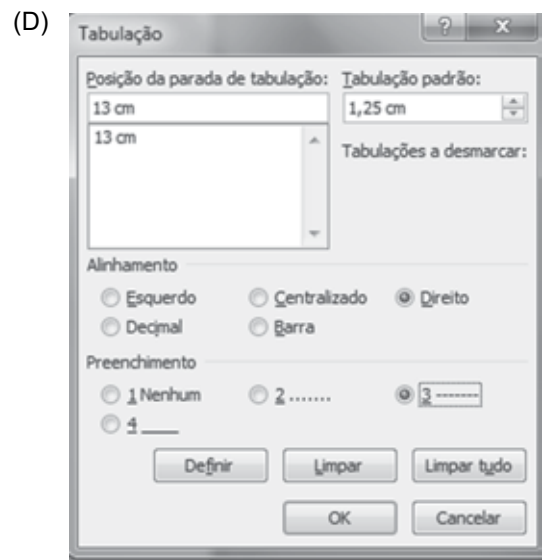
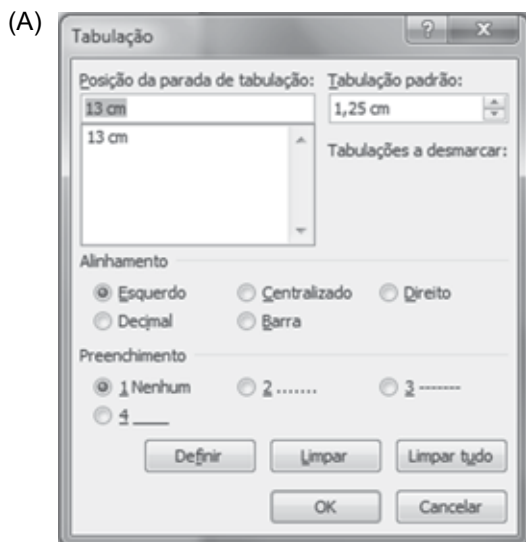


Sumário	
1-INTRODUÇÃO	2
2-DEFINIÇÃO	10
3-DETALHAMENTO	25
4-CONCLUSÃO	34

FIGURA II



Sumário	
1-INTRODUÇÃO.....	2
2-DEFINIÇÃO	10
3-DETALHAMENTO.....	25
4-CONCLUSÃO.....	34



38. No PowerPoint 2010, a partir da sua configuração padrão, do guia “Apresentação de Slides” foram selecionados os seguintes ícones:



Ícone 1



Ícone 2



Ícone 3

Assinale a alternativa que faz a correlação correta entre todos os ícones selecionados e a ação efetuada por cada um.

- (A) Ícone-1: Inicia a Apresentação a partir do Slide Atual.
Ícone-2: permite Configurar Apresentação de Slides.
Ícone-3: permite Ocultar o Slide.
- (B) Ícone-1: Inicia a Apresentação a partir do Slide Atual.
Ícone-2: permite Retirar os Intervalos da Apresentação.
Ícone-3: permite Ocultar o Slide.
- (C) Ícone-1: Inicia a Apresentação a partir do Começo.
Ícone-2: permite Ocultar o Slide.
Ícone-3: permite Configurar Apresentação de Slides.
- (D) Ícone-1: Inicia a Apresentação a partir do Começo.
Ícone-2: permite Configurar Apresentação de Slides.
Ícone-3: permite Testar os intervalos da Apresentação.
- (E) Ícone-1: Inicia a Apresentação a partir do Começo.
Ícone-2: permite Configurar Apresentação de Slides.
Ícone-3: permite Ocultar o Slide.

39. O seguinte e-mail foi encaminhado para vários destinatários, conforme ilustra a figura, convidando para uma reunião.

Para...	paulo_ramos; rafaela_silva; jose_carvalho
Cc...	joao_bravo; silvio_jose; pamela_costa
Cco...	antonio_freire; daniela_verde; flavia_oliveira; pamela_costa; jose_carvalho
Assunto:	Reunião

Prezados, bom dia.
Segue um convite de reunião a ser realizada no conjunto 34-B do office-Center, data: 31/08/2017, horário a combinar.

Abraços

Saulo da Penha

E-mail: saulo_da_penha

Assinale a alternativa que só apresenta os e-mails de quem recebeu o e-mail em duplicata, convidando para a reunião.

- (A) paulo_ramos e pamela_costa.
- (B) antonio_freire e flavia_oliveira.
- (C) pamela_costa e jose_carvalho.
- (D) jose_carvalho e silvio_jose.
- (E) pamela_costa e flavia_oliveira.

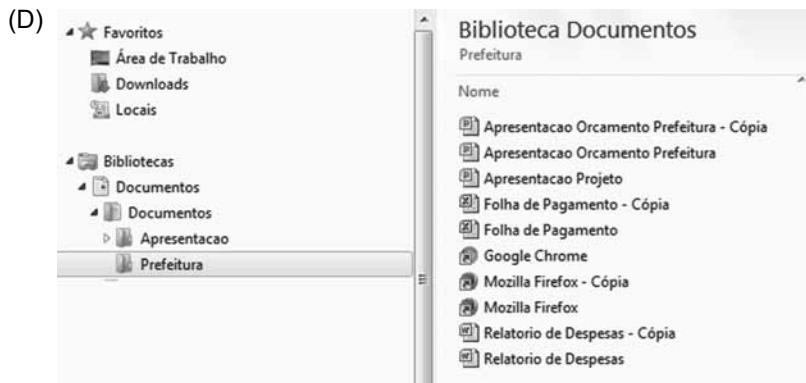
40. No Windows Explorer do MS-Windows 7, a partir da sua configuração padrão, na pasta Prefeitura, foram selecionados vários itens, conforme ilustra a figura I, e foi aplicada a seguinte sequência de Teclas: Ctrl+C Ctrl+V, na mesma pasta (Prefeitura).

FIGURA I



Assinale a alternativa que apresenta, corretamente, o resultado final dessa sequência de Teclas.

- (A) Irá aparecer uma mensagem de erro, informando que não é possível copiar os itens, pois a pasta Origem é a mesma da pasta Destino.
- (B) Irá aparecer uma mensagem de confirmação, perguntando se deseja copiar os itens previamente selecionados.



CONHECIMENTOS ESPECÍFICOS

NOÇÕES DE DIREITO CONSTITUCIONAL

41. Considere a seguinte situação hipotética: Cidadão de Barueri pleiteia licença para realizar reforma e construção em imóvel de que é proprietário, mas a Municipalidade rejeita seu pleito. Entendendo o Cidadão que preenche todos os requisitos que o habilitam a reformar e construir em sua propriedade, apresenta recurso do indeferimento. Passam-se mais de 120 (cento e vinte) dias e não há resposta ao recurso. Neste caso, diante da omissão da Municipalidade, o Cidadão pode demandar a análise do caso pelo Poder Judiciário, por meio de
- (A) ação popular.
 - (B) mandado de injunção.
 - (C) mandado de segurança.
 - (D) *habeas corpus*.
 - (E) *habeas data*.
42. O servidor titular de cargo efetivo, quando cedido a órgão ou entidade de outro ente da federação, vincula-se ao regime de previdência
- (A) estabelecido pela lei do ente Federativo em que trabalha.
 - (B) dos servidores públicos federais.
 - (C) do órgão ou ente em que estiver prestando serviços.
 - (D) geral, aplicável a todos os trabalhadores da iniciativa privada.
 - (E) do órgão de origem.

NOÇÕES DE DIREITO ADMINISTRATIVO

43. Em defesa dos consumidores locais, a Prefeitura Municipal de Barueri, por meio de seus órgãos, impõe multa e interdita um supermercado em que havia disparidade de preços, já que estes, registrados no caixa, eram muito maiores do que aqueles que constavam das gôndolas. A atuação da Prefeitura Municipal, nesse caso, é decorrente do poder
- (A) intrínseco.
 - (B) de polícia.
 - (C) hierárquico.
 - (D) disciplinar.
 - (E) regulamentar.

44. Considere as seguintes afirmações acerca dos atributos dos atos administrativos.
- I. É o atributo pelo qual o ato produz efeitos imediatamente, até que, eventualmente, seja decretada sua invalidade pela própria Administração ou pelo Poder Judiciário.
 - II. É o atributo pelo qual os atos administrativos se impõem a terceiros, independentemente de sua concordância.
 - III. É o atributo pelo qual o ato administrativo pode ser posto em execução pela própria Administração Pública, sem necessidade de intervenção do Poder Judiciário.
- Assinale a alternativa que associa, corretamente, a afirmação ao atributo do ato administrativo a que ela corresponde.
- (A) I – tipicidade; II – exigibilidade; III – presunção de legalidade.
 - (B) I – autoexecutoriedade; II – presunção de legalidade; III – imperatividade.
 - (C) I – presunção de legitimidade e veracidade; II – tipicidade; III – autoexecutoriedade.
 - (D) I – exigibilidade; II – imperatividade; III – presunção de legalidade.
 - (E) I – presunção de legitimidade e veracidade; II – imperatividade; III – autoexecutoriedade.

45. Considere a seguinte situação hipotética: servidor do Instituto de Previdência Social dos Servidores de Barueri utiliza a máquina copiadora e papel sulfite, existentes na repartição, para tirar cópias de material que empregará em aulas voluntárias sobre cidadania, que ministra, gratuitamente, aos sábados, fora do horário do expediente. A conduta do servidor, à luz da Lei Federal nº 8.429/92,
- (A) constitui ato de improbidade administrativa que importa enriquecimento ilícito.
 - (B) constitui ato de improbidade administrativa que causa prejuízo ao erário.
 - (C) constitui ato de improbidade administrativa que atenta contra os princípios da Administração Pública.
 - (D) constitui ato de improbidade administrativa decorrente de concessão ou aplicação indevida de benefício financeiro ou tributário.
 - (E) não constitui ato de improbidade, pois o uso não era em proveito próprio, mas sim de quaisquer cidadãos que frequentem o curso.

46. Dispõe a Lei nº 9.717/98 que fica facultada à União, aos Estados, ao Distrito Federal e aos Municípios a constituição de fundos integrados de bens, direitos e ativos, com finalidade previdenciária, desde que observados os critérios da lei e, adicionalmente, o seguinte preceito:
- (A) estabelecimento de limites para a taxa de administração, conforme parâmetros gerais.
 - (B) vedação à aplicação de recursos em títulos públicos, com exceção de títulos da dívida pública da unidade federativa.
 - (C) existência de conta do fundo idêntica à conta do Tesouro da unidade federativa, com preferência da União Federal.
 - (D) possibilidade da utilização de recursos do fundo de bens, direitos e ativos para empréstimos aos entes da federação, desde que autorizados pelo Conselho Monetário Nacional.
 - (E) aplicação de recursos, conforme estabelecido pelo Banco Central do Brasil e constituição e extinção do fundo mediante decreto do executivo.
47. Em relação à pensão por morte, a cargo do Regime Próprio de Previdência Social do Município de Barueri, estabelecido pela Lei Complementar nº 215/08, é correto afirmar:
- (A) o benefício da pensão por morte não será devido quando o dependente for condenado por crime doloso contra a administração pública ou improbidade administrativa.
 - (B) o cônjuge ausente fará jus ao benefício a partir da data do óbito do segurado mediante prova de não ter ocorrido separação judicial ou divórcio, independentemente de sua habilitação.
 - (C) o novo casamento do cônjuge divorciado, com direito a pensão alimentícia, extingue de imediato a pensão por morte que lhe tenha sido concedida.
 - (D) a pensão poderá ser concedida, em caráter provisório, por morte presumida, a partir de um ano da declaração da morte presumida pela autoridade policial competente.
 - (E) o cônjuge divorciado ou separado judicialmente ou de fato, que recebia pensão alimentícia, receberá a pensão em igualdade de condições com os demais dependentes referidos na lei.

48. Aspectos como tempo de espera, cortesia, adequação e capacidade de resolução dos problemas, bem como aspectos ambientais, como limpeza, temperatura, decoração e organização do local são importantes características
- (A) da terceirização de serviços.
 - (B) da qualidade no atendimento ao público.
 - (C) da resolução de problemas do público interno.
 - (D) de uma área com pessoas gentis e educadas.
 - (E) da apresentação de relatórios aos gestores.
49. O principal objetivo do processo de movimentação de estoque é a
- (A) segurança na movimentação dos materiais.
 - (B) otimização do espaço destinado aos materiais.
 - (C) redução do risco de perda de estoque.
 - (D) minimização dos acidentes de trabalho.
 - (E) redução de custos operacionais.
50. O método de arquivamento de documentos chamado "Dicionário" pertence ao grupo _____ que, por sua vez, é uma subdivisão do método _____.
- Assinale a alternativa que preenche, correta e respectivamente, as lacunas.
- (A) alfabético ... geográfico
 - (B) geográfico ... numérico
 - (C) alfabético ... ideográfico
 - (D) variadex ... padronizado
 - (E) numérico ... ideográfico

