



CÂMARA MUNICIPAL DE DOIS CÓRREGOS

ESTADO DE SÃO PAULO

CONCURSO PÚBLICO

003. PROVA OBJETIVA

DIRETOR CONTÁBIL LEGISLATIVO

- ◆ Você recebeu sua folha de respostas e este caderno contendo 60 questões objetivas.
- ◆ Confira seus dados impressos na capa deste caderno e na folha de respostas.
- ◆ Quando for permitido abrir o caderno, verifique se está completo ou se apresenta imperfeições. Caso haja algum problema, informe ao fiscal da sala.
- ◆ Leia cuidadosamente todas as questões e escolha a resposta que você considera correta.
- ◆ Marque, na folha de respostas, com caneta de tinta preta, a letra correspondente à alternativa que você escolheu.
- ◆ A duração da prova é de 3 horas e 30 minutos, já incluído o tempo para o preenchimento da folha de respostas.
- ◆ Só será permitida a saída definitiva da sala e do prédio após transcorridos 75% do tempo de duração da prova.
- ◆ Ao sair, você entregará ao fiscal a folha de respostas e este caderno, podendo levar apenas o rascunho de gabarito, localizado em sua carteira, para futura conferência.
- ◆ Até que você saia do prédio, todas as proibições e orientações continuam válidas.

AGUARDE A ORDEM DO FISCAL PARA ABRIR ESTE CADERNO DE QUESTÕES.

Nome do candidato _____

RG _____

Inscrição _____

Prédio _____

Sala _____

Carteira _____

Leia a tira para responder às questões de números 01 e 02.



(André Dahmer. <http://www1.folha.uol.com.br/ilustrada/cartum/cartunsdiarios/#27/10/2017>. 27.10.2017)

01. A leitura da tira permite concluir que

- (A) os internautas têm sido cada vez mais cautelosos com relação ao teor das postagens nas redes sociais.
- (B) as possíveis consequências das publicações em redes sociais deixaram de ser uma preocupação na atualidade.
- (C) os internautas vêm recorrendo sistematicamente ao anonimato para fazer comentários considerados ofensivos.
- (D) a disseminação do acesso às redes sociais, diferentemente do que se esperava, fez com que se perdesse o interesse por elas.
- (E) os comentários considerados agressivos vêm perdendo espaço na internet para mensagens que pregam tolerância e respeito.

02. Considere as frases do segundo e terceiro quadrinhos:

- Quando você queria escrever alguma monstruosidade, era possível comentar de maneira anônima. / Hoje em dia, essas frescuras não são mais necessárias.

Assinale a alternativa em que o acréscimo da conjunção, destacada na segunda frase, expressa sentido compatível com o contexto do trecho.

- (A) **Por isso**, hoje em dia, essas frescuras não são mais necessárias.
- (B) **Porque**, hoje em dia, essas frescuras não são mais necessárias.
- (C) **Contudo**, hoje em dia, essas frescuras não são mais necessárias.
- (D) **Portanto**, hoje em dia, essas frescuras não são mais necessárias.
- (E) **Contanto que**, hoje em dia, essas frescuras não sejam mais necessárias.

Leia o texto para responder às questões de números 03 a 09.

Destraindo Riqueza

A economia cresce encontrando soluções, em geral tecnológicas, para reduzir ineficiências e, nesse processo, libera mão de obra.

Um exemplo esclarecedor é o do emprego agrícola nos EUA. Até 1800, a produção de alimentos exigia o trabalho de 95% da população do país. Em 1900, a geração de comida para uma população já bem maior mobilizava 40% da força de trabalho e, hoje, essa proporção mal chega a 3%. Quem abandonou a roça foi para cidades, integrando a força de trabalho da indústria e dos serviços.

Esse processo pode ser cruel para com indivíduos que ficam sem emprego e não conseguem se reciclar, mas é dele que a sociedade extrai sua prosperidade. É o velho fazer mais com menos.

A internet, com sua incrível capacidade de conectar pessoas, abriu novos veios de ineficiências a eliminar. Se você tem um carro e não é chofer de praça nem caixeiro viajante, ele passa a maior parte do dia parado, o que é uma ineficiência. Se você tem um imóvel vago ou mesmo um dormitório que ninguém usa, está sendo improdutivo. O mesmo vale para outros apetrechos que você possa ter, mas são subutilizados.

Os aplicativos de compartilhamento, ao ligar de forma instantânea demandantes a ofertantes, permitem à sociedade fazer muito mais com aquilo que já foi produzido (carros, prédios, tempo disponível etc.), que é outro jeito de dizer que ela fica mais rica.

É claro que isso só dá certo se não forem criadas regulações desnecessárias que embaracem os acertos voluntários entre as partes. A burocratização da oferta de serviços de aplicativos torna-os indistinguíveis. Dá para descrever isso como a destruição de riqueza.

(Hélio Schwartzman. *Folha de S.Paulo*. 31.10.2017. Adaptado)

03. Conforme o texto, as soluções encontradas pela economia, em geral tecnológicas, para reduzir ineficiências

- (A) são socialmente condenáveis, na medida em que a produção de riquezas passa a depender menos de mão de obra, causando desemprego.
- (B) constituem um retrocesso, já que prejudicam especialmente a força de trabalho que veio do campo, e que não está adaptada a tecnologias.
- (C) não provocam grandes impactos, uma vez que a totalidade dos trabalhadores oriundos da agricultura e da indústria acabam sendo absorvidos.
- (D) são muito positivas econômica e socialmente, pois exigem que os trabalhadores se reciclem e requerem grande volume de mão de obra especializada.
- (E) podem ser danosas aos trabalhadores que, não conseguindo se adaptar a essa realidade, ficam sem emprego, mas necessárias para a prosperidade social.

04. Conforme o autor do texto, a internet possibilitou

- (A) a eliminação da ineficiência do trabalho no campo e na indústria, mas teve menos sucesso nos resultados do setor de serviços.
- (B) ganhos econômicos com soluções tecnológicas que garantiram maior eficiência na produção de bens de consumo como automóveis.
- (C) novas formas de produção, fornecendo soluções tecnológicas que tornaram os carros mais eficientes e os imóveis mais confortáveis.
- (D) novas maneiras de gerar riqueza a partir de bens improdutivos ou subutilizados, por meio dos aplicativos de compartilhamento.
- (E) a abolição de vagas de trabalho e em áreas específicas de prestação de serviços, arruinando a geração de riquezas e comprometendo economias.

05. Na frase do último parágrafo “Dá para descrever **isso** como a destruição de riqueza.”, o termo **isso**, em destaque, refere-se

- (A) à manutenção de um veículo parado na maior parte do dia por falta de disposição do proprietário para trabalhar.
- (B) à ineficiência dos imóveis que dispõem de espaços sem qualquer utilidade prática, permanecendo sem uso.
- (C) ao hábito de acumular objetos que ninguém usa, ou que são subutilizados quando poderiam ser mais produtivos.
- (D) à ineficácia dos aplicativos de compartilhamento, cuja tecnologia obsoleta não consegue conectar potenciais usuários.
- (E) à criação de empecilhos para a oferta de serviços prestados por aplicativos, por meio de regulações inconvenientes.

06. Assinale a alternativa em que, no trecho que completa a frase a seguir, o acento indicativo da crase está empregado corretamente, de acordo com a norma-padrão da língua.

A internet tem se consolidado como uma ferramenta indispensável na sociedade atual, especialmente no que diz respeito

- (A) à algumas atividades mais recentes do mercado de trabalho.
- (B) à quem pretende ingressar em novos campos de trabalho.
- (C) à novas formas de produção e de geração de riquezas.
- (D) à capacidade da rede em diminuir distâncias entre pessoas e empresas.
- (E) à eliminar ineficiências que impedem a produtividade.

07. Assinale a alternativa cujo termo **para**, em destaque, expressa ideia de finalidade.

- (A) A economia cresce encontrando soluções, em geral tecnológicas, **para** reduzir ineficiências...
- (B) Quem abandonou a roça foi **para** cidades, integrando a força de trabalho da indústria e dos serviços.
- (C) Esse processo pode ser cruel **para** com indivíduos que ficam sem emprego...
- (D) O mesmo vale **para** outros apetrechos que você possa ter, mas são subutilizados.
- (E) Dá **para** descrever isso como a destruição de riqueza.

08. Considere a seguinte passagem do texto:

- É claro que isso só dá certo se não forem criadas regulações desnecessárias que embarquem **os acertos voluntários entre as partes**.

Substituindo-se a expressão em destaque por um pronome, a redação estará correta quanto ao pronome e sua colocação, de acordo com a norma-padrão da língua, em:

- (A) É claro que isso só dá certo se não forem criadas regulações desnecessárias que embarquem-lhes.
- (B) É claro que isso só dá certo se não forem criadas regulações desnecessárias que lhes embarquem.
- (C) É claro que isso só dá certo se não forem criadas regulações desnecessárias que os embarquem.
- (D) É claro que isso só dá certo se não forem criadas regulações desnecessárias que embarquem-os.
- (E) É claro que isso só dá certo se não forem criadas regulações desnecessárias que embarquem-nos.

09. Assinale a alternativa em que a reescrita da frase “A internet, com sua incrível capacidade de conectar pessoas, abriu novos veios de ineficiências a eliminar” permanece coerente com as ideias do texto e correta quanto à pontuação, de acordo com a norma-padrão da língua.

- (A) Com sua incrível capacidade de conectar pessoas, a internet abriu novos veios de ineficiências a eliminar.
- (B) Com sua incrível capacidade de conectar pessoas a internet, abriu novos veios de ineficiências a eliminar.
- (C) Com sua incrível capacidade de conectar pessoas a internet abriu, novos veios de ineficiências a eliminar.
- (D) Com sua incrível capacidade de conectar pessoas a internet abriu novos, veios de ineficiências a eliminar.
- (E) Com sua incrível capacidade de conectar pessoas a internet abriu novos veios, de ineficiências a eliminar.

10. Leia o trecho a seguir.

No passado, a mão de obra oriunda do campo era absorvida _____ indústria. Em um passado mais recente, o setor de serviços encarregou-se _____ ocupar boa parte dos trabalhadores que perderam espaço na indústria, que tem investido sistematicamente _____ automação e outras tecnologias. Atualmente, dispersos _____ diferentes campos de atuação, o desafio dos trabalhadores consiste _____ se adaptar à era da internet e da informática.

Considerando as regras de regência verbal e nominal, conforme a norma-padrão da língua, as lacunas do texto devem ser preenchidas, correta e respectivamente, com

- (A) na ... de ... de ... com ... de
- (B) pela ... de ... em ... por ... em
- (C) pela ... a ... de ... por ... com
- (D) da ... de ... em ... com ... em
- (E) com a ... por ... em ... de ... por

MATEMÁTICA

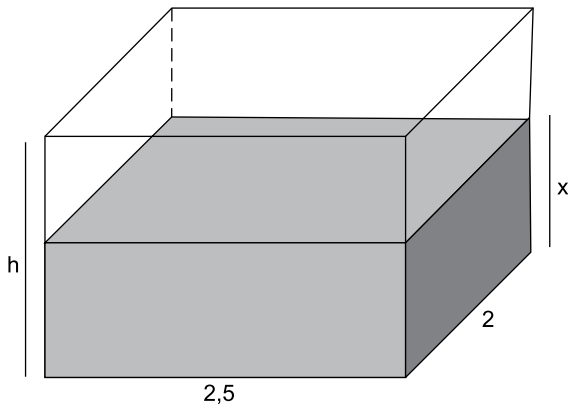
11. Em uma empresa na qual são comercializados produtos natalinos, a média aritmética das receitas mensais do 4º trimestre de 2016 foi igual ao triplo da média aritmética das receitas mensais do trimestre imediatamente anterior. Se a receita total do segundo semestre de 2016 foi igual a 9 milhões de reais, então a receita total do 3º trimestre desse mesmo ano foi, em milhões de reais, igual a

- (A) 2,0.
- (B) 2,25.
- (C) 2,75.
- (D) 3,0.
- (E) 3,25.

12. De acordo com a previsão elaborada, em dezembro de 2017 deverão ser vendidas x unidades do produto P. Se o número de unidades efetivamente vendidas for igual a y , haverá, em relação a x , uma redução de 20%. Entretanto, se o número de unidades efetivamente vendidas for igual $2y$, então haverá, em relação a x , um acréscimo de

- (A) 40%.
- (B) 50%.
- (C) 60%.
- (D) 80%.
- (E) 100%.

13. Em um reservatório com a forma de paralelepípedo reto retângulo, com 2,5 m de comprimento e 2 m de largura, inicialmente vazio, foram despejados 4 m³ de água, e o nível da água nesse reservatório atingiu uma altura de x metros, conforme mostra a figura.

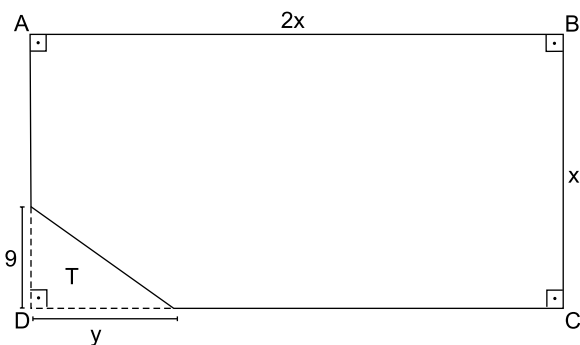


Sabe-se que para enchê-lo completamente, sem transbordar, é necessário adicionar mais 3,5 m³ de água. Nessas condições, é correto afirmar que a medida da altura desse reservatório, indicada por h na figura, é, em metros, igual a

- (A) 1,25.
(B) 1,5.
(C) 1,75.
(D) 2,0.
(E) 2,5.
14. Sabe-se que n candidatos participaram da primeira fase de um processo seletivo, e que a razão entre o número de candidatos classificados para a segunda fase e o número de candidatos desclassificados foi de 2 para 3, nessa ordem. Sabe-se também que todos os candidatos classificados participaram da segunda fase, e que $\frac{19}{20}$ deles foram eliminados, restando apenas 6 candidatos. Nessas condições, é correto afirmar que n é igual a

- (A) 120.
(B) 150.
(C) 180.
(D) 240.
(E) 300.

15. Uma caixa-forte tem 3 sistemas eletrônicos de segurança independentes, conectados a órgãos distintos. No momento de qualquer violação, os três sistemas enviam sinais codificados simultaneamente. A partir daí, um deles repete o envio da mensagem a cada 15 segundos, o outro a cada 25 segundos, e o terceiro, a cada 30 segundos. Caso ocorra qualquer violação, o menor intervalo de tempo decorrido entre dois envios simultâneos de mensagens pelos três sistemas será igual a
- (A) 3min 15s.
 (B) 2min 50s.
 (C) 2min 30s.
 (D) 2min 25s.
 (E) 1min 50s.
16. Um levantamento efetuado pelo departamento de compras de uma empresa encontrou três marcas diferentes, A, B e C, para um mesmo produto, sendo o preço unitário do produto da marca A igual à metade da soma dos preços unitários dos produtos das marcas B e C. Se duas unidades da marca A, mais uma unidade da marca B e mais uma unidade da marca C custam, juntas, R\$ 1.400,00, então três unidades da marca A irão custar
- (A) R\$ 1.050,00.
 (B) R\$ 1.100,00.
 (C) R\$ 1.150,00.
 (D) R\$ 1.250,00.
 (E) R\$ 1.300,00.
17. Na figura a seguir, cujas dimensões indicadas estão em metros, a região triangular T representa a parte do terreno retangular ABCD que foi desapropriada para possibilitar melhorias viárias no entorno. Da área original do terreno ABCD, igual a 1250 m^2 , foram desapropriados 54 m^2 .



Com a desapropriação, o perímetro do terreno ABCD foi reduzido em

- (A) 21 m.
 (B) 16 m.
 (C) 14 m.
 (D) 10 m.
 (E) 6 m.

18. Inicialmente, cada um dos quatro amigos participantes de um jantar deveria pagar a quarta parte do valor total da conta. Entretanto, um deles pôde pagar somente a metade da fração que lhe caberia inicialmente e, desse modo, os outros três assumiram a diferença, dividida em partes iguais. Nessas condições, cada um dos três amigos que assumiram a maior contribuição pagou uma quantia que corresponde, do valor total da conta, a

(A) $\frac{1}{3}$

(B) $\frac{7}{24}$

(C) $\frac{4}{15}$

(D) $\frac{5}{18}$

(E) $\frac{6}{25}$

19. Em uma indústria, 20 máquinas iguais, de mesmo rendimento, produzem juntas 5000 parafusos iguais, em meia hora de funcionamento simultâneo e ininterrupto. Desse modo, para produzir 1 000 unidades dos mesmos parafusos em uma hora, seria necessário o funcionamento, nas mesmas condições operacionais, de apenas

(A) 2 máquinas.

(B) 3 máquinas.

(C) 5 máquinas.

(D) 6 máquinas.

(E) 8 máquinas.

20. Uma prova de um processo seletivo tem o número de questões e o tempo máximo de resolução previamente determinados. Cristiano, que fará a prova, concluiu que, se gastar exatamente 1 minuto e meio para resolver cada questão, irá terminar a prova 10 minutos antes do prazo máximo previsto. Entretanto, se gastar exatamente 2 minutos e 12 segundos para resolver cada questão, irá exceder em 18 minutos o prazo limite, o que não é permitido. Se o horário previsto para início da prova é 9h 45min, então o horário limite estipulado para a sua conclusão é

(A) 11h 15min.

(B) 11h 10min.

(C) 11h.

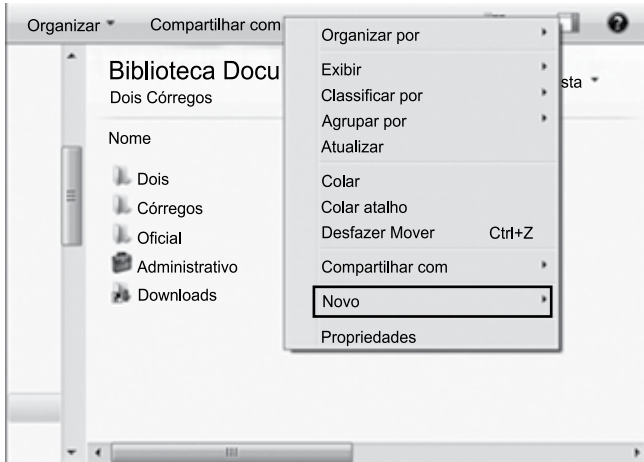
(D) 10h 55min.

(E) 10h 45min.

LEGISLAÇÃO

21. No que diz respeito aos Deputados e Senadores, a Constituição Federal estabelece que é uma hipótese de perda de mandato se o Parlamentar assumir o cargo
- (A) de Secretário de Estado ou do Distrito Federal.
 - (B) de Prefeitura de Capital.
 - (C) de Ministro de Estado.
 - (D) de Governador de Território.
 - (E) remunerado demissível *ad nutum* em empresa pública.
22. Segundo a Constituição Federal, a admissão ou contratação de pessoal, a qualquer título, pelas sociedades de economia mista só poderão ser feitas
- (A) se houver prévia dotação orçamentária suficiente para atender às projeções de despesa de pessoal e aos acréscimos dela decorrentes.
 - (B) se houver autorização específica na lei de diretrizes orçamentárias.
 - (C) por meio de concurso público de provas ou de provas e títulos e que não representem aumento de despesas para o exercício financeiro seguinte.
 - (D) por autorização específica do Superintendente da empresa, aprovada pelo respectivo Conselho de Administração um ano antes das contratações.
 - (E) após a aprovação legislativa específica do Congresso Nacional autorizando as respectivas contratações.
23. Determinado Prefeito envia projeto de lei à Câmara dos Vereadores propondo a criação de um Conselho de Contas para exercer a função de fiscalização das contas do Município cujos servidores serão contratados por meio de cargos de livre nomeação e exoneração. Conforme o que estabelece a Constituição Federal, esse projeto é
- (A) constitucional, pois trata de matéria de iniciativa privativa do Chefe do Executivo e não há impedimento à contratação de servidores em cargos de comissão para o órgão a ser criado.
 - (B) inconstitucional, uma vez que, embora a proposta de criação do órgão de fiscalização seja permitida, os seus cargos devem ser preenchidos por concurso público.
 - (C) constitucional, desde que a criação do órgão seja aprovada com o procedimento e o quórum de lei complementar.
 - (D) inconstitucional, pois a Carta Magna veda a criação desse tipo de órgão.
 - (E) constitucional, desde que haja previsão orçamentária para a criação do órgão e os seus cargos sejam destinados às funções de direção, chefia e assessoramento.
24. Considerando o disposto na Constituição do Estado de São Paulo, assinale a alternativa correta a respeito da inviolabilidade dos Deputados Estaduais.
- (A) Os Deputados são invioláveis por quaisquer de suas opiniões, palavras e votos, exceto no âmbito penal.
 - (B) Os Deputados, desde a expedição do diploma, serão submetidos a julgamento perante o Superior Tribunal de Justiça.
 - (C) Os Deputados não serão obrigados a testemunhar sobre informações recebidas ou prestadas em razão do exercício do mandato.
 - (D) Desde a eleição, os membros da Assembleia Legislativa não poderão ser presos, salvo em flagrante de crime inafiançável.
 - (E) As imunidades dos Deputados não subsistirão durante o Estado de Sítio ou em caso de decretação de calamidade pública.
25. Nos termos da Constituição do Estado de São Paulo, os recursos financeiros provenientes da exploração de gás natural, que couberem ao Estado por força do disposto no § 1º do art. 20 da Constituição Federal,
- (A) deverão ser destinados integralmente aos cofres do Estado de São Paulo, para financiamento dos sistemas estaduais de educação e de saúde.
 - (B) serão aplicados preferencialmente na construção, desenvolvimento e manutenção do sistema estadual de gás canalizado.
 - (C) deverão ser partilhados na proporção de 50% para o Estado e 50% para o Município onde estiver sendo explorado o respectivo recurso natural.
 - (D) não poderão ser utilizados para pagamento de servidores públicos ou para investimentos em áreas não prioritárias do Estado.
 - (E) serão destinados aos cofres públicos do Estado e deverão ser incorporados ao orçamento estadual e utilizados no exercício financeiro seguinte.

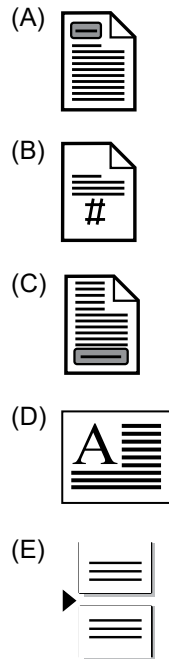
26. Considere a janela do Windows Explorer do MS-Windows 7, em sua configuração original, apresentada na figura a seguir. Nela, aparece o menu de contexto que foi ativado quando o usuário clicou com o botão secundário (normalmente o direito) do mouse em uma área livre (sem arquivos) da Biblioteca de Documentos.



Assinale a alternativa que contém uma das opções disponíveis no novo menu de contexto que aparecerá quando o usuário clicar em Novo, item emoldurado na figura.

- (A) Lixeira.
- (B) Computador.
- (C) Pasta.
- (D) Desktop.
- (E) Documentos.

27. Considerando o MS-Word 2010, em sua configuração original, assinale a alternativa que contém a imagem representando o ícone do grupo Cabeçalho e Rodapé, da guia Inserir, que permite inserir números de página nos documentos.



28. Observe a planilha do MS-Excel 2010, na sua configuração padrão, apresentada parcialmente na figura:

	Q	R	S	T	U
11	A	B	C	D	E
12	R\$ 10	R\$ 15	R\$ 20	R\$ 25	R\$ 50
13					
14	Nível	Bônus			
15	A.Trainee				
16	B.Júnior				
17	C.Pleno				
18	D.Senior				
19	E.Consultor				

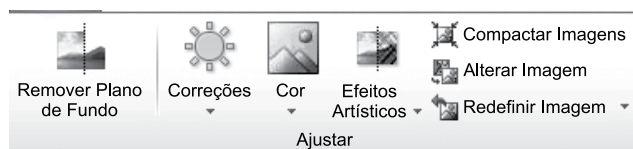
Assinale a alternativa que contém o valor de bônus do nível B. Júnior, considerando que esse valor será o resultado da fórmula

$$=SE(PROCH(ESQUERDA(Q16;1);Q11:U12;2;FALSO)>15;100+10*5;50-5*2)$$

inserida na célula R16. Considere que o caractere “;” (ponto e vírgula) está configurado como separador dos argumentos das funções.

- (A) R\$ 550
- (B) R\$ 150
- (C) R\$ 90
- (D) R\$ 40
- (E) R\$ 20

29. Observe o grupo Ajustar, ilustrado a seguir, extraído do MS-PowerPoint 2010, na sua configuração padrão.



O grupo Ajustar pertence à guia _____, que fica disponível para o usuário quando uma _____ é selecionada na apresentação.

Assinale a alternativa contendo as informações que preenchem corretamente as lacunas, na ordem em que são apresentadas.

- (A) Ferramentas de Imagem ... forma geométrica
- (B) Exibição ... caixa de texto
- (C) Animações ... forma geométrica
- (D) Ferramentas de Desenho ... imagem
- (E) Ferramentas de Imagem ... imagem

30. Observe a lista de mensagens eletrônicas na Caixa de Entrada do MS-Outlook 2010, em sua configuração original, de um usuário.

Pesquisar Caixa de Entrada (Ctrl+E)			
De	Assunto	Recebido em	Tamanho
Data: Hoje			
Confirmação e Número da sorte...	Confirmação e Número da Sorte – Tudo Azul no Black Friday	dom 12/11/2017 ...	26 KB
Nextel – Parceiro	[Spam] Plano Controle Com Internet a Partir de 54,99 Mensais.	dom 12/11/2017 ...	24 KB
Multiplus	OPORTUNIDADE: GANHE até 60% de pontos extras transferindo os p...	dom 12/11/2017 ...	67 KB
Folha de São Paulo	[Spam] 20 Dias Grátis Para Aproveitar o Melhor Conteúdo	dom 12/11/2017 ...	20 KB
Firbit	Congrats on earning your Skydiver badge!	dom 12/11/2017 ...	47 KB
Carbraxx – Parceiro	[Spam] Venha se Surpreender, Venda Seu Carro Com a Carbraxx!	dom 12/11/2017 ...	13 KB
Netshoes – Parceiro	[Spam] O mais vendido: Cupom de R\$ 50 OFF	dom 12/11/2017 ...	34 KB

Assinale a alternativa que contém a opção habilitada para ser executada com as três mensagens selecionadas.

- (A) Bloquear Remetente.
- (B) Responder.
- (C) Responder a Todos.
- (D) Responder com Reunião.
- (E) Encaminhar.

CONHECIMENTOS ESPECÍFICOS

31. Em uma empresa, uma das características essenciais de um ativo é
- (A) gerar benefícios econômicos para a entidade.
 - (B) ser um recurso decorrente de evento futuro.
 - (C) ser de propriedade legal.
 - (D) ter sido utilizado para liquidar um passivo.
 - (E) ter forma física.
32. Em uma empresa, uma receita pode ser gerada
- (A) pelo aumento de capital social em dinheiro.
 - (B) pela redução do passivo em decorrência do reconhecimento de variação cambial.
 - (C) pelos juros dos empréstimos obtidos.
 - (D) pela perda por *impairment*.
 - (E) pelo reconhecimento inicial de uma provisão trabalhista.
33. Em uma empresa, uma despesa pode ser gerada
- (A) pela redução das reservas de lucros para aumento do capital social.
 - (B) pelo aumento de uma aplicação financeira avaliada a valor justo.
 - (C) pelo pagamento a fornecedores.
 - (D) pelo reconhecimento de ajuste de perdas de estoques.
 - (E) pela aquisição de um veículo à vista.
34. Em uma empresa, mensurar com confiabilidade o valor de liquidação de uma obrigação presente corresponde a um dos critérios para
- (A) definir um ativo.
 - (B) definir uma despesa.
 - (C) evidenciar uma receita.
 - (D) reconhecer um passivo.
 - (E) reconhecer um passivo contingente.
35. Para fins gerenciais, o gestor de uma empresa solicitou à contabilidade que os estoques de matéria-prima fossem mensurados pelo montante em caixa ou equivalentes de caixa que teriam de ser pagos se esses mesmos estoques fossem adquiridos na data do Balanço Patrimonial.
- Nesse caso, a base de mensuração a ser utilizada corresponde ao
- (A) custo histórico.
 - (B) valor presente.
 - (C) custo corrente.
 - (D) custo de oportunidade.
 - (E) valor realizável.
36. Em 11 de outubro de 2017, a Cia. *BMJ* adquiriu um lote de mercadorias pelo valor de R\$ 1.050,00, sendo 20% do valor pago à vista, 60% em novembro de 2017 e 20% em dezembro de 2017. No dia 10 de novembro de 2017, a Cia. *BMJ* vendeu metade do lote de mercadorias por R\$ 2.500,00. Do valor da venda, recebeu R\$ 1.300,00 à vista e o restante seria recebido em 90 dias. Sabendo que não havia estoques iniciais e desconsiderando a incidência de tributos, o resultado apurado pela Cia. *BMJ*, referente ao exercício financeiro de 2017, com a venda da metade do lote de mercadorias foi, em R\$,
- (A) 1.975,00.
 - (B) 1.660,00.
 - (C) 1.450,00.
 - (D) 670,00.
 - (E) 250,00.
37. Considere os itens a seguir integrantes do patrimônio da empresa comercial de alimentos *JKX S.A.*, em 31 de dezembro de 2016:
- I. Adiantamento de Clientes no valor de R\$ 20.000,00 referente a mercadorias que seriam entregues em fevereiro de 2017.
 - II. Empréstimos Bancários no valor de R\$ 210.000,00 com vencimento em agosto de 2019.
 - III. Direito de uso de uma patente adquirido em setembro de 2016 com vida útil definida em 5 anos. O direito de uso da patente é necessário para as atividades operacionais da empresa.
- Os itens I, II e III devem ser classificados, respectivamente, no Balanço Patrimonial de 31 de dezembro de 2016 da *JKX S.A.*, como
- (A) ativo circulante; passivo não circulante; ativo intangível.
 - (B) passivo circulante; passivo não circulante; ativo intangível.
 - (C) passivo circulante; passivo circulante; ativo realizável a longo prazo.
 - (D) ativo circulante; passivo circulante; ativo realizável a longo prazo.
 - (E) passivo circulante; passivo não circulante; ativo imobilizado.

38. Em 1º de novembro de 2017, a empresa ABC adquiriu um lote de mercadorias para revenda pelo valor de R\$ 8.800,00 a prazo. Além disso, teve gastos com seguros no valor de R\$ 500,00 e com fretes no valor de R\$ 700,00 para levar as mercadorias até o seu centro de distribuição. Em 18 de novembro de 2017, devido a erros de especificação do pedido, o fornecedor concedeu à empresa ABC um abatimento no valor de R\$ 400,00. No dia 29 de novembro de 2017, o lote de mercadorias foi vendido por R\$ 17.000,00. Com base nesses dados e desconsiderando a incidência de tributos, o resultado bruto com a venda de mercadorias em novembro de 2017 foi, em R\$,
- (A) 8.200,00.
(B) 7.500,00.
(C) 7.400,00.
(D) 7.000,00.
(E) 6.600,00.
39. Em 31 de dezembro de 2016, a Cia. *Rocha e Silva* faltava analisar e realizar os registros contábeis, quando necessários, das seguintes transações ocorridas em dezembro de 2016:
- Pagamento a fornecedores, no valor de R\$ 2.000,00, por mercadorias adquiridas em outubro de 2016.
 - A empresa realizou o teste de *impairment* de um ativo intangível com vida útil indefinida em 31 de dezembro de 2016. Nessa data, o valor contábil era de R\$ 15.000,00, o valor justo líquido de despesa de venda de R\$ 14.500,00 e o valor em uso de R\$ 15.500,00.
 - Pagamento antecipado, em 31 de dezembro de 2016, por uma assinatura de jornal referente a um período de seis meses, janeiro a junho de 2017, no valor de R\$ 900,00.
 - Em 31 de dezembro de 2016, a Cia. *Rocha e Silva* possuía R\$ 100.000,00 em duplicatas a receber de clientes e uma Estimativa de Perdas com Créditos de Liquidação Duvidosa – EPCLD no valor de R\$ 5.000,00, antes de considerar que o cliente Z, que devia R\$ 6.000,00, tornou-se incobrável.
- Com base nessas informações, houve uma redução no Lucro Antes do Imposto de Renda – IR e Contribuição Social sobre o Lucro Líquido – CSLL referente a dezembro de 2016 de, em R\$,
- (A) 6.000,00.
(B) 3.000,00.
(C) 1.900,00.
(D) 1.500,00.
(E) 1.000,00.
40. Na elaboração da Demonstração dos Fluxos de Caixa de uma empresa pelo método indireto, um item que deve ser reduzido do Lucro Líquido do Exercício para apurar o fluxo de caixa das atividades operacionais é
- (A) o resultado positivo de equivalência patrimonial.
(B) a despesa de depreciação.
(C) o resultado negativo com a venda de imobilizado.
(D) a variação negativa do saldo da conta Clientes.
(E) a variação positiva do saldo da conta Fornecedores.
41. A empresa *Alfa S.A.* adquiriu, em 31 de dezembro de 2014, uma máquina por R\$ 300.000,00, à vista. Na data da aquisição, a vida útil econômica da máquina e o seu valor residual foram estimados, respectivamente, em 10 anos e R\$ 60.000,00. Em 31 de agosto de 2017, a empresa vendeu a máquina por R\$ 222.000,00 à vista. Considerando que a empresa utilizou o método das cotas constantes para o cálculo da despesa de depreciação, o resultado obtido com a venda da máquina, evidenciado na Demonstração do Resultado do exercício de 2017, foi
- (A) positivo em R\$ 2.000,00.
(B) positivo em R\$ 10.000,00.
(C) negativo em R\$ 14.000,00.
(D) positivo em R\$ 46.000,00.
(E) positivo em R\$ 62.000,00.
42. Em 1º de novembro de 2017, a empresa comercial *Beta S.A.* adquiriu um lote de mercadorias pelo valor de R\$ 300.000,00 à vista, sendo que nesse valor estava incluído o ICMS – Imposto sobre Operações relativas à Circulação de Mercadorias e sobre Prestação de Serviços de Transporte Interestadual e Intermunicipal e de Comunicação de R\$ 54.000,00. Em 14 de novembro de 2017, a *Beta S.A.* vendeu 50% desse lote de mercadorias pelo valor de R\$ 230.000,00 para recebimento em 30 dias, sendo que nesse valor estava incluído ICMS de R\$ 41.400,00. O ICMS é um tributo recuperável e não havia estoques iniciais em 1º de novembro de 2017. Para o registro contábil das transações ocorridas em novembro de 2017, a conta
- (A) Estoques foi debitada pelo valor de R\$ 150.000,00.
(B) Tributos a Recuperar foi debitada pelo valor de R\$ 54.000,00.
(C) Custos das Mercadorias Vendidas foi debitada pelo valor de R\$ 150.000,00.
(D) Clientes foi debitada pelo valor de R\$ 188.600,00.
(E) Receita de Vendas foi debitada pelo valor de R\$ 230.000,00.

43. A empresa *Flores e Cores* produz e vende rolos de um tipo de papel de parede, cujas informações referentes ao mês de novembro de 2017 são apresentadas a seguir:

Itens	Rolos de Papel de Parede
Quantidade produzida	6.000
Quantidade vendida	5.000
Custo variável (por unidade)	R\$ 20,00
Despesa variável (por unidade)	R\$ 4,50
Preço Líquido de Venda (por unidade)	R\$ 43,00

No início do mês de novembro de 2017, não havia estoques iniciais de produtos acabados e em elaboração e, no final desse mês, não havia estoques de produtos em elaboração. Os custos fixos do mês de novembro de 2017 foram R\$ 66.000,00 e as despesas fixas R\$ 24.000,00.

Com base nessas informações, o lucro bruto total do mês de novembro de 2017 da empresa *Flores e Cores*, apurado de acordo com o método de custeio por absorção, foi, em R\$,

- (A) 92.500,00.
- (B) 72.000,00.
- (C) 60.000,00.
- (D) 37.500,00.
- (E) 17.500,00.

44. A gráfica *WCL* produz diversos tipos de produtos por encomenda, entre eles, folders. Para um pedido de folders realizado por um cliente, um item que é classificado como custo fixo é o valor

- (A) da aquisição de máquina com vida útil econômica estimada em 10 anos.
- (B) do seguro mensal do prédio onde funciona a gráfica.
- (C) do lote de papel deteriorado em decorrência de uma enchente sofrida pela gráfica.
- (D) da matéria-prima consumida na produção dos folders.
- (E) da comissão paga ao vendedor do pedido de folders.

45. Na apuração de custos, uma das etapas é determinar a unidade que se deseja mensurar e avaliar custos. Essa unidade é denominada

- (A) método de custeio.
- (B) sistema de acumulação de custos.
- (C) critério de mensuração.
- (D) custo primário.
- (E) objeto de custo.

Considere as seguintes informações para responder às questões de números 46 a 49.

As seguintes informações foram extraídas do Balanço Orçamentário de um Poder Executivo municipal referente ao exercício financeiro de 2016, em R\$:

Receitas Orçamentárias	Previsão Inicial	Previsão Atualizada	Receitas Realizadas
Alienação de Bens Imóveis	2.000.000,00	2.000.000,00	2.000.000,00
Alienação de Bens Móveis	1.500.000,00	1.500.000,00	1.000.000,00
Contribuições de Melhoria	600.000,00	600.000,00	650.000,00
Contribuições Econômicas	200.000,00	200.000,00	180.000,00
Contribuições para o Custeio do Serviço de Iluminação Pública	350.000,00	350.000,00	340.000,00
Contribuições Sociais	400.000,00	400.000,00	400.000,00
Impostos	20.000.000,00	20.000.000,00	19.000.000,00
Operações de Crédito – Mercado Interno	800.000,00	800.000,00	750.000,00
Taxas	8.000.000,00	8.000.000,00	7.500.000,00
Transferências de Convênios (Receitas Correntes)	6.800.000,00	6.800.000,00	1.000.000,00
Transferências de Convênios (Receitas de Capital)	3.000.000,00	3.000.000,00	2.500.000,00

Despesas Orçamentárias	Dotação Inicial	Dotação Atualizada	Despesas Empenhadas	Despesas Liquidadas	Despesas Pagas
Amortização da Dívida	300.000,00	300.000,00	300.000,00	300.000,00	250.000,00
Inversões Financeiras	1.500.000,00	1.000.000,00	850.000,00	850.000,00	850.000,00
Investimentos	5.500.000,00	6.000.000,00	5.800.000,00	5.500.000,00	5.000.000,00
Juros e Encargos da Dívida	150.000,00	100.000,00	100.000,00	90.000,00	80.000,00
Outras Despesas Correntes	19.600.000,00	20.000.000,00	19.000.000,00	18.000.000,00	17.000.000,00
Pessoal e Encargos Sociais	16.600.000,00	16.250.000,00	15.100.000,00	14.800.000,00	14.500.000,00

Informações adicionais referentes ao exercício financeiro de 2016:

- Não houve contribuição dos servidores municipais para o custeio do seu sistema de previdência e assistência social.
- Não houve receitas provenientes da compensação financeira citada no § 9º do art. 201 da Constituição Federal de 1988.

46. Com base nessas informações e de acordo com as determinações da Lei de Responsabilidade Fiscal, a Receita Corrente Líquida do exercício financeiro de 2016 foi, em R\$,

- (A) 36.350.000,00.
- (B) 31.570.000,00.
- (C) 29.070.000,00.
- (D) 28.890.000,00.
- (E) 26.500.000,00.

47. Com base nessas informações e de acordo com as determinações da Lei de Responsabilidade Fiscal, a Despesa Total com Pessoal do Poder Executivo municipal no exercício financeiro de 2016 não poderia ultrapassar o limite de

- (A) 60% da Receita Corrente Líquida Realizada.
- (B) 60% da Receita Orçamentária Atualizada.
- (C) 60% da Receita Orçamentária Realizada.
- (D) 54% da Receita Corrente Líquida Realizada.
- (E) 54% da Receita Corrente Líquida Atualizada.

48. Com base nessas informações, os Restos a Pagar Processados e os Restos a Pagar não Processados inscritos em 31 de dezembro de 2016 foram, respectivamente, em R\$,

- (A) 1.610.000,00 e 1.860.000,00.
- (B) 1.610.000,00 e 3.470.000,00.
- (C) 1.610.000,00 e 4.110.000,00.
- (D) 1.860.000,00 e 1.610.000,00.
- (E) 3.470.000,00 e 1.610.000,00.

49. De acordo com as determinações do Manual de Contabilidade Aplicada ao Setor Público, nas tabelas dadas, as receitas orçamentárias e as despesas orçamentárias foram apresentadas, respectivamente, conforme as classificações por

- (A) Origem e Categoria Econômica.
- (B) Origem e Elemento de Despesa.
- (C) Origem e Grupo de Natureza da Despesa.
- (D) Espécie e Categoria Econômica.
- (E) Espécie e Grupo de Natureza da Despesa.

50. Uma entidade pública municipal publicou um demonstrativo em que, entre outras, as seguintes informações foram observadas, em R\$:

Despesas	Dotação Inicial	Dotação Atualizada
Segurança Pública	1.450.000,00	1.460.000,00
Policimento	780.000,00	790.000,00
Defesa Civil	670.000,00	670.000,00
Saneamento	590.000,00	590.000,00
Saneamento Básico Urbano	590.000,00	590.000,00

De acordo com as determinações da Lei de Responsabilidade Fiscal, as informações podem ter sido extraídas do Demonstrativo da Execução das Despesas por

- (A) Função/Subfunção que integra o Relatório Resumido da Execução Orçamentária.
- (B) Função/Grupo de Natureza da Despesa que integra o Relatório Resumido da Execução Orçamentária.
- (C) Categoria Econômica/Grupo de Natureza da Despesa que integra o Relatório de Gestão Fiscal.
- (D) Função/Subfunção que integra o Relatório de Gestão Fiscal.
- (E) Programa/Atividade que integra o Relatório de Gestão Fiscal.

Considere as seguintes informações para responder às questões de números 51 e 52.

Em 1º de janeiro de 2016, a repartição competente de uma entidade pública municipal verificou a procedência do crédito referente ao Imposto Predial e Territorial Urbano – IPTU e a pessoa devedora e inscreveu o débito desta. O devedor, em 22 de janeiro de 2016, efetuou o pagamento do valor devido em uma instituição financeira autorizada e, em 26 de janeiro de 2016, o valor pago pelo devedor foi transferido à conta do Tesouro Municipal.

51. De acordo com as determinações do Manual de Contabilidade Aplicada ao Setor Público, o resultado de execução orçamentária, conforme Lei nº 4.320/64, e o resultado patrimonial da entidade pública municipal foram impactados, respectivamente, em

- (A) 1º de janeiro de 2016 e 1º de janeiro de 2016.
- (B) 1º de janeiro de 2016 e 22 de janeiro de 2016.
- (C) 22 de janeiro de 2016 e 1º de janeiro de 2016.
- (D) 22 de janeiro de 2016 e 22 de janeiro de 2016.
- (E) 22 de janeiro de 2016 e 26 de janeiro de 2016.

52. De acordo com as determinações do Manual de Contabilidade Aplicada ao Setor Público, o crédito referente ao Imposto Predial e Territorial Urbano – IPTU classifica-se, quanto à origem, em Receitas
- (A) Tributárias, sendo que em 1º de janeiro de 2016 ocorreu a previsão da receita orçamentária.
 - (B) Tributárias, sendo que em 1º de janeiro de 2016 ocorreu o lançamento da receita orçamentária.
 - (C) Correntes, sendo que em 22 de janeiro de 2016 ocorreu a arrecadação da receita orçamentária.
 - (D) com Impostos, sendo que em 22 de janeiro de 2016 ocorreu o recolhimento da receita orçamentária.
 - (E) com Impostos, sendo que em 26 de janeiro de 2016 ocorreu o recolhimento da receita orçamentária.

53. Considere a seguinte tabela com a meta de um governo municipal:

R\$ milhares correntes

	2016	2017	2018
I. Receita fiscal	192.000	205.700	220.500
II. Despesa fiscal	190.000	204.000	218.400
III. Resultado primário (I-II)	2.000	1.700	2.100

De acordo com as determinações da Lei de Responsabilidade Fiscal, a meta de resultado primário deve constar no

- (A) Projeto de Lei Orçamentária Anual.
 - (B) Projeto de Lei de Diretrizes Orçamentárias.
 - (C) Projeto de Plano Plurianual.
 - (D) Relatório de Gestão Fiscal.
 - (E) Plano Diretor Municipal.
54. De acordo com a Lei de Responsabilidade Fiscal, a receita de capital derivada da alienação de bens que integram o patrimônio pode ser utilizada para o financiamento de despesas com
- (A) planejamento e execução de obras para construção de um prédio.
 - (B) passagens e despesas de locomoção.
 - (C) material de consumo.
 - (D) serviços de limpeza predial terceirizado.
 - (E) auxílio-transporte para os servidores públicos.

55. De acordo com a Lei de Responsabilidade Fiscal, a programação financeira e o cronograma de execução mensal de desembolso devem ser estabelecidos pelo Poder Executivo até

- (A) trinta dias após a publicação dos orçamentos, nos termos em que dispuser o Plano Plurianual.
- (B) trinta dias após a publicação dos orçamentos, nos termos em que dispuser a Lei de Diretrizes Orçamentárias.
- (C) quarenta e cinco dias após a publicação dos orçamentos, nos termos em que dispuser o Plano Plurianual.
- (D) quarenta e cinco dias após a publicação dos orçamentos, nos termos em que dispuser a Lei de Diretrizes Orçamentárias.
- (E) sessenta dias após a publicação dos orçamentos, nos termos em que dispuser o Plano Plurianual.

56. A seguinte demonstração contábil corresponde ao Balanço Patrimonial referente a 31 de dezembro de 2016 da empresa *Bella Vida Ltda.*, em R\$:

Ativo		Passivo	
Circulante	300.000,00	Circulante	150.000,00
Caixa	30.000,00	Fornecedores	90.000,00
Duplicatas a Receber	120.000,00	Salários a Pagar	30.000,00
Estoques	150.000,00	Impostos a Pagar	25.000,00
		Dividendos a Pagar	5.000,00
Ativo não Circulante	250.000,00	Passivo não Circulante	50.000,00
Realizável a Longo Prazo	20.000,00	Empréstimos e Financiamentos	50.000,00
Investimentos	70.000,00	Patrimônio Líquido	350.000,00
Imobilizado	120.000,00	Capital	310.000,00
Intangível	40.000,00	Reservas de Lucros	40.000,00
Total	550.000,00	Total	550.000,00

Com base nessas informações, em 31 de dezembro de 2016, o índice de liquidez

- (A) corrente era de 2,00.
- (B) corrente era de 1,60.
- (C) seca era de 0,75.
- (D) geral era de 2,75.
- (E) geral era de 2,00.

57. Em janeiro de 2017, o gestor de uma entidade pública municipal decidiu que iniciaria os procedimentos necessários para a construção de uma escola. Para tanto, verificou que a dotação orçamentária era suficiente e que o valor estimado da obra a ser contratada era de R\$ 1.650.000,00. Assim, de acordo com a Lei nº 8.666/1993, para executar a obra, o gestor teve que utilizar a modalidade de licitação denominada
- (A) leilão.
 - (B) concurso.
 - (C) convite.
 - (D) concorrência.
 - (E) tomada de preços.
58. De acordo com a Lei nº 10.520/2002, a modalidade de licitação denominada pregão pode ser utilizada para a
- (A) aquisição de bens e serviços comuns.
 - (B) contratação de serviços de profissionais de notório saber.
 - (C) aquisição de bens, cujos padrões de desempenho são subjetivamente definidos.
 - (D) aquisição de bens em menos de 8 (oito) dias úteis.
 - (E) contratação de serviços com base no critério de melhor técnica.
59. Durante a execução dos testes e procedimentos de auditoria em uma determinada entidade, o auditor não conseguiu verificar os saldos de determinadas contas contábeis. Assim, ele não obteve evidência apropriada e suficiente de auditoria para fundamentar sua opinião, mas concluiu que os possíveis efeitos de distorções não detectadas sobre as demonstrações contábeis, se existirem, poderiam ser relevantes, mas não generalizados. Assim, de acordo com as determinações da Norma Brasileira de Contabilidade – NBC TA 705, o auditor deve emitir o relatório do auditor independente, apresentando na seção “Opinião”, o seguinte título:
- (A) Opinião não Modificada.
 - (B) Opinião com Ênfase.
 - (C) Opinião com Ressalva.
 - (D) Opinião Adversa.
 - (E) Abstenção de Opinião.
60. De acordo com a Norma Brasileira de Contabilidade – NBC TA 701, a comunicação dos principais assuntos de auditoria no relatório do auditor
- (A) substitui a divulgação nas demonstrações contábeis que a estrutura aplicável de relatórios financeiros exige que a administração faça ou que são necessárias para atingir o objetivo de apresentação adequada.
 - (B) substitui a apresentação de relatório, quando existe incerteza relevante em relação a fatos ou condições que podem levantar dúvida significativa quanto à capacidade de continuidade operacional da entidade.
 - (C) substitui a emissão de opinião modificada por parte do auditor, quando exigida nas circunstâncias de trabalho de auditoria.
 - (D) corresponde a uma opinião separada sobre os assuntos tomados individualmente.
 - (E) ocorre no contexto em que o auditor formou sua opinião sobre as demonstrações contábeis tomadas em conjunto.

