



## CÂMARA MUNICIPAL DE DOIS CÓRREGOS

ESTADO DE SÃO PAULO

### CONCURSO PÚBLICO

## 001. PROVA OBJETIVA

### OFICIAL DE ATENDIMENTO E ADMINISTRAÇÃO

- ◆ Você recebeu sua folha de respostas e este caderno contendo 50 questões objetivas.
- ◆ Confira seus dados impressos na capa deste caderno e na folha de respostas.
- ◆ Quando for permitido abrir o caderno, verifique se está completo ou se apresenta imperfeições. Caso haja algum problema, informe ao fiscal da sala.
- ◆ Leia cuidadosamente todas as questões e escolha a resposta que você considera correta.
- ◆ Marque, na folha de respostas, com caneta de tinta preta, a letra correspondente à alternativa que você escolheu.
- ◆ A duração da prova é de 3 horas, já incluído o tempo para o preenchimento da folha de respostas.
- ◆ Só será permitida a saída definitiva da sala e do prédio após transcorridos 75% do tempo de duração da prova.
- ◆ Ao sair, você entregará ao fiscal a folha de respostas e este caderno, podendo levar apenas o rascunho de gabarito, localizado em sua carteira, para futura conferência.
- ◆ Até que você saia do prédio, todas as proibições e orientações continuam válidas.

**AGUARDE A ORDEM DO FISCAL PARA ABRIR ESTE CADERNO DE QUESTÕES.**

Nome do candidato \_\_\_\_\_

RG \_\_\_\_\_

Inscrição \_\_\_\_\_

Prédio \_\_\_\_\_

Sala \_\_\_\_\_

Carteira \_\_\_\_\_



## CONHECIMENTOS GERAIS

### LÍNGUA PORTUGUESA

01. Leia a tira.



(Alexandre Beck. Armandinho. <http://tinyurl.com/yd9qyey7>)

Armandinho atribui ao vocábulo **responsável** o sentido de

- (A) adulto.
- (B) aplicado.
- (C) culpado.
- (D) obediente.
- (E) prudente.

Leia o texto para responder às questões de números **02 a 09**.

“Quando eu tinha mais ou menos uma semana de idade, eu me lembro de estar enrolada em um cobertor rosa de algodão”, conta Rebecca Sharrock. Considerando que a memória da maioria das pessoas não é capaz de gravar acontecimentos anteriores aos quatro anos de idade, pode ser fácil pensar que a descrição de Sharrock seja um sonho nostálgico em vez de uma memória real. Mas a mulher australiana de 27 anos não tem uma memória comum – ela foi diagnosticada com uma síndrome rara chamada “Memória Autobiográfica Altamente Superior”, ou HSAM na sigla em inglês, também conhecida como Síndrome da Supermemória. Essa condição neurológica única significa que Sharrock consegue se lembrar de absolutamente tudo que ela fez em qualquer data.

Pessoas com essa síndrome podem se lembrar instantaneamente e sem esforço algum de qualquer coisa que fizeram, o que vestiram ou onde estavam em qualquer momento da vida. Elas podem se lembrar de notícias e acontecimentos pessoais com tantos detalhes e com uma exatidão tão perfeita que são comparáveis a uma gravação.

Por que algumas pessoas nascem com a supermemória? As pesquisas ainda estão em andamento, já que existem poucos indivíduos com a síndrome no mundo, e a área ainda é relativamente nova. Mas alguns estudos indicam que o lobo temporal (que ajuda no processamento de memória) é maior nos cérebros das pessoas com HSAM.

Ter uma supermemória significa que as memórias são gravadas em detalhes vívidos, o que é fascinante em termos científicos, mas pode ser uma praga para quem tem a síndrome. Algumas pessoas com HSAM dizem que suas memórias são muito organizadas, mas Sharrock descreve seu cérebro

como “entupido” e diz que reviver memórias lhe dá dor de cabeça e insônia. Apesar disso, ela aprendeu a tentar usar memórias positivas para superar as negativas: “No começo de todo mês, eu escolho todas as melhores memórias que tive naquele mês em outros anos”. Reviver acontecimentos positivos facilita na hora de lidar com as “memórias invasivas” que a fazem se sentir mal.

(Sarah Keating, *BBC*. 17.11.2017. [www.bbc.com](http://www.bbc.com). Adaptado)

02. Um esclarecimento do que seja a Síndrome da Supermemória está expresso na seguinte passagem:

- (A) ... pode ser fácil pensar que a descrição de Sharrock seja um sonho nostálgico em vez de uma memória real. (1º parágrafo)
- (B) Essa condição neurológica única significa que Sharrock consegue se lembrar de absolutamente tudo que ela fez em qualquer data. (1º parágrafo)
- (C) As pesquisas ainda estão em andamento, já que existem poucos indivíduos com a síndrome no mundo, e a área ainda é relativamente nova. (3º parágrafo)
- (D) ... ela aprendeu a tentar usar memórias positivas para superar as negativas... (4º parágrafo)
- (E) Reviver acontecimentos positivos facilita na hora de lidar com as “memórias invasivas” que a fazem se sentir mal. (4º parágrafo)

03. De acordo com o terceiro parágrafo, os estudos acerca da supermemória

- (A) ainda não avaliaram fisicamente o cérebro de pessoas com HSAM.
- (B) confirmam que o crescimento anormal do lobo temporal leva à síndrome.
- (C) rejeitam a hipótese de que esteja relacionada ao tamanho do cérebro.
- (D) não permitem fazer afirmações conclusivas acerca de suas causas.
- (E) não avançaram porque as pessoas com a síndrome são muito reservadas.

04. A partir do último parágrafo, conclui-se que Sharrock

- (A) tem mais facilidade em se lembrar de memórias recentes.
- (B) apaga as más memórias concentrando-se nas boas.
- (C) gosta de se envolver em experimentos científicos.
- (D) não é capaz de selecionar o que vai lembrar.
- (E) não tem total controle sobre suas memórias.

05. Considere o seguinte trecho:

Mas a mulher australiana de 27 anos não tem uma memória comum – ela foi diagnosticada com uma síndrome rara chamada “Memória Autobiográfica Altamente Superior”, ou HSAM na sigla em inglês, também conhecida como Síndrome da Supermemória. (1º parágrafo)

O travessão introduz, com relação ao que se afirma anteriormente, uma informação com sentido

- (A) explicativo.
- (B) hipotético.
- (C) corretivo.
- (D) contraditório.
- (E) concessivo.

06. Assinale a alternativa que apresenta, entre colchetes, um sinônimo para o vocábulo em destaque:

- (A) ... não é capaz de **gravar** acontecimentos... [idealizar]
- (B) ... não tem uma memória **comum**... [convencional]
- (C) ... notícias e acontecimentos **pessoais**... [alheios]
- (D) ... são gravadas em detalhes **vívidos**... [enigmáticos]
- (E) ... é **fascinante** em termos científicos... [enfadonho]

07. Assinale a alternativa em que a segunda parte da frase expressa, com relação à primeira, uma consequência.

- (A) Pessoas com essa síndrome podem se lembrar instantaneamente e sem esforço algum de qualquer coisa que fizeram, o que vestiram / ou onde estavam em qualquer momento da vida. (2º parágrafo)
- (B) Elas podem se lembrar de notícias e acontecimentos pessoais com tantos detalhes e com uma exatidão tão perfeita / que são comparáveis a uma gravação. (2º parágrafo)
- (C) As pesquisas ainda estão em andamento, / já que existem poucos indivíduos com a síndrome no mundo, e a área ainda é relativamente nova. (3º parágrafo)
- (D) Ter uma supermemória significa que as memórias são gravadas em detalhes vívidos, o que é fascinante em termos científicos, / mas pode ser uma praga para quem tem a síndrome. (4º parágrafo)
- (E) “No começo de todo mês, eu escolho todas as melhores memórias / que tive naquele mês em outros anos”. (4º parágrafo)

08. Assinale a alternativa em que a concordância está de acordo com a norma-padrão da língua.

- (A) Pessoas com HSAM apresenta cérebro com o lobo temporal maior.
- (B) Os cérebros de pessoas com HSAM têm o lobo temporal maior.
- (C) As pessoas com HSAM dispõe de cérebro com lobo temporal maior.
- (D) O lobo temporal nos cérebros de pessoas com HSAM parecem ser maior.
- (E) Ter cérebro com lobo temporal maior são comuns em pessoas com HSAM.

09. Considere a seguinte passagem:

Reviver acontecimentos positivos facilita na hora de lidar com as “memórias invasivas” que **a** fazem se sentir mal. (4º parágrafo)

De acordo com a norma-padrão da língua, a lacuna que deve ser preenchida com o mesmo pronome destacado na passagem do texto está em:

- (A) A supermemória de Sharrock é o que \_\_\_\_\_ diferencia das demais pessoas.
- (B) Sharrock lembra-se dos presentes que \_\_\_\_\_ deram no seu primeiro aniversário.
- (C) Sharrock confessa que a supermemória nem sempre \_\_\_\_\_ traz boas sensações.
- (D) A supermemória de Sharrock \_\_\_\_\_ permite reviver experiências com intensidade.
- (E) Sharrock conta que suas memórias podem \_\_\_\_\_ provocar dor de cabeça e insônia.

Leia o texto para responder às questões de números **10 a 13**.

Ei, você aí. Se fosse possível apagar da sua memória o que lhe causa dor, você apagaria? Seria perfeito, pois manteríamos tudo de bom e esqueceríamos completamente o ruim.

Mas não, não seria perfeito. E sabe por quê? Porque precisamos das perdas para valorizar os ganhos, o bom precisa do ruim para ser compreendido e vice-versa. Simples assim. Só que geralmente nos agarramos às derrotas e não enxergamos as conquistas. Escondemos as recordações bonitas lá no fundo da gaveta, enquanto carregamos as mágoas agarradas pela mão, para cima e para baixo.

É possível, sim, seguir adiante sem tanta culpa pelo erro e sem o medo de falhar novamente, a partir do momento em que entendemos que as quedas são necessárias para que nos tornemos pessoas mais completas, aptas a resolver problemas e encontrar saídas. Então, passamos a enxergar a dor como um mal necessário. Inclusive, é ela que, muitas vezes, nos tira da inércia e nos impulsiona a reagir.

Usemos as decepções a nosso favor para que nos tornemos grandiosos diante da vida, aptos a receber o que nos mandam e transformar tudo o que vier em aprendizado. É impossível esquecer as tristezas, mas que elas não sejam lembradas a todo instante.

(Karen Curi. *Revista Bula*. [www.revistabula.com](http://www.revistabula.com). Adaptado)

**10.** Na opinião da autora, as experiências negativas devem ser compreendidas como fonte de aprendizado,

- (A) mas infelizmente as pessoas as esquecem com facilidade.
- (B) por isso mesmo precisam ser cultuadas com regularidade.
- (C) porém não devem ser constantemente evocadas.
- (D) portanto deveriam ser frequentemente estimuladas.
- (E) embora sejam menos eficazes que as experiências positivas.

**11.** Duas construções que, no texto, expressam a mesma ideia estão em:

- (A) ... esqueceríamos completamente o ruim... (1º parágrafo)  
... o bom precisa do ruim... (2º parágrafo)
- (B) ... manteríamos tudo de bom... (1º parágrafo)  
... não enxergamos as conquistas. (2º parágrafo)
- (C) ... recordações bonitas... (2º parágrafo)  
... um mal necessário. (3º parágrafo)
- (D) ... nos agarramos às derrotas... (2º parágrafo)  
... seguir adiante sem tanta culpa... (3º parágrafo)
- (E) ... precisamos das perdas... (2º parágrafo)  
... as quedas são necessárias... (3º parágrafo)

**12.** No contexto do segundo parágrafo, a expressão **fundo da gaveta** remete

- (A) à facilidade para se lembrar dos fatos vividos.
- (B) a sentimentos expressos com exatidão.
- (C) ao aprendizado que é posto em prática.
- (D) às ideias que vêm à mente com frequência.
- (E) a uma parte pouco acessada da memória.

**13.** Considere as formas verbais destacadas nas frases do texto:

- Se fosse possível apagar da sua memória o que lhe causa dor, você **apagaria**? (1º parágrafo)
- **Usemos** as decepções a nosso favor para que nos tornemos grandiosos diante da vida... (4º parágrafo)

As formas verbais **apagaria** e **Usemos** exprimem, respectivamente, sentidos de

- (A) recomendação e lembrança.
- (B) dúvida e lembrança.
- (C) dúvida e hipótese.
- (D) hipótese e recomendação.
- (E) hipótese e dúvida.

**14.** Assinale a alternativa em que o acento indicativo de crase está empregado corretamente.

- (A) Algumas pessoas com supermemória chegam à sofrer com dores de cabeça.
- (B) Há lembranças tão vivas que nos fazem voltar à episódios de nosso passado.
- (C) Lembrar-se do passado pode ser uma tarefa muito difícil à determinadas pessoas.
- (D) Ela referiu-se à vontade de esquecer completamente os momentos dolorosos.
- (E) Ao nos atermos à uma experiência ruim, desconsideramos o que ela traz de bom.

**15.** O pronome em destaque está posicionado de acordo com a norma-padrão da língua na frase:

- (A) Ela tem dado-**nos** muitos bons conselhos para superar as tristezas.
- (B) Ele sugeriu que dedicássemo-**nos** a aprender com as experiências negativas.
- (C) Ela convida-**nos** a refletir a respeito do valor positivo das perdas.
- (D) Ele pediu para voltarmos ao lugar onde encontramos-**nos** pela primeira vez.
- (E) Ela não ofereceu-**nos** uma fórmula para resolver nossos problemas emocionais.

16. Uma empresa comprou um lote de envelopes e destinou  $\frac{3}{8}$  deles ao setor A. Dos envelopes restantes,  $\frac{4}{5}$  foram destinados ao setor B, e ainda restaram 75 envelopes. O número total de envelopes do lote era
- (A) 760.  
(B) 720.  
(C) 700.  
(D) 640.  
(E) 600.
17. Em uma caixa, há menos de 1000 livretos que serão empilhados, de modo que cada pilha contenha o mesmo número de livretos. Durante a realização do serviço, percebeu-se que era possível colocar, em cada pilha, ou 30, ou 50, ou 60 livretos, e não restaria livreto na caixa. O número máximo de livretos que podem estar na caixa é
- (A) 740.  
(B) 800.  
(C) 860.  
(D) 900.  
(E) 960.
18. Duas impressoras, A e B, imprimem juntas 1800 páginas em uma hora. Sabendo-se que a razão entre o número de páginas impressas pela impressora A e o número de páginas impressas pela impressora B, em uma hora, é  $\frac{5}{7}$ , então o tempo necessário para que a impressora A imprima sozinha 2400 páginas é
- (A) 2 horas e 55 minutos.  
(B) 3 horas e 12 minutos.  
(C) 3 horas e 26 minutos.  
(D) 3 horas e 37 minutos.  
(E) 3 horas e 48 minutos.

19. Para assistir a uma palestra, estão presentes no auditório 65 homens e 85 mulheres. Sabendo-se que 40% dos homens e 60% das mulheres fazem anotações sobre o que está sendo dito pelo palestrante, então, em relação ao número total de pessoas presentes no auditório, aqueles que não fazem anotações representam, aproximadamente,
- (A) 48,7%
  - (B) 50,6%
  - (C) 52,5%
  - (D) 54,3%
  - (E) 56,4%
20. Para realizar determinado projeto, um profissional leva 10 dias, trabalhando 6 horas por dia. Se esse profissional mantiver o mesmo ritmo diário de trabalho, o número de horas diárias que ele terá que trabalhar para realizar esse projeto em 8 dias será
- (A) 8,5.
  - (B) 8,0.
  - (C) 7,5.
  - (D) 7,0.
  - (E) 6,5.
21. Para a realização de um plenário, foram disponibilizadas para a plateia 96 cadeiras dispostas em fileiras, de modo que o número de cadeiras de uma fileira corresponde a  $\frac{2}{3}$  do número de fileiras. O número de cadeiras de uma fileira é
- (A) 14.
  - (B) 12.
  - (C) 10.
  - (D) 8.
  - (E) 6.
22. Um capital A, aplicado a juros simples com taxa de 9% ao ano, rende em 6 meses, os mesmos juros simples que um capital B aplicado a taxa de 0,8% ao mês, durante 9 meses. Sabendo-se que o capital A é R\$ 900,00 superior ao capital B, então o valor do capital A é
- (A) R\$ 2.500,00.
  - (B) R\$ 2.400,00.
  - (C) R\$ 2.200,00.
  - (D) R\$ 1.800,00.
  - (E) R\$ 1.500,00.

23. Com a quantidade total de café preparada para uma reunião, é possível servir determinado número de xícaras, colocando em cada uma delas 150 mL de café. Porém, se em cada xícara forem colocados 200 mL, com a mesma quantidade de café preparada, serão servidas 15 xícaras a menos. O número máximo de xícaras, com 200 mL cada uma, que poderão ser servidas é

- (A) 65.
- (B) 60.
- (C) 55.
- (D) 50.
- (E) 45.

24. Em uma papelaria, foram colocados dois cestos com itens promocionais: um deles só com canetas (todas de mesmo valor) e outro só com borrachas (todas de mesmo valor). Sabendo-se que o valor de 6 canetas é igual ao valor de 16 borrachas e que uma borracha custa R\$ 2,50 a menos que uma caneta, é correto afirmar que, se uma pessoa comprar 3 canetas e 6 borrachas, pagará no total

- (A) R\$ 21,00.
- (B) R\$ 23,00.
- (C) R\$ 25,00.
- (D) R\$ 28,00.
- (E) R\$ 30,00.

25. A tabela mostra o número de processos que cada um dos funcionários de uma firma de advocacia arquivou no decorrer de alguns meses.

Nº de funcionários	Nº de processos arquivados por funcionário
2	0
5	1
?	2
1	5

Considerando-se o número total de processos arquivados, cada funcionário arquivou, em média, 1,5 processo. O número de funcionários que arquivaram, cada um deles, 2 processos foi

- (A) 2.
- (B) 3.
- (C) 4.
- (D) 5.
- (E) 6.



26. De uma sala retangular ABCD, com 7 m de largura, um pedreiro reformou 35% da área de seu piso, conforme mostra a figura.

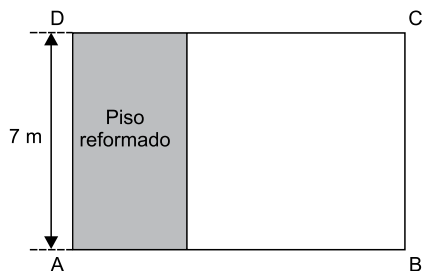


Figura fora de escala

Sabendo-se que a área ocupada pelo piso reformado é de  $19,6 \text{ m}^2$ , então a medida do lado  $\overline{AB}$  dessa sala é

- (A) 9,2 m.  
 (B) 9,0 m.  
 (C) 8,7 m.  
 (D) 8,3 m.  
 (E) 8,0 m.
27. O perímetro de um pátio retangular é 4 vezes o perímetro de uma sala quadrada de lado igual a 8 m. Sabendo-se que o comprimento do pátio é 14 m maior que sua largura, então o comprimento do pátio é
- (A) 43 m.  
 (B) 39 m.  
 (C) 34 m.  
 (D) 28 m.  
 (E) 25 m.
28. Um peso de papel tem a forma de um prisma reto de base retangular, cujas medidas estão indicadas, em centímetros, na figura.

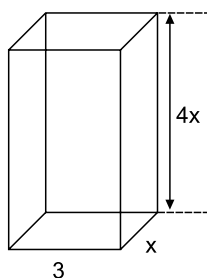


Figura fora de escala

Sabendo-se que o volume dessa peça é  $48 \text{ cm}^3$ , o valor de sua altura, representada na figura por  $4x$ , é

- (A) 2 cm.  
 (B) 4 cm.  
 (C) 6 cm.  
 (D) 8 cm.  
 (E) 10 cm.

29. Um prêmio, em dinheiro, foi dividido igualmente entre os 5 vendedores de uma equipe. Se essa equipe tivesse um vendedor a mais, cada um deles receberia R\$ 500,00 a menos. O valor do prêmio que cada um dos 5 integrantes da equipe recebeu foi

- (A) R\$ 3.000,00.  
 (B) R\$ 2.500,00.  
 (C) R\$ 2.000,00.  
 (D) R\$ 1.500,00.  
 (E) R\$ 1.000,00.

30. Uma gráfica imprimiu 2 400 calendários com o logotipo de uma empresa. Após o final da impressão, constatou que a máquina utilizada para o serviço imprimiu os 28 primeiros calendários sem defeitos, na sequência imprimiu 2 com falhas e continuou a imprimir nesse mesmo padrão, ou seja, a cada 28 calendários sem defeitos, imprimia 2 calendários com falhas. O número total de calendários impressos com falhas foi

- (A) 180.  
 (B) 170.  
 (C) 160.  
 (D) 150.  
 (E) 140.

**R A S C U N H O**

## ATUALIDADES

31. Os atentados de sábado (14 de outubro) em Mogadíscio, capital do país, são os mais sangrentos registrados desde o começo da década. Já foram encontrados 315 mortos e mais de 300 feridos. O Itamaraty não confirma brasileiros entre as vítimas. Um caminhão-bomba explodiu em uma área movimentada da capital, próxima a edifícios do governo. Um prédio de oito andares foi reduzido a escombros. Edifícios vizinhos e carros também foram destruídos.

(*Época*, 15 out. 17. Disponível em: <<https://goo.gl/iyYFYe>>. Adaptado)

Ao menos 50 pessoas morreram nesta terça-feira (21 de novembro) em um atentado suicida em Mubi, cidade localizada no nordeste do país. “No momento, temos pelo menos 50 mortos e vários feridos após um ataque suicida contra uma mesquita de Mubi durante a oração matutina”, declarou o porta-voz da polícia. O homem-bomba “se misturou aos fiéis” para entrar na mesquita e “ativou os explosivos” durante as orações, completou o policial.

(*IstoÉ*, 21 nov. 17. Disponível em: <<https://goo.gl/zrPwgh>>. Adaptado)

Os dois atentados ocorreram em países africanos, corretamente identificados como

- (A) Angola e Moçambique.
- (B) Egito e África do Sul.
- (C) Somália e Nigéria.
- (D) Marrocos e Gana.
- (E) Cabo Verde e Camarões.

32. O presidente dos EUA, Donald Trump, anunciou nesta segunda-feira (20 de novembro) que um certo país foi recolocado na lista de Estados patrocinadores de terrorismo. Segundo Trump, os EUA anunciarão novas sanções contra esse país, que havia sido retirado da lista de países patrocinadores de terrorismo pelo ex-presidente republicano George W. Bush em 2008, em uma tentativa de salvar as negociações para um acordo nuclear. Trump considerava a inclusão do país no grupo por conta de suas ambições nucleares e de seus ataques cibernéticos contra os EUA e outros países.

(*UOL*, 20 nov. 17. Disponível em: <<https://goo.gl/Ry7K98>>. Adaptado)

A notícia trata de uma decisão dos EUA em relação

- (A) ao Afeganistão.
- (B) a Cuba.
- (C) à China.
- (D) à Índia.
- (E) à Coreia do Norte.

33. A Justiça de São Paulo deferiu um pedido do Ministério Público para impedir a realização de um show de Caetano Veloso na ocupação do Movimento dos Trabalhadores Sem-Teto (MTST), no Bairro Planalto, em São Bernardo do Campo, no ABC paulista. A apresentação estava marcada para esta segunda-feira (30 de outubro).

(*G1*, 30 out. 17. Disponível em: <<https://goo.gl/69jFBc>>. Adaptado)

Entre os argumentos utilizados pela Justiça para proibir o show, é correto identificar

- (A) a possibilidade de não se recolher direitos autorais das músicas do show.
- (B) a falta de estrutura do espaço para suportar um show com a dimensão estimada.
- (C) a desocupação iminente do terreno, decidida em outra ação da Justiça.
- (D) a preocupação da prefeitura com o descumprimento da Lei do Silêncio.
- (E) a falta de pagamento de tributos que incidem sobre eventos culturais.

34. O Banco Central reduziu na noite da quarta-feira, 6 de dezembro, a taxa Selic em 0,50 ponto porcentual, de 7,5% para 7% ao ano. Foi o décimo corte consecutivo. Antes do anúncio desta quarta-feira, a Selic mais baixa, de 7,25%, havia sido registrada ainda no primeiro governo de Dilma Rousseff. Além do corte desta quarta, o BC já sinalizou a intenção de promover nova redução de juros no próximo encontro do Comitê de Política Monetária (Copom), em fevereiro do ano que vem.

(*Estadão*, 6 dez. 17. Disponível em: <<https://goo.gl/2qVoYv>>. Adaptado)

Entre os fatores que contribuíram para a redução da taxa de juros, é correto identificar

- (A) o aumento brusco do desemprego.
- (B) a persistência da recessão.
- (C) o rápido crescimento econômico.
- (D) a inflação sob controle.
- (E) o aumento do *superávit* fiscal.

35. O ex-prefeito de Caracas (Venezuela), Antonio Ledezma, foi para a Colômbia nesta sexta-feira (17 de novembro) depois de fugir da prisão domiciliar em que estava desde 2015. Após cruzar a fronteira, Ledezma pediu auxílio ao governo colombiano e descreveu sua fuga como “cinematográfica”, antes de decidir ir para a Espanha.

(*O Globo*, 17 nov. 17. Disponível em: <<https://goo.gl/PR9Efl>>. Adaptado)

O ex-prefeito fugiu de seu país alegando ser vítima de

- (A) injúria racial.
- (B) ameaças de cunho homofóbico.
- (C) ódio xenofóbico.
- (D) perseguição política.
- (E) intolerância religiosa.

36. O Museu de Arte de São Paulo Assis Chateaubriand (Masp) anunciou nesta terça-feira (7 de novembro) que recuou da decisão de proibir a entrada de menores de 18 anos na exposição “Histórias da Sexualidade”, em cartaz desde o dia 20 de outubro. “A partir de amanhã, menores de 18 anos poderão visitar a exposição ‘Histórias da Sexualidade’, desde que acompanhados por seus pais ou responsáveis”, disse o museu.

(Veja, 7 nov. 17. Disponível em: <<https://goo.gl/ib57Ma>>. Adaptado)

O recuo anunciado pelo museu se deveu

- (A) à preocupação manifestada pelo Ministério Público Federal, que se referia à questão da liberdade artística.
- (B) ao questionamento da Igreja Católica, que defendia a ampliação da exposição para o público adolescente.
- (C) às manifestações de grupos religiosos, que se posicionaram contra todas as formas de censura.
- (D) à mobilização da sociedade civil, que exigiu o fim da proibição em grandes manifestações públicas.
- (E) às ameaças de boicote ao museu promovidas por artistas contemporâneos, que não se conformaram com a censura.

37. A comissão especial da Câmara dos Deputados aprovou nesta quarta-feira (8 de novembro), por 18 votos a 1, o texto-base da proposta que inclui na Constituição a garantia do direito à vida “desde a concepção”.

(G1, 8 nov. 17. Disponível em: <<https://goo.gl/qV6edQ>>. Adaptado)

Na prática, a proposta aprovada na comissão

- (A) proíbe qualquer forma de aborto, mesmo aquelas previstas atualmente na legislação.
- (B) descriminaliza a prática do aborto, garantindo o acesso ao procedimento no SUS.
- (C) permite o aborto apenas nos casos de gestação de adolescentes de até 16 anos.
- (D) impossibilita o aborto nas gestações que têm paternidade reconhecida.
- (E) autoriza o aborto exclusivamente nas gestações com risco de parto prematuro.

38. Ao menos 15 municípios estão recebendo ações de intensificação da vacinação contra o vírus no Estado de São Paulo. A meta da Secretaria de Estado da Saúde é imunizar mais de 860 mil pessoas em cidades da região de Jundiaí, como Atibaia, Vinhedo, Bragança Paulista e Itatiba. Segundo a pasta, a intensificação da vacinação teve início no começo do mês, após a confirmação de mortes de primatas infectados pelo vírus em Jundiaí.

(O Estado de S. Paulo, 25 out. 17. Disponível em: <<https://goo.gl/xUdW5a>>. Adaptado)

A notícia trata do combate

- (A) à varíola.
- (B) à febre amarela.
- (C) à dengue.
- (D) à catapora.
- (E) ao sarampo.

39. Começaram a valer neste sábado (11 de novembro) as novas regras estabelecidas pela reforma trabalhista. São mais de cem mudanças na relação entre as empresas e os trabalhadores.

(G1, 11 nov. 17. Disponível em: <<https://goo.gl/j6hYs4>>. Adaptado)

Entre as mudanças estabelecidas, é correto identificar

- (A) o fim do salário mínimo, que não servirá mais como parâmetro obrigatório na remuneração dos trabalhadores pelas empresas.
- (B) o fim da obrigatoriedade do registro em carteira nas relações de trabalho, com o objetivo de legalizar o trabalho considerado informal.
- (C) a formalização do trabalho intermitente, aquele em que não há jornada fixa, podendo o empregado trabalhar em alguns dias ou durante algumas horas.
- (D) a incorporação do tempo de deslocamento ao trabalho como parte da jornada, instituindo uma remuneração específica para os empregados que moram longe.
- (E) o aumento da contribuição para o FGTS por parte do empregador, com a finalidade de dar mais segurança ao trabalhador em caso de demissão.

40. O primeiro-ministro Saad Hariri anunciou neste sábado (4 de novembro), de maneira surpreendente, sua renúncia ao cargo, acusando o Hezbollah e seu aliado Irã de “controle” no seu país e citando ameaças contra sua vida. “Anuncio minha demissão do posto de primeiro-ministro”, declarou Hariri, que está na Arábia Saudita. Hariri, ligado à Arábia Saudita, fez o anúncio ao ler o discurso sentado em um escritório. “Senti o que se tramava nas sombras para atacar minha vida”, declarou.

(G1, 4 nov. 17. Disponível em: <<https://goo.gl/5y6LCN>>. Adaptado)

A notícia trata da renúncia do primeiro ministro

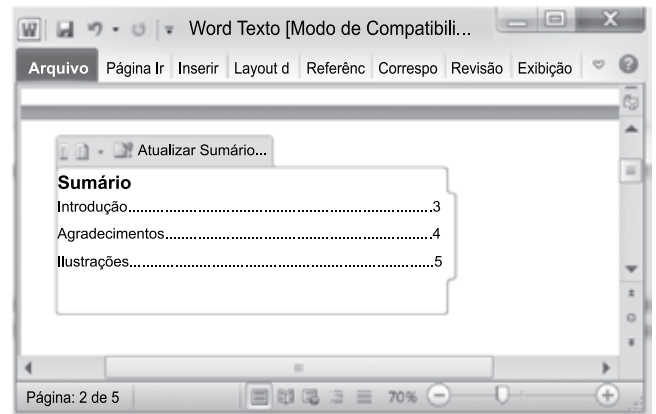
- (A) palestino.
- (B) turco.
- (C) iraquiano.
- (D) jordaniano.
- (E) libanês.

Observe a figura a seguir, que exibe a Biblioteca Documentos configurada no modo de exibição Ícones Grandes, extraída do Windows Explorer do MS-Windows 7, instalado em sua configuração padrão, e responda às questões de números 41 e 42.



41. O nome da pasta que contém pelo menos uma subpasta visível é
- (A) Dois.  
 (B) Córregos.  
 (C) Oficial.  
 (D) Concurso.  
 (E) Administrativo.
42. Assinale a alternativa que identifica o tipo do arquivo Testes. Considere que o ícone do arquivo não foi modificado após a sua criação.
- (A) Apresentação do Microsoft PowerPoint.  
 (B) Documento de Texto.  
 (C) Documento do Microsoft Word.  
 (D) Pasta de Arquivos.  
 (E) Planilha do Microsoft Excel.

43. Considere o documento do MS-Word 2010, na sua configuração padrão, apresentado na figura a seguir.



Para criar um sumário automático, o usuário pode aplicar o estilo \_\_\_\_\_ ao texto desejado, clicar no botão Sumário, que pertence ao grupo Sumário da guia Referências, e escolher entre as opções apresentadas de sumário.

Assinale a alternativa que preenche corretamente a lacuna.

- (A) de Título  
 (B) de Ênfase  
 (C) de Citação  
 (D) Normal  
 (E) de Parágrafo

44. Observe as figuras extraídas do MS-Word 2010 em sua configuração original.

FIGURA I

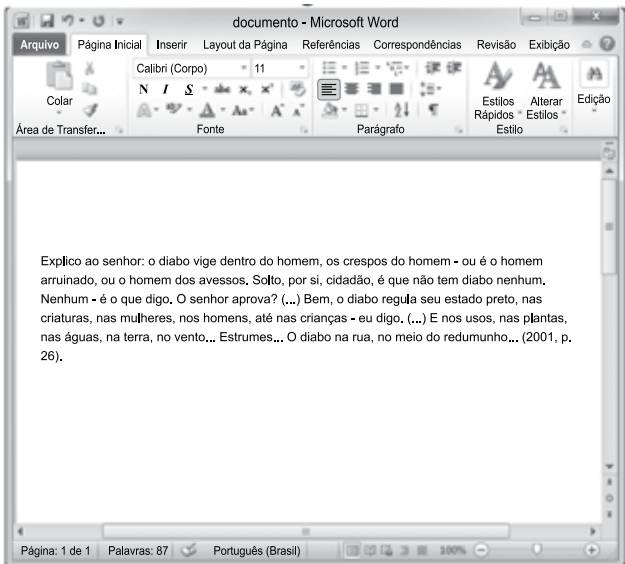
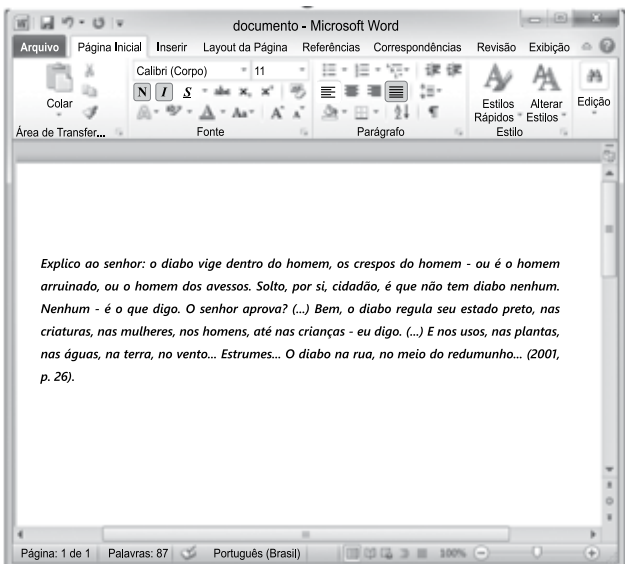


FIGURA II

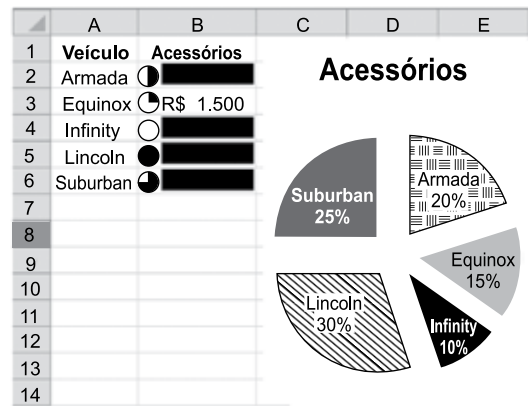


As figuras exibem o mesmo texto em dois momentos: antes (Figura I) e depois (Figura II) da aplicação de opções de formatação de texto e parágrafo disponíveis na guia Página Inicial.

Assinale a alternativa que contém as opções de formatação aplicadas entre os dois momentos apresentados.

- (A) Negrito, Itálico e Alinhar Texto à Esquerda.
- (B) Itálico e Alinhar Texto à Esquerda.
- (C) Negrito e Justificar.
- (D) Itálico e Alinhar Texto à Direita.
- (E) Negrito, Itálico e Justificar.

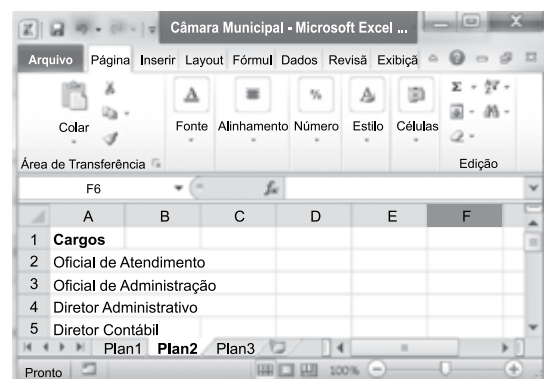
45. Observe a planilha extraída do MS-Excel 2010, em sua configuração original. O gráfico da planilha foi gerado a partir dos dados do intervalo A1:B6.



Considerando que o conteúdo numérico das células B2, B4, B5 e B6 foi escondido intencionalmente na figura, assinale a alternativa que contém o valor somado dos acessórios dos veículos Suburban e Lincoln.

- (A) R\$ 2.000.
- (B) R\$ 2.500.
- (C) R\$ 4.000.
- (D) R\$ 5.500.
- (E) R\$ 6.000.

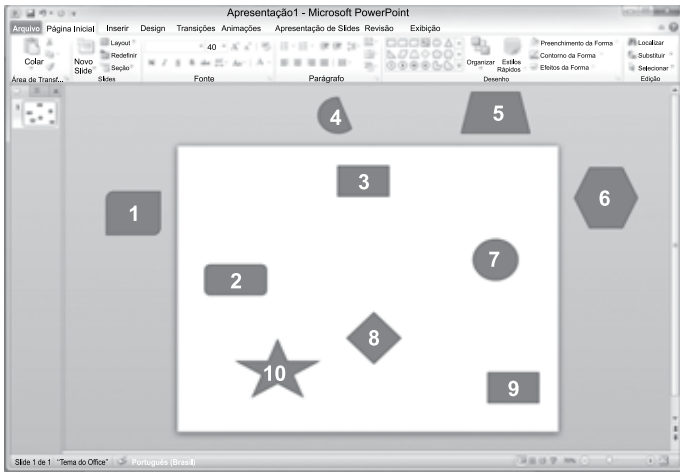
46. Considere o arquivo do MS-Excel 2010, em sua configuração original, apresentado a seguir.



Assinale a alternativa que contém a ação resultante dos seguintes passos, na sequência:

- I. Clicar na guia Arquivo;
  - II. Clicar em Salvar como;
  - III. Digitar a palavra Concurso no campo Nome do arquivo;
  - IV. Clicar no botão Salvar.
- (A) Uma nova pasta de trabalho chamada Câmara Municipal será criada na Área de Trabalho.
  - (B) A planilha Plan2 será renomeada para Concurso.
  - (C) A pasta de trabalho Câmara Municipal será apagada e será criada a pasta de trabalho Concurso em seu lugar.
  - (D) Será criada uma nova planilha chamada Concurso na frente da Plan3, dentro da pasta de trabalho Câmara Municipal.
  - (E) Será criada uma nova pasta de trabalho chamada Concurso mantendo intacta a Câmara Municipal.

47. Considere o slide do MS-PowerPoint 2010, na sua configuração padrão, exibido na figura a seguir.

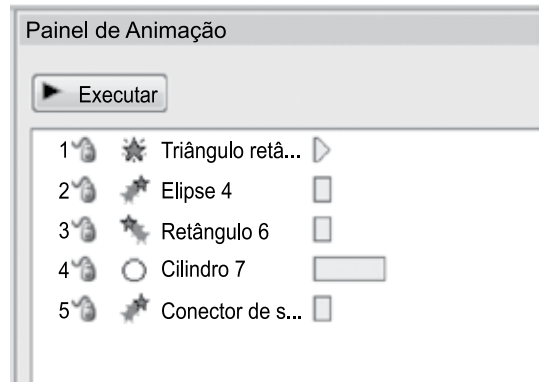
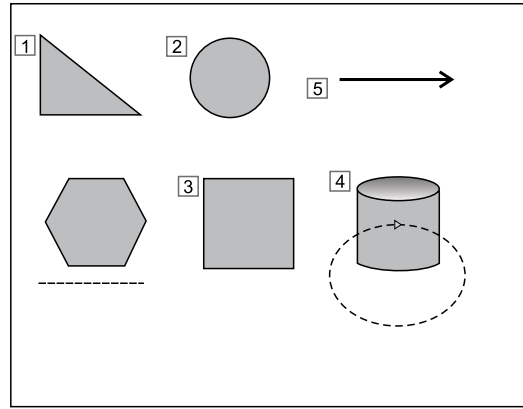


Estão distribuídas na área de edição do slide 10 formas variadas e numeradas.

Assinale a alternativa que contém a quantidade de formas que serão exibidas quando o slide estiver em modo de apresentação de slides.

- (A) 10
- (B) 9
- (C) 6
- (D) 5
- (E) 4

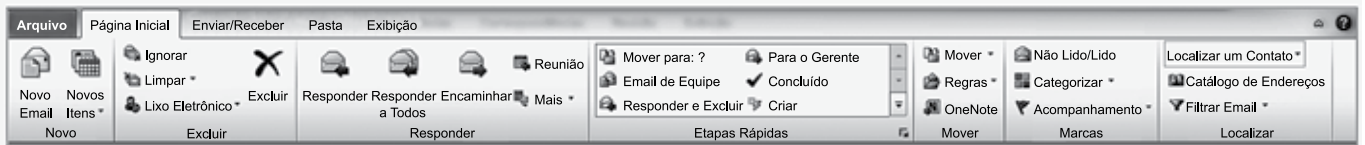
48. Considere o slide a seguir, acompanhado do seu respectivo Painel de Animação, extraídos do MS-PowerPoint 2010 na sua configuração padrão.



Assinale a alternativa que contém a forma configurada com uma animação do tipo Caminhos de Animação (conhecida também como Trajetórias de Animação).

- (A) Triângulo retângulo.
- (B) Elipse.
- (C) Hexágono.
- (D) Círculo.
- (E) Cilindro.

49. Observe as opções da guia Página Inicial do MS-Outlook 2010, em sua configuração original.



A opção que permite bloquear um remetente é representada por:

- (A) Categorizar ▼
- (B) Não Lido/Lido
- (C) Lixo Eletrônico ▼
- (D) Limpar ▼
- (E) Ignorar

50. Na figura I, o usuario@gmail.com recebeu um e-mail no MS-Outlook 2010, na sua configuração padrão.

FIGURA I

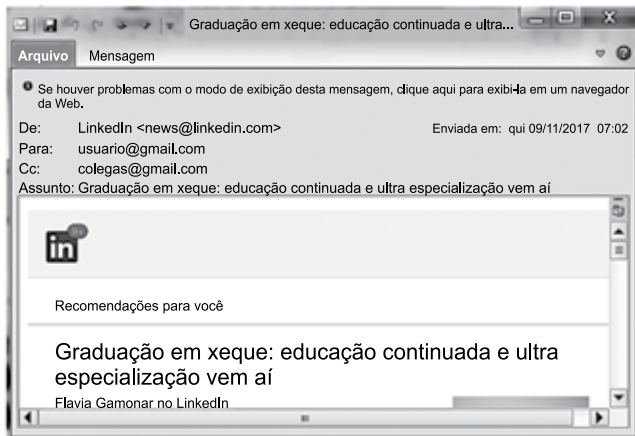
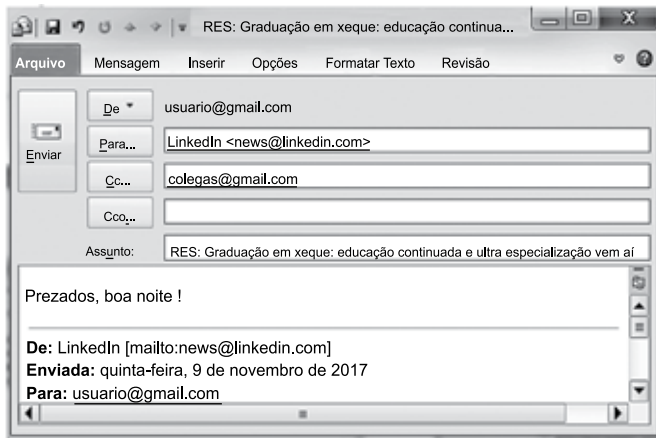
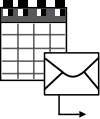





FIGURA II



Assinale a alternativa que contém a imagem que representa a opção da guia Mensagem que foi utilizada no e-mail recebido (Figura I) e resultou na situação apresentada na Figura II.

- (A) 
- (B)  Responder a Todos
- (C)  Responder
- (D)  Encaminhar
- (E) 