

CÂMARA MUNICIPAL DE INDAIATUBA

ESTADO DE SÃO PAULO

Concurso Público

005. PROVA OBJETIVA

Técnico em Contabilidade

- ◆ Você recebeu sua folha de respostas e este caderno contendo 50 questões objetivas.
- ◆ Confira seus dados impressos na capa deste caderno e na folha de respostas.
- ◆ Quando for permitido abrir o caderno, verifique se está completo ou se apresenta imperfeições. Caso haja algum problema, informe ao fiscal da sala.
- ◆ Leia cuidadosamente todas as questões e escolha a resposta que você considera correta.
- ◆ Marque, na folha de respostas, com caneta esferográfica de tinta azul ou preta, a letra correspondente à alternativa que você escolheu.
- ◆ A duração da prova é de 3 horas, já incluído o tempo para o preenchimento da folha de respostas.
- ◆ Só será permitida a saída definitiva da sala e do prédio após transcorridos 75% do tempo de duração da prova.
- ◆ Deverão permanecer em cada uma das salas de prova os 3 últimos candidatos, até que o último deles entregue sua prova, assinando termo respectivo.
- ◆ Ao sair, você entregará ao fiscal a folha de respostas e este caderno, podendo levar apenas o rascunho de gabarito, localizado em sua carteira, para futura conferência.
- ◆ Até que você saia do prédio, todas as proibições e orientações continuam válidas.

AGUARDE A ORDEM DO FISCAL PARA ABRIR ESTE CADERNO DE QUESTÕES.

Nome do candidato _____

RG _____

Inscrição _____

Prédio _____

Sala _____

Carteira _____

CONHECIMENTOS GERAIS

LÍNGUA PORTUGUESA

Leia o texto para responder às questões de números **01** a **12**.

A última crônica

A caminho de casa, entro num botequim da Gávea para tomar um café junto ao balcão. Na realidade, estou adiando o momento de escrever.

A perspectiva me assusta. Gostaria de estar inspirado, de coroar com êxito mais um ano nesta busca do pitoresco no cotidiano de cada um. Eu pretendia apenas recolher da vida diária algo de seu disperso conteúdo humano, fruto da convivência, que a faz mais digna de ser vivida. Nesta perseguição do acidental, quer num flagrante de esquina, quer nas palavras de uma criança ou num acidente doméstico, torno-me simples espectador. Sem mais nada para contar, curvo a cabeça e tomo meu café, enquanto o verso de um poeta se repete na lembrança: “assim eu quereria o meu último poema”. Não sou poeta e estou sem assunto. Lanço então um último olhar fora de mim, onde vivem os assuntos que merecem uma crônica.

Ao fundo do botequim, um casal acaba de sentar-se numa das últimas mesas de mármore ao longo da parede de espelhos. A compostura da humildade, na contenção de gestos e palavras, deixa-se acrescentar pela presença de uma menininha de seus três anos, laço na cabeça, toda arrumadinha no vestido pobre, que se instalou também à mesa. Três seres esquivos que compõem em torno à mesa a instituição tradicional da família, célula da sociedade. Vejo, porém, que se preparam para algo mais que matar a fome.

Passo a observá-los. O pai, depois de contar o dinheiro que discretamente retirou do bolso, aborda o garçom e aponta no balcão um pedaço de bolo sob a redoma. Este ouve, concentrado, o pedido do homem e depois se afasta para atendê-lo. A meu lado o garçom encaminha a ordem do freguês. O homem atrás do balcão apanha a porção do bolo com a mão, larga-o no pratinho – um bolo simples, amarelo-escuro, apenas uma pequena fatia triangular.

A menininha olha a garrafa de refrigerante e o pratinho que o garçom deixou à sua frente. Vejo que os três, pai, mãe e filha, obedecem em torno à mesa a um discreto ritual. A mãe remexe na bolsa de plástico preto e brilhante, retira qualquer coisa. O pai se mune de uma caixa de fósforos, e espera. A filha aguarda também, atenta como um animalzinho. Ninguém mais os observa além de mim.

São três velinhas brancas que a mãe espeta caprichosamente na fatia do bolo. E enquanto ela serve o refrigerante, o pai risca o fósforo e acende as velas. A menininha sopra com força, apagando as chamas. Imediatamente põe-se a bater palmas, muito compenetrada, cantando num balbucio, a que os pais se juntam, discretos: “parabéns pra você, parabéns pra você...”. A menininha agarra finalmente o bolo com as duas mãos sôfregas e põe-se a comê-lo. A mulher está olhando para ela com ternura – ajeita-lhe a fitinha no cabelo, limpa o farelo de bolo que lhe cai ao colo. O pai corre os olhos pelo botequim, satisfeito, como a se convencer intimamente do sucesso da celebração. Dá comigo de súbito, a observá-lo, nossos olhos se encontram, ele se perturba, constrangido – vacila, ameaça abaixar a cabeça, mas acaba sustentando o olhar e enfim se abre num sorriso.

Assim eu quereria minha última crônica: que fosse pura como esse sorriso.

(Fernando Sabino. <http://contobrasileiro.com.br>. Adaptado)

01. De acordo com as informações textuais, o autor entra num botequim com a principal intenção de
 - (A) ir ao encontro de suas lembranças íntimas em busca de um tema para seu novo texto.
 - (B) se isolar em um lugar que lhe facilite escrever um poema do cotidiano, já que ele é um poeta.
 - (C) aguardar que algum acontecimento do dia a dia lhe dê inspiração para a produção de uma crônica.
 - (D) saborear um café na companhia de amigos e escrever uma crônica pitoresca do cotidiano.
 - (E) encontrar um poeta amigo que o auxilie a olhar para fora de si e encontrar assunto para sua crônica.
02. A frase do cronista, no início do segundo parágrafo, – A perspectiva me assusta. – refere-se
 - (A) à ansiedade que ele sente todos os dias ao sair de casa para tomar café.
 - (B) à possibilidade de ele não conseguir inspiração para escrever uma crônica.
 - (C) aos fatos da vida diária vivenciados pelo autor, que são considerados assustadores.
 - (D) aos assuntos nem sempre agradáveis que o inspiram para a produção de poemas.
 - (E) ao receio de se tornar mais um espectador de algum triste flagrante de esquina.
03. Pela leitura do texto, depreende-se que, a partir do acontecimento todo, vivenciado pelo cronista, o fato principal, que mais o impressionou e o levou a escrever a crônica, foi
 - (A) a refeição simples de uma pequena família pobre, num botequim.
 - (B) a satisfação da menininha ao comer o bolo de que ela mais gostava.
 - (C) o capricho com que a mãe veste a filha e ajeita a fita no cabelo.
 - (D) a dificuldade financeira da família para pagar a refeição festiva.
 - (E) a pureza do sorriso do pai diante do sucesso da comemoração.
04. A frase redigida de acordo com a norma-padrão da língua portuguesa e, ao mesmo tempo, fiel às ideias do texto está na alternativa:
 - (A) Sentam-se a mesa do botequim para saciar a fome numa refeição festiva uma família de três seres.
 - (B) O garçom pega a fatia de bolo, a coloca cuidadosamente num pratinho e lhe leva até a menininha.
 - (C) A menininha começa à comer alegremente, assim que o garçom ponha o prato à sua frente.
 - (D) O modesto ritual da família à mesa é observado apenas pelo cronista, por ninguém mais.
 - (E) Apesar de a menininha ter ensaiado antes, ela sopra com força e apagam às três velinhas.

05. Em conformidade com a norma-padrão da língua portuguesa, assinale a alternativa correta quanto à ocorrência ou não da crase.

- (A) **À** compostura da humildade, acrescente-se **a** presença da menininha pobre.
- (B) A menininha lança o olhar **a** fatia de bolo enquanto a família obedece **à** um ritual.
- (C) O pai pôs-se **à** contar o dinheiro discretamente **à** fim de verificar se era o suficiente.
- (D) O pai pediu ao garçom a fatia de bolo e ficou **a** espera para dar início **a** comemoração.
- (E) **A** luz das velinhas, ela canta “parabéns pra você” e se junta **à** eles, discretamente.

06. Assinale a alternativa que indica, corretamente, entre parênteses, a circunstância presente na expressão destacada no trecho do texto.

- (A) O pai, depois de contar o dinheiro que **discretamente** retirou do bolso... (causa)
- (B) **A meu lado** o garçom encaminha a ordem do freguês. (tempo)
- (C) ... a menininha sopra **com força**, apagando as chamas. (afirmação)
- (D) São três velinhas brancas que a mãe espeta **caprichosamente** na fatia de bolo. (modo)
- (E) Imediatamente põe-se a bater palmas, **muito** penetrada. (certeza)

07. Leia as frases a seguir:

- A compostura da humildade, na **contenção** de gestos e palavras... (3º parágrafo)
- A menininha agarra finalmente o bolo com as duas mãos **sôfregas** e põe-se a comê-lo. (6º parágrafo)
- Dá comigo de súbito, a observá-lo, nossos olhos se encontram, ele se perturba, **constrangido**... (6º parágrafo)

De acordo com o contexto, os termos destacados podem ser substituídos, sem alteração de sentido do texto, respectivamente, por:

- (A) consistência; aflitas; abalado.
- (B) moderação; apressadas; acanhado.
- (C) demonstração; morosas; envergonhado.
- (D) repressão; pausadas; arrojado.
- (E) refreamento; impacientes; destemido.

08. Leia as frases do texto:

- Lanço **um último olhar** fora de mim, onde vivem os assuntos que merecem **uma crônica**.
- O pai, depois de contar **o dinheiro** que discretamente retirou do bolso, aborda **o garçom**...

Os pronomes que substituem, correta e respectivamente, as expressões destacadas e estão adequadamente colocados na frase encontram-se em:

- (A) Lanço-o ... que a merecem ... contá-lo ... aborda-o.
- (B) Lanço-lhe ... que a merecem ... contar-lo ... aborda-o.
- (C) Lanço-lhe ... que merecem-a ... contá-lo ... aborda-lhe.
- (D) Lanço-o ... que merecem-na ... contar-lhe ... aborda-lhe.
- (E) Lanço-o ... que a merecem ... contá-lo ... abordá-lo.

09. Assinale a alternativa cuja frase relacionada ao texto apresenta a correta pontuação, de acordo com a norma-padrão da língua portuguesa.

- (A) Nas palavras de uma criança pode estar, a inspiração para um escritor, escrever sua crônica.
- (B) A menininha que parecia um animalzinho, aguarda que seu pai, acenda as velinhas.
- (C) Ela sopra com força as velinhas, e apaga as chamas repousando, o queixo no mármore.
- (D) A família, célula da sociedade, é a base para uma boa formação do ser humano.
- (E) Três velinhas brancas, são espetadas na fatia triangular do bolo, amarelo-escuro.

Leia o texto a seguir.

Mesmo com solavancos, a cada década o Brasil melhora um pouco nos principais termômetros que medem o patamar de desenvolvimento. Mas em um indicador específico o país patina de modo tão surpreendente e vergonhoso que ganhou destaque em um recente relatório do Fundo de População da ONU: a alta ocorrência de gravidez na adolescência. A cada cinco mulheres que _____ no Brasil, uma não é adulta. A gravidez nessa etapa da vida custa caro ao país – em decorrência _____ fato de grande parte dessas mães _____ fora da escola e do mercado de trabalho e de os bebês nascerem privados _____ estímulos certos.

(Monica Weinberg, *Veja*, 15.11.2017. Adaptado)

10. Em conformidade com a norma-padrão da língua portuguesa, assinale a alternativa que preenche, correta e respectivamente, as lacunas do texto.

- (A) engravidam ... do ... estar ... de
- (B) engravida ... o ... estarem ... com
- (C) engravidam ... o ... estarem ... de
- (D) engravida ... do ... estar ... sob
- (E) engravidam ... o ... estar ... aos

11. Clarice planeja fazer uma viagem em 3 dias. No 2º dia, ela planeja percorrer a metade da distância percorrida no 1º dia. No 3º dia, ela planeja percorrer a metade da distância percorrida no 2º dia. Sabendo que a distância total a ser percorrida é de 924 km, conclui-se que Clarice planeja viajar no 2º dia a distância, em quilômetros, igual a
- (A) 256.
 - (B) 264.
 - (C) 274.
 - (D) 288.
 - (E) 294.

12. A tabela a seguir mostra o número de funcionários que faltaram ao trabalho nos cinco dias de uma semana em determinada empresa.

DIAS DA SEMANA	Número de Funcionários Faltantes
2ª feira	13
3ª feira	9
4ª feira	6
5ª feira	18
6ª feira	23

A média diária do número de funcionários que faltaram ao trabalho na 2ª e 6ª feiras, desta semana, supera a média diária do número de funcionários que faltaram na 3ª, 4ª e 5ª feiras, da mesma semana, em

- (A) 7.
- (B) 8.
- (C) 9.
- (D) 10.
- (E) 11.

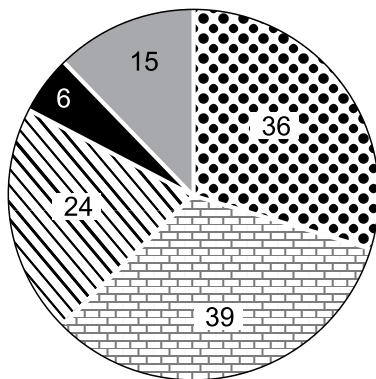
13. Para a festa de aniversário de seu filho, Marina comprou 117 balinhas de coco, 144 de caramelo e 180 de chocolate. Marina separou essas balas em muitos saquinhos. Todos os saquinhos tinham o mesmo número de balas, tinham sempre balas de um mesmo sabor e tinham também o maior número de balas possível. Dessa maneira, Marina conseguiu um número de saquinhos de balas igual a
- (A) 147.
(B) 132.
(C) 84.
(D) 49.
(E) 33.
14. Francisco fez um orçamento de suas despesas pessoais mensais. Todo mês, ele destina, de seus rendimentos, $\frac{3}{8}$ para gastos com moradia, $\frac{2}{9}$ para gastos com alimentação e $\frac{3}{10}$ para gastos com transporte. Sabendo que após essas despesas ainda lhe sobram R\$ 1.110,00, é correto calcular que o gasto a mais com moradia em relação aos gastos com alimentação é, em reais, igual a
- (A) 2.480.
(B) 2.240.
(C) 2.150.
(D) 1.860.
(E) 1.650.

15. Dois restaurantes disputam a preferência do público para o mesmo almoço individual, pelo preço de R\$ 50,00, e não importando a quantidade que as pessoas comam. No restaurante A, para quem almoçar 4 dias na semana, o 5º almoço será cortesia da casa, sem qualquer cobrança. O restaurante B oferece 20% de desconto em relação ao que o cliente pagou no dia anterior. Em 5 dias de refeições nesses dois restaurantes, o cliente que fizer suas refeições no restaurante mais caro pagará a mais uma quantia igual a
- (A) R\$ 31,92.
 - (B) R\$ 32,45.
 - (C) R\$ 32,98.
 - (D) R\$ 33,08.
 - (E) R\$ 33,56.
16. Hoje, a razão entre a minha idade e a idade de meu filho é 4. Daqui a 12 anos essa razão será igual a $\frac{5}{2}$. Terei o dobro da idade dele daqui a
- (A) 15 anos.
 - (B) 18 anos.
 - (C) 21 anos.
 - (D) 24 anos.
 - (E) 27 anos.

17. Juliana, uma ciclista, percorreu, no seu penúltimo treinamento, 1 quilômetro a cada 90 segundos. Ela fez isso durante 12 minutos. No seu último treinamento, Juliana acelerou e percorreu 1 quilômetro a cada 75 segundos. Ela fez isso também durante 12 minutos. A distância a mais, em metros, que Juliana percorreu no último treinamento, em relação ao penúltimo, é igual a
- (A) 2200.
 (B) 1850.
 (C) 1600.
 (D) 1420.
 (E) 1390.

18. Foi realizada uma enquete entre crianças para verificar a preferência em relação a sucos de frutas. O gráfico a seguir mostra o resultado dessas escolhas em número de votos de cada suco.

Suco preferido

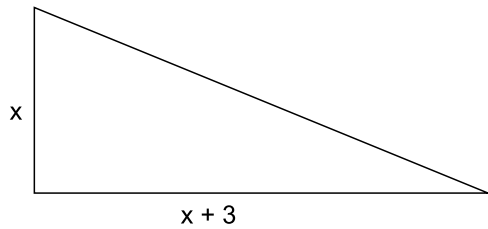


Uva
 Laranja
 Abacaxi
 Limão
 Manga

No total, a abertura correspondente aos três setores circulares que representam os sucos menos votados supera a abertura do setor circular que representa o suco mais votado em

- (A) 15°.
 (B) 18°.
 (C) 22°.
 (D) 24°.
 (E) 27°.

19. Uma sala tem o formato de um triângulo retângulo. A diferença entre as medidas dos catetos é de 3 metros. A área dessa sala é 35 m^2 .



Se cada cateto for aumentado em 2 metros, mantendo-se o formato de triângulo retângulo, a nova sala terá sua área aumentada em

- (A) 4 m^2 .
(B) 12 m^2 .
(C) 15 m^2 .
(D) 18 m^2 .
(E) 19 m^2 .
20. Em um atelier, 15 artesãos, trabalhando 6 horas por dia, durante 8 dias, pintam 240 caixas de lembranças. Com a mesma capacidade de trabalho que os artesãos anteriores, outros 12 artesãos, trabalhando 10 horas por dia, durante 12 dias, pintarão um total das mesmas caixas de lembranças igual a

- (A) 240.
(B) 360.
(C) 480.
(D) 540.
(E) 600.

LEGISLAÇÃO

- 21.** Determinado Vereador da Câmara Municipal de Indaiatuba, durante o seu mandato, mudou-se de cidade e fixou residência no município vizinho. Nessa hipótese, segundo dispõe a Lei Orgânica de Indaiatuba, esse Parlamentar
- (A) deverá receber pena de advertência e terá que voltar a residir em Indaiatuba.
 - (B) ficará sujeito à perda do mandato.
 - (C) terá cassados os seus direitos políticos.
 - (D) terá direito a auxílio-moradia.
 - (E) poderá receber ajuda de custo para reembolso das despesas com combustível.
- 22.** Segundo o disposto na Lei Orgânica de Indaiatuba, na hipótese de uma comissão parlamentar de inquérito (CPI), criada, regularmente, nos exatos termos da Lei, chegar à conclusão de que houve responsabilidade civil ou criminal de um infrator, a CPI, se for o caso, deve encaminhar essa conclusão ao
- (A) Presidente da Câmara.
 - (B) Prefeito.
 - (C) juiz da Comarca.
 - (D) Tribunal de Justiça.
 - (E) Ministério Público.
- 23.** O plebiscito, o referendo e a iniciativa popular de leis, segundo a Lei Orgânica de Indaiatuba, são expressões
- (A) do Poder Legislativo Municipal.
 - (B) dos Poderes Públicos do Município.
 - (C) da soberania popular.
 - (D) da autonomia do Governo.
 - (E) da democracia indireta.
- 24.** Conforme dispõe a Lei Orgânica de Indaiatuba, a instituição que representa o Município, judicial e extrajudicialmente, cabendo-lhe, ainda, nos termos da lei, as atividades de consultoria e assessoramento do Poder Executivo, é
- (A) o Conselho Municipal.
 - (B) o Secretário Municipal da Casa Civil.
 - (C) o chefe de Gabinete do Prefeito.
 - (D) a Procuradoria-Geral do Município.
 - (E) a Consultoria-Chefe da Prefeitura.
- 25.** Nos moldes do Regimento Interno da Câmara Municipal de Indaiatuba, se receber uma proposição legislativa que seja antirregimental, ilegal ou inconstitucional, a Presidência
- (A) deve encaminhar a proposição ao Plenário para análise e votação.
 - (B) deixará de receber a proposição, após ouvido o Departamento Jurídico.
 - (C) mandará arquivar a proposição.
 - (D) emitirá seu parecer e encaminhará a proposição às Comissões competentes.
 - (E) devolverá ao seu autor para proceder à necessária regularização.

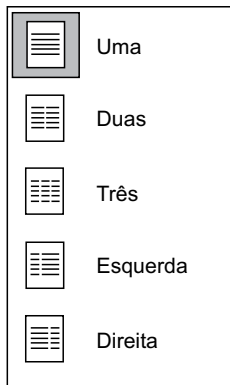
26. Usando o Microsoft Windows 7, em sua configuração padrão, um usuário criou a seguinte estrutura de pastas:

Nome	Data de modificação	Tipo
Arquivos	27/01/2018 22:48	Pasta de arquivos
Documentos	27/01/2018 22:48	Pasta de arquivos
Projetos	27/01/2018 22:48	Pasta de arquivos

Cada uma das pastas contém 5 arquivos. Ao selecionar a pasta Projetos, pressionar CTRL+X e, depois, abrir a pasta Documentos e pressionar CTRL+V, a pasta Projetos

- (A) é criada vazia dentro da pasta Documentos.
- (B) e todos os seus arquivos são movidos para dentro da pasta Documentos.
- (C) é enviada para a Lixeira com todos os seus arquivos.
- (D) é enviada para a Lixeira, mas todos os seus arquivos são movidos para dentro da pasta Documentos.
- (E) passa a se chamar Documentos.

27. A imagem a seguir, do Microsoft Word 2010, em sua configuração original, acessada no grupo Configurar Página, da guia Layout da Página, refere-se ao recurso



- (A) Tabela.
- (B) Alinhamento.
- (C) Colunas.
- (D) Margens.
- (E) Quebra de página.

28. Tem-se a seguinte planilha, criada no Microsoft Excel 2010, em sua configuração padrão:

	A	B	C
1	Nome	Despesa	
2	João	10	
3	Paula	20	
4	Mariana	30	
5	Ricardo	40	
6	Rafael	50	
7	Natália	60	
8	Adriana	70	
9		280	
10			

Considerando que a célula B9 contém a fórmula =SOMA(B2:B8), ao se ocultarem as linhas 4 e 5, assinale a alternativa que indica o resultado correto que é apresentado na célula B9.

(A)

	A	B
1	Nome	Despesa
2	João	10
3	Paula	20
6	Rafael	50
7	Natália	60
8	Adriana	70
9		210

(B)

	A	B
1	Nome	Despesa
2	João	10
3	Paula	20
6	Rafael	50
7	Natália	60
8	Adriana	70
9		#ERRO

(C)

	A	B
1	Nome	Despesa
2	João	10
3	Paula	20
6	Rafael	50
7	Natália	60
8	Adriana	70
9		70

(D)

	A	B
1	Nome	Despesa
2	João	10
3	Paula	20
6	Rafael	50
7	Natália	60
8	Adriana	70
9		0

(E)

	A	B
1	Nome	Despesa
2	João	10
3	Paula	20
6	Rafael	50
7	Natália	60
8	Adriana	70
9		280

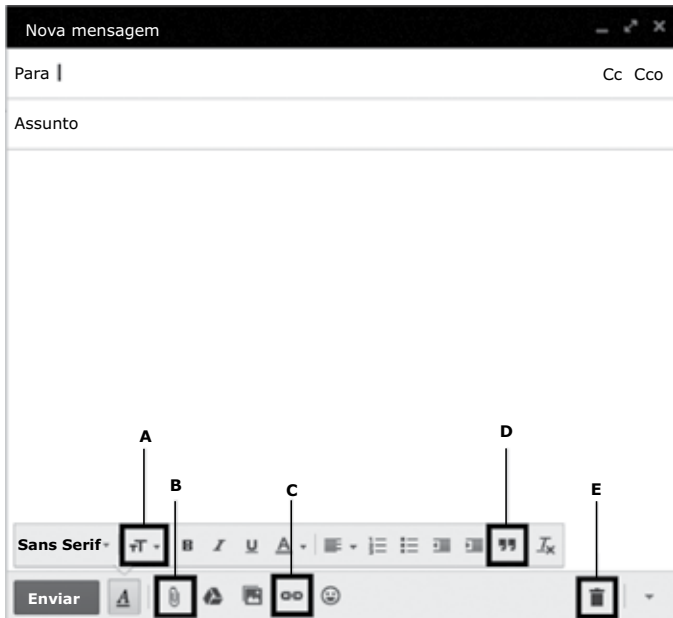
CONHECIMENTOS ESPECÍFICOS

29. Assinale a alternativa que apresenta corretamente quantas vezes a tecla ENTER precisa ser pressionada, no Microsoft PowerPoint 2010, em sua configuração padrão, para que, a partir do primeiro slide sendo apresentado no modo de exibição, seja exibido o slide número 6.



- (A) 1
- (B) 2
- (C) 3
- (D) 4
- (E) 5

30. Considere a seguinte tela de preparação de mensagens de correio eletrônico do serviço de Webmail Gmail, em sua configuração padrão.



O recurso que permite anexar arquivos ao e-mail é

- (A) A.
- (B) B.
- (C) C.
- (D) D.
- (E) E.

31. Em uma determinada data, análises dos saldos, das rubricas contábeis e suas respectivas movimentações comparando-os com suas respectivas origens, visando adequar esses saldos à sua realidade financeira, econômica, fiscal e operacional, promovendo ajustes necessários na escrituração contábil, denomina-se:

- (A) Composição de contas contábeis.
- (B) Análises gerenciais.
- (C) Preparação do livro razão auxiliar.
- (D) Montagem do balanço patrimonial.
- (E) Conciliação contábil.

32. Indique a alternativa correta, relativa à estrutura básica do balanço patrimonial, no que se refere à sua equação:

- (A) Ativo menos passivo é igual às Receitas menos as Despesas.
- (B) Ativo menos passivo é igual ao Patrimônio Líquido.
- (C) Ativo mais passivo é igual ou maior que o Patrimônio Líquido.
- (D) Ativo nunca é menor que o Passivo, menos o Patrimônio Líquido.
- (E) Ativo é igual ao Passivo.

33. Um gasto relativo a um bem ou serviço utilizado na produção de outros bens ou serviços é considerado, na terminologia da matéria, como:

- (A) Custo.
- (B) Investimento.
- (C) Desembolso.
- (D) Despesa.
- (E) Compra.

Com base nas informações fornecidas pela contabilidade a seguir, responda às questões de números **34** e **35**.

Rubrica contábil	Reais
Vendas Brutas de Mercadorias	130.000,00
Devolução de vendas de 2,5%	3.250,00
Comissão de vendas – 5% sobre vendas brutas	6.500,00
Estoque inicial de Mercadorias	80.000,00
Compras líquidas	65.000,00
Estoque final de mercadorias	65.000,00
Despesas Administrativas	15.000,00
Impostos sobre Vendas – 25%	32.500,00

34. O lucro bruto, em Reais, é:

- (A) 12.750,00.
- (B) 13.150,00.
- (C) 14.250,00.
- (D) 14.750,00.
- (E) 15.150,00.

35. O resultado operacional líquido, em Reais, é:

- (A) Lucro de 5.350,00.
- (B) Lucro de 7.250,00.
- (C) Prejuízo de 5.250,00.
- (D) Prejuízo de 7.250,00.
- (E) Ponto de equilíbrio de 1.250,00.

36. De acordo com as regras do plano de contas contábil, representa uma despesa antecipada a rubrica de

- (A) Despesas pré-operacionais.
- (B) Aluguéis a pagar.
- (C) Aluguéis a vencer.
- (D) Ativo diferido.
- (E) Pesquisas e desenvolvimento de produtos.

37. Uma determinada empresa industrial teve o seguinte fluxo de liquidações de Receitas e Despesas:

Despesas relativas a dezembro de 2017 pagas em dezembro de 2017	R\$ 90.000
Despesas relativas a janeiro de 2018 pagas em dezembro de 2017	R\$ 108.000
Despesas relativas a dezembro de 2017 pagas em janeiro de 2018	R\$ 72.000
Receitas relativas a dezembro de 2017 recebidas em janeiro de 2018	R\$ 54.000
Receitas relativas a janeiro de 2018 recebidas em dezembro de 2017	R\$ 126.000
Receitas relativas a dezembro de 2017 recebidas em dezembro de 2017	R\$ 102.000

De acordo com as informações mencionadas, a empresa obteve, respectivamente, pelo Regime de Caixa e pelo Regime de Competência, os seguintes resultados em dezembro de 2017, em Reais:

- (A) Prejuízo de 6.000 e lucro de 9.000.
- (B) Prejuízo de 6.000 e lucro de 45.000.
- (C) Lucro de 26.000 e prejuízo de 9.000.
- (D) Lucro de 30.000 e prejuízo de 6.000.
- (E) Prejuízo de 30.000 e lucro de 6.000.

38. De acordo com a demonstração de receitas e despesas, a Prefeitura de Indaiatuba precisa calcular os limites das despesas com pessoal e, para isso, levantou os seguintes dados referentes ao exercício de 2017:

i) Despesas em Reais

• Despesas com Pessoal (Poder Legislativo e Executivo)	15.000
• Outras Despesas de Pessoal (art. 18, §1º da LFR)	2.000
• Despesas com Transferências de pessoas	4.500

ii) Receitas em Reais

• Receita Corrente Total	50.000
• Contribuição para previdência do servidor	7.200
• Compensação entre regimes	300

Dadas as informações, pede-se demonstrar o valor comprometido da receita corrente líquida com as Despesas com Pessoal, e se o Município está cumprindo o limite global definido no inciso III do art. 19 da Lei Complementar nº 101/2000, considerando que a Receita Corrente Líquida – RCL no período é de R\$ 42.500.

- (A) O município já comprometeu 100% do limite de despesa com pessoal, relacionado com a RCL.
- (B) O município está abaixo do limite com o comprometimento em 55,43%, relacionado com a RCL.
- (C) O município está no limite com o comprometimento em 60%, relacionado com a RCL.
- (D) O município está abaixo do limite com o comprometimento em 89,12%, relacionado com a RCL.
- (E) O município já comprometeu 84,31% do limite de despesa com pessoal, relacionado com a RCL.

- 39.** Assinale a alternativa que preenche corretamente o enunciado a seguir:
- Conforme art. 104 da Lei nº 4.320/64, "Demonstração das Variações Patrimoniais evidenciará as alterações verificadas no patrimônio, _____, e indicará o resultado patrimonial do exercício".
- (A) resultantes ou independentes da execução orçamentária
- (B) devido a postergação de dívida passiva
- (C) exclusivamente relativas às transferências de Receitas Ordinárias
- (D) diante da realocação das superveniências ativas
- (E) diante da realocação das superveniências passivas
- 40.** Os débitos e créditos, bem como os títulos de renda, pelo seu valor nominal, feita a conversão, quando em moeda estrangeira, à taxa de câmbio vigente na data do balanço; os bens móveis e imóveis, pelo valor de aquisição ou pelo custo de produção ou de construção; bem como os bens de almoxarifado, pelo preço médio ponderado das compras, são normas que servirão de base para
- (A) reconhecer receitas mobiliárias.
- (B) avaliar os elementos patrimoniais.
- (C) calcular a perda nominal dos ativos (*Impairment*).
- (D) avaliar o valor justo de realização dos ativos.
- (E) nominar as variações patrimoniais ativas.
- 41.** Constitui fundo especial, segunda a Lei nº 4.320/64
- (A) a aplicação das receitas orçamentárias oriundas de turnos especiais mediante dotação consignada na Lei de Orçamento ou em créditos adicionais.
- (B) os recursos resultantes da arrecadação da receita ou a realização da despesa, com o nascimento ou a extinção de direitos e obrigações.
- (C) o produto de receitas especificadas que por lei se vinculam à realização de determinados objetivos ou serviços, facultada a adoção de normas peculiares de aplicação.
- (D) a fidelidade funcional dos agentes da administração, responsáveis por bens e valores públicos.
- (E) a recuperação de despesas especificadas, que foram aprovadas por força de lei orçamentária, bem como os recursos recuperados de fundos perdidos.
- 42.** Uma empresa adquiriu um determinado bem industrial para o seu ativo imobilizado, com as seguintes características:
- Tipo de ativo: Prensa Hidráulica
 - Data da compra: 1º de janeiro de 2017
 - Valor do Bem: R\$ 400.000,00, líquido de impostos
 - Valor residual do bem para sua realização R\$ 20.000,00
 - Vida útil estabelecida para o bem 16 anos
- Com base nessas informações, assinale a alternativa que indica corretamente o valor em Reais da prensa em 31 de dezembro de 2017:
- (A) 346.750,00.
- (B) 356.250,00.
- (C) 375.000,00.
- (D) 375.350,00.
- (E) 376.250,00.
- 43.** Tendo em vista que uma empresa apresenta em seu balanço patrimonial, em uma determinada data, ativos circulantes de R\$ 150.000,00, ativos não circulantes de R\$ 60.000,00, passivos circulantes de R\$ 125.000,00 e passivos não circulantes de R\$ 25.000,00, qual o valor em R\$ do índice de quociente corrente dessa empresa?
- (A) 1,0.
- (B) 1,2.
- (C) 1,4.
- (D) 1,8.
- (E) 2,4.
- 44.** No que tange à previsão e à arrecadação da Receita Pública, de acordo com a Lei Complementar nº 101/2000, art. 12, o demonstrativo que acompanhará as previsões de receita incluirá a evolução das receitas
- (A) dos últimos três anos.
- (B) dos últimos quatro anos.
- (C) dos últimos cinco anos.
- (D) da última gestão.
- (E) da gestão atual comparada com a gestão imediatamente anterior.

45. Segundo a Lei nº 4.320/64, o Balanço Patrimonial demonstrará:

- (A) o ativo circulante e não circulante, o passivo circulante e o não circulante, bem como a demonstração do superavit financeira, além das contas de compensação.
- (B) o ativo disponível, realizável a longo prazo e permanente, assim como o passivo exigível e exigível de longo prazo, além do patrimônio social.
- (C) as receitas e despesas orçamentárias e extra-orçamentárias, além dos ativos e passivos financeiros e orçamentários.
- (D) o ativo financeiro e permanente, o passivo financeiro e permanente, bem como o saldo patrimonial e as contas de compensação.
- (E) Ativo e passivo financeiros e orçamentários, além das movimentações das variações patrimoniais, e das contas de compensações.

46. De acordo com a Lei nº 8666/93, os limites estabelecidos no art. 23, serão aplicados para:

- (A) concorrência, concurso e leilão.
- (B) concorrência, convite e concurso.
- (C) leilão, tomada de preços e convite.
- (D) tomada de preços, concurso e leilão.
- (E) convite, concorrência e tomada de preços.

Leia a situação a seguir para responder às questões de números **47** a **49**.

Calcule o Imposto de Renda, Adicional de Imposto de Renda e a Contribuição Social sobre o Lucro Líquido para uma empresa que apresentou ao final de um trimestre, um lucro tributável ajustado de R\$ 450.000,00, sendo que a empresa encontra-se enquadrada no sistema de lucro real.

47. O valor do imposto de renda ao final do trimestre, em Reais, é:

- (A) 67.500,00.
- (B) 77.800,00.
- (C) 89.700,00.
- (D) 106.500,00.
- (E) 112.500,00.

48. O valor do adicional de imposto de renda ao final do trimestre, em Reais, é:

- (A) 34.000,00.
- (B) 39.000,00.
- (C) 41.000,00.
- (D) 41.500,00.
- (E) 42.000,00.

49. O valor da contribuição social sobre o lucro líquido, em Reais, é:

- (A) 37.800,00.
- (B) 38.400,00.
- (C) 39.500,00.
- (D) 40.500,00.
- (E) 45.000,00.

50. Uma indústria que encontra-se enquadrada na forma de tributação pela não-cumulatividade, para efeito de apuração de PIS e COFINS, e não detém qualquer benefício ou diferencial de alíquota, deverá aplicar as seguintes respectivas alíquotas dessas contribuições, sobre uma receita operacional tributável, de:

- (A) 0,65% e 3%.
- (B) 1% e 3,5%.
- (C) 1,65% e 7,6%.
- (D) 2% e 7,8%.
- (E) 3% e 9,25%.

